

CONCURSO PÚBLICO

**3. PROVA OBJETIVA**

TÉCNICO DE SAÚDE  
(TÉCNICO EM ENFERMAGEM)

INSTRUÇÕES

- ♦ VOCÊ RECEBEU SUA FOLHA DE RESPOSTAS E ESTE CADERNO CONTENDO 50 QUESTÕES OBJETIVAS.
- ♦ PREENCHA, COM SEU NOME E NÚMERO DE INSCRIÇÃO, OS ESPAÇOS RESERVADOS NA CAPA DESTE CADERNO.
- ♦ LEIA CUIDADOSAMENTE AS QUESTÕES E ESCOLHA A RESPOSTA QUE VOCÊ CONSIDERA CORRETA.
- ♦ RESPONDA A TODAS AS QUESTÕES.
- ♦ ASSINALE NA FOLHA DE RESPOSTAS, COM CANETA DE TINTA AZUL OU PRETA, A ALTERNATIVA QUE JULGAR CERTA.
- ♦ A DURAÇÃO DA PROVA É DE 3 HORAS.
- ♦ A SAÍDA DO CANDIDATO DO PRÉDIO SERÁ PERMITIDA APÓS TRANSCORRIDA A METADE DO TEMPO DE DURAÇÃO DA PROVA OBJETIVA.
- ♦ AO TERMINAR A PROVA, VOCÊ ENTREGARÁ AO FISCAL A FOLHA DE RESPOSTAS E LEVARÁ ESTE CADERNO.

**AGUARDE A ORDEM DO FISCAL PARA ABRIR ESTE CADERNO DE QUESTÕES.**

Nome do candidato \_\_\_\_\_

Número de inscrição \_\_\_\_\_



## LÍNGUA PORTUGUESA

Leia o texto para responder às questões de números **01** a **10**.

Vivemos a era do desperdício, e isso não mudou mesmo em meio a uma das maiores crises econômicas da história moderna. Continuamos agindo como se comprar compulsivamente substituísse outras formas de gratificação pessoal, como as amizades e os demais relacionamentos afetivos.

O pior é que todos os desperdícios, de uma forma ou de outra, impactam negativamente no ambiente. Isso sem falar no acúmulo de dívidas. Levante a mão quem não deixa várias luzes acesas em casa, nos locais em que não há ninguém.

Ainda não aprendemos a tomar banho, a escovar os dentes, a lavar a roupa e a louça sem jogar, literalmente, água tratada pelo ralo. Além disso, as vassouras foram trocadas pelos jatos de água quente para a limpeza das calçadas, um crime ecológico praticado impunemente nas cidades brasileiras.

Mais exemplos? Abra o seu guarda-roupa e anote em um papel quantas peças de vestuário já não são usadas há um ou dois anos. Isso vale também para sapatos, tênis e botas.

Passar a ferro somente uma ou duas camisas ou calças é doar dinheiro às empresas de energia elétrica e agredir a natureza. Assim como abrir a geladeira a cada um ou dois minutos. Ligar a TV, o som e o computador ao mesmo tempo é perda de tempo e consumo excessivo de energia.

A preguiça é outra grande aliada do desperdício. Ir de carro à farmácia, à padaria ou à banca de jornal, quando uma caminhada de dez ou 15 minutos seria suficiente, ajuda a acumular quilos extras, além de torrar combustíveis.

(Maria Inês Dolci. *Folha de S.Paulo*, 18.04.2009. Adaptado)

**01.** Segundo o texto,

- (A) não há relação entre dívidas, desperdício e ambiente .
- (B) amizades e afeto são substituídos por consumo.
- (C) deixar luzes acesas pode minimizar compras compulsivas.
- (D) as cidades brasileiras não estão destinadas à economia.
- (E) devem-se escovar os dentes durante o banho.

**02.** Ainda, segundo o texto,

- (A) há pessoas que guardam papéis inúteis em seus guarda-roupas.
- (B) ligar TV e tomar banho ao mesmo tempo é desperdiçar pouca energia.
- (C) não há vigilância sobre o consumo de água nas cidades brasileiras.
- (D) as empresas de energia elétrica vivem das doações das pessoas.
- (E) por preguiça, abrimos a geladeira de 2 em 2 minutos.

**03.** Assinale a alternativa em que a autora do texto se dirige diretamente ao leitor.

- (A) Abra o seu guarda-roupa e anote em um papel...
- (B) Vivemos a era do desperdício...
- (C) Isso sem falar no acúmulo de dívidas.
- (D) Ainda não aprendemos a tomar banho...
- (E) Além disso, as vassouras foram trocadas...

**04.** Assinale a alternativa em que se usa linguagem figurada.

- (A) Abra o seu guarda-roupa...
- (B) Ainda não aprendemos a tomar banho...
- (C) ... jogar, literalmente, água tratada pelo ralo.
- (D) Passar a ferro somente uma ou duas camisas...
- (E) A preguiça é outra grande aliada do desperdício.

**05.** No texto, a frase – *Mais exemplos?* – refere-se

- (A) a desperdícios em geral.
- (B) a jogar água pelo ralo.
- (C) a acúmulo de dívidas.
- (D) à agressão ao meio-ambiente.
- (E) à crise econômica.

**06.** Assinale a alternativa que mantém o sentido do verbo *torrar* em – ... *torrar combustíveis*.

- (A) remover.
- (B) diminuir.
- (C) tostar.
- (D) esbanjar.
- (E) maximizar.

**07.** Assinale a alternativa em que a vírgula antes de *e* é empregada pelo mesmo motivo pelo qual é empregada em – *Vivemos a era do desperdício, e isso não mudou mesmo em meio a uma das maiores crises...*

- (A) Os ingleses roubaram sementes de seringueira no Brasil, em 1876, e as plantaram na Malásia.
- (B) Depois de viajar muito, entrar para a história em 1895, e ser elogiado pela rainha Vitória, Wickham recebeu o título de *Sir*.
- (C) Uma nova geração de satélites vai vigiar a Amazônia, disse Marques, e identificar as áreas desmatadas.
- (D) Curiosamente, os estados do Sul produzem mais na crise, e os do Norte ainda não reagiram.
- (E) O presidente Obama suspendeu o embargo às pesquisas com células-troncos, nos Estados Unidos, e pediu regras de transparência.

**08.** Assinale a alternativa que contém um trecho na voz passiva.

- (A) Ainda não aprendemos a tomar banho...
- (B) Vivemos a era do desperdício...
- (C) ... peças de vestuário já não são usadas há um ou dois anos.
- (D) ... jogar, literalmente, água tratada pelo ralo.
- (E) Levante a mão quem não deixa várias luzes acesas em casa...

09. Assinale a alternativa que substitui adequadamente a expressão *além disso* em – *Além disso, as vassouras foram trocadas pelos jatos de água quente...*

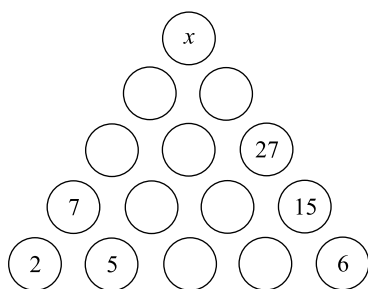
- (A) Apesar disso.
- (B) Ademais.
- (C) Contudo.
- (D) Em virtude disso.
- (E) Ao contrário.

10. Assinale a alternativa em que o acento grave indicador de crase se emprega pela mesma razão que na frase – *Ir de carro à farmácia, à padaria ou à banca de jornal...*

- (A) Uma vida à toa em Paris foi a característica de muitos artistas.
- (B) O enriquecimento à custa de sonegação de impostos é ilícito.
- (C) Só aceitamos pagamentos à vista ou com cartão em nossas lojas.
- (D) É proibida, nesta avenida, a conversão à esquerda do semáforo.
- (E) O rapaz chegou à sede do escritório um pouco atrasado.

### MATEMÁTICA

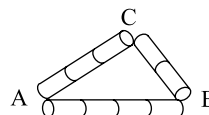
11. Observe a pirâmide de números.



O número que deve substituir a letra  $x$ , assim que a pirâmide for preenchida com números naturais, de acordo com a regra fixada, é

- (A) 80.
- (B) 82.
- (C) 84.
- (D) 86.
- (E) 88.

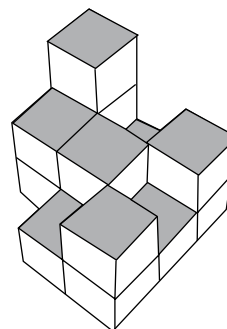
12. Na figura, você vê um triângulo ABC construído com pedaços de canudinho de plástico, todos de mesmo tamanho.



Usando outros pedaços de canudinho de mesmo tamanho, construiu-se outro triângulo DEF com os lados DE, EF e DF respectivamente paralelos aos lados AB, BC e CA do triângulo ABC, sendo que no lado DE, gastaram-se oito pedaços de canudinhos. O perímetro do triângulo DEF contém um total de pedaços de canudinhos igual a

- (A) 14.
- (B) 15.
- (C) 16.
- (D) 17.
- (E) 18.

13. Num armazém, foram empilhadas embalagens cúbicas de óleo vegetal, conforme mostra a figura.



Se cada embalagem cúbica tem aresta de 20 cm, o total de óleo vegetal empilhado, em litros, é

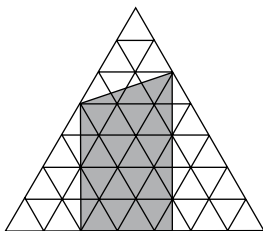
- (A) 112.
- (B) 114.
- (C) 116.
- (D) 118.
- (E) 120.

14. Duas garotas e três rapazes comeram ao todo 16 bolas de sorvete de massa. Cada um dos rapazes comeu o dobro de cada garota. O número total de bolas de sorvete que serão comidas por três garotas e dois rapazes, com esse mesmo apetite, é

- (A) 12.
- (B) 13.
- (C) 14.
- (D) 16.
- (E) 17.

15. Uma organização internacional tem 32 membros. Se o número de membros aumentar em cada ano 50% dos membros do ano anterior, então, daqui a três anos, o total de membros dessa organização será
- (A) 122.  
(B) 108.  
(C) 96.  
(D) 80.  
(E) 68.
16. Um capital de R\$ 15.000,00 foi aplicado a juro simples à taxa bimestral de 3%. Para que seja obtido um montante de R\$ 19.050,00, o prazo dessa aplicação deverá ser de um ano e
- (A) 10 meses.  
(B) 9 meses.  
(C) 8 meses.  
(D) 7 meses.  
(E) 6 meses.
17. Um grupo de amigos está planejando uma viagem. Se cada um deles contribuísse com 140 reais para as despesas previstas, faltariam 40 reais. Mas se cada um deles contribuísse com 160 reais, sobrariam 60 reais. A quantia, em reais, que cada um deveria contribuir de modo a obterem exatamente o necessário para essas despesas é
- (A) 144.  
(B) 146.  
(C) 148.  
(D) 150.  
(E) 152.

18. Na figura, os triângulos equiláteros menores têm uma unidade de área.




A área da região acinzentada, em unidades de área, é

- (A) 21,0.  
(B) 21,5.  
(C) 22,0.  
(D) 22,5.  
(E) 23,0.

19. Um garoto campeão de enchimento de balões de látex enche oito balões a cada três minutos. Se cada décimo balão estourar imediatamente após o seu enchimento, então, num tempo de duas horas, a quantidade de balões cheios será igual a
- (A) 160.  
(B) 216.  
(C) 240.  
(D) 288.  
(E) 320.

20. Observe a posição dos dois dados sobre uma mesa e as cinco faces que estão visíveis nessa visão frontal.



Se a soma dos pontos das faces opostas de um dado é 7, então a soma total do número de pontos das faces invisíveis, incluindo-se as faces justapostas, é

- (A) 27.  
(B) 22.  
(C) 17.  
(D) 15.  
(E) 12.

### RASCUNHO

### CONHECIMENTOS GERAIS

21. O Tribunal Superior Eleitoral–TSE cassou, por 5 votos contra 2, o mandato do governador do Maranhão, Jackson Lago (PDT), e do seu vice, Luis Porto (PPS). O motivo para a cassação foi
- (A) a comprovação do superfaturamento em obras públicas, com a conivência do governador.  
(B) a tentativa de suborno para que parlamentares da oposição passassem a aprovar projetos do poder executivo.  
(C) a compra de votos e o abuso do poder político e econômico nas eleições de 2006.  
(D) o desvio de verbas das áreas da saúde e educação para contas, em paraísos fiscais, em nome do governador.  
(E) a utilização de passagens aéreas, destinadas à assembleia legislativa, por parentes e amigos do governador.
22. Porto Velho, capital de Rondônia, vive desde o final de 2008 uma explosão demográfica, imobiliária e de consumo, sendo que grandes empresas, como Makro, Carrefour, Mc Donald's e Votorantim já decidiram se instalar na cidade.
- Tal fato ocorre em virtude da
- (A) descoberta de grandes jazidas de diamantes em várias regiões do estado.  
(B) descoberta de gigantescas reservas de petróleo e gás natural na região.  
(C) demarcação das terras indígenas no estado, o que põe fim aos conflitos agrários na região.  
(D) construção das usinas hidrelétricas de Santo Antonio e Jirau.  
(E) expansão da pecuária e da soja, responsáveis pelo rápido crescimento econômico da região.
23. O novo programa de habitação, lançado pelo governo federal, cuja meta é construir 1 milhão de casas em dois anos, tem como alvo
- (A) impedir que as grandes construtoras do país abram falência, como vem ocorrendo nos EUA.  
(B) somente a classe média, ou seja, as famílias com renda entre doze e vinte salários mínimos.  
(C) erradicar todas as favelas do Rio de Janeiro e de São Paulo até o final do mandato do presidente Lula.  
(D) elevar o Índice de Desenvolvimento Humano – IDH do Brasil, para poder pleitear novos financiamentos junto ao Banco Mundial.  
(E) as famílias com renda de até dez salários mínimos e que pagam aluguel.
24. Para compensar a queda de arrecadação gerada pela redução do Imposto Sobre Produtos Industrializados–IPI dos carros e dos materiais de construção, o governo anunciou o aumento da tributação sobre
- (A) as bebidas alcoólicas.  
(B) os cigarros.  
(C) as passagens aéreas.  
(D) os carros importados.  
(E) os pedágios das estradas federais.

25. O Conselho de Ética da Câmara dos Deputados instaurou processo por quebra de decoro contra o deputado Edmar Moreira. O parlamentar em questão
- (A) é acusado de falsificar documentos que o tornam proprietário de terras nos estados de Mato Grosso e Goiás.
  - (B) é acusado de intermediar a venda de remédios superfaturados para o Ministério da Saúde.
  - (C) é dono de um castelo avaliado em cerca de vinte e cinco milhões de reais, não declarados à justiça.
  - (D) é acusado de tráfico de informações, por meio de escutas ilegais, e de remessa de dólares ao exterior.
  - (E) prestou falso testemunho ao depor na CPI que investiga o uso de passagens aéreas por parentes de deputados.
26. Pouco tempo após quitar a sua dívida com o Fundo Monetário Internacional–FMI, a relação do Brasil com o Fundo irá sofrer uma guinada histórica, pois a partir do dia 09 de abril de 2009 o Brasil foi
- (A) oficialmente convidado para integrar o clube de países credores do Fundo, podendo emprestar, inicialmente, até 4,5 bilhões de dólares ao organismo.
  - (B) desligado oficialmente do Fundo, em função das críticas brasileiras à gestão da crise econômica internacional pelo FMI.
  - (C) novamente socorrido pelo Fundo, que voltou a emprestar-lhe dinheiro, devido à intensificação da crise econômica mundial.
  - (D) proibido de contrair novos empréstimos, em função da proximidade do governo brasileiro com o presidente Hugo Chávez, que não aceita o Fundo.
  - (E) favorável à extinção do Fundo, na última reunião geral da ONU, devido à dificuldade deste em prever e combater a atual crise que assola a economia mundial.
27. O fazendeiro Vitalmiro Bastos de Moura, mais conhecido como ‘Bida’, voltou a ser preso, um dia após a anulação do júri que o absolveu. O fazendeiro em questão é acusado
- (A) pelo assassinato de quatro funcionários do INCRA, em Mato Grosso.
  - (B) pelo assassinato da missionária *Dorothy Stang*.
  - (C) pela ocupação de terras indígenas em Serra Talhada.
  - (D) pelo tráfico de drogas na fronteira do Brasil com a Bolívia.
  - (E) pelo desmatamento de áreas de preservação ambiental na Amazônia.
28. Com a queda das taxas de juros e a consequente redução da rentabilidade dos fundos de investimento, o governo já acena com a possibilidade de que as cadernetas de poupança
- (A) venham a sofrer uma alteração em seu cálculo de rendimento e também passem a render menos.
  - (B) sofram uma alteração em seu cálculo de rendimento e passem a render mais do que os fundos de investimento.
  - (C) não sofram nenhuma alteração, com o objetivo de que possam compensar todas as perdas passadas.
  - (D) sejam extintas e substituídas por uma nova modalidade de investimento popular, ainda não definida pelo governo.
  - (E) não venham a sofrer qualquer mudança em seu cálculo, mesmo que isso implique em perda de rendimento aos poupadores.
29. Após reduzir o Imposto Sobre Produtos Industrializados–IPI dos carros e do material de construção, o governo anunciou, em abril, a redução do imposto para uma nova categoria de produtos, ou seja,
- (A) os eletroeletrônicos (televisores, telefones celulares, máquinas fotográficas e microcomputadores).
  - (B) os insumos agrícolas (adubos, fertilizantes, tratores e colheitadeiras).
  - (C) os alimentos derivados de trigo (macarrão, biscoitos, pães e bolos).
  - (D) os eletrodomésticos da chamada linha branca (máquinas de lavar, fogões, geladeiras e tanquinho).
  - (E) os produtos de higiene e limpeza (sabonetes, creme dental, água sanitária, sabão e detergentes).
30. No dia 17 de abril de 2009, o Movimento dos Trabalhadores Sem Terra–MST promoveu a ocupação de terras em, ao menos, cinco estados (Pernambuco, São Paulo, Sergipe, Bahia e Paraíba) e de uma praça de pedágio em Santa Catarina. Tais ações fazem parte do chamado “Abril Vermelho”, promovido para
- (A) celebrar o aniversário de fundação do movimento, que comemora em 2009 o seu trigésimo ano de fundação.
  - (B) reivindicar a prisão dos assassinos do sindicalista Chico Mendes, beneficiados pelo regime de liberdade condicional desde dezembro de 2008.
  - (C) protestar contra a ajuda financeira do governo aos grandes latifundiários e pecuaristas, em face aos prejuízos causados pela queda das exportações.
  - (D) protestar contra a permissão concedida, pelos ministérios da agricultura e da saúde, ao plantio e ao consumo da soja transgênica no Brasil.
  - (E) lembrar o massacre de Eldorado do Carajás (Pará) em abril de 1996, quando dezenove camponeses foram mortos em confronto com a polícia.

## CONHECIMENTOS ESPECÍFICOS

31. O papel primordial do profissional de enfermagem para um bom desempenho na administração de recursos, visando a excelência na organização de um serviço de saúde, consiste em
- (A) analisar a qualidade da assistência de enfermagem sem a necessária preocupação com os gastos materiais.
  - (B) minimizar o custo acima de tudo, com ou sem preocupação com a qualidade da assistência prestada ao cliente.
  - (C) preocupar-se com o quantitativo de pessoal com ou sem qualificar os resultados obtidos com a assistência.
  - (D) promover uma previsão adequada de material necessário ao serviço, associado ao quanti-qualitativo de pessoal.
  - (E) preocupar-se fundamentalmente com a redução de recursos pessoais para controle e redução de custos.
32. A anotação de enfermagem deve ser entendida como sendo o registro das informações relativas ao paciente. Ela é organizada de modo a reproduzir a ordem exata em que os fatos ocorreram na ação prestada pelo profissional. Dentre as alternativas, assinale a que representa uma verdade acerca do enunciado.
- (A) Os termos descritos devem ser claros e em decorrência da interpretação pessoal.
  - (B) Os termos descritos são técnicos e abreviados para facilitar a compreensão do leitor.
  - (C) Após a descrição da ação, o profissional é obrigado a rubricar para sua identificação.
  - (D) O profissional enfermeiro é o único que deve realizar a anotação de enfermagem.
  - (E) Todos os profissionais de enfermagem podem anotar e identificam-se pela rubrica.
33. As bases da estruturação do Sistema Único de Saúde – SUS visam à manutenção da educação em saúde como uma de suas prioridades. Pode-se dizer que isso reflete
- (A) uma política de saúde preocupada com a promoção e proteção da saúde.
  - (B) uma estratégia para oferecer maior poder de ação aos educadores de saúde.
  - (C) uma preocupação com a criação de ações de controle de patologias graves.
  - (D) uma política de saúde preocupada com diagnóstico e tratamento de doenças.
  - (E) uma estratégia que atenda maior ampliação de ação na educação básica.
34. Com o objetivo de reorientação das ações básicas de saúde, tomando como referência os princípios de equidade e universalidade propostos no SUS, criou-se o Programa Saúde da Família – PSF baseado em equipes de saúde da família
- (A) que realizam ações de promoção à saúde, atendendo portadores de patologias simples em famílias carentes.
  - (B) que realizam atendimento primário a famílias social e economicamente excluídas.
  - (C) constituídas por médicos, profissionais de enfermagem e agentes comunitários que atendem numa determinada área geográfica, priorizando ações de diagnóstico e tratamento médico.
  - (D) constituídas por médicos, profissionais de enfermagem e agentes comunitários que atendem numa determinada área geográfica, priorizando ações de promoção e proteção à saúde.
  - (E) que realizam ações de promoção à saúde e de atenção primária às famílias carentes do interior do país e da periferia de grandes cidades, por meio de agentes comunitários de saúde.
35. Cabe aos profissionais de enfermagem promover ações em Atenção Básica em Saúde junto às comunidades e à população em geral. São consideradas ações prioritárias, de acordo com índices de morbimortalidade feminina, as ações
- (A) diagnósticas e de tratamento contra doenças infecciosas graves.
  - (B) educacionais contra Acidente Vascular Encefálico e Morte Materna.
  - (C) educacionais em favor do parto natural e aleitamento materno.
  - (D) diagnósticas e de tratamento contra doenças cardiovasculares.
  - (E) diagnósticas e de tratamento contra doenças endócrino-metabólicas.
36. As medições dos sinais vitais são uma série básica de avaliações fisiológicas que refletem o estado de saúde de um paciente. O profissional utiliza esse dado ao tomar decisões de ordem clínica, sabendo que vários fatores de ordem física e psicológica podem causar alterações nessa medição. Assim, frente ao exposto, pode-se afirmar que são sinais vitais:
- (A) pressão arterial, pressão pulmonar, temperatura, pulso e respiração.
  - (B) pressão arterial, débito cardíaco, temperatura, pulso e respiração.
  - (C) pressão arterial, pressão pulmonar, temperatura, pulso e volume sistólico.
  - (D) pressão arterial, pressão pulmonar, temperatura, respiração e dor.
  - (E) pressão arterial, pulso arterial, temperatura, respiração e dor.



37. Para determinados tratamentos procedimentais, é necessário posicionar o paciente. Associe as diferentes posições aos procedimentos e posições.

1. Posição de Fowler
2. Decúbito lateral ou Sims
3. Decúbito dorsal
4. Decúbito ventral ou Prona
5. Posição de genupeitoral
6. Posição de litotomia
7. Posição ortostática

- ( ) Usada para lavagem intestinal, medicação via retal e verificação da temperatura retal.
- ( ) Descansa, facilita a respiração em pacientes cardíacos e com problemas pulmonares.
- ( ) Usada para realizar exames da coluna vertebral, cervical e para melhorar o conforto.
- ( ) É muito comum usar para realização de exames vaginais, retais e perianais.
- ( ) É usada para partos, procedimentos cirúrgicos ou exames de períneo e bexiga.
- ( ) É usada para procedimentos cirúrgicos de órgãos da região abdominal e pélvica.
- ( ) É usada para detectar anormalidades ortopédicas ou neurológicas.

A sequência correta é

- (A) 2-1-4-5-6-3-7.
- (B) 1-3-7-6-5-4-2.
- (C) 7-6-3-2-1-4-5.
- (D) 6-3-7-1-2-4-5.
- (E) 3-6-1-7-5-4-2.

38. Segundo o que se preconiza no atendimento de suporte básico à vida, ao se realizar a abordagem inicial (avaliação primária) a uma vítima de mal súbito ou trauma, é objetivo fundamental

- (A) controlar cuidadosamente os sinais vitais.
- (B) avaliar as prováveis causas da ocorrência.
- (C) detectar as situações de risco de morte.
- (D) verificar a existência de possíveis lesões.
- (E) estabelecer a prioridade de atendimento.

39. A reação pirogênica pode ser uma das complicações da terapia (EV) Endovenosa, tratamento muito aplicado em unidades de urgência e emergência. São sinais e sintomas dessa reação:

- (A) retenção urinária e midríase.
- (B) perda da consciência e sialorréia.
- (C) elevação abrupta da temperatura e calafrios.
- (D) hipertensão e edema.
- (E) desidratação e hipóxia.

Para responder às questões de número 40, 41 e 42, leia o texto.

Deu entrada numa unidade de urgência e emergência de um hospital a vítima MSO, 60 anos, sexo masculino, apresentando um quadro de insuficiência respiratória grave e precordialgia de início súbito. A sala de emergência é um local apropriado para receber vítimas com graves problemas de saúde e que possam correr risco de morte, caso não sejam atendidas adequadamente. A vítima veio trazida da sua residência por equipe do SAMU-192, que prestou atendimento básico de vida, transportando-a deitada na maca da ambulância, com cabeceira elevada e recebendo O<sub>2</sub> por máscara facial.

40. Será indispensável ter na sala de emergência os seguintes equipamentos elétricos para o atendimento de uma parada cardiorrespiratória:

- (A) monitor cardíaco, desfibrilador, ventilador mecânico, bomba de infusão, aspirador e oxímetro de pulso.
- (B) monitor cardíaco, desfibrilador, ambu, aspirador, ventilador mecânico e oxímetro pulso.
- (C) monitor cardíaco, desfibrilador, laringoscópio, aspirador, ventilador mecânico e oxímetro de pulso.
- (D) monitor cardíaco, desfibrilador, fio guia, laringoscópio, aspirador e ventilador mecânico.
- (E) monitor cardíaco, desfibrilador, ambu, bomba de infusão, ventilador mecânico e aparelho de eletrocardiograma.

41. A vítima apresentou parada cardiorrespiratória. A sequência técnica correta de manobras de reanimação será composta de

- (A) uma ventilação pulmonar e quinze compressões torácicas.
- (B) duas ventilações pulmonares e trinta compressões torácicas.
- (C) uma ventilação pulmonar e trinta compressões torácicas.
- (D) duas ventilações pulmonares e quinze compressões torácicas.
- (E) nenhuma ventilação pulmonar e trinta compressões torácicas.

42. A efetividade da compressão torácica é primordial no sucesso da massagem de reanimação cardíaca. Assim, deve-se comprimir o tórax de um adulto a uma profundidade de

- (A) 1,0 cm a 2,5 cm.
- (B) 2,5 cm a 3,5 cm.
- (C) 3,5 cm a 5,0 cm.
- (D) 5,5 cm a 6,5 cm.
- (E) 7,0 cm a 8,5 cm.

43. Para administrar 2 500 mL de soro glicosado a 5%, em 24 horas, o cálculo em gotas por minuto deverá ser de

- (A) 15 gotas/min.
- (B) 27 gotas/min.
- (C) 30 gotas/min.
- (D) 35 gotas/min.
- (E) 50 gotas/min.

44. Sobre a transferência e alta hospitalar do paciente, respectivamente, afirma-se:
- é a remoção do paciente para a realização de exames fora do hospital; saída do paciente do hospital;
  - quando o paciente muda de clínica; quando o paciente sai do hospital para realizar um exame;
  - quando o paciente vai para sua casa; quando o paciente muda de unidade ou clínica;
  - remoção do paciente de uma unidade ou clínica; saída do paciente do hospital.
- Está correto apenas o que se afirma em
- III e IV.
  - I e III.
  - IV.
  - II.
  - I e II.
45. Foram prescritos 1 000 mL de solução fisiológica a 0,9 % e 500 mL de solução glicosada a 5% em 24 horas. O fluxo em gotas/min. será de, aproximadamente,
- 83 gotas/min.
  - 72 gotas/min.
  - 68 gotas/min.
  - 28 gotas/min.
  - 21 gotas/min.
46. A desinfecção correta do instrumental e equipamento do Centro Cirúrgico visa, primordialmente,
- prevenir a deterioração e o desgaste do material e equipamento cirúrgico e evitar gastos desnecessários ao hospital.
  - prevenir desgaste do material e equipamento, evitar infecção cruzada e garantir qualidade na assistência de enfermagem.
  - garantir qualidade da assistência de enfermagem, promover infecção cruzada e a limpeza do instrumental cirúrgico.
  - garantir qualidade da assistência de enfermagem, usar o instrumental descartável e promover infecção cruzada.
  - garantir qualidade na assistência de enfermagem, promover infecção cruzada e limpeza do instrumental cirúrgico.
47. Um bom indicador de avaliação do estado nutricional de crianças em unidades de saúde pública é
- o Índice de Apgar.
  - a Curva Ponderal.
  - o Perímetro Cefálico.
  - a Superfície Corpórea.
  - o Turgor da Pele.
48. O trabalho é realizado em situações de campo por meio de casos notificados (clinicamente declarados ou suspeitos) e seus contatos; tem como objetivos a identificação da fonte causadora do agravo, o modo de transmissão, os fatores determinantes de riscos e o diagnóstico final. O texto refere-se à vigilância
- sanitária.
  - epidemiológica.
  - farmacológica.
  - vacinal.
  - geográfica.
49. Associe os órgãos representativos da Enfermagem, nos diversos Estados Brasileiros, às características que possibilitam sua identificação.
- COFEN
  - COREN
  - ABEN
  - SINDICATO PROFISSIONAL
- Delibera em nível nacional sobre questões gerais e fundamentais da Enfermagem, disciplina o exercício profissional de acordo com diretrizes e princípios gerais.
  - Normatiza, expede documentos, instrui sobre dúvidas, aprecia decisões, promove estudos, campanhas e exerce funções que lhe são conferidas por lei.
  - Congrega os diversos profissionais que compõem a categoria de Enfermagem, promove congressos incentivando o desenvolvimento técnico e social.
  - Defende e orienta os profissionais quanto aos aspectos relacionados aos direitos trabalhistas, sociais e econômicos.
- Está correta a sequência
- 1, 2, 3 e 4.
  - 4, 3, 2 e 1.
  - 3, 4, 1 e 2.
  - 4, 2, 1 e 3.
  - 1, 3, 4 e 2.
50. Quanto à Bioética, é correto a afirmar que
- o princípio da autonomia indica que, após informado, o paciente pode escolher se realiza ou não o tratamento, mesmo que a não realização venha a causar danos à sua saúde.
  - o princípio da beneficência e o princípio da justiça indicam que o médico é quem conhece o problema do paciente, portanto a ele se submeterá mesmo contra a vontade, pois sua saúde é mais importante.
  - ela está ligada apenas aos cursos da área da saúde, não interessando as demais áreas.
  - bioética é o mesmo que ética médica.
  - os profissionais poderão considerar o posicionamento da religião do paciente quanto ao tratamento, pois quando estão nos hospitais são todos iguais.