

## LÍNGUA PORTUGUESA

Leia o texto abaixo para responder à questão 1.

Faleceu ontem a pessoa que atrapalhava sua vida...

Um dia, quando os funcionários chegaram para trabalhar, encontraram na portaria um cartaz enorme, no qual estava escrito:

"Faleceu ontem a pessoa que atrapalhava sua vida na Empresa. Você está convidado para o velório na quadra de esportes".

No início, todos se entristeceram com a morte de alguém, mas depois de algum tempo, ficaram curiosos para saber quem estava atrapalhando sua vida e bloqueando seu crescimento na empresa. A agitação na quadra de esportes era tão grande, que foi preciso chamar os seguranças para organizar a fila do velório. Conforme as pessoas iam se aproximando do caixão, a excitação aumentava:

- Quem será que estava atrapalhando o meu progresso?

- Ainda bem que esse infeliz morreu!

Um a um, os funcionários, agitados, se aproximavam do caixão, olhavam pelo visor do caixão a fim de reconhecer o defunto, engoliam em seco e saíam de cabeça abaixada, sem nada falar uns com os outros. Ficavam no mais absoluto silêncio, como se tivessem sido atingidos no fundo da alma e dirigiam-se para suas salas. Todos, muito curiosos mantinham-se na fila até chegar a sua vez de verificar quem estava no caixão e que tinha atrapalhado tanto a cada um deles.

A pergunta ecoava na mente de todos: "Quem está nesse caixão"?

No visor do caixão havia um espelho e cada um via a si mesmo... Só existe uma pessoa capaz de limitar seu crescimento: VOCÊ MESMO! Você é a única pessoa que pode fazer a revolução de sua vida. Você é a única pessoa que pode prejudicar a sua vida. Você é a única pessoa que pode ajudar a si mesmo. "SUA VIDA NÃO MUDA QUANDO SEU CHEFE MUDA, QUANDO SUA EMPRESA MUDA, QUANDO SEUS PAIS MUDAM, QUANDO SEU (SUA) NAMORADO(A) MUDA. SUA VIDA MUDA... QUANDO VOCÊ MUDA! VOCÊ É O ÚNICO RESPONSÁVEL POR ELA."

O mundo é como um espelho que devolve a cada pessoa o reflexo de seus próprios pensamentos e seus atos. A maneira como você encara a vida é que faz toda diferença. A vida muda, quando "você muda".

**Luis Fernando Veríssimo** ( Para gostar de ler. Rio de Janeiro: Ed. Objetiva)

1. O principal ensinamento do texto é que

- (A) somos os responsáveis por nossos progressos, mas a empresa precisa colaborar para nosso crescimento.
- (B) a cada dia acabamos matando a esperança de dias melhores.
- (C) as pessoas procuram culpados para seus problemas, mas na verdade a solução só depende delas mesmas.
- (D) devemos matar tudo aquilo que bloqueia nosso crescimento profissional.

2. Assinale a opção que preenche correta e respectivamente a frase abaixo.

Para ser feliz \_\_\_ duas coisas devem ser consideradas \_\_\_ uma é a vida pessoal \_\_\_ que deve ser plena e satisfatória \_\_\_ a outra é a vida profissional \_\_\_ que deve acompanhar os mesmos ideais.

- (A) ponto e vírgula – vírgula – vírgula – dois pontos – vírgula.
- (B) dois pontos – vírgula – vírgula – ponto e vírgula – vírgula.
- (C) vírgula – dois pontos – vírgula – ponto e vírgula – vírgula.
- (D) vírgula – vírgula – dois pontos – vírgula – ponto e vírgula.

3. Assinale a alternativa em que o substantivo e seu respectivo plural estão corretos.

- (A) Fuzil – fuzíveis.
- (B) Vulcão – vulcões.
- (C) Mal – maus.
- (D) Cadáver – cadáveres.

4. Assinale a alternativa que apresenta a única frase correta.

- (A) Não obedecemos aos sinais de trânsito.
- (B) Prefiro comer doces do que salgados.
- (C) Assistimos o filme ontem.
- (D) Eu me referi à José.

5. Assinale a alternativa correta quanto à concordância entre substantivo e adjetivo.

- (A) Comprei duas camisas azul-marinhos.
- (B) Comprei duas camisas azuis-marinhos.
- (C) Comprei duas camisas azuis-marinho.
- (D) Comprei duas camisas azul-marinho.

## MATEMÁTICA

6. Um vendedor percebeu que após viajar 270 km ainda faltavam 150 km para chegar à terça parte do caminho. O percurso total de sua viagem é de

- (A) 421 km
- (B) 840 km
- (C) 990 km
- (D) 1.260 km

7. Maria pretende comprar um celular que custa R\$ 480,00. Ela deseja dar uma entrada de R\$ 75,00 e pagar o restante em três parcelas iguais. Cada parcela custará

- (A) R\$ 120,00
- (B) R\$ 135,00
- (C) R\$ 150,00
- (D) R\$ 165,00

8. A metade de dois elevado a oitava potência é

- (A) 32
- (B) 64
- (C) 128
- (D) 256

9. Uma empresa envia um malote de 15 em 15 dias e um Sedex de 20 em 20 dias para sua matriz. Se hoje foram enviados juntos o malote e o sedex, os dois serão enviados juntos novamente daqui a
- (A) 60 dias.  
(B) 80 dias.  
(C) 100 dias.  
(D) 120 dias.

10. A metade da terça parte de um prêmio de R\$2.340.000,00 equivale a
- (A) R\$ 360.000,00  
(B) R\$ 370.000,00  
(C) R\$ 380.000,00  
(D) R\$ 390.000,00

#### CONHECIMENTOS GERAIS / ATUALIDADES

11. O Brasil é um dos países mais ricos em biodiversidade no mundo. Entretanto, essa biodiversidade está sob ameaça devido às ações humanas sobre o meio ambiente, incluindo o desmatamento para expansão agropecuária, a poluição dos solos e dos rios, o tráfico de animais silvestres, a exploração abusiva dos recursos naturais etc. Assinale a alternativa que indica onde se concentra a maior área de biodiversidade no nosso país.
- (A) Pantanal.  
(B) Amazônia.  
(C) Chapada dos Guimarães.  
(D) Cataratas do Iguaçu.
12. Desde 2009, o maior parceiro comercial do Brasil, para onde são exportados principalmente minério de ferro, soja e petróleo bruto, é
- (A) a Argentina.  
(B) a China.  
(C) os Estados Unidos.  
(D) o Japão.

13. Transgênicos são organismos vivos com modificações genéticas, em que foram introduzidos genes de outras espécies com o objetivo de atribuir a eles novas características – no caso dos grãos, resistência a pragas e herbicidas. No Brasil, desde 1995, quando foi aprovada a Lei de Biossegurança, ocorre oficialmente o plantio de transgênicos. O grão transgênico mais produzido no Brasil é
- (A) soja.  
(B) feijão.  
(C) amendoim.  
(D) trigo.

14. Na década de 1930, várias emissoras de rádio foram instaladas no Brasil, mas uma delas liderou a audiência por muitos anos, sendo famosa pelas suas radionovelas. Trata-se da
- (A) Jovem Pan.  
(B) Eldorado.  
(C) Nacional.  
(D) Litoral FM.


15. A biotecnologia é uma técnica utilizada desde o ano de 1800 na produção de alimentos e bebidas como pão, queijo, cerveja e vinho, por meio da fermentação. Atualmente a biotecnologia tem grande utilidade na produção de biocombustíveis, que substituem a energia fóssil e, muitas vezes, possui preços mais acessíveis. O combustível mais limpo no Brasil, que reduz a emissão de gases de efeito estufa, é
- (A) o diesel.  
(B) a gasolina comum.  
(C) o etanol.  
(D) a gasolina aditivada.

16. Assinale a alternativa que corresponda ao escândalo político que marcou o governo Lula, cujos 38 réus começaram a ser julgados no dia 2 de agosto de 2012 pelo Supremo Tribunal Federal.
- (A) Operação Anaconda.  
(B) Sanguessuga.  
(C) Mensalão.  
(D) Dólares na cueca.

#### CONHECIMENTOS ESPECÍFICOS


17. Quando se está dirigindo por uma rodovia que não possui sinalização regulamentadora quanto à velocidade, a velocidade máxima será de
- (A) 120km/h para qualquer tipo de veículo.  
(B) 110km/h para automóveis e camionetas.  
(C) 90km/h para automóveis.  
(D) 60km/h para ônibus e micro-ônibus.



18. A presença da placa  indica que só é permitido transitar veículo ou combinação de veículo
- (A) de, no máximo, 10 metros de comprimento.  
(B) com a velocidade de 10 quilômetros por hora.  
(C) de, no máximo, 10 metros de largura.  
(D) de, no máximo, 10 metros de altura.

19. O condutor de veículo motorizado utilizado no transporte de passageiros, cuja lotação exceda a oito lugares, excluído o do motorista, deve possuir CNH na categoria
- (A) D.  
(B) B.  
(C) E.  
(D) C.



20. Ao ver a placa , o motorista deve ter muito cuidado, pois ela adverte que a pista
- (A) é sinuosa.  
(B) tem curvas perigosas.  
(C) pode se tornar escorregadia em certas condições.  
(D) passa por cima de um rio.

21. Assinale a alternativa correta a respeito da sinalização de trânsito.



(A) A placa faz parte da sinalização de advertência.



(B) A placa indica que há obras na pista.



(C) A placa indica pista dividida.



(D) A placa informa ao condutor que a pista possui acostamento.

22. A presença da placa  adverte aos motoristas que, logo à frente,


- (A) há estreitamento de pista devido a obras.
- (B) há cruzamento com linha férrea.
- (C) a pista ficará estreita de ambos os lados.
- (D) há ponte ou viaduto com largura inferior à da via.

23. É preciso tomar muito cuidado ao socorrer vítimas de um acidente de trânsito, pois alguns procedimentos podem agravar a situação da vítima. Sendo assim, assinale a alternativa que apresenta um procedimento correto.

- (A) Aqueça a vítima, para que ela não perca o calor de seu próprio corpo.
- (B) Movimente a vítima.
- (C) Retire capacetes de motociclistas.
- (D) Dê algo para a vítima beber.

24. O condutor de veículo motorizado utilizado em transporte de carga, cujo peso bruto total exceda a três mil e quinhentos quilogramas possui CNH na categoria

- (A) B.
- (B) D.
- (C) E.
- (D) C.

25. Quando há a presença da placa , o motorista sabe que

- (A) é obrigado a virar à direita.
- (B) adiante, há uma curva acentuada à direita.
- (C) há um retorno à direita.
- (D) há uma via lateral à direita.

26. A presença da placa  adverte aos motoristas

- (A) sobre a presença de fazendas de criação de gado adiante.
- (B) da possibilidade de presença de animais selvagens na via.
- (C) que é permitido caçar na região.
- (D) que é permitido alimentar animais selvagens daquela região.

27. Estacionar na contramão de direção é considerada uma infração

- (A) leve.
- (B) média.
- (C) grave.
- (D) gravíssima.

28. A placa  significa que

- (A) só é permitido seguir em frente.
- (B) é permitido o tráfego nos dois sentidos.
- (C) é proibido seguir em frente.
- (D) somente se pode circular no sentido indicado, neste caso, para o lado direito.

29. Condutor de veículo motorizado cujo peso bruto total não exceda a três mil e quinhentos quilogramas, não abrangido pela categoria A, corresponde à categoria

- (A) A.
- (B) B.
- (C) C.
- (D) D.

30. O fenômeno que ocorre quando os pneus perdem o contato com o solo por excesso de água na pista e pneus carecas é

- (A) urbanoviário.
- (B) terraplanagem.
- (C) urca.
- (D) aquaplanagem.

31. A primeira atitude em acidente de trânsito é

- (A) ver quem está com dor.
- (B) saber quem é responsável pelo acidente.
- (C) saber em qual velocidade o veículo estava.
- (D) sinalizar o local do acidente.

32. A má conservação e a regulagem inadequada dos veículos

- (A) contribuem para a poluição da água.
- (B) contribuem, principalmente, para a poluição do ar e a poluição sonora.
- (C) não agridem o meio ambiente.
- (D) acarretam, única e exclusivamente, o desgaste do veículo.

33. Nas vias não iluminadas, o condutor deve usar
- (A) luz alta mesmo quando tiver veículo no sentido contrário.
  - (B) luz alta quando tiver veículo a sua frente.
  - (C) luz baixa e com pisca alerta ligado.
  - (D) luz alta quando não tiver veículo a sua frente ou em sentido contrário.

34. É o coordenador do Sistema Nacional de Trânsito e órgão máximo normativo e consultivo. Trata-se do
- (A) Contran.
  - (B) Detran.
  - (C) DER.
  - (D) Denatran.

35. Dirigir sem atenção ou sem os cuidados indispensáveis à segurança é considerada uma infração
- (A) grave.
  - (B) leve.
  - (C) média.
  - (D) gravíssima.

36. É correto afirmar que as infrações e a perda de pontos da CNH são, respectivamente,
- (A) gravíssima – 6 pontos, Grave 5 – pontos, Média – 4 pontos e Leve – 2 pontos.
  - (B) gravíssima – 7 pontos, Grave – 5 pontos, Média – 6 pontos e Leve – 3 pontos.
  - (C) gravíssima – 7 pontos, Grave – 5 pontos, Média – 4 pontos e Leve – 3 pontos.
  - (D) gravíssima – 7 pontos, Grave – 4 pontos, Média – 3 pontos e Leve – 2 pontos.



37. A placa alerta para
- (A) crianças brincando.
  - (B) uma passarela.
  - (C) pedestres atravessando a via.
  - (D) passagem sinalizada de escolares.

38. Um trecho da via de mão dupla dividido ao centro por duas linhas amarelas contínuas significa que, neste trecho, é
- (A) proibido ultrapassar nos dois sentidos.
  - (B) permitido ultrapassar pela esquerda.
  - (C) proibido ultrapassar pela esquerda.
  - (D) proibido ultrapassar pela direita.

39. Em um acidente, observa-se que o ferimento de uma vítima esguicha sangue no mesmo ritmo de sua pulsação. Conclui-se que ocorreu o corte de
- (A) uma artéria.
  - (B) uma veia.
  - (C) um nervo
  - (D) um tendão.

40. A velocidade máxima nas vias arteriais onde não existe sinalização regulamentadora deverá ser de

- (A) 90 km/h.
- (B) 60 km/h.
- (C) 70 km/h.
- (D) 80 km/h.