


NÍVEL FUNDAMENTAL

CARGO: 02

SERVIÇOS GERAIS - VIGIA



CETAP

INSTRUÇÕES ESPECIAIS

- 01** Você está recebendo o seu Caderno de Questões, contendo 50 (cinquenta) questões objetivas de múltipla escolha, numeradas de 01 a 50, em ordem sequencial. Confira a sequência numérica de seu Caderno de Questões antes de iniciar a resolução, assim como o número de páginas, comunicando, imediatamente, o Fiscal de Sala, em caso de repetição ou ausência de questão ou página.
- 02** Você deve conferir, na capa do Caderno de Questões e no rodapé das páginas internas, o nome do cargo ao qual este Caderno de Questões se refere. Caso você tenha recebido um Caderno de Questões que não corresponda ao cargo para o qual está inscrito, comunique imediatamente o Fiscal de Sala e exija o Caderno de Questões correto.
- 03** As respostas das questões objetivas de múltipla escolha do Caderno de Questões deverão ser transcritas para o Cartão Resposta com caneta esferográfica de tinta azul ou preta.
- 04** Para cada questão da Prova Objetiva de Múltipla Escolha existirão 05 (cinco) alternativas de resposta (A, B, C, D e E), das quais apenas uma será correta, de acordo com o comando da questão. A marcação de mais de uma no Cartão Resposta anula, automaticamente, a resposta da questão.
- 05** O tempo máximo disponível para realização da prova é de 03h30 (três horas e trinta minutos), já incluído o tempo destinado à identificação e ao preenchimento do Cartão Resposta.
- 06** Somente depois de decorridos 60 minutos do início da prova, o candidato poderá entregar o seu Caderno de Questões e o seu Cartão Resposta, e retirar-se da sala de prova.
- 07** Os 3 (três) últimos candidatos só poderão sair da sala de prova juntos.
- 08** Será permitido ao candidato levar consigo o Caderno de Questões e o Gabarito desde que nos últimos 30 (trinta) minutos antes do término da prova.

ATENÇÃO

Escreva no espaço apropriado do **Cartão Resposta**, com a sua caligrafia usual, a seguinte “frase mestra” de Clarice Lispector:

“Sou um coração batendo no mundo.”

A transcrição da “frase mestra” é obrigatória e servirá para identificar o Cartão Resposta do candidato, bem como possibilitar o Exame Pericial Grafotécnico, quando for o caso.



PREFEITURA MUNICIPAL DE VISEU/PA
Concurso Público n.º 01/2013



Leia o texto e responda o que se pede no comando das questões.

Em se plantando, tudo dá.

Nós nos lembramos de nossas mães a nos pedir para ir buscar cal virgem nalguma construção das redondezas. Era para um especialíssimo doce de abóbora. Uma dessas mães do meio do século 20, a gaúcha de Rio Grande Mabel Dias Teixeira, aos 85 anos nos passa sua receita. Corta uma abóbora média em cubos e deixa em água com duas colheres de cal. Enquanto isso, adianta a calda, com açúcar cristal: "Tem que ser meio rala, já explico por quê."

Após uma hora, ela recolhe os cubos, lava bem "para não ficar nenhum resíduo", e está quase no ponto. "A cal queima: a abóbora é macia, fica quase cozida, e com a casca dos cubos já durinha."

A calda, completa Mabel, temperada a cravo e canela em pau, vai engrossar quando você cozinhar os cubos nela por meia hora - "sem mexer para não desmanchar e absorver bem a calda".

A criançada ansiava pelos cubos na compoteira, de um alaranjado escuro, translúcidos e crocantes. Quando você trincava, a boca se enchia da polpa, que explodia num néctar dos deuses. O que só saberíamos meio século depois, ao escrever aqui sobre abóbora, é que já se usava cal para fazer doce no tempo em que se acreditava em deuses.

Supõe-se que a abóbora seja nativa do atual México. Povos dali a conhecem há mais de sete mil anos. Junto com o milho, figuravam dieta básica de astecas e maias dos andinos incas e de nossos indígenas. Da família Cucurbitácea, é parente da melancia, do melão, do chuchu, do pepino. Entre nós tem vários nomes: abóbora-de-pescoço, abobra, jerimu, jurumu, jerimum.

É planta anual, rasteira, de talo oco e grandes folhas verdes, flores amarelas ou alaranjadas, tamanho e formato conforme a variedade. É o maior e mais pesado fruto da natureza. No hemisfério Norte promovem concursos, num dos quais, em Ohio, Estados Unidos, apareceu um exemplar que entrou para o livro dos records: 850 quilos.

Quem leu Lobato na infância vai se lembrar de Américo Pisca-pisca, que queria reformar a natureza, colocando abóboras em árvore frondosa e jabuticabas em planta rasteira. Deita-se à sombra de uma jabuticabeira e, no melhor do sono, cai-lhe uma frutinha no nariz. Pisca-pisca acorda e reflete que é melhor ficar tudo como está. E ele nem imaginava que pudesse haver abóbora de quase uma tonelada. Adequada a um sem-número de pratos salgados, a obra-prima da abóbora para nós é mesmo seu doce com cal virgem.

Sua prima Cucurbita pepo, a abóbora-moranga, entre nós famosa pelo prato litorâneo Camarão na Moranga, nos Estados Unidos, exerce papel principal no Dia das Bruxas, 31 de outubro. A garotada sai pedindo doce com uma vela acesa dentro da moranga em forma de máscara. No oriente, ela é símbolo de fecundidade e abundância, pelo mundaréu de sementes. E uma curiosidade: enquanto na França chamam alguém de moranga (gourde) é chamar de cabeça-oca, em regiões da África comem-se as sementes em busca de inteligência.

FONTE: REINISCH, Kátia. SEVERIANO, Mylton. Brasil: Almanaque de Cultura Popular, n. 163.

Questão 01

Sobre a estrutura textual, não é correto afirmar:

- A) Do primeiro ao terceiro parágrafos, há recordações do narrador sobre fatos da infância e receita de Mabel de um doce de abóbora.
- B) No parágrafo quatro, fala-se da postura das crianças em relação aos doces e o valor histórico da cal.
- C) No parágrafo cinco, há o histórico da origem e uso e nomeação da abóbora.
- D) Nos parágrafos seis e sete, há descrição do fruto e referência ao uso da abóbora como tema literário pelo escritor Américo Pisca-pisca.
- E) No parágrafo oito, fala-se de variantes do fruto, emprego artístico e diferenças culturais da simbologia.

Questão 02

A frase que dá título ao texto, copiada da Carta de Pero Vaz de Caminha ao rei de Portugal, na época do descobrimento do Brasil, faz referência:

- A) à necessidade de tratar da fauna para sobreviver.
- B) ao valor específico da abóbora na culinária.
- C) à ideia de que só quem planta come.
- D) à riqueza do solo brasileiro.
- E) ao desrespeito do governo brasileiro ao homem do campo.

Questão 03

Não consta entre as propriedades da abóbora apresentadas no texto:

- A) ter nomeação variada.
- B) ser a mais pesada das raízes.
- C) um exemplar exceder a 800 quilos.
- D) ter frequência anual e ser usada na culinária.
- E) ser da família da Cucurbita pepo.

O fragmento a seguir é base para que você responda as questões 4, 5, 6, 7, 8 e 9.

"No hemisfério Norte promovem concursos, num dos quais, em Ohio, Estados Unidos, apareceu um exemplar que entrou para o livro dos records: 850 quilos."

Questão 04

Na frase, a expressão "num dos quais" refere-se a:

- A) Hemisfério Norte.
- B) Ohio.
- C) 850 quilos.
- D) concursos.
- E) livro.

Questão 05

O núcleo do sujeito da forma verbal "apareceu" consta em:

- A) exemplar.
- B) livro.
- C) records.
- D) concursos.
- E) Estados Unidos.

Questão 06

A forma apassivada da oração: "No hemisfério Norte promovem concursos, (...)" é:

- A) Concursos promoverão no hemisfério Norte.
- B) Concursos seriam promovidos no hemisfério Norte.
- C) Concursos são promovidos no hemisfério Norte.
- D) Concursos eram promovidos no hemisfério Norte.
- E) Promover-se-iam, pelo hemisfério Norte, concursos.

Questão 07

A palavra no fragmento que demonstra a superioridade do fruto aparecido em Ohio sobre os outros é:

- A) recordes.
- B) exemplar.
- C) livro.
- D) quilos.
- E) concursos.

Questão 08

Quanto à pontuação, a única modificação possível sem afetar a norma culta seria:

- A) a retirada dos dois-pontos.
- B) o acréscimo de vírgulas após "apareceu".
- C) o uso de vírgula após "Norte".
- D) o emprego de ponto-e-vírgula após "Ohio".
- E) o uso de aspas na expressão "um exemplar".

Questão 09

A palavra "exemplar" é grafada com "X", mas este emprego não seria correto em:

- A) xibé.
- B) xaréu.
- C) enxer.
- D) extrativista.
- E) ixé.

Questão 10

Sobre a palavra "cal", não é correto afirmar:

- A) é um substantivo.
- B) pertence ao gênero masculino.
- C) é uma substância branca usada para cair.
- D) apresenta plurais: cales ou cais.
- E) é uma palavra monossílabo.

Questão 11

Substitui, com acerto, a palavra "ansiava" em: "A criança **ansiava** pelos cubos na compoteira, (...)":

- A) vomitava.
- B) ovacionava.
- C) gritava.
- D) bradava com histeria.
- E) desejava com ardor.

Questão 12

Assinale a alternativa em que a palavra entre parênteses é pronome relativo (retoma um termo expresso na oração anterior):

- A) "Supõe-se **que** a abóbora (...)" / (que).
- B) "(...) **acorda e reflete que** é melhor (...)" / (que).
- C) "(...) **sem** mexer para não desmanchar (...)" / (sem).
- D) "(...) a abóbora é **macia**, (...)" / (macia).
- E) "(...) de Américo Pisca-pisca, **que** queria (...)" / (que).

Questão 13

A respeito das formas verbais em: "Corta uma abóbora média em cubos e deixa em água com duas colheres de cal.", é incorreto afirmar que:

- A) há duas formas no imperativo.
- B) os verbos estão em terceira pessoa (você).
- C) os verbos são transitivos diretos.
- D) os verbos pertencem à primeira conjugação.
- E) os verbos não estão em formas nominais.

Questão 14

No fragmento de texto da questão anterior (13), a palavra que, morfologicamente, é um numeral é:

- A) abóbora.
- B) cubos.
- C) duas.
- D) colheres.
- E) em.

Questão 15

Identifique, na frase seguinte, a palavra que, se fosse ao plural, levaria acento circunflexo:

"Entre nós tem vários nomes: abóbora-de-pescoço, abobra, jerimu, jurumu (...)".

- A) nós.
- B) tem.
- C) pescoço.
- D) abobra.
- E) jerimu.

Questão 16

A palavra moranga, na França, está para _____, em oposição à África, onde seu consumo é ligado a(à) _____. Completa e interpreta, com correção, respectivamente, as ideias do texto a alternativa:

- A) néscio, sapiente.
- B) inteligência, ineficiência.
- C) esterilidade, abundância.
- D) sutileza, carência.
- E) esperteza, mediocridade.

Questão 17

A função sintática do termo “abóbora-moranga” em: “Sua prima Cucurbita pepo, a **abóbora-moranga**, entre nós famosa pelo prato litorâneo (...)” é:

- A) vocativo.
- B) adjunto adverbial.
- C) objeto direto.
- D) aposto.
- E) predicativo do objeto.

Questão 18

Sobre a frase: “(...) cai uma frutinha no nariz.”, é incorreto afirmar que:

- A) o sujeito é “uma frutinha”.
- B) O verbo “cair” é intransitivo.
- C) “no nariz” é adjunto adverbial.
- D) “lhe” é objeto indireto.
- E) “uma” é adjunto adnominal.

Questão 19

Marque a alternativa em que há substantivo abstrato:

- A) mães.
- B) açúcar.
- C) inteligência.
- D) sementes.
- E) vela.

Questão 20

A separação de sílabas está inadequada em:

- A) in-te-li-gên-cia.
- B) e-xer-cer.
- C) cu-ri-o-si-da-de.
- D) já-buti-ca-bei-ra.
- E) sa-be-rí-a-mos.

MATEMÁTICA

Questão 21

Um candidato resolveu $\frac{5}{8}$ do total de questões da prova de Matemática, deixando por fazer 9 questões. Qual o total de questões dessa prova?

- A) 30
- B) 24
- C) 15
- D) 18
- E) 20

Questão 22

Uma partida de futebol tem a duração de 90 minutos de jogo. A partida de hoje foi prorrogada em 8 minutos. Qual foi o tempo total dessa partida de futebol?

- A) 1h e 38 min.
- B) 1h e 8 min.
- C) 1h e 18 min.
- D) 1h e 28 min.
- E) 1h e 15 min.

Questão 23

Toda a produção mensal de uma fábrica de farinha de mandioca foi vendida a três cooperativas, conforme o *Quadro 1*, disposto a seguir:

Quadro 1

Cooperativa A	Metade da produção
Cooperativa B	$\frac{2}{5}$ da produção
Cooperativa C	1000 kg

Qual foi em Kg a produção mensal dessa fábrica?

- A) 8.000 Kg
- B) 6.000 Kg
- C) 12.000 Kg
- D) 10.000 Kg
- E) 15.000 Kg

Questão 24

Do porto de uma cidade do litoral do Pará, partem três barcos de passageiros para cidades distintas. O primeiro faz a viagem de ida e volta em 4 dias; o segundo, em 5 dias; e o terceiro, em 10 dias. Se hoje os três barcos partirem juntos, depois de quanto tempo esses barcos partirão novamente no mesmo dia?

- A) 12 dias.
- B) 10 dias.
- C) 20 dias.
- D) 8 dias.
- E) 15 dias.

Questão 25

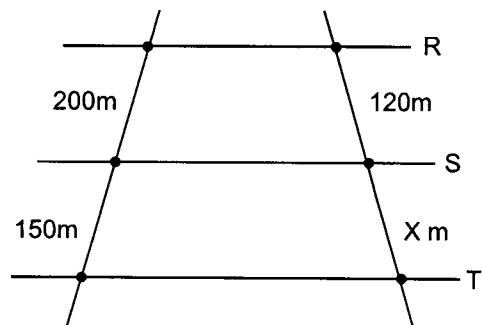
Duas peças de tecido devem ser divididas em pedaços de mesmo comprimento, sendo esse comprimento o maior possível. Se uma peça tem 40 metros e a outra 50 metros, qual deve ser o comprimento de cada pedaço se todo o tecido deve ser aproveitado?

- A) 10m
- B) 5m
- C) 12m
- D) 8m
- E) 15m

Questão 26

Em uma estrada muito movimentada, foram construídas 3 passarelas para pedestres (R, S e T). Qual a medida da distância “X”?

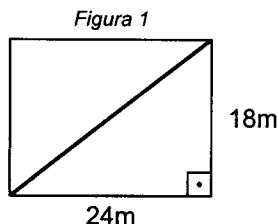
(Dado: R // S // T)



- A) 100m
- B) 80m
- C) 60m
- D) 90m
- E) 110m

Questão 27

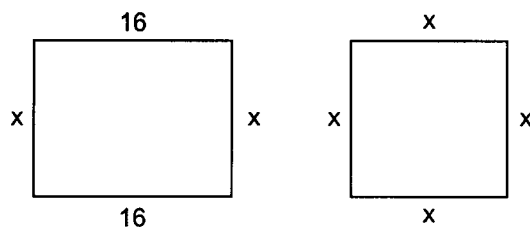
Para irrigar uma pequena horta retangular, foi colocado um cano no sentido diagonal. Analise a *Figura 1*, use o Teorema de Pitágoras e marque a alternativa que contém o comprimento do cano em metros:



- A) 40m
- B) 30m
- C) 32m
- D) 35m
- E) 42m

Questão 28

Qual é o maior número inteiro que a incógnita "X" pode assumir para que o perímetro do retângulo seja maior que o perímetro do quadrado?



- A) 16
- B) 15
- C) 18
- D) 14
- E) 17

Questão 29

A razão entre as idades de um filho e seu pai é de $\frac{2}{5}$. Se o pai tem 45 anos, qual é a idade do filho?

- A) 16
- B) 15
- C) 18
- D) 20
- E) 17

Questão 30

Em uma prova com 60 questões, acertei 42. Meu número de acertos representa quantos por cento do número total de questões dessa prova?

- A) 68%
- B) 72%
- C) 80%
- D) 70%
- E) 75%

Questão 31

Uma corda de comprimento igual a 200 metros é dividida em pedaços diretamente proporcionais aos números 2, 3 e 5. Qual o comprimento do maior pedaço?

- A) 100m
- B) 30 m
- C) 20 m
- D) 80 m
- E) 75 m

Questão 32

Com 20% de desconto, paguei R\$ 120,00 por um telefone celular. Qual seria o preço se não houvesse desconto?

- A) R\$ 144,00
- B) R\$ 132,00
- C) R\$ 150,00
- D) R\$ 140,00
- E) R\$ 135,00

Questão 33

Cinco pintores realizaram um trabalho em 45 dias. Em quantos dias, 9 pintores, nas mesmas condições, podem realizar esse serviço?

- A) 30
- B) 35
- C) 15
- D) 25
- E) 10

Leia as informações seguintes e responda as questões 34, 35 e 36.

A distância entre duas cidades A e B é de 780km. Um trem com velocidade constante percorre em 3 horas 180km.

Questão 34

Quanto tempo levará o trem para percorrer os quilômetros restantes?

- A) 12 horas.
- B) 10 horas.
- C) 15 horas.
- D) 8 horas.
- E) 11 horas.

Questão 35

Qual o tempo total de duração da viagem?

- A) 15 horas.
- B) 16 horas.
- C) 13 horas.
- D) 18 horas.
- E) 11 horas.

Questão 36

Sabendo que $velocidade = \frac{\text{espaço percorrido}}{\text{tempo}}$, marque a alternativa que contém a velocidade constante do trem:

- A) 60 Km/h
- B) 78 km/h
- C) 52 km/h
- D) 65 km/h
- E) 71 km/h

Questão 37

Se o conjunto $A = \{-5, -4, -3, -2, -1, 0, 1, 2\}$ e o conjunto $B = \{-4, -2, 0, 2, 4\}$. Quantos elementos possui o conjunto $A \cap B$?

- A) 9
- B) 8
- C) 6
- D) 5
- E) 4

Questão 38

Um reservatório tem a forma de um cubo com 3 metros de lado. Qual o volume em litros desse reservatório?

(Dado: $1\text{dm}^3 = 1$ litro)

- A) 9.000ℓ
- B) 270ℓ
- C) 27.000ℓ
- D) 2.700ℓ
- E) 900ℓ

Questão 39

Asoma de dois números é 132 e a diferença entre eles é 32. Qual é o menor número?

- A) 32
- B) 36
- C) 42
- D) 50
- E) 48

Questão 40

A bilheteria de um estádio apurou R\$ 16.200,00 no domingo vendendo 1.000 ingressos. Observe o Quadro 02, a seguir, e marque a alternativa que contém o número de estudantes que compraram ingressos:

Quadro 02

Adultos	20 reais
Estudantes	10 reais
Idosos	Grátis

- A) 580
- B) 380
- C) 420
- D) 310
- E) 450



ATUALIDADES

Questão 41

“Índios da etnia Munduruku fazem reféns, desde a última sexta-feira (21), três pesquisadores na cidade de _____, no sudeste do Pará. Segundo a polícia, as vítimas trabalham para uma empresa terceirizada da Eletrobrás. De acordo com as lideranças indígenas, a atitude foi tomada pelo fato dos pesquisadores estarem na terra deles trabalhando sem autorização no rio Tapajós.” (Fonte: Diário *On Line*, 22/06/2013). Marque a alternativa que indique a cidade em que este fato ocorreu:

- A) Santarém.
- B) Jacareacanga.
- C) Marabá.
- D) Altamira.
- E) Terra Santa.

Questão 42

“O prefeito de _____ foi afastado do cargo por 90 dias, segundo determinação do juiz da comarca de Soure, no arquipélago do Marajó. Ele é acusado de mandar moradores capturarem cães do município para extermínio.” (Fonte: Diário *On Line*, 21/06/2013). Em qual município isso ocorreu?

- A) Cachoeira do Arari.
- B) Soure.
- C) Salvaterra.
- D) Cachoeira do Piriá.
- E) Santa Cruz do Arari.

Questão 43

“A Copa _____ é um campeonato internacional de futebol. Organizado pela FIFA, este torneio é realizado de quatro em quatro anos, (...). O torneio de 2013 está acontecendo no Brasil. Os jogos de 2013 ocorrerão entre os dias 15 de junho (jogo de abertura) e 30 de junho (partida final).” (Fonte: Disponível em: <http://www.suapesquisa.com>. Acesso em: 23/06/2013). A reportagem faz referência à Copa:

- A) das Américas.
- B) das Confederações.
- C) do Mundo.
- D) da Europa.
- E) do Brasil.

Questão 44

“Apresentado pelo professor Felipe Aquino e com a participação do jornalista e assessor de imprensa da Canção Nova, Osvaldo Luiz, a programação reflete sobre a Nota da CNBB (Conferência Nacional dos Bispos do Brasil) sobre o assunto. Para o professor, agora é tempo de mudança para o país. ‘Todas as vezes que presenciei o povo sair para a rua em manifestações, mudou-se a história do Brasil’, disse. Já para o jornalista, a manifestação não ocorreu somente pelo aumento da tarifa de ônibus, mas sim por várias coisas erradas que o povo vem deixando para trás.”

Fonte: Disponível em <http://tv.cancaonova.com/mostramateria.php?id=9413>. Acesso em: 21/06/2013.

De quanto foi este aumento que desencadeou todas estas manifestações?

- A) R\$0,40.
- B) R\$0,20.
- C) R\$1,00.
- D) R\$0,10.
- E) R\$3,50.

Questão 45

"Sob presidência de _____, comissão aprova projeto da 'cura gay'. Proposta suspende trecho de resolução que proíbe profissionais de tratarem homossexualidade como doença." (Fonte: Portal de notícias de O Estado de São Paulo, 18/06/2013). A Comissão de Direitos Humanos da Câmara que aprovou este projeto é presidida por:

- A) Marco Feliciano.
- B) Renan Calheiros.
- C) ACM Neto.
- D) Haddad.
- E) Luis Roberto Barroso.



LEGISLAÇÃO

Questão 46

Durante o estágio experimental será apurada a conveniência ou não de sua confirmação no cargo, mediante verificação, dentre outras qualidades e aptidões pessoais, dos seguintes requisitos:

- I- idoneidade moral;
- II- disciplina;
- III- assiduidade;
- IV- impontualidade;
- V- dedicação ao serviço;
- VI- eficiência.

Após a leitura dos itens anteriores, marque a alternativa correta.

- A) Apenas os itens I, II, III, V e VI estão corretos.
- B) Apenas os itens II, III e IV estão errados.
- C) Apenas os itens IV e V estão errados.
- D) Apenas os itens IV, V e VI estão corretos.
- E) Apenas os itens I, II e III estão errados.

Questão 47

Concurso público é o realizado com o objetivo de selecionar candidatos para o provimento de cargos iniciais de provimento:

- A) comissionado.
- B) temporário.
- C) efetivo.
- D) integral.
- E) parcial.

Questão 48

"Somente com prévia autorização ou designação do _____, formalizada em ato próprio, poderá o funcionário afastar-se do exercício do cargo, em objeto de estudo ou missão especial." Marque a alternativa que preencha corretamente o texto legal do art. 35:

- A) Chefe do Setor ou Secretário Municipal.
- B) Prefeito ou Presidente da Câmara Municipal.
- C) Prefeito ou Secretário Municipal.
- D) Presidente da República ou Prefeito.
- E) Prefeito ou Ministro.

Questão 49

O acesso é a passagem do funcionário estável a uma posição que lhe assegure maior:

- A) período de férias.
- B) vencimento base.
- C) tempo de gratificação.
- D) aposentadoria.
- E) classe hierárquica de comando.

Questão 50

O vencimento ou remuneração, atribuídos ao funcionário, não poderão ser objeto de, exceto:

- A) arresto.
- B) sequestro.
- C) prestação de alimentos.
- D) penhora.
- E) desconto.

