

- De acordo com o comando a que cada um dos itens de **1 a 120** se refira, marque, na **folha de respostas**, para cada item: o campo designado com o código **C**, caso julgue o item **CERTO**; ou o campo designado com o código **E**, caso julgue o item **ERRADO**. A ausência de marcação ou a marcação de ambos os campos não serão apenadas, ou seja, não receberão pontuação negativa. Para as devidas marcações, use a **folha de respostas**, único documento válido para a correção das suas provas.
- Nos itens que avaliam **Noções de Informática**, a menos que seja explicitamente informado o contrário, considere que: todos os programas mencionados estão em configuração-padrão, em português; o *mouse* está configurado para pessoas destros; expressões como **clicar**, **clique simples** e **clique duplo** referem-se a cliques com o botão esquerdo do *mouse*; **teclar** corresponde à operação de pressionar uma tecla e, rapidamente, liberá-la, acionando-a apenas uma vez. Considere também que não há restrições de proteção, de funcionamento e de uso em relação aos programas, arquivos, diretórios, recursos e equipamentos mencionados.

CONHECIMENTOS BÁSICOS

1 Na esteira da leitura do mundo pela palavra, vemos
emergir uma tecnologia de linguagem cujo espaço de
apreensão de sentido não é apenas composto por palavras,
4 mas, junto com elas, encontramos sons, gráficos e diagramas,
todos lançados sobre uma mesma superfície perceptual,
amalgamados uns com os outros, formando um todo
7 significativo e de onde sentidos são complexamente
disponibilizados aos navegantes do oceano digital. É assim
o hipertexto. Com ele, ler o mundo tornou-se virtualmente
10 possível, haja vista que sua natureza imaterial o faz ubíquo
por permitir que seja acessado em qualquer parte do planeta,
a qualquer hora do dia e por mais de um leitor
13 simultaneamente. O hipertexto concretiza a possibilidade
de tornar seu usuário um leitor inserido nas principais
discussões em curso no mundo ou, se preferir, fazê-lo
16 adquirir apenas uma visão geral das grandes questões do ser
humano na atualidade. Certamente, o hipertexto exige do seu
usuário muito mais que a mera decodificação das palavras
19 que flutuam sobre a realidade imediata.

Antonio Carlos Xavier. *Leitura, texto e hipertexto*. In:
L. A. Marcuschi e A. C. Xavier (Orgs.). *Hipertexto e
gêneros digitais*, p. 171-2 (com adaptações).

A partir do texto acima, julgue os itens de **1 a 8**.

- 1 A idéia expressa por “uma tecnologia de linguagem” (ℓ.2) é retomada, no desenvolvimento do texto, por “hipertexto” (ℓ.9), “ele” (ℓ.9) e “o” (ℓ.10).
- 2 Preservam-se as relações semânticas e a correção gramatical do texto bem como tornam-se mais claras as relações entre as palavras “tecnologia” (ℓ.2) e “espaço” (ℓ.2), ao se substituir o pronome “cujo” por **de que o**.
- 3 Preservam-se a correção gramatical do texto e as relações semânticas entre as expressões “sentido” (ℓ.3) e “superfície perceptual” (ℓ.5), ao se retirar a preposição do termo “de onde” (ℓ.7).
- 4 Na linha 10, a flexão de feminino em “haja vista” deve-se à concordância com a palavra feminina “natureza”.
- 5 O trecho iniciado pela preposição “por” (ℓ.11) fornece explicações para a qualidade de ubiqüidade do hipertexto, mencionada na oração que o antecede.

- 6 O uso da conjunção “ou” (ℓ.15) mostra que, no texto, estar “inserido nas principais discussões em curso no mundo” (ℓ.14-15) ou “adquirir apenas uma visão geral das grandes questões do ser humano na atualidade” (ℓ.16-17) devem ser interpretadas como duas maneiras diferentes de se expressar lingüisticamente a mesma ação.
- 7 Seria mantida a correção gramatical caso o elemento **do** fosse inserido entre “mais” e “que”, na linha 18.
- 8 Depreende-se da argumentação do texto que a razão de a leitura do hipertexto ir além da “mera decodificação das palavras” (ℓ.18) é ser ele composto também por um amálgama de “sons, gráficos e diagramas” (ℓ.4).

1 Até José Saramago abriu um *blog*. Até o Prêmio
Nobel de Literatura. O celebrado escritor, que completou
86 anos em novembro, intensifica sua aproximação com
4 o público. Caiu a última trincheira de resistência contra
a ferramenta. O autor de **Ensaio sobre a Cegueira** e
O Evangelho Segundo Jesus Cristo decidiu criar “um
7 espaço para comentários, reflexões, simples opiniões sobre
isto ou aquilo, o que vier a talhe de foice”. Se antes os
blogueiros tomaram as estantes e livrarias, em uma invasão
10 organizada dos *posts* para as páginas, os escritores
descobriram que estavam perdendo espaço e procuraram
recuperar o tempo perdido. Sucedendo o movimento da rede
13 aos livros, a trajetória agora é dos livros para a rede.

O *blog* perdeu seu estigma de catarse e escrita
sentimental para adquirir o *status* de uma janela fundamental
16 para a comunicação com os leitores. São muitos os
ficcionistas que estão adquirindo sítios e realizando uma
verdadeira migração digital. A facilidade de *postar*, o
desembarço de abrir uma página pessoal e a necessidade de
19 prolongar reflexões sobre a literatura dobraram os mais
empedernidos discípulos do papel e da caneta.

Revista da Cultura, out./2008, p. 24 (com adaptações).

Tomando por base o texto acima, julgue os itens de **9 a 15**.

- 9 Fazendo-se os devidos ajustes nas iniciais maiúsculas, é possível omitir a primeira ocorrência de “Até” (ℓ.1), sem prejudicar a correção gramatical e a coerência textual; no entanto, a segunda ocorrência deve ser mantida para que sejam preservadas a correção gramatical e a coerência na argumentação do texto.
- 10 Depreende-se da argumentação que o termo “ferramenta” (ℓ.5) está empregado como um outro nome para designar “*blog*” (ℓ.1).

- 11 Subentende-se do desenvolvimento das idéias do texto que o trecho entre aspas, nas linhas de 6 a 8, é uma citação de palavras de José Saramago.
- 12 Preserva-se a correção gramatical ao se reescrever a expressão ‘a talhe de foice’ (l.8) com crase: à talhe de foice.
- 13 O desenvolvimento das idéias do texto mostra que, se a condição expressa pela oração iniciada por “Se” (l.8) não se tivesse realizado, os escritores não procurariam “recuperar o tempo perdido” (l.12).
- 14 A inserção da preposição **a** no complemento de “Sucedendo” (l.12), escrevendo-se **ao movimento**, preserva a coerência da argumentação e atende às regras da norma culta da língua portuguesa.
- 15 A relação entre as idéias das duas últimas orações do texto permite que se substitua o ponto final após a palavra “digital” (l.18) pelo sinal de dois-pontos, desde que seja feita a substituição de “A” por **a**.

Declaração sobre o uso do progresso científico e tecnológico no interesse da paz e em benefício da humanidade

Proclamada pela Assembléia Geral das Nações Unidas em 10 de novembro de 1975 — Resolução n.º 3.384 (XXX).

1 A Assembléia Geral,

Tomando nota de que o progresso científico e tecnológico converteu-se em um dos fatores mais importantes do desenvolvimento da sociedade humana,

Levando em consideração que o progresso científico e tecnológico, ao mesmo tempo que cria possibilidades cada vez maiores de melhorar as condições de vida dos povos e das nações, pode, em certos casos, dar lugar a problemas sociais, assim como ameaçar os direitos humanos e as liberdades fundamentais do indivíduo,

(...)

Proclama solenemente que:

Todos os Estados promoverão a cooperação internacional com o objetivo de garantir que os resultados do progresso científico e tecnológico sejam usados para o fortalecimento da paz e da segurança internacionais, a liberdade e a independência, assim como para atingir o desenvolvimento econômico e social dos povos e tornar efetivos os direitos e liberdades humanas de acordo com a Carta das Nações Unidas.

(...)

Internet: <www.mp.ma.gov.br>.

A partir do fragmento de documento apresentado, julgue os itens de 16 a 20.

16 Como documento oficial, a declaração acima deve ser precedida de identificação e data no seguinte padrão:

AGNU – Declaração n.º 3.384/1975

Nova York, 10 de novembro de 1975.

- 17 O uso das letras iniciais maiúsculas em “Tomando” (l.2) e “Levando” (l.5) indica que as vírgulas depois de “Geral” (l.1) e “humana” (l.4) devem ser substituídas por ponto, para se atender às regras gramaticais da norma culta usada em documentos oficiais.
- 18 Na linha 16, justifica-se a flexão de plural em “internacionais” pela concordância desse adjetivo tanto com “paz” quanto com “segurança”; se a flexão fosse de singular, as regras gramaticais seriam atendidas, mas a clareza do documento seria prejudicada.
- 19 Por causa das ocorrências da conjunção “e” (l.15-16) no mesmo período sintático, o conectivo “assim como” (l.17) tem a dupla função de marcar a relação de adição entre as orações e deixar clara a hierarquia das relações semânticas.
- 20 Diferentemente do documento declaração, o fecho de um documento no padrão edital deve seguir o seguinte modelo.

Brasília, 7 de dezembro de 2008.

Fulano da Silva Tal

Fulano da Silva Tal

Diretor-presidente da BRBRBR

- 1 No século XVIII, o Parlamento Inglês ofereceu uma pequena fortuna a quem inventasse uma forma que permitisse aos marinheiros calcular a longitude em alto-mar. Quem
4 levou o prêmio foi John Harrison, um desconhecido relojoeiro do interior da Inglaterra. Ele criou o primeiro cronômetro marítimo, instrumento que revolucionou a
7 navegação. Hoje, uma dezena de sítios na Internet usa o mesmo princípio em benefício da inovação no mundo dos negócios. Na maioria desses sítios, as empresas descrevem
10 anonimamente um problema que não conseguem resolver e recebem propostas de solução de cientistas, técnicos e outros interessados, muitos sem nenhuma formação acadêmica.

Veja, 20/8/2008 (com adaptações).

Julgue os seguintes itens, a respeito das estruturas lingüísticas do texto acima.

- 21 Preservam-se a coerência textual e a correção gramatical ao se substituir “a quem” (l.2) por **à pessoa que**.
- 22 O emprego do modo subjuntivo em “inventasse” (l.2) e “permitisse” (l.2) demonstra ser o invento apenas uma hipótese, que as informações das orações seguintes, apoiadas no indicativo em “levou” (l.4) e “criou” (l.5), mostram como realizada.
- 23 O desenvolvimento das idéias do texto permite que se substitua “uma dezena de” (l.7) pela expressão **cerca de dez**, sem prejuízo para a correção gramatical e a coerência entre os argumentos.
- 24 A expressão “um desconhecido relojoeiro do interior da Inglaterra” (l.4-5) e o pronome “Ele” (l.5) retomam o referente “John Harrison” (l.4).
- 25 A argumentação do texto mostra que a expressão “o mesmo princípio” (l.8) refere-se ao princípio científico de funcionamento do cronômetro marítimo.

1 Era uma vez uma rotina em que criança bem-criada e educada era aquela que tinha horário para tudo e não misturava as coisas: brincar era brincar, estudar era estudar.

4 Pobres dos pais que ainda alimentam alguma ilusão de ritmo seqüencial. Cercadas de aparelhos eletrônicos que dominam desde cedo, as crianças da era dos estímulos constantes e

7 simultâneos são capazes de executar três, quatro, cinco atividades ao mesmo tempo — e prestar pelo menos alguma atenção a todas elas. São crianças multitarefa e encaram isso

10 com total naturalidade.

Mas a rapidez e a multiplicidade podem ter certo custo. Para quem tem pressa em determinar as conseqüências

13 futuras das atividades simultâneas, a ciência ainda responde em ritmo de passado. Vamos ter de esperar uma ou duas gerações para saber se a multitarefa será predominantemente

16 positiva ou negativa na fase adulta.

Veja, 6/8/2008 (com adaptações).

A partir do texto acima, julgue os itens que se seguem.

- 26 Preservam-se a coerência da argumentação e o atendimento às regras gramaticais ao se retirar a preposição “em” do termo “em que” (ℓ.1).
- 27 Na linha 3, o sinal de dois-pontos depois de “coisas” tem a função de introduzir uma explicação, ou justificativa, para a idéia expressa nas orações anteriores. Essa função deixaria de ser marcada pela pontuação caso esse sinal fosse substituído pelo ponto — com o correspondente ajuste na letra inicial de “brincar” —, mas a coerência e a correção gramatical do texto seriam preservadas.
- 28 O desenvolvimento das idéias do texto permite inferir que a expressão “ritmo seqüencial” (ℓ.4-5) é usada para caracterizar o procedimento de **não misturar as atividades**.
- 29 A organização dos argumentos mostra que o conectivo “e” em “e encaram” (ℓ.9) tem o valor de **mas** e por essa conjunção poderia ser substituído, sem prejuízo da coerência ou da correção do texto.
- 30 O emprego da primeira pessoa do plural em “Vamos ter” (ℓ.14) indica que tanto o autor quanto o leitor do texto não estão incluídos entre o conjunto de pessoas com “pressa em determinar as conseqüências futuras das atividades simultâneas” (ℓ.12-13).

Uma proposição é uma sentença que pode ser julgada verdadeira (V) ou falsa (F). As proposições são normalmente representadas pelas letras maiúsculas A, B, C etc. A partir de proposições dadas, podem-se construir novas proposições compostas, mediante o emprego de símbolos lógicos chamados conectivos: “e”, indicado pelo símbolo lógico \wedge , e “ou”, indicado pelo símbolo lógico \vee . Usa-se o modificador “não”, representado pelo símbolo lógico \neg , para produzir a negação de uma proposição; pode-se, também, construir novas proposições mediante o uso do condicional “se A então B”, representado por $A \rightarrow B$.

O julgamento de uma proposição lógica composta depende do julgamento que se faz de suas proposições componentes. Considerando os possíveis julgamentos V ou F das proposições A e B, tem-se a seguinte tabela-verdade para algumas proposições compostas.

A	B	$A \wedge B$	$A \vee B$	$\neg A$	$A \rightarrow B$
V	V	V	V	F	V
V	F	F	V		F
F	V	F	V	V	V
F	F	F	F		V

Considerando-se a proposição A, formada a partir das proposições B, C etc. mediante o emprego de conectivos (\wedge ou \vee), ou de modificador (\neg) ou de condicional (\rightarrow), diz-se que A é uma tautologia quando A tem valor lógico V, independentemente dos valores lógicos de B, C etc. e diz-se que A é uma contradição quando A tem valor lógico F, independentemente dos valores lógicos de B, C etc. Uma proposição A é equivalente a uma proposição B quando A e B têm as tabelas-verdade iguais, isto é, A e B têm sempre o mesmo valor lógico.

Com base nas informações acima, julgue os itens a seguir.

- 31 A proposição $(A \rightarrow B) \rightarrow (\neg A \vee B)$ é uma tautologia.
- 32 Em relação às proposições A: $\sqrt{16} = \pm 4$ e B: 9 é par, a proposição composta $A \rightarrow B$ é uma contradição.
- 33 A proposição $A \rightarrow B$ é equivalente à proposição $\neg B \rightarrow \neg A$.

RASCUNHO

Dois *software*, S1 e S2, são utilizados diariamente por participantes de diferentes grupos de trabalho em certa empresa. Um desses grupos de trabalho está interessado na fabricação de dois produtos, P1 e P2; a fabricação de cada unidade de P1 requer 2 horas de utilização de S1 e 3 horas de utilização de S2, enquanto a fabricação de cada unidade de P2 requer 3 horas de utilização de S1 e 4 horas de utilização de S2. Foi decidido que, por motivos estratégicos, o *software* S1 estará disponível a esse grupo de trabalho por 12 horas por dia, enquanto o *software* S2 estará disponível por 9 horas diárias a esse grupo de trabalho. Os pesquisadores desse grupo desejam saber quantas unidades de P1 e quantas unidades de P2 conseguem produzir nessas condições diariamente e observaram que uma maneira de saber isso seria resolver o sistema de equações lineares
$$\begin{cases} 2x + 3y = 12 \\ 3x + 4y = 9 \end{cases}.$$

Com base nas informações acima, julgue os itens a seguir.

- 34** A solução do sistema de equações lineares
$$\begin{cases} 2x + 3y = 12 \\ 3x + 4y = 9 \end{cases}$$
 fornece, de fato, uma possível quantidade a ser produzida de P1 e P2.
- 35** Nas condições apresentadas, não é possível produzir mais que três unidades diárias do produto P1.

Uma empresa de consultoria realizou um levantamento estatístico para obter informações acerca do tempo (T) gasto por empregados de empresas brasileiras na Internet em sítios pessoais durante suas semanas de trabalho. Com base em uma amostra aleatória de 900 empregados de empresas brasileiras com um regime de trabalho de 44 h semanais, essa empresa de consultoria concluiu que cada empregado gasta, em média, 6 h semanais na Internet em sítios pessoais durante uma semana de trabalho; 50% dos empregados gastam 5 h semanais ou mais na Internet em sítios pessoais durante uma semana de trabalho; e o desvio padrão do tempo gasto na Internet em sítios pessoais durante o regime de trabalho é igual a 4 h semanais por empregado.

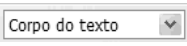
Com base nas informações da situação hipotética acima descrita, julgue os itens a seguir.

- 36** Os empregados observados no levantamento gastaram, em média, mais de 12% do regime de trabalho semanal na Internet em sítios pessoais.
- 37** Os tempos gastos na Internet em sítios pessoais durante o regime de trabalho pelos empregados observados no levantamento foram superiores a 2 h e inferiores a 10 h semanais.
- 38** A mediana da distribuição dos tempos gastos na Internet é superior a 5,5 h/semana.
- 39** Considerando que o tempo útil semanal do regime de trabalho seja a diferença $U = 44 - T$ (em horas), o desvio padrão de U será inferior a 5 h.
- 40** Considerando que a probabilidade de um empregado gastar mais do que 8 h semanais na Internet em sítios pessoais durante seu regime de trabalho seja igual a 0,2 e considerando, também, que X seja uma variável aleatória que represente o número de casos de pessoas que gastam mais do que 8 h/semana na Internet em sítios pessoais durante seus regimes de trabalho na amostra aleatória de 900 empregados, o desvio padrão de X será igual ou inferior a 12.


Com relação a conceitos básicos de informática e sistema operacional Linux, julgue os itens a seguir.


- 41 Uma desvantagem da utilização do *notebook* é a ausência de porta USB, que permite conexão rápida com a Internet.
- 42 O Linux, por ser um *software* livre, apresenta diversas vantagens em relação a outros sistemas operacionais, mas tem a desvantagem de não permitir a conexão de *pendrive* ao computador.
- 43 O Linux é um sistema operacional multitarefa que pode ser instalado em servidores ou em computadores pessoais.
- 44 Os *notebooks* atuais possuem funcionalidade de *mouse* sem fio, bastando que o usuário aproxime o *mouse* do equipamento para o reconhecimento automático, sem necessidade de outros dispositivos.

Considerando a figura ao lado, que ilustra uma janela do BrOffice, julgue os itens subseqüentes.


- 45 Para se alterar o estilo da fonte do parágrafo selecionado, é suficiente escolher o estilo desejado no campo .



- 46 Ao se clicar o botão , a calculadora padrão do BrOffice é acionada.

- 47 No trecho , situado no canto direito da régua, arrastando-se e soltando o triângulo, é possível alterar o recuo do parágrafo selecionado.

Considerando a figura ao lado, que apresenta uma página da Web acessada pelo Internet Explorer 6, julgue os itens que se seguem.

- 48 Ao se clicar a ferramenta , uma nova página do SERPRO será apresentada.
- 49 Um usuário pode fazer um acesso seguro à *intranet* do SERPRO usando a tecnologia VPN, que cria um túnel virtual com o computador do usuário, usando criptografia.



- 50 A ferramenta  permite cadastrar e organizar sítios e contatos favoritos.

CONHECIMENTOS ESPECÍFICOS

Uma loja oferece a seus clientes duas opções de pagamento na compra de um bem cujo preço é R\$ 1.210,00:

- I à vista com 10% de desconto;
- II em duas prestações mensais iguais e consecutivas, sem desconto, a primeira paga no ato da compra.

Com base nessas informações, julgue os itens subsequentes.

- 51 À vista o bem terá um preço inferior a R\$ 1.000,00.
- 52 Na segunda opção de pagamento, a loja tem embutida uma taxa mensal de juros superior a 20%.

Considerando que a função $L = -10.000(x^2 - 10x + 9)$ represente o lucro ou o prejuízo mensal, em reais, obtido por uma fábrica, na venda de x milhares de seu produto, julgue os itens a seguir.

- 53 Se o lucro mensal da fábrica for de R\$ 120.000,00, então ela terá vendido menos de 2.500 unidades de seu produto.
- 54 A fábrica não obterá um lucro mensal no valor de R\$ 180.000,00.
- 55 O lucro mensal máximo que a fábrica poderá obter é superior a R\$ 150.000,00.

A câmara municipal de determinado município é composta por 18 vereadores. No início de 2008, a bancada de apoio ao prefeito, composta pelos partidos A e B, tinha 10 vereadores. Na eleição de 2008, o prefeito foi reeleito, o partido A ganhou uma cadeira a mais na câmara, o partido B perdeu duas e teve sua bancada reduzida à metade. Considerando essas informações e sabendo que, após as eleições de 2008, os partidos que apóiam e os que não apóiam o prefeito continuam os mesmos, julgue os itens que se seguem.

- 56 Após as eleições de 2008, os partidos que apóiam e os que não apóiam o prefeito ficaram com o mesmo número de vereadores.
- 57 No início de 2008, o número de vereadores da bancada do partido A era inferior a 5.
- 58 Após as eleições de 2008, a bancada do partido B ficou com 3 vereadores.

Sabendo que uma dívida foi paga com juros de 8% ao mês, em 3 meses, pelo sistema de amortização constante (SAC) e que a amortização foi de R\$ 5.000,00, julgue os itens seguintes.

- 59 A dívida era de R\$ 15.000,00.
- 60 Os juros pagos na primeira prestação foram de R\$ 1.200,00.
- 61 A última prestação paga foi de R\$ 5.200,00.

Considerando que um televisor, cujo preço à vista é R\$ 4.640,00, foi pago em 3 prestações mensais, iguais e consecutivas, com juros compostos de 12% ao mês, e tomando 0,80 e 0,71 como os valores aproximados de $1,12^{-2}$ e $1,12^{-3}$, respectivamente, julgue os itens que se seguem.

- 62 Se os pagamentos tiverem sido *postecipados*, então o valor da prestação foi inferior a R\$ 1.850,00.
- 63 Se os pagamentos tiverem sido *antecipados*, o valor da prestação foi superior a R\$ 1.700,00.

Julgue os itens a seguir, acerca das taxas de juros.

- 64 Tomando 1,05 como valor aproximado de $1,8^{\frac{1}{12}}$, então a taxa efetiva de 80% ao ano corresponde a uma taxa nominal anual de 64% com capitalização mensal.
- 65 Considerando que, em certo período, uma instituição financeira pagou taxas de juros reais que, somados à taxa de inflação do período, deram um total de 50%, se um capital de R\$ 1.000,00 aplicado nessa instituição, nesse período, resultou em um montante de R\$ 1.560,00 e se, nesse período, a taxa de inflação foi inferior à taxa real de juros pagos pela instituição, então a taxa de inflação do período foi superior a 18%.

RASCUNHO

Julgue os itens subseqüentes, acerca do conceito, da função e das características da perícia como prova judicial.

- 66** A perícia é a prova destinada a levar ao juiz elementos instrutórios sobre algum fato que dependa de conhecimentos especiais de ordem técnica ou científica.
- 67** Quando o juiz, de ofício ou a requerimento da parte, inspeciona pessoas ou coisas a fim de esclarecer fato que interesse à decisão do processo judicial, está realizando também uma perícia judicial.
- 68** A prova pericial, como espécie do gênero prova judicial, caracteriza-se por sua submissão ao princípio da persuasão racional, o que leva à vedação de que o juiz indefira a realização de uma perícia, sob o argumento de sua desnecessidade.
- 69** A prova pericial só é cabível quando o fato a ser provado exigir conhecimentos especiais de natureza técnica ou científica, sendo imprópria para a demonstração da existência de fatos que podem ser conhecidos e descritos pelas pessoas por meio de sua experiência social ordinária.
- 70** A perícia única é a regra do sistema processual; caso seja complexa, isto é, abranja mais de uma área de conhecimento especializado, o juiz poderá nomear mais de um perito para a tarefa.
- 71** O juiz não fica vinculado aos fundamentos e à conclusão à que chegou o perito no laudo, tampouco às opiniões dos assistentes técnicos das partes, mas, em qualquer caso, deve fundamentar o motivo do acolhimento ou não-acolhimento do laudo e das críticas dos assistentes técnicos.

Com relação aos quesitos impertinentes e à impugnação da prova pericial, julgue os itens a seguir.

- 72** Não cabe ao juiz fazer avaliação acerca da impertinência de quesitos.
- 73** O perito pode escusar-se ou ser recusado por impedimento ou suspeição, mas somente a suspeição dá ensejo ao julgamento da impugnação, ocasião em que o juiz nomeará novo perito.

Acerca dos peritos e dos assistentes técnicos, julgue os itens que se seguem.

- 74** O perito e os assistentes técnicos devem assinar, em dia, hora e lugar designados pelo juiz, o termo de compromisso de cumprimento do encargo que lhes foi atribuído.
- 75** Os assistentes técnicos são auxiliares das partes do processo e não do perito.
- 76** Os assistentes técnicos, assim como os peritos, estão sujeitos à recusa das partes, em virtude de impedimentos e suspeições.

Acerca dos prazos processuais relacionados às perícias, julgue os itens a seguir.

- 77** Nos processos judiciais, deve ser fixado pelo juiz, concomitantemente à nomeação do perito, o prazo para a entrega de laudo pericial por parte deste.
- 78** O assistente técnico deve ser indicado no prazo de cinco dias contados da intimação do despacho de nomeação do perito; no mesmo prazo, devem ser apresentados os quesitos. O não-cumprimento dos prazos mencionados gera a perda do direito de nomeação de assistentes técnicos e de apresentação dos quesitos.

A respeito dos requisitos pessoais e profissionais para o exercício do cargo de perito, julgue os itens subseqüentes.

- 79** A função de perito apenas poderá ser desempenhada por profissional de nível universitário, devidamente inscrito no órgão de classe correlato; nas localidades em que não houver profissional qualificado, o juiz deverá solicitar ao juiz da comarca mais próxima em que exista o profissional procurado a nomeação do perito.
- 80** Os peritos comprovarão sua especialidade na matéria acerca da qual deverão opinar, mediante certidão do órgão profissional em que estiverem inscritos.

Acerca de planejamento e estratégia da perícia, julgue os itens seguintes.

- 81** Quando o exame tiver por objeto autenticidade de letra e firma, o perito poderá requisitar, para efeito de comparação, documentos existentes em repartições públicas; na falta destes, poderá pedir diretamente à pessoa, a quem se atribuir a autoria do documento, que lance em folha de papel, por cópia, ou sob ditado, dizeres diferentes, para fins de comparação.
- 82** Na perícia complexa, as partes podem indicar mais de um assistente técnico.
- 83** Para o desempenho de sua função, podem o perito e os assistentes técnicos utilizar-se de todos os meios necessários, inclusive, instruir o laudo com plantas, desenhos, fotografias e outras peças quaisquer.

A respeito das conseqüências do trabalho pericial, julgue os itens que se seguem.

- 84** Quando o perito, sem motivo legítimo, deixar de cumprir o encargo no prazo que lhe fora designado, o juiz comunicará a ocorrência à corporação profissional respectiva, podendo, ainda, impor multa ao perito e à corporação. Nesse caso, a multa será fixada tendo em vista o valor da causa e o possível prejuízo decorrente do atraso no processo.
- 85** O perito que, por dolo ou culpa, prestar informações inverídicas responderá pelos prejuízos que causar à parte e ficará inabilitado, por dois anos, para outras perícias, incorrendo na sanção que a lei penal estabelecer.

Acerca do contrato de trabalho, julgue os itens subseqüentes.

- 86** A idade mínima para trabalhar é aos 16 anos, salvo na condição de aprendiz, a partir dos 14 anos.
- 87** O contrato de trabalho declarado nulo não gera nenhum efeito para o empregado, já que é ilegal ou irregular.
- 88** De acordo com a Consolidação das Leis do Trabalho (CLT), o contrato de trabalho por prazo determinado deve ser fixado até o limite máximo de dois anos.
- 89** O trabalho em tempo parcial é aquele cuja duração não exceda 25 horas semanais.

Julgue os itens a seguir, relativos à extinção do contrato de trabalho.

- 90** Empregado que, reiteradamente, é flagrado dormindo em serviço comete ato motivador de dispensa por justa causa por mau procedimento.
- 91** O assédio sexual é justificativa para rescisão do contrato de trabalho por justa causa, pelo motivo da incontinência de conduta.
- 92** O descumprimento, pelo empregado, de ordens pessoais de serviço recebidas, caracteriza a indisciplina no serviço.
- 93** Na dispensa por culpa recíproca, o empregado receberá a metade dos valores referentes ao décimo terceiro salário, férias proporcionais, aviso prévio, além de 20% da indenização do fundo de garantia por tempo de serviço (FGTS) e o saldo do salário, se houver.
- 94** Ocorre a rescisão indireta com a cessação do contrato de trabalho por iniciativa do empregado, em razão de justa causa que o atingiu praticada pelo empregador.
- 95** A morte do empregador pessoa física, necessariamente, acarreta a extinção do contrato de trabalho com os empregados.
- 96** Ocorre o fato do príncipe em matéria trabalhista quando há paralisação temporária ou definitiva do trabalho da empresa por ato de autoridade pública municipal, estadual ou federal, ou pela promulgação de lei ou resolução que impossibilite a continuação da atividade.

Acerca do trabalho da mulher e de acordo com a CLT, julgue os itens que se seguem.

- 97** Existe previsão expressa na CLT, que veda o trabalho da mulher em atividades perigosas.
- 98** Em caso de aborto não criminoso, comprovado por atestado médico, a mulher terá direito a repouso remunerado por duas semanas.

No direito do trabalho, há regras que garantem a estabilidade. Acerca desse tema, julgue os itens a seguir.

- 99** Empregado eleito como suplente de cargo de dirigente sindical goza de estabilidade provisória desde o registro da candidatura até um ano após o final do mandato.
- 100** A garantia à estabilidade do membro eleito como dirigente sindical independe da comunicação, pela entidade sindical, ao empregador.
- 101** A estabilidade prevista na Constituição Federal não alcança os empregados eleitos para cargo de direção da comissão interna de prevenção de acidentes (CIPA).
- 102** Com a extinção dos juízes classistas na justiça do trabalho, foram introduzidas as comissões de conciliação prévia. Os representantes dos empregados e membros das comissões de conciliação gozam de estabilidade provisória, até um ano após o final do mandato.

Acerca das férias, julgue os itens subsequentes.

- 103** O empregado possui a opção de vender suas férias.
- 104** O período de gozo das férias deverá atender às necessidades e conveniência do empregado.
- 105** De acordo com a CLT, não se admite o fracionamento das férias aos menores de 18 e aos maiores de 50 anos de idade.
- 106** O empregado que pede demissão antes de completar doze meses de serviço não possui o direito de receber qualquer quantia a título de férias.

A respeito do FGTS, julgue os itens que se seguem.

- 107** Os empregados rurais são beneficiários do FGTS.
- 108** O depósito mensal do FGTS corresponde a 8% da remuneração paga ou devida no mês anterior ao trabalhador.
- 109** A ajuda de custo, paga pelo empregador ao empregado, integra a base de cálculo do FGTS.
- 110** É devido o recolhimento do FGTS sobre os valores pagos a título de aviso prévio, quer tenha sido o período trabalhado ou não.

A respeito do direito processual do trabalho, julgue os itens seguintes.

- 111** O recurso adesivo é compatível com o processo do trabalho, desde que a matéria nele vinculada esteja relacionada com a do recurso interposto pela parte contrária.
- 112** Na justiça do trabalho, o prazo para a oposição de embargos de declaração é de 8 dias.
- 113** No processo do trabalho, a execução corre em autos apartados.
- 114** Em processo de execução, o recurso cabível contra as decisões proferidas pelos juízes do trabalho é o agravo de petição.
- 115** O acordo pactuado pelas partes deve ser obrigatoriamente homologado pelo juiz do trabalho.
- 116** O agravo de petição deve delimitar, justificadamente, a matéria e os valores objetos da discordância. Quanto aos valores não especificados no agravo, a execução seguirá normalmente.
- 117** A ação rescisória que tiver como fundamento a violação de lei não admite o reexame de fatos e provas do processo que originou a decisão rescindenda.
- 118** A sentença normativa transitada em julgado após a sentença rescindenda é considerada documento novo, apto a impulsionar ação rescisória.
- 119** Para se impugnar decisão homologatória de adjudicação ou de arrematação, é incabível ação rescisória.
- 120** Quando decorrente da relação de trabalho, a justiça do trabalho é competente para analisar o dano moral.

