

- De acordo com o comando a que cada um dos itens a seguir se refira, marque, na **folha de respostas**, para cada item: o campo designado com o código C, caso julgue o item **CERTO**; ou o campo designado com o código E, caso julgue o item **ERRADO**. A ausência de marcação ou a marcação de ambos os campos não serão apenadas, ou seja, não receberão pontuação negativa. Para as devidas marcações, use a **folha de respostas**, único documento válido para a correção das suas respostas.
- Nos itens que avaliam conhecimentos de informática, a menos que seja explicitamente informado o contrário, considere que: todos os programas mencionados estão em configuração-padrão, em português; o *mouse* está configurado para pessoas destros; expressões como **clique**, **clique simples** e **clique duplo** referem-se a cliques com o botão esquerdo do *mouse*; **teclar** corresponde à operação de pressionar uma tecla e, rapidamente, liberá-la, acionando-a apenas uma vez. Considere também que não há restrições de proteção, de funcionamento e de uso em relação aos programas, arquivos, diretórios, recursos e equipamentos mencionados.

## CONHECIMENTOS BÁSICOS

### Um patrimônio brasileiro

1 O Brasil é um país plurilíngue: estima-se haver mais de duzentas línguas vivas no território — e vários linguistas afirmam que esse número pode ser muito maior. Dessas línguas, cerca de 170 são indígenas (autóctones) e mais de 30 são línguas de imigração (alóctones). Tanto as línguas autóctones quanto as alóctones podem ser consideradas línguas brasileiras. Línguas 4 brasileiras são, na definição do linguista e professor da Universidade Federal de Santa Catarina (UFSC), Gilvan Müller de Oliveira, “línguas faladas por comunidades de cidadãos brasileiros, historicamente assentadas em território brasileiro, parte constitutiva da cultura brasileira, independentemente de serem línguas indígenas ou de imigração, línguas de sinais ou faladas por 7 grupos quilombolas”.

As línguas de imigração brasileiras estão presentes em diferentes regiões do país, especialmente no sul e sudeste. Em muitas cidades colonizadas por imigrantes, com destaque para as criadas a partir da década de 70 do século XIX, ainda hoje são 10 mantidos esses idiomas. O pomerano, por exemplo, é falado no Rio Grande do Sul, Santa Catarina e, principalmente, no Espírito Santo, onde alguns municípios se organizaram e formaram o Programa de Educação Escolar Pomerana (PROEPO), oferecendo, inclusive, aulas em língua pomerana nas escolas municipais. Na Serra Gaúcha e no oeste de Santa Catarina, é falado o talian, 13 originário do norte da Itália, e existem diferentes materiais publicados em talian, como obras literárias e técnicas. No Paraná, há inúmeras regiões onde se fala ucraniano, como a cidade de Prudentópolis, localizada no sudeste do estado. Além dessas línguas de imigração citadas, há inúmeras outras que ainda se mantêm em uso no país, línguas em que os governos municipais, estaduais 16 e federal começam a investir, como forma de preservar o patrimônio que representam. Um exemplo desse tipo de ação é a criação de conselhos de línguas, como já há em Blumenau – SC e em várias outras cidades brasileiras.

Em São Bento do Sul e em muitas outras cidades brasileiras, as línguas de imigração estão ameaçadas. É necessário, 19 portanto, que sejam pensadas estratégias para a manutenção dessas línguas pelas próximas gerações. No caso da cidade citada, há línguas ainda faladas por crianças, em situações diversificadas de uso, o que torna mais fáceis a manutenção e a revitalização dessas línguas. Línguas não existem sozinhas: só há línguas porque há pessoas que as falam. Assim, de certo modo, preservar essas 22 línguas é também preservar seus falantes.

*Língua Portuguesa*. São Paulo: Escala Editorial, n.º 17, 2009, p. 42-5 (com adaptações).

Com relação ao texto acima, julgue os itens a seguir.

- 1 Uma versão para o trecho “O Brasil é um país plurilíngue” (ℓ.1), aceitável no contexto em que se encontra, seria **O Brasil é um país poliglota**.
- 2 A substituição de “haver” por **existir** em “estima-se haver mais de duzentas línguas vivas no território” (ℓ.1) estaria de acordo com as exigências da língua escrita padrão.
- 3 As sequências “é falado o talian” (ℓ.12) e “onde se fala ucraniano” (ℓ.14), embora apresentem estruturas gramaticais diferentes, constituem formas de se omitir o agente de uma ação verbal.
- 4 Em “É necessário, portanto, que sejam pensadas estratégias para a manutenção dessas línguas pelas próximas gerações” (ℓ.18-19), preserva-se o sentido original do período, caso o termo sublinhado seja substituído por **contudo**.
- 5 Na linha 21, o sinal de dois-pontos introduz sequência em que se estabelece relação de oposição entre “Línguas não existem sozinhas” e “só há línguas porque há pessoas que as falam”.

## A ciência do sonho

1 “Eu acordei com uma música maravilhosa na minha  
cabeça. Fui até o piano e comecei a achar as notas. Tudo  
seguiu uma ordem lógica. Gostei muito da melodia, mas,  
4 como havia sonhado com ela, não podia acreditar que tinha  
escrito aquilo. Foi a coisa mais mágica do mundo.”

É dessa maneira que Paul McCartney explica a  
7 criação de Yesterday, 45 anos atrás. A canção até hoje figura  
no Guinness, o livro dos records, como a música que  
ganhou o maior número de versões *cover* na história, por  
10 volta de 3 mil.

Deixando um pouco de lado a necessária dose de  
genialidade para a composição de um clássico dessa  
13 magnitude, sobram questionamentos sobre o que aconteceu  
com o sonho do Beatle: uma obra do acaso, uma  
predisposição genética ou uma técnica que pode ser  
16 decifrada e difundida? E hoje, como nunca antes, os  
cientistas se debruçam sobre os meandros do que acontece  
e, quem sabe, ajudar algum compositor dorminhoco a  
19 escrever uma nova Yesterday.

É fato que os sonhos sempre intrigaram e foram  
22 objeto de estudo, mas o que está acontecendo agora é que  
eles estão sendo levados mais a sério por neurologistas,  
psicanalistas e biólogos. Enquanto a biologia procura  
25 explicar quais são as estruturas cerebrais envolvidas, a  
psicanálise se põe a investigar seu conteúdo. Da união dessas  
duas disciplinas nasceu a neuropsicanálise, uma tentativa de  
28 entender os aspectos físicos e psíquicos do sonho.

Os estudos que vêm sendo publicados desde a  
virada do milênio e os novos livros programados para chegar  
às prateleiras neste ano reabilitam os pensamentos de Freud.  
Para ele, as imagens durante o sono simulavam nossos  
desejos e nos protegiam contra a dor e os traumas passados.  
34 Essas pesquisas também defendem a utilidade dos sonhos em  
ajudar a resolver problemas do cotidiano e organizar ideias,  
como aconteceu com McCartney.

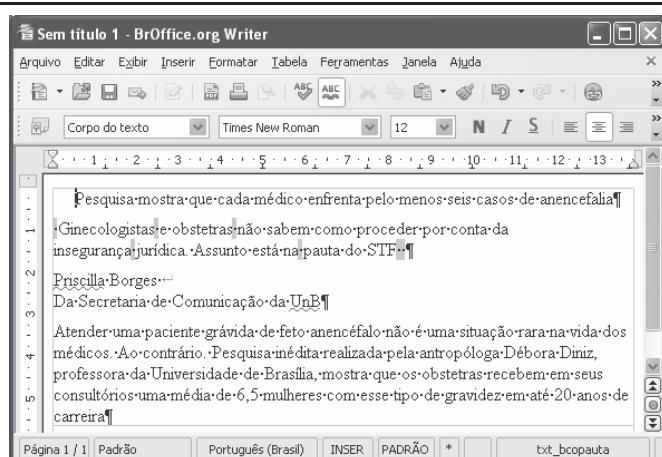
Galileu. São Paulo: Globo, n.º 214, maio/2009, p. 37 (com adaptações).

A respeito do texto acima, julgue os itens de 6 a 10.

- 6 A palavra sublinhada em ‘Eu acordei com uma música maravilhosa na minha cabeça’ (ℓ.1-2), empregada no trecho, em sentido denotativo, admite os seguintes empregos conotativos: Ele é o cabeça do bando; Aquela menina tem um papo cabeça.
- 7 A forma verbal sublinhada em “que tinha escrito aquilo” (ℓ.4-5) pode ser substituída por **tivesse**, sem prejuízo para o sentido ou para a correção gramatical do texto.
- 8 Em “ajudar algum compositor dorminhoco a escrever uma nova Yesterday” (ℓ.19-20), a expressão sublinhada se refere a Paul McCartney.


9 Em “Enquanto a biologia procura explicar (...) a psicanálise se põe a investigar seu conteúdo” (ℓ.24-26), o termo “Enquanto” expressa sentido de proporcionalidade, podendo, por esse motivo, ser substituído por **À medida que**.


10 Emprega-se o acento grave em “chegar às prateleiras” (ℓ.30-31) porque o verbo “chegar”, de acordo com a norma padrão, exige preposição **a**, que, nesse caso, craseia-se com o artigo, no plural, **as**.



Considerando a figura acima, que ilustra uma janela do *software* BrOffice Writer 3.0, contendo um documento em processo de edição, julgue os itens a seguir.

11 Na situação da janela mostrada, é correto afirmar que a palavra “insegurança” será transferida para uma linha acima se for realizado o seguinte procedimento: clicar logo após o

trecho “por conta da”; pressionar a tecla .

12 Por meio de funcionalidade disponibilizada ao se clicar o  botão, é possível exportar o documento em edição para o Windows Explorer.

Com relação aos sistemas Windows XP e Linux e acerca de Internet e *intranet*, julgue os itens subsequentes.

13 *Intranet* pode ser considerada uma rede corporativa que utiliza a tecnologia da Internet.

14 *Hiperlink* é uma funcionalidade que permite a ligação entre páginas ou conteúdo de um sítio na Internet.

Com relação às configurações do Windows XP Professional, julgue os itens que se seguem.

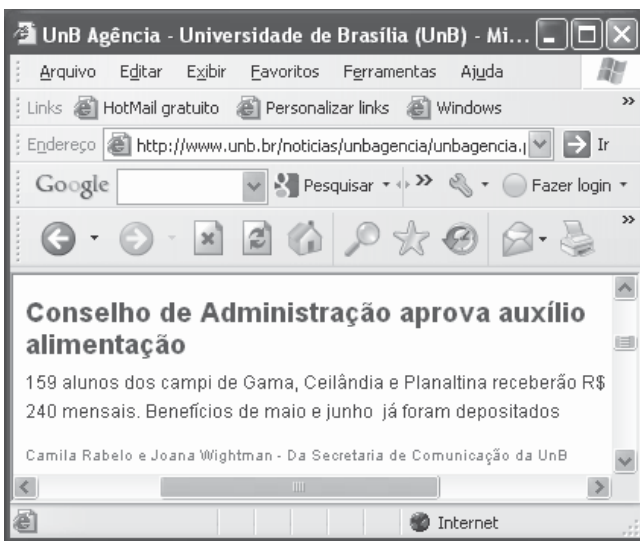
15 Por padrão, a rede TCP/IP está desabilitada nessa versão do sistema operacional Windows.

16 Por meio do Painel de controle, é possível acessar as ferramentas administrativas e definir várias configurações de serviços do sistema operacional.


	A	B	C	D
1	Departamento	Total Vagas	Cotas	Vagas Normais
2	Matemática	30		
3	Física	20		
4	Engenharia	15		
5	Medicina	10		
6	Média			

Considerando a figura acima, que ilustra uma janela do *software* Excel 2003, contendo uma planilha com informações acerca de vagas em quatro departamentos de uma universidade, julgue os próximos itens.

- 17 Se a quantidade de vagas pelo sistema de cotas, em um departamento, for igual a 25% das vagas desse departamento, nesse caso, a quantidade de vagas pelo sistema de cotas para o departamento de matemática pode ser calculada utilizando-se a fórmula =25%\*B2.
- 18 Se a célula B6 for preenchida corretamente com o número médio das vagas, usando-se uma fórmula apropriada, nesse caso, o valor correspondente não poderá ser transferido da planilha para um documento Word.



Considerando a figura acima, que ilustra uma janela do Internet Explorer 6.0 (IE6) com uma página *web*, julgue os itens subsequentes acerca de Internet.

- 19 Para copiar o texto da página *web* apresentada para um documento Word, é suficiente selecioná-lo; clicar a opção Copiar do *menu* Editar, abrir um novo documento do Word; e pressionar simultaneamente as teclas **Ctrl** e **V**.
- 20 Para atualizar a página *web* mostrada, é suficiente clicar o botão .

Pela primeira vez desde 1968, a Organização Mundial de Saúde (OMS) decretou alerta de pandemia para uma doença, a gripe suína, que já chegou a 74 países, com quase 29 mil casos e pelo menos 144 mortes registradas. A OMS pediu a governos do mundo todo que se preparem para uma longa batalha, mas deixou claro que o vírus continua moderado, ressaltando que o alerta de pandemia decorre da expansão geográfica da gripe suína.

O Globo, 12/6/2009, capa (com adaptações).

Considerando os múltiplos aspectos que envolvem o tema abordado no texto acima, julgue os itens seguintes.

- 21 A OMS, cuja atuação se faz em escala planetária, é uma das mais conhecidas agências especializadas da Organização das Nações Unidas (ONU).
- 22 O alerta de pandemia decorreu da disseminação da gripe suína, não do aumento de sua letalidade.

1 Michael Jackson inventou a música *pop* — e não há exagero na afirmação. Ele derrubou uma das últimas barreiras que restavam entre brancos e negros nos Estados Unidos da América (EUA), desde o movimento dos direitos civis nos anos 60 do século passado. Em vez de música para brancos e música para negros, agora havia a fusão 4 revolucionária de duas tradições. Michael Jackson elevou formas de dança das ruas à categoria de arte. Vendeu 750 milhões de discos. Ao morrer, estava longe dos palcos 7 havia anos. Era visto como a personificação das deformações que a fama é capaz de imprimir, até mesmo fisicamente, em quem vive dela.

Veja, 1/7/2009, p. 96 (com adaptações).

Com referência ao texto acima, e considerando aspectos característicos da civilização contemporânea, julgue os itens que se seguem.

- 23 Ao falar em elevação de “formas de dança das ruas à categoria de arte” (l.8), o texto deve estar se referindo à dança inventada por Jackson, na qual se misturavam a suavidade dos movimentos de dançarinos tradicionais e a agressividade dos dançarinos de *break*, além das coreografias que chamavam a atenção.
- 24 Embora inventor da música *pop*, como afirma o texto, Michael Jackson notabilizou-se por ficar à margem da indústria do entretenimento, que tão bem caracteriza o mundo contemporâneo.

O número de pessoas com fome vai atingir um recorde de 1,02 bilhão em 2009, 11% mais que em 2008, segundo estimativas recentes divulgadas pela Organização das Nações Unidas para Alimentação e Agricultura (FAO). Esse aumento não é consequência da redução da colheita de alimentos e sim, da crise econômica, que levou à queda da renda e ao aumento do desemprego. Para a FAO, “uma perigosa mistura de desaceleração econômica e persistentes preços elevados de alimentos em muitos países fez que 100 milhões de pessoas entrassem para o grupo dos que sofrem de fome crônica este ano”. São 642 milhões de pessoas na Ásia e no Pacífico; 265 milhões na África Subsaariana; 53 milhões na América Latina e no Caribe; 42 milhões no norte da África; e 15 milhões em nações desenvolvidas.

O Globo, 20/6/2009, p. 31 (com adaptações).

Com referência ao texto acima, e considerando a amplitude do tema por ele focalizado, julgue os itens subsequentes.

- 25** Infere-se do texto que a fome vem aumentando porque os estoques de comida existentes no mundo estão diminuindo sensivelmente, o que reduz o acesso dos pobres aos alimentos.
- 26** O texto sugere que uma crise econômica com a dimensão da que o mundo experimenta na atualidade também acarreta graves problemas sociais.

Os especialistas na questão do combate ao narcotráfico concordam que políticas sociais têm de ser conjugadas com a ação policial. Elas só produzem efeito a médio e longo prazos. No curto prazo, a polícia desempenha um papel decisivo no combate ao tráfico de drogas.

O avanço do narcotráfico. In: O Estado de S.Paulo, Editorial 16/6/2009, p. A3 (com adaptações).

Jovens de Brasília, que supostamente têm acesso a orientações para evitar o contato com as drogas, mantêm relações cada vez mais profundas com os profissionais do crime. Esse convívio perigoso alimenta uma cadeia de delitos que contamina todo o Distrito Federal. É o primeiro estágio até chegar à lamentável realidade do Rio de Janeiro.

Carlos Alexandre. Quem é o inimigo? In: Correio Braziliense, 16/6/2009, p. 20 (com adaptações).

Com base nos textos acima, julgue os itens seguintes.

- 27** Há consenso de que a melhor forma de combater o narcotráfico é legalizar o consumo das drogas.
- 28** De acordo com o segundo texto, é essencial o uso de repressão policial no combate ao narcotráfico.

Com relação ao Brasil no contexto internacional, julgue os itens que se seguem.

- 29** O acrônimo BRIC significa Brasil, Ruanda, Índia e Canadá e se refere ao grupo de países (G-4) que busca articular um diálogo entre as civilizações.
- 30** Devido à necessidade de capital por parte do Fundo Monetário Internacional (FMI), o governo brasileiro emprestou recentemente dez bilhões de dólares a essa instituição.

Com base na Lei n.º 8.112/1990, julgue os próximos itens.

- 31** Considere que Paulo tenha sido demitido do serviço público após responder a processo administrativo disciplinar. Nessa situação, Paulo poderá pedir a revisão da demissão, desde que apresente fatos novos ou circunstâncias suscetíveis de justificar a sua inocência ou a inadequação da penalidade imposta, não constituindo fundamento para essa revisão a simples alegação de injustiça.
- 32** A posse em cargo público é ato pessoal do futuro servidor, o qual não pode ser delegado a outra pessoa.
- 33** O servidor ocupante de cargo em comissão ou de natureza especial pode ser nomeado para exercer, interinamente, outro cargo de confiança, sem prejuízo das atribuições do cargo que atualmente ocupa, hipótese em que deverá optar pela remuneração de um deles durante o período da interinidade.
- 34** O servidor aposentado pode acumular os proventos de inatividade com os vencimentos de cargo ou emprego público efetivo se os cargos de que decorrem essas remunerações forem acumuláveis na atividade.
- 35** A posse em cargo público deve ocorrer, em regra, no prazo máximo de trinta dias a contar da data de publicação do ato de provimento. A partir da data de posse, o prazo para entrar em exercício será de quinze dias, sob pena de exoneração.
- 36** Servidor público federal que tem filho com paralisa cerebral tem direito a horário especial quando comprovada a necessidade por junta médica oficial, sendo obrigado, entretanto, a compensar o horário, de forma a respeitar a duração semanal de trabalho.
- 37** Os registros de penalidades de advertência e de suspensão devem ser cancelados, com efeitos retroativos, após o decurso de três e cinco anos de efetivo exercício, respectivamente, se o servidor não houver, nesse período, praticado nova infração disciplinar.

Com base no Código de Ética Profissional do Servidor Público Civil do Poder Executivo Federal (Decreto n.º 1.171/1994), julgue os próximos itens.

- 38** A verdade, princípio moral previsto no Código de Ética, pode ser afastada em algumas situações, como, por exemplo, na hipótese de o médico de um hospital público avisar aos familiares que o paciente poderá ser salvo, com vistas exclusivamente a poupá-los do sofrimento imediato, quando já se sabe que a morte é certa.
- 39** O dever fundamental do servidor público de ter respeito à hierarquia o impede de representar contra seu superior hierárquico se entender que a conduta deste é indevida.
- 40** Mesmo que observe as formalidades legais e não cometa qualquer violação expressa à lei, é dever funcional do servidor abster-se, de forma absoluta, de exercer sua função, poder ou autoridade com finalidade estranha ao interesse público.

Paulo e Marcos são irmãos. Sabe-se que Marcos nasceu 4 anos antes de Paulo e que os dois aniversariam no mesmo dia do ano. Nessas condições, julgue os itens subsequentes.

- 41** Considere que, no dia em que Paulo completou 8 anos de idade, o pai deles dividiu R\$ 300,00 entre os dois de modo que cada um deles tenha recebido uma quantia proporcional à sua idade. Nesse caso, Paulo recebeu R\$ 120,00 e Marcos, R\$ 180,00.
- 42** Em determinado ano, antes de Marcos completar 15 anos de idade, a idade de Paulo corresponderá a 80% da idade de Marcos.

Em uma concessionária de veículos o preço de determinado modelo é R\$ 32.000,00. Com a queda nas vendas, o proprietário da concessionária criou vários planos de venda para atrair novos clientes e tentar vendê-lo. A partir dessa situação, julgue o item a seguir.

- 43** Suponha que um cliente tenha comprado um veículo desse modelo pagando R\$ 10.000,00 de entrada, devendo pagar o restante em uma única parcela, 2 meses após a compra. Se essa concessionária usa juros compostos à taxa de 5% ao mês para reajustar a dívida dos clientes, então o valor que esse cliente deverá pagar, 2 meses após a compra, será superior a R\$ 24.200,00.

A respeito de equações de 1.º e de 2.º graus, julgue os seguintes itens.

- 44** Se apenas cédulas de R\$ 10,00 e de R\$ 20,00 estavam disponíveis para saque em um caixa eletrônico e se um cliente recebeu 40 notas ao fazer um saque de R\$ 600,00, então ele recebeu quantidades diferentes de cédulas de cada um dos valores disponíveis.
- 45** Considerando os retângulos de perímetros iguais a 20 cm, suas áreas são expressas por  $A = x(10 - x)$  cm<sup>2</sup>, em que  $x$  (em cm) é o comprimento de um dos lados do retângulo. Nessas condições, é correto afirmar que, entre todos esses retângulos de perímetros iguais a 20 cm, aquele que possui a maior área é o que tem a forma de um quadrado.

Acerca de contagem, julgue o item a seguir.

- 46** Considere que um departamento da UnB pretenda comprar novos equipamentos para seu laboratório de informática e que existam no mercado 8 modelos de computadores, 3 modelos de monitores e 4 modelos de teclados. Desse modo, o número de possíveis configurações — computador, monitor e teclado — que podem ser formadas com esses equipamentos é superior a 100.

A respeito de proporções, regra de três e porcentagens, julgue os itens seguintes.

- 47** Considere que uma loja venda seus produtos nas seguintes condições: à vista, com 20% de desconto sobre o preço de tabela; no cartão de crédito, com 5% de acréscimo sobre o preço de tabela. Nessa situação, um produto que é vendido por R\$ 800,00 à vista terá, no cartão, preço superior a R\$ 1.000,00.
- 48** Considere que, no 1.º vestibular de 2008, 12 professores de português tenham corrigido 5.000 redações em 7 dias, em um ritmo de trabalho constante, e que, no 1.º vestibular de 2009, o número de redações tenha aumentado para 7.500 e a equipe de professores, para 14. Nesse caso, se o ritmo de trabalho de correção das redações de 2009 foi idêntico ao da equipe de 2008, então, para finalizar a correção em 2009, foram necessários mais de 10 dias.
- 49** Na formação de uma microempresa, os dois sócios integralizaram os capitais de R\$ 6.000,00 e R\$ 9.000,00, respectivamente. Após 9 meses, esses sócios aceitaram outra pessoa na sociedade, que integralizou o capital de R\$ 12.000,00. Ao final do 1.º ano, a firma apresentou um lucro de R\$ 13.200,00, que foi dividido em partes proporcionais ao capital e tempo de integralização. Nesse caso, coube ao 3.º sócio uma importância superior a R\$ 2.000,00.

Acerca de juros simples e compostos, julgue o item abaixo.

- 50** Considere que um capital tenha sido aplicado à taxa de 5% ao mês, durante 2 meses, no regime de juros compostos. Então, para produzir o mesmo montante no mesmo prazo e no regime de juros simples, esse capital deveria ser aplicado a uma taxa mensal superior a 5%.

## CONHECIMENTOS ESPECÍFICOS

O duto de uma prensa hidráulica de um laboratório de conformação mecânica se rompe e derrama óleo na motobomba e no piso. O aquecimento e o atrito do motor provocam um princípio de incêndio. O operador desliga imediatamente a energia elétrica e joga areia fina sobre o fogo. A brigada de incêndio presta o socorro necessário e o fogo é debelado.

Com referência à situação hipotética acima, julgue os itens a seguir.

- 51** A ação do operador em jogar areia sobre o fogo no óleo constitui o método do abafamento usado para debelar incêndio.
- 52** O fogo de classe A é caracterizado por deixar resíduos e pode ser combatido pelo método do resfriamento com aplicação de água.
- 53** O fogo no motor elétrico energizado é denominado de classe B.
- 54** A brigada de incêndio tem como atribuições, entre outras, conhecer o plano de emergência contra incêndio da planta, avaliar os riscos existentes, inspecionar os equipamentos de combate a incêndio e as rotas de fuga e elaborar relatório das irregularidades.

Entende-se como acidente de qualquer natureza aquele de origem traumática por exposição a agentes exógenos (físicos, químicos ou biológicos) que acarrete lesão corporal ou perturbação funcional, causando a morte, a perda ou a redução permanente ou temporária da capacidade de laboração. Acerca de acidentes e de doenças ocupacionais, julgue os itens subsequentes.

- 55** Se a região em que a doença endêmica se desenvolve também for o local de trabalho, ela é considerada doença ocupacional; nesse caso, não há a necessidade de comprovação de que a doença endêmica é resultante de exposição ou contato direto determinado pela natureza do trabalho.
- 56** Constitui contravenção penal, punível com multa, deixar a empresa de cumprir as normas de segurança e higiene do trabalho, uma vez que ela é responsável pela adoção e uso das medidas coletivas e individuais de proteção e segurança da saúde do trabalhador.
- 57** Se um empregado contrair a gripe *influenza A* (vírus H1N1) no ambiente de trabalho, nesse caso, para efeito da legislação previdenciária, a doença não se equipara ao acidente do trabalho, já que ela é proveniente de contaminação acidental.
- 58** A concessão do auxílio-acidente independe de carência.

Julgue os itens seguintes, a respeito das normas regulamentadoras (NR) relativas à segurança e medicina do trabalho, que são de observância obrigatória pelas empresas privadas e públicas e pelos órgãos públicos da administração direta e indireta.

- 59** As disposições contidas nas NR não se aplicam aos trabalhadores avulsos, às entidades ou empresas que lhes tomem o serviço e nem aos sindicatos representativos das respectivas categorias profissionais.
- 60** É dever do empregador elaborar ordens de serviço acerca de segurança e medicina do trabalho determinando os procedimentos que deverão ser adotados em caso de acidente do trabalho e doenças profissionais ou do trabalho, entre outras ações que visem preservar a saúde e a segurança dos trabalhadores.

A NR 7 estabelece a obrigatoriedade de elaboração e implementação, por parte de todos os empregadores e instituições que admitam trabalhadores como empregados, do programa de controle médico e saúde ocupacional (PCMSO), com o objetivo de promoção e preservação da saúde do conjunto dos seus trabalhadores. A respeito do PCMSO e da prevenção da saúde no ambiente de trabalho, julgue os itens a seguir.

- 61** O PCMSO deverá considerar as questões incidentes sobre o indivíduo e a coletividade de trabalhadores, privilegiando o instrumental clínico-epidemiológico na abordagem da relação entre sua saúde e o trabalho, enfocando prevenção, rastreamento e diagnóstico precoce dos agravos à saúde relacionados ao trabalho, inclusive de natureza subclínica.
- 62** O exame médico periódico deve ser realizado em intervalos mínimos, de acordo com algumas características do empregado ou situações de trabalho. Para trabalhadores expostos a riscos ou a situações de trabalho que impliquem o desencadeamento ou agravamento de doença ocupacional ou, ainda, para aqueles que sejam portadores de doenças crônicas, os exames deverão ser repetidos a cada dois anos ou a intervalos maiores, a critério do médico encarregado.

grau de risco	n.º de empregados no estabelecimento	acima de 5.000 para cada grupo de 4.000 ou fração acima 2.000**							
		50 a 100	101 a 250	251 a 500	501 a 1.000	1.001 a 2.000	2.001 a 3.500	3.501 a 5.000	
1	técnico seg. trabalho				1	1	1	2	1
	engenheiro seg. trabalho						1*	1	1*
	aux. enferm. do trabalho						1	1	1
	enfermeiro do trabalho							1*	
	médico do trabalho					1*	1*	1	1*
2	técnico seg. trabalho				1	1	2	5	1
	engenheiro seg. trabalho					1*	1	1	1*
	aux. enferm. do trabalho				1	1	1	1	1
	enfermeiro do trabalho							1	
	médico do trabalho					1*	1	1	1
3	técnico seg. trabalho		1	2	3	4	6	8	3
	engenheiro seg. trabalho				1*	1	1	2	1
	aux. enferm. do trabalho					1	2	1	1
	enfermeiro do trabalho							1	
	médico do trabalho				1*	1	1	2	1
4	técnico seg. trabalho	1	2	3	4	5	8	10	3
	engenheiro seg. trabalho		1*	1*	1	1	2	3	1
	aux. enferm. do trabalho				1	1	2	1	1
	enfermeiro do trabalho							1	
	médico do trabalho			1*	1*	1	1	2	1

(\*) Tempo parcial (mínimo de três horas)

(\*\*) O dimensionamento total deverá ser feito levando-se em consideração o dimensionamento de faixas de 3.501 a 5.000 mais o dimensionamento do(s) grupo(s) de 4.000 ou fração acima de 2.000.

OBS: Hospitais, ambulatórios, maternidade, casas de saúde e repouso, clínicas e estabelecimentos similares com mais de 500 (quinhentos) empregados deverão contratar em enfermeiro em tempo integral.

Considerando a tabela acima, extraída do da NR 4, que trata do dimensionamento do serviço especializado em engenharia de segurança e em medicina do trabalho (SESMT), julgue os itens de **63 a 65**.

**63** Conforme a tabela, o SESMT de uma instituição de ensino superior com 7.500 empregados terá três técnicos de segurança do trabalho, além das outras categorias de integrantes.

**64** O SESMT de um hospital, grau de risco 4, com 800 empregados, contará com um enfermeiro do trabalho em tempo integral, além dos outros profissionais integrantes.

**65** Considere que uma empresa, com grau de risco 3, possua três estabelecimentos no mesmo estado: um deles com 42 empregados, outro com 60 empregados e o terceiro com 28 empregados. Nesse caso, em cumprimento à NR 4, a referida empresa pode constituir SESMT centralizado, com um técnico de segurança do trabalho, tendo jornada em tempo integral.



Uma empresa, com 55 empregados, contratada para a construção de um prédio destinado a atividades de ensino, foi submetida à inspeção de segurança, relativamente ao atendimento da NR 18, que trata das condições e meio ambiente de trabalho na indústria da construção. No canteiro de obras havia dois contêineres, um para alojamento e outro para depósito de materiais. Pontos de irregularidades ou para orientação ao cumprimento da norma foram citados.

Considerando a situação hipotética acima, julgue os itens a seguir.

- 66** Instalações móveis, inclusive contêineres, serão aceitas em áreas de vivência de canteiro de obras e frentes de trabalho, desde que cada módulo possua, entre outras, área de ventilação natural efetiva de, no mínimo, 15% da área do piso, composta de pelo menos duas aberturas adequadamente dispostas para permitir a ventilação interna e possua proteção contra riscos de choque elétrico por contatos indiretos, além do aterramento elétrico.
- 67** Considere que, na inspeção, tenha sido observado que os locais destinados aos vasos sanitários (gabinetes sanitários) tinham área de 1,50 m<sup>2</sup> e possuíam divisórias com altura de 1,20 m providos de porta com trinco interno. Nessa situação, a empresa estava descumprindo a NR 18.

Um ambiente de trabalho pode ser um lugar perigoso, não apenas para os operários que devem usar equipamentos e manusear substâncias perigosas, mas também para os trabalhadores de escritório. Muitas situações têm consequências imediatas, como os ferimentos sofridos em um acidente, mas outras somente são percebidas com o tempo. Um ambiente de trabalho agradável pode melhorar o relacionamento interpessoal e a produtividade, assim como reduzir acidentes, doenças, absenteísmo e rotatividade do pessoal. Fazer do ambiente um local agradável para se trabalhar tornou-se uma verdadeira obsessão para as empresas bem-sucedidas.

Internet: <<http://www.administradores.com.br>> (com adaptações).

A partir do texto acima e com base na NR 24, que trata das condições sanitárias no ambiente de trabalho, julgue os itens de **68 a 71**.

- 68** Em todos os locais de trabalho deverá ser fornecida aos trabalhadores água potável, em condições higiênicas, sendo proibido o uso de recipientes coletivos. As empresas devem garantir suprimento de água em quantidade superior a um quarto de litro por hora para cada trabalhador.
- 69** Para um bom padrão de higiene pessoal, é exigido um chuveiro para cada 20 trabalhadores nas atividades ou operações insalubres, ou nos trabalhos com exposição a substâncias tóxicas, irritantes, infectantes, alergizantes, poeiras ou substâncias que provoquem sujidade.

**70** Caso o trabalhador leve para o trabalho a sua própria alimentação, a empresa deve garantir condições de conservação e higiene adequadas e os meios para o aquecimento em local próximo ao destinado às refeições.

**71** A empresa que contratar outra empresa para a prestação de serviços em seus estabelecimentos não tem obrigação de estender aos trabalhadores da contratada as mesmas condições de higiene e conforto oferecidas aos seus próprios empregados.

A comissão interna de prevenção de acidentes (CIPA), prevista na NR 5, tem como objetivo a prevenção de acidentes e doenças decorrentes do trabalho, de modo a tornar compatível permanentemente o trabalho com a preservação da vida e a promoção da saúde do trabalhador. A esse respeito, julgue os itens seguintes.

**72** Os representantes dos empregados na CIPA, titulares e suplentes, serão eleitos em escrutínio secreto, do qual participem os empregados interessados e devidamente filiados em sindicato.

**73** O secretário da CIPA deverá ser escolhido pela representação dos empregados, entre os componentes eleitos.

**74** Entre as atribuições da CIPA, estão realizar, a cada reunião, avaliação do cumprimento das metas fixadas em seu plano de trabalho, discutir as situações de risco que foram identificadas e divulgar aos trabalhadores informações relativas à segurança e saúde no trabalho.

A NR 9 estabelece a obrigatoriedade da elaboração e implementação, por parte de todos os empregadores e instituições que admitam trabalhadores como empregados, do programa de prevenção de riscos ambientais (PPRA), visando à preservação da saúde e da integridade dos trabalhadores. Com relação à PPRA, julgue os próximos itens.

**75** Segundo a NR 9, as radiações ionizantes e não-ionizantes são exemplos de agentes químicos, capazes de causar danos à saúde do trabalhador.

**76** Quando comprovada, pelo empregador ou instituição a inviabilidade técnica da adoção de medidas de proteção coletiva ou quando estas não forem suficientes ou encontrarem-se em fase de estudo, planejamento ou implantação, ou ainda em caráter complementar ou emergencial, deverão ser adotadas outras medidas, obedecendo-se à seguinte hierarquia: medidas de caráter administrativo ou de organização do trabalho; e utilização de equipamento de proteção individual (EPI).

Na serralheria da prefeitura do *campus* de uma universidade, existe um ambiente cuja exposição ao ruído tem sido objeto frequente de reclamações por parte dos trabalhadores locais. Nesse ambiente, estão instaladas duas máquinas idênticas que geram altos níveis de ruído. Após uma avaliação da exposição ao ruído no ambiente, o laudo apresentou a conclusão de que a dose de exposição ao ruído no local é de 110%.

Em relação a essa situação hipotética, julgue os itens a seguir.

- 77** Para se chegar à conclusão apresentada no laudo, a avaliação da exposição ao ruído deve ter sido feita com a utilização de um decibelímetro, com as medições sendo realizadas em um ponto fixo entre as duas máquinas.
- 78** Mesmo que o ruído da serralheria incomode a vizinhança do local, o ruído não pode ser classificado como poluição.
- 79** As únicas doenças profissionais que podem ser geradas pela exposição ao ruído são a redução auditiva e a surdez.
- 80** A antecipação de riscos é a etapa mais eficiente de um Programa de Prevenção de Riscos Ambientais (PPRA) para o controle da exposição ao ruído a ser implantada atualmente no local.
- 81** A medida mais importante a ser implantada para o controle da exposição ao ruído no local consiste no uso de protetor auricular pelos trabalhadores.
- 82** A dose de exposição ao ruído no local será reduzida em 50% caso uma das máquinas seja desligada.
- 83** Para controlar a exposição ao ruído no local, deve ser implantado um Programa de Proteção Auditiva (PPA) em vez de um PPRA.
- 84** Para a proteção dos trabalhadores, o protetor auricular do tipo *plug* é mais eficiente que o do tipo concha.

Em um restaurante universitário foi feita uma avaliação da exposição ao calor em um ambiente da cozinha que resultou em um índice de bulbo úmido e temperatura de globo (IBUTG) com média de 34 °C.

A partir dessa situação hipotética, julgue os próximos itens.

- 85** Alteração na umidade do local pode causar uma variação no IBUTG.
- 86** Alteração na velocidade do ar no local pode causar variação no IBUTG.
- 87** A temperatura de globo medida pelo termômetro de globo é sempre menor que a temperatura medida pelo termômetro de bulbo seco.
- 88** O suor é um mecanismo utilizado pelo organismo humano para perder calor para o ambiente.

Com relação à realização de exames com raios X, julgue os itens seguintes.

- 89** Os efeitos biológicos que podem ser causados pela exposição à radiação ionizante podem ser corretamente classificados em somáticos e genéticos.
- 90** Os trabalhadores que operam equipamento de raios X devem realizar exames periódicos, no âmbito do Programa de Controle Médico e Saúde Ocupacional (PCMSO) a cada doze meses, no máximo.
- 91** Quando um equipamento de raios X não puder mais ser utilizado, ele deverá ser encaminhado a uma casa de rejeitos radioativos, e não a um aterro sanitário.
- 92** Uma diferença entre a radiação X e a radiação alfa consiste no fato de que somente a radiação alfa emite partículas.

Considere que o centro de processamento de dados de determinada universidade tenha sido objeto frequente de reclamações por parte dos trabalhadores do local em relação aos distúrbios osteomusculares relacionados ao trabalho (DORT). De forma a melhorar a qualidade de vida dos trabalhadores no ambiente, a administração da universidade elaborou um programa de ergonomia. A partir dessa situação hipotética, julgue os itens subsequentes.

- 93** A definição de DORT identifica um conjunto de doenças proveniente de tipos de operações que ocasionam graves lesões aos músculos, tendões e nervos.
- 94** Os trabalhadores somente poderão se aposentar devido a uma lesão por esforço repetitivo (LER) se comprovarem que o seu trabalho causou a respectiva doença.
- 95** A disponibilização de ginástica laboral aos trabalhadores é obrigatória em locais de processamento de dados.
- 96** O trabalho noturno e o excesso da realização de horas extras pelos trabalhadores no local pode ser prejudicial à sua saúde.

Uma universidade está construindo um novo prédio no *campus*, sendo que a execução da obra foi licitada para uma empresa terceirizada. De forma a garantir a segurança dos 60 trabalhadores da empresa na referida obra, a administração da universidade exigiu a elaboração e implantação de um Programa de Condições e Meio Ambiente do Trabalho (PCMAT).

Em relação a essa situação hipotética, julgue os itens que se seguem.

- 97** O PCMAT deve atender às atribuições previstas no PPRA.
- 98** O PCMAT substitui a necessidade de elaboração do PCMSO.
- 99** O PCMAT pode incluir, em uma de suas fases, um Programa de Proteção Respiratória (PPR).
- 100** Mesmo que a universidade não exigisse o PCMAT, a empresa estaria obrigada a elaborá-lo e implantá-lo na obra do *campus*.