


1ª Parte – Português

01. Observe a tirinha:



Copyright ©1999 Mauricio de Sousa Produções Ltda. Todos os direitos reservados. 6079

É possível afirmar, segundo o texto, que:

- I. Cascão não quis entrar para não limpar os pés.
  - II. Cascão dormiu em casa.
  - III. Cascão dormiu na rua.
  - IV. Cascão dormiu na rua para não sujar o tapete.
- a) Apenas I é correta.
  - b) Apenas II é correta.
  - c) II e III são corretas.
  - d) I e II são corretas, apenas.
  - e) Apenas I e III são corretas.

02. Leia a tira:



Copyright ©1999 Mauricio de Sousa Produções Ltda. Todos os direitos reservados. 6716

Com base no texto, julgue as afirmativas como verdadeiras ou falsas. Assinale a falsa.

- a) Mônica impôs uma condição para que cebolinha parasse de “xingá-la”.
- b) Cebolinha não quis ganhar um beijo de Mônica.
- c) Cebolinha gosta de apanhar de Mônica sempre.
- d) Cebolinha prefere apanhar de Mônica a ter que ganhar um beijo dela.
- e) NDR.

03. Observe as frases abaixo:

- I. O jantar será servido às 19 horas.
- II. Vamos todos comer mais salada porque é mais saudável.
- III. O amor é um fogo que arde sem se ver.

Com base nas frases assinale a opção verdadeira.

- a) Na frase I há no total três verbos: jantar, ser e servir.
- b) Na frase II temos um verbo no particípio: salada.
- c) Os termos “jantar”, na frase I, e “amor”, na frase III, são substantivos.
- d) Na frase II há apenas dois verbos: Ir e ser.
- e) Todas as opções são verdadeiras.

04. Em qual das alternativas abaixo todas as palavras são paroxítonas?

- a) cadáver, nuvem, Marte, enxofre, tórax.
- b) abelha, painel, xampu, telefone, roseira.
- c) alface, alecrim, heróico, cineasta, balde.
- d) palavreado, encontro, sushi, Paris, Alice.
- e) Todas as alternativas respondem corretamente a questão.

05. Observe os fragmentos de texto abaixo:

- I. “Acho que estou ficando velho. Ainda uso as conjunções, admito a existência de abecê e obedeço à gramática...” Carlos Drummond de Andrade
- II. “Notais bem isto: entre todas as coisas que sabemos, a nossa língua é a que devemos saber melhor, porque ela é a melhor parte de nós mesmos, é a nossa tradição, o veículo do nosso pensamento, a nossa pátria e o melhor elemento de nossa nação e da nossa nacionalidade.” Júlia Lopes de Almeida.

Analisando e comparando os dois fragmentos de texto, podemos afirmar que:

- a) Ambos os textos condenam o uso da Gramática.
- b) Apenas o texto I defende o uso da Gramática.
- c) O texto II condena o uso da gramática enquanto o I defende.
- d) Nenhum dos dois textos defende o uso da gramática.
- e) O texto faz uma crítica aos que acham que usar a gramática é “piegas”.

06. Observe as palavras seguintes:

Poliedro – fixação – horizonte – pá – herói – candidato

A respeito das palavras podemos dizer que:

- a) Todas são polissílabas.
- b) Apenas três são polissílabas.
- c) Apenas “fixação” é polissílaba.
- d) “Herói” é trissílaba.
- e) “Candidato” e “horizonte” têm a mesma classificação.

07. Em qual das alternativas o termo em destaque é um monossílabo átono?

- a) Fazemos roupas sob medida.
- b) Vem de lá, todas as críticas.
- c) Compramos um ótimo creme para os pés.
- d) Há tempos não o vejo.
- e) NDR.

08. “Marcam uma suspensão de voz numa frase não concluída.” O conceito se refere à:

- a) Travessões
- b) Reticências
- c) Vírgulas
- d) Dois pontos
- e) NDR

09. Na Inglaterra, certa vez, um oficial foi condenado à morte. Seu pedido de perdão recebeu a seguinte sentença do rei: **“Perdoar impossível, mandar para a força!”** Antes da mensagem ser enviada ao carrasco, passou pelas mãos da generosa rainha, que, compadecida da sorte do oficial, tomou de uma caneta e, alterando a pontuação, simplesmente mudou o significado da mensagem de modo que o oficial escapou da força. Qual das alternativas a seguir contém o texto com a alteração feita pela bondosa rainha?

- a) *“Perdoar impossível mandar para a força!”*
- b) *“Perdoar impossível mandar, para a força!”*
- c) *“Perdoar impossível, mandar para a força...”*
- d) *“Perdoar, impossível, mandar para a força!”*
- e) *“Perdoar, impossível mandar para a força!”*

10. Em qual das alternativas a vírgula foi empregada erroneamente?

- a) A mulher, do meu vizinho foi à feira.
- b) Fogo não, poupe a cidade.
- c) Fogo, não poupe a cidade.
- d) Sim, senhor! Já estou indo.
- e) NDR.

### 2ª Parte – Matemática

11. Uma lata de leite possui capacidade para 40 copos de 250 cm<sup>3</sup>. Seu João vende, todos os dias, três latas de leite custando R\$ 4,50 o litro de leite. É possível dizer que em sete dias, seu João consegue apurar:

- a) R\$ 945,00.
- b) R\$ 950,00.
- c) R\$ 800,00.
- d) R\$ 100,00.
- e) R\$ 52,50.

12. Se um rapaz que vende pães comer um quarto dos pães, vender a metade do restante e levar seis para casa, podemos dizer que, inicialmente ele tinha:

- a) 12
- b) 15
- c) 16
- d) 18
- e) 20

13. Um número dividido por 8 dá como resultado 5. Esse mesmo número multiplicado por 8 e dividido por 5 dá:

- a) 40
- b) 64
- c) 80
- d) 100
- e) 320

14. Numa promoção de sandálias de uma certa marca, quem comprasse quatro ganhava um desconto de 25%. Se cada sandália custava R\$ 6,00, podemos dizer que quem comprasse as quatro pagaria:

- a) R\$ 24,00
- b) R\$ 23,00
- c) R\$ 20,00
- d) R\$ 18,00
- e) R\$ 15,00

15. Numa certa empresa, os funcionários ganharam um aumento de 6 % no mês de maio e um de 4% no mês de dezembro do mesmo ano. É correto afirmar que nesse ano os funcionários aumentaram seus salários em:

- a) 10%
- b) 9%
- c) 9,34%
- d) 9,5%
- e) 10,24%

16. O sofá da mãe de João foi comprado em 6 vezes de R\$ 170,00. Sabendo que o juro foi de 20% ao semestre, podemos dizer que se a mãe de João tivesse comprado à vista, ela pagaria:

- a) R\$ 800,00
- b) R\$ 830,00
- c) R\$ 850,00
- d) R\$ 870,00
- e) R\$ 890,00

17. Tomei três quartos de um dúzia de maçãs e somei as que eu tinha e fiquei com cinqüenta. É correto afirmar que o número de maçãs que eu tinha era:

- a) 41
- b) 42
- c) 43
- d) 44
- e) 45

18. Um número dividido por 16 resulta em 64. É correto afirmar que o produto desse certo número com 512 é:

- a) 1024
- b) 524288
- c) 523000
- d) 320158
- e) 123589

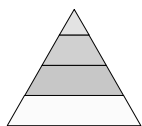
19. Num restaurante, uma jarra de sucos corresponde a 2 copos e meio. Se a jarra possui capacidade para 750 ml, é possível dizer que com quatro copos desses, um cidadão beberia:

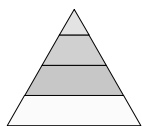
- a) 1 litro de água.
- b) 2 litros de água.
- c) 1,5 litros de água.
- d) 1,2 litros de água.
- e) 500 ml de água.

20. Comecei meu trabalho de informática às 13h47min e parei às 24h50min. O tempo decorrido para que eu terminasse meu trabalho foi de:

- a) 13h.
- b) 12h20min.
- c) 11h30min.
- d) 11h4min.
- e) 11h3min.


3ª Parte – Conhecimentos Gerais



21. Na figura , podemos encontrar qual (ais) forma (s) geométrica (s):

- a) Triângulo apenas.
- b) Triângulo e trapézio.
- c) Triângulo e quadrado.
- d) Trapézio e quadrado.
- e) Trapézio apenas.



22.  O monumento da figura é o principal marco arquitetônico da cidade de (a):

- a) Itália.
- b) França.
- c) Paris.
- d) Milão.
- e) Nápoles.



23.  O esporte descrito na figura é:

- a) Críquete
- b) Curling
- c) Esgrima
- d) Snowboard
- e) Wuchu

24. Representada por uma cobra de fogo que protege as matas e os animais e tem a capacidade de perseguir e matar aqueles que desrespeitam a natureza. Acredita-se que este mito é de origem indígena e que seja um dos primeiros do folclore brasileiro. Foram encontrados relatos do mesmo em cartas do padre jesuíta José de Anchieta, em 1560. Na região nordeste, é conhecido como "fogo que corre".

- a) Boitatá
- b) Boto
- c) Curupira
- d) Caipora
- e) Corpo-seco

25. É uma dança típica da região sul:

- a) Folia de reis
- b) Cururu
- c) Catira
- d) Cateretê
- e) Batuque

26. Dança em que os participantes ficam frente a frente, dançando e estalando os dedos:

- a) Catira
- b) Carimbó
- c) Capoeira
- d) Caiapó
- e) Capirá

27. Alexandre fará uma prova no dia 22/03/2010, supondo que a professora pergunte quantos anos tem o Brasil, referindo-se ao descobrimento do Brasil por Pedro Álvares Cabral, a resposta do aluno para que esteja correta será:

- a) 508
- b) 509
- c) 510
- d) 511
- e) 512

28. Ao realizar a limpeza de janelas de vidro, voltadas para o poente, Joaquim, utilizou álcool a 70%. Ao terminar o serviço, restou na embalagem 60% do seu volume inicial, Joaquim foi nesse momento comunicado que seu chefe desejava vê-lo, na pressa deixou todo material no local em que realizou o serviço. Materiais, como álcool, devem ser mantidos em:

- a) Local quente e ventilado.
- b) Local quente sem ventilação.
- c) Local refrigerado sem ventilação.
- d) Local seco e arejado.
- e) Local úmido e ventilado.

29. Quando o lixo se decompõe, ele forma um líquido escuro chamado \_\_\_\_\_. Este, ao se infiltrar, polui o solo e a água subterrânea, contaminando os poços e cacimbas.

A alternativa que preenche corretamente a lacuna é:

- a) Decompositor
- b) Não reciclável
- c) Chorume
- d) Necrochorume
- e) Lixo recomposto

30. São lixos secos, EXCETO:

- a) Garrafa
- b) Serragem
- c) Papel
- d) Vidro
- e) Tecido

31. Marina ao receber um envelope contendo documentos, assina um livro de protocolo, após o entregador ir embora, ela verifica que o envelope não está endereçado ao setor em que trabalha o que Marina deverá fazer?

- a) Deixa o envelope em qualquer lugar, pois não é de interesse de ninguém do seu departamento e por isso não servirá para nada.
- b) Entrega o envelope para um colega seu e ambos abrem o mesmo para verificar seu conteúdo.
- c) Localiza o destinatário e leva o envelope para ele, demonstrando que houve um equívoco na entrega.
- d) Joga no lixo, uma vez que Marina está muito ocupada para procurar o destinatário.

- e) Procura o entregador, sem encontrá-lo, livra-se do envelope para que não tenha mais serviços para realizar.

**32.** Hoje é domingo, pede cachimbo  
cachimbo é de barro, bateu no jarro.  
Jarro é de ouro, bateu no touro.  
Touro é forte, acabou-se na morte.

A estrofe acima indica um(a):

- a) Parlenda
- b) Trava-língua
- c) Quadrilha
- d) Adivinha
- e) Tradições vivas

**33.** Ricardo recebeu a missão de realizar a limpeza do auditório da Prefeitura, além a limpeza o ambiente deverá ser encerado, o piso do auditório é na cor bege escuro, em cerâmica. Ao checar o material disponível no almoxarifado verificou que só havia cera nas cores: vermelha, bege claro, incolor e azul, desta forma qual a cor da cera que ele deverá utilizar.

- a) Bege claro, pois a cor da cera não interfere na cor do piso.
- b) Vermelho, pois a cor da cera não interfere na cor do piso e dessa forma fica melhor de verificar a plena retirada da cera quando do polimento.
- c) Azul, pois a cor da cera não interfere na cor do piso, e dessa forma fica melhor de verificar a plena retirada da cera quando do polimento.
- d) Incolor, pois a cor da cera não interfere na cor do piso.
- e) Todas as respostas acima estão incorretas, pois deverá ser aplicada uma cera na cor do piso para que não haja interferência na cerâmica.

**34.** O primeiro parque nacional criado no Brasil foi o:

- a) Parque Nacional do Itaitaia.
- b) Parque Nacional do Araguaia.
- c) Parque Nacional do Caparaó.
- d) Parque Nacional dos Abrolhos.
- e) Parque Nacional da Serra da Canastra.

**35.** Para se ter um bom relacionamento humano é preciso entusiasmo, sobre isso é INCORRETO afirmar:

- a) Não fazer tudo com sentido de perfeição.
- b) Aceitar e valorizar os “conselhos” positivos.
- c) Andar sempre arrumado, limpo e cheiroso.
- d) Cultivar a alegria, o riso e bom humor.
- e) Esteja sempre de prontidão para trabalhar, respeitando seus horários.

**36.** Refere-se à capital da Colômbia:

- a) Moroni
- b) Havana
- c) Bogotá
- d) Roseau
- e) Madrid

**37.** Um menino diz para outro: "Dê um de seus dados que ficamos com igual número de dados". O outro responde: "Não, fazemos melhor, dê-me um de seus dados que ficarei com o dobro dos seus". Quantos dados têm cada um?

- a) 2 e 6
- b) 3 e 5
- c) 6 e 8
- d) 5 e 7
- e) 7 e 9

**38.** Já foram eleitas rainhas do rádio, EXCETO:

- a) Linda Batista
- b) Marlene
- c) Mary Gonçalves
- d) Maysa Matarazzo
- e) Julie Joy

**39.** Sobre produtos de limpeza é INCORRETO afirmar:

- a) Rótulos: Leia os rótulos dos produtos com atenção, mais de uma vez. Neles você terá instruções claras sobre as condições ambientais exigidas para guardar o produto.
- b) Urgências toxicológicas: Anote e deixe preso na geladeira o telefone para urgências toxicológicas. Caso haja um acidente, ligue imediatamente, antes de tomar qualquer outra medida.
- c) Temperatura: Tenha muito cuidado com a temperatura do local em que o produto será guardado. Siga as instruções e certifique-se de que o produto está em condições adequadas. Guarde os produtos inflamáveis como o aerosol em lugares longe do calor. O ideal é fazer estoque de produtos de limpeza. Não junte restos de um mesmo produto no mesmo recipiente. Muitos destes produtos podem se deteriorar com o tempo e produzir danos graves.
- d) Embalagens: Não recicle nem reutilize as embalagens para nenhum outro produto.
- e) Quando o produto acabar, informe-se sobre a melhor maneira de se desfazer das embalagens (de acordo com a embalagem e o tipo de produto).

**40.** Ângelo Ferreira é secretário da:

- a) Secretaria de Agricultura e Reforma Agrária.
- b) Secretaria de Defesa Social.
- c) Secretaria de Educação.
- d) Secretaria Especial de Cultura.
- e) Secretaria de Desenvolvimento Social e Direitos Humanos.

**FIM DO CADERNO**