



Cargo: Motorista "E"

CONCURSO PÚBLICO 01/2009 PREFEITURA MUNICIPAL DE JAQUEIRA

- Para fazer a prova você usará este caderno e um cartão-resposta.
- Verifique, no caderno de provas, se faltam folhas, se a seqüência de questões no total de **30 (trinta)**, está correta e se há imperfeições gráficas que possam causar dúvidas. Comunique, imediatamente, ao fiscal qualquer irregularidade.
- O cartão resposta é o documento único e final para correção eletrônica. Não amasse, não dobre, não rasure o seu cartão resposta.
- A adequada marcação deverá ser feita com caneta esferográfica de tinta **azul ou preta**, é de inteira responsabilidade do candidato, sendo este o documento válido para a correção das questões da prova.
- Para cada questão são apresentadas **5 (cinco)** alternativas diferentes de respostas (**A, B, C, D e E**). Apenas **uma** delas constitui a resposta **correta** em relação ao enunciado da questão.
- Suponha que a questão nº 15 tenha a resposta B como correta.
 - Veja como marcar esta resposta.



- Deve-se estar atento para:
- não rasurar o cartão resposta, pois não será fornecido outro cartão
- Não escrever no verso do cartão resposta
- Preencher completamente o espaço reservado a marcação da resposta correta
- Caso realmente precise, utilize como rascunho os espaços em branco no verso de suas folhas de prova:
- Considerar-se-á excluído do processo seletivo do concurso o candidato que:
- tornar-se culpado de incorreções ou descortesia com qualquer membro da equipe encarregada da realização da prova;
- for surpreendido, durante a aplicação das provas, em comunicação com outro candidato, verbalmente, por escrito, ou por qualquer outra forma;
- for apanhado em flagrante, utilizando-se de qualquer meio, na tentativa de burlar a prova, ou for responsável por falsa identificação pessoal;
- ausentar-se da sala de prova, antes da entrega do cartão de resposta e de assinar a ata de presença;
- recusar-se a proceder a identificação de seu cartão resposta, devidamente assinado no espaço próprio.
- Aos fiscais não existe a autorização para emissão de esclarecimentos sobre o conteúdo das provas. Sendo esta atribuição de única e exclusiva responsabilidade do candidato.

BOA SORTE

1. Duas sapatas curvas, cada qual com um revestimento apertam contra o interior de um tambor e, em alguns automóveis, esse sistema de frio é usado nas quatro rodas. O texto refere-se ao:

- a) Sistema de freio a disco c) Sistema de freio a tambor e) Sistema de Freio Eletrônico
b) Sistema de freio a vácuo d) Sistema de freio ABS

2. O Sistema Nacional de Trânsito composto por:

- a) Um conjunto de órgãos e entidades da União, dos Estados, do Distrito Federal e dos Municípios.
b) Pelos Estados juntamente com o Distrito Federal e os Municípios.
c) Conjunto de órgãos e entidades da União, os Estados e o Distrito Federal.
d) Conjunto de associações da União, dos Estados e dos Municípios.
e) Conjunto de órgãos e entidades da União, do Distrito Federal e dos Municípios.

3. Todas as afirmações correspondem a placas de advertência, exceto:

- a) Dê a preferência c) Via lateral à direita e) Bonde
b) Bifurcação em “T” d) Interseção em círculo

4. Assinale a alternativa cuja afirmação *não* está de acordo com o artigo 10, do Código de Trânsito Brasileiro, quanto aos componentes do CONTRAN.

- a) Um representante do Ministério da Ciência e Tecnologia.
b) Um representante do Ministério do Exército.
c) Um representante do Ministério do Meio Ambiente e da Amazônia Legal.
d) Um representante do Ministério do turismo.
e) Um representante do Ministério dos Transportes.

5. Assinale a alternativa que *não* está de acordo quanto ao que dispõe o Art. 14. do Código de Trânsito Brasileiro. “Compete aos Conselhos Estaduais de Trânsito - CETRAN e ao Conselho de Trânsito do Distrito Federal – CONTRANDIFE”:

- a) Cumprir e fazer cumprir a legislação e as normas de trânsito, no âmbito das respectivas atribuições;
b) Elaborar normas no âmbito das respectivas competências;
c) Estimular e orientar a execução de campanhas educativas de trânsito;
d) Responder a consultas relativas à aplicação da legislação e dos procedimentos normativos de trânsito;
e) Coletar dados e elaborar estudos sobre os acidentes de trânsito e suas causas

6. Assinale a alternativa cuja afirmativa está totalmente de acordo quanto ao que dispõe o artigo 29 do Código de Trânsito Brasileiro. “O trânsito de veículos nas vias terrestres abertas à circulação obedecerá às seguintes normas”.

- a) A circulação far-se-á pelo lado esquerdo da via, admitindo-se as exceções devidamente sinalizadas;
b) O trânsito de veículos sobre passeios, calçadas e nos acostamentos, só poderá ocorrer para que se adentre ou se saia dos imóveis ou áreas especiais de estacionamento;
c) Os veículos precedidos de batedores não terão prioridade de passagem, respeitadas as demais normas de circulação;
d) Todo condutor deverá, antes de efetuar uma ultrapassagem, certificar-se de que algum condutor que venha atrás haja começado uma manobra para ultrapassá-lo.
e) Todo condutor ao efetuar a ultrapassagem deverá aproximar-se do usuário ou usuários aos quais ultrapassa, de tal forma que mantenham uma distância lateral de segurança.

7. Assinale a alternativa correta.

04 - Nas interseções e suas proximidades, o condutor não poderá efetuar ultrapassagem.


08 - O condutor que for ingressar numa via, procedente de um lote lindeiro a essa via, deverá dar preferência aos veículos e pedestres que por ela estejam transitando.

16 - Qualquer condutor deverá frear bruscamente seu veículo, salvo por razões de segurança.

32 - A velocidade mínima não poderá ser inferior à metade da velocidade máxima estabelecida, respeitadas as condições operacionais de trânsito e da via

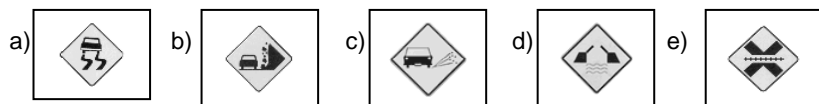
A soma de todas afirmativas verdadeiras é:


- a) 12 b) 24 c) 48 d) 44 e) 20

8. A referida placa  indica:

- a) Assoreamento de pista
b) Lombada
c) Depressão
d) Pista irregular
e) Área alagada

9. Projeção de cascalho é representado pela placa:



10. A referida placa  (verifique os freios) pertence à categoria:

- a) Regulamento
b) Atrativos turísticos
c) Advertência
d) Educativa
e) Indicação

11. O rolamento do piloto compõe:

- a) Pequeno rolamento de agulha na saída da árvore de manivelas, para apoio da árvore – piloto do câmbio.
b) Médio rolamento de agulha na saída da árvore de manivelas, para apoio da árvore – piloto do câmbio.
c) Grande rolamento de agulha na saída da árvore de manivelas, para apoio da árvore – piloto do câmbio.
d) Pequeno rolamento de agulha na entrada da árvore de manivelas, para apoio da árvore – piloto do câmbio.
e) Intermediário rolamento o cilindro na saída da árvore de manivelas, para apoio da árvore – piloto do câmbio.

12. Prisioneiro, elemento de fixação que fica permanente rosqueado numa das partes. Faz o mesmo papel:

- a) Da porca
b) Do parafuso
c) Da arruela
d) Do cilindro
e) Da árvore de comando

13. "Elemento frenante proporcionado pelo motor numa descida". O texto refere-se ao:

- a) Freio interno
b) Freio ABS
c) Freio motor
d) Freio mecânico
e) Freio de serviço

14. "Espelho convexo que possui dois raios de curvatura, um bem pequeno na extremidade para proporcionar amplo campo visual e outro maior, para garantir boa visibilidade". O texto refere-se ao:

- a) Espelho convexo.
b) Espelho intra-visual
c) Espelho molecular
d) Espelho esférico
e) Espelho duplo dimensional

15. "Válvula que abre e fecha a passagem do líquido ou gás descobrindo ou cobrindo uma janela ou duto". O texto refere-se à:

- a) Válvula de potência.
b) Válvula de pressão de óleo
c) Válvula – estilete
d) Válvula termostática
e) Válvula rotativa.

Leia o texto abaixo:

"Há sete anos não sei o que é sentir o gosto do álcool"

"Quis ser radical na escolha do meu tratamento. Não podia mais conviver com a preocupação do meu marido e das minhas filhas em relação a mim. Além disso, tinha medo de decepcioná-los. Por isso, optei por ser medicada e me livrar da bebida de uma vez por todas. Durante três meses usei a medicação e, por quatro anos, frequentei um grupo de apoio. Há sete anos não sei o que é sentir o gosto do álcool. Nenhum tratamento teria sido eficaz, porém, sem a compreensão e a paciência da minha família. Sem eles, na verdade, não teria nem mesmo notado que estava me tornando alcoólatra..

Maria Cristina de Camargo, 57 anos

<http://veja.abril.com.br/090909/boia-prevencao-p-86.shtml>

16. Pela estrutura do texto acima e por suas características, podemos afirmar que ele é:

- a) um depoimento
b) um artigo
c) uma carta
d) uma crônica
e) um recado

17. Escreve-se com S, assim como "QUIS":

- a) avulso
b) aseite
c) des
d) arros
e) basar

18. Ao separar a palavra "escolha" temos:

- a) um dígrafo que se separa
b) dois encontros consonantais
c) um dígrafo que não se separa
d) um dígrafo e um encontro vocálico
e) dois dígrafos inseparáveis

19. A palavra "preocupação" está corretamente separada em:

- a) pre-o-cu-pa-ção
b) preo-cu-pa-ção
c) pre-o-cupa-ção
d) pre-o-cu-pa-ção
e) preo-cupa-ção

20. Quando escreve “**além disso**” a autora do texto quer dizer:

- a) além da preocupação do marido e das filhas
- b) além do medo de decepcionar o marido e as filhas
- c) além de ser radical na escolha da medicação
- d) além de parar de beber
- e) além de tudo que a bebida fez

21. Ao separar a palavra **ISSO**, temos:

- a) dígrafo inseparável
- b) encontro consonantal que se separa
- c) encontro consonantal inseparável
- d) dígrafo que se separa
- e) três sílabas

22. Em “**frequentei**” temos a seguinte separação correta de sílabas:

- a) fre-qu-en-tei
- b) fre-quen-tei
- c) fre-que-nte-i
- d) fre-quen-te-i
- e) frequ-en-tei

23. A palavra “**nenhum**” possui:

- a) uma sílaba átona
- b) duas sílabas
- c) três sílabas
- d) quatro sílabas
- e) um exemplo de ditongo

24. A palavra “**álcool**” perde o acento quando forma **alcoolismo**, porque:

- a) passa a ser oxítone
- b) passa a ser paroxítone terminada em L
- c) passa a ser paroxítone terminada em O
- d) passa a ser proparoxítone
- e) ganha mais uma sílaba

25. A palavra “**tratamento**”, após a separação, apresenta:

- a) um encontro consonantal na mesma sílaba
- b) dois encontros consonantais na mesma sílaba
- c) um hiato
- d) um tritongo
- e) um dígrafo em sílabas separadas

26. Dona Judite e sua neta vão para o pomar e pegam 40 laranjas. Chegando a casa, jogou fora 2/5 das laranjas, porque estavam estragadas. Qual a quantidade de laranjas que sobrou?

- a) 16 laranjas
- b) 24 laranjas
- c) 58 laranjas
- d) 46 laranjas
- e) 22 laranjas

27. A lei federal estipula que o atendimento bancário deva demorar no máximo 30 minutos, algo que não acontece nos bancos atualmente. Supondo que um cliente entre na fila às 10 horas e 20 minutos e que venha ser atendido 112 minutos após entrar na fila. Quantos minutos o cliente esperou a mais que o tolerável pela lei federal:

- a) 1 hora e 22 minutos
- b) 1 hora e 12 minutos
- c) 1 hora
- d) 1 hora e 02 minutos
- e) 1 hora e 17 minutos

28. Para medir a contorno do quadro na sala de aula, Felipe usou o palmo como unidade de medida. Sabe-se que foram 38 palmos e que o palmo de Felipe mede 16 centímetros. Podemos garantir que o contorno do quadro em metros é:

- a) 4,5 metros
- b) 7,05 metros
- c) 6,86 metros
- d) 6,08 metros
- e) 5,48 metros

29. Na farmácia São José o gerente faz anotações do lucro, durante quatro dias consecutivos, observa que: no primeiro dia (segunda-feira) a arrecadação foi de R\$ 100,00; no dia seguinte a arrecadação supera o primeiro em R\$ 80,00; no terceiro dia arrecada 1/3 a mais que o segundo dia; no quarto dia arrecada 2/3 do segundo dia. Nessa situação, o total arrecada nos quatro dias é:

- a) R\$ 820,00
- b) R\$ 760,00
- c) R\$ 440,00
- d) R\$ 530,00
- e) R\$ 640,00

30. Quatro irmãos pescadores pescaram 86 peixes cada um. Mas, dois deles devolveram ao mar 12 peixes cada um, porque eram peixes pequenos, e outro jogou 5 peixes. Quantos peixes eles vão levar para casa?

- a) 315 peixes
- b) 329 peixes
- c) 311 peixes
- d) 286 peixes
- e) 275 peixes