

PREFEITURA MUNICIPAL DE LAJEDO

CONCURSO PÚBLICO PARA PROVIMENTO DE VAGAS EM CARGOS NO QUADRO PERMANENTE

CADERNO DE PROVA

NÍVEL MÉDIO

Prova: Auxiliar Administrativo II

Leia com atenção:

01. Só abra este caderno após ler todas as instruções e quando for autorizado pelos fiscais de sala.
02. Preencha seus dados pessoais no quadro abaixo.
03. Autorizado o início da prova, verifique se este caderno contém 40 questões.
04. Todas as questões desta prova são de múltipla escolha, apresentando como resposta uma alternativa.
05. Assinale a resposta de cada questão no corpo da prova e, só depois transfira os resultados para a Folha de Respostas.
06. Confira também na sua Folha de Respostas, todos os seus dados impressos.
07. Para marcar a Folha de Respostas utilize caneta esferográfica de cor azul ou preta. A marcação é definitiva, não admitindo rasuras e em nenhuma hipótese ela será substituída.
08. Não risque, não amasse, não dobre e não suje a Folha de Respostas, pois isso poderá prejudicá-lo.
09. Os fiscais não estão autorizados a emitir opinião, nem a prestar esclarecimentos sobre o conteúdo da prova. Cabe única e exclusivamente ao candidato interpretar e decidir.
10. **É facultada ao candidato, após o decurso de 2h (duas horas) da aplicação das provas,** a transcrição de suas respostas, registradas no documento oficial (Folha de Respostas), para um formulário específico, denominado **Folha de Cópia de Respostas**, entregue pelo fiscal de sala após o tempo acima decorrido, sendo este formulário o único documento permitido para este fim.

NOME: _____ SALA: _____

INSCRIÇÃO: _____ IDENTIDADE: _____ ORGÃO/UF: _____

ASSINATURA: _____

PROVA: LÍNGUA PORTUGUESA

TEXTO 1

O CIENTISTA DA CONSCIÊNCIA

(É difícil meditar quando se tem fome, diz o físico que foi monge)

Alan Wallace tem uma característica especial que o diferencia dos seus pares na área da física e da neurobiologia: foi durante 20 anos um monge budista, morou em Dharamsala, na Índia, traduziu mais de 30 livros do tibetano para o inglês, estudou com os mais altos mestres do Tibete e ainda ocupou o posto de interprete oficial de sua santidade, o Dalai-Lama. Hoje, novamente como cientista e físico e autor de quatro importantes livros sobre ciência e práticas contemplativas, Wallace comanda um verdadeiro exército de neurocientistas, antropólogos, sociólogos e psicólogos no Instituto Santa Bárbara de estudos da Consciência, na Califórnia. Sua missão principal é analisar os efeitos da meditação nos seres humanos em dezenas de experimentos e numa enorme gama de voluntários - desde quem nunca meditou até monges com milhares de horas dedicadas à prática. As descobertas desses estudos surpreendem e seu olhar sereno sobre o despertar interno da consciência traz esperança para a humanidade. Alan Wallace esteve em junho no Brasil a convite do Centro de Estudos Budistas Bodisatva para dar palestras em várias capitais brasileiras e lançar seu último livro, *As Dimensões Escondidas*. (...)
(Vida Simples, outubro 2009. Edição 84. Pág. 42.)

1. Analise:

- I. Trata-se de um texto reflexivo e que nos pode levar a refletir sobre o nosso viver.
- II. Alan Wallace é um monge e um cientista que defende a arte de meditar.
- III. Alan é autor de livros sobre a arte contemplativa.
- IV. Wallace é uma espécie de mentor de vários profissionais: de antropólogos a psicólogos.
- V. Alan busca analisar os efeitos da meditação nos seres humanos.

Sobre o tema e o texto em análise, estão corretas apenas as afirmativas:

- a) I, III, IV e V.
- b) I, IV e V.
- c) II, III, IV e V.
- d) I, II, III e IV.
- e) II, IV e V.

2. Em "... para dar palestras em várias capitais..." existe um valor semântico idêntico ao explícito na alternativa:

- a) Desde que sejas responsável, o lugar será teu.
- b) Enquanto olha as nuvens passar, medita na bondade divina.
- c) A fim de que tenhas um belo amanhã, invista no hoje.
- d) Como possui bons amigos, nunca está sozinho.
- e) Consoante os designios divinos, sairemos vitoriosos.

3. "... enorme gama de voluntários..." "gama" no contexto tem o sentido de quantidade, de número. Identifique a alternativa em que existe inadequação do vocábulo empregado.

- a) O amanhã é sempre incerto.
O assunto está inserto no texto.
- b) Fez cessão de grande parte dos bens aos pobres.
Precisamos ir à seção de cerâmica, pois está em remarcação.
- c) A discriminação da droga é algo dilacerante para o ser humano.
Agora, façamos a discriminação dos alimentos por especificidade.
- d) O colega diz sempre: vai, arrie sua carta.
O garoto disse ao encarregado: arrie meu cavalo, quero passear.
- e) O assunto passou despercebido, nem lembrei estudar.
Estou despercebido, por isso não irei ao restaurante.

4. Sobre a construção do texto, todas as alternativas estão corretas, exceto:

- a) Está escrito de acordo com a variedade formal da língua.
- b) Há verbos regulares e irregulares.
- c) Os períodos são construídos apenas com elementos relacionais subordinados.
- d) Existe vírgula separando termos circunstanciais.
- e) Há palavras empregadas em sentido conotativo.

TEXTO 2

PERDOAR FAZ BEM PORQUE LIVRA A PESSOA DAS AMARRAS DO ÓDIO E DA INJUSTIÇA

Na Bíblia, o perdão é tema recorrente. No Velho Testamento, em Levítico (16:29-31), encontramos que Moisés instituiu um dia dedicado à purificação dos pecados. Considerado como um "estatuto perpétuo", tal data é respeitada pelos judeus, que a chamam de Yom Kippur - o dia do perdão. A importante ocasião ocorre logo após o Rosh Hashanan - o ano-novo judeu. Pedagógica correlação, pois esclarece que não se deve iniciar um novo ciclo sem perdoar e obter perdão

Moisés havia subido o monte Sinai para ter um encontro com o Divino, de quem recebeu os Dez Mandamentos. Ao descer, a decepção. Encontrou os hebreus adorando uma imagem, uma estátua de bezerro, ignorando seus conselhos de que só devem adorar a Deus. Em sua revolta, atirou as tábuas no chão, quebrando-as, e não lhe restou saída senão voltar à montanha e pedir novas tábuas a Deus, implorando-lhe, também, o perdão. Ele então instituiu aquele dia para marcar o perdão concedido pelo Senhor, a iniquidade de seu povo e a sua própria ira.

As orações e o jejum praticados no dia do perdão, além do compromisso de o ofensor não mais cometer as transgressões novamente, são alguns dos passos seguidos por aquele que quer limpar suas mágoas para começar purificado o novo ano.

Foi nesse dia, em que a noção de perdão foi pela primeira vez esboçada como um importante valor humano, e também foi ali, dentro dessas mesmas raízes judaicas, que o cristianismo brotou.

O Pai-nosso, a oração mais importante entre os cristãos - que teria sido ensinada pelo próprio Cristo - considera o perdão uma forma de estabelecer uma relação com Deus e com os homens. "Perdoai nossas ofensas assim como perdoamos a quem nos tem ofendido", diz uma passagem, antes de pedir força para evitar as tentações e proteção contra os infortúnios da vida. Sim, o perdão precede o poder e a segurança. (...) (Vida Simples, outubro 2009. Edição 84. Pág. 52.)

5. Considerado como um "estatuto perpétuo". Existe claramente uma comparação, identifique a alternativa em que há metonímia, no período.

- a) Os pássaros sorriam alegres com sua felicidade.

- b) A mocidade deveria aproveitar o hoje com plenitude.
c) Fiquemos silentes, sem sermos sisudos sempre, assim é preciso.
d) Viveremos sempre em um céu, se soubermos fazer opção.
e) Mil idéias surgem, confundem-se, emaranham-se, difícil separá-las.

6. "Ao descer, a decepção..."

A vírgula existente no excerto foi posta porque é:

- a) Obrigatória, por separar oração reduzida.
b) Facultativa e assim fica mais eufônico.
c) Um caso específico, em que seria melhor não haver virgulação.
d) Indício de haver um termo elítico.
e) Indica apenas ênfase.

7. "... implorando-lhe, também o perdão."

Identifique o período em que o pronome sublinhado é indicativo de posse, possuindo valor de restrição.

- a) Todos foram unânimes em lhe dar os parabéns.
b) Já lhe agradei por todo o bem que você fez à comunidade.
c) Agora sim, acertam-lhe o corte de cabelo. Está maravilhoso!
d) Deus lhe perdoa a todo o momento, acredite nisso.
e) Escrevemos-lhe sempre, mas nunca recebemos retorno.

8. Sobre o texto em análise.

- I. Tem como idéia-núcleo o perdão.
II. Dentre outros aspectos, aborda o Velho Testamento.
III. Evoca o "Pai - nosso" como sendo a oração mais importante para os cristãos.
IV. Há vários passos a serem observados a fim de se obter o perdão.
V. Deduz-se que o perdão é muito importante como atitude para o ser humano.

Estão corretas apenas as afirmativas da alternativa.

- a) I, II, III, IV e V.
b) I, II, III e V.
c) II, III, IV e V.
d) II, IV e V.

- e) I, III e IV.
9. "... voltar à montanha..."
"... concedido pelo Senhor à iniquidade..."
Nos excertos, o acento indicativo de crase está posto adequadamente. Assinale a alternativa em que há falha quanto ao emprego do referido acento.
- a) Vivemos sempre submissos às leis, porque sem elas a sociedade pioraria.
b) Pedimos, pois, à Vossa Senhoria que compareça, com brevidade, à sessão, pois ela já foi iniciada.
c) Assistimos várias vezes àquele maravilhoso filme.
d) À tarde sairemos, para os costumeiros passeios.
e) Às vezes, perdemo-nos em devaneios em meio ao bucolismo das paisagens.
10. "Moisés havia subido..."
Sobre a forma verbal sublinhada, existe uma única afirmação correta, identifique-a.
- a) Encontra-se no modo subjuntivo, mais que perfeito.
b) Está no pretérito perfeito do subjuntivo.
c) Constitui uma perífrase de uma forma nominal.
d) É uma perífrase verbal, pretérito mais que perfeito composto do Indicativo.
e) Encontra-se no modo imperativo composto, afirmativo.
11. "... atirou as tábuas ao chão quebrando-as..."
O pronome pessoal átono está empregado adequadamente, identifique a alternativa em que a observância à colocação falhou:
- a) Ontem, levantamo-nos cedo para a caminhada.
b) Disse-lhe tudo que era preciso. Agora todos estão satisfeitos.
c) Far-me-á bem ouvir aquela maravilhosa música clássica.
d) Não é necessário mais nada, já falou-lhe o imprescindível.
e) O livro? Dá-lo-ei a ti assim que terminar a leitura.
12. "As orações e o jejum praticados..."
Observe a concordância do adjetivo com os dois substantivos, quando também poderia o adjetivo concordar com o substantivo mais próximo. Em uma das alternativas, existe uma concordância inadequada, assinale-a.
- a) Mais de um estudante recebeu elogios na classe.
b) Um dos que sabiam mais o conteúdo do teste era você.
c) Quem de vocês trouxe o relógio para dizer-me as horas?
d) Já soaram as doze horas no despertador da sala.
e) É necessário muita ajuda para aquela população sair da miséria.
13. "Perdoai nossas ofensas..."
Pondo a forma verbal, em destaque, na 2ª pessoa do singular, no negativo, ter-se-á:
- a) Não perdoes...
b) Não perdoas...
c) Não perdoe...
d) Não perdoa...
e) Não perdoais...
14. Quanto à regência nominal ou verbal, o texto se encontra correto. Identifique nas alternativas abaixo a única alternativa cuja regência foi desrespeitada em um dos períodos.
- a) Assistimos ao filme.
Vimos o filme.
b) O médico assistiu os doentes.
O médico auxiliou os doentes.
c) Desejamos a todos um excelente amanhã.
Aspiramos a todos um excelente amanhã.
d) O palestrante renunciou ao convite.
O palestrante declinou o convite.
e) Foi muito difícil sair daquela situação.
Custou-lhe sair daquela situação.

TEXTO 3

O DIA EM QUE A LIBERDADE VENCEU

Para quem tem menos de 30 anos, a expressão "Cortina de Ferro" apenas é estranha. Ela foi, no entanto, sinônimo de um pesadelo que tirou o sono do mundo por mais de quatro décadas no século passado. Em 1946, em um discurso nos Estados Unidos, Winston Churchill, que vencera a guerra contra Hitler, mas já fora apeado do poder na Inglaterra, usou-a pela primeira vez no contexto geopolítico: "de Szczecin, no Báltico, a Trieste, no Adriático, uma cortina de ferro desceu sobre o continente". Churchill se referia ao domínio territorial que a União Soviética estabelecera na Europa, engolfando oito países em sua órbita, entre eles a Alemanha Oriental. No dia 9 de novembro, completam-se vinte anos da queda do muro de Berlim, evento que marca o

começo da derrocada soviética e do sistema comunista. Com o muro, foi-se também a Cortina de ferro, e a Alemanha unificou suas bandas ocidental e oriental, voltando a ser um só país.

O jornalista de VEJA Diogo Schelp, que quando criança morou com os pais na Alemanha, lembra-se de um colega de escola apontando com temor as torres dos guardas armados na fronteira entre a Alemanha Ocidental e a Oriental. Schelp voltou diversas vezes à Alemanha. Sua última viagem foi a trabalho. Ele embarcou com a missão jornalística de entender o que mudou no país desde a unificação. A reportagem de Schelp começa na página 126. Ela rememora o mais extraordinário evento político da segunda metade do século XX, a queda do Muro de Berlim e o subsequente desmoronamento do que parecia ser o vigoroso império soviético e que acabou se revelando um colossal fracasso político, econômico e social.

Para o mundo, o muro em escombros trouxe alívio com o fim da Guerra Fria - a hostilidade entre os campos capitalista e comunista, cada um deles com capacidade de destruir o outro com ogivas nucleares. Esse empate de forças militares ficou conhecido pela sigla MAD, louco, em inglês, e acrônimo de "destruição mútua assegurada".

Erguido pelos comunistas em 1961, o muro foi o símbolo da servidão imposta às pessoas atrás da Cortina de Ferro. O comunismo sobreviveu à queda do muro como utopia dos desavisados e como farsa em Cuba e na Coreia do Norte, onde ainda se processam experiências de empobrecimento das populações.

Veja, edição 2138 - ano 42 - nº 45 de 11 de novembro 2009

Apenas estão corretas as afirmativas da alternativa:

- a) I, II, III, IV e V.
- b) I, II, III e IV.
- c) I, III e IV.
- d) II, III, IV e V.
- e) II, IV e V.

15. Analise as afirmações.

- I. A idéia-núcleo do texto é um acontecimento histórico, ocorrido no século passado.
- II. A queda do muro de Berlim foi apenas um ato simbólico a fim de sugerir a derrocada do partido comunista.
- III. Nessa época, houve o término da Guerra Fria, da hostilidade entre os movimentos capitalista e comunista.
- IV. O texto pertence a um tipo de literatura jornalística, com predominância da função de linguagem informativa.
- V. "Queda e derrocada" possui uma relação de sinonímia; em "queda e ascensão", a relação é de antonímia.

PROVA: MATEMÁTICA

16. A tabela a seguir, apresenta o consumo mensal de água de certa família, durante o 1º trimestre de 2009.

MESES	CONSUMO / LITROS
JAN	31.635
FEV	25.748
MAR	27.984
TOTAL	?

É correto afirmar que no 1º trimestre de 2009, essa família consumiu aproximadamente:

- a) 853,67 m³
- b) 853,76 m³
- c) 763,58 m³
- d) 85,37 m³
- e) 85,73 m³

17. A Associação de Moradores do bairro da Várzea necessita saber a área da praça principal, a fim de contratar uma empresa para executar os serviços de limpeza naquele logradouro.



A Associação dividiu a área da praça em figuras geométricas conhecidas e, através das medidas apresentadas, em metros na figura acima, concluiu que a área aproximada da praça, em m², é:

- a) 435
- b) 445
- c) 455
- d) 465
- e) 475

18. A queda do preço da gasolina incentivou a Profª Amada rever sua terra natal. Ela desembolsou R\$ 265,20 para abastecer seu carro no posto Espinheiro, onde a gasolina custa R\$ 2,60. Na viagem de ida e volta para Arcoverde seu carro consumiu, em média, 6 litros de combustível para cada 50 quilômetros rodados. Quantos quilômetros a professora percorreu nessa viagem?

- a) 750
- b) 800
- c) 850
- d) 900
- e) 950

19. A carne bovina, rica em proteínas, é comercializada em todo país. Com a chegada do verão seu preço, cotado em arroba, caiu de R\$ 86,50 para R\$ 61,50. A fazenda Bezerros tomou um grande prejuízo deixando de vender 4,5 toneladas de carne no período chuvoso, quando o preço estava em alta. Considerando que uma arroba equivale a 15 kg, assinale a alternativa que representa, aproximadamente, o prejuízo do fazendeiro, caso ele venda o boi a preço de verão.

- a) R\$ 5.500,00
- b) R\$ 6.500,00
- c) R\$ 7.500,00
- d) R\$ 8.500,00
- e) R\$ 9.500,00

20. Após seis meses de trabalho extra, Carlos Alberto decidiu emprestar suas economias ao seu irmão Marcelo, visando reforçar o capital da empresa. Como o negócio é de irmão para irmão, a taxa cobrada foi de 5% ao mês, em regime de juros simples. Acertaram que o pagamento do empréstimo ocorreria quando o montante da operação atingisse o dobro do valor inicialmente emprestado. Depois de quantos meses Marcelo terá que efetuar o pagamento ao irmão?

- a) 20
- b) 21
- c) 22
- d) 23
- e) 24

21. A cliente de uma loja deseja saber o preço à vista do fogão apresentado na propaganda abaixo. Pela falta de clareza, ela obtém do vendedor as seguintes informações:

- Preço à prazo = Preço à vista acrescido de 80% do preço à vista, pago em 24 parcelas iguais de R\$ 21,00.

A cliente conclui que o preço à vista é de R\$:

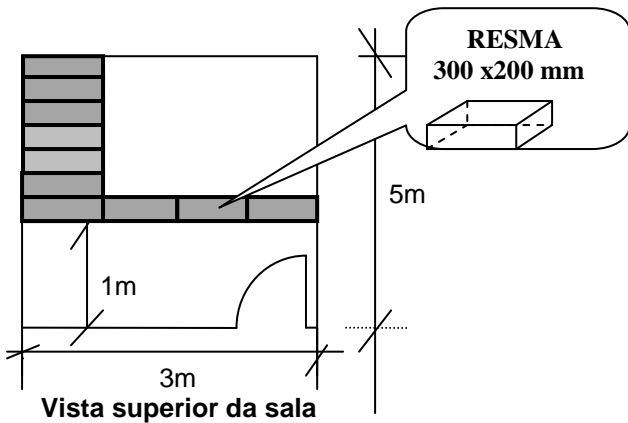


- a) 100,80
- b) 280,00
- c) 380,80
- d) 403,20
- e) 480,00

O texto a seguir refere-se às questões 22 e 23.


O estoque de papel de certa copiadora é armazenado em pilhas de 30 pacotes. Cada pacote mede, aproximadamente, 300 mm de comprimento por 200 mm de largura e contém 500 folhas (uma resma).

22. Quantas resmas podem ser armazenadas nessa sala, seguindo o esquema apresentado na figura abaixo?



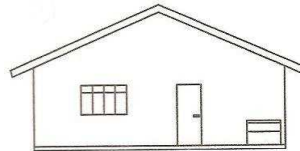
- a) 3.000
- b) 4.000
- c) 5.000
- d) 6.000
- e) 7.000

23. Qual a altura de cada pilha de papel, sabendo-se que cada folha tem espessura de 0,1 mm. Desconsidere a espessura do papel que embrulha os pacotes, como mostra a figura abaixo?



- a) 1m
- b) 1,5m
- c) 2m
- d) 2,5m
- e) 3m

24. O telhado da casa de Helinho será substituído por uma laje de concreto de 20 centímetros de espessura. A nova cobertura tem duas caídas de água, medindo cada uma delas 15 metros de comprimento por 7 metros de largura. Qual o volume de concreto, em metros cúbicos, necessário para construir a laje?



- a) 16
- b) 22
- c) 32
- d) 42
- e) 52

25. O resultado da expressão numérica abaixo é um número racional que tem a forma a/b .

$$\left[\left(\frac{1}{2} - \frac{1}{3} \right) - \left(\frac{1}{6} - \frac{1}{10} \right) \right] \cdot \frac{2}{3}$$

Manoel, sertanejo sabido, subtraiu o numerador do denominador e encontrou 14. Qual é o número?

- a) 1/15
- b) 2/16
- c) 3/17
- d) 4/18
- e) 5/19

26. Blocos retangulares como o apresentado na Figura 2, serão acondicionados em pilhas como a mostrada na Fig. 1, para serem transportados por via marítima. Sabe-se que o custo do transporte marítimo é R\$ 25,00 por metro cúbico.

Com base nas figuras apresentadas, quantas pilhas desses blocos a empresa Navegas pretende transportar se o custo desse serviço foi estimado em R\$ 324,00?

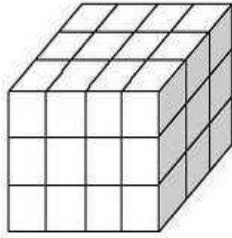


Fig. 1

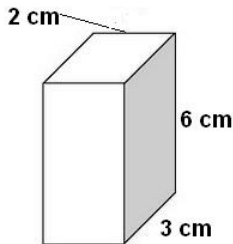


Figura 2

- a) 8.000
- b) 8.500
- c) 9.000
- d) 9.500
- e) 10.000

27. Leia a matéria (<http://creditoautomatico.com.br>):

Afirma, em nota, o diretor comercial do Banco Bonsucesso, Frederico Penido: "Nossa expectativa é encerrar o ano com 150 mil cartões distribuídos, com um volume emprestado de R\$ 200 milhões no convênio do INSS".

O Banco Bonsucesso atingiu a marca dos R\$ 200 milhões emprestados em 01 de outubro de 2009.

Admita que a contar daquela data o banco negociou com o INSS os R\$ 200 milhões do convênio, em regime de juros simples à taxa de 2% ao mês. Nessas condições o valor total dos juros cobrados sobre o capital inicial ao final de 2 anos será, em R\$:

- a) 9,5 milhões
- b) 9,6 milhões
- c) 9,7 milhões
- d) 9,8 milhões
- e) 9,9 milhões

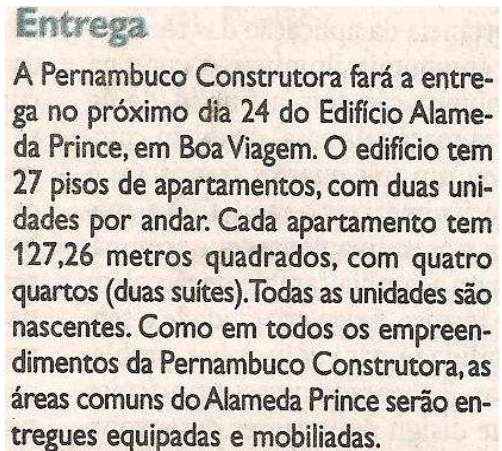
28. Observe a figura:



Qual percentual é aplicado ao preço à vista do receptor de TV digital, quando vendido com pagamento parcelado em 12 vezes como mostra a propaganda acima?

- a) 20%
- b) 25%
- c) 30%
- d) 35%
- e) 40%

29. Leia a notícia publicada no Diário de Pernambuco de 13 de novembro de 2009:



Com base nesta nota, pode-se afirmar que a área total(at) de apartamentos construído no edifício Alameda Prince, em hectares(ha) está entre o intervalo:

- a) ≤ 0.5 ha
- b) $0.5 < at \leq 1$ ha
- c) $1 < at \leq 1.5$ ha
- d) $1.5 < at \leq 2$ ha
- e) > 2 ha

30. Observe o quadro, disponibilizado pela Secretaria da Receita Federal do Brasil em www.receita.fazenda.gov.br.

Quota Nº	Data de Vencimento	Principal	% Multa	% Juros	Valor Total
7	30/11/2009	256,50	20	5,5	

modificada para fins didáticos

Ele mostra os encargos financeiros (juros e multa), cobrados pelo órgão, tendo em vista o atraso no pagamento da 7ª cota do Imposto de Renda 2009, vencida em 30 de outubro. Com base neste quadro, pode-se afirmar que valor total a ser pago pelo contribuinte até o dia 30.11.2009 é, aproximadamente, R\$:

- a) 321,91
- b) 331,91
- c) 341,91
- d) 351,91
- e) 361,91

PROVA: CONHECIMENTOS GERAIS

31. Costuma-se dizer que a *internet* foi a maior invenção dos últimos tempos, sua influência se faz sentir em todos os setores da atividade humana, a propósito dessa influência pode-se afirmar com segurança, como única alternativa correta, que:

- a) Através dessa ferramenta, surgiu a educação *on line*, praticamente a primeira experiência de educação a distância que ocorreu na história da humanidade.
- b) Com essa ferramenta modificaram-se os conceitos, comportamentos, métodos de aprendizagem, mas, também deve-se a ela, a geração de condições para a criação de viciados eletrônicos, pedófilos e sabichões que penetram nos segredos mais fechados e mexem até em nossa conta bancária.
- c) Com essa ferramenta, formou-se uma filosofia de indiferença, antes completamente inexistente nas relações humanas e praticamente a educação escolar ficou totalmente deformada.
- d) A vida ficou mais difícil para as populações dos países mais pobres, vez que esses povos não têm acesso a essa tecnologia.
- e) Com essa ferramenta, finalmente a tecnologia chegou aos lares dos mais pobres e as escolas passaram a fazer uso das variadas formas de tecnologias que antes ignorava por completo.

32. Recentemente, no Brasil, a nossa maior empresa a Petrobrás desenvolveu tecnologia para chegar aonde nenhuma outra empresa chegou: 06 mil metros de profundidade, na camada do pré sal. Sobre ela qual a afirmativa que se apresenta correta.

- a) Em poucos anos, o Brasil se tornará o maior produtor de álcool e petróleo no mundo.
- b) Lá a Petrobrás descobriu uma grande camada de petróleo e gás e produzirá tal quantidade de matérias-primas que praticamente a humanidade poderá dispensar a utilização de combustíveis fósseis no mundo.
- c) A descoberta brasileira será utilizada como forte pressão para se repensar a utilização do carro no mundo.
- d) A economia ocidental sofrerá tal influência com essa importante descoberta que o transporte metroviário poderá experimentar uma grande expansão.
- e) Na camada do pré-sal, a Petrobrás descobriu uma quantidade gigantesca de petróleo, que estima-se que a produção petrolífera brasileira deverá dobrar.

33. Hoje os estados nordestinos e, dentre eles Pernambuco, são áreas de grandes potencialidades para o desenvolvimento do turismo. Abaixo seguem alternativas que apresentam as afirmações sobre atrações turísticas de nosso estado, porém há uma que se apresenta incorreta e é essa que deve ser assinalada.

- a) Em Pernambuco, há estações de lazer em cidades localizadas a mais de 500 metros de altitude, como Taquaritinga do Norte, Gravatá Triunfo, Garanhuns.
- b) O artesanato, sobretudo em barro, é produzido em todo o território estadual, tendo maior importância em Caruaru, onde, no Alto do Moura vivem numerosos oleiros que produzem estatuetas largamente difundidas no Brasil e no exterior.
- c) Nas margens do São Francisco, Petrolina é também importante cidade na produção de carrancas de madeira e barro e agora a produção de uva e vinho é importante atividade que já atrai visitantes.
- d) Na zona da mata, podemos destacar o centro turístico de Porto de Galinhas e Tamandaré e a implantação do projeto costa Dourada, em desenvolvimento nos municípios de Nazaré da Mata, Carpina e Limoeiro.
- e) Merece destaque na várzea do Capibaribe, Recife, a Oficina Cerâmica de Brennand, onde ocorre produção de cerâmica, pintura e outros produtos que têm projeção internacional.

34. Os primeiros socorros são as primeiras providências tomadas quando se está em um local de um acidente. As técnicas de primeiros socorros têm sido divulgadas para toda a sociedade em todas as partes do mundo. Assinale a alternativa válida que apresenta uma providência que deve ser tomada em caso de acidente:

- a) Procurar distanciar-se das vítimas, chamar o socorro urgente e aguardar pacientemente a chegada da equipe médica.
- b) Não tocar nas vítimas, mesmo que isso signifique uma intenção de aliviar as condições que ameaçam a vida dos que estão sofrendo.
- c) Fazer uma rápida avaliação da vítima e procurar aliviar as condições que ameaçam a vida ou agravar o quadro de vítima com a utilização de técnicas simples.
- d) Distanciar-se da vítima e do local onde ocorreu o acidente para não apavorar mais ainda as pessoas.
- e) Procurar acalmar as pessoas com palavras de conforto dirigidas às vítimas e preparando-as para um agravamento da situação e deixar que pessoas de fora providenciem socorro especializado.

35. A seguir segue um conjunto de cinco afirmações sobre regiões econômicas de Pernambuco.

- I. Pernambuco já é consagrado como polo industrial nordestino, na área de bebidas lácteas, e a base para a produção leiteira vem da sua bacia situada em municípios como Garanhuns, Bom Conselho, Lajedo, Capoeiras, Correntes, São Bento do Una e Sanharó.
- II. Importante polo que tem forte ligação com o setor construtivo brasileiro é o de cerâmica aí se destacando os municípios de Cabo de Santo Agostinho e Ipojuca.
- III. A economia de turismo de eventos é muito importante, sobretudo, levando-se em conta o famoso espetáculo da Paixão de Cristo em Nova Jerusalém.
- IV. O projeto Costa Dourada, em vias de desenvolvimento, tem como área os municípios do litoral Norte, como Goiana, Igarassu, Olinda, e Itamaracá
- V. A economia tradicional de produção açucareira tem seus destaques em municípios como Caruaru, Chã Grande e Nazaré da Mata.

Estão corretas apenas as afirmativas:

- a) III e IV.
- b) I e II.
- c) I, II e III.
- d) IV e V.
- e) I e V.

PROVA: NOÇÕES BÁSICAS DE INFORMÁTICA

36. Considere o aplicativo Microsoft Word, contendo um texto com dois parágrafos, onde o primeiro parágrafo foi formatado com Fonte Arial, Tamanho 12, estilo Negrito e Cor azul. Se você deseja repetir a mesma formatação para outro parágrafo, pode-se copiar a formatação do primeiro parágrafo usando:

- a) Ferramenta Pincel
- b) Recortar
- c) Copiar
- d) Limpar Formatação
- e) Substituir

37. Considere a planilha do Excel abaixo. Após preencher a célula D8 com a fórmula =SOMA(A1;C3) e teclar ENTER, o resultado encontrado na célula D8 será:

	A	B	C
1	2	10	100
2	4	20	200
3	6	30	300
4			

- a) 336
- b) 12
- c) 672
- d) 112
- e) 302

38. Considere as sentenças abaixo sobre Microsoft Word.

- I. Quando se guarda um documento pela primeira vez é indiferente escolher o comando SALVAR ou SALVAR COMO.
- II. É possível usar a mala direta quando deseja criar um conjunto de documentos, como uma carta modelo que é enviada a muitos clientes ou uma folha de etiquetas de endereço.
- III. É possível abrir arquivos com extensão TXT e logo em seguida salvar como documento do Word.

Das sentenças é correto afirmar:

- a) F, V, F.
- b) V, F, V.
- c) V, V, V.
- d) F, F, V.
- e) V, V, F.

39. O Microsoft Word é um processador de texto produzido pela Microsoft. No processador de texto Microsoft Word, um parágrafo define-se como um conjunto de texto terminado pela marca parágrafo - ¶. Esta marca poderá ser visualizada/escondida acionando um botão na parte superior da janela. Esta marca é criada sempre que se pressiona a tecla:

- a) TAB
- b) ENTER
- c) CTRL
- d) ESC
- e) END

40. Considere a planilha do Excel abaixo. Escolha a alternativa com a fórmula que não pode ser empregada para calcular a média do intervalo A1:E1

	A	B	C	D	E
1	10	20	30	40	50
2					

- a) = (A1 + B1 + C1 + D1 + E1) / 5
- b) = MEDIA(A1;B1;C1;D1;E1)
- c) = MEDIA(A1:E1)
- d) =MEDIA(A1:E1) / 5
- e) =SOMA(A1:E1) / 5