

## CONCURSO PÚBLICO

<b>CÓDIGO</b> <b>A11</b>	<b>PROVA</b> <b>V</b>	<b>ATENÇÃO: VERIFIQUE SE CÓDIGO E PROVA DESTE CADERNO DE QUESTÕES CONFEREM COM O SEU CARTÃO DE RESPOSTAS</b>
<b>MANHÃ</b>		

DER - DEPARTAMENTO DE ESTRADAS  
DE RODAGEM E TRANSPORTES**CARGO: BIBLIOTECÁRIO**

FRASE PARA EXAME GRAFOLÓGICO (TRANSCREVA NO QUADRO DE SEU CARTÃO DE RESPOSTAS)

*“A alegria é o segredo da beleza. Sem entusiasmo não há beleza que seja atraente.”**Christian Dior***A T E N Ç Ã O**

1. O **Caderno de Questões** contém questões de múltipla-escolha, cada uma com 5 opções A, B, C, D e E.
2. Ao receber o material, verifique no **Cartão de Respostas** seu nome, número de inscrição, data de nascimento, cargo e prova. Qualquer irregularidade comunique imediatamente ao fiscal de sala. Não serão aceitas reclamações posteriores.
3. Leia atentamente cada questão e assinale no **Cartão de Respostas** a opção que responde corretamente a cada uma delas. O **Cartão de Respostas** será o único documento válido para a correção eletrônica. O preenchimento do **Cartão de Respostas** e a respectiva assinatura serão de inteira responsabilidade do candidato. Não haverá substituição do **Cartão de Respostas**, por erro do candidato.
4. Observe as seguintes recomendações relativas ao **Cartão de Respostas**:
  - A maneira correta de marcação das respostas é cobrir, fortemente, com esferográfica de tinta azul ou preta, o espaço correspondente à letra a ser assinalada.
  - Outras formas de marcação diferentes implicarão a rejeição do **Cartão de Respostas**.
  - Será atribuída nota zero às questões não assinaladas ou com falta de nitidez, ou com marcação de mais de uma opção, e as emendadas ou rasuradas.
5. O fiscal de sala não está autorizado a alterar qualquer destas instruções. Em caso de dúvida, solicite a presença do coordenador local.
6. Você só poderá retirar-se definitivamente do recinto de realização da prova após 1 hora contada do seu efetivo início, **sem levar o Caderno de Questões**.
7. Você só poderá levar o próprio **Caderno de Questões** caso permaneça na sala até 1 hora antes do término da prova.
8. Por motivo de segurança, só é permitido fazer anotação durante a prova no **Caderno de Questões** e no **Cartão de Respostas**. Qualquer outro tipo de anotação será motivo de eliminação automática do candidato.
9. Após identificado e instalado na sala, você não poderá consultar qualquer material, enquanto aguarda o horário de início da prova.
10. Os três últimos candidatos deverão permanecer na sala até que o último candidato entregue o **Cartão de Respostas**.
11. Ao terminar a prova, é de sua responsabilidade entregar ao fiscal o **Cartão de Respostas**. Não esqueça seus pertences.
12. O **Gabarito Oficial da Prova Objetiva** será disponibilizado no site [www.funcab.org](http://www.funcab.org), conforme estabelecido no Cronograma.

Realização:

**BOA PROVA**

## CONHECIMENTOS GERAIS:

### - Língua Portuguesa

Leia o texto abaixo e responda às questões propostas.

#### Fora com os carros

Como enfrentar os congestionamentos que se tornaram uma praga do inferno nas centenárias cidades europeias, cujas ruas estreitas não foram planejadas para tanto carro? A prefeitura de Londres anunciou uma medida radical e impopular: vai cobrar pedágio na região central a partir de 2003. Já o prefeito de Paris decidiu ampliar as faixas exclusivas de transporte coletivo. As armas adotadas pelas duas capitais são diferentes, mas o objetivo é o mesmo: convencer os motoristas de que só deixando o carro em casa será possível amenizar o pesadelo dos congestionamentos. Outros países já adotaram medidas duras para restringir o uso do automóvel. Em três cidades da Noruega, incluindo a capital, Oslo, os motoristas também pagam tarifa para circular em certas áreas urbanizadas. Roma, que já limita bastante o acesso de veículos à zona central, está testando um modelo de pedágio eletrônico. Cingapura foi a pioneira na cobrança de tributo em várias regiões movimentadas, a partir de 1975. Bangcoc, capital da Tailândia, seguiu o exemplo, e a Cidade do México instituiu o rodízio dia sim, dia não, de acordo com a placa. O de São Paulo só vale na hora do rush.

O drama dessas cidades é que a frota aumenta a uma velocidade muito maior que a da malha viária. Mesmo com uma excelente rede de metrô, tanto os parisienses, quanto os londrinos não abrem mão do automóvel. “Quem precisar de rapidez terá de usar transporte público. Quem preferir o conforto do carro vai ficar parado nos congestionamentos”, diz o consultor de trânsito Gilberto Lehfeld, ex-presidente da Companhia de Engenharia de Tráfego de São Paulo. Quando as autoridades agem, a gritaria é geral. Os motoristas parisienses ficaram irritados com a redução de espaço em três dos maiores corredores da cidade, em favor de amplas faixas exclusivas para ônibus, táxis, motos e bicicletas. A prefeitura ainda construiu barricadas para impedir que os carros invadam a área restrita ao transporte coletivo. Cerca de 70% das viagens diárias em Paris são feitas de carro. Por enquanto, são 7 quilômetros de faixa exclusiva, e a intenção do prefeito Bertrand Delanoë é estender o corredor para 41 quilômetros e aumentar a velocidade média dos ônibus em 20%. Só que os congestionamentos, nas faixas de carros pioraram e devem agravar o problema da poluição.

O prefeito de Londres, Ken Livingstone, quer pegar os motoristas pelo bolso. Vai custar 5 libras (o equivalente a 18 reais) a autorização para circular por um dia na área central da cidade, das 7 às 19 horas. Livingstone pretende instalar câmaras para vigiar os 50 000 carros que entram por hora na região. Os motoristas poderão pagar o pedágio no dia em vários locais ou, antecipadamente, pela internet, apresentando o número da placa. A multa para quem circular sem pagar é de 100 libras (372 reais), e todo o dinheiro arrecadado será revertido para a melhoria do transporte coletivo. Com o pedágio, a prefeitura espera reduzir o tráfego no centro em 15%. Não deve resolver o problema. “Há o risco de os motoristas irem de carro até o limite da zona central e pegarem o metrô”, adverte o especialista em trânsito Philippe Gold. “Os congestionamentos só vão mudar de lugar.” (Revista Veja, 12/09/2001)

1. De acordo com a leitura do texto, apenas uma das afirmativas abaixo NÃO é verdadeira. Aponte-a.

- A) Embora as medidas relativas ao controle do trânsito difiram de cidade para cidade, todas têm o mesmo objetivo.
- B) Observa-se, em cidades de diferentes países, a preocupação das autoridades em conter o excesso de carros circulando nos grandes centros.
- C) Normalmente, nas cidades de maior movimento, o número de carros aumenta na contramão da disponibilidade de vias.
- D) O incentivo ao uso do transporte coletivo continua sendo um dos maiores recursos dos governantes para a redução dos congestionamentos.
- E) Como a maioria dos motoristas mostra-se insatisfeita com a cobrança de pedágios nos centros das grandes cidades, as autoridades tendem a ser permissivas com os infratores.

2. Assinale a opção em que se identifica um termo utilizado no sentido conotativo.

- A) “A multa para quem circular sem pagar é de 100 libras (372 reais), e todo o dinheiro arrecadado será revertido para a melhoria do transporte coletivo.” (parágrafo 3)
- B) “As armas adotadas pelas duas capitais são diferentes, mas o objetivo é o mesmo: convencer os motoristas de que só deixando o carro em casa será possível amenizar o pesadelo dos congestionamentos.” (parágrafo 1)
- C) “Quem preferir o conforto do carro vai ficar parado nos congestionamentos”, diz o consultor de trânsito Gilberto Lehfeld, ex-presidente da Companhia de Engenharia de Tráfego de São Paulo.” (parágrafo 2)
- D) “Vai custar 5 libras (o equivalente a 18 reais) a autorização para circular por um dia na área central da cidade, das 7 às 19 horas.” (parágrafo 3)
- E) “Os motoristas poderão pagar o pedágio no dia em vários locais ou, antecipadamente, pela internet, apresentando o número da placa.” (parágrafo 3)

3. Pela leitura do texto, NÃO se pode inferir que:

- A) de acordo com os exemplos apresentados, o Brasil se mostra como o país mais permissivo com a movimentação de veículos.
- B) dentre os recursos utilizados no combate aos grandes congestionamentos já se poderá contar com os tecnológicos.
- C) embora as medidas sejam adotadas para melhorar o trânsito das grandes cidades, é possível que muitos motoristas tentem burlar essas normas.
- D) o real objetivo dos governantes ao cobrar pedágio dos motoristas é recolher verba suficiente para a conservação das vias.
- E) apesar de as medidas tomadas em relação ao trânsito serem reconhecidamente necessárias, elas não repercutem bem na população.

4. Assinale a opção em que as palavras grifadas foram, correta e respectivamente, classificadas entre parênteses.

- A) “Como enfrentar os congestionamentos que se tornaram uma praga do inferno nas centenárias cidades europeias, cujas ruas estreitas não foram planejadas para tanto carro?” (conjunção - pronome - preposição)
- B) “Já o prefeito de Paris decidiu ampliar as faixas exclusivas de transporte coletivo.” (preposição - artigo definido - verbo)
- C) “Bangcoc, capital da Tailândia, seguiu o exemplo, e a Cidade do México instituiu o rodízio dia sim, dia não, de acordo com a placa. O de São Paulo só vale na hora do rush.” (artigo - preposição - pronome)
- D) “O drama dessas cidades é que a frota aumenta a uma velocidade muito maior que a da malha viária.” (artigo - preposição - artigo)
- E) “Os motoristas parisienses ficaram irritados com a redução de espaço em três dos maiores corredores da cidade, em favor de amplas faixas exclusivas para ônibus, táxis, motos e bicicletas.” (conjunção - substantivo - preposição)

5. Indique a opção em que, no texto, a mudança de posição do determinante grifado acarreta tanto mudança de sentido quanto de classe gramatical.

- A) “Em três cidades da Noruega, incluindo a capital, Oslo, os motoristas também pagam tarifa para circular em certas áreas urbanizadas.” (parágrafo 1)
- B) “Mesmo com uma excelente rede de metrô, tanto os parisienses, quanto os londrinos não abrem mão do automóvel.” (parágrafo 2)
- C) “Outros países já adotaram medidas duras para restringir o uso do automóvel.” (parágrafo 1)
- D) “Como enfrentar os congestionamentos que se tornaram uma praga do inferno nas centenárias cidades europeias...” (parágrafo 1)
- E) “A prefeitura de Londres anunciou uma medida radical e impopular: vai cobrar pedágio na região central a partir de 2003.” (parágrafo 1)

6. Marque a opção em que, segundo a norma culta da língua, ocorre ERRO quanto à concordância.

- A) Os Estados Unidos, que possui a maior malha rodoviária do planeta, tem apenas 7.150 km contra 9.500 km de rodovias pedagiadas do Brasil.
- B) No Estado de São Paulo, o campeão brasileiro de pedágios, foram concedidos 12 lotes à iniciativa privada, mas nove não saíram do papel, estão bloqueados e poderão representar mais cerca de 100 pontos de cobrança.
- C) No Estado do Rio de Janeiro, quase todos os trechos de pista dupla foram concedidos à iniciativa privada.
- D) O Governo Federal concedeu as rodovias e as concessionárias só puderam cobrar depois de fazerem inúmeras obras e implantarem diversos serviços.
- E) No Estado de São Paulo, as concessionárias assumiram rodovias importantes, onde já havia pedágio e, portanto, começaram com receita imediata.

7. Assinale a ideia expressa pela locução grifada abaixo.

Mesmo que a estrada seja privatizada, ela é uma permissionária ou concessionária do poder público e, como tal, está enquadrada no Código de Proteção e Defesa do Consumidor.

- A) causa.
- B) consequência.
- C) conformidade.
- D) condição.
- E) concessão.

8. Marque a alternativa que completa, correta e respectivamente, os espaços do período abaixo.

O usuário, apesar de compulsoriamente ser obrigado \_\_\_\_\_ aceitar \_\_\_\_\_ cobrança de pedágio, já revelou, em quase 60% dos casos, que é \_\_\_\_\_ favor da concessão, mas rejeita \_\_\_\_\_ quantia estabelecida.

- A) a - a - à - a.
- B) a - a - à - à.
- C) à - à - a - à.
- D) a - a - a - a.
- E) à - à - a - a.

9. Assinale a opção em que ocorre ERRO quanto à acentuação gráfica.

- A) Nosso século é o da aceleração tecnológica e científica, que se operou e continuará a se operar em ritmos antes inconcebíveis.
- B) O homem ainda é prisioneiro do trânsito, em carros que são celas ambulantes, onde, indubitavelmente, desperdiça precioso tempo de vida.
- C) Vigor e potência do automóvel passam a ser encarados como a própria expressão do poder no mundo contemporâneo.
- D) Pela visão de negócios das seguradoras de automóveis, os fatos negam o histórico preconceito quanto à competência da mulher motorista.
- E) Apesar do rigor da chamada Lei Seca, alguns brasileiros demonstram falta de consciência e, na prática, procuram burlar a legislação.

10. Assinale a opção em que o termo grifado foi INCORRETAMENTE substituído por um pronome oblíquo.

- A) “A prefeitura de Londres anunciou uma medida radical e impopular: vai cobrar pedágio na região central a partir de 2003.”

A prefeitura de Londres anunciou-a: vai cobrar pedágio na região central a partir de 2003.

- B) “... mas o objetivo é o mesmo: convencer os motoristas de que só deixando o carro em casa será possível amenizar o pesadelo dos congestionamentos.”

... mas o objetivo é o mesmo: convencê-los de que só deixando o carro em casa será possível amenizar o pesadelo dos congestionamentos.

- C) “Em três cidades da Noruega, incluindo a capital, Oslo, os motoristas também pagam tarifa para circular em certas áreas urbanizadas.”

Em três cidades da Noruega, incluindo a capital, Oslo, os motoristas também pagam-lhe para circular em certas áreas urbanizadas.

- D) “Livingstone pretende instalar câmaras para vigiar os 50 000 carros que entram por hora na região.” Livingstone pretende instalá-las para vigiar os 50 000 carros que entram por hora na região.

- E) “A prefeitura ainda construiu barricadas para impedir que os carros invadam a área restrita ao transporte coletivo.”

A prefeitura ainda construiu barricadas para impedir que os carros invadam-na.

### - Geografia e História de Rondônia

11. A Amazônia faz parte de uma gigantesca planície com domínio de terras baixas florestadas, disposta em anfiteatro, enclausurada entre a grande barreira imposta pelas terras cisandinas e pelas bordas dos planaltos Brasileiro e Guianense. Neste espaço, o relevo de Rondônia localiza-se:

- A) junto à planície, área na qual o processo de erosão se sobrepõe ao de sedimentação, rica em sedimentos.  
B) próximo à planície, onde há o predomínio do relevo tabular, intercalando chapadas cristalinas e sedimentares.  
C) afastado da planície, com natureza cristalina onde os processos de deposição de materiais superam os de desgaste.  
D) na área vizinha à planície, onde aparecem terras baixas e o processo erosivo supera o deposicional.  
E) próximo à planície, onde predominam terras baixas numa área cortada de norte a sul entre os rios Ji-Paraná e Guaporé.

12. Na composição do PIB do estado de Rondônia, em 2007, aparece a seguinte distribuição – agropecuária: 20,4%; indústria: 14,6%; serviços: 65,0%. Para um estado cujo crescimento está atrelado à expansão da fronteira agrícola, um percentual tão elevado no setor de serviços pode ser justificado a partir de:

- A) ter atraído somente trabalhadores ligados à construção civil.  
B) ser a principal área prestadora de serviços na Amazônia ocidental.  
C) ter desenvolvido uma agricultura que utiliza pouca mão de obra.  
D) dispor de infraestrutura que estimula o desenvolvimento comercial.  
E) incentivar a abertura de empresas vinculadas ao turismo ecológico.

13. O agronegócio inverte o sentido das migrações brasileiras: agora se vai do Sul e do Leste para o Norte. A população de Rondônia aumentou a taxas de 16% ao ano durante a década de 1990. A cidade de Buritis é, entre os 5 560 municípios brasileiros, a que mais recebeu migrantes nos últimos tempos – 90% deles vindos das regiões Sul e Sudeste do país. Os que chegaram na última década do século passado, se diferenciam dos que vieram nos anos 70 e 80 pelo fato de:

- A) mudarem o perfil agropecuário do estado investindo no gado leiteiro.  
B) terem sido atraídos por terras de boa qualidade a preços mais baixos.  
C) realizarem investimentos em cana-de-açúcar para a produção de etanol.  
D) utilizarem mão de obra boliviana, qualificada no cultivo de oleaginosas.  
E) associarem-se a estrangeiros no beneficiamento da produção agrícola.

14. Com muito atraso, produtores rurais finalmente apelam para as hidrovias amazônicas para o escoamento da sua produção. A soja chega ao exterior a partir do rio Madeira, com 910 Km de navegabilidade ajustada. Barcaças de 3 200 toneladas são rastreadas por satélites e orientadas por sonares. O calado é de cinco metros. Na secular hidrovia do Mississipi, o calado é de somente três metros e a carga não pode passar de 1 100 toneladas por barcaça.



Um dos fatores que garante a navegabilidade do rio Madeira é:

- todos os afluentes à direita do rio Amazonas são navegáveis.
- sua profundidade varia somente entre a estação chuvosa e seca.
- possuir um grande número de eclusas ao longo do trajeto.
- ser ligado por canais artificiais que garantem o volume de água.
- não apresentar corredeiras porque não tem pedras no seu leito.

15. No mapa da questão nº 14, aparece um trecho da rodovia BR-364 atravessando o estado de Rondônia e a imagem retrata basicamente um dos objetivos da rodovia: escoamento da produção de grãos do Centro-Oeste. Quanto ao outro propósito desta rodovia, que vai interferir na economia do estado é:

- permitir o acesso mais rápido aos portos do Pacífico.
- acelerar o intercâmbio comercial com o Peru e a Bolívia.
- tornar o estado um elo entre o Brasil e o Pacto Andino.
- explorar o potencial turístico existente ao redor da rodovia.
- agilizar as operações que envolvem a extração da madeira.

16. É possível detectar algumas fases bem definidas na história da ocupação humana na Amazônia Brasileira. Após um longo período pré-histórico, que se desenvolveu por alguns milênios – envolvendo grupos étnicos e linguísticos vindos por rotas complexas – sucederam-se três modelos históricos de apropriação e utilização dos espaços regionais. Em relação ao estado de Rondônia, a sequência correta é:

- extração de madeiras nobres / extração da borracha / garimpos em floramentos cristalinos e extração de diamantes.
- exploração do ouro e diamantes / extração de madeiras / implantação de núcleos de povoamento.
- exploração de pedras preciosas / extração da borracha / implantação de núcleos de colonização.
- coleta de drogas do sertão / exploração de ouro e diamantes / abertura de rodovias de penetração.
- exploração do ouro e diamantes / extração da borracha / implantação de agrovilas ao longo das rodovias de penetração.

17. Muitos consideram a Estrada de Ferro Madeira-Mamoré como precursora da rodovia BR-364. O início da sua construção está vinculado ao Tratado de Petrópolis que resolveu as disputas territoriais entre o Brasil e a Bolívia, ficando a construção da ferrovia como contrapartida para concretizar uma aspiração boliviana no que diz respeito ao problema de:

- realizar a ligação ao Pacífico.
- integração ao Centro-Oeste.
- acessibilidade ao rio Amazonas.
- escoamento de sua produção mineral.
- ocupar a fronteira com o Peru.

18. O início da exploração da borracha amazônica foi próspero, mas a bonança durou pouco. Em 1912, a produção atingiu o pico de 42 mil toneladas. A borracha representava 40% de todas as exportações nacionais. Em um segundo momento, entre 1942 e 1945, a borracha teve uma sobrevida que não foi com a mesma pujança do início do século, e logo voltou a perder em expressão no cenário econômico nacional. Nas duas fases mais expressivas da produção, um fator apontado abaixo pode ser considerado como responsável pelo declínio da borracha brasileira:

- falta de crédito à extração e ao beneficiamento do látex.
- precariedade da mão de obra usada pelos seringueiros.
- dificuldade para escoar a produção até o porto de Belém.
- concorrência da borracha produzida pelos asiáticos.
- população indígena dificultava o acesso aos seringais.


19. Porto Velho nasceu em 1907, como “porto velho dos militares”, referência a uma guarnição que acampara no local em uma das guerras que ocorreram durante a segunda metade do século XIX, entre as nações do continente. Mais tarde, a região passou a ser usada para descarregar material para construção da estrada de ferro Madeira-Mamoré. O conflito continental a que o texto faz referência foi:

- Guerra do Pacífico.
- Guerra do Paraguai.
- Guerra do Chaco.
- Guerra da Cisplatina.
- Guerra dos Farrapos.

20. Consideradas como as duas maiores obras do governo Lula, as hidrelétricas de Santo Antônio e Jirau devem consumir até R\$ 28 bilhões em investimentos para gerar, a partir de 2013, 6 450 MW de energia e tentar tirar o país da rota de um novo apagão. Apesar de toda euforia provocada pela construção das obras e, os possíveis benefícios que elas irão trazer, a consequência social mais provável que irá afetar parte da população pode ser assinalada em:


- A) desaparecimento por completo da pesca.
- B) fim do garimpo que ainda atrai aventureiros.
- C) remoção de famílias que vivem na beira do rio.
- D) extinção dos pastos que atendem à pecuária.
- E) lagos das usinas vão afetar o setor madeireiro.

### - Noções de Informática

21. Sobre a área de Notificação do Windows XP exibida abaixo, ao clicar sobre a imagem :



- A) é acionada a aplicação associada a esta imagem.
- B) é exibida a tela "Propriedades de Data e hora".
- C) é ativado o editor de imagens Paint, da Microsoft.
- D) o computador é desligado.
- E) os ícones ocultos são exibidos.

22. Na barra de ferramentas "Desenho" do Microsoft Office Word 2003, o ícone  insere no documento:

- A) uma imagem.
- B) uma caixa de texto.
- C) um diagrama.
- D) um clip-art.
- E) um fluxograma.

23. No Microsoft Office Word 2003, a combinação de teclas do teclado que centraliza o parágrafo é:

- A) CTRL+E
- B) CTRL+C
- C) CTRL+J
- D) SHIFT+F2
- E) F4

24. O Microsoft Office Excel 2003, ao clicar na função "Limpar Conteúdo", quando uma determinada célula estiver selecionada, limpará na célula selecionada:

- A) a formatação da borda.
- B) a fonte.
- C) a fórmula, caso a célula possua uma associada.
- D) a cor de fundo.
- E) o tamanho da fonte.

25. O ícone do Microsoft Office Excel 2003 que permite criar a aparência abaixo para "Edital Concurso DER-RO 2010" é:

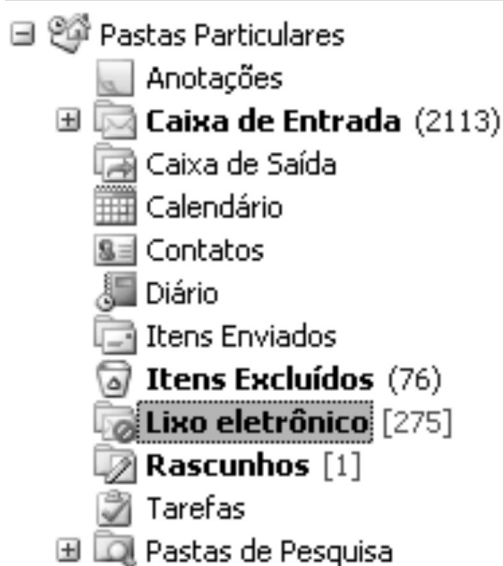
	A	B	C	D
1				
2		Edital Concurso DER-RO 2010		
3				
4				
5				



26. Considere a situação em que um determinado indivíduo deseje receber uma lista de atualizações de sites escolhidos por ele próprio, no momento em que elas ocorrerem como, por exemplo, sites de notícias, sites de previsão do tempo e informações econômicas e blogs. A tecnologia da internet que atende a essa necessidade chama-se:

- A) RSS.
- B) Pesquisa Avançada, do Google.
- C) Favoritos, do Windows Explorer.
- D) Wi-Fi.
- E) Twitter.

27. Sobre a organização de pastas do Microsoft Outlook exibida abaixo, é correto afirmar que a pasta:



- A) **Lixo eletrônico** possui 275 mensagens não lidas.
- B) **Contatos** contém mensagens enviadas pelos contatos cadastrados no correio eletrônico.
- C) **Caixa de Entrada** possui 2113 emails não lidos.
- D) Tarefas contém a relação de ações que devem ser tomadas para garantir que as mensagens sejam enviadas de forma correta e segura.
- E) **Lixo eletrônico** contém as mensagens que foram excluídas permanentemente do seu correio eletrônico.

28. No Microsoft Outlook, é correto afirmar que a função Excluir:

- A) apaga permanentemente uma mensagem.
- B) permite apagar pastas que contenham mensagens, mas antes de apagá-las, exibe mensagem solicitando confirmação.
- C) tem acesso restrito ao administrador do sistema.
- D) não permite apagar mensagens com arquivo anexado.
- E) não permite apagar mensagens contaminadas por vírus.

29. O endereço de uma página *web* é representado pela sigla:

- A) URL
- B) WWW
- C) HTTP
- D) MSN
- E) *Home Page*

30. Ao selecionar mais de um documento no Windows XP, é possível realizar diversas operações, EXCETO:

- A) criar atalho.
- B) recortar.
- C) copiar.
- D) excluir.
- E) mesclar os documentos selecionados, transformando-os em um único documento.

### CONHECIMENTOS ESPECÍFICOS:

#### - Noções de Direito Administrativo

31. Sobre a responsabilidade civil do Estado, é correto afirmar que:

- A) o Estado não tem qualquer responsabilidade pelos danos que seus agentes, nessa qualidade, causarem ao particular.
- B) para que o lesado possa exercer seu direito à reparação dos prejuízos, é indispensável a comprovação de que o fato danoso se originou do mau funcionamento do serviço.
- C) para que o lesado possa exercer seu direito à reparação dos prejuízos, é indispensável a identificação do agente público causador do dano.
- D) somente as pessoas jurídicas de direito público respondem pelos danos que seus agentes, nessa qualidade, causarem a terceiros.
- E) as pessoas jurídicas de direito público e as de direito privado prestadoras de serviços públicos responderão pelos danos que seus agentes, nessa qualidade causarem a terceiros.

32. O controle administrativo é o poder de fiscalização e correção que a Administração Pública exerce sobre sua própria atuação, sendo correto afirmar sobre o tema que:

- A) o recurso administrativo somente é dotado do efeito devolutivo.
- B) nos recursos administrativos, por expressa determinação constitucional, é assegurada a ampla defesa e o contraditório.
- C) é vedado o pedido de reconsideração no âmbito da Administração Pública.
- D) o controle de legalidade do ato administrativo somente pode ser realizado pela Administração Pública.
- E) os atos praticados pela Administração somente se sujeitam a controle interno, isto é, realizado pela própria Administração.

33. Sobre descentralização e delegação de competência, assinale a alternativa correta.

- A) A delegação de competência é utilizada como instrumento de centralização administrativa.
- B) A delegação de competência deve ser utilizada com o objetivo de assegurar maior rapidez e objetividade às decisões, situando-as na proximidade dos fatos, pessoas ou problemas a atender.
- C) A descentralização implica a realização das atividades administrativas por intermédio dos inúmeros órgãos e agentes que compõem a estrutura funcional da Administração Direta.
- D) O ato de delegação é sempre genérico, e independe de indicação da autoridade delegante, da autoridade delegada e das atribuições objeto de delegação.
- E) Não é permitida a delegação de competência no âmbito da Administração Pública brasileira.

34. A retribuição pecuniária pelo exercício do cargo público é denominada:

- A) indenização.
- B) vencimento.
- C) adicional.
- D) empenho.
- E) gratificação.

35. O poder administrativo representa uma prerrogativa especial de direito público outorgada aos agentes do Estado. Sobre o tema, é correto afirmar que:

- A) é legítima a conduta do agente que se afasta do interesse público.
- B) os poderes administrativos são sempre renunciáveis.
- C) o uso do poder é a utilização normal, pelos agentes públicos, das prerrogativas que a lei lhes confere.
- D) não constitui abuso de poder a conduta do agente público fora dos limites de sua competência.
- E) abuso de poder é a conduta ilegítima, que guarda conformidade com o que dispõe a lei.

### - Noções de Direito Constitucional

36. Acerca das regras constitucionais que tratam da Administração Pública é correto afirmar que:

- A) os acréscimos pecuniários percebidos por servidor público serão computados e acumulados para fins de concessão de acréscimos ulteriores.
- B) é vedada a contratação por tempo determinado, ainda que para atender a necessidade temporária de excepcional interesse público.
- C) os vencimentos dos cargos do Poder Legislativo e do Poder Judiciário poderão ser superiores aos pagos pelo Poder Executivo.
- D) é garantido ao servidor público civil o direito à livre associação sindical.
- E) são exercidos exclusivamente por servidores ocupantes de cargo efetivo as funções de confiança e os cargos em comissão.

37. Sobre o Poder Legislativo, assinale a alternativa correta.

- A) A Câmara dos Deputados compõe-se de representantes dos Estados, eleitos pelo sistema proporcional.
- B) O Poder Legislativo é exercido pelo Congresso Nacional, que se compõe da Câmara dos Deputados e do Senado Federal.
- C) O Senado Federal é integrado por representantes do povo, escolhidos de acordo com o sistema proporcional.
- D) Cada Senador será eleito com um suplente.
- E) As deliberações de cada Casa e de suas Comissões somente serão tomadas pela maioria absoluta de votos, presente a unanimidade de seus membros.

38. O Título IV, Capítulo II da Constituição Federal elenca regras sobre o Poder Executivo. Sobre o tema, é correto afirmar que:

- A) será considerado eleito Presidente o candidato que, registrado por partido político, obtiver a maioria absoluta de votos, não computados os em branco e os nulos.
- B) o Presidente e o Vice-Presidente da República tomarão posse em sessão na Câmara dos Deputados, prestando o compromisso de manter, defender e cumprir a Constituição.
- C) compete privativamente ao Presidente da República exercer, com o auxílio dos Deputados e Senadores, a direção superior da administração estadual.
- D) os Ministros de Estado serão escolhidos dentre brasileiros maiores de trinta e cinco anos e no exercício dos direitos políticos.
- E) a eleição do Presidente da República não importará a do Vice-Presidente com ele registrado.

39. O processo legislativo NÃO compreende a elaboração de:

- A) decretos legislativos.
- B) leis complementares.
- C) medidas provisórias.
- D) resoluções.
- E) alvarás.

40. A segurança pública, dever do Estado, direito e responsabilidade de todos, é exercida para a preservação da ordem pública e da incolumidade das pessoas e do patrimônio. Acerca do tema, assinale a alternativa correta.

- A) A polícia federal instituída por lei como órgão permanente, é organizada e mantida pelos Estados.
- B) As polícias militares e corpos de bombeiros militares subordinam-se ao Ministro da Defesa.
- C) Incumbem às polícias civis, ressalvada a competência da União, as funções de polícia judiciária e a apuração de infrações penais, exceto as militares.
- D) A polícia ferroviária federal, órgão permanente, organizado e mantido pela União e estruturado em carreira, destina-se, na forma da lei, ao patrulhamento ostensivo das rodovias federais.
- E) A polícia militar destina-se, dentre outras atribuições, a apurar infrações penais contra a ordem política e social ou em detrimento de bens, serviços e interesses da União ou de suas entidades autárquicas e empresas públicas.



## - Conhecimentos na Área de Formação

41. A NBR 6.023/2002, da Associação Brasileira de Normas Técnicas - ABNT, estabelece que, em uma referência bibliográfica:

- A) o espaço entre as linhas deve ser simples e todas as linhas abaixo da primeira devem ter seu início sob a terceira letra da primeira linha.
- B) o espaço entre as linhas deve ser duplo e a escolha do alinhamento fica a critério do referenciador, obedecendo a um padrão preestabelecido por ele.
- C) o espaço entre as linhas deve ser simples e a segunda letra deve ser iniciada imediatamente abaixo da primeira letra da linha anterior.
- D) o espaço entre as linhas deve ser duplo e o início de todas as linhas deve ter por base o terceiro espaço a partir da margem esquerda, permitindo o destaque de cada referência.
- E) o espaço entre as linhas deve ser duplo, e a segunda linha e as que a precederem, devem ter início sob a quarta letra.

42. Em relação ao resumo indicativo é possível afirmar que:

- A) simplesmente descreve (indica) de que trata o documento.
- B) procura sintetizar a substância do documento, inclusive os resultados que ele contém.
- C) serve quase ao mesmo propósito de uma recensão crítica de livro.
- D) contém resultados, conclusões ou recomendações.
- E) seu propósito principal seria possibilitar ao leitor do resumo julgar se lhe interessa ou não ler o original.

43. Para que o processo de automação transcorra convenientemente nas Unidades de Informação, é necessário desenvolver o planejamento para automação, seguindo os seguintes passos:

- A) plano de desenvolvimento, análise de dados, estudo de redes, acompanhamento dos resultados preliminares.
- B) plano de desenvolvimento global, análise de sistema, especificação dos requisitos, avaliação dos sistemas, implementação e controle e manutenção.
- C) reconhecimento de padrões, seleção de dados, tratamento e armazenagem da informação.
- D) definição de sistemas, análise de dados, implementação dos dados e disseminação da informação.
- E) projeto preliminar, organização de dados, acompanhamento e manutenção dos sistemas.

44. Assinale a referência correta conforme orientação da NBR 6.023/2002 da ABNT.

- A) BRASIL. Lei nº 9.160, de 19 de fevereiro de 1998. Altera e atualiza e consolida a legislação sobre direitos autorais e dá outras providências. **Diário Oficial [da República Federativa do Brasil]**, Brasília, DF, n. 36, 20 fev. 1998. Seção 1, p. 3-9.
- B) BRASIL. Lei nº 9.160, de 19 de fevereiro de 1998. **Altera e atualiza e consolida a legislação sobre direitos autorais e dá outras providências.** Diário Oficial da República Federativa do Brasil, Brasília, DF, n. 36, 20 fev. 1998. Seção 1, p. 3-9.
- C) BRASIL. Lei nº 9.160, de 19 de fevereiro de 1998. Altera e atualiza e consolida a legislação sobre direitos autorais e dá outras providências. **Diário Oficial [da República Federativa do Brasil]**, Brasília, DF, n. 36, 20 de fevereiro de 1998. Seção 1, p. 3-9.
- D) BRASIL. Lei nº 9.160, de 19 de fevereiro de 1998. Altera e atualiza e consolida a legislação sobre direitos autorais e dá outras providências. **Diário Oficial da República Federativa do Brasil**, Brasília, n. 36, 20 fev. 1998. Seção 1, p. 3-9.
- E) BRASIL. **Lei nº 9.160, de 19 de fevereiro de 1998.** Altera e atualiza e consolida a legislação sobre direitos autorais e dá outras providências. Diário Oficial [da República Federativa do Brasil], Brasília, DF, n. 36, 20 fev. 1998. Seção 1, p. 3-9.

45. Identifique a alternativa que apresenta alguns pontos específicos que deverão constar da política de seleção de qualquer biblioteca.

- A) Custo, propósito da biblioteca e influência institucional.
- B) Custo, qualidade e objetividade do selecionador.
- C) Subjetividade do selecionador, quantidade e custo.
- D) Propósito da biblioteca, censura e quantidade.
- E) Propósito da biblioteca, qualidade e recensões.

46. O símbolo da CDU - Classificação Decimal Universal que indica o uso da tabela auxiliar tempo é:

- A) (=)
- B) ( )
- C) “ “
- D) /
- E) =

47. A notação correta da CDU para classificar o livro sobre Biblioteca especializada (026) em Educação (37) é:

- A) 026:37
- B) 026+37
- C) 026/37
- D) 37.026
- E) 37+026

48. Com relação à estrutura do Diário Oficial da União - DOU, editado pela Imprensa Nacional, assinale a alternativa correta.

- A) Na Seção 3 são publicados os atos de interesse dos servidores da Administração Pública Federal.
- B) Na Seção 1 são publicados os atos dos Poderes Executivo e Legislativo, dos Órgãos de Assessoramento imediato da Presidência da República e da administração centralizada (ministérios).
- C) Na Seção 3 são publicados os atos dos Tribunais Regionais Federais e os do Boletim da Justiça Federal – Seção Judiciária do Distrito Federal.
- D) Na Seção 4 são publicados editais de citação, intimação, notificação e concursos públicos.
- E) Na Seção 2 são publicados despachos, editais, avisos e ineditoriais.

49. O formato USMARC, compreende duas seções: a seção 1, que contém informações descritivas dos dados bibliográficos; e a seção 2, que contém os dados bibliográficos propriamente ditos: rótulo do registro, diretório, campos de controle e campos de dados de tamanho variável. Sobre os campos abrangidos pela seção dois é correto afirmar que:

- A) os campos de tamanho fixo são agrupados em blocos de acordo com o segundo caractere variável do parágrafo.
- B) cada um dos campos principais contém também três indicadores de campo, que são algarismos de três dígitos colocados em seguida ao parágrafo e exclusivos dos campos de controle.
- C) os parágrafos de tamanho variável consistem em dois algarismos e têm uma estrutura mnemônica, pois obedecem a diferentes sequências do registro catalográfico.
- D) cada campo é precedido de um parágrafo [tag] de três caracteres e dois indicadores numéricos e termina com um delimitador especial.
- E) os campos de tamanho fixo são agrupados em blocos de acordo com o terceiro caractere do parágrafo, pois obedecem a mesma sequência catalográfica.

50. Segundo Jennifer Rowley (2002) em seu livro *A Biblioteca eletrônica* as bases de dados de fontes contêm “os dados originais e constituem um tipo de documento eletrônico. [...] Os dados encontram-se disponíveis tanto em formato legível por computador, quanto em formato impresso.” Em relação ao conteúdo dessas bases, é correto afirmar que podem ser agrupadas em:

- A) base de dados bibliográficos, base de dados catalográficos, base de dados textuais e base de dados manuais.
- B) base de dados referenciais, base de dados catalográficos e base de dados bibliográficos.
- C) base de dados numéricos, base de dados de texto integral, base de dados textuais e numéricos e base de dados multimídia.
- D) base de dados numéricos, base de dados multimídia, base de dados bibliográficos e base de dados textuais.
- E) base de dados numéricos, base de dados de texto integral, base de dados bibliográficos, base de dados referenciais e base de dados multimídia.

51. Considere as seguintes afirmativas sobre a Ciência da Informação:

- I. Tem como objeto o estudo das propriedades gerais da informação (natureza, gênese, efeitos), ou seja, mais precisamente: a análise dos processos de construção, comunicação e uso da informação e a concepção dos produtos e sistemas que permitem sua construção, comunicação, armazenagem e uso.
- II. As três técnicas importantes da Ciência da Informação que podem ser aplicadas ao serviço de referência são: estudo de usuário, elaboração de bases de dados e bibliometria.
- III. Com a preocupação de esclarecer um problema social real, o da informação, coloca-se no campo das ciências sociais (das ciências do homem e da sociedade), que são o meio principal de acesso a uma compreensão do social e do cultural.
- IV. A informação é um conhecimento inscrito (gravado) em forma escrita (impressa ou numérica), oral ou audiovisual.

Assinale a alternativa correta.

- A) Somente a afirmativa I é verdadeira.
- B) Somente as afirmativas I e III são verdadeiras.
- C) Somente as afirmativas II, III e IV são verdadeiras.
- D) Somente a afirmativa IV é verdadeira.
- E) Somente as afirmativas I, III e IV são verdadeiras.

52. Acerca das fontes jurídicas de informação disponíveis na internet, julgue os itens.

- I. Legislação Federal do Brasil é uma base de dados que reúne atos de hierarquia superior, da legislação federal brasileira, cuja área de abrangência vai desde a Proclamação da República, em 1889, até hoje, sendo constantemente atualizada e mantida pela Subchefia para Assuntos Jurídicos da Casa Civil da Presidência da República.
- II. NJUR (normas jurídicas), DISC (discursos), MATE (matérias em tramitação nas casas do Congresso) são bases de dados mantidas pela Câmara dos Deputados.
- III. A Biblioteca Digital Jurídica (BDJur) é um repositório de documentos jurídicos em inteiro teor, tais como capítulos de livros e periódicos, teses, dissertações, decisões jurisprudenciais, palestras e discursos.
- IV. Sistema de Legislação Informatizada (LEGIN), é uma base de dados que proporciona acesso aos textos de leis, decretos, decretos legislativos, decretos-leis, medidas provisórias, dentre outros, por meio do formulário para pesquisa que abre a seção.

Assinale a alternativa correta.

- A) Somente as afirmativas I e II são verdadeiras.
- B) Somente as afirmativas III e IV são verdadeiras.
- C) Somente as afirmativas I, II e IV são verdadeiras.
- D) Somente as afirmativas I, III e IV são verdadeiras.
- E) Somente as alternativas II e IV são verdadeiras.

53. De acordo com as orientações do Código de Catalogação Anglo-Americano (AACR2), o Departamento de Estradas de Rodagem e Transportes do Estado de Rondônia tem como entrada o seguinte cabeçalho:

- A) Brasil. Rondônia. Departamento de Estradas de Rodagem e Transportes.
- B) Rondônia. Departamento de Estradas de Rodagem e Transportes.
- C) Brasil. Departamento de Estradas de Rodagem e Transportes. Rondônia.
- D) Brasil. Ministério dos Transportes. Rondônia. DER.
- E) Departamento de Estradas de Rodagem e Transportes. Rondônia.

54. Para uma publicação de 123 páginas, 39 tabelas e 17,5 cm, a descrição física correta é:

- A) 123p. : 39 tab. ; 17,5 cm
- B) 123p. : il. ; 18 cm
- C) 123p. : il. ; 17,5 cm
- D) 123p. ; 18 cm
- E) 123p. : tab. ; 17 cm

55. De acordo com Maciel e Mendonça (2000), "a função é para a ciência da organização, o elemento fundamental por meio do qual ela concretiza as suas metas." Segundo essas autoras, as funções biblioteconômicas estão agrupadas em três coerentes blocos:

- A) formação, desenvolvimento e organização das coleções, dinamização do uso das coleções, funções gerenciais.
- B) desenvolvimento e organização das coleções, desenvolvimento de estudos e projetos especiais, tomadas de decisão.
- C) planejamento e elaboração de políticas, estudo da comunidade e funções gerenciais.
- D) dinamização do uso das coleções, planejamento estratégico e avaliação dos serviços.
- E) desenvolvimento e organização das coleções, estudo de usuário e desenvolvimento de estudos e projetos especiais.

56. Catálogo topográfico é aquele que:

- A) indica em ordem cronológica os livros e folhetos que deram entrada na biblioteca.
- B) indica o número de volumes existentes na biblioteca e presta outras informações necessárias à elaboração de relatórios.
- C) relaciona os fascículos de periódicos disponíveis para consulta.
- D) organiza as fichas pela ordem de armazenamento dos documentos nas estantes.
- E) apresenta em uma única ordem alfabética as fichas por autor, título e assunto.

57. De acordo com a NBR 6027 da ABNT, entende-se por sumário:

- A) enumeração de elementos selecionados do texto, tais como datas, ilustrações e exemplos, na ordem de sua ocorrência.
- B) enumeração das divisões, seções e outras partes de uma publicação, na mesma ordem e grafia em que a matéria nele se sucede.
- C) método de seleção que permite determinar o grau de representatividade de um conjunto documental.
- D) instrumento de pesquisa elaborado segundo um critério temático, cronológico e geográfico.
- E) enumeração detalhada dos assuntos, nomes de pessoas e nomes geográficos.

58. De acordo com Amaral (1996), um dos benefícios advindos da adoção do *marketing* em Unidades de Informação é:

- A) manutenção dos programas ou outros recursos adotados para o controle do processo de aquisição.
- B) acompanhamento direto do trâmite dos processos até a sua finalização.
- C) maior estímulo à utilização dos serviços e à procura pelos produtos de informação oferecidos.
- D) identificação de obras que devem ser retiradas do acervo com a finalidade de serem colocadas em depósito.
- E) compreensão mais exata sobre o campo, profundidade e utilização da coleção.

59. A norma NBR 6032 da ABNT, fixa as condições exigíveis para uniformizar as abreviaturas de títulos de periódicos e publicações seriadas, com o fim de simplificar as referências constantes de bibliografias, citações e legendas bibliográficas. Tendo por base tais procedimentos, assinale a alternativa que apresenta a abreviatura correta do periódico Revista Brasileira de Geografia.

- A) Rev. bras. Geogr.
- B) R. bras. Geog.
- C) R. bras. Geogr.
- D) Rev. Bras. Geogr.
- E) Rev. bras. Geog.

60. Segundo Côrte e Almeida (2000), “a modernização das bibliotecas está diretamente ligada à automação de rotinas e serviços, com o intuito de implantar uma infraestrutura de comunicação para agilizar e ampliar o acesso à informação pelo usuário, tornando-se necessária uma ampla visão da tecnologia da informação e sua aplicação nas organizações.” Com relação aos *softwares* de automação de bibliotecas, considere as seguintes afirmativas:

- I. O Ortodocs - é um sistema para informatização de bibliotecas individuais ou ligadas em redes. Adota o formato USMARC, contempla as funções de processamento técnico, atendimento ao público, circulação, aquisição e intercâmbio.
- II. Aleph - é um *software* desenhado especificamente para o gerenciamento de bibliotecas e centros de documentação e informação bibliográfica. Os módulos integrados do sistema incluem o OPAC (*On Line Public Access Catalog*), catalogação, aquisição, circulação, seriados, geração de relatórios e empréstimo entre bibliotecas.
- III. Caribe é um *software* desenvolvido para a automação de bibliotecas e centros de documentação, totalmente compatível com os padrões nacionais e internacionais de registro bibliográficos, apresentando uma grande inovação que é trabalhar com documentos arquivísticos, bibliográficos e museológicos. Está configurado para atender as funções de catalogação/recuperação, empréstimo, periódicos e controle de coleção.
- IV. VIRTUA - é um *software* exclusivo para a automação de bibliotecas, desenvolvido para um ambiente universitário, objetivando a melhoria na prestação de serviços ao usuário. Suas seis rotinas gerenciam todas as tarefas da biblioteca ou centro de documentação. São elas: aquisição, recuperação, jurídica, vocabulário, periódico e empréstimo.

Assinale a alternativa correta.

- A) Somente as afirmativas I e II são verdadeiras.
- B) Somente as afirmativas I e III são verdadeiras.
- C) Somente as afirmativas I, III e IV são verdadeiras.
- D) As afirmativas I, II, III e IV são verdadeiras.
- E) Somente as afirmativas I, II e III são verdadeiras.