

CONCURSO PÚBLICO

CÓDIGO M18	PROVA V	ATENÇÃO VERIFIQUE SE CÓDIGO E PROVA DESTE CADERNO DE QUESTÕES CONFEREM COM O SEU CARTÃO DE RESPOSTAS
TARDE		



ASSISTENTE DE SAÚDE

CARGO: TÉCNICO EM PRÓTESE DENTÁRIA

FUNÇÃO: TÉCNICO EM PRÓTESE DENTÁRIA

FRASE PARA EXAME GRAFOLÓGICO (TRANSCREVA NO QUADRO DE SEU CARTÃO DE RESPOSTAS)

“Estou sempre alegre - essa é a maneira de resolver os problemas da vida.”

Charles Chaplin

A T E N Ç Ã O

1. O **Caderno de Questões** contém questões de múltipla-escolha, cada uma com 5 opções (A, B, C, D e E).
2. Ao receber o material, verifique no **Cartão de Respostas** seu nome, número de inscrição, data de nascimento, cargo e prova. Qualquer irregularidade comunique imediatamente ao fiscal de sala. Não serão aceitas reclamações posteriores.
3. A prova objetiva terá duração de 4:00 horas, incluído neste tempo o preenchimento do **Cartão de Respostas**.
4. Leia atentamente cada questão e assinale no **Cartão de Respostas** a opção que responde corretamente a cada uma delas. O **Cartão de Respostas** será o único documento válido para a correção eletrônica. O preenchimento do **Cartão de Respostas** e a respectiva assinatura serão de inteira responsabilidade do candidato. Não haverá substituição do **Cartão de Respostas**, por erro do candidato.
5. Observe as seguintes recomendações relativas ao **Cartão de Respostas**:
 - A maneira correta de marcação das respostas é cobrir, fortemente, com esferográfica de tinta azul ou preta, o espaço correspondente à letra a ser assinalada.
 - Outras formas de marcação diferentes implicarão a rejeição do **Cartão de Respostas**.
 - Será atribuída nota zero às questões não assinaladas ou com falta de nitidez, ou com marcação de mais de uma opção, e as emendadas ou rasuradas.
6. O fiscal de sala não está autorizado a alterar qualquer destas instruções. Em caso de dúvida, solicite a presença do coordenador local.
7. Você só poderá retirar-se definitivamente do recinto de realização da prova após 1 hora contada do seu efetivo início, **sem levar o Caderno de Questões**.
8. Você só poderá levar o próprio **Caderno de Questões** caso permaneça na sala até 1 hora antes do término da prova.
9. Por motivo de segurança, só é permitido fazer anotação durante a prova no **Caderno de Questões** e no **Cartão de Respostas**. Qualquer outro tipo de anotação será motivo de eliminação automática do candidato.
10. Após identificado e instalado na sala, você não poderá consultar qualquer material, enquanto aguarda o horário de início da prova.
11. Os três últimos candidatos deverão permanecer na sala até que o último candidato entregue o **Cartão de Respostas**.
12. Ao terminar a prova, é de sua responsabilidade entregar ao fiscal o **Cartão de Respostas**. Não esqueça seus pertences.
13. O **Gabarito Oficial da Prova Objetiva** será disponibilizado no site www.funcab.org, conforme estabelecido no Cronograma.

Realização:



BOA PROVA

CONHECIMENTOS GERAIS

- Língua Portuguesa

Leia o texto abaixo e responda às questões propostas.

Texto 1

O Cântico da Terra

Eu sou a terra, eu sou a vida.
Do meu barro primeiro veio o homem.
De mim veio a mulher e veio o amor.
Veio a árvore, veio a fonte.
Vem o fruto e vem a flor.

Eu sou a fonte original de toda vida.
Sou o chão que se prende à tua casa.
Sou a telha da coberta de teu lar.
A mina constante de teu poço.
Sou a espiga generosa de teu gado
e certeza tranquila ao teu esforço.
Sou a razão de tua vida.
De mim vieste pela mão do Criador,
e a mim tu voltarás no fim da lida.
Só em mim acharás descanso e Paz.

Eu sou a grande Mãe Universal.
Tua filha, tua noiva e desposada.
A mulher e o ventre que fecundas.
Sou a gleba, a gestação, eu sou o amor.

A ti, ó lavrador, tudo quanto é meu.
Teu arado, tua foice, teu machado.
O berço pequenino de teu filho.
O algodão de tua veste
e o pão de tua casa.

E um dia bem distante
a mim tu voltarás.
E no canteiro materno de meu seio
tranquilo dormirás.

Plantemos a roça.
Lavremos a gleba.
Cuidemos do ninho,
do gado e da tulha.
Fartura teremos
e donos de sítio
felizes seremos.

(Cora Coralina/in www.releituras.com/coracoralina_cantico.asp)

Vocabulário: 1. Gleba: terreno próprio para cultura
2. Tulha: monte de feno, de trigo

1. Cora Coralina, autora do poema O Cântico da Terra, é a grande poetisa do estado de Goiás, e utilizou, em suas obras, imagens rurais. Assinale a alternativa em que todas as palavras retiradas do texto, e que formam um campo semântico, remetem à zona rural:

- A) espiga – roça – gado.
- B) ventre – materno – seio.
- C) berço – filho – pão.
- D) homem – mulher – amor.
- E) lavrador – fartura – lida.

2. O título do texto “O Cântico da Terra” é mais bem reforçado pelo eu poético (a 1ª pessoa que fala no poema) no verso:

- A) “A ti, ó lavrador, tudo quanto é meu.”
- B) “Plantemos a roça.”
- C) “Eu sou a grande Mãe Universal.”
- D) “Teu arado, tua foice, teu machado.”
- E) “De mim vieste pela mão do Criador.”

3. O texto 1 é construído a partir de várias metáforas que formam imagens poéticas. Na sétima estrofe, é possível reconhecer que se faz referência à(ao):

- A) vida.
- B) morte.
- C) nascimento.
- D) meio ambiente.
- E) desmatamento.

4. Assinale a alternativa correta quanto à análise gramatical dos verbos em destaque nos versos seguintes: “De mim **vieste** pela mão do Criador, e a mim tu **voltarás** no fim da lida.”

- A) Os verbos estão, respectivamente, no pretérito imperfeito do indicativo e no futuro do pretérito do indicativo.
- B) Há correspondência entre os verbos quanto ao número e a pessoa, isto é, ambos estão na segunda pessoa do plural.
- C) O tempo verbal é o mesmo para os verbos VIR e VOLTAR, embora, quanto à significação sejam antônimos entre si.
- D) Os tempos verbais no modo indicativo em que as formas VIR e VOLTAR se encontram - pretérito perfeito e futuro do presente, respectivamente – reforçam a significação dos versos.
- E) O modo subjuntivo em que os verbos se encontram assinala a incerteza dos fatos expressos nos versos.

5. A opção em que se destacou o termo com a mesma função sintática de “o homem”, no 2º verso do poema, é:

- A) “Sou **o chão** que se prende à tua casa.” (v. 7).
- B) “**Fartura** teremos” (v. 33).
- C) “Plantemos a **roça**.” (v. 29).
- D) “A ti, **ó lavrador**, tudo quanto é meu.” (v. 20).
- E) “Vem **o fruto** e vem a flor.” (v. 5).

6. Sobre o verso “Sou o chão que se prende à tua casa.”, são feitas afirmações no que diz respeito à construção sintática do período:

- I. o período é composto por subordinação e a segunda oração traduz uma informação que se refere ao substantivo “chão” da primeira oração.
- II. o período é composto por subordinação e a segunda oração está ligada à primeira por um pronome relativo.
- III. o período é composto por coordenação e subordinação ao mesmo tempo, já que apresenta verbos flexionados em diferentes pessoas.
- IV. o período é composto por subordinação e a segunda oração exprime uma circunstância de lugar em relação à primeira.

Estão corretas as afirmações sobre o período que constitui o verso:

- A) apenas I e II.
- B) apenas I, II e III.
- C) apenas II e III.
- D) apenas III e IV.
- E) apenas I, III e IV.

Leia o texto abaixo e responda às questões propostas.

Texto 2

Pesquisa divulgada nesta quarta-feira pelo Ministério da Saúde indica que os brasileiros estão consumindo mais frutas e hortaliças. Em 2009, 30,4% da população com mais de 18 anos optaram por esses alimentos cinco ou mais vezes por semana. Entretanto, apenas 18,9% consumiram as cinco porções diárias recomendadas pela Organização Mundial da Saúde (OMS).

O levantamento alerta também para o aumento do consumo de alimentos com alto teor de gordura e de açúcar. Em 2009, 33% dos adultos comem carnes com excesso de gordura. Refrigerantes e sucos artificiais, de acordo com a pesquisa, também tinham destaque na dieta dos brasileiros – 76% dos adultos beberam esses produtos pelo menos uma vez por semana e 27,9%, cinco vezes por semana ou mais.

O leite com alto teor de gordura chegou a ser consumido cinco vezes por semana por 58,4% dos brasileiros, um aumento de quase 2 pontos percentuais em três anos. Já o consumo do feijão apresentou queda: em 2009, esteve presente na mesa de 65,8% da população, contra 71,9% em 2006.

Para o ministro da Saúde, José Gomes Temporão, os dados são preocupantes e mostram uma mudança no padrão alimentar do brasileiro. “Vivemos uma transição demográfica importantíssima e também uma transição alimentar bastante negativa”, disse. Ele destacou que o feijão é fonte de proteína e fibras e lembrou que consumir as versões diet e light dos refrigerantes nem sempre é a melhor saída, por causa do alto teor de sódio.

(in www.redebomdia.com.br/Noticias/Dia-a-dia, 7/04/2010)

7. No trecho “Em 2009, 30,4% da população com mais de 18 anos optaram por esses alimentos cinco ou mais vezes por semana.”, o verbo OPTAR se apresenta no plural, por que:

- A) concorda com o numeral 18 (anos).
- B) ideologicamente, concorda com a palavra “população”.
- C) refere-se à expressão de porcentagem - 30,4%.
- D) o sujeito com o qual o verbo concorda é “alimentos”.
- E) apresenta sujeito indeterminado.

8. Assinale a opção em que se justificou corretamente o emprego das vírgulas no fragmento “Para o ministro da Saúde, José Gomes Temporão, os dados são preocupantes e mostram uma mudança no padrão alimentar do brasileiro”.

- A) separa um aposto explicativo.
- B) marca um adjunto adverbial deslocado.
- C) representa a elipse de verbos.
- D) destaca uma oração intercalada.
- E) enumera elementos de mesma função sintática.

9. Em “Vivemos uma transição demográfica **importantíssima** e também uma transição **alimentar** bastante **negativa**” as palavras em negrito pertencem à mesma classe gramatical. A opção em que está correta a classe gramatical a que pertencem essas palavras é:

- A) substantivo.
- B) adjetivo.
- C) advérbio.
- D) pronome.
- E) conjunção.




10. Assinale a opção em que se pode completar corretamente a lacuna **com a mesma palavra, na mesma classe gramatical e significação**, que a destacada em:

“Pesquisa divulgada nesta quarta-feira pelo Ministério da Saúde indica que os brasileiros estão consumindo **MAIS** frutas e hortaliças.” (1º parágrafo).

- A) Nunca _____ quero comer gordura!
- B) Você quer ser saudável, _____ não faz a alimentação adequada.
- C) Quanto _____ exercícios físicos, melhor será a qualidade de vida.
- D) Consumir leite faz bem, _____ também pode alterar seu colesterol.
- E) Se você comer _____, irá passar mal.

- Noções de Informática

11. Qual o ícone do Windows Explorer que permite seleccionar o modo de exibição dos arquivos e pastas?



12. As informações exibidas a seguir, são utilizadas pelo Windows para identificar seu computador na rede. Qual opção do Windows permite definir essas informações?

Descrição do computador: Alice Frantelli
Nome completo do computador: xp.
Grupo de Trabalho: equipe de Saúde

- A) Sistema.
- B) Conexões de rede.
- C) Contas de Usuário.
- D) Firewall do Windows.
- E) Ferramentas administrativas.

13. Sobre a configuração do número de cores exibidas em um monitor, é INCORRETO afirmar que:

- A) pode ser configurado na opção Vídeo do Painel de Controle.
- B) quando você escolhe mais cores, a qualidade da exibição na tela é superior.
- C) as configurações que exibem um grande número de cores normalmente exigem mais memória do computador e podem afetar o desempenho.
- D) as capacidades da CPU e da memória do computador determinam as configurações de cor que estão disponíveis na tela.
- E) as alterações nas configurações de cor afetam todos os usuários que fazem logon no computador.

14. Suponha que ao criar uma planilha de controle de despesas, você queira fixar as linhas do cabeçalho ao rolar a planilha. Qual opção do Excel permite esse tipo de comportamento?

- A) Proteger planilha.
- B) Proteger pasta de trabalho.
- C) Congelar painéis.
- D) Ocultar.
- E) Exibir Marcação.

15. Como mover-se entre células em uma planilha Excel, uma linha para baixo, utilizando a barra de rolagem?

- A) Clicando na seta à esquerda da barra de rolagem horizontal.
- B) Clicando na seta inferior da barra de rolagem vertical.
- C) Clicando abaixo da caixa de rolagem na barra de rolagem vertical.
- D) Clicando acima da caixa de rolagem na barra de rolagem vertical.
- E) Arrastando a caixa de rolagem até o fim, com a tecla SHIFT pressionada.

16. Para criar o seguinte cabeçalho do documento Word "Concursos FUNCAB.doc", sendo "Concursos FUNCAB.doc" o nome do arquivo, "1" o número da página corrente e "11/04/2010" a data de hoje. Quais recursos da formatação de cabeçalho do Word podem ter sido utilizados para criar o cabeçalho com essa formatação?

Concursos FUNCAB.doc 1 11/04/2010

- A) Inserir AutoTexto: nome do arquivo, e .
- B) Inserir AutoTexto: nome do arquivo e caminho, e .
- C) Inserir AutoTexto: nome do arquivo, e .
- D) "Concursos FUNCAB.doc", e .
- E) Inserir AutoTexto: nome do arquivo, e .

17. Qual o comportamento esperado ao pressionar a tecla DELETE, com uma tabela selecionada num documento Microsoft Word?

- A) A tabela será removida do documento.
- B) O conteúdo da tabela será apagado.
- C) A formatação da tabela será removida.
- D) As linhas serão removidas, mas as colunas serão mantidas.
- E) Essa tecla não tem ação para o objeto "Tabela".

18. No Internet Explorer, qual(is) tecla(s) de atalho permite(m) ampliar o zoom?

- A) SHIFT e "+".
- B) CTRL e "+".
- C) PAGE UP.
- D) F7.
- E) F8.

19. O Internet Explorer permite ao usuário atribuir cada site a uma determinada zona de segurança e, dessa forma, auxiliar no controle do nível de segurança desse site. Quais as zonas em que o Internet Explorer permite o usuário adicionar sites?

- A) Internet, Intranet e Lan.
- B) Intranet local, Firewall e Wan.
- C) Intranet local, Sites confiáveis ou Sites restritos.
- D) Internet, Intranet e Extranet.
- E) Intranet, Web Sites e Lan.

20. Considere que você seja responsável por realizar pesquisas na área de Saúde e divulgar via email o resultado para um mesmo grupo de contatos cadastrados no seu catálogo de endereços. Qual recurso do Microsoft Outlook que facilita essa tarefa?

- A) Tarefa.
- B) Gerenciamento de Dados.
- C) Contato.
- D) Lista de Distribuição.
- E) Arquivo de Dados do Outlook.

- Conhecimentos de Administração Pública e Realidade Ética, Social, Histórica, Geográfica, Cultural, Política e Econômica do Estado de Goiás e do Brasil

21. Entre as afirmações seguintes, só não é considerado ato de indisciplina do funcionário público:

- A) criticar, em documento assinado, a organização do serviço.
- B) fazer circular ou subscrever lista de donativo no recinto da repartição.
- C) revender mercadorias na repartição pública.
- D) permutar tarefa sob sua responsabilidade, por sua decisão.
- E) conquistar ou convidar subordinados para apoio partidário.

22. O Artigo 303 da Lei nº 10.460 de 1998 faculta ao funcionário:

- A) promover manifestações de apreço ou despreço no recinto da repartição.
- B) promover, na administração pública, interesses econômicos de terceiros
- C) promover “caixinha” de empréstimo na repartição pública.
- D) receber prêmios ou gratificações de reconhecimento do público por bom cumprimento de seus serviços.
- E) faltar ou chegar atrasado ao serviço por motivo justo, desde que comunicando com antecedência à autoridade competente.

23. De acordo com a Lei nº 10.460/1998, é permitido funcionário público:

- A) participar da gerência de empresas industriais e comerciais.
- B) participar de sociedade comercial, como cotista e acionista.
- C) pleitear como procurador ou intermediário, junto às repartições públicas, percepção de vencimentos ou vantagens de parentes até o 2º. Grau.
- D) desobedecer a decisão judicial sobre pagamento de pensões.
- E) deixar de comunicar à autoridade competente queixas ou denúncias que não sejam de sua alçada resolver.

24. Segundo o Artigo 37 do Capítulo VII da Constituição Federal, a investidura em cargo ou emprego público depende de:

- A) aprovação prévia em concurso público, ressalvadas as exceções.
- B) notória competência do candidato.
- C) nomeação ou indicação de autoridade política.
- D) aprovação por serviços anteriormente prestados à administração pública.
- E) capacitação comprovada por diploma de escolaridade.

25. O Artigo 43 da Constituição Federal determina que, para efeitos administrativos, a União poderá articular sua ação em um mesmo complexo geoeconômico e social visando a:

- A) garantir o privilégio de uma região sobre a outra.
- B) promover o seu desenvolvimento e à redução das desigualdades sociais.
- C) manter as diferenças de desenvolvimento decorrentes da evolução histórica de cada região.
- D) garantir a prioridade do Governo Federal na exploração da economia de cada região.
- E) impedir a oferta ou concessão de incentivos regionais, como isenções tributárias.

26. A Lei nº 8.666/1993 estabelece, no Artigo 2º, que as obras, serviços, inclusive de publicidade, compras alienações, concessões, permissões e locações da Administração Pública, quando contratados por terceiros necessariamente serão:

- A) precedidos de licitação, ressalvadas as hipóteses previstas nessa mesma lei.
- B) admitidos se sua idoneidade moral for atestada por funcionário público.
- C) dispensados de licitação se sua competência técnica for notória.
- D) dispensados de licitação dependendo de sua capacidade financeira.
- E) executadas por empresas estabelecidas no local da obra ou tarefa.

27. O Artigo 2º da Lei nº 16.272/2008 define como órgãos da Administração Direta do Poder Executivo:

- A) os integrantes da governadoria do Estado, como o Gabinete Militar e as Secretarias de Estado.
- B) a Assembleia Legislativa Estadual.
- C) os Tribunais de Justiça.
- D) o Tribunal Regional Eleitoral.
- E) as universidades federais localizadas no território do Estado.

28. A cidade de Goiânia, capital do estado de Goiás, situada no Planalto Central brasileiro é uma das mais populosas do Brasil, fica a 209 quilômetros de Brasília e:

- A) foi fundada o período colonial com a mineração do ouro.
- B) foi fundada durante a expansão bandeirante de apresamento de índios.
- C) foi fundada em 1933, planejada e construída para ser o centro político e administrativo do estado de Goiás.
- D) teve o crescimento planejado e controlado durante o século XIX.
- E) é patrimônio cultural da humanidade por suas construções do período colonial.

29. A Ferrovia Norte-Sul é ainda uma expectativa de que possa transportar anualmente 12,4 milhões de toneladas de carga. Os principais produtos a serem transportados serão minérios, produtos agrícolas e florestais – no sentido Norte-Sul – e combustíveis, fertilizantes e carga geral no sentido Sul-Norte proporcionando:

- A) a integração econômica do Norte e do Nordeste ao Sul e ao Sudeste do Brasil.
- B) benefícios apenas para a área da pecuária.
- C) a satisfação de interesses econômicos exteriores ao Centro-Oeste.
- D) o início da exploração econômica do cerrado.
- E) o atual aumento de custos e a menor competitividade da economia regional.

30. Composição étnica de Goiás

Etnias	%
Amarela ou indígena	0,2
Parda	50,9
Branca	43,6
Preta	5,3

Examinando a tabela concluímos:

- A) os índios são maioria.
- B) não há população de origem oriental.
- C) os brancos são maioria porque os pardos têm ancestrais indígenas.
- D) pode-se deduzir que não há origem portuguesa, árabe ou italiana.
- E) os pardos são maioria.

CONHECIMENTOS ESPECÍFICOS

31. São algumas limitações das cerâmicas odontológicas:

- A) friabilidade e potencial abrasivo de sua superfície.
- B) lisura excessiva e instabilidade química.
- C) baixa biocompatibilidade e friabilidade.
- D) instabilidade química e alto potencial abrasivo.
- E) não há limitações.

32. As cerâmicas odontológicas são compostas basicamente por matriz:

- A) inorgânica e partículas de carga orgânica.
- B) orgânica e partículas de carga inorgânica.
- C) orgânica e partículas de carga orgânica.
- D) inorgânica e partículas de carga inorgânica.
- E) inorgânica e organossilanos.

33. Para a fabricação de uma base para dentadura, é necessária a aplicação de um meio separador adequado sobre as paredes do molde. Falhas na aplicação do meio separador podem causar:

- A) porções de gesso podem se fundir à base da dentadura.
- B) manchas na base devido à pigmentação.
- C) odor desagradável.
- D) gosto desagradável.
- E) nenhuma alteração significativa.

34. São agentes separadores usados em prótese total, soluções aquosas:

- A) de ácido fosfórico.
- B) de ácido itacônico.
- C) de permanganato de sódio.
- D) de alginato solúvel.
- E) de monômeros insolúveis.

35. A especificação nº 12 da ADA para resinas para base de dentadura requer que a consistência da massa plástica, a partir do processo de mistura, seja alcançada em menos de:

- A) 5 minutos.
- B) 10 minutos.
- C) 20 minutos.
- D) 30 minutos.
- E) 40 minutos.

36. Para a confecção de uma base de dentadura, podem ser utilizadas resinas quimicamente ativadas e termoativadas. Uma desvantagem das resinas quimicamente ativadas quando comparadas com as termoativadas é:

- A) o grau de polimerização não se completa, gerando grande quantidade de monômeros residuais.
- B) apresentam maior contração de polimerização.
- C) adaptação dimensional inferior.
- D) não existem desvantagens, sendo superior em todos os aspectos.
- E) alto potencial tóxico para o profissional que utiliza.

37. A principal vantagem da polimerização das resinas de poli(metilmacrilato) empregando-se a energia de micro-ondas é:

- A) a velocidade na qual a polimerização se dá.
- B) propriedades físicas das resinas utilizadas muito superior às convencionais.
- C) adaptação muito superior às resinas convencionais.
- D) odor melhorado.
- E) não há vantagens nesta técnica.

<p>38. A moldeira de resina confeccionada para adaptar-se a uma arcada específica é chamada:</p> <p>A) de estoque. B) triple tray. C) individual. D) de Lindsay. E) tipo verner.</p>	<p>44. Para uma forte união da cerâmica ao casquete fundido, devemos manter o casquete:</p> <p>A) limpo. B) com impurezas para melhorar a retenção. C) com vestígios de revestimento aglutinado por sílica. D) com vestígios de revestimento aglutinado por gesso. E) repleto de revestimento aglutinado por fosfato.</p>
<p>39. É importante que todos os produtos de gesso sejam armazenados em ambiente:</p> <p>A) 100% úmido. B) seco. C) molhado. D) não requer cuidados na estocagem. E) escuro.</p>	<p>45. As porcelanas opacas contêm:</p> <p>A) grandes quantidades de óxidos metálicos opacificadores. B) grandes quantidades de leucita opacificadora. C) pequenas quantidades de leucita opacificadora. D) ligas de amálgama fusionadas. E) ligas de ouro-paládio fusionadas.</p>
<p>40. Segundo Anusavice, J. A. (1998), os materiais para moldagem compostos por gesso Paris, raramente usado para moldagens dentárias e restrito à moldagem final na confecção de próteses totais é do tipo:</p> <p>A) I B) II C) III D) IV E) V</p>	<p>46. A maior desvantagem dos troquéis de gesso tipo IV durante a escultura do modelo de cera é:</p> <p>A) rigidez acentuada. B) suscetibilidade à abrasão. C) cor inadequada. D) baixa resistência à tração. E) baixa resistência à compressão.</p>
<p>41. O gesso que tem uma resistência à compressão superior ao tipo IV e expansão de presa aumentada é o tipo:</p> <p>A) I B) II C) III D) V E) VI</p>	<p>47. Algumas ligas metálicas não formam óxidos externos, porém se oxidam internamente. Para essas ligas a adesão mecânica à cerâmica se faz necessária. Um exemplo é a liga de:</p> <p>A) ouro tipo II. B) ouro tipo III. C) prata-paládio. D) níquel-cromo. E) cromo-cobalto.</p>
<p>42. Na confecção de restaurações metalocerâmicas, para satisfatória aderência aos casquetes metálicos, as cerâmicas devem ser:</p> <p>A) de baixa fusão e coeficiente de contração térmica próximo ao da liga metálica. B) de alta fusão e coeficiente de contração térmica superior ao da liga metálica. C) de baixa fusão e coeficiente de contração térmica superior ao da liga metálica. D) de média fusão. E) de alta fusão.</p>	<p>48. Durante a confecção de bases para dentaduras, a introdução de moléculas de água dentro da massa polimerizada da resina produz:</p> <p>A) nada. B) contração da massa polimerizada. C) odor desagradável. D) lixiviação de grande parte dos componentes. E) ligeira expansão da massa polimerizada.</p>
<p>43. Durante o processo de fundição das ligas para confecção de restaurações metalocerâmicas, não deve ser utilizado revestimento:</p> <p>A) aglutinado por fosfato. B) aglutinado por gesso. C) aglutinado por sílica. D) de espécie alguma. E) aglutinado por elastômeros.</p>	<p>49. Em relação aos dentes artificiais utilizados para confecção de próteses totais podemos afirmar:</p> <p>A) dentes de resina são menos propensos à fratura que os de porcelana. B) dentes de porcelana são menos propensos à fratura que os de resina. C) dentes de resina são mais resistentes a choques térmicos. D) dentes de resina têm maior estabilidade dimensional. E) não há diferenças entre os materiais.</p>

<p>50. Segundo Telles, D (2009), a principal característica positiva da oclusão balanceada bilateral para prótese total é:</p> <p>A) pequeno trespasse vertical no posicionamento dos dentes anteriores. B) grande trespasse horizontal no posicionamento dos dentes anteriores. C) ausência de trespasse vertical e horizontal nos dentes posteriores. D) ausência de trespasse vertical e horizontal nos dentes anteriores. E) presença de mordida aberta anterior.</p>	<p>55. Uma liga alternativa à liga de ouro que apresenta biocompatibilidade, propriedades mecânicas adequadas e boa relação custo-benefício é:</p> <p>A) níquel-cromo. B) cromo-cobalto. C) prata-paládio. D) prata-estanho. E) duracast.</p>
<p>51. A função inicial de um guia cirúrgico para instalação de implantes osseointegrados é:</p> <p>A) permitir uma avaliação mais precisa da disponibilidade de osso, facilitando o planejamento da prótese sobre implante. B) avaliar a quantidade de mucosa que recobre a crista óssea alveolar, impedindo acidentes. C) avaliar se há necessidade ou não de uma intervenção cirúrgica. D) determinar que tipo de implante será selecionado. E) não há necessidade, sendo uma manobra dispensável.</p>	<p>56. O formato da arcada onde serão montados dentes artificiais para próteses totais ou próteses parciais removíveis a grampo, é definido por:</p> <p>A) conformação do lábio superior. B) conformação do plano de cera criado na boca. C) posicionamento do freio labial superior. D) posicionamento do freio lingual. E) por nenhuma estrutura em particular.</p>
<p>52. Os articuladores do tipo “charneira” são caracterizados por:</p> <p>A) permitir a execução de movimentos de lateralidade e guia anterior. B) permitir o ajuste da distância intercondilar. C) permitir o ajuste do ângulo de Bennet. D) não simular adequadamente os movimentos mandibulares, inclusive lateralidade e guia anterior. E) ser totalmente ajustáveis.</p>	<p>57. Quando o rebordo superior está atrás do rebordo inferior estamos diante de:</p> <p>A) classe I esquelética. B) classe II esquelética. C) classe III esquelética. D) classe IV esquelética. E) classe V esquelética.</p>
<p>53. Alguns fatores estão relacionados ao desgaste das próteses totais. Um fator que NÃO pode ser relacionado a tal fato é:</p> <p>A) frequência mastigatória. B) presença de hábitos parafuncionais. C) ação de agentes de limpeza da prótese. D) tipo de dieta. E) idade do paciente.</p>	<p>58. Quando o rebordo superior e inferior estão alinhados no plano sagital estamos diante de:</p> <p>A) classe I esquelética. B) classe II esquelética. C) classe III esquelética. D) classe IV esquelética. E) classe V esquelética.</p>
<p>54. Na montagem dos modelos em articulador semiajustável, o ângulo de Bennett ou de lateralidade é ajustado em:</p> <p>A) 45° B) 90° C) 15° D) 180° E) 30°</p>	<p>59. Quando o rebordo superior está à frente do rebordo inferior estamos diante de:</p> <p>A) classe I esquelética. B) classe II esquelética. C) classe III esquelética. D) classe IV esquelética. E) classe V esquelética.</p> <p>60. O dente que apresenta, normalmente, três cúspides na face vestibular é o:</p> <p>A) primeiro molar inferior. B) segundo molar inferior. C) primeiro molar superior. D) segundo molar superior. E) terceiro molar inferior.</p>