



CONCURSO PÚBLICO

## 16. PROVA OBJETIVA

TÉCNICO OPERACIONAL  
(ALMOXARIFE)

- ♦ VOCÊ RECEBEU SUA FOLHA DE RESPOSTAS E ESTE CADERNO CONTENDO 50 QUESTÕES OBJETIVAS.
- ♦ PREENCHA COM SEU NOME E NÚMERO DE INSCRIÇÃO OS ESPAÇOS RESERVADOS NA CAPA DESTA CADERNO.
- ♦ LEIA CUIDADOSAMENTE AS QUESTÕES E ESCOLHA A RESPOSTA QUE VOCÊ CONSIDERA CORRETA.
- ♦ RESPONDA A TODAS AS QUESTÕES.
- ♦ MARQUE, NA FOLHA INTERMEDIÁRIA DE RESPOSTAS, LOCALIZADA NO VERSO DESTA PÁGINA, A LETRA CORRESPONDENTE À ALTERNATIVA QUE VOCÊ ESCOLHEU.
- ♦ TRANSCREVA PARA A FOLHA DE RESPOSTAS, COM CANETA DE TINTA AZUL OU PRETA, TODAS AS RESPOSTAS ANOTADAS NA FOLHA INTERMEDIÁRIA DE RESPOSTAS.
- ♦ A DURAÇÃO DA PROVA É DE 3 HORAS.
- ♦ A SAÍDA DO CANDIDATO DA SALA SERÁ PERMITIDA APÓS TRANSCORRIDA A METADE DO TEMPO DE DURAÇÃO DA PROVA.
- ♦ AO SAIR, VOCÊ ENTREGARÁ AO FISCAL A FOLHA DE RESPOSTAS E ESTE CADERNO, PODENDO DESTACAR ESTA CAPA PARA FUTURA CONFERÊNCIA COM O GABARITO A SER DIVULGADO.

AGUARDE A ORDEM DO FISCAL PARA ABRIR ESTE CADERNO DE QUESTÕES.

Nome do candidato \_\_\_\_\_

Número de inscrição \_\_\_\_\_

## FOLHA INTERMEDIÁRIA DE RESPOSTAS

TÉCNICO OPERACIONAL  
(ALMOXARIFE)

QUESTÃO	RESPOSTA				
01	<input type="checkbox"/> A	<input type="checkbox"/> B	<input type="checkbox"/> C	<input type="checkbox"/> D	<input type="checkbox"/> E
02	<input type="checkbox"/> A	<input type="checkbox"/> B	<input type="checkbox"/> C	<input type="checkbox"/> D	<input type="checkbox"/> E
03	<input type="checkbox"/> A	<input type="checkbox"/> B	<input type="checkbox"/> C	<input type="checkbox"/> D	<input type="checkbox"/> E
04	<input type="checkbox"/> A	<input type="checkbox"/> B	<input type="checkbox"/> C	<input type="checkbox"/> D	<input type="checkbox"/> E
05	<input type="checkbox"/> A	<input type="checkbox"/> B	<input type="checkbox"/> C	<input type="checkbox"/> D	<input type="checkbox"/> E

06	<input type="checkbox"/> A	<input type="checkbox"/> B	<input type="checkbox"/> C	<input type="checkbox"/> D	<input type="checkbox"/> E
07	<input type="checkbox"/> A	<input type="checkbox"/> B	<input type="checkbox"/> C	<input type="checkbox"/> D	<input type="checkbox"/> E
08	<input type="checkbox"/> A	<input type="checkbox"/> B	<input type="checkbox"/> C	<input type="checkbox"/> D	<input type="checkbox"/> E
09	<input type="checkbox"/> A	<input type="checkbox"/> B	<input type="checkbox"/> C	<input type="checkbox"/> D	<input type="checkbox"/> E
10	<input type="checkbox"/> A	<input type="checkbox"/> B	<input type="checkbox"/> C	<input type="checkbox"/> D	<input type="checkbox"/> E

11	<input type="checkbox"/> A	<input type="checkbox"/> B	<input type="checkbox"/> C	<input type="checkbox"/> D	<input type="checkbox"/> E
12	<input type="checkbox"/> A	<input type="checkbox"/> B	<input type="checkbox"/> C	<input type="checkbox"/> D	<input type="checkbox"/> E
13	<input type="checkbox"/> A	<input type="checkbox"/> B	<input type="checkbox"/> C	<input type="checkbox"/> D	<input type="checkbox"/> E
14	<input type="checkbox"/> A	<input type="checkbox"/> B	<input type="checkbox"/> C	<input type="checkbox"/> D	<input type="checkbox"/> E
15	<input type="checkbox"/> A	<input type="checkbox"/> B	<input type="checkbox"/> C	<input type="checkbox"/> D	<input type="checkbox"/> E

16	<input type="checkbox"/> A	<input type="checkbox"/> B	<input type="checkbox"/> C	<input type="checkbox"/> D	<input type="checkbox"/> E
17	<input type="checkbox"/> A	<input type="checkbox"/> B	<input type="checkbox"/> C	<input type="checkbox"/> D	<input type="checkbox"/> E
18	<input type="checkbox"/> A	<input type="checkbox"/> B	<input type="checkbox"/> C	<input type="checkbox"/> D	<input type="checkbox"/> E
19	<input type="checkbox"/> A	<input type="checkbox"/> B	<input type="checkbox"/> C	<input type="checkbox"/> D	<input type="checkbox"/> E
20	<input type="checkbox"/> A	<input type="checkbox"/> B	<input type="checkbox"/> C	<input type="checkbox"/> D	<input type="checkbox"/> E

21	<input type="checkbox"/> A	<input type="checkbox"/> B	<input type="checkbox"/> C	<input type="checkbox"/> D	<input type="checkbox"/> E
22	<input type="checkbox"/> A	<input type="checkbox"/> B	<input type="checkbox"/> C	<input type="checkbox"/> D	<input type="checkbox"/> E
23	<input type="checkbox"/> A	<input type="checkbox"/> B	<input type="checkbox"/> C	<input type="checkbox"/> D	<input type="checkbox"/> E
24	<input type="checkbox"/> A	<input type="checkbox"/> B	<input type="checkbox"/> C	<input type="checkbox"/> D	<input type="checkbox"/> E
25	<input type="checkbox"/> A	<input type="checkbox"/> B	<input type="checkbox"/> C	<input type="checkbox"/> D	<input type="checkbox"/> E

QUESTÃO	RESPOSTA				
26	<input type="checkbox"/> A	<input type="checkbox"/> B	<input type="checkbox"/> C	<input type="checkbox"/> D	<input type="checkbox"/> E
27	<input type="checkbox"/> A	<input type="checkbox"/> B	<input type="checkbox"/> C	<input type="checkbox"/> D	<input type="checkbox"/> E
28	<input type="checkbox"/> A	<input type="checkbox"/> B	<input type="checkbox"/> C	<input type="checkbox"/> D	<input type="checkbox"/> E
29	<input type="checkbox"/> A	<input type="checkbox"/> B	<input type="checkbox"/> C	<input type="checkbox"/> D	<input type="checkbox"/> E
30	<input type="checkbox"/> A	<input type="checkbox"/> B	<input type="checkbox"/> C	<input type="checkbox"/> D	<input type="checkbox"/> E

31	<input type="checkbox"/> A	<input type="checkbox"/> B	<input type="checkbox"/> C	<input type="checkbox"/> D	<input type="checkbox"/> E
32	<input type="checkbox"/> A	<input type="checkbox"/> B	<input type="checkbox"/> C	<input type="checkbox"/> D	<input type="checkbox"/> E
33	<input type="checkbox"/> A	<input type="checkbox"/> B	<input type="checkbox"/> C	<input type="checkbox"/> D	<input type="checkbox"/> E
34	<input type="checkbox"/> A	<input type="checkbox"/> B	<input type="checkbox"/> C	<input type="checkbox"/> D	<input type="checkbox"/> E
35	<input type="checkbox"/> A	<input type="checkbox"/> B	<input type="checkbox"/> C	<input type="checkbox"/> D	<input type="checkbox"/> E

36	<input type="checkbox"/> A	<input type="checkbox"/> B	<input type="checkbox"/> C	<input type="checkbox"/> D	<input type="checkbox"/> E
37	<input type="checkbox"/> A	<input type="checkbox"/> B	<input type="checkbox"/> C	<input type="checkbox"/> D	<input type="checkbox"/> E
38	<input type="checkbox"/> A	<input type="checkbox"/> B	<input type="checkbox"/> C	<input type="checkbox"/> D	<input type="checkbox"/> E
39	<input type="checkbox"/> A	<input type="checkbox"/> B	<input type="checkbox"/> C	<input type="checkbox"/> D	<input type="checkbox"/> E
40	<input type="checkbox"/> A	<input type="checkbox"/> B	<input type="checkbox"/> C	<input type="checkbox"/> D	<input type="checkbox"/> E

41	<input type="checkbox"/> A	<input type="checkbox"/> B	<input type="checkbox"/> C	<input type="checkbox"/> D	<input type="checkbox"/> E
42	<input type="checkbox"/> A	<input type="checkbox"/> B	<input type="checkbox"/> C	<input type="checkbox"/> D	<input type="checkbox"/> E
43	<input type="checkbox"/> A	<input type="checkbox"/> B	<input type="checkbox"/> C	<input type="checkbox"/> D	<input type="checkbox"/> E
44	<input type="checkbox"/> A	<input type="checkbox"/> B	<input type="checkbox"/> C	<input type="checkbox"/> D	<input type="checkbox"/> E
45	<input type="checkbox"/> A	<input type="checkbox"/> B	<input type="checkbox"/> C	<input type="checkbox"/> D	<input type="checkbox"/> E

46	<input type="checkbox"/> A	<input type="checkbox"/> B	<input type="checkbox"/> C	<input type="checkbox"/> D	<input type="checkbox"/> E
47	<input type="checkbox"/> A	<input type="checkbox"/> B	<input type="checkbox"/> C	<input type="checkbox"/> D	<input type="checkbox"/> E
48	<input type="checkbox"/> A	<input type="checkbox"/> B	<input type="checkbox"/> C	<input type="checkbox"/> D	<input type="checkbox"/> E
49	<input type="checkbox"/> A	<input type="checkbox"/> B	<input type="checkbox"/> C	<input type="checkbox"/> D	<input type="checkbox"/> E
50	<input type="checkbox"/> A	<input type="checkbox"/> B	<input type="checkbox"/> C	<input type="checkbox"/> D	<input type="checkbox"/> E

## LÍNGUA PORTUGUESA

Para responder às questões de números **01** a **10**, leia o texto de Ruy Castro.

### *Síndrome de Suri*

RIO DE JANEIRO – Temo estar perdendo maravilhas, mas nunca vi um filme com Katie Holmes. Sei que é mulher de um ator chamado Tom Cruise, de quem também só assisti a “De Olhos Bem Fechados”, por causa do diretor Stanley Kubrick, e que o casal tem uma filha de 3 anos, Suri, que vive saindo na mídia por usar sapatos de salto alto, tomar vinho tinto e ter seu próprio cartão de crédito.

Holmes e Cruise devem ter suas razões – despreparo, carreirismo ou deslumbramento – para permitir tal precocidade na biografia da filha. Nas reportagens sobre Suri, os ortopedistas alertam para o fato de que saltos altos são incompatíveis com uma estrutura óssea cuja formação, segundo eles, só se completará aos 12 ou 13 anos. Além de serem uma garantia de dores, calos e joanetes para Suri e, na vida adulta, de pernas curtas e dificuldade para caminhar. Esses alertas, pelo visto, caem no vazio.

O problema não se limita a Hollywood ou a filhos de pais famosos. No Brasil, talvez mais que em outros países, há meninas entre 3 e 10 anos com hora marcada no salão para depilar a sobrancelha, aplicar “luzes” no cabelo ou fazer tratamento contra celulite. Toda garota quer se parecer com a mãe, é normal. O problema é quando os fabricantes de cosméticos, sutiãs etc. assumem o controle dessa estética infantil e passam a impô-la às crianças com a convivência das mães.

O humanista americano Neil Postman (1931-2003) alertou para esse problema num grande livro de 1982, “O Desaparecimento da Infância” (há versão brasileira, pela editora Graphia). Todas as previsões de Postman se confirmaram: sem saber, estamos gerando crianças-adultos, que dificilmente chegarão à maturidade.

(Folha de S.Paulo, 14.12.2009)

- 01.** Para analisar o assunto, que denomina de *Síndrome de Suri*, o autor se vale da
- (A) atuação da filha do casal Holmes e Cruise, em geral bem avaliada pela mídia.
  - (B) admiração pelo diretor Stanley Kubrick, que dirigiu Holmes e Cruise.
  - (C) lembrança dos filmes de Holmes, que admira pela competente atuação.
  - (D) exposição, na mídia, da filha do casal de atores Holmes e Cruise.
  - (E) vida profissional de Holmes e Cruise, que exigem a filha da exposição pública.
- 02.** De acordo com o ponto de vista do autor, o comportamento adulto vivido na infância é uma realidade que
- (A) caracteriza os excessos das celebridades.
  - (B) foi criada pela indústria cinematográfica norte-americana.
  - (C) é comum a muitas crianças, filhas de famosos ou não.
  - (D) se mostra saudável para a vida social das crianças.
  - (E) expressa amadurecimento das relações entre pais e filhos.

**03.** No segundo parágrafo, fica claro que

- (A) os sacrifícios na infância são recompensados com uma vida adulta sem problemas.
- (B) o uso de saltos altos pode comprometer o desenvolvimento sadio de uma criança.
- (C) mulheres que se movem com dificuldade não usaram saltos altos na infância.
- (D) o uso de saltos é uma forma de compensar pernas curtas e dificuldades para caminhar.
- (E) os saltos altos devem ser usados antes da formação da estrutura óssea feminina.

**04.** Na opinião dos ortopedistas, Suri

- (A) se comporta como um adulto pelo fato de ter pernas curtas e certa dificuldade para caminhar.
- (B) tem um estilo de vida incompatível com dores, calos e joanetes, comuns a garotas de sua idade.
- (C) é uma criança que, apesar de ser filha de famosos, não sofre do problema previsto por Neil Postman.
- (D) comete pequenos deslizos, os quais, contudo, não poderão significar nenhum prejuízo futuro.
- (E) poderá ter pernas curtas e dificuldades para caminhar, por assumir precocemente o comportamento adulto.

**05.** Na frase – ... *os fabricantes de cosméticos, sutiãs etc. assumem o controle dessa estética infantil e passam a impô-la às crianças com a convivência das mães.* – entende-se que as mães

- (A) não se opõem à ação dos fabricantes.
- (B) questionam a ação dos fabricantes.
- (C) não permitem a exposição das filhas.
- (D) atrapalham a ação dos fabricantes.
- (E) desenvolvem a criticidade das filhas.

**06.** Assinale a alternativa em que o verbo em destaque está devidamente flexionado.

- (A) Sem que *soubermos*, estamos gerando crianças-adultos, que dificilmente chegarão à maturidade.
- (B) Sem que *sabemos*, estamos gerando crianças-adultos, que dificilmente chegarão à maturidade.
- (C) Sem que *saibamos*, estamos gerando crianças-adultos, que dificilmente chegarão à maturidade.
- (D) Sem que *saberemos*, estamos gerando crianças-adultos, que dificilmente chegarão à maturidade.
- (E) Sem que *sabíamos*, estamos gerando crianças-adultos, que dificilmente chegarão à maturidade.

07. Analise as frases.

- I. *Ambos têm uma filha de três anos.*
- II. *A opinião dos ortopedistas, pelo visto, caem no vazio.*
- III. *No Brasil, existe meninas entre 3 e 10 anos com hora marcada no salão...*

Quanto à concordância verbal, está correto apenas o contido em

- (A) I.
- (B) II.
- (C) III.
- (D) I e III.
- (E) II e III.

08. Observando-se a regência, a frase – *Toda garota quer se parecer com a mãe, é normal.* – está corretamente reescrita em:

- (A) É normal de que toda garota queira se parecer com a mãe.
- (B) É normal que toda garota queira se parecer com a mãe.
- (C) É normal com que toda garota queira se parecer com a mãe.
- (D) É normal a que toda garota queira se parecer com a mãe.
- (E) É normal em que toda garota queira se parecer com a mãe.

09. Assinale a alternativa correta quanto ao uso do acento indicativo da crase.

- (A) Sei que é mulher de um ator chamado Tom Cruise, de quem também só assisti à um filme: “De Olhos Bem Fechados”.
- (B) Os ortopedistas alertam quando os saltos altos não são adequados à uma estrutura óssea em formação.
- (C) Os ortopedistas observam que a estrutura óssea em formação só se completará à partir dos 12 ou 13 anos.
- (D) O problema não se limita às crianças de Hollywood ou àquelas de pais famosos.
- (E) Estamos gerando crianças-adultos, que dificilmente chegarão à viver a maturidade.

10. Em – No Brasil, *talvez* mais que em outros países,... – o advérbio em destaque expressa sentido de

- (A) causa.
- (B) afirmação.
- (C) negação.
- (D) modo.
- (E) dúvida.

## MATEMÁTICA

11. Em um jogo de basquete, um dos times, muito mais forte, fez 62 pontos a mais que o seu adversário, que fez apenas a terça parte do total de pontos feitos pelo time vencedor. Nesse jogo, o time derrotado marcou

- (A) 21 pontos.
- (B) 31 pontos.
- (C) 32 pontos.
- (D) 42 pontos.
- (E) 48 pontos.

12. Um eletricitista tem 4 rolos do fio X, com 84 m cada um, 3 rolos do fio Y, com 144 m cada um, e 5 rolos do fio Z, com 60 m cada um. Para fazer as ligações necessárias de uma obra, ele deverá cortar os fios dos 12 rolos em pedaços do mesmo tamanho, sendo esse tamanho o maior possível, de modo que não reste nenhum pedaço de fio nos rolos. Dessa maneira, ele deverá obter um número total de pedaços igual a

- (A) 24.
- (B) 36.
- (C) 49.
- (D) 64.
- (E) 89.

13. Numa loja, Márcio e Cláudio compraram uma unidade cada de um mesmo produto, com o mesmo preço de tabela. Na negociação com o lojista, Márcio conseguiu um desconto de 15% sobre o preço de tabela, e vai pagar R\$ 680,00 num certo prazo. Cláudio, que optou pelo pagamento à vista, conseguiu um desconto maior, e vai pagar R\$ 608,00. O desconto sobre o preço de tabela obtido por Cláudio foi de

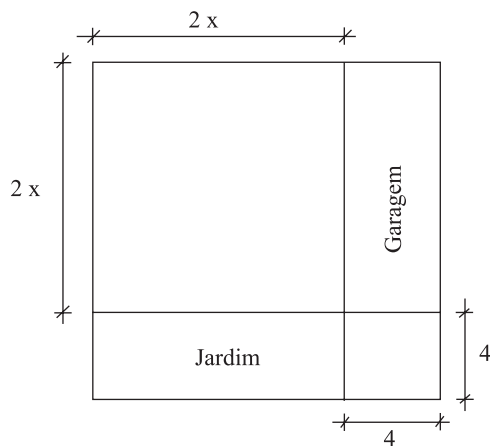
- (A) 18%.
- (B) 21%.
- (C) 22%.
- (D) 24%.
- (E) 25%.

14. Numa obra de um edifício, 2 elevadores de carga transportam lajotas do solo até um determinado andar. Enquanto um deles, menor, leva 40 peças por vez e demora 15 minutos para ir e voltar, o outro, maior, leva 60 peças por vez e demora 21 minutos para ir e voltar. Dessa maneira, pode-se afirmar que, no mesmo tempo que o elevador menor gasta para levar 280 peças, o elevador maior leva

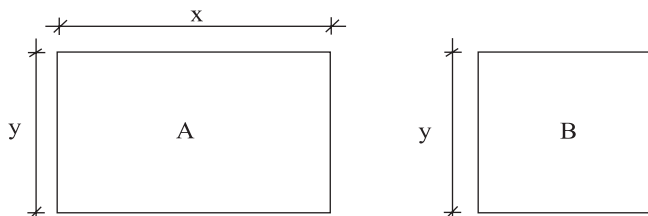
- (A) 270 peças.
- (B) 300 peças.
- (C) 310 peças.
- (D) 320 peças.
- (E) 330 peças.

15. Um capital foi aplicado no sistema de juros simples durante 20 meses, e o montante recebido ao final da aplicação foi igual a  $\frac{5}{4}$  do capital inicial. A taxa anual de juros simples dessa aplicação foi
- (A) 15%.  
 (B) 18%.  
 (C) 20%.  
 (D) 22%.  
 (E) 25%.

16. Um terreno quadrado, com área total de  $196 \text{ m}^2$ , foi dividido em 2 regiões quadradas e 2 regiões retangulares para efeito de construção, como mostra a figura, cujas dimensões estão em metros. A soma das áreas das duas regiões retangulares, destinadas à garagem e ao jardim, é igual a

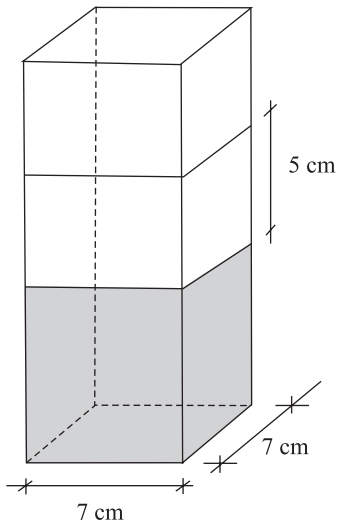


- (A)  $40 \text{ m}^2$ .  
 (B)  $60 \text{ m}^2$ .  
 (C)  $70 \text{ m}^2$ .  
 (D)  $80 \text{ m}^2$ .  
 (E)  $90 \text{ m}^2$ .
17. Os painéis A, retangular, e B, quadrado, mostrados nas figuras, foram confeccionados para uma exposição. Sabe-se que o painel A tem  $3,75 \text{ m}^2$  de área, e que a medida do lado  $y$  é igual a  $\frac{3}{5}$  da medida do lado  $x$ . A diferença entre os perímetros dos painéis A e B, nessa ordem, é igual a

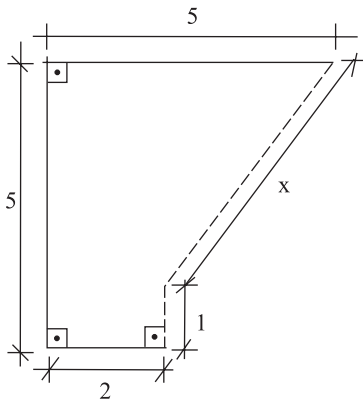


- (A) 1,50 m.  
 (B) 1,75 m.  
 (C) 2,00 m.  
 (D) 2,20 m.  
 (E) 2,25 m.

18. Flávio ingeriu uma certa quantidade do suco contido em um recipiente com a forma de um prisma reto, mostrado na figura, e o nível do suco no recipiente baixou 5 cm. A quantidade de suco ingerida por Flávio foi, em mL, igual a

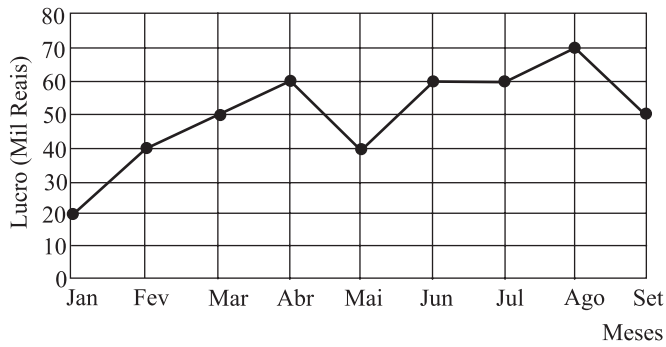


- (A) 185.  
 (B) 200  
 (C) 210.  
 (D) 225.  
 (E) 245.
19. Na figura, cujas dimensões estão em metros, a linha pontilhada representa uma grade que foi colocada em dois lados de um canteiro. A extensão total dessa grade é



- (A) 6,00 m.  
 (B) 5,80 m.  
 (C) 5,75 m.  
 (D) 5,50 m.  
 (E) 5,00 m.

20. No gráfico está representado o lucro mensal, em milhares de reais, de uma pequena empresa, no período de janeiro a setembro de 2009.



De acordo com os dados do gráfico, é correto afirmar que o lucro

- (A) de abril teve um crescimento de 25% em relação ao do mês anterior.
- (B) médio mensal, no 2.º trimestre, foi igual a 40 mil reais.
- (C) médio mensal, no 3.º trimestre, foi igual a 60 mil reais.
- (D) mensal igual a 50 mil reais ocorreu em apenas um mês.
- (E) mensal igual a 60 mil reais ocorreu em três meses consecutivos.

### CONHECIMENTOS BÁSICOS

21. Verificada a prática de ato infracional, a autoridade competente poderá aplicar ao adolescente medidas socioeducativas, dentre as quais
- (A) orientação, apoio e acompanhamento temporários.
  - (B) repreensão por escrito e restituição do objeto danificado.
  - (C) liberdade representada com a finalidade de orientação.
  - (D) advertência, que será aplicada independentemente de prova da materialidade da infração.
  - (E) prestação de serviços comunitários, por período superior a sete meses, junto a entidades assistenciais.
22. São diretrizes da política de atendimento à criança e ao adolescente:
- (A) serviços gerais de atendimento médico e psicossocial às vítimas de crueldade e opressão.
  - (B) políticas e programas de assistência social, em caráter permanente, para todos.
  - (C) criação e manutenção de programas específicos, observada a descentralização político-administrativa.
  - (D) proteção jurídico-social por entidades de defesa dos direitos e deveres.
  - (E) imobilização da opinião pública no sentido da dispensável participação dos diversos segmentos da sociedade.

- 23.** As entidades que desenvolvam programas de abrigo à criança e ao adolescente deverão adotar o seguinte princípio:
- (A) observar os direitos e garantias de que são titulares os adolescentes.
  - (B) desmembramentos de grupos de irmãos em famílias substitutivas.
  - (C) proceder a estudo social e pessoal de cada caso.
  - (D) proceder, sempre que possível, à transferência de crianças e adolescentes abrigados para outras entidades.
  - (E) participação de pessoas da comunidade no processo educativo.
- 24.** São asseguradas ao adolescente, entre outras, as seguintes garantias processuais:
- (A) pleno e formal conhecimento da atribuição de ato infracional, mediante intimação.
  - (B) direito de ser ouvido pessoalmente pela autoridade competente.
  - (C) defesa técnica pelo Conselho Tutelar.
  - (D) igualdade na relação processual, não podendo, no entanto, confrontar-se com vítimas ou testemunhas.
  - (E) semiliberdade assistida durante o curso do processo legal.
- 25.** O direito das crianças e dos adolescentes à proteção especial, previsto na Constituição Federal, abrange, dentre outros aspectos,
- (A) a garantia de direitos previdenciários e trabalhistas.
  - (B) a idade mínima de dezessete anos para admissão ao trabalho.
  - (C) a jornada de trabalho reduzida, perfazendo trinta horas semanais.
  - (D) o estímulo do Poder Público a programas de estágio não remunerado.
  - (E) a admissão incondicionada no mercado de trabalho.

## CONHECIMENTOS ESPECÍFICOS

- 26.** A atividade compras tem por finalidade
- (A) reduzir a quantidade de materiais em estoque.
  - (B) investir o capital em materiais móveis e imóveis para fins de ganho financeiro.
  - (C) suprir as necessidades da empresa mediante a aquisição de materiais.
  - (D) construir uma cadeia de produtos em relação aos recursos financeiros disponíveis.
  - (E) definir o tipo de material que deve ser adquirido e o procedimento a ser utilizado.
- 27.** Um dos objetivos da atividade compras é
- (A) codificar os materiais de consumo em relação ao espaço físico.
  - (B) identificar no mercado as melhores condições comerciais e técnicas a serem aplicadas.
  - (C) assegurar que o capital imobilizado em estoque seja compatível com as contas a pagar.
  - (D) evitar desperdícios como obsolescência, roubos e extravios de materiais.
  - (E) avaliar o procedimento de baixa de estoque em relação aos itens estocados.
- 28.** São considerados despesas correntes:
- (A) materiais permanentes.
  - (B) máquinas e motores.
  - (C) armazéns gerais.
  - (D) armários e estantes.
  - (E) materiais de consumo.
- 29.** Conforme a Lei Federal n.º 8.666/93, leilão, tomada de preços, concorrência, convite e concurso são considerados
- (A) instrumentos de convocação.
  - (B) modalidades de licitação.
  - (C) registros cadastrais.
  - (D) termos de referência.
  - (E) documentos de habilitação.
- 30.** Conforme a Lei Federal n.º 8.666/93, nos casos de emergência ou de calamidade pública, quando caracterizada urgência de atendimento de situação que possa ocasionar prejuízo ou comprometer a segurança de pessoas, a licitação pode ser
- (A) inexigida.
  - (B) formalizada.
  - (C) indicada.
  - (D) dispensada.
  - (E) estabelecida.



31. Conforme a Lei Federal n.º 8.666/93, quando houver inviabilidade de competição, a licitação pode ser
- (A) inexigível.
  - (B) exigível.
  - (C) dirigível.
  - (D) previsível.
  - (E) dispensável.
32. É definida pela empresa uma programação de recebimento de materiais no almoxarifado para
- (A) planejar o tipo de material que deve ficar em estoque.
  - (B) avaliar as notas fiscais que terão prioridade de pagamento.
  - (C) criar mecanismos de controle de material.
  - (D) evitar picos de chegada de material.
  - (E) adequar custos em fichas de prateleiras.
33. O intervalo de reposição ou de ressuprimento é também conhecido como
- (A) frequência de entrega.
  - (B) pedido de compras.
  - (C) ponto de ressuprimento.
  - (D) lote econômico.
  - (E) ciclo de reposição.
34. Pode-se definir tempo de reposição como:
- (A) relação entre horas produtivas e horas paradas em relação ao expediente da repartição.
  - (B) estratégia de gestão para aquisição de recursos materiais e patrimoniais da empresa.
  - (C) suporte de cronologia e tempo para decidir que tipo de materiais devem ser comprados para estoque.
  - (D) intervalo de tempo ocorrido entre a emissão do pedido de compra e a inclusão definitiva do material em estoque.
  - (E) tempo gasto para que o suporte administrativo decida qual o processo de compra deve ser aplicado.
35. Quando se consome toda demanda prevista no período de tempo considerado, mais o estoque mínimo reservado para o produto, durante o intervalo de reposição de estoque, ocorre a
- (A) sistemática de aquisição.
  - (B) transferência de bens.
  - (C) ruptura de estoque.
  - (D) função de ressuprimento.
  - (E) solicitação de compras.
36. Em relação ao planejamento de estoque e controle de estoque, pode-se considerar a soma do estoque real mais o estoque virtual como
- (A) estoque secundário.
  - (B) estoque total.
  - (C) estoque mínimo.
  - (D) estoque máximo.
  - (E) giro de estoque.
37. O sistema de duas caixas ou de duas gavetas é considerado um método de
- (A) operação de compra.
  - (B) requisição de materiais.
  - (C) alienação de bens móveis.
  - (D) controle de estoque.
  - (E) demanda de compra.
38. O almoxarifado engloba 3 (três) grandes funções, que são:
- (A) recebimento, armazenagem e distribuição.
  - (B) inventário, *layout* e pagamento.
  - (C) gerenciamento, comissão de licitação e contabilidade.
  - (D) registro cadastral, fornecedores e pagamento.
  - (E) armazenagem, empenhamento e liquidação.
39. No almoxarifado, são destinados espaços para um perfeito armazenamento a fim de permitir
- (A) a integridade física e a durabilidade do material.
  - (B) a administração logística e a ação de marketing.
  - (C) a garantia da economia de compra e consumo.
  - (D) a compensação de possíveis falhas na projeção de demanda.
  - (E) a estruturação contábil e a compatibilização dos fluxos.
40. A função de armazenagem deve ser cuidadosamente planejada sob os aspectos de
- (A) custo de compra com material importado.
  - (B) escassez de produtos no mercado.
  - (C) custo de material com preço de compra elevado.
  - (D) uniformidade dos meios de expressão.
  - (E) processo operacional e infra-estrutura.

41. O inventário físico é um processo de
- (A) normalização no custo contábil dos produtos.
  - (B) verificação periódica do estoque físico e contábil.
  - (C) classificação e codificação de materiais.
  - (D) padronização do tipo de licitação da empresa.
  - (E) especificação de compra do produto.
42. Podem ser considerados métodos de inventário rotativo:
- (A) automático, programado e a pedido.
  - (B) manual, matemático e mercadológico.
  - (C) organizacional, fundamental e licitatório.
  - (D) formal, cadastral e negociável.
  - (E) efetiva, emergencial e inexigível.
43. Quando um determinado nível de estoque é atingido devido à ação de consumo ou da demanda dentro da normalidade da empresa, caracteriza-se o
- (A) saldo final de estoque.
  - (B) ponto de pedido.
  - (C) tempo de reposição.
  - (D) ciclo de demanda.
  - (E) estoque real em ruptura.
44. Agrupar materiais pela forma e volume para otimizar os espaços é um dos princípios da
- (A) licitação.
  - (B) concorrência.
  - (C) baixa patrimonial.
  - (D) inscrição cadastral.
  - (E) armazenagem.
45. Pode-se considerar o elo entre as funções compras, armazenagem e contas a pagar a
- (A) distribuição de materiais.
  - (B) contabilização dos materiais.
  - (C) entrada de materiais.
  - (D) quantificação de materiais.
  - (E) inspeção de materiais.
46. Pode-se afirmar que a observância das Normas Regulamentadoras – NR – relativas à segurança e medicina do trabalho pelas empresas privadas e públicas e pelos órgãos públicos de administração direta e indireta, bem como pelos órgãos dos Poderes Legislativo e Judiciário que possuam empregados regidos pela Consolidação das Leis do Trabalho – CLT, é
- (A) obrigatória.
  - (B) relativa.
  - (C) liberal.
  - (D) facultativa.
  - (E) programada.
47. Com referência às relações humanas no trabalho, para que todos os colaboradores e funcionários se sintam motivados a desenvolver bem as suas tarefas, são indispensáveis dois fatores importantes, ou seja,
- (A) intolerância e afinidade.
  - (B) competição e trabalho individual.
  - (C) bom humor e confiança mútua.
  - (D) insegurança e rigidez no trabalho.
  - (E) individualidade e imparcialidade.
48. Podem ser considerados equipamentos de proteção individual:
- (A) extintores e máscaras.
  - (B) sinalizadores de segurança e botas.
  - (C) chuveiros de segurança e abafadores de ruídos.
  - (D) redes de proteção e sapatos.
  - (E) capacetes e cintos de segurança.
49. Fitas de demarcação reflexivas, coberturas isolantes e exaustores são considerados
- (A) equipamentos de proteção individual.
  - (B) despesas de capital.
  - (C) despesas correntes.
  - (D) equipamentos de proteção coletiva.
  - (E) produtos inacabados.
50. O conjunto de medidas adotadas visando minimizar os acidentes de trabalho e as doenças ocupacionais, bem como proteger a integridade e a capacidade de trabalho do trabalhador, é chamado de
- (A) inspeção ambulatorial.
  - (B) gestão de materiais.
  - (C) segurança do trabalho.
  - (D) gerenciamento logístico.
  - (E) demanda de risco.