

MINISTÉRIO PÚBLICO DA UNIÃO

NÍVEL SUPERIOR

CONCURSO PÚBLICO

CARGO

23

**ANALISTA DE
GEOLOGIA/PERITO**

Provas Objetivas e Discursiva

LEIA COM ATENÇÃO AS INSTRUÇÕES ABAIXO.

- 1 Confira atentamente se os seus dados pessoais, transcritos acima, estão corretos e coincidem com o que está registrado na sua folha de respostas e na sua folha de texto definitivo da prova discursiva. Confira também o seu nome em cada página numerada deste caderno de provas.** Em seguida, verifique se ele contém a quantidade de itens indicada em sua folha de respostas, correspondentes às provas objetivas, e a prova discursiva acompanhada de espaço para rascunho. Caso o caderno esteja incompleto, tenha qualquer defeito, ou apresente divergência quanto aos dados pessoais, solicite ao fiscal de sala mais próximo que tome as providências cabíveis, pois não serão aceitas reclamações posteriores nesse sentido.
- 2 Quando autorizado pelo chefe de sala, no momento da identificação, escreva, no espaço apropriado da folha de respostas, com a sua caligrafia usual, a seguinte frase:**

Conforme previsto em edital, o descumprimento dessa instrução implicará a anulação das suas provas e a sua eliminação do concurso.

- 3 Durante a realização das provas, não se comunique com outros candidatos nem se levante sem autorização do fiscal de sala. Nesse período, também não será permitido o empréstimo de qualquer material entre candidatos, mesmo entre os que já tenham terminado as provas.**
- 4 Na duração das provas, está incluído o tempo destinado à identificação — que será feita no decorrer das provas —, ao preenchimento da folha de respostas e à transcrição do texto definitivo da prova discursiva para a folha de texto definitivo.**
- 5 Ao terminar as provas, chame o fiscal de sala mais próximo, devolva-lhe a sua folha de respostas e a sua folha de texto definitivo e deixe o local de provas.**
- 6 A desobediência a qualquer uma das determinações constantes em edital, no presente caderno, na folha de respostas ou na folha de texto definitivo da prova discursiva poderá implicar a anulação das suas provas.**

OBSERVAÇÕES

- Não serão conhecidos recursos em desacordo com o estabelecido em edital.
- Informações adicionais: telefone 0(XX) 61 3448-0100; Internet — www.cespe.unb.br.
- É permitida a reprodução deste material apenas para fins didáticos, desde que citada a fonte.

- De acordo com o comando a que cada um dos itens a seguir se refira, marque, na **folha de respostas**, para cada item: o campo designado com o código **C**, caso julgue o item **CERTO**; ou o campo designado com o código **E**, caso julgue o item **ERRADO**. A ausência de marcação ou a marcação de ambos os campos não serão apenadas, ou seja, não receberão pontuação negativa. Para as devidas marcações, use a **folha de respostas**, único documento válido para a correção das suas provas objetivas.
- Nos itens que avaliam conhecimentos de informática, a menos que seja explicitamente informado o contrário, considere que todos os programas mencionados estão em configuração-padrão, em português; e que não há restrições de proteção, de funcionamento e de uso em relação aos programas, arquivos, diretórios, recursos e equipamentos mencionados.

CONHECIMENTOS BÁSICOS

Inovar é recriar de modo a agregar valor e incrementar a eficiência, a produtividade e a competitividade nos processos gerenciais e nos produtos e serviços das organizações. Ou seja, é o fermento do crescimento econômico e social de um país. Para isso, é preciso criatividade, capacidade de inventar e coragem para sair dos esquemas tradicionais. Inovador é o indivíduo que procura respostas originais e pertinentes em situações com as quais ele se defronta. É preciso uma atitude de abertura para as coisas novas, pois a novidade é catastrófica para os mais céticos. Pode-se dizer que o caminho da inovação é um percurso de difícil travessia para a maioria das instituições. Inovar significa transformar os pontos frágeis de um empreendimento em uma realidade duradoura e lucrativa. A inovação estimula a comercialização de produtos ou serviços e também permite avanços importantes para toda a sociedade. Porém, a inovação é verdadeira somente quando está fundamentada no conhecimento. A capacidade de inovação depende da pesquisa, da geração de conhecimento. É necessário investir em pesquisa para devolver resultados satisfatórios à sociedade. No entanto, os resultados desse tipo de investimento não são necessariamente recursos financeiros ou valores econômicos, podem ser também a qualidade de vida com justiça social.

Luis Afonso Bermúdez. **O fermento tecnológico**. In: Darcy. Revista de jornalismo científico e cultural da Universidade de Brasília, novembro e dezembro de 2009, p. 37 (com adaptações).

Considerando a organização das ideias e estruturas linguísticas do texto, julgue os seguintes itens.

- 1 Na linha 8, o segmento “as quais” remete a “situações” e, por isso, admite a substituição pelo pronome **que**; no entanto, nesse contexto, tal substituição provocaria ambiguidade.
- 2 O período sintático iniciado por “Inovar significa” (ℓ.12) estabelece, com o período anterior, relação semântica que admite ser explicitada pela expressão **Por conseguinte**, escrevendo-se: Por conseguinte, inovar significa (...).
- 3 Subentende-se da argumentação do texto que o pronome demonstrativo, no trecho “desse tipo de investimento” (ℓ.20-21), refere-se à ideia de “fermento do crescimento econômico e social de um país” (ℓ.4).
- 4 A forma verbal “é” (ℓ.4) está flexionada no singular porque, na oração em que ocorre, subentende-se “Inovar” (ℓ.1) como sujeito.

Nós, seres humanos, somos seres sociais: vivemos nosso cotidiano em contínua imbricação com o ser de outros. Isso, em geral, admitimos sem reservas. Ao mesmo tempo, seres humanos, somos indivíduos: vivemos nosso ser cotidiano como um contínuo devir de experiências individuais intransferíveis. Isso admitimos como algo indubitável. Ser social e ser individual parecem condições contraditórias da existência. De fato, boa parte da história política, econômica e cultural da humanidade, particularmente durante os últimos duzentos anos no ocidente, tem a ver com esse dilema. Assim, distintas teorias políticas e econômicas, fundadas em diferentes ideologias do humano, enfatizam um aspecto ou outro dessa dualidade, seja reclamando uma subordinação dos interesses individuais aos interesses sociais, ou, ao contrário, afastando o ser humano da unidade de sua experiência cotidiana. Além disso, cada uma das ideologias em que se fundamentam essas teorias políticas e econômicas constitui uma visão dos fenômenos sociais e individuais que pretende firmar-se em uma descrição verdadeira da natureza biológica, psicológica ou espiritual do humano.

Humberto Maturana. **Biologia do fenômeno social: a ontologia da realidade**. Miriam Graciano (Trad.). Belo Horizonte: UFMG, 2002, p. 195 (com adaptações).

A respeito da organização das estruturas linguísticas e das ideias do texto, julgue os itens a seguir.

- 5 Na linha 16, na concordância com “cada uma das ideologias”, a flexão de plural em “fundamentam” reforça a ideia de pluralidade de “ideologias”; mas estaria gramaticalmente correto e textualmente coerente enfatizar “cada uma”, empregando-se o referido verbo no singular.
- 6 A inserção de termo **como** antes de “seres humanos” (ℓ.4) preservaria a coerência entre os argumentos bem como a correção gramatical do texto.
- 7 Na linha 4, o sinal de dois-pontos tem a função de introduzir uma explicação para as orações anteriores; por isso, em seu lugar, poderia ser escrito **porque**, sem prejuízo para a correção gramatical do texto ou para sua coerência.
- 8 Depreende-se do texto que as “condições contraditórias” mencionadas na linha 7 decorrem da dificuldade que o ser humano tem em admitir que suas experiências são intransferíveis porque surgem de “um contínuo devir” (ℓ.5).
- 9 Nas relações de coesão do texto, as expressões “esse dilema” (ℓ.10) e “dessa dualidade” (ℓ.12-13) remetem à condição do ser humano: unitário em “sua experiência cotidiana” (ℓ.15), mas imbricado “com o ser de outros” (ℓ.2).

1 As diferenças de classes vão ser estabelecidas em dois
níveis polares: classe privilegiada e classe não privilegiada.
4 Nessa dicotomia, um leitor crítico vai perceber que se trata de
um corte epistemológico, na medida em que fica óbvio que
classificar por extremos não reflete a complexidade de classes
da sociedade brasileira, apesar de indicar os picos. Em cada um
7 dos polos, outras diferenças se fazem presentes, mas
preferimos alçar a dicotomia maior que tanto habita o mundo
das estatísticas quanto, e principalmente, o mundo do
10 imaginário social. Estudos a respeito de riqueza e pobreza ora
dão quitação a classes pela forma quantitativa da ordem do
ganho econômico, ora pelo grau de consumo na sociedade
13 capitalista, ora pela forma de apresentação em vestuário, ora
pela violência de quem não tem mais nada a perder e assim por
diante. O imaginário, em sua organização dinâmica e com sua
16 capacidade de produzir imagens simbólicas e estereótipos,
maneja representações que possibilitam pôr ordem no caos.
O imaginário, acionado pela imaginação individual, é
19 pluriespacial e, na interação social, constrói a memória, a
história museológica. Mesmo que possamos pensar que
estereótipos são resultado de matrizes, a cultura é dinâmica,
22 porquanto símbolos e estereótipos são olhados e
ressignificados em determinado instante social.

Dina Maria Martins Ferreira. *Não pense, veja*. São Paulo: Fapesp&Annablume, p. 62 (com adaptações).

Com base na organização das ideias e nos aspectos gramaticais do texto acima, julgue os itens que se seguem.

- 10 Subentende-se da argumentação do texto que “os picos” (ℓ.6) correspondem aos mais salientes indicadores de classes — a privilegiada e a não privilegiada —, referidos no texto também como “extremos” (ℓ.5) e “polos” (ℓ.7).
- 11 Na linha 11, a ausência de sinal indicativo de crase no segmento “a classes” indica que foi empregada apenas a preposição **a**, exigida pelo verbo **dar**, sem haver emprego do artigo feminino.
- 12 Preservam-se as relações argumentativas do texto bem como sua correção gramatical, caso se inicie o último período por **Ainda**, em lugar de “Mesmo” (ℓ.20).
- 13 De acordo com a argumentação do texto, a diferenciação das classes em “dois níveis polares” (ℓ.1-2), como dois extremos, não atende à complexidade de classes da sociedade brasileira, mas é comum ao “mundo das estatísticas” (ℓ.8-9) e ao “mundo do imaginário social” (ℓ.9-10).
- 14 O uso da forma verbal “se trata” (ℓ.3), no singular, atende às regras de concordância com o termo “um corte epistemológico” (ℓ.4) e seriam mantidas a coerência entre os argumentos e a correção gramatical do texto se fosse usado o termo no plural, **cortes epistemológicos**, desde que o verbo fosse flexionado no plural: **se tratam**.
- 15 Na linha 4, para se evitar a repetição de “que”, seria adequado substituir o trecho “que classificar” (ℓ.4-5) por **ao classificar**, preservando-se tanto a coerência textual quanto a correção gramatical do texto.

1 A característica central da modernidade, não seria
demais repetir, é a institucionalização do universalismo — e
seu duplo, a igualdade — como princípio organizador da esfera
4 pública. Com base nesse pressuposto, argumento que, em nossa
sociedade, na esfera pública, duas formas de particularismo —
o das diferenças e o das relações pessoais — se reforçam e se
7 articulam em diversas arenas e situações, na produção e
reprodução de desigualdades sociais e simbólicas.
O particularismo das diferenças produz exclusão social e
10 simbólica, dificultando os sentimentos de pertencimento e
interdependência social, necessários para a efetiva
institucionalização do universalismo na esfera pública.
13 O particularismo das relações pessoais atravessa os novos
arranjos institucionais que vêm sendo propostos como
mecanismos de construção de novas formas de sociabilidade e
16 ação coletiva na esfera pública. Finalmente, considero que,
embora a formação de novos sujeitos sociais e políticos e de
arenas de participação da sociedade na formulação e gestão das
19 políticas públicas traga as marcas de nossa trajetória histórica,
constitui, ao mesmo tempo, possibilidade aberta para outra
equação entre universalismo e particularismo na sociedade
22 brasileira.

Jeni Vaitsman. *Desigualdades sociais e particularismos na sociedade brasileira*. In: *Cadernos de Saúde Pública*, Rio de Janeiro, n.º 18 (Suplemento), p. 38 (com adaptações).

Julgue os seguintes itens, a respeito dos sentidos e da organização do texto acima.

- 16 Por meio da conjunção “e”, empregada duas vezes na linha 17 e uma vez na linha 18, é estabelecida a seguinte organização de ideias: a primeira ocorrência liga duas características de “novos sujeitos” (ℓ.17); a segunda liga dois complementos de “formação” (ℓ.17); a terceira, dois complementos de “arenas de participação da sociedade” (ℓ.18).
- 17 Na linha 19, é obrigatório o uso do verbo **trazer** no modo subjuntivo — “traga” — porque essa forma verbal integra uma oração iniciada pelo vocábulo “embora” (ℓ.17).
- 18 A coerência entre os argumentos apresentados no texto mostra que o pronome “seu” (ℓ.3) refere-se a “universalismo” (ℓ.2).
- 19 De acordo com as normas de pontuação, seria correto empregar, nas linhas 2 e 3, vírgulas no lugar dos travessões; entretanto, nesse caso, a leitura e a compreensão do trecho poderiam ser prejudicadas, dada a existência da vírgula empregada após “duplo”, no interior do trecho destacado entre travessões.
- 20 Na estrutura sintática em que ocorre, a preposição “em” (ℓ.7) poderia ser omitida, o que não prejudicaria a coerência nem a correção gramatical do texto, pois a preposição ficaria subentendida.
- 21 As relações entre as ideias do texto mostram que a forma verbal “dificultando” (ℓ.10) está ligada a “diferenças” (ℓ.9); por isso, seriam respeitadas as relações entre os argumentos dessa estrutura, como também a correção gramatical, caso se tornasse explícita essa relação, por meio da substituição dessa forma verbal por **e dificultam**.

1 Hipermodernidade é o termo usado para denominar a
 realidade contemporânea, caracterizada pela cultura do
 excesso, do acréscimo sempre quantitativo de bens materiais,
 4 de coisas consumíveis e descartáveis. Dentro desse contexto,
 todas as interações humanas, marcadas pela doença crônica da
 falta de tempo disponível e da ausência de autêntica integração
 7 existencial, se tornam intensas e urgentes. O movimento da
 vida passa a ser uma efervescência constante e as mudanças a
 ocorrer em ritmo quase esquizofrênico, determinando os
 10 valores fugidios de uma ordem temporal marcada pela
 efemeridade. Como tentativas de acompanhar essa velocidade
 vertiginosa que marca o processo de constituição da sociedade
 13 hipermoderna, surge a flexibilidade do mundo do trabalho e a
 fluidez das relações interpessoais. O indivíduo da “cultura”
 tecnicista vivencia uma situação paradoxal: ao mesmo tempo
 16 em que lhe são ofertados continuamente os recursos para
 que possa gozar efetivamente as dádivas materiais da vida,
 ocorre, no entanto, a impossibilidade de se desfrutar
 19 plenamente desses recursos.

Renato Nunes Bittencourt. *Consumo para o vazio existencial*.
 In: *Filosofia*, ano V, n. 48, p. 46-8 (com adaptações).

Julgue os itens a seguir, com relação às ideias e aspectos
 linguísticos do texto.

- 22 A forma verbal “surge” (ℓ.13) está flexionada no singular
 porque estabelece relação de concordância com o conjunto das
 ideias que compõem a oração anterior.
- 23 O uso da preposição “em”, na linha 16, é obrigatório para
 marcar a relação estabelecida com a forma verbal “vivencia”
 (ℓ.15); por isso, a omissão dessa preposição provocaria erro
 gramatical e impossibilitaria a retomada do referente do
 pronome “que” (ℓ.16).
- 24 Entende-se da leitura do texto que a “realidade
 contemporânea” (ℓ.2) caracteriza-se pela velocidade
 vertiginosa e pelo acúmulo de bens materiais, assim como pela
 ausência de integração existencial e falta de tempo para
 usufruir “as dádivas materiais da vida” (ℓ.17).
- 25 A ausência de vírgula depois de “vertiginosa” (ℓ.12) indica que
 a oração iniciada por “que marca” (ℓ.12) restringe a ideia de
 “velocidade vertiginosa” (ℓ.11-12).

Considerando a organização, a estrutura e os princípios que
 orientam as atribuições do Ministério Público da União (MPU),
 julgue os itens a seguir.

- 26 As funções eleitorais do Ministério Público Federal perante os
 juízes e juntas eleitorais serão exercidas pelo promotor
 eleitoral.
- 27 O princípio do promotor natural decorre da independência
 funcional e da garantia da inamovibilidade dos membros da
 instituição.

Com relação aos procuradores-gerais, julgue os próximos itens.

- 28 Cabe ao procurador-geral da República, como chefe do
 Ministério Público Federal, decidir, em grau de recurso,
 conflitos de atribuições entre órgãos componentes da estrutura
 do Ministério Público Federal.
- 29 O presidente da República, no uso de suas atribuições de chefe
 de Estado, nomeia o procurador-geral de justiça nos estados,
 o procurador-geral militar e o procurador-geral do trabalho.
- 30 A destituição do procurador-geral de justiça do Distrito
 Federal e territórios exige a deliberação da maioria absoluta
 dos membros da Câmara Legislativa do Distrito Federal.

A respeito das funções do MPU e das garantias de seus membros,
 julgue os itens que se seguem.

- 31 Compete ao colégio de procuradores da República elaborar,
 mediante votação obrigatória, lista triplíce para a composição
 de todos os tribunais superiores.
- 32 A promoção de membros do MPU ocorre por antiguidade ou
 merecimento, independentemente de solicitação, interesse
 público ou autorização do órgão colegiado.

A respeito dos princípios fundamentais, da aplicabilidade das
 normas constitucionais e dos direitos sociais, julgue os itens a
 seguir.

- 33 Sendo os direitos fundamentais válidos tanto para as pessoas
 físicas quanto para as jurídicas, não há, na Constituição Federal
 de 1988 (CF), exemplo de garantia desses direitos que se
 destine exclusivamente às pessoas físicas.
- 34 A dignidade da pessoa humana, um dos fundamentos da
 República Federativa do Brasil, apresenta-se como direito de
 proteção individual em relação ao Estado e aos demais
 indivíduos e como dever fundamental de tratamento igualitário
 dos próprios semelhantes.
- 35 O livre exercício de qualquer trabalho, ofício ou profissão,
 desde que atendidas as qualificações profissionais que a lei
 estabelecer, é norma constitucional de eficácia contida;
 portanto, o legislador ordinário atua para tornar exercitável o
 direito nela previsto.

No que se refere à organização político-administrativa do Estado e
 às atribuições e responsabilidades do presidente da República,
 julgue os itens subsequentes.

- 36 A CF autoriza o presidente da República a delegar ao
 advogado-geral da União o envio de mensagem e de plano de
 governo ao Congresso Nacional por ocasião da abertura da
 sessão legislativa.
- 37 Uma vez que, no Estado federal, há mais de uma ordem
 jurídica incidente sobre o mesmo território e sobre as mesmas
 pessoas, a repartição de competências entre os entes
 federativos, prevista pela CF, favorece a eficácia da ação
 estatal, evitando conflitos e desperdício de esforços e recursos.

Julgue os itens a seguir, referentes ao Poder Judiciário e às funções essenciais à justiça.

- 38 A CF assegura autonomia funcional, administrativa e financeira às defensorias públicas estaduais, por meio das quais o Estado cumpre o seu dever constitucional de garantir às pessoas desprovidas de recursos financeiros o acesso à justiça.
- 39 De acordo com a CF, compete aos juízes federais processar e julgar os crimes políticos e as infrações penais praticadas em detrimento de bens, serviços ou interesse da União ou de suas entidades autárquicas ou empresas públicas, excluídas as contravenções e ressalvadas as competências da justiça militar e da justiça eleitoral.

Com relação aos poderes, atos e contratos administrativos, julgue os itens a seguir.

- 40 As prerrogativas do regime jurídico administrativo conferem poderes à administração, colocada em posição de supremacia sobre o particular; já as sujeições servem de limites à atuação administrativa, como garantia do respeito às finalidades públicas e também dos direitos do cidadão.
- 41 A legalidade dos atos administrativos vinculados e discricionários está sujeita à apreciação judicial.
- 42 A competência constitui elemento ou requisito do ato administrativo vinculado, cabendo, entretanto, ao próprio órgão público estabelecer as suas atribuições.

A respeito da Lei n.º 8.666/1993, julgue os itens que se seguem.





- 43 Todos os valores, preços e custos utilizados nas licitações têm como expressão monetária a moeda corrente nacional, ressalvadas as concorrências de âmbito internacional, para as quais o edital deve ajustar-se às diretrizes da política monetária e do comércio exterior e atender às exigências dos órgãos competentes.
- 44 Toda prorrogação de contrato deve ser previamente justificada pela autoridade detentora da atribuição legal específica; portanto, é nula toda cláusula contratual que disser ser a avença automaticamente prorrogável.
- 45 Os órgãos da administração direta, os fundos especiais, as autarquias, as fundações públicas, as empresas públicas, as sociedades de economia mista e as demais entidades controladas direta ou indiretamente pela União, pelos estados, pelo Distrito Federal e pelos municípios estão subordinados ao regime dessa lei.

Julgue o seguinte item, acerca dos agentes públicos.

- 46 A vacância do cargo público decorre de: exoneração, demissão, promoção, ascensão, transferência, readaptação, aposentadoria, posse em outro cargo inacumulável e falecimento.

	Processo	Estado	Valor
1	12345678	AC	R\$ 1.500,00
2	87654321	DF	R\$ 4500,00
3	98765432	DF	R\$ 4000,00
4	11111111	DF	R\$ 20.000,00
5	22222222	DF	R\$ 99.800,00
6	33333333	DF	R\$ 279.300,00
7	Total		R\$ 197.800,00
8	Média		R\$ 32.966,67

A figura acima ilustra uma planilha em edição no Microsoft Excel 2007 (MSEcel 2007), que apresenta valores hipotéticos de seis processos. Nessa planilha, o total e a média aritmética dos valores dos seis processos serão inseridos nas células C8 e C9, respectivamente. Com base nessas informações, julgue os itens subsequentes.

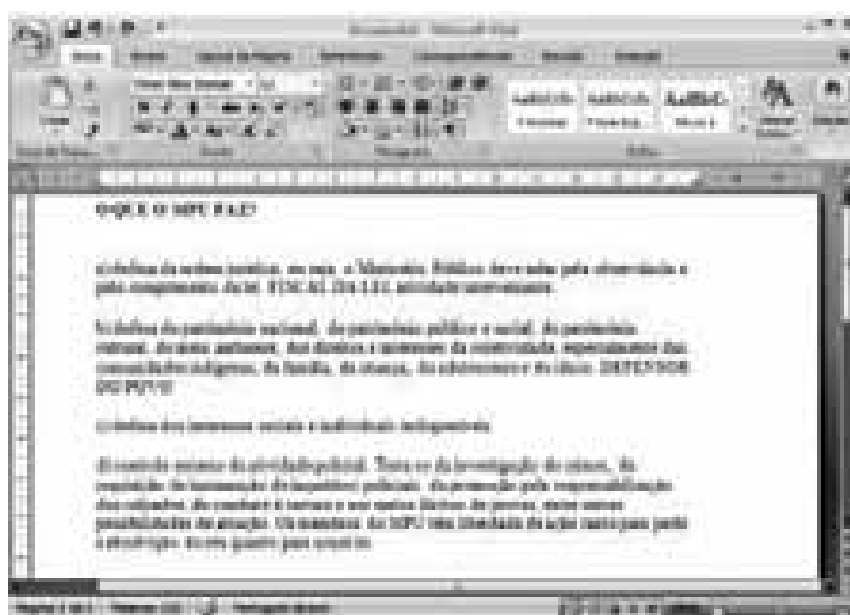
- 47 O valor da média aritmética dos seis processos pode ser obtido com o seguinte procedimento: clicar a célula C9 e, em seguida, digitar a fórmula =MÉDIA(C2;C7).
- 48 Ao serem selecionados os cabeçalhos apresentados na primeira linha da planilha em edição e se clicar a ferramenta , os cabeçalhos serão automaticamente centralizados tanto horizontal quanto verticalmente.
- 49 Para formatar a fonte dos valores abaixo de R\$ 500.000,00 com a cor vermelha e a dos valores acima de R\$ 500.000,00 com a cor azul, é suficiente selecionar a coluna, clicar o *menu* Fórmulas, digitar =SE(C2<500000;"vermelho";"azul") e arrastar tudo, copiando a fórmula para as demais células dessa coluna.
- 50 Para classificar os processos do menor valor para o maior, é suficiente selecionar as células de C2 até C7; clicar a ferramenta ; selecionar a opção Classificar do Menor para o Maior e, em seguida, clicar o botão Classificar.
- 51 Para se obter o valor total desses processos, é suficiente clicar a célula C8; pressionar a ferramenta  e, em seguida, pressionar a tecla .



A figura acima mostra uma janela do IE 8.0 aberta em um computador com o Windows XP e conectado à Internet. Com base nessa figura, julgue os itens que se seguem, acerca da utilização de tecnologias, ferramentas, aplicativos e procedimentos associados à Internet.

- 52 Ao se clicar a opção **Exibir** e, em seguida, a opção Zoom, serão exibidas opções que permitem ampliar ou reduzir a exibição da página da Web mostrada na figura.
- 53 Ao se digitar uma palavra na caixa de pesquisa **Busca** e, em seguida, pressionar e manter pressionada a tecla **Alt** e, na sequência, pressionar a tecla **Enter**, serão exibidos, em nova guia, os resultados da pesquisa realizada em todos os sítios da Web em que essa palavra foi encontrada.
- 54 Ao se clicar o botão **Favoritos**, será apresentada a opção Adicionar a Favoritos... Esta, por sua vez, ao ser clicada, permite adicionar o endereço www.mpu.gov.br na lista de favoritos.
- 55 A mensagem de alerta exibida na figura, introduzida pelo símbolo **M**, refere-se ao complemento MSXML 5.0 e solicita permissão do usuário para que esse complemento seja instalado no computador. Existem, no entanto, complementos que podem ser instalados sem o conhecimento do usuário, quando, por exemplo, for parte de outro programa instalado anteriormente.
- 56 Antes de permitir a execução do complemento MSXML 5.0, recomenda-se que o usuário clique a opção **Segurança** e, em seguida, clique Ativar Filtragem InPrivate para executar o antivírus do IE 8.0.

Com base na figura ao lado, que apresenta um texto em edição no Microsoft Word 2007 (MSWord 2007), julgue os próximos itens, relativos à edição de textos e planilhas.



- 57 Ao se clicar o botão **Design**, são apresentadas opções que permitem alterar o *design* geral do documento, incluindo-se cores, fontes, efeitos e o plano de fundo da página.
- 58 Considerando-se que os itens dos parágrafos foram autoformatados pelo MSWord 2007, é possível substituir as letras correspondentes à ordenação por numerais romanos com a utilização da ferramenta **Estilos**.
- 59 Considere que o último parágrafo do texto mostrado na figura seja copiado do MSWord 2007 para uma célula de uma planilha do Microsoft Excel 2007. Nesse caso, é possível tornar todo o conteúdo visível nessa célula, com exibição em várias linhas, formatando-a com a opção Quebrar Texto Automaticamente.
- 60 O texto em edição pode ser afastado para a direita usando-se a régua ou a ferramenta **Alinhamento**.

CONHECIMENTOS ESPECÍFICOS

Acerca de conceitos básicos de sistemas de informação geográfica (SIG), julgue os itens subsequentes.

- 61 Considere que, em um trabalho de campo, tenham sido coletados dados pontuais que descrevem qualitativamente determinado ambiente. Caso esses dados qualitativos devam ser inseridos em um modelo vetorial de dados de um SIG, uma forma usual de fazer sua espacialização dentro desse modelo é empregando o critério do inverso do quadrado da distância que separa os respectivos pontos.
- 62 No modelo vetorial de dados de um SIG, a localização e a aparência gráfica de cada elemento espacial são representadas por um ou mais pares de coordenadas. Esse modelo admite a representação de três elementos gráficos — ponto, linha poligonal e área —, além de dados não espaciais (atributos) vinculados aos elementos gráficos.

Com relação ao emprego de sistemas de coordenadas e ao georreferenciamento de elementos sobre a superfície terrestre, julgue os próximos itens.

- 63 As coordenadas geográficas de um objeto georreferenciado na escala 1:25.000 serão as mesmas, independentemente de a carta topográfica ter como referência planimétrica o SAD-69 (*south american datum*) ou o Sistema de Referência Geocêntrico para as Américas (SIRGAS2000).
- 64 Não é possível construir, sem deformações, superfícies esféricas ou elipsoidais sobre um plano. Contudo, é possível construir, sobre um plano, projeções dessas superfícies em que são preservados, por exemplo, ângulos ou dimensões lineares dos elementos gráficos contidos na superfície original.
- 65 Nas representações de grandes extensões territoriais, em que as áreas constituem elemento relevante para as análises, deve-se empregar um sistema de projeção dito equivalente, que tem a propriedade de preservar, na representação, as relações existentes entre as áreas reais.

A respeito do conceito de *pixel* em imagens resultantes de processo de sensoriamento, julgue o item a seguir.

- 66 Em uma imagem de uma superfície terrestre gerada por um sistema imageador, o *pixel* representa a menor área imageada dessa superfície, ao qual está associado um valor numérico que indica a intensidade da radiação eletromagnética refletida ou emitida pela área correspondente ao *pixel*.

sensor	bandas espectrais	resolução espectral	resolução espacial	resolução temporal
AVHRR 2 (<i>advanced very high resolution radiometer</i>)	1 (vermelho)	0,58 – 0,68 μm	1,1 km	diária (AM e PM)
	2 (infravermelho próximo)	0,72 – 1,10 μm		
	3 (infravermelho médio)	3,55 – 3,93 μm		
	4 (infravermelho termal)	10,30 – 11,30 μm		
	5 (infravermelho termal)	11,30 – 12,50 μm		

sensor	bandas espectrais	resolução espectral	resolução espacial	resolução temporal
TM (<i>thematic mapper</i>)	B1 (azul)	0,45 – 0,52 μm	30 m	16 dias
	B2 (verde)	0,50 – 0,60 μm		
	B3 (vermelho)	0,63 – 0,69 μm		
	B4 (infravermelho próximo)	0,76 – 0,90 μm	120 m	
	B5 (infravermelho médio)	1,55 – 1,75 μm		
	B6 (infravermelho termal)	10,4 – 12,5 μm	30 m	
	B7 (infravermelho médio)	2,08 – 2,35 μm		

As tabelas apresentadas acima descrevem algumas das características dos sensores AVHRR 2 e TM, embarcados nos satélites NOAA (*national oceanic atmospheric administration*) e LANDSAT (*land remote sensing satellite*), respectivamente. Com base nessas informações, julgue os itens a seguir.

- 67 Para fins de avaliação de desmatamentos por meio do cálculo da taxa de áreas desmatadas, a partir de dados obtidos com o sensor TM, é mais adequado utilizar uma das bandas espectrais B1, B2 e B3 que alguma das bandas espectrais do infravermelho.
- 68 Para o monitoramento e controle diário das ocorrências de incêndio na região amazônica, o sensor TM é mais adequado que o AVHRR 2.

A respeito de características de sensores e produção de imagens de sensoriamento remoto, julgue os próximos itens.

- 69 Sistemas de imageamento por micro-ondas, como os radares de visada lateral, são sistemas ativos e, portanto, não dependem da radiação solar, por isso não são afetados pelas variações diurnas da radiação solar refletida pela superfície do terreno e podem ser empregados à noite e em condições de nebulosidade, uma vez que as nuvens são transparentes às micro-ondas.
- 70 Considerando que determinada porção do espectro é imageada por um dado sensor com resolução de 10 *bits*, é correto afirmar que a amplitude da refletância dos alvos presentes nessas imagens pode ser representada com até 2.048 diferentes níveis.

Com relação à petrologia ígnea, no que se refere ao tipo de rocha, material-fonte e processo formador da rocha, julgue os itens a seguir.

- 71 Um magma de composição andesítica tem composição intermediária, enquanto um magma diorítico tem composição máfica.
- 72 As rochas ígneas são formadas a partir da fusão de rochas na crosta quente e profunda e no manto superior da Terra.
- 73 A cristalização a partir da solidificação de magma ou de lava é o processo no qual se baseia a formação das rochas ígneas na Terra.
- 74 Os granitos são rochas ígneas predominantes no embasamento das bacias oceânicas.

Quanto às rochas metamórficas que ocorrem na Terra, julgue os itens subsequentes.

- 75 O processo de metamorfismo regional ocorre onde as altas pressões e temperaturas estendem-se por regiões amplas, o que acontece nas áreas afetadas por falhas transformantes.
- 76 O calor e a pressão internos da Terra e a composição dos fluidos são os três principais fatores que influenciam o metamorfismo de rochas.
- 77 O eclogito é uma rocha formada no substrato oceânico superficial.
- 78 O xisto azul é uma rocha metamórfica formada sob alta pressão e baixa temperatura, que ocorre onde há subducção de crosta oceânica, na borda principal de uma placa continental.
- 79 Os silicatos são os minerais mais abundantes das rochas metamórficas, pois as rochas parentais também são ricas nesses minerais.

Acerca da idade das rochas formadoras da Terra, julgue os itens que se seguem.

- 80 Entre os principais elementos radioativos utilizados na datação radiométrica, estão o urânio 238 (elemento pai) e o chumbo 206 (elemento filho correspondente).
- 81 A estratificação, marca registrada das rochas sedimentares, constitui a base de dois princípios simples utilizados para interpretar os eventos geológicos a partir do registro das rochas sedimentares: o princípio da horizontalidade original e o princípio da superposição.

Com respeito à geologia econômica, julgue os itens subsequentes.

- 82 Uma característica fundamental para uma rocha reservatório, onde são encontrados depósitos de petróleo e gás natural, é a sua permeabilidade.
- 83 As reservas minerais consideradas como subeconômicas são constituídas de depósitos minerais cuja presença em uma região é considerada hipotética.

Com relação à geofísica e à geoquímica, julgue os próximos itens.

- 84 Na utilização do método aerogeofísico, ao se considerar a posição do equador magnético atual da Terra, verifica-se que a inclinação magnética regional é maior nas áreas equatoriais.
- 85 O método geofísico mais empregado na exploração de petróleo é o método de refração sísmica.

- 86 Evidencia-se por meio da tomografia sísmica que as placas da litosfera fria mergulham por inteiro no manto da Terra, evidenciando que o sistema de placas tectônicas envolve uma convecção que se estende tão profundamente até quase a fronteira núcleo-manto.
- 87 As amostras de sedimentos de fundo de rios, principalmente nos pontos de confluência entre dois cursos de água, são consideradas como fontes importantes de dados geoquímicos básicos na avaliação do potencial mineral de uma região ainda desconhecida do ponto de vista geológico.
- 88 Na utilização do método de tomografia sísmica na Terra, os principais produtos da pesquisa na área de sismologia são as feições mapeadas no núcleo da Terra, claramente associadas com o processo de convecção.

No que se refere à estratigrafia, julgue os itens seguintes.

- 89 As marcas onduladas ou ondulações são dunas de areia ou silte muito pequenas, cuja dimensão mais longa está no mesmo ângulo que a corrente que a formou.
- 90 O acamamento, ou estratificação, é uma feição comum dos sedimentos presente em todas as unidades geológicas relacionadas a rochas sedimentares.
- 91 A estratificação cruzada consiste em conjuntos de materiais sedimentares dispostos em camadas planas e horizontais, paralelas entre si, depositadas pelo vento ou pela água.

Quanto aos aspectos relacionados à geologia estrutural, julgue os itens a seguir.

- 92 Um domo é uma estrutura anticlinal tridimensional que forma vasta saliência circular ou oval de camadas rochosas na topografia das regiões onde ocorre.
- 93 Um material dúctil, ao ser submetido à ação de forças deformacionais, sofre deformação plástica contínua e suave e não retorna à sua forma original quando a força deformadora é dissipada.
- 94 A falha de San Andreas, na Califórnia, nos Estados Unidos da América, é um exemplo clássico de falha de empurrão.
- 95 Quando uma falha geológica do tipo inversa, causada pela predominância de forças compressivas, é perfurada em uma sondagem que atravesse seu plano de falha, uma mesma camada geológica pode ser perfurada em dois horizontes verticais diferentes.

Acerca da sedimentologia e petrologia de rochas sedimentares, julgue os itens subsequentes.

- 96 Um ambiente de sedimentação é um lugar geográfico caracterizado por uma combinação particular de processos geológicos e condições ambientais.
- 97 Um ambiente desértico continental é caracterizado pela predominância de intemperismo químico e pela pouca atividade orgânica.
- 98 Os sedimentos bioquímicos são constituídos de minerais não dissolvidos de restos de organismos e de minerais precipitados pelos processos biológicos.
- 99 Como o material clástico ainda está em contato com os principais agentes do intemperismo químico (água, oxigênio e dióxido de carbono da atmosfera), as reações lentas desse intemperismo têm efeito significativo durante os breves períodos em que o material sedimentar está sendo transportado por uma corrente em um rio.

Quanto à geologia do Brasil, julgue os itens que se seguem.

- 100** Terrenos afetados por processos orogênicos atuais estão ausentes no território brasileiro.
- 101** Unidades geológicas que formam o embasamento da bacia do Paraná incluem exemplos de formações geológicas das idades mesozoica e cenozoica.
- 102** No território brasileiro, existem dois escudos geológicos principais: o escudo das Guianas e o escudo da bacia do Paraná.

Quanto à tectônica de placas, julgue os próximos itens.

- 103** Com base nas determinações do módulo, direção e sentido do vetor que representa a velocidade de deslocamento atual das placas tectônicas, é correto afirmar que a direção e a magnitude do vetor velocidade de deslocamento são constantes quando uma placa tectônica é considerada em toda a sua extensão.
- 104** No passado geológico, a placa do Pacífico fazia limites com a placa de Farallon a leste e a placa de Kula ao norte.
- 105** Na última separação das massas continentais, que resultou na distribuição atual dos continentes, o oceano Atlântico Sul formou-se antes do oceano Atlântico Norte.
- 106** Devido à tectônica de placas, quando a placa da Índia migrou para o norte, o fundo oceânico do antigo oceano Tethys foi soerguido, criando a cadeia de montanhas dos Himalaias onde é possível, hoje em dia, encontrar fósseis de peixes marinhos.
- 107** De 100 milhões de anos atrás para hoje, houve um rebaixamento global no nível do mar. As causas principais desse rebaixamento são a formação da capa de gelo na Antártica e a movimentação das placas tectônicas.
- 108** Em limites de placas transformantes, as placas juntam-se e uma delas é reciclada, retornando ao manto.
- 109** Em limites de placas convergentes, se as duas placas envolvidas são oceânicas, uma desce abaixo da outra em um processo conhecido como subducção. Nessa situação, uma fossa de mar profunda, longa e estreita é produzida pelo processo.
- 110** Os estágios iniciais da separação de placas, como o grande vale em rifte do leste africano, podem ser encontrados em alguns continentes. Esses limites divergentes são caracterizados por vales em rifte, atividade vulcânica e terremotos distribuídos sobre uma zona mais larga que a dos centros de expansão oceânicos.
- 111** Em limites de placas transformantes, estão presentes vulcanismo ativo e sismicidade profunda na Terra.

Quanto às bacias sedimentares na Terra, julgue os itens seguintes.

- 112** As bacias sedimentares das regiões costeiras do Brasil começaram a se formar quando o supercontinente Pangeia se fragmentou há cerca de 400 milhões de anos e, com isso, a placa Sul-Americana separou-se da placa Africana.
- 113** As bacias sedimentares são regiões de considerável extensão (pelo menos 10.000 km²), onde a combinação de sedimentação e subsidência formou uma espessa acumulação de sedimentos e rochas sedimentares.

No que diz respeito à hidrogeologia, julgue os itens a seguir.

- 114** As camadas impermeáveis sobrepostas a um aquífero confinado evitam que a água da chuva infiltre-se diretamente até ele e, assim, os aquíferos confinados são recarregados pela precipitação sobre a área de recarga, frequentemente caracterizada por rochas aflorantes em regiões de maior altitude e morfologicamente elevadas.
- 115** Em aquíferos não confinados, a água percola através de camadas de permeabilidade aproximadamente uniforme, que se estendem até a superfície do terreno, tanto em áreas de descarga como de recarga do aquífero.

Três municípios brasileiros que abrigam seis sítios arqueológicos reconhecidos pelo Instituto do Patrimônio Histórico e Artístico Nacional (IPHAN) são protegidos por ato do poder público, sendo a área não-edificável. Uma ossada de dinossauro foi descoberta em um sítio paleontológico de um desses municípios, reforçando a importância da preservação da região para pesquisas.

Tendo em vista o interesse público na preservação do patrimônio arqueológico, o Ministério Público Federal (MPF) requisitou aos municípios que informem a atual situação dos sítios arqueológicos e as medidas adotadas para a sua preservação.

Considere que a ação do MPF tenha sido motivada também por denúncias de que os sítios arqueológicos seriam impactados pela expansão da cultura de cana-de-açúcar irrigada. Segundo essas denúncias, os materiais fósseis localizados mais à superfície dos terrenos estariam ameaçados pelas instalações ligadas à monocultura de cana e pelo movimento de máquinas pesadas no plantio. Haveria ainda o risco de a preparação do solo para o cultivo causar o desvio do trajeto da água da chuva, com consequente processo erosivo. Além dos possíveis danos causados pelo plantio, os sítios arqueológicos seriam afetados pelos efeitos da construção, no local, de um silo de armazenagem.

Internet: <www.ecodebate.com.br> (com adaptações).

Com base na situação hipotética descrita no texto acima, julgue os itens a seguir.

- 116** A atividade econômica citada — cultura de cana-de-açúcar — enquadra-se nas situações que requerem outorga de uso de recursos hídricos.
- 117** Se aplicada, a multa pela construção do silo de armazenagem estaria limitada ao máximo de 10 salários mínimos.
- 118** O responsável pela infração caracterizada pela construção do silo está sujeito à pena de reclusão, além do pagamento de multa.
- 119** Caso se concretize, a erosão decorrente da preparação do solo para plantio de cana-de-açúcar levará à mudança imediata na classe de enquadramento dos corpos de água afetados.
- 120** De acordo com a legislação em vigor, as terras nas áreas em questão podem ser cultivadas até cinco metros da margem dos rios e córregos da região.
- 121** Em resposta à requisição do MPF, os municípios devem apresentar um diagnóstico detalhado quanto à localização e à vulnerabilidade dos sítios arqueológicos, já que estão obrigados por lei a assegurar a produção da informação solicitada.

O Parque Estadual Terra Ronca é um dos maiores sítios de cavernas da América Latina, composto também por cachoeiras e uma formação de morros, esculpidos pelos ventos e pelas águas. Está localizado nas cidades de São Domingos, Posse e Guarani de Goiás. O maior atrativo turístico do parque são, sem dúvidas, as grutas e cavernas, que atraem espeleólogos, turistas, aventureiros e curiosos para conhecer os rios de águas cristalinas, que formam lagos subterrâneos, os enormes salões internos das cavernas, ricos em minerais, e as formações rochosas, compostas por belas e expressivas estalactites e estalagmites.

A diversidade biológica do parque é enorme e, dentro das cavernas, a fauna é única. Aí são encontrados peixes da família do bagre com características morfológicas e fisiológicas próprias, como atrofia dos órgãos de visão e despigmentação. Esses peixes não são apenas curiosidades vivas de uma espécie integrante da lista oficial de fauna ameaçada de extinção e integrante do anexo I da CITES, mas representam um patrimônio genético inigualável para estudos sobre a evolução biológica das espécies. Outra surpresa oferecida pelo parque é o fato de uma espécie rara de morcego, também integrante da lista oficial de fauna ameaçada de extinção e integrante do anexo I da CITES, habitar as cavernas locais.

Internet: <www.sitecurupira.com.br> (com adaptações).

Com relação ao assunto abordado no texto e aos temas correlatos, julgue os itens que se seguem.

- 122 Considere que um dos municípios da região adquira um lote de carpas trazidas do continente asiático, de coloração vistosa, visando incentivar ainda mais o turismo. Nessa situação hipotética, o prefeito tem competência legal para determinar a introdução das carpas nas lagoas do município, sem necessidade de consulta ou de autorização de órgão ambiental.
- 123 Considere que a espécie de morcego citada no texto deixe de figurar na lista oficial de fauna ameaçada de extinção. Nesse caso, essa espécie poderia passar do anexo I para o anexo II da CITES.
- 124 Suponha que determinado criatório da região tenha conseguido autorização para realizar a reprodução, em cativeiro, da espécie de bagre citado no texto, para fins comerciais. Nessa situação, a espécie deve continuar listada no anexo I da CITES, embora haja espécimes nascidos em cativeiro autorizado para fins comerciais.
- 125 O texto retrata uma situação de conservação *in situ* da diversidade biológica.
- 126 As ações voltadas à conservação do patrimônio espeleológico e da fauna ameaçada de extinção devem ser integradas às políticas de incentivo ao turismo.

Um projeto original de assentamento de trilhos de ferrovia ameaça sítio arqueológico e importante área de mata atlântica. Se construída, a ferrovia afetará a paisagem da região, pois os trilhos serão assentados também na encosta da montanha mais importante da área, com declividade média de 50 graus no trecho afetado. A comunidade atingida pela estrada de ferro argumenta que o projeto destruirá a fauna, a flora e a beleza da paisagem, além de prejudicar as atividades econômicas, voltadas para o ecoturismo e para a agricultura.

Diante de todos esses riscos, a comunidade exige informações do órgão licenciador, na forma de estudo de impacto ambiental (EIA), para se posicionar frente ao processo de licenciamento ambiental da ferrovia, que atravessa outras unidades da federação.

Internet: <www.corredores.org.br> (com adaptações).

A respeito da situação hipotética descrita no texto acima e dos temas correlatos, julgue os itens a seguir.

- 127 O EIA deve avaliar possibilidade de traçado alternativo para a estrada de ferro que minimize o impacto sobre o patrimônio arqueológico. Nessa análise, que é focada em aspectos socioculturais, os elementos econômicos são irrelevantes.
- 128 Em um processo de concessão de licenciamento ambiental, a ausência de menção ao patrimônio arqueológico pode motivar um pedido de esclarecimento e complementação pelo órgão ambiental competente, sempre que nenhum pedido de complementação tenha sido feito anteriormente.
- 129 O traçado original da ferrovia mencionada no texto evita as áreas de preservação permanente.
- 130 Na situação descrita, o órgão licenciador competente é o Instituto Brasileiro do Meio Ambiente e dos Recursos Naturais Renováveis (IBAMA).
- 131 Durante o processo de licenciamento da estrada de ferro, o órgão ambiental competente pode conceder uma licença de instalação e estabelecer uma condicionante a ser cumprida, mesmo na ausência de algumas informações.
- 132 A presença do sítio arqueológico deve ser mencionada no estudo de impacto ambiental (EIA) realizado na área.

Em determinado município, um projeto da prefeitura prevê a implantação de depósito de lixo a céu aberto, junto a divisor de águas, em região de terras indígenas (TI). No entorno do terreno a ser destinado ao depósito, há intensa produção hortifrutícola, sendo que tanto a TI quanto as áreas de horticultura estão localizadas a jusante de tal terreno. O estado de que o município faz parte conta com um comitê de bacia hidrográfica, criado para tratar dos assuntos da região.

Com base na situação hipotética acima, julgue os itens subsequentes.

- 133 Os interesses dos horticultores que ocupam área vizinha ao depósito de lixo são defendidos no comitê de bacia hidrográfica pelo representante da prefeitura do município.
- 134 A instalação do depósito de lixo, ainda que seja de proporções reduzidas e vise a atender apenas uma municipalidade, deve ser item previsto no plano de recursos hídricos da região.
- 135 No comitê de bacia hidrográfica, a comunidade indígena afetada deve ser representada por membros designados pela diretoria da Fundação Nacional do Índio (FUNAI).

O Instituto Brasileiro do Meio Ambiente e dos Recursos Naturais Renováveis (IBAMA) e a Polícia Federal, com apoio do Instituto Chico Mendes, deflagraram operação que desmantelou uma das maiores organizações de tráfico de animais silvestres do país. Foram cumpridos diversos mandados de prisão e de busca e apreensão nos estados do Paraná, São Paulo e Santa Catarina, e também no exterior, com apoio da Interpol. No estado do Paraná, até o momento, foram apreendidos mais de mil animais nativos do Brasil e exóticos provenientes de diferentes partes do mundo, a grande maioria deles passeriformes e psitacídeos. O local de apanha ou captura dos animais é desconhecido. Multas já foram aplicadas pelo IBAMA, porém tanto os valores das multas como o número de apreensões deverão crescer, uma vez que os procedimentos referentes aos maiores depósitos ilegais ainda não foram concluídos. Em alguns dos locais de depósito utilizados pela quadrilha e estourados durante a operação, há milhares de animais em cativeiro que precisam ser identificados. Os números finais somente serão conhecidos quando o trabalho terminar. Segundo a Polícia Federal, os trabalhos tiveram como objetivo enquadrar os envolvidos em crimes previstos no Código Penal, como formação de quadrilha, receptação e lavagem de dinheiro, e na Lei de Crimes Ambientais.

Internet: <www.ibama.gov.br> (com adaptações).

Considerando as informações acima e a legislação ambiental, julgue os itens a seguir.

- 136** De acordo com a legislação, qualquer animal saudável apreendido, sem lesões que possam dificultar sua sobrevivência ou adaptação à vida livre, deve ser devolvido imediatamente à natureza.
- 137** Os espécimes apreendidos e encaminhados ao depósito provisório devem ser obrigatoriamente identificados por meio de sistema de marcação.
- 138** A reprodução de espécimes mantidos em cativeiro domiciliar, como animais de estimação, deve ser incentivada para posterior soltura das crias na natureza.
- 139** É permitido aos jardins zoológicos comercializar animais da fauna indígena a eles destinados após apreensão.
- 140** A identificação dos animais encontrados nos locais de depósito é necessária para a aplicação de multas.

Considere que uma usina hidrelétrica será construída em área rural de cerrado e que, a 9 km da futura barragem, haja uma unidade de conservação que será parcialmente alagada pelo lago da usina. Considere ainda que, tendo em vista a preservação da fauna silvestre do local, foram programadas, em meio às diversas etapas desse empreendimento, diversas ações, como o levantamento, o monitoramento e o resgate da fauna silvestre da área a ser alagada, que já constava no plano básico ambiental (PBA) aprovado no processo de licenciamento do empreendimento, e a instalação de um centro de triagem.

A partir dessas informações e do que dispõe a legislação acerca da matéria, julgue os itens de **141** a **148**.

- 141** Uma vez que o resgate da fauna já constava no PBA aprovado no processo de licenciamento do empreendimento, a autorização de resgate é emitida antes da instalação do centro de triagem.

- 142** Do programa de resgate da fauna a ser elaborado, devem constar dados a respeito da velocidade de enchimento do reservatório e dos fragmentos de vegetação nativa submersos e remanescentes por nível de quota de enchimento, que auxiliarão na definição do número necessário de equipes de resgate e na orientação do deslocamento da fauna na execução do resgate.
- 143** Para o cálculo da compensação ambiental, os custos do programa de resgate de fauna não integram os custos totais previstos para a implantação do empreendimento.
- 144** A área de preservação permanente (APP) no entorno das margens do reservatório deve ter largura mínima de 25 m, medida a partir do nível máximo normal em projeção horizontal.
- 145** Para o referido empreendimento obter, no futuro, certificação ISO 14.000, é suficiente que cumpra a legislação ambiental.
- 146** No levantamento de fauna, exige-se o emprego de metodologias que atestem a completude e a representatividade do levantamento, comprovadas em documento final com dados sobre esforço e eficiência amostral e sobre estabilização da curva do coletor.
- 147** A fim de atender o que dispõe a legislação vigente acerca de monitoramento posterior, o monitoramento da fauna programado deve ser realizado dezoito meses após o início da operação do empreendimento.
- 148** O levantamento de fauna pode ser feito tanto na área de influência desse empreendimento quanto em áreas de características semelhantes próximas ao local de construção da usina.

Com base nos dispositivos legais, julgue os itens que se seguem, a respeito de licenciamento e delimitação de APP.

- 149** Para regularização fundiária sustentável de área urbana, a intervenção na vegetação ou a sua supressão em APP pode ser autorizada, pelo órgão ambiental competente, nas áreas ocupadas por população de baixa renda, predominantemente residenciais e incluídas no plano de regularização fundiária sustentável do município.
- 150** Em cada um dos projetos que compõem um conjunto de projetos contíguos de assentamento de reforma agrária em área de cerrado ricamente drenada, deve constar processo de licenciamento ambiental. Admite-se, para esses projetos, o corte de 50% das matas de galeria das margens dos rios para tornar economicamente viáveis as culturas irrigadas.

PROVA DISCURSIVA

- Nesta prova, faça o que se pede, usando o espaço para rascunho indicado no presente caderno. Em seguida, transcreva o texto para a **FOLHA DE TEXTO DEFINITIVO DA PROVA DISCURSIVA**, no local apropriado, pois **não serão avaliados fragmentos de texto escritos em locais indevidos**. Será desconsiderado, também, qualquer fragmento de texto além da extensão máxima de linhas disponibilizadas.
- Na **FOLHA DE TEXTO DEFINITIVO DA PROVA DISCURSIVA**, único documento que servirá de base para a avaliação da Prova Discursiva, escreva com letra legível e respeite rigorosamente as margens. No caso de erro, risque, com um traço simples, a palavra, a frase, o trecho ou o sinal gráfico e escreva em seguida o respectivo substituto. **Atenção:** parênteses não podem ser usados para tal finalidade.

Nos últimos dez anos, ocorreu o rompimento de, pelo menos, quatro barragens de rejeitos em Minas Gerais. Fatos dessa natureza causam inúmeros impactos, tais como o assoreamento e degradação dos cursos d'água, a inundação das áreas ribeirinhas e grande mortandade de peixes. As autoridades estaduais e municipais, normalmente, justificam os acidentes como resultados de chuvas concentradas na região.

Considerando que as informações acima têm caráter unicamente motivador, redija um texto dissertativo acerca de aspectos técnicos e legislativos concernentes à área de geoprocessamento e sensoriamento remoto. No seu texto, aborde, necessariamente, os seguintes aspectos:

- ▶ uso das ferramentas de geoprocessamento, tais como sistema de informação geográfica (SIG), GPS e processamento de imagem de satélite, para a análise espacial do problema em tela;
- ▶ legislação pertinente ao problema, como Código Florestal, Política Nacional de Recursos Hídricos, Política Nacional da Biodiversidade e Resoluções CONAMA n.º 302/2002 e 303/2002.

RASCUNHO

1	
2	
3	
4	
5	
6	
7	
8	
9	
10	
11	
12	
13	
14	
15	
16	
17	
18	
19	
20	
21	
22	
23	
24	
25	
26	
27	
28	
29	
30	