



Prefeitura
Municipal de
Sertãozinho



PREFEITURA MUNICIPAL DE
SERTÃOZINHO
uma cidade cada dia melhor

CONCURSO PÚBLICO

2. PROVA OBJETIVA

MOTORISTA (SAMU)

- ♦ VOCÊ RECEBEU SUA FOLHA DE RESPOSTAS E ESTE CADERNO CONTENDO **40** QUESTÕES OBJETIVAS.
- ♦ CONFIRA SEU NOME E NÚMERO DE INSCRIÇÃO IMPRESSOS NA CAPA DESTE CADERNO.
- ♦ LEIA CUIDADOSAMENTE AS QUESTÕES E ESCOLHA A RESPOSTA QUE VOCÊ CONSIDERA CORRETA.
- ♦ RESPONDA A TODAS AS QUESTÕES.
- ♦ MARQUE, NA FOLHA INTERMEDIÁRIA DE RESPOSTAS, LOCALIZADA NO VERSO DESTA PÁGINA, A LETRA CORRESPONDENTE À ALTERNATIVA QUE VOCÊ ESCOLHEU.
- ♦ TRANSCREVA PARA A FOLHA DE RESPOSTAS, COM CANETA DE TINTA AZUL OU PRETA, TODAS AS RESPOSTAS ANOTADAS NA FOLHA INTERMEDIÁRIA DE RESPOSTAS.
- ♦ A DURAÇÃO DA PROVA É DE **3** HORAS.
- ♦ A SAÍDA DO CANDIDATO DA SALA SERÁ PERMITIDA APÓS TRANSCORRIDA A METADE DO TEMPO DE DURAÇÃO DA PROVA.
- ♦ AO SAIR, VOCÊ ENTREGARÁ AO FISCAL A FOLHA DE RESPOSTAS E ESTE CADERNO, PODENDO DESTACAR ESTA CAPA PARA FUTURA CONFERÊNCIA COM O GABARITO A SER DIVULGADO.

AGUARDE A ORDEM DO FISCAL PARA ABRIR ESTE CADERNO DE QUESTÕES.



Prefeitura
Municipal de
Sertãozinho



PREFEITURA MUNICIPAL DE
SERTÃOZINHO
uma cidade cada dia melhor

FOLHA INTERMEDIÁRIA DE RESPOSTAS

QUESTÃO	RESPOSTA				
01	<input type="checkbox"/>	<input type="checkbox"/>	<input type="checkbox"/>	<input type="checkbox"/>	<input type="checkbox"/>
02	<input type="checkbox"/>	<input type="checkbox"/>	<input type="checkbox"/>	<input type="checkbox"/>	<input type="checkbox"/>
03	<input type="checkbox"/>	<input type="checkbox"/>	<input type="checkbox"/>	<input type="checkbox"/>	<input type="checkbox"/>
04	<input type="checkbox"/>	<input type="checkbox"/>	<input type="checkbox"/>	<input type="checkbox"/>	<input type="checkbox"/>
05	<input type="checkbox"/>	<input type="checkbox"/>	<input type="checkbox"/>	<input type="checkbox"/>	<input type="checkbox"/>

06	<input type="checkbox"/>	<input type="checkbox"/>	<input type="checkbox"/>	<input type="checkbox"/>	<input type="checkbox"/>
07	<input type="checkbox"/>	<input type="checkbox"/>	<input type="checkbox"/>	<input type="checkbox"/>	<input type="checkbox"/>
08	<input type="checkbox"/>	<input type="checkbox"/>	<input type="checkbox"/>	<input type="checkbox"/>	<input type="checkbox"/>
09	<input type="checkbox"/>	<input type="checkbox"/>	<input type="checkbox"/>	<input type="checkbox"/>	<input type="checkbox"/>
10	<input type="checkbox"/>	<input type="checkbox"/>	<input type="checkbox"/>	<input type="checkbox"/>	<input type="checkbox"/>

11	<input type="checkbox"/>	<input type="checkbox"/>	<input type="checkbox"/>	<input type="checkbox"/>	<input type="checkbox"/>
12	<input type="checkbox"/>	<input type="checkbox"/>	<input type="checkbox"/>	<input type="checkbox"/>	<input type="checkbox"/>
13	<input type="checkbox"/>	<input type="checkbox"/>	<input type="checkbox"/>	<input type="checkbox"/>	<input type="checkbox"/>
14	<input type="checkbox"/>	<input type="checkbox"/>	<input type="checkbox"/>	<input type="checkbox"/>	<input type="checkbox"/>
15	<input type="checkbox"/>	<input type="checkbox"/>	<input type="checkbox"/>	<input type="checkbox"/>	<input type="checkbox"/>

16	<input type="checkbox"/>	<input type="checkbox"/>	<input type="checkbox"/>	<input type="checkbox"/>	<input type="checkbox"/>
17	<input type="checkbox"/>	<input type="checkbox"/>	<input type="checkbox"/>	<input type="checkbox"/>	<input type="checkbox"/>
18	<input type="checkbox"/>	<input type="checkbox"/>	<input type="checkbox"/>	<input type="checkbox"/>	<input type="checkbox"/>
19	<input type="checkbox"/>	<input type="checkbox"/>	<input type="checkbox"/>	<input type="checkbox"/>	<input type="checkbox"/>
20	<input type="checkbox"/>	<input type="checkbox"/>	<input type="checkbox"/>	<input type="checkbox"/>	<input type="checkbox"/>

QUESTÃO	RESPOSTA				
21	<input type="checkbox"/>	<input type="checkbox"/>	<input type="checkbox"/>	<input type="checkbox"/>	<input type="checkbox"/>
22	<input type="checkbox"/>	<input type="checkbox"/>	<input type="checkbox"/>	<input type="checkbox"/>	<input type="checkbox"/>
23	<input type="checkbox"/>	<input type="checkbox"/>	<input type="checkbox"/>	<input type="checkbox"/>	<input type="checkbox"/>
24	<input type="checkbox"/>	<input type="checkbox"/>	<input type="checkbox"/>	<input type="checkbox"/>	<input type="checkbox"/>
25	<input type="checkbox"/>	<input type="checkbox"/>	<input type="checkbox"/>	<input type="checkbox"/>	<input type="checkbox"/>

26	<input type="checkbox"/>	<input type="checkbox"/>	<input type="checkbox"/>	<input type="checkbox"/>	<input type="checkbox"/>
27	<input type="checkbox"/>	<input type="checkbox"/>	<input type="checkbox"/>	<input type="checkbox"/>	<input type="checkbox"/>
28	<input type="checkbox"/>	<input type="checkbox"/>	<input type="checkbox"/>	<input type="checkbox"/>	<input type="checkbox"/>
29	<input type="checkbox"/>	<input type="checkbox"/>	<input type="checkbox"/>	<input type="checkbox"/>	<input type="checkbox"/>
30	<input type="checkbox"/>	<input type="checkbox"/>	<input type="checkbox"/>	<input type="checkbox"/>	<input type="checkbox"/>

31	<input type="checkbox"/>	<input type="checkbox"/>	<input type="checkbox"/>	<input type="checkbox"/>	<input type="checkbox"/>
32	<input type="checkbox"/>	<input type="checkbox"/>	<input type="checkbox"/>	<input type="checkbox"/>	<input type="checkbox"/>
33	<input type="checkbox"/>	<input type="checkbox"/>	<input type="checkbox"/>	<input type="checkbox"/>	<input type="checkbox"/>
34	<input type="checkbox"/>	<input type="checkbox"/>	<input type="checkbox"/>	<input type="checkbox"/>	<input type="checkbox"/>
35	<input type="checkbox"/>	<input type="checkbox"/>	<input type="checkbox"/>	<input type="checkbox"/>	<input type="checkbox"/>

36	<input type="checkbox"/>	<input type="checkbox"/>	<input type="checkbox"/>	<input type="checkbox"/>	<input type="checkbox"/>
37	<input type="checkbox"/>	<input type="checkbox"/>	<input type="checkbox"/>	<input type="checkbox"/>	<input type="checkbox"/>
38	<input type="checkbox"/>	<input type="checkbox"/>	<input type="checkbox"/>	<input type="checkbox"/>	<input type="checkbox"/>
39	<input type="checkbox"/>	<input type="checkbox"/>	<input type="checkbox"/>	<input type="checkbox"/>	<input type="checkbox"/>
40	<input type="checkbox"/>	<input type="checkbox"/>	<input type="checkbox"/>	<input type="checkbox"/>	<input type="checkbox"/>

LÍNGUA PORTUGUESA

Leia o texto para responder às questões de números 01 a 03.

O novo homem biônico

“Não posso falar que minha vida está muito melhor. Vai haver gente querendo amputar uma perna também, se eu fizer isso”, diz o pernambucano Paulo de Almeida. Ele perdeu a perna direita em 1997, aos 31 anos. Dez anos depois, usando uma prótese aerodinâmica, ergonômica e ultrarresistente, se tornou o único para-atleta brasileiro a completar – e vencer, na categoria de paraesportistas – a ultramaratona Comrades, na África do Sul. São 89 quilômetros, mais que o dobro dos 42 quilômetros da maratona tradicional.

“Faço hoje muito mais do que fazia quando tinha as duas pernas”, diz Almeida. “Eu nado, pedalo e jogo bola”. Não quer dizer que ele seja mais feliz. “Acordo todos os dias sem uma perna. É algo insubstituível.” Mas sua história, hoje longe de ser uma exceção, mostra como o avanço da tecnologia está criando condições para restaurar, reconfigurar e em alguns casos até melhorar as condições originais do corpo humano.

Próteses, que antes cumpriam nada mais que uma função estética, se transformaram em avançadas a ponto de serem controladas pelo pensamento – as mais modernas chegam a dar mais força e possibilidades de movimento que os membros originais. Com elas, mães que perderam o braço podem voltar a abraçar seus filhos, e corredores alcançam o nível de superatletas. Com implantes de *chips*, bebês que nasceram surdos tornam-se capazes de ouvir e já está em estágio de testes até um coração mecânico.

Nada disso representa, ainda, a realização da fantasia de *Ciborgue, o homem de seis milhões de dólares* – a série de televisão da década de 1970 em que um astronauta acidentado vira uma espécie de super-homem depois de receber duas pernas, um braço e um olho biônicos.

Mas o avanço de equipamentos biônicos – entendidos como máquinas que se misturam a nosso organismo – prenuncia dois caminhos futuros para nossa saúde. Primeiro, eles permitem imaginar um futuro em que poderemos tratar nosso corpo de modo mais parecido com o jeito como tratamos nossos carros. Se uma peça fica desgastada, troca-se.

O segundo impacto é mais abstrato, pois envolve nosso próprio conceito sobre o que é humano.

De acordo com o biofísico Hugh Herr, do MIT, “daqui a um século, o uso de próteses para expandir as capacidades humanas será corriqueiro” e afirma que “nas próximas décadas, veremos a atenção dos fãs do esporte se voltar dos Jogos Olímpicos aos Paraolímpicos. Lá estarão os corredores mais rápidos, os atletas mais fortes e os melhores saltadores”.

(Peter Moon, Aline Ribeiro e Marcela Buscato, *Época*, 08.02.2010. Adaptado)

01. De acordo com o texto, é correto afirmar que

- (A) Paulo de Almeida, graças à prótese implantada em 1997, se sente mais realizado, pois seu sonho era se tornar um medalhista e um esportista de renome.
- (B) o objetivo da tecnologia empregada no aperfeiçoamento das próteses é resolver os problemas estéticos que afetam e constroem as pessoas com deficiência.
- (C) a medicina já está utilizando em transplantes um coração mecânico que supera, em resistência, o coração de pacientes cardíacos crônicos.
- (D) haverá maior interesse pelos Jogos Paraolímpicos, porque os fãs de tecnologia avançada estarão lá para estudar e aprender como funcionam essas próteses revolucionárias.
- (E) o uso de próteses cada vez mais sofisticadas causará impactos na sociedade, pois elas darão ao indivíduo capacidades que estão muito além dos limites originais do corpo humano.

02. Em – Vai haver gente querendo amputar uma perna também, se eu fizer isso... – substituindo-se **gente** por **pessoas**, a concordância verbal correta será

- (A) Vão haver.
- (B) Haverão.
- (C) Vai existir.
- (D) Vão existir.
- (E) Existirá.

03. Assinale a alternativa em que os pronomes substituem, correta e respectivamente, os termos em destaque na frase.

Com elas, mães que perderam **o braço** podem voltar a abraçar **seus filhos**, e corredores alcançam o nível de superatletas.

- (A) o perderam ... abraçar-lhes
- (B) o perderam ... abraçá-los
- (C) lhe perderam ... abraçá-los
- (D) lhe perderam ... abraçar-lhes
- (E) perderam-no ... abraçar-lhes

04. Considere o texto.

Ciborgue – O homem de 6 milhões de dólares 1974 a 1978

Na série, o astronauta Steve Austin (Lee Majors) perdeu o braço, duas pernas e um olho num acidente de avião. As peças biônicas o tornaram mais forte, mais rápido, com visão melhor. E eram iguaizinhas às originais.



(*Época*, fevereiro de 2010)

Pela leitura, conclui-se que seu objetivo é

- (A) apresentar um parecer crítico sobre a qualidade da famosa série da TV americana.
- (B) mostrar que, até hoje, há poucos filmes que abordam o mesmo tema dessa série.
- (C) informar aos leitores da revista quais eram as características do protagonista da série.
- (D) confirmar como a televisão progrediu ao oferecer mais opções aos telespectadores.
- (E) provar que é impossível a tecnologia se aproximar da realidade proposta pela série.

05. Assinale a alternativa que completa, correta e respectivamente, as frases.

A série de TV _____ qual nos referimos é *Ciborgue*, o homem de seis milhões de dólares.

As provas esportivas, _____ que muitos fãs gostam de assistir, em breve apresentarão superatletas.

O caso de transplante _____ o qual os médicos discutiram será levado ao conhecimento das autoridades.

- (A) à ... de ... sobre
- (B) à ... a ... sobre
- (C) de ... de ... com
- (D) de ... em ... de
- (E) para a ... a ... com

Considere a tirinha em que Calvin conversa com sua mãe, para responder às questões de números 06 e 07.



(Bill Watterson, *O mundo é mágico*. São Paulo: Conrad, 2007)

06. Pela leitura da tirinha, conclui-se que

- (A) Calvin é um garoto que tem dificuldades para se expressar, pois não domina a língua culta e seu vocabulário é limitado.
- (B) a mãe agiu de forma autoritária, pois foi indiferente aos graves problemas de saúde do filho, o que o deixou triste.
- (C) Calvin desejava faltar à escola, mas não conseguiu convencer sua mãe, pois exagerou na descrição dos falsos sintomas.
- (D) a mãe ficou muito nervosa e foi apressadamente chamar o médico, pois percebeu que o garoto estava abatido.
- (E) apesar de sua mãe ter confirmado a febre, Calvin resolveu sair da cama e ir à escola, pois tem pavor de médicos.

07. Assinale a alternativa que completa, correta e respectivamente, o trecho a seguir.

_____ a mãe do garoto se dirigia ao telefone, Calvin resolveu sair da cama, _____ decidiu ir à escola, _____ preferisse ficar em casa.

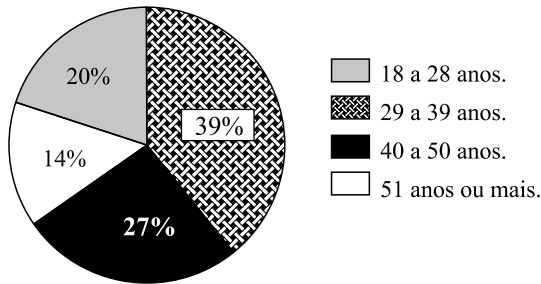
- (A) À medida que ... contudo ... pois
- (B) À medida que ... já que ... porque
- (C) Ainda que ... contudo ... embora
- (D) Enquanto ... já que ... embora
- (E) Enquanto ... visto que ... pois

08. Assinale a alternativa em que o verbo em destaque está empregado corretamente.
- (A) Talvez ele **seje** um dos pacientes que receberá a prótese.
- (B) **Foi** eu quem organizou os dados dos inscritos nas Paraolimpíadas.
- (C) As caixas que **contiverem** os produtos fora de validade deverão ser separadas.
- (D) Os técnicos em biomecatrônica **mantém** sigilo sobre suas pesquisas.
- (E) O paciente havia **descrevido** seus sintomas ao médico.
09. Assinale a alternativa correta, de acordo com a norma padrão, quanto ao emprego dos pronomes em destaque.
- (A) Avisou que era para **eu** buscar o convidado no aeroporto.
- (B) Amanhã, nós **se** encontraremos na exposição de carros antigos.
- (C) Pediu para **mim** procurá-lo urgentemente.
- (D) Ele trabalhou com **nós** durante alguns anos.
- (E) O carro, ele vendeu-**lhe** ao amigo.
10. Assinale a alternativa cuja frase obedece às regras de concórdia verbal e nominal.
- (A) Os filmes do qual as crianças gostam têm cenas de suspense.
- (B) Divertiu-se comendo amendoins e castanhas torradas.
- (C) Estas roupas não convém à cerimônia que será formal.
- (D) Em 2009, completou três anos que ele assumiu a gerência do restaurante.
- (E) Faziam dias que todos esperavam um contato da parte dele.

11. No dia 03 de agosto, um atendente do SAMU recebeu 16% a mais de chamadas telefônicas do que no dia 02 de agosto. No dia 04 de agosto, ele recebeu duas chamadas a menos do que no dia anterior, o que corresponde a 27 chamadas. Em tais condições, é correto afirmar que o número de chamadas recebidas nos três dias citados de agosto é igual a
- (A) 78.
- (B) 79.
- (C) 80.
- (D) 81.
- (E) 82.
12. Um serviço de atendimento por telefone funciona 24 horas por dia, 7 dias por semana, sempre com um atendente. André, Bruna, Cecília e David se revezam nesse serviço de acordo com as seguintes regras:
- André trabalha metade das horas semanais trabalhadas por Bruna;
 - Bruna trabalha 7 horas semanais a mais do que Cecília trabalha;
 - David trabalha 14 horas semanais a menos do que Cecília trabalha;
 - cada um dos quatro atendentes trabalha sete dias por semana e um mesmo número de horas por dia.
- Sendo assim, Cecília trabalha um número de horas por dia igual a
- (A) 4.
- (B) 5.
- (C) 6.
- (D) 7.
- (E) 8.
13. No setor administrativo de uma empresa, são utilizadas apenas folhas de papel no formato A4 e no formato Carta. Para cada 5 folhas no formato A4 utilizadas diariamente, são utilizadas 3 folhas no formato Carta. Se em um determinado dia esse setor utilizou 1 232 folhas de papel, a diferença entre o número de folhas no formato A4 e no formato Carta, nessa ordem, foi de
- (A) 154.
- (B) 308.
- (C) 356.
- (D) 411.
- (E) 616.

14. De acordo com determinadas instruções, cada funcionário do serviço de atendimento ao cliente de uma empresa deve responsabilizar-se por uma área da cidade equivalente a 16 km^2 . O número mínimo de funcionários necessários para atender a uma área de $32 \text{ km} \times 40 \text{ km}$ dessa cidade é igual a
- (A) 76.
 (B) 78.
 (C) 80.
 (D) 82.
 (E) 84.
15. Um veículo cujo consumo é de 16 quilômetros por litro de combustível percorre 42 quilômetros com, no mínimo, 2 litros e
- (A) 4 mililitros.
 (B) 38 mililitros.
 (C) 62 mililitros.
 (D) 380 mililitros.
 (E) 625 mililitros.

16. Distribuição dos funcionários de uma empresa por faixa etária

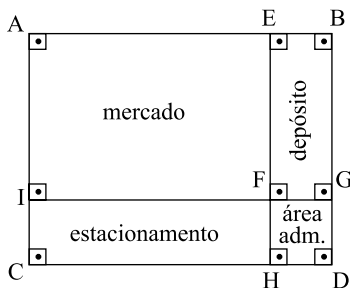


Com relação ao gráfico, os setores circulares que juntos correspondem aos funcionários com 40 anos de idade ou mais são equivalentes a um setor de ângulo central de medida

- (A) $147,6^\circ$.
 (B) $148,6^\circ$.
 (C) $150,8^\circ$.
 (D) $152,8^\circ$.
 (E) $154,4^\circ$.
17. Ana, Beto, Cléo, Dênis e Érica fizeram uma prova de matemática e, a respeito de suas notas, sabe-se que:
- a média das notas de Ana e Beto foi 5;
 - a média das notas de Cléo e Dênis foi 6;
 - a média das notas dos cinco alunos juntos foi 6,2.
- Nessas condições, a nota de Érica nessa prova foi
- (A) 8.
 (B) 8,4.
 (C) 8,8.
 (D) 9.
 (E) 9,4.

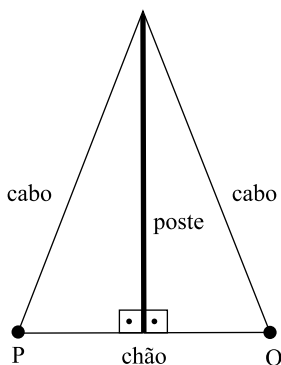
18. Um técnico em informática cobra de seus clientes um valor fixo de R\$ 18,00 pela visita, mais R\$ 45,00 por hora de trabalho. Em um dia da semana, esse técnico visitou 5 clientes, faturando R\$ 360,00. Nesse dia, seu faturamento por hora trabalhada foi de
- (A) R\$ 58,00.
 (B) R\$ 60,00.
 (C) R\$ 62,00.
 (D) R\$ 64,00.
 (E) R\$ 66,00.

19. A figura representa um terreno ABCD de 2000 m² onde vão ser construídos um mercado, uma área administrativa, um depósito e um estacionamento.



A respeito do projeto de construção, sabe-se que FGDH é um quadrado, $CH = 40$ m e $BG = 30$ m. Nas condições dadas, a área administrativa corresponde, do total do terreno, a

- (A) 5%.
 (B) 6%.
 (C) 8%.
 (D) 10%.
 (E) 12%.
20. A figura indica um poste de 4 metros fixado no chão por dois cabos de aço perfeitamente esticados e de mesmo comprimento.



Se a distância dos pontos de fixação no chão (P e Q) é de 3 metros, então a soma das medidas dos cabos (desprezando-se o desperdício com as amarras nas fixações), em metros, é igual a

- (A) $2\sqrt{5,5}$.
 (B) $2\sqrt{13,75}$.
 (C) $2\sqrt{18,25}$.
 (D) 10.
 (E) 20.

CONHECIMENTOS ESPECÍFICOS

21. De acordo com o artigo 286 do Código de Trânsito Brasileiro CTB, um recurso em primeira instância contra a imposição de multa poderá ser interposto

- (A) sem o recolhimento de seu valor.
- (B) após o pagamento de oitenta por cento do valor da multa.
- (C) após o pagamento da multa efetuado até a data do vencimento, expressa na notificação.
- (D) após o pagamento da multa corrigido pelo valor em UFIR.
- (E) após o pagamento da multa.

22. De acordo com o artigo 89 do CTB, a sinalização de trânsito possui uma ordem de prevalência, que deve ser respeitada por todos os condutores. Assinale a alternativa que indica a principal prevalência, cujo desrespeito caracteriza a infração de trânsito estabelecida no artigo 195 do CTB.

- (A) As indicações dos sinais prevalecem sobre as demais normas de trânsito.
- (B) As indicações do semáforo prevalecem sobre os demais sinais.
- (C) As indicações dos sinais de solo prevalecem sobre os demais sinais.
- (D) As ordens do agente de trânsito prevalecem sobre as normas de circulação e outros sinais.
- (E) As indicações dos dispositivos luminosos prevalecem sobre os dispositivos não refletivos.

23. Assinale a alternativa que indica a sequência correta que relaciona as cores usadas na sinalização horizontal e seu uso na via.

- 1 Amarela () demarcar ciclovias ou ciclofaixas.
- 2 Branca () separar movimentos veiculares de mesmo sentido.
- 3 Vermelha () separar movimentos veiculares de fluxos opostos.
- 4 Azul () inscrever símbolo em áreas especiais de estacionamento de pessoas portadoras de deficiência física.

- (A) 2, 4, 3, 1.
- (B) 1, 2, 3, 4.
- (C) 4, 3, 2, 1.
- (D) 3, 2, 1, 4.
- (E) 3, 1, 2, 4.

24. Assinale a alternativa que indica uma Resolução do Contran atualmente em vigor.

- (A) N.º 42, de 1998: dispõe sobre os equipamentos e materiais de primeiros socorros de porte obrigatório nos veículos.
- (B) N.º 122, de 2001: dispõe sobre a obtenção de faixa dourada na CNH, pelo condutor que passar três anos consecutivos sem cometer infrações de trânsito.
- (C) N.º 190, de 2006: proíbe o uso de equipamento capaz de gerar imagens para fins de entretenimento.
- (D) N.º 45, de 1998: estabelece o Sistema de Placas de Identificação de Veículos, disciplinado pelos artigos 115 e 221 do Código de Trânsito Brasileiro.
- (E) N.º 18, de 1998: recomenda o uso, nas rodovias, de farol baixo aceso durante o dia.

25. Assinale a alternativa em que está especificada uma infração grave, cuja penalidade é uma multa e para a qual a medida administrativa prevê o recolhimento do Certificado de Registro e do Certificado de Licenciamento Anual, conforme o CTB.

- (A) Deixar o responsável de promover a baixa do registro de veículo irrecuperável ou definitivamente desmontado.
- (B) Recusar-se a entregar à autoridade de trânsito ou a seus agentes, mediante recibo, o documento de registro do veículo para averiguação de autenticidade.
- (C) Deixar de atualizar o cadastro de registro do veículo ou de habilitação do condutor.
- (D) Recusar-se a entregar à autoridade de trânsito ou a seus agentes, mediante recibo, o documento de licenciamento do veículo para averiguação de autenticidade.
- (E) Deixar de efetuar o registro de veículo no prazo de trinta dias junto ao órgão executivo de trânsito.

26. O proprietário de um automóvel, por meio de falsa declaração de domicílio, registrou seu veículo em outro Estado do país para pagar menos imposto. O que pode acontecer, conforme estabelecido no art. 242 do CTB, se o veículo for parado numa blitz?

- (A) O veículo pode ser apreendido.
- (B) O agente de trânsito pode lavrar um auto de infração, pois a penalidade é multa.
- (C) A habilitação do proprietário pode ser suspensa.
- (D) O veículo pode ser removido ao pátio e os documentos recolhidos.
- (E) O proprietário será penalizado com frequência obrigatória em curso de reciclagem.

27. De acordo com o art. 29, VII, do CTB, as ambulâncias têm prioridade de trânsito, quando em serviço de urgência. No entanto, seus condutores, mesmo em serviço de urgência, não estão isentos de todas as infrações de trânsito e podem ser penalizados com multa ao

- (A) deixarem de conservar o veículo à direita da via.
- (B) realizarem conversão em local proibido.
- (C) transitarem na faixa exclusiva de ônibus.
- (D) deixarem de manter ligadas as luzes intermitentes vermelhas do veículo.
- (E) ultrapassarem outro veículo pela direita.

28. Dirigir sob chuva intensa requer maior atenção do condutor porque a visibilidade diminui e a pista fica molhada e escorregadia. Diante dessa situação, o manual de Direção Defensiva recomenda ao condutor do veículo automotor
- (A) diminuir a velocidade, diminuir a distância do veículo à frente e acionar a luz baixa dos faróis.
 - (B) diminuir a velocidade acionando os freios de maneira brusca para aumentar rapidamente a distância do veículo à frente.
 - (C) acionar a luz alta dos faróis e o pisca-alerta para aumentar a visibilidade do veículo por outros condutores.
 - (D) acionar o desembaçador de vidros e acionar o pisca-alerta do veículo.
 - (E) diminuir a velocidade para aumentar a distância do veículo à frente e acionar a luz baixa dos faróis.
29. O condutor de um automóvel sabe que os pneus do veículo, embora usados, ainda estão dentro do padrão de segurança, quando
- (A) não apresentam sulcos ou deformações.
 - (B) seus sulcos medem menos de 1,6 milímetros.
 - (C) seus sulcos medem mais de 1,6 milímetros.
 - (D) seus sulcos estão abaixo do limite TWI (Tire Wear Index).
 - (E) não apresentam bolhas ou alteração da cor.
30. O que acontece com o veículo cuja direção hidráulica está perdendo o óleo?
- (A) Ocorre o travamento da direção para um lado, o que pode resultar em acidente.
 - (B) A direção muda o sentido: se virada para a esquerda, o veículo vira à direita e vice-versa.
 - (C) A direção passa a funcionar manualmente, como os sistemas comuns de direção.
 - (D) A direção patina e o veículo fica desgovernado.
 - (E) O sistema de direção aquece e o atrito queima a barra de direção até o volante.
31. Assinale a alternativa que contém a ordem correta do início do ciclo de um motor de quatro tempos.
- (A) Explosão, escapamento, compressão e admissão.
 - (B) Admissão, compressão, explosão e escapamento.
 - (C) Compressão, admissão, explosão e escapamento.
 - (D) Admissão, explosão, compressão e escapamento.
 - (E) Escapamento, admissão, explosão e compressão.
32. A principal função de um radiador é
- (A) transferir calor.
 - (B) diminuir a emissão de gases poluentes.
 - (C) comprimir a mistura de ar e combustível para girar o virabrequim.
 - (D) filtrar o combustível do veículo.
 - (E) fazer girar o eixo primário da embreagem.
33. Assinale a alternativa que indica uma infração de trânsito gravíssima, relacionada à sinalização horizontal.
- (A) Estacionar o veículo em locais com sinalização delimitadora de ponto de embarque e desembarque de passageiros de transporte coletivo.
 - (B) Parar o veículo na área de cruzamento de vias.
 - (C) Executar operação de conversão à direita ou à esquerda em locais sinalizados com linha contínua amarela.
 - (D) Parar o veículo sobre a faixa de pedestres na mudança do sinal luminoso.
 - (E) Deixar de dar preferência de passagem a pedestre que esteja atravessando na faixa de pedestres.
34. O condutor de um automóvel que comete uma infração de trânsito só pode ser autuado se o agente de trânsito mandar parar o veículo e abordar o condutor. Essa afirmativa é verdadeira para qual das seguintes infrações?
- (A) Dirigir falando ao celular.
 - (B) Exceder a velocidade regulamentada para a via em até 20%.
 - (C) Deixar de usar o cinto de segurança.
 - (D) Avançar o semáforo vermelho.
 - (E) Conduzir veículo sem os documentos de porte obrigatório.
35. Um motorista profissional comete uma infração de trânsito e é autuado. O veículo que ele dirigia está registrado sob propriedade de uma empresa (pessoa jurídica). O dono da empresa proprietária do veículo recebe a Notificação de Autuação relativa a essa infração. O que pode acontecer se o dono da empresa não fizer a indicação do condutor infrator?
- (A) O motorista receberá em seu prontuário a pontuação relativa à infração de trânsito cometida.
 - (B) O motorista receberá uma advertência por escrito.
 - (C) Será emitida uma multa por não indicação do condutor.
 - (D) O dono da empresa receberá em seu prontuário a pontuação relativa à infração de trânsito cometida.
 - (E) A pontuação será dividida entre o motorista e o dono da empresa.
36. Um jovem, que possui uma Permissão para Dirigir, usou o automóvel sedan do pai. Menos de um mês depois, o pai recebeu uma Notificação de Autuação informando que um veículo de carga, com as mesmas placas do seu veículo, cometeu a infração de avançar o semáforo vermelho. O que ele pode fazer, de acordo com as instruções que devem constar dessa Notificação, conforme a Resolução Contran n.º 149/2003?
- (A) Apresentar recurso contra a pontuação porque seu filho tem uma Permissão para Dirigir e não pode cometer uma infração gravíssima.
 - (B) Apresentar recurso de multa em segunda instância para o CETRAN.
 - (C) Apresentar recurso de multa em primeira instância para a JARI.
 - (D) Apresentar defesa da autuação.
 - (E) Registrar um boletim de ocorrência de preservação de direitos.

- 37.** Assinale a alternativa em que estão citadas apenas penalidades do CTB.
- (A) Multa, frequência obrigatória em curso de reciclagem e transbordo do excesso de carga.
 - (B) Multa, apreensão do veículo e retenção do veículo.
 - (C) Multa, remoção do veículo e cassação da Carteira Nacional de Habilitação.
 - (D) Multa, suspensão do direito de dirigir e cassação da Carteira Nacional de Habilitação.
 - (E) Multa, frequência obrigatória em curso de reciclagem e remoção do veículo.
- 38.** É obrigatório fazer um novo registro do veículo quando
- (A) a cor do veículo for mudada.
 - (B) o volante do veículo for mudado.
 - (C) o revestimento dos bancos do veículo for mudado.
 - (D) se adquirirem um desembaçador e um limpador de vidros traseiro.
 - (E) fizer a vistoria de segurança dos 30 mil quilômetros.
- 39.** Segundo o artigo 252 do CTB, é infração de trânsito dirigir um automóvel
- (A) descalço.
 - (B) sem camisa.
 - (C) sem capacete.
 - (D) sem protetor auricular.
 - (E) usando calçado que não se firme nos pés.
- 40.** Os sinais de trânsito que utilizam cor de fundo amarela e símbolo de cor preta são placas de
- (A) regulamentação.
 - (B) identificação de municípios.
 - (C) advertência.
 - (D) indicação de sentido.
 - (E) serviços auxiliares.