



CONCURSO PÚBLICO
PREFEITURA MUNICIPAL
SETEMBRO / 2010

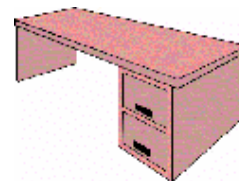
AGENTE EPIDEMIOLÓGICO
ATENDENTE DE CONSULTÓRIO
AUXILIAR ADMINISTRATIVO I
AUXILIAR ADMINISTRATIVO II
AUXILIAR DE SECRETARIA
MOTORISTA



01. Marque o veículo utilizado no transporte coletivo das grandes cidades:



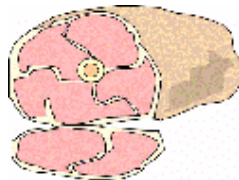
02. Marque o móvel cujas gavetas não estejam todas fechadas:



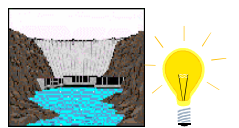
03. Qual das figuras se relaciona ao tato humano?





04. Que alimento é de origem animal?




05. Em qual das opções não existe relação direta entre os pares de figuras?





06. Qual das figuras não é um astro celeste?



07. Que relógio está marcando 19:52 horas?



08. O adjetivo **equino** refere-se a qual animal?



09. Escreva o nome de cada figura na cruzadinha e, em seguida, marque a alternativa que contém a palavra formada na coluna em destaque:

1.



2.



3.



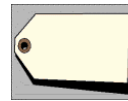
4.



5.




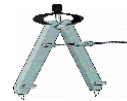
6.



7.



8.



- a) TORNEIRA
- b) PORTARIA
- c) SERPENTE
- d) PIANISTA
- e) CARTÓRIO

Para responder à questão 10, observe a tabela a seguir, onde cada símbolo equivale a uma sílaba:

● NI	○ TRE	□ ÇÃO	■ CI	▼ TO	+	▲ VIS	✿ MEN	◁ TE	★ TA	◐ PA	◑ EN
---------	----------	----------	---------	---------	---	----------	----------	---------	---------	---------	---------

10. A palavra ENTRETENIMENTO deve ser representada pela seguinte combinação de símbolos:

- a) ◑ ◁ ○ ● ✿ ▼
- b) ◑ ○ ◁ ● ✿ ▼
- c) ◁ ● ▲ ★ ✿ ○
- d) ◑ ○ ● ▼ ◁ ▼
- e) ▼ ✿ ● ◁ ○ ◑

Leia o texto com atenção e, em seguida, responda às questões 11 a 20:

A SOPA

Malba Tahan

Quando o criado, humilde e delicado, procurava despejar a primeira colherada de sopa no prato de Sua Majestade, uma gota, arredondada e gordurosa, soltando-se inesperadamente da rica e trabalhada concha, foi cair e manchar levemente o punho de seda do soberano.

Vermelho, colérico, ergueu-se o rei Olderico, dando murros formidáveis na mesa:

– *"Inferno! Com mil bombas! Este cão não sabe servir uma sopa."*

E gritando pelo comandante da guarda ordenou, com torva catadura:

– *"Enforcuem imediatamente este desastrado!!!"*

O rapaz, que ficara no meio da sala, pálido, imóvel, ao ouvir aquela sentença de morte por uma falta insignificante e ridícula, não se conteve e atirou a sopeira na cara do rei.

Essa agressão brutal na pessoa sagrada do rei causou indescritível espanto. Fidalgos, nobres e cavalheiros correram em auxílio do soberano, que dava passos cambaleantes, apertando nas mãos a fronte ferida, enquanto o autor daquele crime de lesa-majestade era preso e algemado, como se fora um bandido sanguinário e perigoso.

– *"Quero ouvir este homem!"*, bradou o rei, enquanto uma dama da corte limpava-lhe o rosto e as barbas com uma toalha perfumada.

O criado criminoso foi trazido de rojo à presença do rei. Interpelou-o o monarca.

– *"Homem! Por que fizeste isso?"*

– *"Eu queria morrer com a consciência tranquila, Senhor"*, respondeu o infeliz. *"Se eu fosse enforcado pela primeira falta praticada, Vossa Majestade havia de ser tido, para o resto da vida, como um rei cruel e injusto. Diriam todos: 'O rei Olderico é um malvado, mandou matar um pobre criado por causa de uma gota de sopa'. Agora não. Depois que eu atirei a sopeira em Vossa Majestade, ninguém mais poderá acusar o meu soberano de injusto e perverso. Pelo contrário, a minha condenação é justa, dado o crime insultuoso que pratiquei."*

Reconheceu o rei que o jovem tinha razão e resolveu perdoá-lo. E desse dia em diante não mais castigava os culpados senão de acordo com as faltas praticadas.

E, ainda hoje, no glorioso país do rei Olderico, quando um juiz julga sem critério, proferindo sentenças iníquas e descabidas, usando de excessivo rigor para com os pobres e fracos, dizem logo:


– *"Esse juiz está precisando que lhe atirem uma sopeira à cara!"*

11. Todas as características a seguir podem ser atribuídas ao criado, exceto:
 - a) humildade
 - b) delicadeza
 - c) resignação
 - d) perspicácia
 - e) inteligência
12. No primeiro parágrafo do texto fica bastante claro que o criado deixou a gota de sopa cair no punho de seda do soberano ...
 - a) premeditadamente.
 - b) deliberadamente.
 - c) intencionalmente.
 - d) acidentalmente.
 - e) acintosamente.
13. Como reagiu o soberano ao ter sua roupa manchada?
 - a) Com prepotência e descontrole.
 - b) Com serenidade e bom humor.
 - c) Com maturidade e paciência.

- d) Com seriedade e equilíbrio.
e) Com sensibilidade e determinação.
14. A sentença inicial do soberano em relação ao erro cometido pelo criado foi ...
a) insignificante.
b) exagerada.
c) criteriosa.
d) moderada.
e) proporcional.
15. Ao atirar a sopeira na cara do soberano, o desastrado criado demonstrou toda a revolta que sentira face à:
a) crueldade de sua intempestiva condenação.
b) futilidade das damas da corte.
c) cega obediência do comandante da guarda.
d) atitude de desprezo dos fidalgos.
e) zombaria que lhe fizeram os cavalheiros.
16. Como reagiram os membros da corte, quando o jovem criado arremessou a sopeira na cara do rei?
a) Com ironia e visível contentamento.
b) Com compreensão e secreto contentamento.
c) Com agressividade e violência.
d) Com imparcialidade e desinteresse.
e) Com surpresa e solicitude.
17. A sopeira atirada contra o rei causou-lhe um ferimento ...
a) no punho.
b) nas bochechas.
c) no nariz.
d) na testa.
e) no queixo.
18. Marque a reação que não condiz com o estado de fúria em que o rei se encontrava:
a) Enrubescer e encolerizar-se.
b) Esmurrar a mesa de refeições.
c) Dirigir-se, aos gritos, ao comandante da guarda.
d) Tornar-se carrancudo, demonstrando todo o seu mau humor.
e) Querer ouvir o criado.
19. Na explicação dada pelo criado sobre sua agressão ao rei, podemos notar um certo tom de ...
a) vingança.
b) ironia.
c) impaciência.
d) desolação.
e) arrependimento.
20. Observe o seguinte trecho extraído do texto de Malba Tahan:
- "Reconheceu o rei que o jovem tinha razão e resolveu perdoá-lo. E desse dia em diante não mais castigava os culpados senão de acordo com as faltas praticadas."*
- Qual dos provérbios brasileiros abaixo listados corresponde à lição dada pelo simples criado ao todo-poderoso Rei Oldérico?
- a) Quem a raposa quer enganar muito tem que madrugar.
b) Quem canta seus males espanta.
c) Quem da razão se aproxima da culpa se afasta.
d) Quem dá aos pobres empresta a Deus.

- e) Quem fala com surdos perde o seu latim.
21. "Já quase em pânico, o rapaz olhava atônito para aquela cena absurda". Marque a opção cujo sentido não é equivalente ao da palavra grifada:
- surpreso
 - perplexo
 - espantado
 - pasmado
 - impassível
22. Todas as alternativas apresentam palavras corretamente flexionadas no plural, exceto:
- chapéu / chapéus
 - pastel / pastéis
 - corrimão / corrimãos
 - funil / funis
 - limão / limãos
23. Marque a alternativa que contém um substantivo masculino:
- crise
 - grafite
 - dinamite
 - reprise
 - alface
24. Em qual das alternativas ocorreu erro na divisão silábica?
- des-ar-mar
 - se-cre-tá-ria
 - po-vo-a-men-to
 - se-rei-a
 - in-ter-rup-tor
25. Quanto à ortografia, qual das palavras abaixo está correta?
- enxame
 - genjiva
 - ameassa
 - fraldulento
 - agromeração
26. De quanto minutos se compõem nove horas?
- 300
 - 420
 - 540
 - 360
 - 480

Para responder às questões 27 e 28, observe a seguinte reta numérica:



27. Qual é o resultado correto da operação $A + B + C$?
- 11
 - 19
 - 22
 - 10
 - 25
28. Qual é o resultado correto da operação $C - 3 - A$?
- 4
 - 3
 - 6

- d) 8
e) 1

Para responder às questões 29 a 32, observe a tabela abaixo, na qual se registraram os dados sobre a movimentação de passageiros nos dez maiores aeroportos do mundo, no ano de 1998:


Aeroporto	Nº de passageiros	Aeroporto	Nº de passageiros
Atlanta/EUA	73.000.000	Tóquio/Japão	51.000.000
Chicago/EUA	72.000.000	Frankfurt/Alemanha	43.000.000
Los Angeles/EUA	61.000.000	San Francisco/EUA	40.000.000
Londres/Inglaterra	61.000.000	Paris/França	39.000.000
Dallas/EUA	60.000.000	Denver/EUA	37.000.000

Fonte: Airport Council International.

29. Quantos passageiros transitaram pelos principais aeroportos dos Estados Unidos no ano de 1998?
- a) 537.000.000
b) 343.000.000
c) 194.000.000
d) 283.000.000
e) 206.000.000
30. Qual foi a diferença entre o número de passageiros que transitaram pelo aeroporto de Dallas e o dos que passaram pelo aeroporto de Paris?
- a) 99.000.000
b) 304.000.000
c) 21.000.000
d) 194.000.000
e) O movimento de passageiros foi igual em ambos os aeroportos.
31. Estima-se que, em 2010, o aeroporto de Denver atenderá o triplo de passageiros atendidos em 1998. Segundo essa estimativa, quantos passageiros frequentarão o aeroporto de Denver em 2010?
- a) 74.000.000
b) 120.000.000
c) 180.000.000
d) 1.029.000.000
e) 111.000.000
32. Qual foi a média mensal de passageiros que transitaram pelo aeroporto de Dallas no ano de 1998?
- a) 60.000.000
b) 10.000.000
c) 8.000.000
d) 5.000.000
e) 12.000.000
33. O dono de uma granja embalou os ovos produzidos da seguinte forma: 85 caixas contendo 12 ovos cada uma; 70 caixas contendo 18 ovos cada uma; e 48 caixas contendo 30 ovos cada uma. Quantos ovos foram embalados?
- a) 2.436
b) 3.654
c) 6.090
d) 4.000
e) 3.720
34. Numa festa estavam 28 pessoas. Chegaram mais 2 grupos com 5 pessoas em cada um. Depois de algum tempo, saíram 3 grupos com 4 pessoas em cada um. Quantas pessoas continuaram na festa?
- a) 38
b) 40
c) 30
d) 26

- e) 29
35. Que opção completa, corretamente, a seguinte afirmativa: "Uma semana tem _____ horas"?
- 84
 - 168
 - 144
 - 72
 - 24
36. Ao receber seu salário, Antônio gastou R\$106,00 com o aluguel, R\$28,00 com a conta de luz e R\$96,00 com compras no supermercado. Ao fazer suas contas, Antônio verificou que ainda lhe sobravam R\$320,00. Qual é o salário de Antônio?
- R\$230,00
 - R\$320,00
 - R\$550,00
 - R\$330,00
 - R\$450,00
37. Carmem tinha R\$30,00. Comprou 5 quilos de maçã a R\$3,00 o quilo, 3 quilos de banana a R\$1,00 o quilo e 4 quilos de pera a R\$2,00 o quilo. Quantos reais lhe restaram?
- R\$18,00
 - R\$24,00
 - R\$4,00
 - R\$15,00
 - R\$7,00

38. Observe os seguintes conjuntos:



- Se somarmos a metade dos elementos do Conjunto A aos elementos do Conjunto B e dividirmos o resultado por 3, encontraremos o conteúdo do Conjunto C. Este conjunto contém, portanto, ...
- 2 elementos.
 - 3 elementos.
 - 4 elementos.
 - 5 elementos.
 - 6 elementos.
39. O dono de uma empresa resolveu distribuir igualmente entre seus 28 funcionários metade do lucro que teve em um determinado ano. Sabendo-se que naquele ano o lucro da empresa foi de R\$108.934,00, quanto recebeu cada funcionário?
- R\$1.945,25
 - R\$3.890,50
 - R\$1.781,00
 - R\$3.446,70
 - R\$1.723,35
40. O espetáculo de um circo começa às 15 horas e 35 minutos e dura 2 horas e 25 minutos. A que horas tal espetáculo termina?
- Às 17:00 horas.
 - Às 17:30 horas.
 - Às 18:00 horas.

- d) Às 18:25 horas.
- e) Às 17:35 horas.