

INDEC - CONCURSOS PÚBLICOS
PREFEITURA MUNICIPAL DE SUMARÉ
MOTORISTA CLASSE ESP. DE SERV. DE SAÚDE SMS -E
INSTRUÇÕES

NÃO ABRA O CADERNO DE PROVAS ANTES DE RECEBER ORDEM PARA FAZÊ-LO

01. Este caderno de provas contém 40 questões de múltipla escolha.
02. Para cada questão existe apenas uma resposta correta.
03. Leia atentamente a questão no caderno e escolha a alternativa que julgar correta.
04. Marque as respostas no gabarito conforme instruções constantes no mesmo com caneta (*azul ou preta*).
05. As respostas a lápis ou rasuras serão consideradas erradas.
06. Faça a sua prova em silêncio, para que todos façam também.
07. Não será permitida qualquer espécie de consulta.
08. Não será fornecido outro caderno de provas, exceto no caso do item 12.
09. O tempo de duração da prova é aquele anotado na lousa.
10. Coloque o seu nome, assinatura e o cargo para qual está fazendo o concurso.
11. Coloque a data da realização do mesmo e o número de sua inscrição.
12. Verifique se a prova contém falhas: folhas em branco, má impressão, páginas trocadas, falta de questões etc. Encontrando falhas, levante a mão. O fiscal *Atenderá você e trocará o seu caderno.*

NOME: _____

CARGO: _____ INSCR. Nº: _____

ASSINATURA: _____ DATA: ____ / ____ / ____

R.G. Nº: _____ DATA NASC.: ____ / ____ / ____

SALA: _____ LOCAL: _____

12. No litoral brasileiro, os costões abruptos recebem o nome de:
a) () Falésias b) () Restingas c) () Arrecifes d) () Tombolis
13. Quais destes países não possuem litoral?
a) () Eslováquia b) () Bélgica c) () Macedônia d) () Áustria
14. A estação da Luz em São Paulo é copia exata de uma estação de que país?
a) () Estados Unidos b) () Inglaterra c) () França d) () Austrália
15. Qual destas nações latino-americanas não enviou tropas para combater na 2ª guerra mundial?
a) () Brasil b) () Argentina c) () México d) () Estados Unidos
16. “Trombetas” ou “Buraco de Tatu” São nomes de:
a) () Quilombos b) () Quartéis c) () Engenhos d) () Estádios de Futebol
17. O prazo para o repasse , sem juros de mora, à Associação de Servidores e ou Sindicatos dos Servidores Municipais de Sumaré é de
a) () 15 dias. b) () 7 dias. c) () 5 dias. d) () 10 dias.
18. Um servidor aposentado ou pensionista por outro regime previdenciário que não o municipal
a) () será assegurada uma complementação de aposentadoria proporcional ao tempo de serviço prestado para a municipalidade.
b) () será assegurada aposentadoria com os vencimentos integrais, independente de complementação da municipalidade.
c) () será assegurada uma complementação de aposentadoria integral ao tempo de serviço prestado para a municipalidade.
d) () não terá direito à complementação de aposentadoria, independente do tempo prestado para a municipalidade.
19. É dever do poder público assegurar a saúde de todos os munícipes, exceto:
a) () políticas sociais, econômicas e ambientais que visem ao bem-estar físico, mental e social do individuo e da coletividade e a redução do risco de doenças e outros agravos.
b) () acesso universal e igualitário de todos os habitantes do Município às ações e serviços de promoção, proteção e recuperação da saúde, sem qualquer discriminação.
c) () respeito ao meio ambiente e controle da poluição ambiental.
d) () cobrar ao usuario pela prestação de serviços de assistência saúde.
20. As ações de serviços de saúde são de relêvancia pública, cabendo ao município:
a) () lazer e diversão para a população. c) () saúde da criança, e do adolescente.
b) () saúde do idoso. d) () saúde dos portadores de deficiência.


CONHECIMENTOS ESPECÍFICOS

21. Preencha corretamente os itens abaixo:
- | | |
|--------------------|--------------|
| 1 falta gravíssima | () 4 pontos |
| 2 falta grave | () 7 pontos |
| 3 falta média | () 5 pontos |
| 4 falta leve | () 3 pontos |
- a) () 1, 2, 4, 3; c) () 2, 3, 4, 1;
b) () 1, 3, 4, 2; d) () 3, 1, 2, 4.

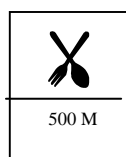
22. Qual a placa de regulamentação?



a) ()



b) ()

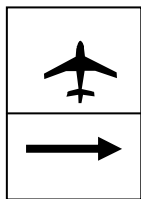


c) ()



d) ()

23. Qual a placa de advertência?




a) ()



b) ()






c) ()



d) ()

24. As placas abaixo são respectivamente:




- a) () sentido de circulação da via, siga em frente ou à direita, curva a direita, confluência à esquerda;
 b) () passagem obrigatória, siga em frente ou à esquerda; curva acentuada a esquerda, ponte estreita;
 c) () sentido único, entroncamento oblíquo à esquerda, estreitamento de pista à esquerda, pista sinuosa à esquerda;
 d) () passagem obrigatória, siga em frente ou à esquerda, pista sinuosa à direita, estreitamento de pista à esquerda.

25. Qual das placas abaixo está errada?




Sentido Proibido

a) ()




Dê a Preferência

b) ()



Curva Acentuada em "S" à esquerda

c) ()



Fim de Pista Dupla

d) ()

26. Qual o significado das placas abaixo:



- a) () comprimento máximo permitido;
 b) () largura máxima permitida;

- c) () largura limitada;
 d) () altura limitada.

27.



- a) () curva acentuada à direita;
 b) () curva acentuada à esquerda;

- c) () curva à esquerda;
 d) () curva à direita.

28. O teste do BAFÔMETRO será obrigatório:

- a) Sempre que o policial ou autoridade considerar necessário
- b) Sempre que o representante do Ministério Público determinar
- c) Apenas por determinação do Delegado de Polícia
- d) O teste do bafômetro não é previsto no Código de Trânsito Brasileiro

29. Para obter a mudança de categoria para a classe "D", o candidato deve:

- a) Estar há pelo menos um ano habilitado na categoria "C"
- b) Estar há pelo menos dois anos habilitado na categoria "B"
- c) "a" e "b" são corretas
- d) Não importa o tempo de habilitação em categorias inferiores, devendo provar apenas ser maior de 35 anos

30. Tomando-se por base o alinhamento de construção da via transversal, é proibido estacionar automóveis de passageiros nas esquinas a menos de:

- a) 1 metro
- b) 5 metros
- c) 3 metros
- d) 2 metros

31. Os sinais de Regulamentação abaixo, indicam:



- a) Ponte estreita
- b) Altura máxima permitida
- c) Altura mínima permitida
- d) Largura limitada à três metros

32. Os sinais de Regulamentação abaixo, indicam:



- a) Altura máxima permitida
- b) Largura máxima permitida
- c) Comprimento máximo permitido
- d) Carga máxima permitida

33. Para entrar no trânsito, realizar manobras de mudança de faixa, nas paradas ou nas conversões o motorista deve:

- a) Sinalizar e realizar a manobra sem outros cuidados, pois todos tem obrigação de respeitá-lo
- b) Sinalizar, parar e aguardar que os outros mandem entrar
- c) Sinalizar e atentar rapidamente, para ver se os outros notaram e entenderam sua intenção, para então realizar a manobra
- d) Sinalizar e realizar a manobra.

34. O uso do triângulo – equipamento obrigatório de segurança – nos casos de veículos quebrados no acostamento ou na pista de rolamento se faz colocando-o:

- a) A 50, 100 ou 150 metros atrás do veículo quebrado, conforme o caso
- b) A uns 10 metros de distância
- c) Junto ao veículo quebrado como faz a maioria dos motoristas
- d) A uns 50 metros de distância.

35. As placas de sinalização de trânsito são:

- a) De advertência e execução
- b) De regulamentação, de proibição e de advertência
- c) De regulamentação, de advertência, de indicação, de informação e educativas
- d) De regulamentação, de advertência, de indicação, de serviços auxiliares e educativas.

