



Prezado (a) candidato (a)

Coloque seu número de inscrição e nome no quadro abaixo:

Nº de Inscrição	Nome

LÍNGUA PORTUGUESA

MARQUE APENAS **UMA ALTERNATIVA** QUE COMPLETE, **CORRETAMENTE**, TODAS AS QUESTÕES DE **01 A 10**.

TEXTO I

LEIA O TEXTO ABAIXO.

CONVITE

BEATRIZ

VENHA COMEMORAR COMIGO O MEU ANIVERSÁRIO.

DIA: 16/08/2011

HORÁRIO: 19 H

LOCAL: SALÃO DE FESTAS "ESPAÇO FASHION"

RUA DAS ESMERALDAS Nº 85

ESPERO VOCÊ LÁ!

JOÃO EDUARDO



QUESTÃO 01

QUEM ENVIOU O CONVITE QUE VOCÊ LEU?

- A) O GATINHO.
- B) BEATRIZ.
- C) JOÃO EDUARDO.
- D) ESMERALDAS.


QUESTÃO 02

PARA QUE TIPO DE ACONTECIMENTO A PESSOA QUE ENVIOU O CONVITE CONVIDA A OUTRA?

- A) PARA O ANIVERSÁRIO.
- B) PARA O CASAMENTO.
- C) PARA O BATIZADO.
- D) PARA A FORMATURA.

TEXTO II

VEJA E LEIA ESTA CAPA DE LIVRO.



Disponível em: <http://revistalivro.wordpress.com/2010/04/18/dia-nacional-do-livro-infantil/> acesso em: 06 jun. 2011

QUESTÃO 03

MARQUE A ALTERNATIVA QUE COMPLETA A FRASE ABAIXO.

O TÍTULO DO LIVRO É

- A) EDITORA BRASILIENSE.
- B) MONTEIRO LOBATO.
- C) REINAÇÕES DE NARIZINHO.
- D) OS PASSARINHOS.



QUESTÃO 04

MONTEIRO LOBATO É UM NOME DE

- A) UM MÉDICO FAMOSO.
- B) UM DENTISTA RENOMADO.
- C) UM PINTOR INTERNACIONAL.
- D) UM ESCRITOR BRASILEIRO.

TEXTO III


SEGREDO

Henriqueta Lisboa

Andorinha no fio
Escutou um segredo.
Foi à torre da igreja.
Cochichou com o sino.

E o sino bem alto
Delém-dem
Delém-dem
Delém-dem
Delém-dem!

Toda a cidade
Ficou sabendo.



Disponível em: <http://katianet.Webnode.Com.Br/products/segredo-henriqueta-lisboa/Acesso: 04 jun. 2011>

QUESTÃO 05

É CORRETO DIZER QUE O TEXTO “**SEGREDO**” É

- A) UMA RECEITA.
- B) UM POEMA.
- C) UM BILHETE.
- D) UMA CARTA.

QUESTÃO 06

PARA QUEM A ANDORINHA CONTOU O SEGREDO?

- A) PARA OUTRO PASSARINHO.
- B) PARA HENRIQUETA LISBOA.
- C) PARA O SINO.
- D) PARA A CIDADE.

QUESTÃO 07

ONDE A ANDORINHA ESTAVA QUANDO OUVIU O SEGREDO?

- A) NO FIO.
- B) NA TORRE.
- C) NO VARAL.
- D) NO SINO.

QUESTÃO 08

DE ACORDO COM O TEXTO, PODEMOS DIZER QUE O SINO É **FOFOQUEIRO** PORQUE

- A) ELE É AMIGO DA ANDORINHA.
- B) ELE CONTOU UM SEGREDO PARA TODA A CIDADE.
- C) ELE GUARDA SEGREDO.
- D) ELE MORA NA IGREJA.

QUESTÃO 09

OBSERVE AS PALAVRAS ABAIXO:

FIO - ESCUTOU – IGREJA – TORRE - ANDORINHA

EM QUAL ALTERNATIVA ESSAS PALAVRAS APARECEM EM ORDEM ALFABÉTICA?

- A) ESCUTOU – IGREJA – ANDORINHA – TORRE – FIO.
- B) TORRE – ANDORINHA – FIO – ESCUTOU – IGREJA.
- C) IGREJA – ANDORINHA – ESCUTOU – TORRE – FIO.
- D) ANDORINHA – ESCUTOU – FIO – IGREJA – TORRE.

QUESTÃO 10

ASSINALE A ALTERNATIVA EM QUE HÁ UMA PALAVRA FEMININA.

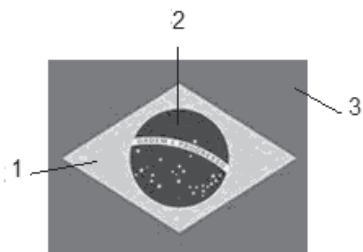
- A) IGREJA.
- B) SEGREDO.
- C) FIO.
- D) SINO.



MATEMÁTICA

QUESTÃO 11

A BANDEIRA DO BRASIL APRESENTA 3 FIGURAS GEOMÉTRICAS.



<http://www.google.com.br>

MARQUE A ALTERNATIVA **CORRETA** COM OS NOMES DAS FIGURAS:

- A) 1.TRIÂNGULO, 2.RETÂNGULO, 3.CÍRCULO.
- B) 1.LOSANGO, 2.RETÂNGULO, 3.CÍRCULO.
- C) 1.LOSANGO, 2. CÍRCULO, 3.RETÂNGULO.
- D) 1.QUADRADO, 2. TRIÂNGULO, 3.RETÂNGULO.

QUESTÃO 12

A SOMA DE CADA UMA DAS LINHAS ABAIXO É 20. COMPLETE OS QUADROS EM BRANCO PARA CHEGAR A ESTE RESULTADO:

LINHA 1		4	6
LINHA 2	12		5
LINHA 3	8	10	

MARQUE A ALTERNATIVA **CORRETA**.

- A) 8, 3 E 7.
- B) 10, 3 E 2.
- C) 7, 11 E 3.
- D) 9, 3 E 5.

QUESTÃO 13

NORMA COMPROU 2 DÚZIAS DE OVOS POR R\$3,60 CADA DÚZIA. NORMA LEVOU R\$10,00. QUANTOS OVOS ELA COMPROU E QUANTO ELA RECEBEU DE TROCO, RESPECTIVAMENTE?

- A) 6 E R\$1,80.
- B) 12 E R\$2,30.
- C) 24 E R\$2,80.
- D) 36 E R\$2,10.

QUESTÃO 14

CADA FIGURA ABAIXO REPRESENTA UM CONJUNTO. CONTE QUANTOS ELEMENTOS CADA CONJUNTO POSSUI.

FIGURA 1



FIGURA 2



FIGURA 3



SOME O NÚMERO DE ELEMENTOS DA FIGURA 1 COM O NÚMERO DE ELEMENTOS DA FIGURA 2 E MULTIPLIQUE O RESULTADO PELO NÚMERO DE ELEMENTOS DA FIGURA 3. O VALOR SERÁ DE:

- A) 66.
- B) 78.
- C) 86.
- D) 97.

QUESTÃO 15

QUANDO PEDRO SAIU DE CASA PARA IR À ESCOLA, O RELÓGIO MARCAVA

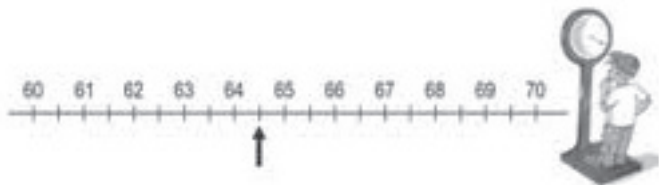


PEDRO RETORNOU PARA CASA APÓS 2 HORAS E 15 MINUTOS. QUAL HORÁRIO O RELÓGIO ESTAVA MARCANDO QUANDO PEDRO CHEGOU EM CASA.

- A) 4 HORAS E 15 MINUTOS.
- B) 4 HORAS E 50 MINUTOS
- C) 3 HORAS E 45 MINUTOS.
- D) 4 HORAS E 5 MINUTOS.

**QUESTÃO 16**

CARLOS FOI À FARMÁCIA E QUANDO SUBIU NA BALANÇA O NÚMERO DECIMAL DO SEU PESO FOI DE:



- A) 0,64 QUILOS.
- B) 64,5 QUILOS.
- C) 6,45 QUILOS.
- D) 65,4 QUILOS.

QUESTÃO 17

DANIEL LEVOU AS MOEDAS ABAIXO PARA COMPRAR UM PICOLÉ, QUANTO DANIEL LEVOU?



- A) R\$ 3,00.
- B) R\$ 3,25.
- C) R\$ 4,00.
- D) R\$ 4,75.

QUESTÃO 18

SOME OS LADOS DO DADO QUE APARECE NA FIGURA ABAIXO E MARQUE A ALTERNATIVA **CORRETA**.



- A) 11.
- B) 12.
- C) 15.
- D) 17.

QUESTÃO 19

ORDENE OS NÚMEROS QUE ESTÃO NO QUADRO

3 - 63 - 15 - 25 - 72 - 24 - 55 - 20

MARQUE A RESPOSTA **CORRETA**:

- A) 3 - 15 - 25 - 55 - 72 - 24 - 20 - 63.
- B) 3 - 15 - 20 - 24 - 25 - 55 - 63 - 72.
- C) 3 - 24 - 25 - 20 - 15 - 63 - 72 - 55.
- D) 3 - 25 - 15 - 24 - 63 - 55 - 20 - 72.

QUESTÃO 20

A PALAVRA **PARALELEPÍPEDO** TEM QUANTAS VOGAIS?

- A) 4.
- B) 5.
- C) 6.
- D) 7.