

**CARGO: MOTORISTA****PORTUGUÊS:**

1- Assinale a alternativa que completa corretamente as frases abaixo:

Feminino de ..... é dama.

A empregada guardou os alimentos na .....

Pelo último ..... somos milhões de brasileiros.

Os alunos sempre ..... o professor no início das aulas.

Este sapato tem .....?

- a) cavaleiro, despensa, senso, cumprimentam, concerto.
- b) cavalheiro, dispensa, censo, cumprimentam, concerto.
- c) cavaleiro, dispensa, senso, cumprimentam, conserto.
- d) cavalheiro, despensa, censo, cumprimentam, conserto.

2- Das palavras abaixo, assinale a alternativa em que a acentuação ortográfica está de acordo com a nova regra ortográfica:

- a) heróico, jiboia, idéia, vôo, detém, troféu.
- b) joia, Luís, sóis, herói, papéis, plateia.
- c) odisséia, paranoia, apoio, boia, tramoia, geléia.
- d) epopéia, androide, feiúra, enjôo, Luiz, heroico.

3- Leia as frases abaixo:

O guarda-noturno perdeu o guarda-chuva.

O chá de cozinha acontecerá na segunda-feira.

Das palavras destacadas, a alternativa correta é:

- a) guardas-noturno, guardas-chuva, chá de cozinhas, segundas-feira.
- b) guardas-noturnos, guarda-chuvas, chás de cozinha, segundas-feiras.
- c) guarda-noturnos, guarda-chuvas, chá de cozinhas, segunda-feiras.
- d) guardas-noturnos, guardas-chuva, chá de cozinhas, segundas-feiras.

4- Na frase – “A cidade de São Paulo abriga uma multidão de pessoas e cada uma delas nutre muitos sonhos”.

As palavras destacadas são classificadas, em sua sequência na frase, como substantivos:

- a) próprio, coletivo, abstrato.
- b) comum, composto, concreto.
- c) próprio, composto, coletivo.
- d) comum, coletivo, abstrato.

5- Com base neste trava-língua: “O rato roeu a roupa do rei de Roma”, assinale a alternativa em que a classificação da ordem alfabética das palavras selecionadas está correta:

- a) rato, rei, Roma, roeu, roupa.
- b) rei, rato, roupa, Roma, roeu.
- c) rato, rei, roeu, Roma, roupa.
- d) rei, rato, roeu, Roma, roupa.

**MATEMÁTICA :**

6- Certo motorista faz o trajeto entre a cidade de Ibaiti para Curitiba, em 4h 20m. Que horas ele chegará em Curitiba, se sair de Ibaiti, às 11h 10m ?

- a-( ) 15h
- b-( ) 15h 20m
- c-( ) 15h 30m
- d-( ) 15h 40m

7- Um caminhoneiro deslocou uma carreta vazia pesando 3.900 quilos, para carregá-la com 300 sacos de café pesando 60 quilos cada um. Qual o peso total da carreta depois de carregada?

- a-( ) 18.000
- b-( ) 19.500
- c-( ) 20.100
- d-( ) 21.900

8- Janice foi a feira comprar frutas e verduras, e trouxe a nota de compra apresentada abaixo:

Produto	Preço (em reais)
3 pés de alface	1,00
1 litro de leite	-----
1 kg berinjela	3,50
1 dúzia bananas	1,20
1 kg pimentão	3,30
<b>TOTAL</b>	<b>11,00</b>

Qual foi o valor pago, em reais, por 1 litro de leite?

- a-( ) 2,00
- b-( ) 2,50
- c-( ) 2,50
- d-( ) 3,00

9- Natália está lendo um livro, sobre geografia, com 300 páginas. No primeiro dia, ela leu até a página 11. No segundo dia, ela leu as 19 páginas seguintes e no terceiro dia ela leu mais 21 páginas. Quantas páginas ainda faltam para que Natália termine de ler esse livro?

- a-( ) 248
- b-( ) 249
- c-( ) 250
- d-( ) 251

10- Uma caixa d'água tem capacidade para 850 litros, no momento ela está cheia até a metade de sua capacidade. Quantos litros de água há nesta caixa?

- a-( ) 325
- b-( ) 375
- c-( ) 425
- d-( ) 450

**CONHECIMENTOS GERAIS**

11- No dia 1º de janeiro, comemora-se:

- a- ( ) Chegada do Novo Milênio
- b- ( ) Dia da Confraternização Universal
- c- ( ) Dia da Ação de Graças
- d- ( ) Dia do Idoso

12- Na última eleição para Presidente da República, foi eleita Dilma Rousseff (Presidente) e vice-presidente:

- a- ( ) José de Alencar
- b- ( ) Beto Richa
- c- ( ) José Sarney
- d- ( ) Michel Temer

13- O filme vencedor do 10º. (décimo) Grande Premio do Cinema Brasileiro, com cerimônia ocorrida em 31/05/2011, foi:

- a- ( ) Tropa de Elite 2
- b- ( ) Rio
- c- ( ) Chico Xavier
- d- ( ) Bruna Surfistinha

14- O ambiente escolar está cada vez mais perigoso, as notícias divulgadas na mídia referentes a escolas, estão deixando de ser sobre educação e passando a ser sobre violência, seja entre alunos, entre pais e alunos, entre alunos e professores, enfim os mais diversos níveis de agressão. No início do mês de abril deste ano, o acontecido em escola que, chocou nosso país e teve repercussão mundial, ficou conhecido como:

- a- ( ) Rio contra o crime
- b- ( ) Massacre em Realengo
- c- ( ) Realengo e Rio terror escolar
- d- ( ) Reforma escolar no Rio de Janeiro

15- Em consequência ao terremoto, ocorrido no Japão neste ano, houve emissões radioativas graves, por todo hemisfério norte, a usina nuclear japonesa responsável pela emissão desses isótopos radioativos é:

- a- ( ) Usina de Fukushima
- b- ( ) Usina de Chernobyl
- c- ( ) Usina do Japão
- d- ( ) Usina de Yamamoto

**CONHECIMENTOS ESPECÍFICOS – MOTORISTA**

16- *Veja (antecipe o perigo), pense (descubra o que fazer), aja a tempo (não espere para ver o que vai acontecer).*

As expressões anteriores referem-se ao:

- a- ( ) Método básico de prevenção de acidente, que tenta evitar situações adversas, e são utilizadas pelo condutor ofensivo.
- b- ( ) Método básico de prevenção de acidente, que tenta evitar situações adversas, e são utilizadas pelo condutor defensivo.
- c- ( ) Método avançado utilizado no curso MOP, para evitar acidentes de trabalho.

d- ( ) Método utilizado para classificar a multa de transito de natureza gravíssima.

**17-** De acordo com as normas gerais de circulação e conduta, existem alguns pontos a serem observados, pelo condutor, antes de colocar o veículo em circulação nas vias públicas, que dentre outras são:

I Verificar a existência e as boas condições de funcionamento dos equipamentos de uso obrigatório.

II Assegurar-se da existência de combustível suficiente para chegar ao local de destino.

III Assegurar-se da existência de faixas de sinalização na rodovia.

Aponte a alternativa correta:

a- ( ) I e II

b- ( ) I e III

c- ( ) II e III

d- ( ) I, II e III

**18-** Assinale a alternativa, em que todos os órgãos citados são responsáveis pelo controle ambiental:

a- ( ) IBAMA, SUDEMA, FUNAI

b- ( ) FUNAI, SISNAMA, CONAMA

c- ( ) SISNAMA, CONAMA, IBAMA

d- ( ) CONAMA, FUNAI, SUSDEMA

**19-** Aponte a alternativa, onde expõe somente princípios que devem ser a base de nossas relação no transito, criadas para melhorar o convívio e a qualidade de vida:

a- ( ) Co-responsabilidade pela vida social, administração, participação

b- ( ) Dignidade da pessoa humana, ambiental, social

c- ( ) Participação, colaboração, higienização

d- ( ) dignidade da pessoa humana, participação, co-responsabilidade pela vida social e igualdade de direitos

**20-** *Valorizar comportamentos necessários á segurança no transito e à efetivação do direito de mobilidade de todos os cidadãos. Tanto o Governo quanto a população tem sua parcela de contribuição para o transito melhor e mais seguro. Faça sua parte.*

A expressão anterior refere-se ao princípio da:

a- ( ) Co-responsabilidade pela vida social

b- ( ) Dignidade humana

c- ( ) Igualdade de direitos

d- ( ) Participação

**21-** O aparelho VOLTÍMETRO, é utilizado no sistema elétrico para medir a carga de:

a- ( ) Bateria

b- ( ) Alternador

c- ( ) Ignição

d- ( ) Combustível

**22-** O BORNE é:

a- ( ) Utilizado para medir a carga de uma bateria

b- ( ) Parte do sistema mecânico, no qual se liga um fio para fazer conexão a um circuito externo

c- ( ) Parte do sistema elétrico da bateria, na qual se liga um fio para fazer conexão a um circuito interno

d- ( ) Parte do sistema elétrico da bateria, na qual se liga um fio para fazer conexão a um circuito externo

23- “VEÍCULO ARTICULADO” é citado no Anexo I do Código de Transito Brasileiro (CTB) e refere-se a:

- a- ( ) Veículo automotor construído para realizar atividade agrícola
- b- ( ) Combinação de veículo acoplados, sendo um deles automotor
- c- ( ) Veículo de um ou mais eixos que se apóia na sua unidade tratora ou é a ela ligado por meio de articulação
- d- ( ) Veículo destinado a ser engatado atrás de um veículo automotor

24- **Pare, olhe e escute**, devem ser utilizados sempre antes de cruzar:

- a- ( ) uma rodovia
- b- ( ) uma marginal
- c- ( ) uma ferrovia
- d- ( ) uma intersecção

25- Ocorre infração, em veículo de emergência, que em atendimento, não esteja com sinais acionados (ainda que parados), de natureza:

- a- ( ) Leve
- b- ( ) Média
- c- ( ) Grave
- d- ( ) Gravíssima

26- O Art. 306 do CTB, prevê penalidades, para o condutor que estiver com concentração de álcool por litro de sangue igual ou superior a 6 (seis) decigramas. Cujas penalidades imputadas serão:

- a- ( ) Pena alternativa, de dois meses a um ano, multa e suspensão ou proibição de se obter a permissão ou a habilitação para dirigir veículo automotor
- b- ( ) Detenção, de seis meses a dois anos, multa e suspensão ou proibição de se obter a permissão ou a habilitação para dirigir veículo automotor
- c- ( ) Detenção, de sete meses a quatro anos, multa e suspensão ou proibição de se obter a permissão ou a habilitação para dirigir veículo automotor
- d- ( ) Detenção, de seis meses a três anos, multa e suspensão ou proibição de se obter a permissão ou a habilitação para dirigir veículo automotor

27- Indique a alternativa que **NÃO** apresenta componente do Sistema de Ignição de um veículo automotor:






- a- ( ) Bobina
- b- ( ) Amperímetro
- c- ( ) Vela
- d- ( ) Distribuidor

28- Identifique corretamente a seqüência das placas a seguir:



- a- ( ) Proibido estacionar, proibido mudar de faixa de transito, proibido o transito de máquinas agrícolas, proibido o transito de veículos de tração animal
- b- ( ) Proibido parar e estacionar, proibido a ultrapassagem, proibido o transito de máquinas agrícolas, proibido o transito de veículos de tração animal
- c- ( ) Proibido estacionar, proibido mudar de faixa de transito, proibido o transito de máquinas agrícolas, proibido o transito de veículos de tração animal
- d- ( ) Proibido parar e estacionar, proibido mudar de faixa de transito, proibido o transito de máquinas agrícolas, proibido o transito de carroças




29- Observe as placas:

	I- Uso obrigatório de corrente
	II- Alfândega
	III- Peso máximo permitido
	IV- Carga máxima permitida, por eixo
	V- Largura máxima permitida

Assinale a alternativa correta:

- a- ( ) I, II e III estão corretas  
 b- ( ) III e IV estão incorretas  
 c- ( ) II, III e IV estão incorretas  
 d- ( ) I, IV e V estão corretas

30- Em relação as placas a seguir, assinale a alternativa **INCORRETA**.

1	2	3	4
			

- a- ( ) Placa 1- Via lateral à esquerda  
 b- ( ) Placa 2- Junções sucessivas contrárias, primeira a direita  
 c- ( ) Placa 3- Cuidado animais  
 d- ( ) Placa 4- Cruzamento Santo André