



PREFEITURA MUNICIPAL DE CÂNDIDO DE ABREU

CONCURSO PÚBLICO 10/07/2011

INSTRUÇÕES

1. Confira abaixo: seu nome, número de inscrição e emprego correspondente à sua inscrição. Assine no local indicado.
2. Verifique se os dados impressos no Cartão-Resposta correspondem aos seus. Em caso de irregularidade, comunique-a imediatamente ao Fiscal.
3. Não serão permitidos: empréstimos de materiais; consultas e comunicação entre os candidatos; uso de livros, apontamentos, relógios, aparelhos eletrônicos e, em especial, aparelhos celulares, os quais deverão ser desligados e colocados no saco plástico fornecido pelo Fiscal. O não-cumprimento dessas exigências ocasionará a exclusão do candidato deste Processo Seletivo.
4. Aguarde o Fiscal autorizar a abertura do Caderno de Prova. Após a autorização, confira a paginação antes de iniciar a Prova.
5. Este Caderno de Prova contém 40 (quarenta) questões objetivas, cada qual com apenas 1 (uma) alternativa correta. No Cartão-Resposta, preencha, com tinta preta, o retângulo correspondente à alternativa que julgar correta para cada questão.
6. No Cartão-Resposta, anulam a questão: marcar mais de 1 (uma) alternativa em uma mesma questão; rasurar; preencher além dos limites do retângulo destinado a cada marcação. Não haverá substituição do Cartão-Resposta por erro de preenchimento.
7. Não são permitidas perguntas ao Fiscal sobre as questões da prova.
8. A duração desta prova será de **4 (quatro) horas**, já incluído o tempo para preenchimento do Cartão-Resposta.
9. Ao concluir a prova, permaneça em seu lugar e comunique ao Fiscal.
10. Aguarde autorização para devolver, em separado, o Caderno de Prova e o Cartão-Resposta, devidamente assinados.



UNIVERSIDADE
ESTADUAL DE LONDRINA



Transcreva abaixo as suas respostas, dobre na linha pontilhada e destaque cuidadosamente esta parte.

.....
RESPOSTAS

01	02	03	04	05	06	07	08	09	10	11	12	13	14	15	16	17	18	19	20
21	22	23	24	25	26	27	28	29	30	31	32	33	34	35	36	37	38	39	40

O gabarito oficial provisório estará disponível no endereço eletrônico
www.cops.uel.br a partir das 17 horas do dia 11 de julho de 2011.

Leia o texto a seguir e responda às questões de 1 a 5.

Texto I

Crianças brancas, do sexo feminino e com pouca idade. Esse é o perfil mais procurado pelas 26.938 famílias que estão na fila de adoção. Mas a realidade das 4.583 crianças e adolescentes que vivem hoje em abrigos é bem diferente. Enquanto a maioria (76%) dos interessados inscritos no Cadastro Nacional de Adoção (CNA) procura filhos adotivos de 0 a 3 anos de idade, apenas 3,6% das crianças estão nessa faixa etária.

Para sensibilizar as famílias interessadas na adoção sobre esse quadro, a organização não governamental Aconchego e a Secretaria de Direitos Humanos da Presidência da República lançam uma campanha contando histórias bem-sucedidas de homens e mulheres que acolheram crianças que não se encaixam no perfil mais procurado.

De acordo com os dados do CNA, 21,5% das crianças disponíveis para adoção têm algum problema de saúde, e poucas famílias têm disponibilidade para aceitar filhos com essa condição. Soraya Pereira, presidente da ONG Aconchego, acredita que as famílias estão cada vez mais abertas a adotar crianças com perfil diferente daquele tradicionalmente procurado. Segundo ela, o objetivo da campanha é “chamar a atenção para essas crianças esquecidas” e levar informações às famílias para desmistificar esse processo. “Hoje, as pessoas já conseguem entender que o foco da adoção não é uma criança para uma família, mas uma família para uma criança”, afirma. Segundo ela, há mais espaço hoje para crianças de raça negra, mas ainda há pouco interesse na adoção de maiores de 5 anos.

“As pessoas têm a ilusão que podem controlar o desenvolvimento e o crescimento da criança se acompanhá-la desde bebê. Mas a gente não tem essa certeza com filho biológico. Ninguém garante que um filho acompanhado desde o início não terá dificuldades lá na frente, não vai desenvolver uma patologia”, aponta Soraya.

(CIEGLINSKI, Amanda. Perfil mais buscado para adoção representa apenas 3% dos abrigados. *Folha de Londrina*, Londrina, 26 maio 2011, p. 9.)

1 Com base no texto, assinale a alternativa correta.

- a) Os depoimentos da presidente da organização não governamental indicam que o aumento na procura por crianças de raça negra foi responsável pela inversão no perfil da adoção de crianças.
- b) Há um número maior de adolescentes vivendo atualmente em abrigos do que o número de famílias que registraram seu interesse em adotar crianças da raça branca.
- c) O perfil das crianças mais procuradas para adoção difere dos interesses que a organização não governamental e a Secretaria de Direitos Humanos da Presidência da República tentam modificar.
- d) As crianças com até três anos de idade enfrentam menor resistência das famílias interessadas em adoção, ainda que se percebam pequenas modificações no perfil preferido para filhos adotivos.
- e) Entre as mais de vinte mil crianças à espera de adoção, sobressai a dificuldade de quase cinco mil crianças e adolescentes que enfrentam o desinteresse de famílias em acolhê-los.

2 Sobre a campanha citada no texto, assinale a alternativa correta.

- a) As histórias de crianças que se tornaram homens e mulheres bem-sucedidos integrarão a campanha para estimular o aumento do número de famílias dispostas a ingressar no Cadastro Nacional de Adoção.
- b) A diferença entre crianças e adolescentes que vivem em abrigo e os desabrigados é um dado que deverá sensibilizar as famílias interessadas em adoção, após o lançamento da campanha nacional.
- c) O objetivo da campanha nacional é sensibilizar famílias através do relato de histórias das crianças com mais de três anos de idade que são preteridas no processo de adoção.
- d) O objetivo da campanha nacional é sensibilizar pais que já são interessados em adoção de crianças com idade superior a três anos como forma de comprovar que esse novo perfil pode ser bem-sucedido.
- e) A campanha nacional prevê a inclusão de relatos de adoções que fogem ao padrão predominante, com a estratégia de incrementar a readequação do perfil de crianças desejado pelas famílias.

3 A expressão “faixa etária” (primeiro parágrafo) corresponde a

- a) crianças com mais de três anos de idade.
- b) crianças brancas.
- c) crianças com até três anos de idade.
- d) crianças do sexo feminino.
- e) crianças cujas histórias constarão da campanha nacional.

4 Sobre o uso das aspas em “chamar a atenção para essas crianças esquecidas” (terceiro parágrafo), assinale a alternativa correta.

- a) **Demonstra que o trecho é uma transcrição literal da fala da presidente da organização não governamental.**
- b) Corresponde ao desejo da autora do texto de dar mais destaque àquele trecho.
- c) Serve para estabelecer o contraste entre esse trecho e o restante da frase, que possui ideias adversas.
- d) É decorrência do recurso que visa a expor o sentido transformado para a expressão “crianças esquecidas”.
- e) Constitui prática diferente daquela utilizada no último parágrafo.

5 O trecho “para desmistificar esse processo” (terceiro parágrafo) foi empregado no texto para:

- a) Reverter a tendência recente de abertura das famílias diante de um novo perfil de adoção.
- b) **Esclarecer as famílias quanto à possibilidade de êxito da adoção mesmo diante dos problemas de saúde das crianças.**
- c) Ratificar que a indisponibilidade das famílias diante de crianças com problemas de saúde é um pressuposto que não corresponde à realidade.
- d) Desmascarar a concepção de que os problemas de saúde das crianças são questões insignificantes.
- e) Persuadir as famílias de que os problemas de saúde das crianças são questões de pequena gravidade influenciadas por equívocos religiosos.

Leia o texto a seguir e responda às questões de 6 a 10.

Texto II

O debate sobre o papel da mulher no mercado de trabalho e as responsabilidades dos homens nos cuidados domésticos ganhará corpo no segundo semestre.

A Secretaria de Políticas para as Mulheres, do governo federal, planeja iniciar campanha pelo compartilhamento das tarefas com os filhos e a casa.

“Queremos trazer o debate para a sociedade. Estão previstas campanhas na mídia e nas empresas”, diz Maria Angélica Fernandes, secretária de articulação institucional e ações temáticas.

“As mulheres teriam mais tempo para fazer cursos e melhorar a formação, o que ajudaria a reduzir a diferença salarial com os homens”, afirma Fernandes.

Outra questão defendida pela secretária é o aumento da licença-paternidade, de 5 dias para 30 dias.

Uma licença maior garantiria às mulheres suas posições no mercado de trabalho, segundo Natália de Oliveira Fontoura, coordenadora de igualdade de gênero do IPEA.

“A desigualdade na licença traz desigualdade no campo de trabalho”, de acordo com Fontoura.

O incremento da licença dos pais é visto como instrumento para estreitar a diferença salarial entre os homens e as mulheres.

(FRIAS, Maria Cristina. Mamadeira e laptop. *Folha de São Paulo*. São Paulo, 8 maio 2011. p. B2.)

6 Observe as frases:

- A. “O debate sobre o papel da mulher no mercado de trabalho e as responsabilidades dos homens nos cuidados domésticos ganhará corpo no segundo semestre.” (1º parágrafo)
- B. “Estão previstas campanhas na mídia e nas empresas.” (3º parágrafo)

Sobre as frases, considere as afirmativas a seguir.

- I. Na frase A, o verbo está no singular para concordar com “debate”.
- II. Se a frase A fosse iniciada pelo verbo, este se manteria no singular para concordar com “corpo”.
- III. Na frase B, o verbo está no plural para concordar com “campanhas”, porque esse termo está posposto.
- IV. Na frase B, mesmo que estivesse posposto a “campanhas”, o verbo deveria manter-se no plural.

Assinale a alternativa correta.

- a) Somente as afirmativas I e II são corretas.
- b) **Somente as afirmativas I e IV são corretas.**
- c) Somente as afirmativas III e IV são corretas.
- d) Somente as afirmativas I, II e III são corretas.
- e) Somente as afirmativas II, III e IV são corretas.

7 A respeito da campanha citada no texto, assinale a alternativa correta.

- a) A Secretaria de Políticas para as Mulheres estuda a implementação de debates e leis que promovam a redução dos salários dos homens.
- b) A campanha propõe que homens e filhos assumam maiores responsabilidades pela casa, permitindo maior crescimento para as mulheres no mercado de trabalho.
- c) Um dos objetivos da campanha é garantir o maior número de vagas para mulheres no mercado de trabalho em detrimento da estabilidade dos homens.
- d) As metas da campanha concentram-se na exposição à sociedade sobre conquistas recentes das mulheres no equilíbrio entre trabalho e gerenciamento da vida doméstica.
- e) Diminuir o descompasso entre homens e mulheres no que diz respeito às atividades domésticas e ao mundo do trabalho é uma aspiração da campanha.

8 Sobre o aumento da licença-paternidade, conforme proposto no texto, assinale a alternativa correta.

- a) Passaria a ser igual à licença-maternidade, de acordo com a intenção de Maria Angélica Fernandes.
- b) Teria a desvantagem de expor os homens à menor estabilidade no trabalho, equiparando as condições de homens e mulheres, segundo Natália Fontoura.
- c) Significaria medida importante para reparar desajustes experimentados por homens e mulheres no mercado de trabalho, de acordo com Natália Fontoura.
- d) Representaria uma maior competitividade para as mulheres no mercado de trabalho, sem prejuízo para os homens, de acordo com Natália Fontoura.
- e) Eliminaría o risco de desemprego para as mulheres, corrigindo as desigualdades e a injustiça entre os sexos, segundo Natália Fontoura.

9 Sobre a expressão “licença maior”, no início do 6º parágrafo, assinale a alternativa correta.

- a) Trata-se de decisão que incidiria sobre os homens no que tange à expectativa de maior participação deles nas atividades domésticas, interferindo também nos salários de homens e mulheres.
- b) Trata-se de licença reivindicada somente aos homens, como resultado de uma proposta cujo objetivo central é garantir maior equilíbrio a homens e mulheres no âmbito da vida doméstica.
- c) Trata-se de referência ao amparo legal de que se beneficiariam as mulheres com a regularização de uma situação que lhes permitiria cuidar dos filhos sem correr riscos no trabalho.
- d) Trata-se de proposta que possibilitaria às mulheres o exercício do trabalho, uma vez que, assim, caberiam aos homens os cuidados com os filhos e com a casa, durante o período da licença.
- e) Trata-se de reivindicação que reconhece o favorecimento aos homens e a exclusão das mulheres dos benefícios, com repercussões no campo do trabalho, mas sem efeito na esfera doméstica.

10 Sobre o título “Mamadeira e laptop” e sua relação com o texto, assinale a alternativa correta.

- a) A mamadeira e o *laptop* são símbolos das atividades de homens e mulheres durante o período em que os filhos são ainda bebês, na vigência das licenças paternidade e maternidade, respectivamente.
- b) A mamadeira é símbolo exclusivo das mulheres, correspondente ao período de amamentação, enquanto o *laptop* é símbolo predominantemente masculino, em decorrência do vínculo com o trabalho.
- c) A mamadeira é símbolo das atividades tradicionalmente femininas a ser substituído pelo *laptop*, símbolo das novas atribuições das mulheres em sua busca por afirmação no mercado de trabalho.
- d) A mamadeira e o *laptop* são símbolos da conciliação entre cuidado com os filhos e dedicação ao trabalho, situações experimentadas pelas mulheres e que se pretendem estender aos homens.
- e) A mamadeira e o *laptop* são símbolos das práticas masculinas recentes e espontâneas que se caracterizam pela adequação aos novos papéis de homens e mulheres.

CONHECIMENTOS GERAIS

11 “Assim como a cultura midiática é uma ‘cultura de mosaico’, descontínua, sem memória, os grupos sociais pós-modernos são caracterizados pela fluidez e pela instantaneidade, pela instabilidade e pelo efêmero. Um ano depois da trágica morte da princesa Diana, o culto desaparecera: deusa das revistas, Diana não entrou para o panteão dos deuses imortais”.

(LIPOVETSKY, Gilles. *Metamorfoses da Cultura Liberal: ética, mídia e empresa*. Trad. Juremir M. Silva. Porto Alegre: Sulinas, 2004, p. 81.)

O autor busca expressar, no texto, que a mídia

- a) é o registro fiel dos fatos históricos, preservando-os para a posteridade.
- b) **é fragmentada, expondo fatos do momento, do dia a dia, isolados entre si.**
- c) é educativa, pois apresenta programas exclusivamente formativos.
- d) é agente de formação da autonomia dos telespectadores.
- e) é isenta de sensacionalismos e apelos consumistas.

12 “Os direitos humanos nunca aparecem em uma pureza ideal, e sim sempre em uma forma concretizada, codificada e positivada. Por exemplo: na Declaração Universal dos Direitos Humanos das Nações Unidas de 1948.”

(Adaptado: GÜNTHER, Klaus. Interpretações Liberais e teórico-discursivas dos Direitos Humanos. In: FRANKENBERG, Günter; MOREIRA, Luiz. *Jürgen Habermas, 80 anos. Direito e Democracia*. Rio de Janeiro: 2009, p. 222.)

Sobre os Direitos Humanos, contidos na Declaração Universal dos Direitos Humanos das Nações Unidas, considere as afirmativas a seguir.

- I. Compreende os direitos cuja validade é estendida a todo ser humano.
- II. São direitos que implicam o mútuo respeito na convivência humana.
- III. São direitos relativos aos valores culturais, os quais são diversos.
- IV. Implica os direitos decorrentes de normas religiosas.

Assinale a alternativa correta.

- a) **Somente as afirmativas I e II são corretas.**
- b) Somente as afirmativas I e III são corretas.
- c) Somente as afirmativas III e IV são corretas.
- d) Somente as afirmativas I, II e IV são corretas.
- e) Somente as afirmativas II, III e IV são corretas.





13 No âmbito da economia, em 2001, foi empregada pela primeira vez a sigla BRIC para expressar a composição dos países Brasil, Rússia, Índia e China. O uso corrente nos noticiários da sigla BRIC quer expressar:

- a) Os países pobres que têm encontrado dificuldade de crescimento econômico no cenário global.
- b) Os países que se apresentam como lideranças no processo de globalização, em decorrência de suas riquezas naturais.
- c) **Os países que se destacam no cenário global por apresentarem crescimento em suas economias em desenvolvimento.**
- d) Os países mais pobres espalhados em diversos pontos do globo que se sobressaem na eliminação da pobreza.
- e) Os países que empregam mão de obra qualificada e, por esse motivo, têm atraído investimentos estrangeiros.

14 Entre as correntes teóricas anticapitalistas de maior continuidade, influência e impacto nos dois últimos séculos, destaca-se o

- a) Positivismo.
- b) Ceticismo.
- c) Cientificismo.
- d) Modernismo.
- e) **Marxismo.**

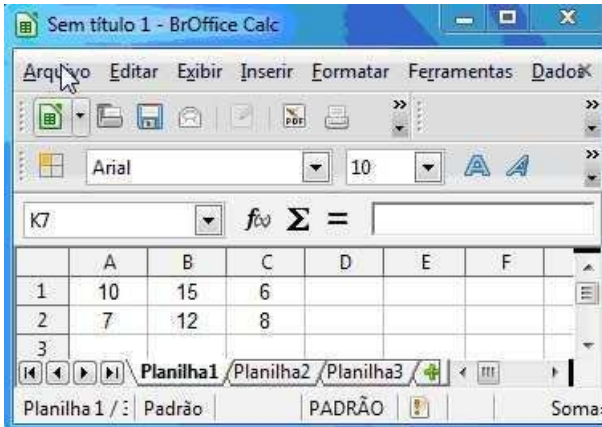
15 Com relação aos ícones presentes na guia Início do Microsoft Word 2007, versão em português, atribua V (verdadeiro) ou F (falso) para as afirmativas a seguir.

- () O ícone  refere-se à função Lixeira.
- () O ícone  refere-se à função Cor da Fonte.
- () O ícone  refere-se à função Negrito.
- () O ícone  refere-se à função Espaçamento entre linhas.

Assinale a alternativa que contém, de cima para baixo, a sequência correta.

- a) V, V, F, V.
- b) V, F, V, F.
- c) V, F, F, F.
- d) F, F, V, V.
- e) F, V, V, F.

16 Considere os dados da planilha do BrOffice Calc, reproduzida na figura a seguir.



	A	B	C	D	E	F
1	10	15	6			
2	7	12	8			
3	3					

Atribua V (verdadeiro) ou F (falso) para as afirmativas a seguir.

- () A fórmula =SOMA(A1:B2), na célula A3, terá como resultado o valor 22.
- () A fórmula =SOMA(A1;C1), na célula B3, terá como resultado o valor 16.
- () A fórmula =B2 + C2/2, na célula C3, terá como resultado o valor 10.
- () A fórmula =MÉDIA(A2:C2), na célula D3, terá como resultado o valor 9.

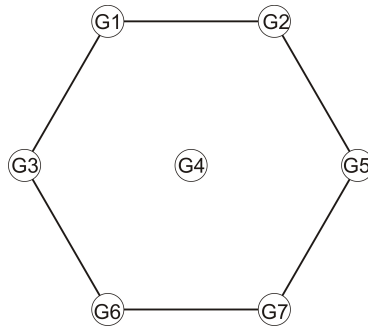
Assinale a alternativa que contém, de cima para baixo, a sequência correta.

- a) V, F, F, V.
- b) V, V, V, V.
- c) V, F, F, F.
- d) F, V, F, V.
- e) F, F, V, F.

17 Deseja-se fazer uma pesquisa no *site* de busca Google. Essa pesquisa deve retornar somente as ocorrências que contenham a expressão exata: Prefeitura do Município de Cândido de Abreu. Assinale a alternativa que apresenta a forma correta de pesquisar essa expressão.

- a) "Prefeitura do Município de Cândido de Abreu".
- b) 'Prefeitura do Município de Cândido de Abreu'.
- c) (Prefeitura do Município de Cândido de Abreu).
- d) [Prefeitura do Município de Cândido de Abreu].
- e) {Prefeitura do Município de Cândido de Abreu}.

18 Sete guaritas policiais serão instaladas em uma cidade conforme o esquema a seguir.



Todas as guaritas devem ser conectadas por linhas de telefone de modo que de qualquer uma delas haja comunicação direta com todas as outras.

Quantas linhas telefônicas ligarão as guaritas?

- a) 18
- b) 19
- c) 20
- d) 21
- e) 42

19 Um cientista maluco inventou uma calculadora, conforme desenho a seguir, que efetua duas operações: * e #.



Se a e b são números naturais, então $a * b = (a + 1) \times (b - 1)$ e $a \# b = (a - 1) \times (b + 1)$. Qual o resultado de $31 * 11$ e $13 \# 9$, respectivamente, na calculadora do cientista maluco?

- a) 320 e 120
- b) 320 e 140
- c) 341 e 120
- d) 384 e 117
- e) 384 e 140

20 Uma maneira de codificar mensagens trocando letras por números está de acordo com o quadro a seguir, análogo ao sistema matricial: A = 11, B = 12, ... H = 23,...

	1	2	3	4	5
1	A	B	C	D	E
2	F	G	H	I	J
3	K	L	M	N	O
4	P	Q	R	S	T
5	U	V	W	X/Y	Z

Considere que * é o espaço entre duas palavras e - separa cada par de números que corresponde a uma letra.

Com base no quadro acima qual a codificação para a mensagem “O CONHECIMENTO ENGRANDECE”?

- a) 35*13-35-34-23-15-13-24-33-15-34-45-35*15-34-35-12-43-15-13-15.
- b) 13-35-34-23-15-13-24-33-15-34-45-35*15-34-22-43-11-34-14-15-13-15.
- c) 35*13-35-34-23-15-13-24-33-15-34-45-35*41-15-43-33-11-34-15-13-15.
- d) 35*13-35-34-23-15-13-24-33-15-34-45-35*15-33-11-22-43-15-13-15.
- e) 35*13-35-34-23-15-13-24-33-15-34-45-35*15-34-22-43-11-34-14-15-13-15.

21 Conforme a NBC T 16.1 (Normas Brasileiras de Contabilidade Aplicadas ao Setor Público), Unidade Contábil é a entidade organizacional que possui patrimônio próprio, sendo que a ocorrência de gestão descentralizada do patrimônio, inclusive por meio de delegação de competência, resulta em nova unidade contábil.

Atribua V (verdadeiro) ou F (falso) para as entidades que a referida norma classifica como unidades contábeis:

- () Originárias.
- () Descentralizadas.
- () Isoladas.
- () Unificadas.
- () Consolidadas.

Assinale a alternativa que contém, de cima para baixo, a sequência correta.

- a) V, F, V, F, F.
- b) V, F, F, V, V.
- c) V, V, F, V, V.
- d) F, V, V, F, F.
- e) F, F, F, V, F.

22 Observe os valores extraídos de demonstrativos de arrecadação de um município e detalhados no quadro a seguir.

Receitas	Valor (R\$)
IPTU	100.000,00
IRRF	10.000,00
Taxas	50.000,00
FPM	500.000,00
ITR	100.000,00
FNDE - Salário Educação	200.000,00
ICMS	500.000,00
IPI/Exportação	100.000,00
Multas e Juros do IPTU	20.000,00

Assinale a alternativa que indica o valor a ser deduzido para a formação do Fundo de Manutenção e Desenvolvimento da Educação Básica e de Valorização dos Profissionais da Educação - Fundeb.

- a) 200.000,00.
- b) 240.000,00.
- c) 266.000,00.
- d) 306.000,00.
- e) 316.000,00.

23 As diversas saídas de numerários, decorrentes de depósitos, pagamentos de restos a pagar, resgate de operação de crédito por antecipação de receita e saídas de recursos transitórios, e que não constam da lei orçamentária anual, constituem os dispêndios:

- a) Intraorçamentários.
- b) Orçamentários.
- c) Extraorçamentários.
- d) Operações de Créditos Internas.
- e) Operações de Créditos Externas.

24 O código que segrega as dotações orçamentárias em funções e subfunções, buscando responder basicamente à indagação “em que área de ação governamental a despesa será realizada”, constitui a classificação:

- a) Institucional.
- b) Programática.
- c) Por natureza.
- d) Funcional.
- e) Orçamentária.

25 A Classificação Institucional reflete a estrutura de alocação dos créditos orçamentários e está estruturada em dois níveis hierárquicos.

Assinale a opção que apresenta corretamente a estrutura da Classificação Institucional:

- a) Função e Subfunção.
- b) Projeto e Atividade.
- c) Órgão e Unidade.
- d) Grupo e Elemento da despesa.
- e) Projeto e Operação Especial.

26 O procedimento administrativo tendente a verificar a ocorrência do fato gerador da obrigação correspondente, determinar a matéria tributável, calcular o montante do tributo devido, identificar o sujeito passivo e, sendo o caso, propor a aplicação da penalidade cabível consiste em:

- a) Arrecadação.
- b) Recolhimento.
- c) Lançamento.
- d) Pagamento.
- e) Liquidação.

27 Os Princípios Orçamentários visam estabelecer regras norteadoras básicas, a fim de conferir racionalidade, eficiência e transparência para os processos de elaboração, execução e controle do Orçamento Público. Válidos para os Poderes Executivo, Legislativo e Judiciário de todos os entes federativos – União, Estados, Distrito Federal e Municípios – são estabelecidos e disciplinados tanto por normas constitucionais e infraconstitucionais quanto pela doutrina.

(Manual de Contabilidade Aplicada ao Setor Público - Parte I - Procedimentos contábeis Orçamentários).

Assinale a alternativa que corresponde à definição do Princípio Orçamentário da Universalidade.

- a) Previsto, de forma expressa, pelo *caput* do Art. 2º da Lei nº 4.320, de 1964, determina existência de orçamento único para cada um dos entes federados – União, Estados, Distrito Federal e Municípios – com a finalidade de se evitarem múltiplos orçamentos paralelos dentro da mesma pessoa política.
- b) Estipulado, de forma literal, pelo *caput* do Art. 2º da Lei nº 4.320, de 1964, delimita o exercício financeiro orçamentário: período de tempo ao qual a previsão das receitas e a fixação das despesas registradas na LOA irão se referir.
- c) Previsto no §8º do Art. 165 da Constituição Federal, estabelece que a Lei Orçamentária Anual não conterá dispositivo estranho à previsão da receita e à fixação da despesa. Ressalvam-se dessa proibição a autorização para abertura de créditos adicionais suplementares e a contratação de operações de crédito, nos termos da lei.
- d) Estabelecido, de forma expressa, pelo *caput* do Art. 2º da Lei nº 4.320, de 1964, recepcionado e normatizado pelo §5º do Art. 165 da Constituição Federal, determina que a Lei Orçamentária Anual de cada ente federado deverá conter todas as receitas e despesas de todos os poderes, órgãos, entidades, fundos e fundações instituídas e mantidas pelo Poder Público.
- e) Apresenta o mesmo fundamento do princípio da legalidade aplicado à administração pública, segundo o qual cabe ao Poder Público fazer ou deixar de fazer somente aquilo que a lei expressamente autorizar, ou seja, subordina-se aos ditames da lei.

28 O orçamento anual pode ser alterado por meio de créditos adicionais. Por crédito adicional, entendem-se as autorizações de despesas não computadas ou insuficientemente dotadas na lei orçamentária. Assinale a alternativa que apresenta corretamente os créditos adicionais destinados a despesas para as quais não haja dotação orçamentária específica.

- a) Especiais.
- b) Extraordinários.
- c) Suplementares.
- d) Orçamentários.
- e) Iniciais.

29 O Parágrafo Único do Art. 22, da Lei de Responsabilidade Fiscal, estabelece o limite prudencial para o gasto de pessoal, que é de 95% (noventa e cinco por cento) do limite, vedando a concessão de vantagem, aumento, reajuste ou adequação de remuneração a qualquer título, salvo os derivados de sentença judicial ou de determinação legal ou contratual, ressalvada a revisão prevista no Inciso X do Artigo 37 da Constituição Federal.

Assinale a alternativa que indica o limite prudencial estipulado, limite percentual da Receita Corrente Líquida, que o Poder Executivo Municipal não poderá exceder em obediência à citada Lei.

- a) 49,0%
- b) 51,3%
- c) 54,0%
- d) 57,0%
- e) 60,0%

30 O Poder Legislativo possui funções legislativas, administrativas e fiscalizadoras. A fiscalização contábil, financeira, orçamentária, operacional e patrimonial do Poder Executivo e das entidades da administração direta e indireta, quanto à legalidade, legitimidade, economicidade, aplicação das subvenções e renúncia de receitas, será exercida pelo Poder Legislativo, mediante controle externo, e pelo sistema de controle interno de cada Poder.

Conforme a Constituição Federal, para exercício da função fiscalizadora mediante controle externo, são órgãos auxiliares do Poder Legislativo os:

- a) Tribunais de Contas.
- b) Tribunais de Justiça.
- c) Controles Internos.
- d) Tribunais Regionais Federais.
- e) Tribunais de Alçada.

31 A publicidade no processo de licitação visa garantir a qualquer interessado as faculdades de participação e fiscalização dos atos da licitação e abrange a divulgação do aviso de sua abertura, o conhecimento do edital e de todos os seus anexos, o exame da documentação e proposta pelos interessados, e o fornecimento de certidões de quaisquer peças, pareceres e decisões relacionadas com o processo licitatório.

O prazo de divulgação da licitação depende da modalidade que venha a ser adotada e será, no mínimo, de:

- I. 45 (quarenta e cinco) dias para concurso e concorrência, quando o contrato a ser celebrado contemplar o regime de empreitada integral ou quando a licitação for do tipo “melhor técnica” ou “técnica e preço”.
- II. 30 (trinta) dias para concorrência, quando o contrato a ser celebrado contemplar o regime de empreitada integral ou quando a licitação for do tipo “melhor técnica” ou “técnica e preço” e para tomada de preços.
- III. 15 (quinze) dias para a tomada de preços quando a licitação não for do tipo “melhor técnica” ou “técnica e preço”.
- IV. 5 (cinco) dias úteis para convite.

Assinale a alternativa correta.

- a) Somente as afirmativas I e II são corretas.
- b) Somente as afirmativas II e IV são corretas.
- c) Somente as afirmativas III e IV são corretas.
- d) Somente as afirmativas I, II e III são corretas.
- e) Somente as afirmativas I, III e IV são corretas.

32 A modalidade de licitação que se destina a interessados que pertençam a ramo de atividade pertinente ao objeto a ser licitado, que poderão ou não ser cadastrados no órgão que promover o certame, utilizada para contratações de menor vulto, é definida como:

- a) Leilão.
- b) Concurso.
- c) Tomada de Preços.
- d) Convite.
- e) Concorrência.

33 Considerando a atual estrutura das demonstrações financeiras para as companhias por ações contempladas na legislação societária (Lei nº 6.404/1976 e suas alterações), atribua V (verdadeiro) ou F (falso) para as afirmativas a seguir.

- () As contas do ativo serão classificadas em circulante e não circulante.
- () As contas do passivo serão classificadas em circulante, não circulante, resultado de exercícios futuros e patrimônio líquido.
- () O ativo não circulante será composto pelo ativo realizável a longo prazo, investimentos, imobilizado e diferido.
- () O patrimônio líquido divide-se em capital social, reservas de capital, reservas de reavaliação, reservas de lucros, ações em tesouraria e prejuízos acumulados.
- () Na companhia em que o ciclo operacional tiver duração maior que o exercício social, a classificação no circulante ou longo prazo terá por base o prazo desse ciclo.

Assinale a alternativa que contém, de cima para baixo, a sequência correta.

- a) V, F, F, V, V.
- b) V, F, F, F, V.
- c) F, F, V, F, F.
- d) F, V, F, V, F.
- e) F, V, V, F, F.

34 Os Princípios de Contabilidade representam a essência das doutrinas e teorias relativas à Ciência da Contabilidade, consoante o entendimento predominante nos universos científico e profissional de nosso País. Atualmente, no Brasil, os Princípios de Contabilidade emanados pelo Conselho Federal de Contabilidade são:

- a) Essência sobre a forma, entidade, continuidade, competência, custo como base de valor e prudência.
- b) Entidade, continuidade, oportunidade, registro pelo valor original, atualização monetária, competência e prudência.
- c) Conservadorismo, entidade, denominador comum monetário, realização da receita e objetividade.
- d) Entidade, continuidade, oportunidade, registro pelo valor original, competência e prudência.
- e) Essência sobre a forma, competência, objetividade, conservadorismo, denominador comum monetário e prudência.

35 Patrimônio líquido de uma entidade corresponde ao valor residual dos ativos depois de deduzidos todos os seus passivos. Assim, o patrimônio líquido pode ser positivo, negativo ou nulo. Assinale a alternativa que apresenta em um patrimônio líquido negativo.

- a) Prejuízo do período maior do que o capital social.
- b) Capital próprio inferior ao capital de terceiros.
- c) Ativo circulante menor do que o passivo circulante.
- d) Capital de terceiros maior do que o ativo.
- e) Passivo circulante mais o exigível a longo prazo menor do que o ativo não circulante.

36 Com relação às definições de ativo, passivo, receitas e despesas contempladas no Pronunciamento do CPC (Comitê de Pronunciamentos Contábeis) que trata da Estrutura Conceitual para a Elaboração e Apresentação das Demonstrações Contábeis, considere as afirmativas a seguir.

- I. Ativo é um recurso controlado pela entidade como resultado de eventos passados e do qual se espera que resultem futuros benefícios econômicos para a entidade.
- II. Passivo é uma obrigação presente da entidade, derivada de eventos já ocorridos, cuja liquidação se espera que resulte em saída de recursos capazes de gerar benefícios econômicos.
- III. Receitas são aumentos no fluxo de caixa durante o período contábil sob a forma de entrada de recursos ou aumento de ativos.
- IV. Despesas são decréscimos no fluxo de caixa durante o período contábil sob a forma de saída de recursos ou redução de ativos.

Assinale a alternativa correta.

- a) Somente as afirmativas I e II são corretas.
- b) Somente as afirmativas I e IV são corretas.
- c) Somente as afirmativas III e IV são corretas.
- d) Somente as afirmativas I, II e III são corretas.
- e) Somente as afirmativas II, III e IV são corretas.

37 O quadro, a seguir, apresenta os saldos das contas patrimoniais e de resultados, extraídos da contabilidade da Cia. Comercial Alfabética, antes da apuração do resultado do período contábil.

Contas	(R\$ mil)	Contas	(R\$ mil)
Aplicações de Liquidez Imediata	300	Estoques	1.300
Bancos conta Movimento	450	Fornecedores	2.500
Caixa	100	Imobilizado	3.500
Capital Social	1.500	Impostos a Recuperar	40
Custo das Mercadorias Vendidas	3.000	Impostos sobre Vendas	1.500
Depreciações Acumuladas	1.200	Investimentos em Ações	160
Despesas Administrativas	500	Provisão para Perdas em Estoques	100
Despesas com Vendas	600	Receitas Financeiras	250
Despesas Financeiras	300	Reservas de Lucros	200
Duplicatas a Receber	2.200	Salários e Encargos a Pagar	1.200
Duplicatas Descontadas	200	Tributos a Pagar	800
Empréstimos e Financiamentos	1.000	Vendas de Mercadorias	5.000

Com base no Balanço Patrimonial e Demonstração do Resultado do Exercício da Cia. Comercial Alfabética, após encerramento das contas de resultado, considere as afirmativas a seguir.

- I. A conta “Reservas de Lucros” é negativa.
- II. A receita líquida é positiva, mas o lucro bruto é negativo.
- III. O ativo total é inferior a R\$ 7.000.
- IV. O passivo exigível é inferior a R\$ 5.700.

Assinale a alternativa correta.

- a) Somente as afirmativas I e II são corretas.
- b) Somente as afirmativas I e IV são corretas.
- c) Somente as afirmativas III e IV são corretas.
- d) Somente as afirmativas I, II e III são corretas.
- e) Somente as afirmativas II, III e IV são corretas.

38 Uma pessoa colocou em um banco, a juros simples, certa quantia em dinheiro que, depois de oito meses, elevou-se a R\$ 5.030,40 (capital e juros reunidos). Deixou essa quantia acumulada, em um único banco e nas mesmas condições, durante dez meses, acumulando, ao final, R\$ 5.318,40. Assinale a alternativa que apresenta corretamente a quantia inicialmente aplicada.

- a) R\$ 4.600,00.
- b) R\$ 4.700,00.
- c) R\$ 4.742,40.
- d) R\$ 4.795,33.
- e) R\$ 4.800,00.

39 O lucro líquido do exercício (depois do Imposto sobre a Renda e Contribuição Social) de determinada empresa corresponde a 4% da sua receita líquida. Desconsiderando outros aspectos tributários que possam impactar essa questão e sabendo que a empresa provisiona 24% de Imposto sobre a Renda e Contribuição Social sobre o lucro, assinale a alternativa que apresenta corretamente a alíquota equivalente aproximada desses impostos em relação à sua receita líquida.

- a) 0,96%.
- b) 1,26%.
- c) 2,00%.
- d) 3,04%.
- e) 3,60%.

40 Determinada empresa comprou do seu fornecedor mercadorias no valor total de R\$ 20.000,00, pagando 10% a vista. Quanto ao restante da dívida, ficou estabelecido que a empresa faça o pagamento em quota única, no regime de juros compostos de 2% ao mês, em prazo não superior a 6 meses. Considerando que a empresa quitou a sua dívida quatro meses depois, assinale a alternativa que apresenta corretamente o valor pago, sem considerar os centavos.

- a) R\$ 19.440,00.
- b) R\$ 19.483,00.
- c) R\$ 19.648,00.
- d) R\$ 21.440,00.
- e) R\$ 21.648,00.