



# Prefeitura Municipal de Campinas

CONCURSO PÚBLICO – EDITAL Nº 006/2011

## 01AU – AUXILIAR DE CONSULTÓRIO DENTÁRIO

Nome do Candidato

Número de Inscrição

--	--	--	--	--	--	--	--	--	--	--	--	--	--	--	--	--	--	--	--	--	--	--

### LEIA COM ATENÇÃO AS INSTRUÇÕES ABAIXO

#### INSTRUÇÕES GERAIS

- O candidato receberá do fiscal:  
Um Caderno de Questões contendo **50 (cinquenta) questões** objetivas de múltipla escolha.  
Uma Folha de Respostas personalizada para a Prova Objetiva.
- Ao ser autorizado o início da prova, verifique, no Caderno de Questões, se a numeração das questões e a paginação estão corretas e se não há falhas, manchas ou borrões. Se algum desses problemas for detectado, solicite ao fiscal outro caderno completo. Não serão aceitas reclamações posteriores.
- A totalidade das Provas terá a duração de **4 (quatro) horas**, incluindo o tempo para preenchimento da Folha de Respostas da Prova Objetiva.
- O candidato poderá se retirar da sala de prova após transcorridas **2 (duas) horas** do efetivo início da prova, entregando o Caderno de Questões e a Folha de Respostas ao fiscal, a qual será o único documento válido para a correção.
- O Caderno de Questões será disponibilizado para consulta no site da Cetro Concursos, juntamente com a divulgação do gabarito, a partir do dia **07 de fevereiro de 2012**.
- Não serão permitidas consultas a quaisquer materiais, uso de telefone celular ou outros aparelhos eletrônicos.
- Caso seja necessária a utilização do sanitário, o candidato deverá solicitar permissão ao fiscal de sala, que designará um fiscal volante para acompanhá-lo no deslocamento, devendo manter-se em silêncio durante o percurso, podendo, antes da entrada no sanitário e depois da utilização deste, ser submetido a revista com detector de metais. Na situação descrita, se for detectado que o candidato estiver portando qualquer tipo de equipamento eletrônico, será eliminado automaticamente do concurso.
- Após o término da prova, ao sair da sala de prova, o candidato deverá retirar-se imediatamente do local de realização das provas, não podendo permanecer nas suas dependências, bem como não poderá utilizar os sanitários.

#### ATENÇÃO

- Verifique se seus dados estão corretos na Folha de Respostas.
- A Folha de Respostas **NÃO** pode ser dobrada, amassada, rasurada, manchada ou conter qualquer registro fora dos locais destinados às respostas.
- Assinale a alternativa que julgar correta para cada questão na Folha de Respostas, usando caneta esferográfica de tinta preta ou azul. Para cada questão, existe apenas **1 (uma)** resposta certa – não serão computadas questões não assinaladas ou que contenham mais de uma resposta, emendas ou rasuras.
- O modo correto de assinalar a alternativa é cobrindo, completamente, o espaço a ela correspondente, conforme modelo abaixo:



- Todas as questões deverão ser respondidas.

OS TEXTOS E AS QUESTÕES FORAM REDIGIDOS CONFORME O NOVO ACORDO ORTOGRÁFICO DA LÍNGUA PORTUGUESA, MAS ESTE NÃO SERÁ COBRADO NO CONTEÚDO.



CONCURSOS PÚBLICOS

02/2012

Espaço reservado para anotação das respostas

### PREFEITURA MUNICIPAL DE CAMPINAS – CONCURSO PÚBLICO – EDITAL 006/2011



01AU – AUXILIAR DE CONSULTÓRIO DENTÁRIO

Nome: \_\_\_\_\_ Inscrição: \_\_\_\_\_

1	2	3	4	5	6	7	8	9	10	11	12	13	14	15	16	17	18	19	20	21	22	23	24	25
26	27	28	29	30	31	32	33	34	35	36	37	38	39	40	41	42	43	44	45	46	47	48	49	50

O Caderno de Questões será disponibilizado no site da Cetro Concursos ([www.cetroconcursos.org.br](http://www.cetroconcursos.org.br)) a partir do dia 07 de fevereiro de 2012.

Leia o texto abaixo para responder à questão 1.

### **Saiba quais são as gorduras alimentares e como devem ser consumidas**

Um levantamento realizado pelo Hospital Estadual Dante Pazanese com 600 pacientes com problemas cardíacos mostrou que muitos deles têm dúvida sobre quais tipos de gorduras devem ou não comer.

Dos pacientes consultados, 55% desconheciam o benefício das gorduras insaturadas. Elas atuam no combate ao mau colesterol (LDL) e no aumento do bom colesterol (HDL).

O levantamento também mostrou que 67% dos entrevistados não têm o hábito de ler o rótulo dos alimentos.

O coordenador da pesquisa, o cardiologista Daniel Magnoni, diz que muitas vezes a população tem dificuldade de compreender a orientação médica por não estar habituada aos nomes científicos.

“As pessoas confundem saturado e insaturado. Também não têm o hábito de ler os rótulos e, quando leem, não compreendem”. Para ele, a pesquisa ajudará os médicos a orientarem melhor seus pacientes. [...]

Disponível em: <http://www1.folha.uol.com.br/equilibrioesaude/1037278-saiba-quais-sao-as-gorduras-alimentares-e-como-devem-ser-consumidas.shtml>.

1. A partir da leitura do texto, assinale a alternativa correta.

- (A) Foi realizado estudo pelo Hospital Estadual Dante Pazanese sobre problemas cardíacos.
- (B) O Hospital Estadual Dante Pazanese realizou estudo com pacientes cardíacos, a fim de constatar qual o seu conhecimento acerca das gorduras saturadas e insaturadas.
- (C) Mais da metade dos pacientes consultados conhecem o benefício das gorduras insaturadas.
- (D) A população compreende a orientação médica por se tratar de vocabulário científico.

2. Assinale a alternativa que completa correta e respectivamente as lacunas.

Os profissionais estão cientes \_\_\_ reunião e acreditam que seja imprópria \_\_\_ a equipe, já que estão convencidos \_\_\_ que o conteúdo não será interessante.

- (A) de/ para/ a
- (B) da/ à/ de
- (C) da/ para/ de
- (D) de/ para/ de

3. Em relação ao termo destacado, assinale a alternativa correta.

- (A) Ao sair, deixou a gaveta **meia** aberta.
- (B) É **permitido** a entrada após às três horas.
- (C) Havia **muitos** livros na mesa.
- (D) A saudade dos pais tornou **miserável** suas manhãs e noites.

4. Assinale a alternativa correta em relação à pontuação.

- (A) Assumi que, se tivesse se esforçado, estaria em uma melhor posição.
- (B) Assumi que se tivesse, se esforçado estaria em melhor posição.
- (C) Assumi que se tivesse, se esforçado, estaria em melhor posição.
- (D) Assumi que: se tivesse se esforçado, estaria, em, melhor posição.

5. Em relação ao verbo em destaque abaixo, assinale a alternativa correta.

“Se **estivesse** em casa, eu iria lhe visitar.”

- (A) O termo em destaque expressa dúvida.
- (B) O termo em destaque expressa conselho.
- (C) O termo em destaque expressa situação hipotética.
- (D) O termo em destaque expressa súplica.

6. Assinale a alternativa em que a ocorrência ou não de crase está **incorreta**.

- (A) À medida que os pacientes chegavam, o médico atendia.
- (B) Estavam dispostos à fazer dieta.
- (C) Ele se referiu a todos que compareceram ao congresso.
- (D) O paciente foi levado àquela sala de emergência.

7. Em relação aos pronomes destacados, marque V para verdadeiro ou F para falso e, em seguida, assinale a alternativa que apresenta a sequência correta.

- ( ) Os enfermeiros pediram para **mim** fazer a sutura.
- ( ) Não haverá nada entre **mim** e **ti**.
- ( ) Queremos ir **contigo** à reunião para **lhe** mostrar o projeto.

- (A) V/ V/ F
- (B) F/ F/ V
- (C) F/ V/ F
- (D) V/ V/ V

8. Assinale a alternativa correta em relação à concordância verbal.
- (A) 80% dos alunos se ofendeu na aula de ontem.
  - (B) Foram eles que deram o diagnóstico.
  - (C) Houveram sérios problemas durante a cirurgia.
  - (D) Faziam anos que não compravam os remédios prescritos.
9. Assinale a alternativa **incorreta** em relação à regência nominal.
- (A) Estava acostumado com procedimentos como este.
  - (B) O sistema de saúde de qualidade não está acessível a todos que necessitam.
  - (C) Era fanático por alimentos pouco calóricos.
  - (D) Ele é capaz a fazer a avaliação.
10. Assinale a alternativa que **não** apresenta erro de acentuação.
- (A) Você, jiló, estomago.
  - (B) Médico, vírus, tórax.
  - (C) Eter, ótimo, estomago.
  - (D) Jiló, eter e vírus.

## MATEMÁTICA

11. O açúcar e as cáries estão relacionados. Logo, se uma pessoa tomar um copo com 300ml de refrigerante por dia, no qual o açúcar está presente na concentração de 85 gramas por litro, após 30 dias ela terá ingerido
- (A) 255 gramas de açúcar.
  - (B) 765 gramas de açúcar.
  - (C) 1.150 gramas de açúcar.
  - (D) 2.550 gramas de açúcar.
12. Para avaliar a prevalência de cárie em crianças de 18 a 36 meses foram examinadas 12.000 crianças nesta faixa etária. Verificou-se que 27% delas apresentaram pelo menos um dente decíduo com experiência de cárie dentária. Logo, o número de crianças que não apresentou dente decíduo com experiência de cárie dentária é igual a
- (A) 3.240.
  - (B) 4.620.
  - (C) 5.260.
  - (D) 8.760.

Leia o texto abaixo para responder às questões de 13 a 15.

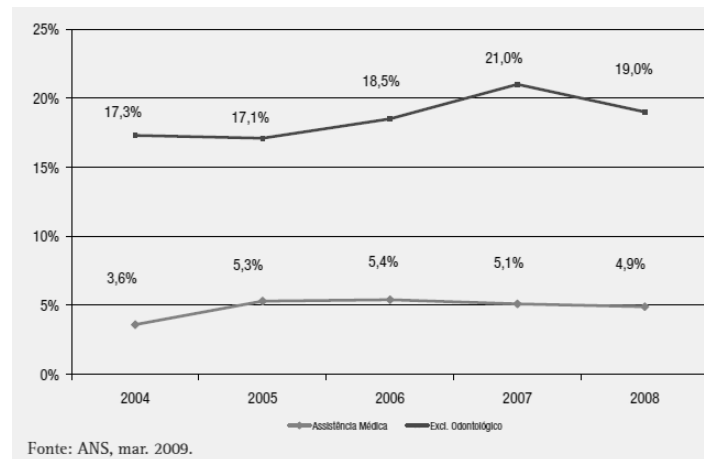
Na bula de um medicamento indicado para prevenção de bacteremia, que está associada a procedimentos, como extração dentária em pacientes com risco de desenvolver endocardite, observa-se a seguinte tabela.

POSOLOGIA			
Tipo de Infecção	Idade	Dose	Frequência
Leves a moderadas	Adultos e crianças acima dos 12 anos	250 mg	8 em 8 horas
		500 mg	12 em 12 horas
Moderadas a severas	Adultos e crianças acima de 12 anos	500 mg	8 em 8 horas
		1 g	12 em 12 horas

Apresentação: Caixa com 15 cápsulas de 250mg cada.

13. Na receita de um paciente adulto com infecção leve estava indicado que ele tomasse o remédio 3 vezes ao dia durante 7 dias. Após o tratamento o paciente ingeriu
- (A) 5.000mg.
  - (B) 5.250mg.
  - (C) 6.000mg.
  - (D) 10.000mg.
14. Uma pessoa que precisa tomar 500mg de 12 em 12 horas durante 14 dias, deverá comprar no **mínimo**
- (A) 2 caixas do medicamento.
  - (B) 3 caixas do medicamento.
  - (C) 4 caixas do medicamento.
  - (D) 5 caixas do medicamento.
15. Foi indicado a um paciente com infecção (moderada a severa) que tomasse 500mg do remédio durante 9 dias, com início do tratamento às 6h do dia 15 de janeiro. Considerando que o paciente seguiu corretamente as instruções, ele tomou a última dose do remédio às
- (A) 22 horas do dia 23 de janeiro.
  - (B) 18 horas do dia 24 de janeiro.
  - (C) 22 horas do dia 22 de janeiro.
  - (D) 18 horas do dia 23 de janeiro.

O gráfico abaixo representa a taxa de crescimento do número de beneficiários por cobertura assistencial (planos de assistência médica e planos exclusivamente odontológicos), no Brasil, no período de 2004 a 2008.



Disponível em

[http://www.ans.gov.br/porta1/upload/biblioteca/Manual\\_ODONTO.pdf](http://www.ans.gov.br/porta1/upload/biblioteca/Manual_ODONTO.pdf).

Acessado em 21 jan. 2012.

16. Em relação aos planos exclusivamente odontológicos, no período de 2005 a 2007, é possível observar que houve um

- (A) decréscimo de 0,2%.
- (B) crescimento de 21%.
- (C) crescimento de 3,9%.
- (D) decréscimo de 5,1%.

Leia o texto abaixo para responder às questões 17 e 18.

### Armazenamento de resíduos

[...] Os resíduos que não podem ser tratados no estabelecimento gerador devem ser armazenados para serem enviados para tratamento ou destino final. Dependendo do porte do gerador pode haver necessidade de se ter um abrigo interno e um externo.[...]

Cada unidade geradora de um estabelecimento de saúde com área superior a 80 m<sup>2</sup> deverá ter um local interno apropriado para estocagem intermediária dos resíduos de serviço de saúde, onde esses ficarão armazenados até serem recolhidos [...].

As salas destinadas ao armazenamento interno deverão ter as seguintes especificações:

[...] d) A ventilação será feita por meio de aberturas teladas, com no mínimo 1/20 da área do piso e não inferiores a 0,20 m<sup>2</sup>. [...] g) A quantidade de resíduos estocados na sala deverá ser absolutamente compatível com o espaço físico dimensionado, observando-se o empilhamento máximo permitido de 1,20m de altura, para evitar rompimento das embalagens ou desmoronamento do material estocado, além de facilitar a colocação e retirada dos recipientes. [...]

Fonte: FONSECA, J. C. K. Manual para gerenciamento de resíduos perigosos. Disponível em: <http://www.unesp.br/pgr/manuais/residuos.pdf>. Acesso em 21 jan. 2012.

17. Cada caixa coletora de perfurocortantes tem altura aproximada de 30cm e, em um mês, foram armazenadas 28 destas caixas. A quantidade mínima de pilhas que devem ser feitas na sala de armazenamento de modo a seguir as normas de segurança é
- (A) 4.
  - (B) 5.
  - (C) 6.
  - (D) 7.
18. Uma sala de armazenamento de resíduos tem área do piso igual a 240.000cm<sup>2</sup>, logo a ventilação deverá ter uma área de no mínimo
- (A) 0,2m<sup>2</sup>.
  - (B) 12,0m<sup>2</sup>.
  - (C) 1,4m<sup>2</sup>.
  - (D) 1,2m<sup>2</sup>.
19. Se um recipiente de enxaguante bucal contém 1,5 litros do produto e recomenda-se 30ml por aplicação, então, com um recipiente é possível realizar
- (A) 15 aplicações.
  - (B) 25 aplicações.
  - (C) 50 aplicações.
  - (D) 45 aplicações.
20. Oitenta dos 240 pacientes de um consultório odontológico usam aparelhos fixos; dos que não usam aparelhos fixos, 16 fizeram implantes dentários. Entre os que usam aparelho fixo, 32 tiveram que extrair os dentes do siso. A razão entre a quantidade de pacientes que usam aparelho fixo, mas não fizeram extração dos dentes do siso e a quantidade de pacientes que não usam aparelhos fixos nem fizeram implantes é
- (A)  $\frac{1}{3}$ .
  - (B)  $\frac{1}{2}$ .
  - (C)  $\frac{1}{4}$ .
  - (D) 2.

## CONHECIMENTOS GERAIS

21. Uma das principais ações desta Secretaria, através de seus departamentos, é participar da formulação e implementação das políticas de atenção básica e especializada, observando os princípios do Sistema Único de Saúde (SUS). Trata-se da
- (A) Secretaria de Gestão da Saúde.
  - (B) Secretaria de Atenção Especializada.
  - (C) Secretaria de Atenção à Saúde.
  - (D) Secretaria da Saúde.
22. Leia o trecho abaixo e, em seguida, assinale a alternativa que preenche corretamente a lacuna.
- O Governo Federal criou o Programa \_\_\_\_\_ do Brasil para ampliar o acesso aos medicamentos para as doenças mais comuns entre os cidadãos.
- (A) Farmácia Popular
  - (B) Farmácia do Povo
  - (C) Farmácia Para Todos
  - (D) Farmácia Especializada
23. No final da noite do dia 25 de janeiro de 2012, três prédios desabaram no centro de uma cidade brasileira, deixando vários feridos e algumas pessoas mortas. Assinale a alternativa que apresenta a cidade onde o desabamento ocorreu.
- (A) São Paulo.
  - (B) Curitiba.
  - (C) Salvador.
  - (D) Rio de Janeiro.
24. Em relação aos dados estatísticos sobre a violência no estado de São Paulo, divulgados pelo governo estadual em janeiro de 2012, marque V para verdadeiro ou F para falso e, em seguida, assinale a alternativa que apresenta a sequência correta.
- ( ) Os números de casos de homicídios sofreram redução em relação a 2010.
  - ( ) A polícia aponta aumento de número de latrocínios, roubo seguido de morte, em 2011.
  - ( ) Os boletins de ocorrência (BOs) de tráfico de drogas aumentaram em 2011.
- (A) V/ V/ V
  - (B) F/ F/ V
  - (C) V/ F/ V
  - (D) F/ V/ F



25. Assinale a alternativa que apresenta o atual Ministro da Educação.

- (A) Fernando Haddad.
- (B) Aloizio Mercadante.
- (C) Carlos Lupi.
- (D) Guido Mantega.

26. Leia o trecho abaixo e, em seguida, assinale a alternativa que preenche corretamente a lacuna.

O governador de São Paulo, Geraldo Alckmin, avalia o uso de quatro terrenos em \_\_\_\_\_ para a construção de moradias para as famílias retiradas do Pinheirinho. Até os imóveis ficarem prontos, os moradores receberão o aluguel social, com valor máximo de R\$ 500.

- (A) Diadema
- (B) Ribeirão Preto
- (C) São Paulo
- (D) São José dos Campos

27. Na noite do dia 27 de janeiro de 2012, foi preso em Campos do Jordão um dos traficantes mais procurados pela polícia do Rio de Janeiro. Trata-se de

- (A) Fernandinho Beira-Mar.
- (B) Paulo Roberto de Sousa Paz (Mica).
- (C) Fabiano Atanázio da Silva (FB).
- (D) Márcio José Sabino Pereira (Matemática).

28. A Anatel (Agência Nacional de Telecomunicações) anunciou que a partir de julho aumentarão os dígitos dos números de celular na cidade e região metropolitana de São Paulo. Assinale a alternativa que apresenta o número de dígitos que os celulares passarão a ter.

- (A) 9.
- (B) 8.
- (C) 7.
- (D) 10.

29. A presidenta Dilma Rousseff realizou, nos dias 30 e 31 de janeiro de 2012, sua primeira visita como chefe de Estado

- (A) à Argentina.
- (B) à França.
- (C) aos Estados Unidos.
- (D) a Cuba.

30. Em outubro de 2011, a presidente Dilma Rousseff sancionou uma medida de incentivo fiscal que faz parte do Programa de Inclusão Digital do Governo. De acordo com essa medida, terá o PIS e o Cofins isentos
- (A) o celular.
  - (B) a multifuncional.
  - (C) o tablet.
  - (D) o iPhone.

### **CONHECIMENTOS ESPECÍFICOS**

31. A guarda dos dados coletados na anamnese do paciente no exame clínico, assim como os resultados nos exames complementares, como as radiografias, fazem parte da documentação odontológica e devem seguir algumas normas. Em relação a esse assunto, analise as assertivas abaixo.
- I. O arquivamento correto dos dados serve como uma forma de estabelecer e confirmar o diagnóstico mais tardiamente, controlar a evolução, a remissão de lesões etc.
  - II. A manutenção regular dos dados pode ser um fator importante na proteção da emissão de radiação.
  - III. A maioria dos erros radiográficos cometidos pode ser agrupada em três categorias: erros de técnica, erros de exposição e processamento e erros de manipulação dos filmes. Quando ocorrem esses tipos de erros, quase sempre comprometem a qualidade da radiografia e, em geral, levam a repetições.

É correto o que se afirma em

- (A) I e II, apenas.
  - (B) II e III, apenas.
  - (C) I, II e III.
  - (D) III, apenas.
32. As fotografias e slides, documentações importantes que fazem parte do arquivo dos pacientes, são divididas em
- I. extraorais, que podem ser frente, frente sorrindo, perfil direito, Perfil Direito Sorrindo, Perfil Esquerdo e Perfil Esquerdo Sorrindo.
  - II. intraorais, que podem ser oclusão anterior, oclusão direita, oclusão esquerda, oclusal superior, oclusal inferior, overjet e overbite.
  - III. supraorais, que podem ser oclusal superior, oclusal inferior, perfil direito, perfil esquerdo, mandibular.

É correto o que está contido em

- (A) I, apenas.
- (B) II, apenas.
- (C) III, apenas.
- (D) I e II, apenas.

33. O documento odontológico pode ser o prontuário, ficha clínica, um atestado, laudo, receituário ou mesmo uma radiografia, podendo fazer prova quando envolvem questões jurídicas. Em relação a esse assunto, marque V para verdadeiro ou F para falso e, em seguida, assinale a alternativa que apresenta a sequência correta.

- ( ) O Prontuário Odontológico pode ser considerado o registro feito pelo cirurgião-dentista de todos os dados e procedimentos realizados no paciente, e além de sua importância para a otimização e organização da clínica odontológica, o prontuário possui um aspecto também importante nos processos de identificação humana.
- ( ) Segundo o Conselho Federal de Odontologia, é necessário que um prontuário odontológico contenha no mínimo a identificação do paciente, possuindo história clínica deste, um detalhado exame clínico, exames complementares, planos de tratamento e evolução do tratamento.
- ( ) A ficha dentária é a representação gráfica e detalhada das características anatômicas normais, de particularidades patológicas, protéticas, hábitos e trabalhos realizados pelo profissional para restaurar as perdas dentárias, o que, em última análise, facilita a identificação de um indivíduo em relação a outro.

- (A) V/ V/ V
- (B) V/ F/ V
- (C) F/ V/ F
- (D) F/ V/ V

34. A esterilização é um ponto crítico na Odontologia. Esse é o tema mais comentado em perguntas e dúvidas enviadas por dentistas, por meio eletrônico, abordando como embalar e qual a validade do procedimento. Acerca desse assunto, assinale a alternativa **incorreta**.

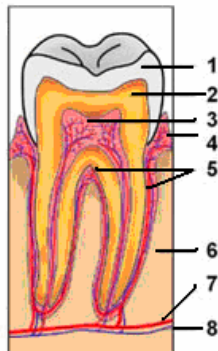
- (A) O método químico só é utilizado quando os artigos são termossensíveis.
- (B) Os artigos termorresistentes devem ser submetidos à autoclavagem, por facilidade operacional, eficácia e, principalmente, por segurança.
- (C) A “estufa” (forno de Pasteur) é o método mais indicado para esterilizar todo e qualquer tipo de material odontológico.
- (D) Em um consultório simples (com uma cadeira), não é necessário ter sala separada para a esterilização de materiais.

35. No que diz respeito à esterilização, limpeza e desinfecção, correlacione as colunas e, em seguida, assinale a alternativa que apresenta a sequência correta.

1. Esterilização.	( ) O material deve ser escrupulosamente lavado com solução detergente ou desincrostante, manualmente em cuba de pia funda e com a ajuda de escovas, estiletes, arames e outros, ou mecanicamente através de equipamentos, tais como lavadoras de ultra-som de baixa frequência, lavadoras de luvas, etc. Não devem ser utilizados em água corrente e enxugados por gravidade ou com tecido. Após os procedimentos de limpeza os itens são críticos estarão prontos para o armazenamento ou distribuição, os semicríticos deverão se submetidos à desinfecção e os críticos à esterilização.
2. Limpeza.	( ) Pode ser obtida por processo físico ou químico, que deve ser escolhido em função das características do artigo.
3. Desinfecção.	( ) Pode ser obtida por processo físico-químico ou químico. Os processos físico e físico-químico são os mais indicados, pois garantem a destruição total de todas as formas de vida microbiana. O processo químico deve ser utilizado somente quando não houver outro recurso, uma vez que, devido a inúmeras variáveis, não dá garantia total de esterilidade do material.

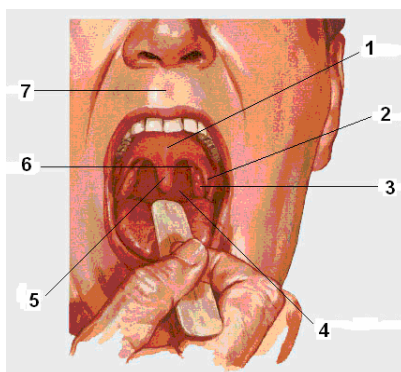
- (A) 3/2/1
- (B) 1/2/3
- (C) 2/3/1
- (D) 1/3/2

36. Observe a imagem abaixo e, em seguida, assinale a alternativa que apresenta corretamente os nomes das estruturas do dente.



- (A) 1. Esmalte/ 2. Dentina/ 3. Polpa/ 4. Gengiva/ 5. Cemento/ 6. Tecido ósseo/ 7. Vaso sanguíneo/ 8. Nervo.
- (B) 1. Dentina/ 2. Esmalte/ 3. Polpa/ 4. Gengiva/ 5. Cemento/ 6. Tecido ósseo/ 7. Nervo/ 8. Vaso sanguíneo.
- (C) 1. Esmalte/ 2. Dentina/ 3. Gengiva/ 4. Polpa/ 5. Cemento/ 6. Tecido ósseo/ 7. Vaso sanguíneo/ 8. Nervo.
- (D) 1. Esmalte/ 2. Dentina/ 3. Polpa/ 4. Gengiva/ 5. Tecido ósseo/ 6. Cemento/ 7. Nervo/ 8. Vaso sanguíneo.

37. Observe a imagem abaixo e, em seguida, assinale a alternativa que apresenta, respectivamente, o número correspondente ao arco palatoglosso e ao arco palatofaríngeo.



- (A) 1 e 3
- (B) 4 e 5
- (C) 2 e 7
- (D) 2 e 6

38. Observe a figura abaixo.



O instrumento cirúrgico representado acima é um(a) \_\_\_\_\_ e tem como função \_\_\_\_\_.

- (A) espátula nº 1/ colocar material na cavidade
- (B) escavador de dentina/ auxiliar na remoção da dentina cariada
- (C) sonda de inserção/ colocar amálgama ou resina na cavidade
- (D) sonda exploradora/ detectar falhas na estrutura dental

39. A resina compósita é muito utilizada em restaurações. Em relação a esse material, analise as assertivas abaixo.

- I. A resina compósita para uso dentário consiste em uma mistura de moléculas monoméricas volumosas de metacrilato com carga inorgânica à base de sílica finamente dividida ou de vidros de aluminossilicato ou borossilicato.
- II. As resinas compósitas apresentam boas características estéticas e de resistência mecânica ao uso, mas devido ao tipo de reação, a restauração pode sofrer encolhimento e, conseqüentemente, ocorrer infiltrações.
- III. As resinas compósitas aderem bem ao tecido natural, têm alta resistência à compressão e a ataques por ácido e água. Além disso, elas podem liberar flúor lentamente para o tecido natural, aumentando a resistência a cáries.

É correto o que se afirma em

- (A) I e III, apenas.
- (B) I e II, apenas.
- (C) II e III, apenas.
- (D) I, II e III.

40. O amálgama odontológico é uma liga de mercúrio Hg<sup>o</sup> com limalha que contém prata (Ag); estanho (Sn); cobre (Cu) e a fórmula é dependente dos fabricantes. Algumas limas apresentam, também, índio (In); zinco (Zn); platina (Pt) e paládio (Pd). As proporções são variáveis de acordo com os fabricantes. Porém, como o mercúrio é um material altamente tóxico e, por ser utilizado como material restaurador, alguns cuidados devem ser tomados, entre os quais, uso

- I. da menor relação possível de mercúrio na liga.
- II. de amalgamadores mecânicos seguros, que não apresentem vazamentos de mercúrio.
- III. de isolamento absoluto para evitar queda de amálgama na cavidade bucal, uma vez que a mucosa do assoalho da cavidade bucal é altamente permeável.

É correto o que está contido em

- (A) I, apenas.
- (B) II, apenas.
- (C) I e III, apenas.
- (D) I, II e III.

41. Leia o trecho abaixo e, em seguida, assinale a alternativa que preenche correta e respectivamente as lacunas.

Todo artigo deve ser considerado como contaminado, sem levar em consideração o grau de sujeira. Antes da esterilização, os artigos devem passar por determinados processos, como limpeza, que consiste em \_\_\_\_\_, enxágue, que deve ser feito com \_\_\_\_\_ e secagem, feita com \_\_\_\_\_.

- (A) fricção com álcool/ água quente corrente/ secadora de ar quente
- (B) fricção mecânica/ água potável (corrente ou não)/ papel toalha
- (C) fricção mecânica ou lavadoras ultrassônicas/ água potável e corrente/ secadora (de ar quente ou frio) ou papel toalha
- (D) lavadoras ultrassônicas/ água potável (corrente ou não)/ secadora de ar frio ou papel toalha

42. Após a esterilização dos materiais é imprescindível tomar alguns cuidados. Assinale a alternativa que **não** apresenta um cuidado a ser tomado.

- (A) Observar a completa despressurização da autoclave.
- (B) Retirar o material, fechado e lacrado com fita crepe para autoclave, e datá-lo.
- (C) Verificar se há umidade nos pacotes. Ela indica defeito da autoclave ou inobservância pelo operador do tempo de secagem. Neste caso, a esterilização deverá ser refeita.
- (D) Observar se o risco preto da fita para autoclave está bem definido e, em caso positivo, deve-se repetir o processo da esterilização.

43. Em relação ao armazenamento do material esterilizado, assinale a alternativa correta.

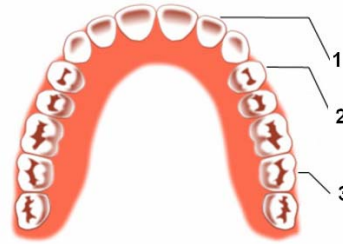
- (A) O lugar de armazenamento do material deve ser limpo e fechado ou aberto, desde que coberto com papel toalha.
- (B) É permitido o armazenamento próximo aos tubos de drenagem.
- (C) A temperatura do local de armazenamento deve ficar entre 15°C e 20°C.
- (D) O armazenamento deve ser feito a seco, com umidade entre 30% e 60%.

44. Em relação à superfície e à frequência a ser limpa, correlacione as colunas e, em seguida, assinale a alternativa que apresenta a sequência correta.

Frequência	Superfície
1. Após cada atendimento.	( ) Refletor e RX.
2. Após o uso.	( ) Cadeiras.
	( ) Cuspideiras.
3. Uma vez por semana e sempre que necessário.	( ) Paredes.
	( ) Instrumentais não cortantes.

- (A) 1/ 2/ 1/ 3/ 2
- (B) 2/ 1/ 1/ 3/ 2
- (C) 3/ 1/ 1/ 2/ 2
- (D) 1/ 2/ 3/ 3/ 1

45. Observe a figura abaixo e, em seguida, assinale a alternativa que apresenta corretamente os nomes dos dentes.



- (A) 1. Incisivo lateral/ 2. Primeiro pré-molar/ 3. Segundo molar.
- (B) 1. Incisivo central/ 2. Segundo pré-molar/ 3. Terceiro molar.
- (C) 1. Incisivo lateral/ 2. Primeiro molar/ 3. Terceiro molar.
- (D) 1. Incisivo central/ 2. Primeiro pré-molar/ 3. Terceiro molar.

46. Constituem deveres fundamentais dos profissionais e entidades de odontologia

- I. zelar pela saúde e pela dignidade do paciente.
- II. guardar segredo profissional.
- III. elaborar e manter atualizados os prontuários de pacientes, conservando-os em arquivo próprio.
- IV. resguardar, quando solicitado, a privacidade do paciente.
- V. assumir responsabilidade pelos atos praticados.

É correto o que está contido em

- (A) I, III e V, apenas.
- (B) I, II e III, apenas.
- (C) I, II, III e V, apenas.
- (D) II, IV e V, apenas.

47. As ações e serviços públicos de saúde e os serviços privados contratados ou conveniados que integram o Sistema Único de Saúde (SUS), são desenvolvidos de acordo com as diretrizes, obedecendo ainda, entre outros, aos seguintes princípios:

- I. universalidade de acesso aos serviços de saúde em todos os níveis de assistência.
- II. preservação da autonomia das pessoas na defesa de sua integridade física e moral.
- III. igualdade da assistência à saúde, sem preconceitos ou privilégios de qualquer espécie.
- IV. direito à informação, às pessoas assistidas, sobre sua saúde.

É correto o que está contido em

- (A) I e II, apenas.
- (B) II e III, apenas.
- (C) III e IV, apenas.
- (D) I, II, III e IV.

48. São ações das Equipes de Saúde Bucal na Estratégia Saúde da Família, entre outros,

- I. as ações de promoção e proteção de saúde.
- II. as ações de recuperação.
- III. prevenção e controle de câncer bucal.
- IV. incremento da resolução da urgência.

É correto o que está contido em

- (A) I, II, III e IV.
- (B) III e IV, apenas.
- (C) II e III, apenas.
- (D) I e II, apenas.

49. Sobre as principais doenças da cavidade bucal, assinale a alternativa **incorreta**.

- (A) As lesões orais são classificadas em lesões brancas, vesico-bolhosas, aftoides e lesões de língua.
- (B) A cândida não faz parte da flora normal da cavidade oral mas pode tornar-se patogênica em condições como imunossupressão e neoplasias.
- (C) Candidíase oral pode se manifestar na forma pseudomenbranosa, atrófica e hiperplásica.
- (D) A leucoplasia é uma lesão esbranquiçada, que apresenta vários diagnósticos diferenciais e pode evoluir com malignização.

50. São inflamações pequenas e brancas cercadas por uma área avermelhada. Não são contagiosas mas, muitas vezes, são confundidas com herpes, causado por um vírus contagioso. Ocorrem dentro da boca, principalmente em mucosa, enquanto o herpes aparece no lado de fora da boca, por exemplo, no canto dos lábios. Podem sumir e reaparecer. Podem também ser pequenas ou grandes e aparecer agrupadas ou isoladas. Trata-se de

- (A) afta.
- (B) candidíase.
- (C) leucoplasia.
- (D) câncer.