



PREFEITURA MUNICIPAL DE GUARUJÁ – PMG



**CONCURSO PÚBLICO PARA PROVIMENTO DE VAGAS
E FORMAÇÃO DE CADASTRO RESERVA – EDITAL 001/2011 - SEDUC
E/OU
PROCESSO SELETIVO – EDITAL 003/2011 - SEDUC**

Cód. 07 – Professor de Educação Básica III – PEB III em Geografia

Cód. 05 – Professor de Educação Básica III – PEB III em Geografia

1. Preencha os parênteses com o número que corresponde a dramaturgo brasileiro/peça teatral.

<http://rosabe.sites.uol.com.br/litbra.htm>

<u>Autor</u>	<u>Peça Teatral</u>
1 - Nelson Rodrigues	() “O Pagador de Promessas”
2 - Ariano Suassuna	() “Navalha na Carne”
3 - Dias Gomes	() “Vestido de Noiva”
4 - Plínio Marcos	() “Auto da Compadecida”

O preenchimento correto está na sequência:

- A) 4 – 1 – 2 – 3.
B) 1 – 4 – 3 – 2.
C) 3 – 2 – 4 – 1.
D) 3 – 4 – 1 – 2.
2. Nos anos 30, inicia-se a era do cinema falado e o pioneiro cinema nacional concorre com o forte esquema de distribuição norte-americano, numa disputa que se estende até os nossos dias.

<http://www.dc.mre.gov.br/cinema-e-tv/historia-do-cinema-brasileiro>

- 1 - Inicialmente o cinema nacional destacou-se com as “chanchadas” (comédias musicais com populares cantores do rádio e atrizes do teatro de revista) do estúdio Cinédia. São exemplos os filmes: “Alô, Alô Brasil” e “Alô, Alô Carnaval” que caíram no gosto popular e revelaram mitos do cinema brasileiro, como a cantora Carmen Miranda (símbolo da brejeirice brasileira que, curiosamente, nasceu em Portugal).
- 2 - O estúdio Vera Cruz criado no final da década de 40, mesmo tendo falido em 1954, conheceu momentos de glória, quando o filme “O Cangaceiro”, de Lima Barreto, ganhou o prêmio de “melhor filme de aventura” no Festival de Cannes.
- 3 - Na década de 90, a criação de novos mecanismos de financiamento da produção por meio de renúncia fiscal (Leis de Incentivo), juntamente com o surgimento de novas instâncias governamentais de apoio ao cinema, auxiliou a reorganizar a produção e proporcionou instrumentos para que realizadores pudessem competir, mesmo de modo desigual, com as produções milionárias das majors norte-americanas.
- 4 - Esse período é conhecido como a “Retomada” do cinema brasileiro e em pouco tempo, três filmes são indicados ao Oscar de Melhor Filme Estrangeiro: “O Quatrilho”, “O Que é Isso, Companheiro” e “Central do Brasil” (1998), também vencedor do Urso de Ouro do Festival de Berlim.
- 5 - Nomes como Walter Salles, diretor de “Terra Estrangeira” e “Central do Brasil”, Carla Camuratti, diretora de “Carlota Joaquina, Princesa do Brazil” e Lima Duarte diretor de “Assalto ao Banco Central” tornam-se nomes conhecidos do grande público, atraindo milhões de espectadores para as salas de exibição.
- 6 - Em novembro de 2011 foi escolhido para concorrer ao Oscar de 2012 o filme brasileiro Tropa de Elite 1 do diretor José Padilha.

São afirmações corretas:

- A) 1, 2, 3, 4, apenas.
B) 1, 2, 4, 5, 6, apenas.
C) 3, 4, 5, 6, apenas.
D) 1, 2, 3, 4, 5, 6.

3. Foi o romancista mais importante do século XIX cuja reputação continua crescendo com o tempo. Dele muitos romances são cruciais para a compreensão psicológica do brasileiro, particularmente do litoral; algumas de suas perspicácias em personalidade antecipam as descobertas da psicanálise. Ele vê o caráter de seus personagens com pessimismo e ironia, mas o humor dele é de tristeza em lugar de raiva. Sua obra “Memórias Póstumas de Brás Cubas” (1881) teve êxito em tradução inglesa (1952). Outras versões inglesas de seus trabalhos são “Esaú e Jacó” (1965) e “Dom Casmurro” (1966). As referências são sobre o escritor:

<http://www.culturabrasil.pro.br/brasilianliteratura.htm>

- A) Machado de Assis.
- B) José de Alencar.
- C) José Lins do Rego.
- D) Graciliano Ramos.

4. A Semana da Arte Moderna de 1922 deu início ao período da literatura modernista brasileira (1922 a 1930) cujas principais características são: nacionalismo, temas do cotidiano (urbanos), linguagem com humor, liberdade no uso de palavras e textos diretos. Dentre os principais escritores modernistas brasileiros não se inclui:

<http://www.suapesquisa.com/literaturabrasil/>

- A) Mario de Andrade.
- B) Cassiano Ricardo.
- C) José de Alencar.
- D) Manuel Bandeira.

5. No período de 1930 a 1945 transcorreu a fase do Neo-Realismo da literatura brasileira na qual os escritores retomam as críticas e as denúncias aos grandes problemas sociais do Brasil. Os assuntos místicos, religiosos e urbanos também são retomados. Destacam-se as seguintes obras e respectivos escritores:

<http://www.suapesquisa.com/literaturabrasil/>

- 1 - “Vidas Secas” de Graciliano Ramos.
- 2 - “Fogo Morto” de José Lins do Rego.
- 3 - “O Quinze” de Raquel de Queiróz.
- 4 - “O País do Carnaval” de Jorge Amado.

São itens corretos:

- A) 2, 3 e 4, apenas.
- B) 1 e 3, apenas.
- C) 1, 2, 3 e 4.
- D) 2 e 3, apenas.

6. Na década de 70, surge um Movimento artístico e literário liderado por Caetano Veloso e Gilberto Gil inspirado totalmente no Movimento Antropofágico de Oswald de Andrade (DADAÍSMO), a ponto do Movimento ser chamado pelos seus líderes de A Nova Antropofagia e ficou marcado no teatro pela peça “O rei da vela”, de Oswald. O Movimento mencionado denominou-se:

<http://rosabe.sites.uol.com.br/litbra.htm>

- A) Bossa Nova.
- B) Música Popular Brasileira (MPB)
- C) Tropicalismo.
- D) Novos Baianos.

7. Para que os turistas conheçam suas atrações de maneira especial a Secretaria de Turismo do Município do Guarujá organizou-as em 10 rotas diferentes denominadas “Rotas do Dragão”, divididas por grau de dificuldades. Esse nome foi escolhido devido:

- A) aos sítios arqueológicos existentes na região.
- B) à configuração geográfica do município.
- C) à presença de fósseis de dragões.
- D) às lendas divulgadas pela população nativa.

8. Analise as afirmações sobre o município de Guarujá.

- 1 - "Viva Guarujá o ano todo: O Destino abriga, de maneira espetacular, 27 praias de águas limpas e mar aberto, iluminadas pelo sol e sorriso das crianças e dos surfistas. Além disso, uma delas, a Praia do Tombo, é a única do Brasil a receber o selo internacional Bandeira Azul." <http://www.guaruja.sp.gov.br/turista/>
- 2 - Os turistas e moradores de Guarujá já contam com uma Academia ao ar livre, entre as Praias das Pitangueiras e Astúrias. O espaço, inaugurado no dia 29 de dezembro, serve também como mirante para contemplação da vista privilegiada da praia. "O espaço recebeu lâmpadas verdes para ressaltar a vegetação, a calçada foi ampliada para os pedestres e também recebeu acessibilidade", explicou o secretário de Desenvolvimento e Gestão Urbana, Duino Verri Fernandes. <http://www.tribuna.com.br/noticias>
- 3 - Como acontece há vários anos em Guarujá, no início de janeiro deste ano foi realizado o evento com shows de diversos artistas brasileiros que perdurou por vários dias. Esse evento foi denominado "Projeto Azul Verão 2012". <http://www.guarujaweb.com.br/lazer-e-turismo/>

São afirmações corretas:

- A) 1 e 2, apenas.
- B) 1 e 3, apenas.
- C) 2 e 3, apenas.
- D) 1, 2 e 3.

9. O Turismo é uma conquista de Guarujá, de importância econômica e social, que lhe proporciona uma das vitais fontes de arrecadação e desenvolvimento, compondo um quadro altamente positivo na cidade. O município possui inúmeros atrativos que vão além de suas praias e a infraestrutura turística está perfeitamente adequada para que os turistas possam desfrutá-los.

- 1 - A vocação turística da cidade remonta a sua fundação, que se iniciou com a criação da Vila Balneária de Guarujá, instalada na Ilha de Santo Amaro, com a importação de uma cidade completa da Inglaterra para cá.
- 2 - As trilhas são inúmeros caminhos que contam história, que trazem a natureza para perto e que emocionam tanto quanto os mirantes, com vista para cenários vibrantes.
- 3 - A cidade tem grandes recursos culturais e arquitetônicos incluindo fortes históricos para visitação como o Forte Itapema em Vicente de Carvalho.

Estão corretas as afirmações:

- A) 1 e 3, apenas.
- B) 1 e 2, apenas.
- C) 1, 2 e 3.
- D) 2 e 3, apenas.

10. Representantes de 200 países reunidos na 17ª Conferência do Clima da ONU (COP-17) na primeira quinzena de dezembro de 2011 em Durban aprovaram um pacote que prorroga o Protocolo de Kyoto, viabiliza o Fundo Verde Climático e cria um roteiro para o futuro acordo global, que vigorará a partir de 2020, com metas obrigatórias para todos os países reduzirem as emissões de gases-estufa. Será a primeira vez que Estados Unidos e China, os maiores poluidores do mundo, terão compromissos para cortar as emissões de CO².

- 1 - Na avaliação da ministra Izabella Teixeira (Meio Ambiente), o resultado foi "histórico, com todos os países convergindo" para a necessidade de um acordo pós-2020 e o embaixador Luiz Alberto Figueiredo Machado, negociador-chefe do País, ficou "aliviado por conseguir um resultado robusto".
- 2 - Para o Brasil, o maior objetivo era garantir a manutenção do Protocolo de Kyoto, o primeiro tratado mundial para combater as mudanças climáticas. O protocolo, porém, só tem metas obrigatórias de corte de emissões para os países em processo de industrialização.
- 3 - A COP-17 obteve o acordo para a realização do segundo período de compromisso do protocolo - sua primeira fase acaba em dezembro de 2012. A duração do compromisso, porém, ainda não está definida. Sabe-se que ele começará em 2013, mas no documento ficaram duas datas de conclusão: 2017 (preferida pelos Estados-ilha) ou 2020 (como queriam a União Europeia e o Brasil).
- 4 - A comissária da União Europeia para Ação Climática citou como importante para o bom resultado o papel do Brasil (resultado da afirmação da ministra Izabella que o País aceitava um acordo com valor legal e metas obrigatórias).
- 5 - A próxima COP será realizada no Catar, país banhado pelo Mar Vermelho.

São afirmações corretas e pertinentes:

- A) 1, 2, 3 e 5, apenas.
- B) 2, 3 e 4, apenas.
- C) 1, 2, 3, 4 e 5.
- D) 1, 3 e 4, apenas.

11. Analise as afirmações sobre as notícias sobre o pré-sal veiculadas no mês de novembro de 2011.

<http://www.estadao.com.br/noticias/geral>,

- 1 - A Petrobras informou ter concluído a perfuração do poço Biguá, localizado no bloco BM-S-8, em águas ultraprofundas do pré-sal da Bacia de Santos, onde encontrou petróleo de boa qualidade, segundo comunicado divulgado ao mercado. A descoberta foi feita a 270km de distância da costa do Estado de São Paulo.
- 2 - Segundo a Petrobras, durante a perfuração foi identificada uma nova descoberta de petróleo de boa qualidade, comprovada por meio de amostragem de óleo de 25 graus API, por teste a cabo, em reservatórios do pré-sal situados a cerca de 5.380m de profundidade.
- 3 - O poço está localizado na área do Plano de Avaliação da Descoberta do 1-BRSA-532A-SPS (Bem-te-vi), a 21 km do pioneiro descobridor, a uma profundidade de lâmina d'água de 2.180m e nos próximos dias será iniciada a perfuração do terceiro poço na área, denominado Carcará.

São afirmações corretas:

- A) 1 e 2, apenas.
- B) 1 e 3, apenas.
- C) 2 e 3, apenas.
- D) 1, 2 e 3.

12. Quando pretendemos usar cabeçalho e rodapé num documento do Word 2003 devemos acessar o menu:

- A) Inserir.
- B) Exibir.
- C) Formatar.
- D) Editar.

13. Analisando a fórmula do Excel 2003: $SOMA=(B4+25)/SOMA(D5:F5)$ é correto afirmar que:

- A) o Excel somará os valores da célula B4+25 e em seguida somará os valores das células D5+F5 resultando no valor total da fórmula.
- B) o valor total da fórmula será o resultado da soma dos valores das células B4+B25 dividido pelo resultado da soma dos valores de todas as células entre D5 e F5.
- C) os parênteses na primeira parte da fórmula forçam o Excel a calcular B4+25 primeiro e, em seguida, dividir o resultado pela soma dos valores das células D5, E5 e F5.
- D) o total da fórmula será o resultado da soma do valor da célula B4+25 multiplicado pelo resultado da soma dos valores de todas as células entre D5 e F5.

14. O Internet Explorer 8 disponibiliza o recurso de Navegação inPrivate que permite ao usuário manter a sua privacidade mesmo quando está navegando em computadores utilizados por diversas pessoas. Esse tipo de navegação:

- 1 - não grava histórico de navegação, arquivos temporários de internet, dados de formulário, cookies e nomes de usuário ou senhas.
- 2 - requer apenas que se abra uma nova aba e selecione Navegar com o InPrivate, ou então selecionar essa mesma opção no Menu Segurança que fica no canto superior do browser.

Podemos concluir que:

- A) 1 e 2 estão incorretas.
- B) 1 e 2 estão corretas.
- C) apenas 1 está correta.
- D) apenas 2 está correta.

15. Analise as afirmações sobre correio eletrônico e assinale a que está incorreta.

- A) Quando você recebe uma mensagem de email, a maneira mais simples de encaminhá-la a outras pessoas é digitá-la novamente e preencher o campo dos destinatários.
- B) É possível enviar uma mensagem de email para qualquer pessoa que tenha um endereço de email. A mensagem chega à caixa de entrada do destinatário em segundos ou minutos, quer ele seja seu vizinho de porta ou more do outro lado do mundo.
- C) Além de mensagens de email simples contendo texto, você pode enviar praticamente qualquer tipo de arquivo em uma mensagem de email, como documentos, imagens e música. Um arquivo enviado em uma mensagem de email é denominado anexo.
- D) Você pode enviar uma mensagem de email para muitas pessoas ao mesmo tempo e os destinatários podem responder ao grupo inteiro, permitindo discussões em grupo.

16. Segundo a Constituição Federal, "... o dever do Estado com a educação será efetivado mediante a garantia de:

- I - Educação básica obrigatória e gratuita dos quatro aos dezessete anos de idade, assegurada para todos os que a ela não tiveram acesso na idade própria.
- II - Progressiva universalização do Ensino Médio gratuito.
- III - Atendimento educacional especializado aos portadores de deficiência, preferencialmente na rede regular de ensino.
- IV - Educação infantil, em creche e pré-escola, às crianças até 5 (cinco) anos de idade.
- V - Atendimento ao educando, em todas as etapas da educação básica, por meio de programas suplementares de material escolar, transporte, alimentação e assistência à saúde.

Marque, segundo a Constituição:

- A) se apenas os itens II, III e IV forem verdadeiros.
- B) se todos os itens forem verdadeiros.
- C) se apenas os itens I, III, IV e V forem verdadeiros.
- D) se apenas os itens I, II, III e IV forem verdadeiros.

17. A gestão democrática do ensino público municipal (Guarujá) atenderá às seguintes diretrizes:

- I - Participação da sociedade na formulação e execução da política educacional.
- II - Prestação de contas à sociedade sobre a utilização dos recursos destinados à educação.
- III - Instituição de Conselhos Deliberativos em todas as unidades escolares, formados por: estudantes, professores, pais e funcionários, com o objetivo de acompanhar o nível pedagógico da escola.

Nos termos de Lei Orgânica do Município do Guarujá, marque:

- A) se apenas a diretriz I for verdadeira
- B) se todas as diretrizes forem verdadeiras.
- C) se apenas as diretrizes I e II forem verdadeiras.
- D) se apenas as diretrizes I e III forem verdadeiras.

18. Para orientar as práticas educacionais em nosso país, respeitando as variedades curriculares já existentes em Estados e Municípios, ou em processo de elaboração, a CEB do CNE estabelece algumas diretrizes curriculares para o Ensino Fundamental e entre elas: "As escolas deverão estabelecer, como norteadores de suas ações pedagógicas":

- I - os Princípios Estéticos da Sensibilidade, da Criatividade, e da Diversidade de Manifestações Artísticas e Culturais.
- II - os Princípios Políticos da Autonomia, da Responsabilidade, da Solidariedade e do Respeito ao Bem Comum.
- III - os Princípios Éticos dos Direitos e Deveres da Cidadania, do exercício da criticidade e do respeito à Ordem Democrática.

Marque segundo o Parecer CEB/CNE nº 04/98:

- A) se apenas estiver correto o item II.
- B) se apenas estiver correto o item I.
- C) se estiverem corretos os itens I, II e III.
- D) se apenas estiverem corretos os itens I e III.

19. O grande desafio da educação brasileira hoje é garantir uma escola de qualidade e trajetórias escolares bem sucedidas para todos. Assim não há de se perder de vista as finalidades da educação básica que são definidas pela LDBEN como as de "desenvolver o educando, assegurar-lhe a formação comum indispensável para o exercício da cidadania e fornecer-lhe os meios para progredir no trabalho e em estudos posteriores".

Assim, as escolas de Ensino Fundamental do Sistema Estadual de Ensino (S. Paulo) devem concentrar seus esforços no sentido de:

- I - Zelar por medidas que assegurem o acesso ao saber a todos os alunos.
- II - Valorizar a participação e a inserção infantil e juvenil nas escolas.
- III - Envolver as famílias no trabalho escolar.
- IV - Promover controle social sobre a qualidade do atendimento educacional incluindo instrumentos de avaliação externa e garantindo a participação da comunidade escolar.

Segundo a Indicação CEE nº 8/2001, completam corretamente a proposta da questão os itens da alternativa:

- A) I, III e IV apenas.
- B) II e III apenas.
- C) I, II, III e IV.
- D) I, II e III apenas.

20. No início do processo de ampliação do Ensino Fundamental existem muitas perguntas sobre o currículo para as classes das crianças de seis anos de idade: – O que trabalhar? Qual o currículo? – O currículo dessa faixa etária será o mesmo do último ano da pré-escola? Respondendo as mais variadas perguntas:

- I - Os sistemas, nesse momento, terão a oportunidade de rever currículos, conteúdos, práticas pedagógicas não somente para o primeiro ano mas para todo o Ensino Fundamental.
- II - O conteúdo para essa criança de seis anos, será uma compilação dos conteúdos da pré-escola com os da primeira série.
- III - A criança de seis anos que vai para o Ensino Fundamental não pode ser vista como um sujeito a quem faltam conteúdos da educação infantil.
- IV - Essa criança não pode ser vista como um sujeito que será preparado, nesse primeiro ano, para os anos seguintes do fundamental.
- V - As crianças de seis anos precisam de uma proposta curricular que atenda a suas características, potencialidades e necessidades específicas.

Segundo o documento, Orientação para a inclusão da criança de seis anos, marque:

- A) se apenas forem verdadeiras as afirmações I, III, IV e V.
- B) se apenas forem verdadeiras as afirmações II, III, IV e V.
- C) se apenas forem verdadeiras as afirmações I, III e V.
- D) se todas as afirmações forem verdadeiras.

21. As Diretrizes Curriculares Nacionais para a Educação das Relações Étnico-Raciais e para o Ensino de História e Cultura Afro-Brasileira e Africanas constituem-se de orientações, princípios e fundamentos para o planejamento, execução e avaliação da Educação e têm por meta e objetivos:

- I - Promover a educação de cidadãos atuantes e conscientes no seio da sociedade multicultural, preconceituosa e elitista do Brasil.
- II - Buscar relações étnico-sociais positivas, rumo à construção de nação democrática.
- III - A divulgação e produção de conhecimentos, atitudes, posturas e valores que eduquem cidadãos quanto à pluralidade étnico-racial.
- IV - O reconhecimento e valorização da identidade, história e cultura dos afro-brasileiros.
- V - A garantia de reconhecimento e igualdade de valorização das raízes africanas da nação brasileira, ao lado das europeias, asiáticas e indígenas.

Marque, de acordo com a Res. 01/2001 (CNE):

- A) se forem verdadeiras apenas as afirmações I, II, III e IV.
- B) se forem verdadeiras apenas as afirmações I, II, III e V.
- C) se forem verdadeiras todas as afirmações.
- D) se forem verdadeiras apenas as afirmações II, III, IV e V.

22. As atividades e procedimentos relativos à educação especial no sistema de ensino do Estado de São Paulo devem obedecer (entre outras) às seguintes normas:

A educação especial:

- I - deve se iniciar o mais cedo possível e ser garantida em estreita relação com a família.
- II - deve assegurar, desde a Educação Infantil até o Ensino Médio, a formação básica indispensável ao educando.
- III - deve fornecer ao educando os meios para desenvolver atividades produtivas.
- IV - deve fornecer ao educando os meios para progredir no trabalho e em estudos posteriores.
- V - deve observar o cumprimento de um mínimo de 180 (cento e oitenta) dias letivos e 720 (setecentas e vinte) horas para o Ensino Fundamental e Médio e estipular um mínimo de dias letivos para creches e pré-escolas.

De acordo com a Deliberação CEE 05/00, marque:

- A) se apenas os itens I, II, IV e V forem verdadeiros.
- B) se apenas os itens II, III, IV e V forem verdadeiros.
- C) se todos os itens forem verdadeiros.
- D) se apenas os itens I, II, III e IV forem verdadeiros.

23. Analise as afirmações abaixo.

- I - A legislação brasileira (Constituição, ECA e LDBEN) posiciona-se favoravelmente ao atendimento dos alunos com necessidades especiais nas classes comuns das escolas em todos os níveis de ensino.
- II - Um apoio pedagógico diversificado na rede de ensino comum é considerado um mediador da aprendizagem e do desenvolvimento desses alunos mais eficiente do que um trabalho segregado.
- III - Os conhecimentos, habilidades e valores a serem alcançados pelos alunos com necessidades especiais incluídos nas turmas do ensino comum devem ser os mesmos propostos para os seus colegas.
- IV - A avaliação dos alunos com necessidades educacionais especiais atendidos em classes comuns, nas classes especiais e nas escolas especiais deverá ser contínua, com prevalência dos aspectos quantitativos sobre os qualitativos.

Nos termos da Indicação CEE 12/99 CEF/CEM, marque:

- A) se apenas as afirmações I, II e IV estiverem corretas.
- B) se apenas as afirmações I, III e IV estiverem corretas.
- C) se apenas as afirmações I, II e III estiverem corretas.
- D) se todas as afirmações estiverem corretas.

24. Por Educação Especial, modalidade de educação escolar – conforme especificado na LDBEN, entende-se um processo educacional definido em uma proposta pedagógica, assegurando um conjunto de recursos e serviços educacionais especiais, organizados institucionalmente para: apoiar, complementar, suplementar e, em alguns casos, substituir os serviços educacionais comuns de modo a garantir a educação escolar dos que apresentam necessidades educacionais especiais em todos os níveis, etapas e modalidades da educação.

Analise as acepções para os termos assinalados:

- I - Apoiar “prestar auxílio ao professor e ao aluno no processo de ensino e aprendizagem, tanto nas classes comuns quanto em salas de recurso”.
- II - Complementar “ampliar, aprofundar ou enriquecer a base nacional comum”.
- III - Suplementar “completar o currículo para viabilizar o acesso à base nacional comum”.
- IV - Substituir “colocar no lugar de”. Compreende o atendimento educacional especializado realizado em classes especiais, escolas especiais, classes hospitalares e atendimento domiciliar.

Nos termos do Parecer CNE/CEB 17/2001, estão corretos os itens da alternativa:

- A) I, II e IV, apenas.
- B) I e IV, apenas.
- C) I, II e III, apenas.
- D) I, II, III e IV.

25. Para alcançar os objetivos da Convenção Interamericana para a Eliminação de Todas as Formas de Discriminação contra pessoas portadoras de deficiência, os “Estados Partes” comprometeram-se a tomar medidas de caráter legislativo, social, educacional, trabalhista, que sejam necessárias para eliminar a discriminação citada e comprometeram-se ainda a trabalhar prioritariamente nas seguintes áreas:

- I - Prevenção de todas as formas de deficiência preveníveis.
- II - Detecção e intervenção precoce, tratamento, reabilitação, educação, formação ocupacional e prestação de serviços completos para garantir melhor nível de independência e qualidade de vida.
- III - Sensibilização da população por meio de campanhas de educação para eliminar preconceitos, estereótipos que atentam contra o direito das pessoas a serem iguais.

De acordo com a citada Convenção, completam corretamente a proposta os itens da alternativa:

- A) I e II, apenas.
- B) II e III, apenas.
- C) I, II e III.
- D) I e III, apenas.

26. A criança de seis anos está numa fase em que já não é uma criança pequena e não é ainda uma criança “grande”. Do ponto de vista escolar espera-se:

- I - que a criança de seis anos possa ser iniciada no processo formal de alfabetização.
- II - que possua condições de compreender e sistematizar determinados conhecimentos.
- III - que tenha condições de permanecer mais tempo concentrada em uma atividade.
- IV - que tenha certa autonomia em relação à satisfação de necessidades básicas e à convivência social.

Marque, segundo o documento “orientações para inclusão da criança de seis anos”:

- A) se apenas as afirmações I, III e IV estiverem corretas.
- B) se apenas as afirmações I, II e IV estiverem corretas.
- C) se todas as afirmações estiverem corretas.
- D) Se apenas as afirmações II, III e IV estiverem corretas.

27. Complete a lacuna com a alternativa que mais convier.

As minorias linguísticas no Brasil são uma realidade pouco conhecida e não necessariamente se associam a minorias socioeconômicas, definindo-se mais como grupos não-falantes de Língua Portuguesa no território brasileiro.

A Lei n.º 9.394/96 diz: “O Ensino Fundamental regular será ministrado em Língua Portuguesa, assegurada às comunidades _____ a utilização de suas línguas maternas e processos próprios de aprendizagem.”

- A) indígenas (apenas)
- B) não-falantes de Língua Portuguesa (todas)
- C) constituídas por minorias linguísticas
- D) que preservam suas próprias tradições e culturas

28. Ao planejar suas propostas pedagógicas, seja a partir dos PCNs, seja a partir de outras propostas curriculares, os professores e equipes docentes, em cada escola, buscarão as correlações entre os conteúdos das áreas de conhecimento e o universo de valores e modos de vida de seus alunos.

Seria, então, esclarecedor explicitar alguns conceitos para melhor compreensão e entre eles o conceito de currículo, o qual envolve outros, quais sejam:

- I - currículo formal (planos e propostas pedagógicas).
- II - currículo legal (leis, decretos, pareceres, deliberações, resoluções etc.).
- III - currículo em ação (aquilo que efetivamente acontece nas salas de aula e nas escolas).
- IV - currículo oculto (o não dito, aquilo que tanto os alunos quanto professores trazem agregado de sentidos próprios).

Marque, segundo o Parecer CNE/CEB n.º 04/98:

- A) se apenas a afirmação II for falsa.
- B) se apenas a afirmação III for falsa.
- C) se apenas a afirmação IV for falsa.
- D) se nenhuma afirmação for falsa.

29. O regime de progressão continuada no Ensino Fundamental pode ser organizado em um ou mais ciclos e considera que todos os recursos disponíveis devem ser providos para levar o aluno ao aproveitamento do processo educacional, ou seja:

- I - constantes avaliações (institucionais ou de aprendizagem).
- II - atividades de reforço e de recuperação (paralelas, contínuas e intensivas).
- III - meios alternativos de adaptação, reclassificação, reconhecimento, aproveitamento e aceleração de estudos.
- IV - indicadores de desempenho.
- V - controle de frequência dos alunos.
- VI - dispositivos regimentais adequados.

Marque, segundo a Indicação CEE n.º 08/2001:

- A) se apenas os itens I, II e V forem verdadeiros.
- B) se todos os itens forem verdadeiros.
- C) se apenas os itens I, II, III e V forem verdadeiros.
- D) se apenas os itens II, III e V forem verdadeiros.

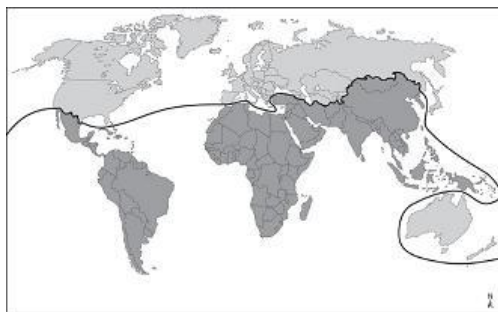
30. A educação profissional é um direito do aluno com necessidades educacionais especiais e visa à sua integração produtiva e cidadã na vida em sociedade.
Deve efetivar-se por cursos oferecidos pelas redes regulares de ensino públicas ou privadas, por meio de adequações e apoios.

Essas adequações e apoios efetivam-se por meio de:

- I - flexibilização e adaptações dos recursos instrucionais.
- II - capacitação de recursos humanos.
- III - eliminação de barreiras atitudinais, arquitetônicas, curriculares, etc.
- IV - encaminhamento para o mundo do trabalho e acompanhamento de egressos.

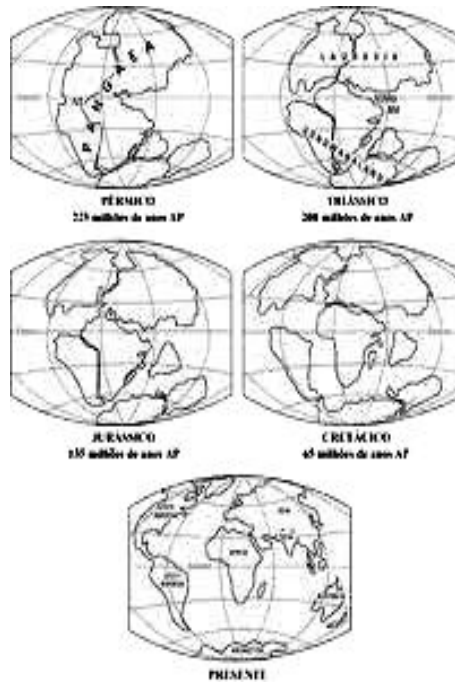
Marque, segundo a Resolução CNE/CEB n.º 17/2001:

- A) se todas as afirmações forem verdadeiras.
 - B) se apenas a afirmação I for falsa.
 - C) se apenas as afirmações I e III forem falsas.
 - D) se apenas as afirmações III e IV forem falsas.
31. O mapa abaixo representa uma nova visão do mundo após a queda da bipolaridade americano-soviética durante a Guerra Fria. No período da referida bipolaridade, o mundo era dividido em oeste capitalista e leste socialista, representados, respectivamente por Estados Unidos e a extinta União Soviética. A nova visão, representada no mapa em questão, no pós Guerra Fria, pode ser interpretado como:



- A) Norte Capitalista X Sul Socialista.
 - B) Norte Cristão X Sul Islâmico.
 - C) Norte Rico X Sul Pobre.
 - D) Norte Agrário X Sul Industrial.
32. Na década de 70, em meio a uma crise de capital, o modelo Toyotista espalhou-se pelo mundo. A ideia principal era produzir somente o necessário, reduzindo os estoques, produzindo em pequenos lotes, com a máxima qualidade, trocando a padronização pela diversificação e produtividade. As relações de trabalho também foram modificadas, pois agora o trabalhador deveria ser mais qualificado, participativo e polivalente, ou seja, deveria estar apto a trabalhar em mais de uma função. Quanto às características que marcam o Toyotismo, assinale a alternativa que não condiz a esse modelo econômico.
- A) Grande automatização e uso de mão de obra extremamente qualificada.
 - B) Flexibilização produtiva.
 - C) Produção Just in Time.
 - D) Produção direcionada à manutenção de grandes estoques.
33. A Revolução Técnico-científico-informacional ou Terceira Revolução Industrial entrou em vigor na segunda metade do século XX, principalmente a partir da década de 1970, quando houve uma série de descobertas e evoluções no campo tecnológico. Das evoluções tecnológicas em questão, podemos apontar o surgimento:
- A) dos motores a combustão.
 - B) da máquina a vapor.
 - C) da informática, robótica e a microeletrônica.
 - D) das máquinas movidas à eletricidade.

34. As imagens abaixo representam a ideia de movimentação da crosta terrestre que foi responsável pela separação dos continentes, segundo uma teoria elaborada no início do século XX. Aponte a alternativa, que corretamente apresenta o nome da teoria e seu respectivo autor.



- A) Teoria da Tectônica das Placas/ Alfred Wegener.
 B) Teoria da Deriva Continental/ Alfred Wegener.
 C) Teoria da Deriva Continental/ Jason Morgan.
 D) Teoria da Tectônica das Placas/ Arno Peters.
35. Observa-se pelas linhas tracejadas da imagem abaixo, a existência de uma enorme área denominada Vale do Rift (Rift Valley), que abrange parte do Oriente Médio e parte das costas orientais da África. Em relação a essa área, podemos apontar que:



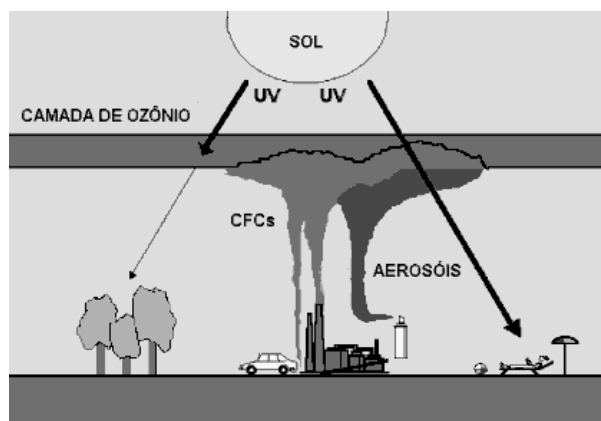
- A) é um vale formado pela forte ação de agentes exógenos, principalmente através da erosão pluvial.
 B) tem por característica um clima extremamente árido, com terrenos pedregulhosos (ergs) e arenosos (dunas), onde a erosão eólica é a principal responsável pelo modelado do referido vale.
 C) a estabilidade geológica é a sua principal característica, sendo uma região historicamente livre de qualquer ação de agentes endógenos.
 D) resulta de um complexo de falhas tectônicas, que surgiram através da separação das placas africana e arábica.

36. Analise os conceitos abaixo.

- I - Áreas extensas planas em que há mais sedimentação que erosão. Áreas chatas e mais baixas, geralmente, no nível do mar. Porém, podem ficar em terras altas, como as várzeas de um rio num planalto.
- II - Áreas situadas abaixo do nível do mar ou das outras superfícies planas.
- III - Terras mais altas que o nível do mar, razoavelmente planas delimitadas por escarpas íngremes. Há mais erosão que sedimentação.

Assinale abaixo, a alternativa que apresenta as unidades de relevo corretas, conforme os conceitos dos números I, II e III, respectivamente.

- A) Planície, Depressão e Planalto.
 - B) Planalto, Depressão e Planície.
 - C) Planície, Depressão e Montanha.
 - D) Depressão, Planície e Planalto.
37. A destruição da camada de Ozônio é um dos graves impactos ambientais causados pela sociedade industrial moderna. O uso do gás CFC (clorofluorcarbono) é responsável por reduzir o Ozônio, localizado na estratosfera; a redução do referido gás pode trazer graves danos à manutenção da vida na Terra. Diante do problema em questão, um documento com adesão de cerca de 150 países entrou em vigor na década de 1990, com o objetivo de reduzir o uso do gás CFC, e assim reduzir as agressões à camada de Ozônio, que segundo cientistas da ONU, a suspensão do uso do CFC fará com que o buraco formado possa ser naturalmente reconstruído até o final do século XXI. O documento em questão é chamado de:

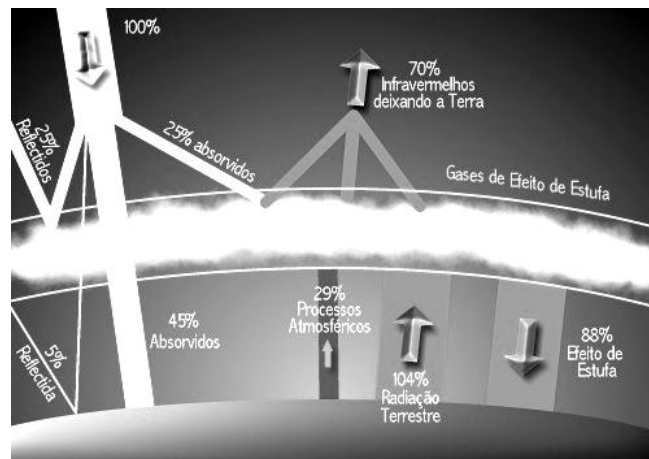


- A) Protocolo de Montreal.
- B) Protocolo de Kyoto .
- C) Tratado de Roma.
- D) Tratado de Maastrich.

38. A inversão térmica é um fenômeno atmosférico muito comum nos grandes centros urbanos industrializados, sobretudo naqueles localizados em áreas cercadas por serras ou montanhas. Esse processo ocorre quando o ar frio (mais denso) é impedido de circular por uma camada de ar quente (menos denso), provocando uma alteração na temperatura. Outro agravante da inversão térmica é que a camada de ar fria fica retida nas regiões próximas à superfície terrestre com uma grande concentração de poluentes. Sendo assim, a dispersão desses poluentes fica extremamente prejudicada, formando uma camada de cor cinza, oriunda dos gases emitidos pelas indústrias, automóveis, etc. Esse fenômeno se intensifica durante o inverno, pois nessa época do ano, em virtude da perda de calor, o ar próximo à superfície fica mais frio que o da camada superior, influenciando diretamente na sua movimentação. O índice pluviométrico (chuvas) também é menor durante o inverno, fato que dificulta a dispersão dos gases poluentes. Podemos apontar que, as principais consequências desse fenômeno são:

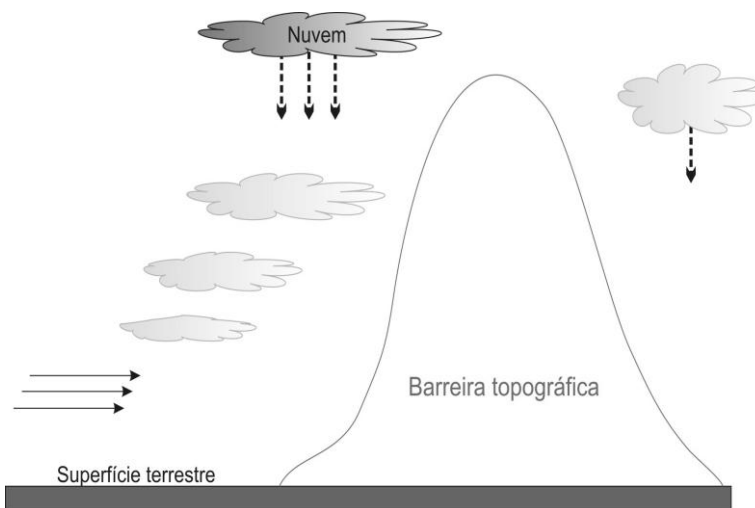


- A) deslizamentos de terras, principalmente em áreas de morros ocupados.
 B) enchentes e contaminação dos mananciais.
 C) doenças respiratórias, irritação nos olhos e intoxicações.
 D) aumento da temperatura em regiões centrais de grandes cidades.
39. O esquema abaixo aponta um grave impacto ambiental que se estabeleceu através da ação antrópica, principalmente após a Primeira Revolução Industrial. O impacto ambiental em questão é (são):



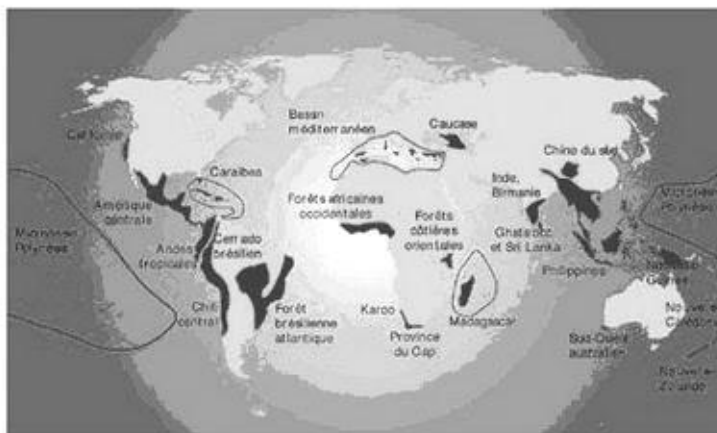
- A) as Chuva Ácidas.
 B) as Ilhas de Calor.
 C) a Inversão térmica.
 D) o Aquecimento Global.
40. O Keynesianismo, teoria criada pelo economista inglês John Maynard Keynes, pode ser caracterizada:
- A) pelo comando econômico e social através do estabelecimento da livre concorrência, controlado pela iniciativa privada.
 B) pela intervenção do Estado na economia, na sociedade e em outras áreas que se julgar necessário.
 C) pelo controle econômico através da iniciativa privada, porém, com regulação de juros e políticas monetárias por parte do Estado.
 D) pela fragmentação do trabalho industrial, onde cada trabalhador passou a exercer uma atividade específica. A organização foi hierarquizada e sistematizada, e o tempo de produção passou a ser cronometrado.

41. Abaixo, a imagem mostra o esquema de uma chuva que é denominada orográfica.



Podemos dizer que esse tipo de chuva tem por característica:

- A) A ocorrência em dias com intensa evaporação, a massa de ar realiza um movimento vertical, alcançando altitudes mais elevadas na atmosfera, onde se resfria, gerando a precipitação.
 - B) A ocorrência quando há o choque entre uma massa de ar frio e outra de ar quente e úmido. Esse contato provoca a condensação da massa quente e úmida, gerando chuvas.
 - C) A ocorrência quando massas úmidas encontram uma barreira natural do relevo, como um planalto ou uma montanha. As nuvens se elevam, alcançando uma porção da camada atmosférica com menores temperaturas, onde se condensarão, assim causando precipitação.
 - D) Sua formação em nuvens do tipo cumulonimbus, que se desenvolvem verticalmente e atingem grandes altitudes. Gotículas de água adentram essas nuvens e, em seguida são congeladas em razão das condições de baixas temperaturas, geralmente abaixo de 0° C.
42. O mapa abaixo mostra a presença de Hotspots, presentes em todos os continentes, exceto a Antártida. O termo Hotspot foi criado na década de 1980, e tem por objetivo apontar:

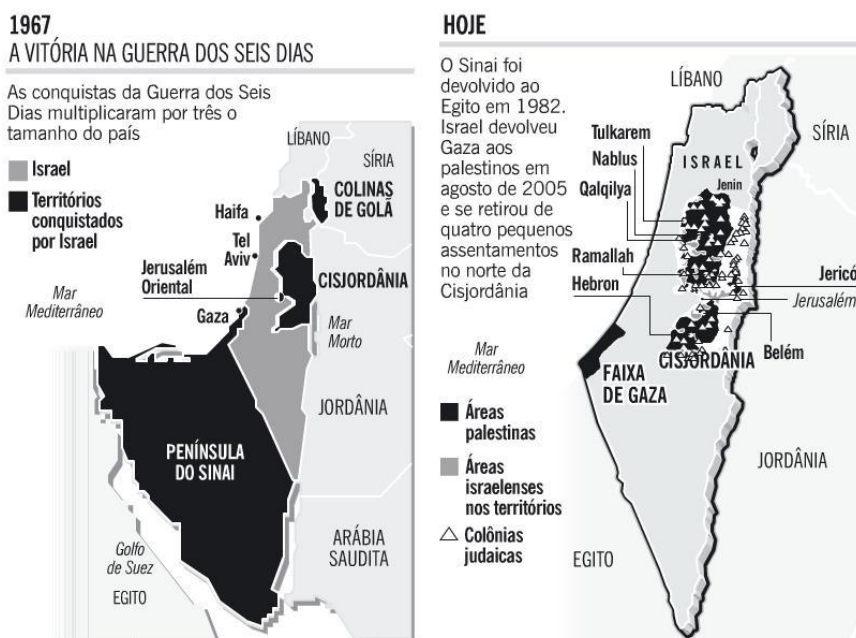


- A) os locais do planeta com grande biodiversidade, mas com grande ameaça de extinção. Para ser considerado um hotspot, a região tem que possuir mais de 1500 espécies endêmicas e mais de 75% da vegetação destruída.
- B) os pontos de mais elevadas temperaturas do mundo, como, por exemplo, os desertos quentes.
- C) as áreas onde existem as maiores quantidades anuais de erupções vulcânicas no planeta.
- D) os pontos onde existem no planeta grandes explorações de petróleo, onde o risco de vazamentos no mar é muito grande.

43. A dissolução da Tchecoslováquia ou Checoslováquia foi um processo histórico que pôs fim à antiga Tchecoslováquia e criou dois novos países, a República Tcheca e a Eslováquia, a partir de 1º de janeiro de 1993. Sua divisão ocorreu após uma série de protestos e reivindicações populares, mas sem nenhum conflito armado. O movimento que possibilitou a divisão da antiga Tchecoslováquia foi chamado de:



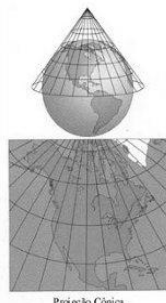
- A) Revolução Vermelha.
 B) Revolução Árabe.
 C) Revolução Direitista.
 D) Revolução de Veludo.
44. O Mercado Comum do Sul (Mercosul) foi criado em 26/03/1991 com a assinatura do Tratado de Assunção no Paraguai. Os membros deste importante bloco econômico da América do Sul são os seguintes países: Brasil, Argentina, Paraguai e Uruguai. A aprovação da entrada da Venezuela está na dependência de aprovação do Congresso Nacional do Paraguai, pois os congressos nacionais do Brasil, Argentina e Uruguai já aprovaram a entrada da Venezuela no Mercosul. Quanto ao Mercosul, o atual estágio em que esse bloco econômico se encontra é de:
- A) uma Área de Livre Comércio.
 B) uma União Política.
 C) uma União Monetária.
 D) uma União Aduaneira.
45. Em 2005, de forma unilateral, os israelenses entregaram a Faixa de Gaza para os palestinos. Os palestinos, por sua vez, passaram a controlar a referida região, porém, duas facções passaram a rivalizar diante da possibilidade do comando de Gaza. As duas facções palestinas em questão são:



- A) o Hezbollah e o Talebã.
 B) o Setembro Negro e os Mujahedins.
 C) o Hamas e o Fatah.
 D) o Janjaweed e a OLP.

46. Projeção cônica é um sistema de projeção gráfica que estabelece uma relação ordenada entre os pontos da superfície curva do globo terrestre e os pontos refletidos de um corpo geométrico cônico. Na projeção cônica, ao colocar os pontos tangencialmente ao da projeção esférica, faz-se necessário situar o vértice paralelo à da linha que une os dois hemisférios. Apesar da forma resultante ser de um polo apenas, os cartógrafos geralmente utilizam esta projeção para estudos de países e continentes. Para que se tenha exatidão em algum ponto da projeção, todas as outras áreas serão distorcidas, pois é impossível transformar um objeto esférico (Terra) em plano (mapa), sem que haja distorções. Nesse sentido, a projeção cônica vai privilegiar um ponto do planeta com exatidão das informações contidas, que é representada:

Projeção Cônica



Fonte: <http://www.geomundo.com.br>

- A) pelas áreas de baixas latitudes ou zona Intertropical.
B) pelas áreas de médias latitudes ou zonas temperadas.
C) pelas áreas de altas latitudes ou zonas polares.
D) pelas áreas localizadas entre os polos e os trópicos, nos dois hemisférios ao mesmo tempo.
47. A projeção cartográfica abaixo, mostra uma deformação típica para apontar uma variável a ser analisada em relação a países, continentes, e até mesmo o mundo. A variável em questão mostra a superioridade tecnológica e econômica dos países destacados em relação ao resto do planeta. Esse tipo de projeção é denominado:



- A) Anamorfose.
B) Descontínua.
C) Afilática.
D) Plana.
48. O termo desenvolvimento sustentável foi utilizado pela primeira vez, em 1983, por ocasião da Comissão Mundial sobre Meio Ambiente e Desenvolvimento, criada pela ONU. Presidida pela então primeira-ministra da Noruega, Gro Harlem Brundtland, essa comissão propôs que o desenvolvimento econômico fosse integrado à questão ambiental, estabelecendo-se, assim, o conceito de “desenvolvimento sustentável”. Segundo a CMMA, o desenvolvimento sustentável pode ser entendido como “Atender às necessidades da atual geração, sem comprometer a capacidade das futuras gerações em prover suas próprias demandas”. Em 2012, vários países do mundo se reunirão para debater a importância do equilíbrio e manutenção ambiental diante da implantação do desenvolvimento sustentável de forma cada vez mais eficaz no planeta. Esse encontro internacional ocorrerá:
- A) No Japão, e está sendo divulgado como Protocolo de Kyoto II.
B) No Brasil, e está sendo divulgado como Rio + 20.
C) Na China, e está sendo divulgado como Tratado de Xangai.
D) No Canadá, e está sendo divulgado como Tratado de Toronto.

49. O Determinismo Geográfico é um conceito sobre as influências que as condições naturais exerceriam sobre a humanidade, sustentando a tese de que o meio natural seria uma entidade definidora da fisiologia e da psicologia humanas, ou seja, o homem seria muito marcado pela natureza que o cerca. O geógrafo responsável por defender tal conceito foi:
- A) Heródoto.
 - B) Paul Vidal de La Blache.
 - C) Friedrich Ratzel.
 - D) René Descartes.
50. A Educação Básica é o caminho para assegurar a todos os brasileiros a formação comum indispensável para o exercício da cidadania e fornecer-lhes os meios para progredir no trabalho e em estudos posteriores. Os dois principais documentos norteadores da Educação Básica são:
- A) A Lei de Diretrizes e Bases da Educação Nacional (LDB) e o Plano Nacional de Educação (PNE).
 - B) O Projeto Político Pedagógico (PPP) e o Plano PROEDUQUE.
 - C) Plano LUAR e o Projeto TECLEC.
 - D) Plano EDUTEC e Plano PROEDUQUE.