

PORTUGUÊS

Leia o texto abaixo para as questões de 01 a 05.

Vidinha Redonda

Esperma, óvulo, embrião, parto. Bebê, choro, sobressalto, cocô, xixi, fralda, leite, colo, sono. Doença, vômito, pavor, pediatra, remédio, preço. Murmúrio, passos, fala. Escola, lancheira, material, professora. Curiosidade, descoberta. Crescimento, desenvolvimento, pêlos pubianos, seios, curvas, menstruação, modess, cólica, atroveran, adolescência. Primeiro beijo, paixão, shopping center. Batom, esmalte, rinsagem, depilação. Namorado, pressão, intimidade, culpa. Festa, pai, ciúme, relógio, motel, desculpa, dissimulação. Faculdade, trabalho, consciência, cansaço, sossego, idade. Noivado, loja, fogão, geladeira, cama, mesa, banho, aliança, chá-de-panela. Cartório, igreja, núpcias. Sexo, trabalho, sexo, trabalho, sexo, esperma, óvulo, licença, parto.

Kátia da Costa Aguiar

01. Com base no texto acima, é correto afirmar que:

- A) apesar de muitas informações fragmentadas, trata-se da história de um adolescente.
- B) utiliza-se apenas de léxicos nominais e verbais.
- C) mesmo implícito, é possível identificar o gênero do agente do discurso.
- D) é incoerente por apresentar ausência de elementos coesivos.
- E) o mesmo apresenta redundância nas flexões verbais.

02. Sobre o texto “Vidinha Redonda” é possível concluir que:

- A) o mesmo é repleto de orações subordinadas substantivas.
- B) há registro de operadores argumentativos.
- C) utiliza-se de uma variante linguística regional.
- D) o mesmo é repleto de enunciados nominais.
- E) não há registro de peculiaridade vocabular.

03. Entre as palavras abaixo extraídas do texto, assinale a ÚNICA utilizada no texto em processo metonímico.

- A) Óvulo
- B) Modess
- C) Choro
- D) Fralda
- E) Noivado

04. Com base no texto, assinale a alternativa que caracteriza um período de maturidade no indivíduo.

- A) Esperma, óvulo, embrião, parto.
- B) Doença, vômito, pavor, pediatra, remédio, preço.
- C) Curiosidade, descoberta.
- D) Primeiro beijo, paixão, shopping center.
- E) Faculdade, trabalho, consciência, cansaço, sossego, idade.

05. A estrutura semântica do texto apresenta um caráter:

- A) conciso
- B) contraditório
- C) fragmentário
- D) redundante
- E) incoerente

Considere a charge abaixo para responder as questões 06 e 07.

Português exemplar



www.humorgasmo.com / Seu canal de humor na Web. Ou quase isso.

06. No terceiro quadrinho é possível concluir que ocorre a predominância da função:

- A) conativa
- B) metalinguística
- C) referencial
- D) fática
- E) poética

07. Quanto ao aspecto ortográfico, ocorre inadequação:

- A) no discurso da aluna e do professor;
- B) no discurso do professor;
- C) no discurso da aluna, apenas no primeiro quadrinho;
- D) no discurso da aluna, apenas no quarto quadrinho;
- E) nenhuma das alternativas.

08. Assinale a alternativa abaixo em que todas as palavras estão acentuadas corretamente.

- A) Vírus, cáries, infância
- B) Médico, órgão, Lápis
- C) enjôo, chapéu, Album
- D) Odontologo, céu, saúde
- E) Imã, armazém, mármore

09. Entre as alternativas abaixo, assinale a ÚNICA que apresenta sentido denotativo.

- A) Andressa, sem dúvida, é uma gatinha.
- B) Estas afirmações podem ter mais de um sentido.
- C) João se arriscando desse jeito entrará pelo ralo.
- D) Toda vez que Maria vem ao colégio sempre tem uma pedra no caminho.
- E) Alda está na flor da idade.

10. Entre as alternativas abaixo identifique a ÚNICA que apresenta oração com sujeito simples.

- A) Choveu muito no último verão.
- B) Bois, vacas e bezerros andavam misturados.
- C) Vejo que, realmente, estão aprendendo.
- D) Telefonaram pra você.
- E) Isso é muito bom.

11. Analise o que está escrito no quadro abaixo:

"ÊTA VIDA BESTA, MEU DEUS!"

Do ponto de vista sintático o que está escrito no quadro consiste de:

- A) período composto
- B) período simples
- C) oração principal
- D) frase
- E) oração subordinada

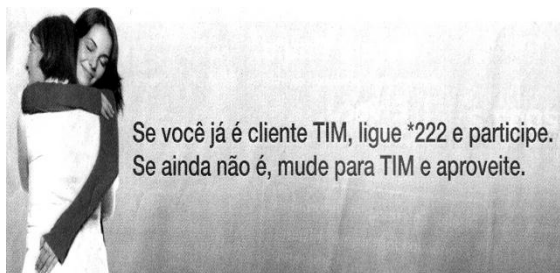
12. Considere a imagem abaixo:



Com base no texto acima, seria apropriado, portanto, afirmar:

- A) Os meios de comunicação estão cada vez mais desprezando a linguagem correta, usando gírias e outros vícios de linguagem.
- B) Expressões como LEVE PRA CASA e O DOBRO DE SABOR, são inadmissíveis em textos de divulgação.
- C) Os usos da língua não estão estreitamente ligados a sua função social.
- D) O uso de termos coloquiais pela mídia contribui para as deformações constantes que se observam na língua portuguesa.
- E) Na Expressão O DOBRO DE SABOR compreende-se em uma estrutura carregada de imagem metafórica.

13. Considere a peça publicitária abaixo:



Sobre os estudos das Funções da Linguagem, a presença imprescindível do vocativo VOCÊ e o predomínio de verbos no imperativo, como, PARTICIPE, MUDE e APROVEITE, reforçam a tese de que o texto acima consiste de uma função:

- A) Metalinguística
- B) Poética

- C) Informativa
- D) Expressiva
- E) Conativa

14. Assinale a ÚNICA alternativa abaixo em que todas as palavras estão separadas adequadamente.

- A) es-pé-ci-e, a-mei-xas, ja-ce-gu-ai
- B) bar-bá-rie, mi-gu-an-te, au-sên-cia
- C) ne-vral-gi-a, tungs-ta-to, pers-péc-ti-co
- D) jiu-ji-tsu, plu-vi-o-mé-tri-co, ba-la-cla-va
- E) E), pneu, ce-pti-cis-mo, ci-vís-ti-co

15. Ainda sobre adequações ortográficas, assinale a ÚNICA alternativa em que todas as palavras estão grafadas conforme a norma padrão.

- A) puleiro, enxaguar, costume
- B) paletó, ponteagudo, requisito
- C) xadrez, acreano, analisar
- D) ganso, incenso, insosso
- E) flecha, frizar, camurça

16. O masculino subsequente, hierarquicamente, da palavra "MAMÃE" é:

- A) vovô;
- B) titio;
- C) papai;
- D) padrinho;
- E) bisavô.

Leia o texto abaixo e responda as questões de 17 à 20.

No Shopping...

Um casal foi às compras no shopping, quando de repente, a mulher percebeu que o marido tinha desaparecido.

Irada, ligou para o celular do marido e gritou:

– "Onde diabos você se meteu?"

– "Querida, lembra-se da joalheria onde você viu o colar de diamantes e se apaixonou por ele, e que eu não tinha dinheiro no momento e disse: "Baby, será seu um dia."?"

Um pouco envergonhada e com um sorriso de orelha a orelha, olhos brilhantes... ela respondeu:

– "Sim, meu amor. Claro que me lembro. "

– "Bem, eu estou no bar ...ao lado daquela joalheria!"

(<http://emailcuriosos.blogspot.com.br/>)

17. Após a leitura do texto, é possível concluir que:

- A) a mulher demonstrou alívio ao conseguir falar com o marido pelo telefone.
- B) a mulher agiu com cordialidade ao fazer a pergunta onde o marido se encontrava.
- C) a mulher mudou seu tom de voz, imaginando ganhar o colar de diamantes naquele momento.
- D) a mulher ganhou o colar de diamantes, o qual foi referenciado.
- E) o marido se encontrava em uma joalheria próximo ao shopping.

18. Sobre o texto acima, também é possível concluir que:

- A) a joalheria foi utilizada pelo homem como referência à localização.
- B) a mulher, após a primeira fala do marido, manteve-se rude em suas palavras.
- C) o marido estava tomando um refrigerante com os amigos.
- D) a mulher estava na companhia de algumas amigas.
- E) o marido utilizou do vocativo mulher para fazer referência à localização.

19. De acordo com o texto, podemos inferir que a palavra “BRILHANTES”, faz referência a:


- A) shopping.
- B) olhos.
- C) diamantes.
- D) colar.
- E) mulher.

20. A palavra “IRADA” que aparece na linha 3, está funcionando, de forma contextual, como:

- A) um adjetivo para classificar o estado da mulher;
- B) um adjetivo para classificar o estado do homem;
- C) um pronome para se referir a mulher;
- D) um pronome para se referir ao homem;
- E) um substantivo que está fazendo referencia aos dois, tanto o marido quando a mulher.

MATEMÁTICA

Observe a imagem e responda as questões 21, 22 e 23.



<http://cenfopmaticasignificativa.wordpress.com/2010/02/09/charges-matematicas/charge-1/>

21. A conta que aparece no quadro, colocada pela professora para o aluno responder, é:

- A) uma adição;
- B) uma subtração;
- C) uma multiplicação;
- D) uma divisão;
- E) nenhuma das alternativas.

22. Chegando-se a conclusão do tipo de operação utilizada no quadro da professora, o resultado da operação é:

- A) 23.450.600
- B) 23.550.700
- C) 24.562.700
- D) 24.562.720
- E) 24.500.720

23. A quantia R\$ 24.555.000, 00 por extenso se escreve:

- A) vinte e quatro mil, quinhentos e cinquenta reais;
- B) vinte e quatro mil, quinhentos e cinquenta e cinco mil reais;

- C) vinte e quatro milhões, quinhentos e cinquenta mil reais
- D) vinte e quatro milhões, quinhentos e cinquenta e cinco mil reais;
- E) vinte e quatro bilhões, quinhentos e cinquenta e cinco milhões reais.

Com a charge abaixo responda as questões 24 e 25.



<http://www.geometras.com.br/?p=814>

24. O numeral 10 é classificado como:

- A) ordinal;
- B) cardinal;
- C) coletivo;
- D) fracionário;
- E) partitivo.

25. O numeral 10 por extenso fica:

- A) des
- B) deis
- C) dex
- D) dez
- E) deiz

26. Na ordem da imagem abaixo as formas geométricas são:



- A) quadrado, retângulo, círculo e triângulo;
- B) quadrado, triângulo, retângulo e círculo;
- C) retângulo, quadrado, círculo e triângulo;
- D) retângulo, círculo, triângulo e quadrado;
- E) quadrado, círculo, retângulo e triângulo.

27. No sistema métrico decimal a sigla “dm” corresponde ao:

- A) milímetro.
- B) centímetro;
- C) metro;
- D) decímetro;
- E) decâmetro.

28. Observando a imagem abaixo, podemos concluir que foram:



<http://alcehistoria.spaceblog.com.br/1280531/DESCOBRINDO-O-SEculo/>

- A) 905 prisioneiros;
- B) 1405 prisioneiros;
- C) 1500 prisioneiros;
- D) 1555 prisioneiros;
- E) 5150 prisioneiros.

29. O algarismo romano abaixo em indo arábico, corresponde à:



<http://www.educacional.com.br/alunos58/alunos58.asp>

- A) 10
- B) 11
- C) 12
- D) 13
- E) 15

30. Meu pai João, infelizmente faleceu. Contudo, ele deixou uma quantia no banco que será repartido entre os oito filhos. Não é muito, sabemos disso, entretanto, dará para pagar algumas continhas. Ele deixou, exatamente, R\$ 100.000,00. Sendo assim, quanto irá receber cada um de nós?

- A) 12.500,00
- B) 12.000,00
- C) 13.500,00
- D) 12.800,00
- E) 14.500,00

CONHECIMENTOS GERAIS

31. Historicamente, a primeira construção erguida no município de Atalaia foi:

- A) a Sede da Prefeitura;
- B) a Casa Paroquial da Igreja;
- C) a Usina de Cana-De-Açúcar da Fazenda Lajes;
- D) a Capela de São José;
- E) o Museu do Banguê

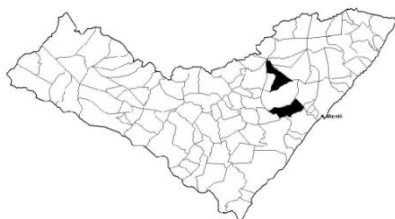
32. Entre os meios de comunicação abaixo, assinale o ÚNICO que não existe contato de reciprocidade.

- A) Celular
- B) Rádio Amador
- C) E-mail
- D) MSN
- E) Radiodifusora

33. O prefeito constitucional de um município exerce um cargo público:

- A) efetivo
- B) comissionado
- C) eletivo
- D) contratado
- E) jurídico

34. Considerando a imagem do mapa do estado de Alagoas abaixo, assinale a alternativa que apresenta os dois municípios grifados no mapa que fazem divisa com Atalaia.



- A) Pindoba ao Norte e Pilar ao Sul;
- B) Capela ao Norte e Boca da Mata ao Sul;
- C) Rio Largo ao Norte e Pilar ao Sul;
- D) Capela ao Norte e Pilar ao Sul;
- E) Rio Largo ao Norte e Maribondo ao Sul.

35. No Brasil, comemora-se no dia 07 de setembro:

- A) o Feriado de Tiradentes;
- B) a Independência do Brasil
- C) a Libertação dos Escravos
- D) o Descobrimento do Brasil
- E) a Proclamação da república

36. O gentílico de Atalaia, no Estado de Alagoas corresponde a:

- A) atalanense;
- B) atalainense;
- C) atalaiense;
- D) atalaneiense;
- E) atalense.

37. A imagem abaixo corresponde a um meio de transporte:


- A) terrestre
- B) aquático
- C) lagunar
- D) aéreo
- E) férreo



38. Sabemos que vários são os serviços públicos em uma cidade. O Programa Bolsa Família em um município é controlado pelo Número de Identificação Social (NIS), que por sua vez é administrado pela:

- A) Secretaria de Recursos Humanos
- B) Secretaria da Educação
- C) Secretaria de Ação Social
- D) Chefia de Gabinete do Prefeito(a)
- E) Secretaria da Saúde

39. Todas as alternativas abaixo apresentam os profissionais ilustrados abaixo, EXCETO:



- A) Juiz
- B) Advogado
- C) Médico
- D) Operário
- E) Professor

40. Assinale a alternativa abaixo onde apresenta o mês de comemoração da Proclamação da República.

- A) Fevereiro
- B) Abril
- C) Junho
- D) Setembro
- E) Novembro