

Município de Nova Iguaçu

ESTADO DO RIO DE JANEIRO

CONCURSO PÚBLICO

EDITAL N° 001/2012



Merendeiro II

TARDE

Organizadora:



CARGO: MERENDEIRO II

Texto

Pan: meninas do Brasil também ficam com a prata

Brasileiras não conseguem superar os EUA e terminam competição por equipe em segundo.

As meninas do Brasil fizeram bonito neste sábado e levaram a medalha de prata na competição por equipes. Daiane dos Santos, que foi dúvida até o último momento, voltou a sentir dores no tornozelo, mas ajudou a seleção a superar o bronze de Santo Domingo e conquistar o resultado inédito.

Quem também brilhou foi Jade Barbosa. A ginasta, de apenas 16 anos, terminou a competição com o segundo lugar na classificação geral, perdendo apenas para a americana Shaw Johnson.

Com 236.150 pontos, o Brasil só ficou atrás dos EUA, que confirmaram seu favoritismo e fizeram 242.000 pontos. As mexicanas terminaram no terceiro lugar, com 223.625 pontos.

(Agora esportes sua revista on-line, <http://www.agoraesportes.com.br/html/noticia.asp?not=14462>)

01

De acordo com o texto, marque V para as afirmativas verdadeiras e F para as falsas.

- () “As meninas do Brasil fizeram bonito neste sábado.” é a ideia central do primeiro parágrafo do texto.
- () O Brasil venceu a competição com 223.625 pontos.
- () Daiane dos Santos ajudou a seleção a conquistar o resultado inédito.

A sequência está correta em

- A) F, F, V
- B) F, V, F
- C) V, V, F
- D) F, V, V
- E) V, F, V

02

De acordo com o texto, a ginasta que terminou a competição com o segundo lugar na classificação geral, foi

- A) Shaw Johnson.
- B) Daiane dos Santos.
- C) Jade Barbosa.
- D) uma mexicana.
- E) uma americana.

03

Em “o Brasil só ficou atrás dos EUA, que confirmaram seu favoritismo...”, a palavra destacada exprime ideia de

- A) tempo.
- B) modo.
- C) intensidade.
- D) lugar.
- E) dúvida.

04

“Daiane dos Santos, que foi dúvida até o último momento...” a palavra anteriormente destacada apresenta como antônimo

- A) concluído.
- B) primeiro.
- C) formado.
- D) finalizado.
- E) sondado.

05

A palavra “favoritismo”, no texto, significa

- A) saturado.
- B) insuficiente.
- C) evasivo.
- D) preferido; predileto.
- E) oprimente; apressivo.

06

Assinale a seguir a única palavra apresentada no aumentativo.

- A) Seleção
- B) Classificação
- C) Vozeirão
- D) Competição
- E) Pontuação

07

São palavras apresentadas no feminino, EXCETO:

- A) Americana.
- B) Menina.
- C) Momento.
- D) Medalha.
- E) Pontuação.

08

A palavra “sábado”, transcrita do texto, é acentuada pela mesma razão que a seguinte palavra

- A) só.
- B) até.
- C) também.
- D) dúvida.
- E) atrás.



09

Assinale a afirmativa escrita INCORRETAMENTE.

- A) A seleção ganhou a medalha de bronze. D) As mexicanas perderam o jogo.
 B) Quem brilhou na competição? E) As jogadoras foram dispensadas.
 C) O Brasil conquistou o favoritismo.

10

“Quem também brilhou foi Jade Barbosa.” O ponto final (.) na frase anterior foi utilizado para

- A) finalizar a frase. D) isolar esclarecimento.
 B) realizar questionamento. E) denotar espanto.
 C) dar explicação.

RACIOCÍNIO LÓGICO

11

Qual é o 7º número da sequência a seguir?

256, 128, 64, 32, 16, ...

- A) 8 B) 6 C) 4 D) 1 E) 2

12

Jean conseguiu uma bolsa de estudos na França e saiu do Brasil no dia 15 de janeiro às 14 horas. Qual foi o horário que Jean chegou à França, sabendo-se que a viagem demorou 17 horas? (Desconsiderar o fuso horário)

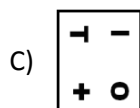
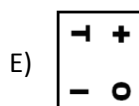
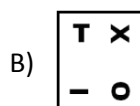
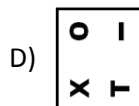
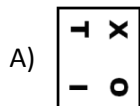
- A) 2 horas. B) 7 horas. C) 9 horas. D) 15 horas E) 17 horas.

13

Observe a figura.



Qual das figuras é igual à figura representada anteriormente?



14

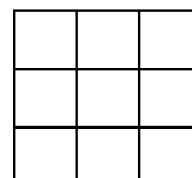
Uma cartela de ovos comporta na horizontal 6 ovos e, na vertical, 8 ovos. Comprando esta cartela, quantos ovos serão levados para casa?

- A) 36 B) 12 C) 24 D) 48 E) 42

15

O número máximo de quadrados distintos que podem ser vistos na figura ao lado é

- A) 14.
 B) 13.
 C) 12.
 D) 10.
 E) 9.



16

Um determinado número, quando tem $\frac{1}{3}$ subtraído, resulta em 12. Portanto, o valor desse número é

- A) 4. B) 9. C) 18. D) 16. E) 24.

17

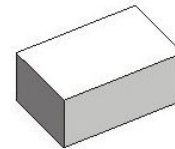
Fernando quer cercar o curral de sua fazenda com cerca de madeira. Sabendo-se que o curral tem o formato de um retângulo com 12 m de comprimento e 10 m de largura, quantos metros de tábua Fernando deverá comprar para cercá-lo?

- A) 22 m B) 24 m C) 34 m D) 44 m E) 52 m

18

A figura representa um bloco de isopor. Quantas faces apresenta esse bloco?

- A) 4 D) 8
B) 3 E) 9
C) 6



19

Em uma caixa quadrada são encontrados 25 pacotes de biscoitos. Os pacotes estavam organizados em quantas colunas?

- A) 5 B) 4 C) 8 D) 6 E) 7

20

Cinco pessoas jogando dados obtiveram os seguintes pontos em três rodadas. Observe.

	1ª rodada	2ª rodada	3ª rodada
Paulo	2	5	1
João	6	1	2
Maria	2	4	5
José	3	4	2
Carlos	6	5	2

Qual dos jogadores fez mais pontos?

- A) Paulo. B) Carlos. C) Maria. D) José. E) João.

CONHECIMENTOS GERAIS

21

Sobre o Enade, analise.

- I. Avalia o rendimento dos alunos dos cursos de graduação.
II. O exame é obrigatório para os alunos selecionados.
III. É indispensável para a emissão do histórico escolar.

Está(ão) correta(s) apenas a(s) afirmativa(s)

- A) I B) II C) I, III D) II, III E) I, II, III

22

Acerca da Lei da Ficha Limpa, marque **V** para as afirmativas verdadeiras e **F** para as falsas.

- () Proíbe o exercício de cargos e funções de brasileiros enquadrados na ilegitimidade da Ficha Limpa por atos de improbidade administrativa.
() Os profissionais cassados por conselhos profissionais, como os de medicina, poderão ser impedidos de assumir cargos em comissão no serviço público.
() Tem por objetivo evitar a participação, em cargos eletivos, de pessoas que não atendem às exigências de moralidade e probidade.

A sequência está correta em

- A) V, V, V B) V, V, F C) F, V, V D) V, F, V E) V, F, F

23

“O _____ é um programa do Ministério da Educação destinado a financiar prioritariamente estudantes dos cursos de graduação.” Assinale a alternativa que completa corretamente a afirmativa anterior.

- A) Fundo Nacional Estudantil
- B) Financiamento Brasileiro Estudantil
- C) Fundo de Financiamento Estudantil
- D) Financiamento dos Estudantes do Ensino Superior
- E) Fundo Financeiro do Ensino Superior

24

Sobre a campanha nacional de vacinação contra a gripe, analise.

- I. A vacina protege contra os 3 vírus que mais circulam no Brasil.
- II. O principal objetivo é reduzir a mortalidade e as complicações provocadas por infecções do vírus da gripe.
- III. Pessoas com alergia a ovo não podem tomar a vacina.

Está(ão) correta(s) apenas a(s) afirmativa(s)

- A) I
- B) II
- C) I, II
- D) II, III
- E) I, II, III

25

“O Programa _____ amplia o acesso da população aos medicamentos essenciais por meio da redução de custo desses remédios, sendo destinados principalmente às pessoas que não têm condições financeiras de pagar o produto e, por isso, muitas vezes interrompem o tratamento.” *(portal.saude.gov.br)*

Assinale a alternativa que completa corretamente a afirmativa anterior.

- A) Remédio Popular
- B) Farmácia Popular
- C) Drogaria Popular
- D) Farmácia do Povo
- E) Drogaria do Povo

26

A vacinação contra a gripe, oferecida gratuitamente nos postos de saúde, é prioritária nos grupos, EXCETO:

- A) Trabalhadores de saúde.
- B) Povos indígenas.
- C) Idosos.
- D) Crianças entre 3 meses e 6 anos de idade.
- E) Gestantes.

27

Acerca do Exame Nacional do Ensino Médio (ENEM), marque V para as afirmativas verdadeiras e F para as falsas.

- () É utilizado por universidades públicas como critério de seleção para o acesso ao ensino superior.
- () É pré-requisito para quem quer participar de programas de acesso ao ensino superior e de financiamento público, como o Financiamento Estudantil (FIES), por exemplo.
- () Um novo sistema de correção das provas de redação será implantado este ano, além de permitir aos alunos o acesso à redação após corrigida.

A sequência está correta em

- A) V, V, V
- B) V, F, V
- C) F, V, F
- D) V, V, F
- E) V, F, F

28

“Para auxiliar os bolsistas que vão estudar no exterior pelo Programa _____ (CsF), o *British Council* anunciou uma parceria com o Ministério da Educação (MEC) para oferecer livros e testes de proficiência gratuitos aos alunos de baixa renda. O investimento, que será feito pela organização britânica em um ano de projeto, é de 1,6 milhão.” *(www.brasil.gov.br – 25/05/2012)*

Assinale a alternativa que completa corretamente a afirmativa anterior.

- A) Cultura sem Fronteiras
- B) Ciência sem Fronteiras
- C) Cultura sem Fim
- D) Ciência sem Futuro
- E) Conhecimentos sem Fronteiras



29

“A estratégia impulsionada pelo governo federal para assegurar o direito humano à alimentação adequada às pessoas com dificuldades de acesso aos alimentos, promove a segurança alimentar e nutricional, buscando a inclusão social e a conquista da cidadania da população mais vulnerável à fome.”

A afirmativa refere-se ao programa do governo denominado

- A) Bolsa Família.
- B) Brasil sem Miséria.
- C) Fome Zero.
- D) Brasil sem Fome.
- E) Bolsa Escola.

30

“A Comissão Parlamentar de Inquérito (CPI) da Exploração Sexual de Crianças e Adolescentes pretende convidar a apresentadora _____ para participar de uma audiência pública que discutirá os casos de abusos sexuais contra menores de idade. Ela deverá também, apresentar sugestões e contribuições para o combate à exploração sexual de jovens em todo o país.” *(noticias.terra.com.br – 23/05/2012 – adaptado)*

Assinale a alternativa que completa corretamente a afirmativa anterior.

- A) Eliana
- B) Angélica
- C) Priscilla Alcântara
- D) Xuxa
- E) Maisa

INSTRUÇÕES

1. Material a ser utilizado: caneta esferográfica azul ou preta. Os objetos restantes devem ser colocados em local indicado pelo fiscal da sala, inclusive aparelho celular desligado e devidamente identificado com etiqueta.
2. Não é permitido consulta, utilização de livros, códigos, dicionários, apontamentos, apostilas, calculadoras e etc. Não é permitido ao candidato ingressar na sala de provas sem a respectiva identificação e o devido recolhimento de telefone celular, bip e outros aparelhos eletrônicos.
3. Durante a prova, o candidato não deve levantar-se, comunicar-se com outros candidatos e nem fumar.
4. A duração da prova é de 03 (três) horas, já incluindo o tempo destinado à entrega do Caderno de Provas e à identificação – que será feita no decorrer da prova – e ao preenchimento do Cartão de Respostas (Gabarito).
5. Somente em caso de urgência pedir ao fiscal para ir ao sanitário, devendo no percurso permanecer absolutamente calado, podendo antes e depois da entrada sofrer revista através de detector de metais. Ao sair da sala no término da prova, o candidato não poderá utilizar o sanitário. Caso ocorra uma emergência, o fiscal deverá ser comunicado.
6. O Caderno de Provas consta de 40 (quarenta) questões de múltipla escolha, exceto para os cargos de nível fundamental incompleto em que os Cadernos de Provas constam de 30 (trinta) questões. Leia-o atentamente.
7. **As questões das provas objetivas são do tipo múltipla escolha, com 05 (cinco) opções (A a E) e uma única resposta correta.**
8. Ao receber o material de realização das provas, o candidato deverá conferir atentamente se o Caderno de Provas corresponde ao cargo a que está concorrendo, bem como se os dados constantes no Cartão de Respostas (Gabarito) que lhe foi fornecido, estão corretos. Caso os dados estejam incorretos, ou o material esteja incompleto ou tenha qualquer imperfeição, o candidato deverá informar tal ocorrência ao fiscal.
9. Os fiscais não estão autorizados a emitir opinião e prestar esclarecimentos sobre o conteúdo das provas. Cabe única e exclusivamente ao candidato interpretar e decidir.
10. O candidato poderá retirar-se do local de provas somente a partir dos 90 (noventa) minutos após o início de sua realização, contudo não poderá levar consigo o Caderno de Provas, somente sendo permitida essa conduta apenas no decurso dos últimos 30 (trinta) minutos anteriores ao horário previsto para o seu término.
11. Os 3 (três) últimos candidatos de cada sala somente poderão sair juntos. Caso o candidato insista em sair do local de aplicação da prova, deverá assinar um termo desistindo do Concurso Público e, caso se negue, deverá ser lavrado o Termo de Ocorrência, testemunhado pelos 2 (dois) outros candidatos, pelo fiscal da sala e pelo coordenador da unidade.

RESULTADOS E RECURSOS

- As provas aplicadas, assim como os gabaritos preliminares das provas escritas objetivas de múltipla escolha serão divulgados na Internet, no site www.consulplan.net, a partir da 00h00min do dia subsequente ao da realização da provas.

- Os recursos deverão ser apresentados, conforme determinado no item 8 do Edital de Concurso Público nº. 001/2012, sendo observados os seguintes aspectos:

- a) O candidato que desejar interpor recursos contra os gabaritos oficiais preliminares das provas objetivas disporá de **02 (dois) dias úteis**, a partir do dia subsequente ao da divulgação, em requerimento próprio disponibilizado no *link* correlato ao Concurso Público no *site* www.consulplan.net.
- b) A interposição de recursos poderá ser feita **somente via Internet, através do Sistema Eletrônico de Interposição de Recursos**, com acesso pelo candidato com o fornecimento de dados referentes à sua inscrição, apenas no prazo recursal, à **CONSULPLAN**, conforme disposições contidas no site www.consulplan.net, no *link* correspondente ao Concurso Público.