



**PREFEITURA DA ESTÂNCIA
TURÍSTICA DE SÃO ROQUE**
ESTADO DE SÃO PAULO

CONCURSO PÚBLICO Nº. 06/2012
AUXILIAR DE BIBLIOTECA
CADERNO DE QUESTÕES

INSTRUÇÕES:

- Você está recebendo do fiscal um Caderno com 40 (QUARENTA) questões numeradas seqüencialmente que compõem a prova objetiva.
- Receberá também uma Folha para transcrever as respostas da prova objetiva.

ATENÇÃO:

1. Verifique se esse caderno está completo e se a numeração das questões está correta.
2. Leia atentamente cada questão da prova e assinale na Folha de Respostas a opção que acreditar respondê-la corretamente.
3. A interpretação das questões é parte integrante da prova, não sendo permitidas perguntas ao aplicador da prova.
4. A prova é individual, sendo vedadas consultas de qualquer natureza.
5. Para cada questão só há uma alternativa correta. Será atribuída nota 0 (zero) às questões não assinaladas, que contiverem mais de uma alternativa marcada, emenda ou rasura, ainda que legível. A Folha de Resposta não será substituída.
6. O candidato deverá transcrever as respostas das provas objetivas para a Folha de Respostas, que será o único documento válido para a correção das provas. O preenchimento da Folha de Respostas é de inteira responsabilidade do candidato.
7. A Folha de Respostas não pode ser dobrada, amassada, rasurada ou conter qualquer marcação fora dos campos destinados às respostas.
8. Utilize caneta esferográfica azul ou preta para preenchimento da Folha de Resposta. Assinale a alternativa escolhida, como no exemplo abaixo:

Questão	A	B	C	D	E
1		●			
2					●

9. Você dispõe de 03 (três) horas para fazer a prova, incluindo a marcação da Folha de Respostas. Faça com tranquilidade, mas controle seu tempo.
10. O candidato somente poderá deixar definitivamente a sala de prova após 60 (sessenta) minutos de seu início.
11. Após o término da prova, entregue ao fiscal a Folha de Respostas devidamente assinada junto com o Caderno de Questões.

Nome:

Nº. Inscrição:

Boa Prova!

O Negrinho do Pastoreio

Nos tempos da escravidão, havia um estancieiro malvado com negros e peões. Num dia de inverno, fazia frio de rachar e o fazendeiro mandou que um menino negro de quatorze anos fosse pastorear cavalos e potros recém-comprados. No final da tarde, quando o menino voltou, o estancieiro disse que faltava um cavalo baio. Pegou o chicote e deu uma surra tão grande no menino que ele ficou sangrando. “Você vai me dar conta do baio, ou verá o que acontece”, disse o malvado patrão. Aflito, ele foi à procura do animal e nada. Na volta à estância, o patrão, ainda mais irritado, espancou o garoto e o amarrou, nu, sobre um formigueiro. No dia seguinte, quando ele foi ver sua vítima, tomou um susto. O menino estava de pé, e sem nenhum arranhão. O Negrinho pegou o baio e conduziu o resto da tropilha.

O Negrinho do Pastoreio é tido como protetor das pessoas que tenham perdido algo. Sua imagem consiste em um cavalo com o menino negro montado.

01. De acordo com o texto, pode-se afirmar que:

- (A) O estancieiro se irritou com um menino porque este não queria contar os potros recém comprados.
- (B) O estancieiro se irritou com um menino porque ele ao contar os cavalos e potros recém-comprados não deu conta da falta de um cavalo baio.
- (C) O estancieiro era um homem muito bom e só deu uma surra no menino porque este se recusou em ficar sobre o formigueiro.
- (D) O estancieiro não gostava muito de formigueiro, e resolveu pedir que o menino matasse as formigas.
- (E) O estancieiro jamais pediu que alguém cuidasse de seus cavalos, fazendo esse serviço sozinho.

02. Pelo texto, pode-se concluir, com certeza, que:

- (A) O patrão deu uma surra muito grande no menino com chicote.
- (B) O patrão deu uma surra muito grande no menino que no dia seguinte foi encontrado sangrando porque ficou sobre o formigueiro.
- (C) O patrão amarrou o menino sobre o formigueiro e o menino tomou um susto quando sentiu as formigas subirem sobre o seu corpo nu.
- (D) Sem energia, o menino chorou muito ao ver as feridas que se formaram sobre o seu corpo nu, ao ter contato com o formigueiro.
- (E) As meninas ficaram muito constrangidas ao verem o menino nu.

03. O Negrinho do Pastoreio é tido como:

- (A) Protetor das pessoas que tenham perdido algo.
- (B) Protetor das crianças que sofrem com o inverno
- (C) Protetor das pessoas que tem animais.
- (D) Protetor das pessoas que querem a moral e os bons costumes preservados.
- (E) Protetor de pessoas que passam por problemas de comunicação com seus patrões.

04. De acordo com o texto, é válido afirmar que, finalmente:

- (A) O Negrinho do Pastoreio não conseguiu pegar o baio e nem conduzir o resto da tropilha conforme o malvado patrão havia ordenado.
- (B) O Negrinho do Pastoreio, após ser espancado pelo patrão, nu, teve seus arranhões sangrando no dia seguinte.
- (C) O Negrinho do Pastoreio tomou um susto com o patrão, que foi visitá-lo no dia seguinte, cheio de arranhões e chagas abertas.
- (D) O Negrinho do Pastoreio não quis receber o patrão no dia seguinte por ser vítima de espancamentos, pois tinha vergonha de sua nudez.
- (E) O Negrinho do Pastoreio pegou o baio e conduziu o resto da tropilha.

05. Complete as lacunas:

Todos trabalhando: Ana ____as flores, Andrea _____a sala e eu _____quem irá pagar as contas:

- (A) água-mobila-averíguo.
- (B) água-mobília-averíguo.
- (C) água-mobilia-averíguo.
- (D) agua-móbilial-averíguo.
- (E) agua-mobilia-averíguo.

06. Entre as opções abaixo, somente uma completa corretamente as lacunas apresentadas a seguir. Assinale-a:

Na cidade carente, os _____ resolveram _____ seus direitos, fazendo um _____ assustador.

- (A) mendigos; revindidar; rebuliço.
- (B) mindigos; reivindicar; rebuliço.
- (C) mindigos; reivindicar; reboliço.
- (D) mendigos; reivindicar; rebuliço.
- (E) mindigos; reivindicar; arrebuliço.

07. Assinale a frase corretamente pontuada:

- (A) O Judiciário outras vezes, é acusado de ser a causa de um cenário desolador.
- (B) Suzane, ré confessa, esperou, ora em prisão preventiva, ora em liberdade, o júri popular.
- (C) Debaixo da mesma lei, ricos e pobres experimentam, o rigor da justiça, de maneira diferenciada.
- (D) O Código de Processo Penal, tornou-se um instrumento importante para a população brasileira.
- (E) Catarina, orou muito, porque era religiosa.

08. O substantivo composto que está indevidamente escrito no plural é:

- (A) mulas-sem-cabeça
- (B) cavalos-vapor
- (C) abaixos-assinados
- (D) quebra-mares
- (E) pães-de-ló

09. Assinale a alternativa em que está correta a formação do plural:

- (A) o cadáver – os cadáveris;
- (B) o gavião – os gaviães;
- (C) o fuzil – os fuzíveis;
- (D) o mal – os maus;
- (E) o atlas – os atlas.

10. Indique a alternativa que apresenta erro na forma do plural:

- (A) sol: sóis; irmão: irmãos; anão: anões;
- (B) peão: peões; guardião: guardiões; caráter: caracteres;
- (C) órgão: órgãos; corrimão: corrimãos; mel: méis;
- (D) sótão: sótãos; mão:mãos ; cônsul: cônsules;
- (E) leão: leões; anil: anis; capitão: capitães.

11. O plural dos substantivos “couve-flor”, “pão-de-ló” e “amor-perfeito”, é:

- (A) couve-flores; pães-de-ló; amores-perfeitos;
- (B) couves-flores; pães-de-ló; amores-perfeitos;
- (C) couves-flores; pão-de-ló; amor-perfeitos;
- (D) couves-flores; pão-de-lós; amores-perfeitos;
- (E) couves-flores; pães-de-ló; amor-perfeitos.

12. Relativamente à concordância dos adjetivos compostos indicativos de cor, assinale a que está errada:

- (A) saia amarelo-ouro
- (B) papel amarelo-ouro
- (C) caixa vermelho-sangue
- (D) caixa vermelha-sangue
- (E) caixas vermelho-sangue

13. Assinale a alternativa correta, considerando que à direita de cada palavra há um sinônimo.

- (A) emergir = vir à tona; imergir = mergulhar
- (B) emigrar = entrar (no país); imigrar = sair (do país)
- (C) delatar = expandir; dilatar = denunciar
- (D) deferir = diferenciar; diferir = conceder
- (E) dispensa = cômodo; despensa = desobrigação

14. Indique a letra na qual as palavras completam, corretamente, os espaços das frases abaixo.

Quem possui deficiência auditiva não consegue _____ os sons com nitidez. Hoje são muitos os governos que passaram a combater o _____ de entorpecentes com rigor. O diretor do presídio _____ pesado castigo aos prisioneiros revoltosos.

- (A) discriminar - tráfico - infligiu
- (B) discriminar - tráfico - infringiu
- (C) descriminar - tráfego - infringiu
- (D) descriminar - tráfego - infligiu
- (E) descriminar - tráfico - infringiu

15. Qual das palavras abaixo não é o antônimo da palavra frontal:

- (A) verdadeiro
- (B) posterior
- (C) traseiro
- (D) fingido
- (E) dissimulado

MATEMÁTICA

16. Antes de ontem foi segunda-feira. Depois de amanhã será dia 15. Logo,

- (A) Depois de amanhã será sábado, dia 16.
- (B) Amanhã será sexta-feira, dia 15.
- (C) Hoje é quarta-feira, dia 13.
- (D) Hoje é quinta-feira, dia 14.
- (E) Ontem foi quarta-feira, dia 13.

17. Com o objetivo de acompanhar o índice de evasão escolar uma instituição de ensino resolveu fazer dois levantamentos anuais para verificar o índice de desistência em seus cursos. Ao final do 1º semestre letivo o levantamento constatou que 10% dos alunos ingressantes haviam desistido e no final do 2º semestre, constatou-se que 5% dos alunos que estavam cursando na ocasião do 1º levantamento tinham desistido dos cursos. Tendo como base o número de alunos ingressantes naquele ano letivo, o índice de desistência nos cursos dessa instituição, no referido semestre, foi de:

- (A) 18,5%.
- (B) 14,5%.
- (C) 15%.
- (D) 16,5%.
- (E) 17%.

18. Observe a sequência numérica

1, 1, 2, 3, 5, 8, 13,,,

Mantida a lei de formação, os três próximos elementos dessa sequência serão, respectivamente:

- (A) 18, 23, 28.
- (B) 15, 17, 19.
- (C) 23, 33, 43.
- (D) 21, 34, 55.
- (E) 21, 42, 63

19. Certo dia, 91,5% dos funcionários de uma empresa compareceu ao serviço, enquanto que dezessete (17) funcionários faltaram. Supondo que não houve contratações e nem demissões, o número de funcionários desse departamento é:

- (A) 250.
- (B) 240.
- (C) 230.
- (D) 220.
- (E) 200.

20. Paulo comprou um terreno quadrado de 20 metros de lado. Nesse terreno ele pretende construir uma casa retangular com as seguintes dimensões: 15 metros de largura por 20 metros de comprimento. O restante do terreno ele quer fazer um grande jardim. Podemos afirmar que a área do jardim será de:

- (A) 100.
- (B) 40.
- (C) 60.
- (D) 80.
- (E) 120.

21. Os preços de dois produtos, A e B, se relacionam da seguinte maneira:

$$4.P_A - 2.P_B = 22$$

$$7.P_B - 2.P_A = 19$$

Onde:

P_A = Preço do Produto A

P_B = Preço do Produto B

Os preços dos produtos, A e B, serão:

- (A) $P_A = 8$; $P_B = 3$
- (B) $P_A = 8$; $P_B = 4$
- (C) $P_A = 8$; $P_B = 5$
- (D) $P_A = 6$; $P_B = 4$
- (E) $P_A = 5$; $P_B = 8$

22. Maria quer calcular o perímetro de um terreno que tem as seguintes dimensões: sua largura é de 93 metros e seu comprimento é 37 metros maior que a largura.

A alternativa que apresenta corretamente a medida do perímetro do terreno de Maria é:

- (A) 130 metros
- (B) 260 metros
- (C) 446 metros
- (D) 3.441 metros.
- (E) 353 metros

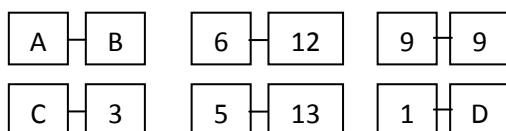
23. Um carro popular desvaloriza em média, 20% ao ano. Supondo que uma pessoa adquira o carro por R\$ 26.400,00. Qual o valor desse carro após um ano?

- (A) R\$ 21.120,00.
- (B) R\$ 20.120,00.
- (C) R\$ 21.720,00.
- (D) R\$ 20.720,00.
- (E) R\$ 5.280,00.

24. Rubens, Edvaldo e o Filho caminham em volta de uma quadra de esporte. Filho dá uma volta completa em 25 segundos. Rubens faz uma volta em 15 segundos e Edvaldo faz a volta em 20 segundos. Partindo de um instante em que eles estão lado a lado, calcule quanto tempo depois eles estarão lado a lado novamente.

- (A) 6 minutos
- (B) 5 minutos e 5 segundos
- (C) 5 minutos
- (D) 3 minutos e 45 segundos
- (E) 4 minutos

25. As letras abaixo, dentro dos retângulos, representam números que estão agrupados em pares segundo uma relação lógica.



Sabendo que: A=7, B=11, C=15, o valor da carta D é:

- (A) 10
- (B) 14
- (C) 16
- (D) 17
- (E) 18

ATUALIDADES

26. No jogo Olímpicos de Londres 2012, no quadro de medalhas, o Brasil ficou em 22º lugar em relação aos demais países que participaram dos jogos, com o total de 17 medalhas. Assinale a alternativa correta que representa o número de medalhas conquistadas:

- (A) 3 ouros, 5 prata e 9 bronze.
- (B) 9 ouros, 3 prata e 5 bronze.
- (C) 5 ouros, 9 prata e 3 bronze.
- (D) 3 ouros, 9 prata e 5 bronze.
- (E) 11 ouros, 3 prata e 3 bronze.

27. No último dia 6 de agosto de 2012, a Nasa (agência espacial americana) conseguiu pousar em _____ o Curiosity, o maior jipe de exploração espacial. O veículo faz parte da Mars Science Laboratory (MSL), a mais cara e ambiciosa de todas as missões.

Assinale a alternativa que preenche corretamente a lacuna com o nome do Planeta em que o jipe pousou:

- (A) Vênus.
- (B) Netuno.
- (C) Júpiter.
- (D) Uranos.
- (E) Marte.

28. O STF (Supremo Tribunal Federal) começou a julgar no dia 2 de agosto os 38 réus do mensalão, considerado um dos maiores escândalos de corrupção da política brasileira. Segundo a Procuradoria-Geral da República, responsável pela denúncia junto ao Supremo, o mensalão foi:

- (A) Um esquema de financiamento ilegal de parlamentares em troca de apoio político ao governo do ex-presidente Fernando Henrique Cardoso (1995-2002).
- (B) Um esquema de financiamento ilegal de parlamentares em troca de apoio político ao governo do ex-presidente Itamar Franco (2003-2010).
- (C) Um esquema de financiamento ilegal de parlamentares em troca de apoio político

ao governo do ex-presidente José Sarney (1984-1989).

(D) Um esquema de financiamento ilegal de parlamentares em troca de apoio político ao governo do ex-presidente Luís Inácio Lula da Silva (2003-2010).

(E) Um esquema de financiamento ilegal de parlamentares em troca de apoio político ao governo do ex-presidente Luís Inácio Lula da Silva (1995-2002).

29. Em 15 de abril de 1912, o navio inglês que afundou após colidir com um iceberg no Atlântico Norte, deixando 1.514 mortos entre passageiros e tripulação. Desde então, se tornou um ícone da cultura ocidental, tema de livros, filmes, peças de teatro, músicas, museus e obras de arte. Assinale a alternativa correta que apresenta o nome do navio:

(A) Concórdia.

(B) Titanic.

(C) Perola Negra.

(D) Viking.

(E) Costa Concórdia.

30. O primeiro astronauta a pisar na Lua faleceu aos 82 anos, no último sábado (25 de agosto), vítima de complicações de uma cirurgia cardiovascular. Assinale a alternativa que contém o nome correto do referido astronauta:

(A) Neil A. Armstrong.

(B) Louis Armstrong.

(C) Neil Louis Armstrong.

(D) Jack Louis Armstrong.

(E) Louis Neil Armstrong

INFORMÁTICA

31. Julgue as afirmativas abaixo a respeito do gerenciador de e-mails da Microsoft Office Outlook 2007:

I- **Campo Para:** Como em qualquer gerenciador de e-mail, o remetente deverá informar no campo "Para:" o endereço de e-mail correspondente ao destinatário. Caso o remetente queira enviar para um número maior de destinatários, ele poderá digitar os endereços seguidos de ponto e vírgula (;).

II- **Campo Cc (Cópia carbono):** Para permitir que outras pessoas recebam esta mensagem, o remetente poderá utilizar este campo.

III- **Campo Cco (Cópia carbono oculta):** Os destinatários incluídos nesta área não serão visíveis. Desta forma, o remetente pode enviar mensagens para um grupo de pessoas, escondendo alguns endereços.

Assinale a alternativa correta

(A) Somente I está correto.

(B) Somente II está correto.

(C) Somente III está correto.

(D) Todas estão corretas.

(E) Todas estão erratas

32. No Microsoft Word o modo de exibição de um documento criado no qual são exibidos o cabeçalho e o rodapé, é o:

(A) Layout da WEB.

(B) Estrutura de Tópicos.

(C) Layout de Impressão.

(D) Modo Normal.

(E) Modo de Visualização Total.

33. Microsoft Office é um dos Pacotes de Softwares da Microsoft e nele está inclusa uma Planilha Eletrônica conhecida como:

(A) Word.



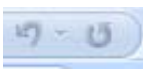


(B) Publisher.

(C) OnNote.

(D) Power Point.

(E) Excel.

34. Assinale a alternativa correta a cerca das ferramentas e suas respectivas funções no Microsoft PowerPoint 2007:

- (A)  Insere imagens do arquivo.
- (B)  Adere a imagem escolhida em toda a apresentação de forma imediata.
- (C)  Quando no modo apresentação permite fazer com que a apresentação do slide regrida ou progrida.
- (D)  Organiza objetos no slide, alterando a ordem, a posição e a rotação.
- (E)  Ferramenta Pincel: copia texto de um local a outro.

35. Em relação ao Microsoft Word 2007 em português, analisem os itens a seguir:

I. Um documento com várias seções pode possuir numeração de página independente para cada seção.

II. Documentos produzidos pelo recurso “Mala Direta” combinam um texto-padrão com informações obtidas em uma base de dados.

III. Senhas de proteção podem ser atribuídas a um documento para impedir que outro usuário possa visualizá-lo.

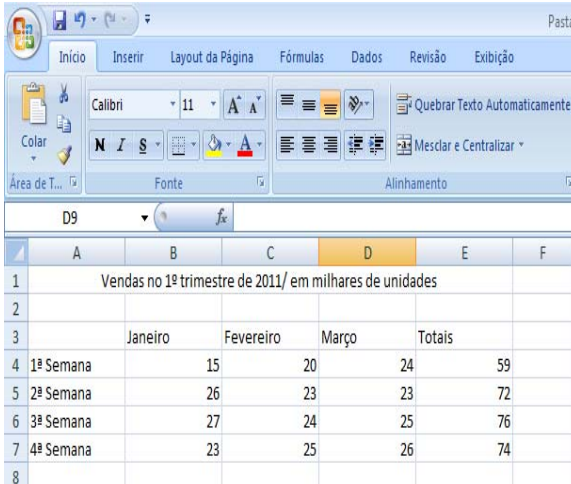
Assinale a alternativa correta:

- (A) Os itens I e II estão corretos.
 (B) O item II está correto.
 (C) O item III está correto.
 (D) Os itens I e III estão corretos.
 (E) Todos os itens estão corretos.

36. Sobre o Microsoft Word 2007 em português, considere as afirmativas julgue-as e assinale aquela que mostrar corretamente um possível primeiro passo para se elaborar uma mala direta:

- (A) Clicar na Guia Inserir.
 (B) Clicar na Guia Layout de Página.
 (C) Clicar na Guia Exibição.
 (D) Clicar na Guia Correspondência.
 (E) Não é possível criar uma mala direta no Microsoft Word 2007

37. Observe a figura a seguir, que mostra uma tela do Excel 2007 em português.


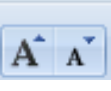





	A	B	C	D	E	F
1	Vendas no 1º trimestre de 2011/ em milhares de unidades					
2						
3		Janeiro	Fevereiro	Março	Totais	
4	1ª Semana		15	20	24	59
5	2ª Semana		26	23	23	72
6	3ª Semana		27	24	25	76
7	4ª Semana		23	25	26	74
8						

Com referencias nas fórmulas desse software assinale a alternativa correta:

- (A) Se digitarmos na célula B8 $\text{SOMA}(B4:B7)$, aparecerá o valor 91
 (B) Se digitarmos na célula C8 $\text{S}(C4:C7)$, aparecerá o valor 92
 (C) Se digitarmos na célula D8 $\text{=SOMA}(D4+D7)$, aparecerá o valor 50
 (D) Se digitarmos na célula E8 $\text{=SOMA}(B4:D7)$, aparecerá um valor de erro tipo #NOME?
 (E) Os itens A e B estão corretos.

38. Assinale a alternativa correta a cerca das ferramentas e suas respectivas funções no Microsoft Word 2007:

- (A)  Corrige erros de ortografia.
- (B)  Altera para letras maiúsculas e minúsculas.
- (C)  Altera para letras maiúsculas e minúsculas..
- (D)  Insere linhas para se escrever partituras de musicas.
- (E)  Insere fórmulas matemáticas.

39. Em relação ao Microsoft Word 2010 em português, NÃO pertencem à formatação de parágrafo a função:

- (A) Nível do tópico.
(B) Efeitos de texto.
(C) Recuo.
(D) Espaçamento entre linhas.
(E) Alinhamento.

40. Julgue as afirmativas abaixo a respeito das funções que são possíveis de serem executadas pelo gerenciador de e-mails da Microsoft Office Outlook 2007:

- I-Criar uma nova mensagem.
II-Definir opções de entrega.
III-Alterar a aparência da mensagem.
IV- Inserir ou anexar itens à mensagem.
V- Adicionar um controle à mensagem.
VI – Melhorar a segurança e a privacidade da mensagem.
VII – Verificar ortografia e gramatica, realizar pesquisa e traduzir a mensagem de e-mail.

- (A) Somente as afirmativas I, II e III estão corretas.
(B) Somente as afirmativas I, II e IV estão corretas.
(C) Somente as afirmativas I, II e V estão corretas.
(D) Somente as afirmativas I, II e VI e VII estão corretas.
(E) Todas as afirmativas estão corretas.