

PORTUGUÊS

Leia o texto para responder as questões de 01 a 03:

Não se acostume com o que não o faz feliz, revolte-se quando julgar necessário.

Alague seu coração de esperanças, mas não deixe que ele se afogue nelas.

Se achar que precisa voltar, volte!

Se perceber que precisa seguir, siga!

Se estiver tudo errado, comece novamente.

Se estiver tudo certo, continue.

Se sentir saudades, mate-a.

Se perder um amor, não se perca!

Se o achar, segure-o!

Fernando Pessoa

QUESTÃO 01

Observa-se no texto o uso da colocação pronominal de acordo com a norma padrão da Língua Portuguesa. Marque o item em que a colocação pronominal não está adequada à língua culta:

- A) Nunca **se** afaste dos seus amigos verdadeiros;
- B) Se estiveres infeliz, **te** alegre por estares vivo;
- C) Se encontrares o amor, agarre-**o**;
- D) Confiar-**te**-ei os meus segredos mais íntimos;
- E) Não **se** esqueça de que a vida é para ser aproveitada da melhor forma possível.

QUESTÃO 02

O modo verbal que predomina no texto é o:

- A) Modo indicativo predominando o tempo presente;
- B) Modo subjuntivo;
- C) Imperativo afirmativo;
- D) Imperativo negativo;
- E) Modo indicativo predominando o tempo pretérito.

QUESTÃO 03

A palavra SE que inicia os versos do poema, pode ser classificada morfológicamente como:

- A) Conjunção subordinativa condicional;
- B) Pronome apassivador;
- C) Conjunção integrante;
- D) Conjunção subordinativa causal;
- E) Partícula expletiva ou de realce.

Observe a tirinha para responder as questões 04 e 05:



QUESTÃO 04

No último balão, na fala do Cascão, “Daqui podemos até **assistir** ao programa matinal do ursinho Bilu”

Quanto à regência do verbo assistir, marque o item que não está de acordo com a norma padrão:

- A) Ele assiste nesta cidade há bastante tempo;
- B) Os bons médicos assistem os doentes com bastante atenção;
- C) Assisti a todos os Jogos do Campeonato Cearense;
- D) O direito à educação assiste a todos os cidadãos;
- E) Vamos assistir o filme que está em exibição no cinema.

0113 – MOTORISTA – CNH CATEGORIA D

QUESTÃO 05

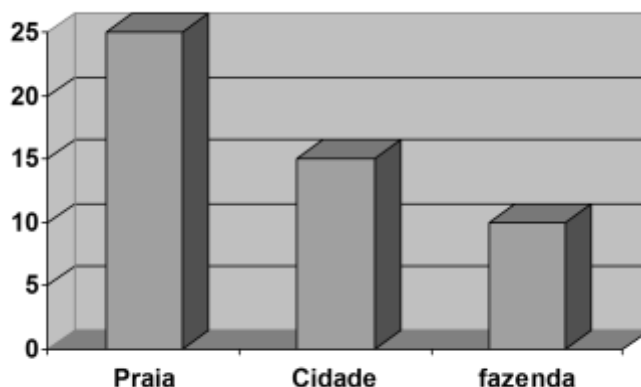
No primeiro quadrinho, na fala da Mônica: "...Vocês não me enganam." O sujeito dessa oração classifica-se como:

- A) Simples;
- B) Oculto ou desinencial;
- C) Indeterminado;
- D) Composto;
- E) Oração sem sujeito.

MATEMÁTICA

QUESTÃO 06

Após as férias, a turma do 2º ano fez um gráfico para representar os lugares frequentados pelas crianças no período de descanso. Veja como ficou:



De acordo com as informações do gráfico, podemos afirmar que:

- A) A quantidade de crianças que foram para a fazenda corresponde à metade da quantidade de crianças que foram para a praia;
- B) A diferença entre a quantidade de crianças que foram para a praia e a quantidade de crianças que ficaram na cidade é de cinco crianças;
- C) As quantidades de crianças que foram para a fazenda e que ficaram na cidade juntas, correspondem à quantidade de crianças que foram à praia;
- D) A quantidade de crianças que ficaram na cidade corresponde ao menor valor no gráfico;
- E) A quantidade de crianças que ficaram na cidade corresponde ao maior valor no gráfico.

QUESTÃO 07

Renata e Alice estavam jogando "Formando Números". Elas sorteavam 2 algarismos e formavam o maior número possível com eles. Veja os números que elas formaram em 3 rodadas do jogo.

	Renata	Alice
1ª rodada	45	34
2ª rodada	18	73
3ª rodada	39	64








- A) Alice ganhou 1 rodada e Renata ganhou 2 rodadas;
- B) Todos os números formados por Renata estão entre 10 e 40;
- C) Em todas as rodadas, Alice formou o maior número possível com os algarismos sorteados;
- D) Renata poderia ter ganhado todas as rodadas se ela formasse outro número com os algarismos que sorteceu;
- E) Alice poderia ter ganho todas as rodadas se ela formasse outro número com os algarismos que sorteceu.

0113 – MOTORISTA – CNH CATEGORIA D








QUESTÃO 08

Veja a previsão do tempo em Curitiba para os dias 30/11/2009 e 02/12/2009.

Segunda-Feira, 30/11

Nascer e pôr-do-sol	Previsão do tempo	Temperatura
 6h18  19h54	 manhã  tarde  noite Sol e aumento de nuvens de manhã. Pancadas de chuva à tarde e à noite.	Máxima:  29°C Mínima:  19°C

Quarta-Feira, 02/12

Nascer e pôr-do-sol	Previsão do tempo	Temperatura
 6h18  19h55	 manhã  tarde  noite Chuvoso durante o dia e à noite.	Máxima:  22°C Mínima:  17°C

Ao observar os quadros acima, podemos dizer que:

- A) De acordo com a previsão, o dia 30/11 seria mais frio que o dia 02/12;
- B) O sol nasceu antes das 7 horas nesses dois dias;
- C) As temperaturas previstas nesses dias estariam entre 10 e 25 graus;
- D) A diferença entre as temperaturas máximas dos dois dias é de 10°C;
- E) A temperatura mais alta foi no dia 02/12.

QUESTÃO 09

Leia um trecho da reportagem e responda a questão à seguir.

GORJETA

Quando e quanto dar

Todo mundo quer um serviço rápido e atencioso. Quando ele é oferecido, é natural que haja uma retribuição. A prática da gorjeta varia de país para país. Nos Estados Unidos e na França, por exemplo, ela é uma obrigação social: negar-se a dá-la num restaurante, por exemplo, é um ato de grosseria extrema. Já no Japão, oferecer gratificação em dinheiro a garçons e taxistas é uma ofensa. No Brasil não existe obrigação, mas a gorjeta é com frequência esperada. (...)

Com ajuda de entidades de classe e consultores de etiqueta, VEJA chegou a situações e valores que bonificam sem exagero – ou sem ofender quem prestou o serviço.

No Brasil

	Em casa	Posto de gasolina	Supermercado	Estacionamento
A quem dar	Entregador de pizza	Frentistas e lavadores de carros	Empacotadores	Manobristas
Quanto dar	Entre 2 e 5 reais	Entre 2 e 10 reais	Entre 2 e 10 reais	Entre 1 e 2 reais

Marque a afirmativa verdadeira sobre as gorjetas sugeridas pela VEJA no Brasil:

- A) As menores gorjetas sugeridas são para os manobristas em estacionamentos;
- B) Os empacotadores de supermercado devem receber mais gorjeta que os lavadores de carro;
- C) Oferecer 10 reais como gorjeta para um manobrista de estacionamento seria um exagero de acordo com a revista;
- D) No posto de gasolina, a gorjeta máxima que deve ser dada para um frentista é de 2 reais;
- E) As maiores gorjetas deveriam ser para os entregadores de pizza segundo a revista.

QUESTÃO 10

Em muitos países, é esperada uma gorjeta nos táxis. Na França, deve-se dar o troco como gorjeta.

Um turista francês veio ao Rio de Janeiro e pegou um táxi do aeroporto até o local onde ficaria hospedado. O valor da corrida foi de R\$ 64,00. Ele pagou com 4 notas de 20 reais e deu o troco como gorjeta para o taxista. Quanto o taxista ganhou de gorjeta?

- A) 16 reais;
- B) 24 reais;
- C) 26 reais;
- D) 44 reais;
- E) 120 reais.

ATUALIDADES**QUESTÃO 11**

Em sua mais recente reunião o COPOM decidiu, mais uma vez, pela redução da taxa básica de juros no Brasil. Assinale a alternativa que aponta corretamente, o significado da sigla COPOM:

- A) Conselho de Política Monetária;
- B) Conselho de Polícia Monetária;
- C) Comitê de Política Monetária;
- D) Comitê de Polícia Monetária;
- E) Conselho Público Monetário.

QUESTÃO 12

Assinale a alternativa que aponta corretamente o Vice-Governador do Estado do Ceará:

- A) Francisco Pinheiro;
- B) Domingos Filho;
- C) Roberto Cláudio;
- D) Ivo Gomes;
- E) Arísio Costa.

QUESTÃO 13

Assinale a alternativa que aponta incorretamente uma das cidades que sediará jogos da Copa das Confederações em 2013:

- A) Fortaleza;
- B) Rio de Janeiro;
- C) Recife;
- D) Belo Horizonte;
- E) São Paulo.

QUESTÃO 14

Assinale a alternativa que aponta incorretamente um ano bissexto:

- A) 2008;
- B) 2006;
- C) 2012;
- D) 2004;
- E) 1992.

QUESTÃO 15

Assinale a alternativa que aponta incorretamente um país que atualmente ainda possui a monarquia como integrante do governo:

- A) Bulgária;
- B) Jordânia;
- C) Inglaterra;
- D) Espanha;
- E) Japão.

CONHECIMENTOS ESPECÍFICOS**QUESTÃO 16**

Segundo dispõe o Código de Trânsito Brasileiro, entregar a direção do veículo a pessoa sem possuir Carteira Nacional de Habilitação ou Permissão para Dirigir constitui infração:

- A) Leve;
- B) Média;
- C) Grave;
- D) Gravíssima;
- E) Crime de trânsito.

QUESTÃO 17

Segundo dispõe o Código de Trânsito Brasileiro, dirigir veículo sem usar lentes corretoras de visão, aparelho auxiliar de audição, de prótese física ou as adaptações do veículo impostas por ocasião da concessão ou da renovação da licença para conduzir, constitui infração:

- A) Leve;
- B) Média;
- C) Grave;
- D) Gravíssima;
- E) Crime de trânsito.

QUESTÃO 18

Segundo dispõe o Código de Trânsito Brasileiro, confiar ou entregar a direção de veículo a pessoa que, mesmo habilitada, por seu estado físico ou psíquico, não estiver em condições de dirigir-lo com segurança, constitui infração:

- A) Leve;
- B) Média;
- C) Grave;
- D) Gravíssima;
- E) Crime de trânsito.

QUESTÃO 19

Segundo dispõe o Código de Trânsito Brasileiro, deixar o condutor ou passageiro de usar o cinto de segurança constitui infração:

- A) Leve;
- B) Média;
- C) Grave;
- D) Gravíssima;
- E) Crime de trânsito.

QUESTÃO 20

Segundo dispõe o Código de Trânsito Brasileiro, transportar crianças em veículo automotor sem observância das normas de segurança especiais estabelecidas neste código constitui infração:

- A) Leve;
- B) Média;
- C) Grave;
- D) Gravíssima;
- E) Crime de trânsito.

0113 – MOTORISTA – CNH CATEGORIA D

QUESTÃO 21

Segundo dispõe o Código de Trânsito Brasileiro, dirigir sem atenção ou sem os cuidados indispensáveis à segurança constitui infração:

- A) Leve;
- B) Média;
- C) Grave;
- D) Gravíssima;
- E) Crime de trânsito.

QUESTÃO 22

Segundo dispõe o Código de Trânsito Brasileiro, dirigir ameaçando os pedestres que estejam atravessando a via pública, ou os demais veículos constitui infração:

- A) Leve;
- B) Média;
- C) Grave;
- D) Gravíssima;
- E) Crime de trânsito.

QUESTÃO 23

Segundo dispõe o Código de Trânsito Brasileiro, usar o veículo para arremessar, sobre os pedestres ou veículos, água ou detritos constitui infração:

- A) Leve;
- B) Média;
- C) Grave;
- D) Gravíssima;
- E) Crime de trânsito.

QUESTÃO 24

Segundo dispõe o Código de Trânsito Brasileiro, atirar do veículo ou abandonar na via objetos ou substâncias constitui infração:

- A) Leve;
- B) Média;
- C) Grave;
- D) Gravíssima;
- E) Crime de trânsito.

QUESTÃO 25

Segundo dispõe o Código de Trânsito Brasileiro, promover, na via, competição esportiva, eventos organizados, exibição e demonstração de perícia em manobra de veículo, ou deles participar, como condutor, sem permissão da autoridade de trânsito com circunscrição sobre a via, constitui infração:

- A) Leve;
- B) Média;
- C) Grave;
- D) Gravíssima;
- E) Crime de trânsito.

QUESTÃO 26

Segundo dispõe o Código de Trânsito Brasileiro, deixar o condutor envolvido em acidente com vítima de identificar-se ao policial e de lhe prestar informações necessárias à confecção do boletim de ocorrência constitui infração:

- A) Leve;
- B) Média;
- C) Grave;
- D) Gravíssima;
- E) Crime de trânsito.

QUESTÃO 27

Segundo dispõe o Código de Trânsito Brasileiro, deixar o condutor de prestar socorro à vítima de acidente de trânsito quando solicitado pela autoridade e seus agentes constitui infração:

- A) Leve;
- B) Média;
- C) Grave;
- D) Gravíssima;
- E) Crime de trânsito.

QUESTÃO 28

Segundo dispõe o Código de Trânsito Brasileiro, deixar o condutor, envolvido em acidente sem vítima, de adotar providências para remover o veículo do local, quando necessária tal medida para assegurar a segurança e a fluidez do trânsito, constitui infração:

- A) Leve;
- B) Média;
- C) Grave;
- D) Gravíssima;
- E) Crime de trânsito.

QUESTÃO 29

Segundo dispõe o Código de Trânsito Brasileiro, fazer ou deixar que se faça reparo em veículo na via local, salvo nos casos de impedimento absoluto de sua remoção e em que o veículo esteja devidamente sinalizado, constitui infração:

- A) Leve;
- B) Média;
- C) Grave;
- D) Gravíssima;
- E) Crime de trânsito.

QUESTÃO 30

Segundo dispõe o Código de Trânsito Brasileiro, a via rural não pavimentada é denominada:

- A) Via precária;
- B) Rua;
- C) Estrada;
- D) Faixa rural;
- E) Trilha.

0113 – MOTORISTA – CNH CATEGORIA D

QUESTÃO 31

Segundo dispõe o Código de Trânsito Brasileiro, a superfície lideira às vias rurais, delimitada por lei específica e sob responsabilidade do órgão ou entidade de trânsito competente com circunscrição sobre a via é denominada:

- A) Faixa de trânsito;
- B) Estrada;
- C) Faixa de domínio;
- D) Faixa de ultrapassagem;
- E) Faixa de rodagem.

QUESTÃO 32

Segundo dispõe o Código de Trânsito Brasileiro, qualquer uma das áreas longitudinais em que a pista pode ser subdividida, sinalizada ou não por marcas viárias longitudinais, que tenham uma largura suficiente para permitir a circulação de veículos automotores é denominada:

- A) Faixa de trânsito;
- B) Estrada;
- C) Faixa de domínio;
- D) Faixa de ultrapassagem;
- E) Faixa de rodagem.

QUESTÃO 33

Segundo dispõe o Código de Trânsito Brasileiro, o ato de controlar o cumprimento das normas estabelecidas na legislação de trânsito, por meio do poder de polícia administrativa de trânsito, no âmbito de circunscrição dos órgãos e entidades executivos de trânsito é denominado:

- A) Punição;
- B) Acompanhamento;
- C) Controle Preventivo;
- D) Fiscalização;
- E) Regulamentação.

QUESTÃO 34

Segundo dispõe o Código de Trânsito Brasileiro, a indicação luminosa de permissão ou impedimento de locomoção na faixa apropriada é denominada:

- A) Indicação de pedestres;
- B) Proteção de pedestres;
- C) Foco de pedestres;
- D) Luz de pedestres;
- E) Iluminação de pedestres.

QUESTÃO 35

Segundo dispõe o Código de Trânsito Brasileiro, a imobilização do veículo para atender circunstância momentânea do trânsito é denominada:

- A) Break;
- B) Estacionamento;
- C) Embarque;
- D) Desembarque;
- E) Interrupção de marcha.

QUESTÃO 36

Segundo dispõe o Código de Trânsito Brasileiro, o movimento executado pelo condutor para alterar a posição em que o veículo está no momento em relação à via é denominado:

- A) Frenagem;
- B) Conversão;
- C) Drift;
- D) Manobra;
- E) Break.

QUESTÃO 37

Segundo dispõe o Código de Trânsito Brasileiro, o conjunto de sinais constituídos de linhas, marcações, símbolos ou legendas, em tipos e cores diversas, apostos ao pavimento da via é denominado:

- A) Sinalização;
- B) Marcas viárias;
- C) Complementos;
- D) Sinais;
- E) Simbologia.

QUESTÃO 38

Segundo dispõe o Código de Trânsito Brasileiro, o veículo automotor de transporte coletivo com capacidade para até vinte passageiros é denominado:

- A) Micro-ônibus;
- B) Van;
- C) Ônibus;
- D) Perua;
- E) Lotação.

QUESTÃO 39

Segundo dispõe o Código de Trânsito Brasileiro, o veículo automotor de duas rodas, com ou sem *side-car*, dirigido por condutor em posição montada é denominado:

- A) Triciclo;
- B) Motocicleta;
- C) Motoneta;
- D) Bicicleta;
- E) Quadriciclo.

QUESTÃO 40

Segundo dispõe o Código de Trânsito Brasileiro, o veículo automotor de duas rodas, dirigido por condutor em posição sentada é denominado:

- A) Triciclo;
- B) Motocicleta;
- C) Motoneta;
- D) Bicicleta;
- E) Quadriciclo.

0113 – MOTORISTA – CNH CATEGORIA D

QUESTÃO 41

Segundo dispõe o Código de Trânsito Brasileiro, o veículo automotor cuja carroçaria seja fechada e destinada a alojamento, escritório, comércio ou finalidades análogas é denominado:

- A) Motor-home;
- B) Reboque;
- C) Casa-rodante;
- D) Furgão;
- E) Van.

QUESTÃO 42

Segundo dispõe o Código de Trânsito Brasileiro, o veículo automotor de transporte coletivo com capacidade para mais de vinte passageiros, ainda que, em virtude de adaptações com vista à maior comodidade destes, transporte número menor, é denominado:

- A) Micro-ônibus;
- B) Ônibus;
- C) Van;
- D) Lotação;
- E) Furgão.

QUESTÃO 43

Segundo dispõe o Código de Trânsito Brasileiro, a imobilização do veículo, pelo tempo estritamente necessário ao carregamento ou descarregamento de animais ou carga, na forma disciplinada pelo órgão ou entidade executivo de trânsito competente com circunscrição sobre a via, é denominada:

- A) Desembarque;
- B) Embarque;
- C) Carregamento;
- D) Descarregamento;
- E) Operação de carga e descarga.

QUESTÃO 44

Segundo dispõe o Código de Trânsito Brasileiro, o monitoramento técnico baseado nos conceitos de Engenharia de Tráfego, das condições de fluidez, de estacionamento e parada na via, de forma a reduzir as interferências é denominado:

- A) Fiscalização;
- B) Regulamentação;
- C) Operação de Trânsito;
- D) Operação de Tráfego;
- E) Operação Padronizada.

QUESTÃO 45

Segundo dispõe o Código de Trânsito Brasileiro, a imobilização do veículo com a finalidade e pelo tempo estritamente necessário para efetuar embarque ou desembarque de passageiros é denominada:

- A) Parada;
- B) Paragem;
- C) Estacionamento;
- D) Carga;
- E) Descarga.

QUESTÃO 46

Segundo dispõe o Código de Trânsito Brasileiro, todo cruzamento de nível entre uma via e uma linha férrea ou trilho de bonde com pista própria é denominado:

- A) Cruzamento;
- B) Interseção;
- C) Cruz de Santo André;
- D) Passagem de Nível;
- E) Elevação.

QUESTÃO 47

Segundo dispõe o Código de Trânsito Brasileiro, o movimento de passagem à frente de outro veículo que se desloca no mesmo sentido, em menor velocidade, mas em faixas distintas da via é denominado:

- A) Passagem por outro veículo;
- B) Racha;
- C) Pega;
- D) Passamento;
- E) Transpasse.

QUESTÃO 48

Segundo dispõe o Código de Trânsito Brasileiro, a obra de arte destinada à transposição de vias, em desnível subterrâneo, e ao uso de pedestres ou veículos é denominada:

- A) Passarela;
- B) Viaduto;
- C) Passagem subterrânea;
- D) Metrô;
- E) Baixada.

QUESTÃO 49

Segundo dispõe o Código de Trânsito Brasileiro, a obra de arte destinada à transposição de vias, em desnível aéreo, e ao uso de pedestres é denominada:

- A) Passarela;
- B) Elevado;
- C) Viaduto;
- D) Ponte;
- E) Passador.

QUESTÃO 50

Segundo dispõe o Código de Trânsito Brasileiro, a parte da calçada ou da pista de rolamento, neste último caso, separada por pintura ou elemento físico separador, livre de interferências, destinada à circulação exclusiva de pedestres e, excepcionalmente, de ciclistas é denominada:

- A) Calçamento;
- B) Passeio;
- C) Ciclovia;
- D) Faixa de Pedestre;
- E) Ciclofaixa.