



Prefeitura de Manaus

Secretaria Municipal de Saúde (SEMSA)

CONCURSO PÚBLICO – EDITAL Nº 008/2012

868 – ASSISTENTE EM SAÚDE – LAÇADOR
870 – ASSISTENTE EM SAÚDE – MOTORISTA FLUVIAL

Nome do Candidato

Número de Inscrição

--	--	--	--	--	--	--	--	--	--	--	--	--	--	--	--	--	--	--	--


LEIA COM ATENÇÃO AS INSTRUÇÕES ABAIXO

INSTRUÇÕES GERAIS

- O candidato receberá do fiscal:
Um Caderno de Questões contendo **60 (sessenta) questões** objetivas de múltipla escolha.
Uma Folha de Respostas personalizada para a Prova Objetiva.
- Ao ser autorizado o início da prova, verifique, no Caderno de Questões, se a numeração das questões e a paginação estão corretas e se não há falhas, manchas ou borrões. Se algum desses problemas for detectado, solicite ao fiscal outro caderno completo. Não serão aceitas reclamações posteriores.
- A totalidade das Provas terá a duração de **4 (quatro) horas**, incluindo o tempo para preenchimento da Folha de Respostas da Prova Objetiva.
- O candidato poderá se retirar da sala de prova após transcorridas **2 (duas) horas** do efetivo início da prova, entregando sua Folha de Respostas ao fiscal, a qual será o único documento válido para a correção.
- O candidato somente poderá levar o Caderno de Questões faltando **60 (sessenta) minutos** para o término do horário estabelecido para o fim da prova, desde que o candidato permaneça em sala até esse momento, deixando com o fiscal de sala a sua Folha de Respostas.
- Não serão permitidas consultas a quaisquer materiais, uso de telefone celular ou outros aparelhos eletrônicos.
- Caso seja necessária a utilização do sanitário, o candidato deverá solicitar permissão ao fiscal de sala, que designará um fiscal volante para acompanhá-lo no deslocamento, devendo manter-se em silêncio durante o percurso, podendo, antes da entrada no sanitário e depois da utilização deste, ser submetido a revista com detector de metais. Na situação descrita, se for detectado que o candidato estiver portando qualquer tipo de equipamento eletrônico, será eliminado automaticamente do concurso.
- Após o término da prova, ao sair da sala de prova, o candidato deverá retirar-se imediatamente do local de realização das provas, não podendo permanecer nas suas dependências, bem como não poderá utilizar os sanitários.

ATENÇÃO

- Verifique se seus dados estão corretos na Folha de Respostas.
- A Folha de Respostas NÃO pode ser dobrada, amassada, rasurada, manchada ou conter qualquer registro fora dos locais destinados às respostas.
- Assinale a alternativa que julgar correta para cada questão na Folha de Respostas, usando caneta esferográfica de **tinta preta, fabricada em material transparente**. Não será permitido uso de lápis, lapiseira e/ou borracha durante a realização das provas.
- Para cada questão, existe apenas **1 (uma)** resposta certa – não serão computadas questões não assinaladas ou que contenham mais de uma resposta, emendas ou rasuras.
- O modo correto de assinalar a alternativa é cobrindo, completamente, o espaço a ela correspondente, conforme modelo abaixo:



- Todas as questões deverão ser respondidas.

OS TEXTOS E AS QUESTÕES FORAM REDIGIDOS CONFORME O NOVO ACORDO ORTOGRÁFICO DA LÍNGUA PORTUGUESA, MAS ESTE NÃO SERÁ COBRADO NO CONTEÚDO.



CONCURSOS PÚBLICOS

06/2012

Espaço reservado para anotação das respostas

PREFEITURA DE MANAUS – SEMSA – CONCURSO PÚBLICO – EDITAL Nº 008/2012

868 – ASSISTENTE EM SAÚDE – LAÇADOR / 870 – ASSISTENTE EM SAÚDE – MOTORISTA FLUVIAL



Nome: _____ Inscrição: _____

1	2	3	4	5	6	7	8	9	10	11	12	13	14	15	16	17	18	19	20
21	22	23	24	25	26	27	28	29	30	31	32	33	34	35	36	37	38	39	40
41	42	43	44	45	46	47	48	49	50	51	52	53	54	55	56	57	58	59	60

O gabarito da Prova Objetiva estará disponível no site da **Cetro Concursos (www.cetroconcursos.org.br)** a partir do dia **04 de junho de 2012**.

LÍNGUA PORTUGUESA

Leia o texto abaixo para responder às questões de 1 a 3.

A coruja e a águia

A coruja e a águia, depois de muita briga, resolveram fazer as pazes.

– Basta de guerra – disse a coruja. – O mundo é tão grande, e tolíce maior que o mundo é andarmos a comer os filhotes uma da outra.

– Perfeitamente – respondeu a águia. – Também eu não quero outra coisa.

– Nesse caso, combinemos isto: de ora em diante não comerás nunca os meus filhotes.

– Muito bem. Mas como posso distinguir os teus filhotes?

– Coisa fácil. Sempre que encontrares uns borrachos lindos, bem feitinhos de corpo, alegres, cheios de uma graça especial que não existe em filhote de nenhuma outra ave, já sabes, são os meus.

– Está feito! – concluiu a águia.

Dias depois, andando para a caça, a águia encontrou um ninho com três monstregos dentro, que piavam de bico muito aberto.

– Horríveis bichos! – disse ela. – Vê-se logo que não são os filhos da coruja.

E comeu-os.

Mas eram os filhos da coruja. Ao regressar à toca, a triste mãe chorou amargamente o desastre e foi justar contas com a rainha das aves.

– Quê? – disse esta, admirada – Eram teus filhos aqueles monstrenginhos? Pois, olha, não se pareciam nada com o retrato que deles me fizeste...

(Monteiro Lobato. *Fábulas*. 50ª edição, Editora Brasiliense. São Paulo, 1994.)

1. O ditado popular que mais se enquadra como moral da história é

- (A) “Quando um não quer, dois não brigam”.
- (B) “Quem o feio ama, bonito lhe parece”.
- (C) “Quem tudo quer nada tem”.
- (D) “De grão em grão a galinha enche o papo”.
- (E) “Mais vale um pássaro na mão do que dois voando”.

2. De acordo com o texto, é correto afirmar que

- (A) a águia comeu intencionalmente os filhotes da coruja, pois sabia que eram os mais feios da floresta.
- (B) a águia mentiu para a coruja ao dizer que não comeria seus filhotes.
- (C) a águia pensou que os filhotes do ninho não eram os da coruja por causa da descrição feita por esta.
- (D) a coruja ficou entristecida pelo fato da águia ter quebrado o pacto de amizade.
- (E) ficaram indícios de que a coruja provavelmente irá se vingar da águia.

3. De acordo com o trecho “A coruja e a águia, depois de muita briga, **resolveram** fazer as pazes.”, assinale a alternativa cujo verbo destacado encontra-se na mesma pessoa de “resolveram”.

- (A) “O mundo é tão grande, e tolíce maior que o mundo é **andarmos** a comer os filhotes uma da outra.”
- (B) “[...] de ora em diante não **comerás** nunca os meus filhotes.”
- (C) “**Eram** teus filhos aqueles monstrenginhos?”
- (D) “Mas como **posso** distinguir os teus filhotes?”
- (E) “Sempre que **encontrares** uns borrachos lindos [...]”

4. De acordo com a norma-padrão da Língua Portuguesa e em relação à regência verbal, assinale a alternativa correta.

- (A) Fomos no cinema assistir ao novo filme do Walter Salles.
- (B) Desobedeceu a lei e foi punido.
- (C) Entregou as flores à namorada no dia de seu aniversário.
- (D) Não lembrava mais de seu passado.
- (E) Esqueceu completamente das aulas que tinha no período da tarde.

5. Em relação à ortografia, leia as orações abaixo e, em seguida, assinale a alternativa que preenche correta e respectivamente as lacunas.

- 1. Observava o movimento na calçada enquanto o engra__ate lustrava seus sapatos.
 - 2. Estava hospitali__ado desde sexta-feira.
 - 3. Ganhou um bro__e novo do namorado.
 - 4. Quem me__eu nas minhas coisas?
- (A) x/ z/ ch/ x
 - (B) ch/ s/ x/ ch
 - (C) x/ z/ x/ ch
 - (D) ch/ s/ ch/ x
 - (E) x/ s/ x/ ch

6. Assinale a alternativa em que todas as palavras estão acentuadas corretamente.

- (A) Albúm/ fortuíto/ têxtil.
- (B) Velóz/ bíceps/ vácuo.
- (C) Caráter/ âncora/ maracujá.
- (D) Cipó/ denúncia/ urubú.
- (E) Melância/ côco/ leitão.

7. De acordo com a norma-padrão da Língua Portuguesa e em relação à concordância verbal, assinale a alternativa correta.

- (A) A maioria não quiseram ir à aula na emenda de feriado.
- (B) Fazem três anos que sai da escola.
- (C) – Que horas são? – Já são meio-dia.
- (D) Vinte quilômetros é muito para andar a pé.
- (E) Não ia a aquele lugar haviam anos.

8. Em relação aos antônimos, correlacione as colunas e, em seguida, assinale a alternativa que apresenta a sequência correta.

1. Habitual.	()	Instável.
2. Constante.	()	Afastado.
3. Próximo.	()	Atípico.
4. Prudente.	()	Desavisado.

- (A) 1/ 4/ 3/ 2
- (B) 2/ 3/ 1/ 4
- (C) 2/ 1/ 3/ 4
- (D) 4/ 3/ 1/ 2
- (E) 3/ 2/ 1/ 4

9. Assinale a alternativa correta em relação à ortografia.

- (A) Os visitantes precisam fazer o cadastro na portaria.
- (B) Ao pagar a conta, deixei uma gorgeta ao garçom.
- (C) As ferramentas guardadas estavam repletas de ferrugem.
- (D) A casa está muito suja, precisando de fachina.
- (E) Rezidia em um lugar privilegiado, perto da praia.

10. Assinale a alternativa correta em relação à pontuação.

- (A) Fábio, Marcela e Bruna, foram ao show do Roberto Carlos.
- (B) Mariana, era a caçula de oito irmãos.
- (C) João então disse vamos todos ao parque.
- (D) Em janeiro, Cláudia, irmã de Daniel, retornou de sua viagem ao exterior.
- (E) Todas as crianças que estavam no recinto, foram retiradas por medida de segurança.

11. De acordo com a norma-padrão da Língua Portuguesa e em relação à crase, assinale a alternativa correta.

- (A) Peça àqueles meninos que voltem para a sala de aula!
- (B) Disse à elas que não poderia ir ao teatro.
- (C) À todos, uma boa prova!
- (D) Estava cara à cara com a verdade.
- (E) Estava esperando desde às 6h.

12. Leia a oração abaixo.

Saiu cedo, mas chegou atrasado.

Assinale a alternativa cuja oração apresenta a mesma relação de coordenação que a oração acima.

- (A) Não só cantei como também dancei.
- (B) Passei no vestibular, portanto vou comemorar.
- (C) Fiquei muito cansada, contudo me diverti bastante.
- (D) Não fui à praia pois queria descansar durante o Domingo.
- (E) Só passei na prova porque me esforcei por muito tempo.

13. Assinale a alternativa que apresenta **erro** ortográfico.

- (A) Todos ficaram perplexos com a situação.
- (B) Foi a um evento beneficente.
- (C) Fez uma receita com vargem e jiló.
- (D) Enquanto viajava, observava a paisagem.
- (E) Todas as jabuticabas estavam azedas.

14. Assinale a alternativa **incorreta** em relação à acentuação.

- (A) Muitos países adotaram o método.
- (B) Decidiu ficar na cidade, pois criou raízes.
- (C) O juíz o condenou a 35 anos de prisão.
- (D) Guardou todas as coisas velhas em um baú.
- (E) Não fique perto do rio, pois está repleto de jacarés.

15. De acordo com a norma-padrão da Língua Portuguesa, assinale a alternativa correta em relação à conjugação verbal.

- (A) Eu ponharia este vaso na sala.
- (B) O material não cabeu no armário.
- (C) No momento do acidente, eu ainda não tinha chego.
- (D) Ontem, as crianças brincarão bastante no parque.
- (E) Meus irmãos e eu iríamos ao show se não tivesse chovido.

16. Assinale a alternativa correta em relação aos plurais.

- (A) Alemão – alemões.
- (B) Cidadão – cidadãos.
- (C) Sermão – sermãos.
- (D) Pagão – pagões.
- (E) Limão – limões.

17. Assinale a alternativa correta em relação aos numerais ordinais.

- (A) 30º – trintésimo.
- (B) 60º – sessentésimo.
- (C) 50º – quinquagésimo.
- (D) 40º – quarentésimo.
- (E) 400º – quatrocentésimo.

18. Assinale a alternativa correta em relação à ortografia.

- (A) Se você quiser, pode utilizar minhas coisas.
- (B) Estava distraída e não vi o enchame de abelhas.
- (C) Tinha um rosto anjelical.
- (D) Muitas pessoas morreram devido à escassez de água e alimentos.
- (E) Ficou em coma por ter bebido em excesso.

19. Assinale a alternativa correta em relação aos antônimos.

- (A) Néscio – inteligente.
- (B) Inculto – obtuso.
- (C) Rude – rústico.
- (D) Simples – simplório.
- (E) Social – coletivo.

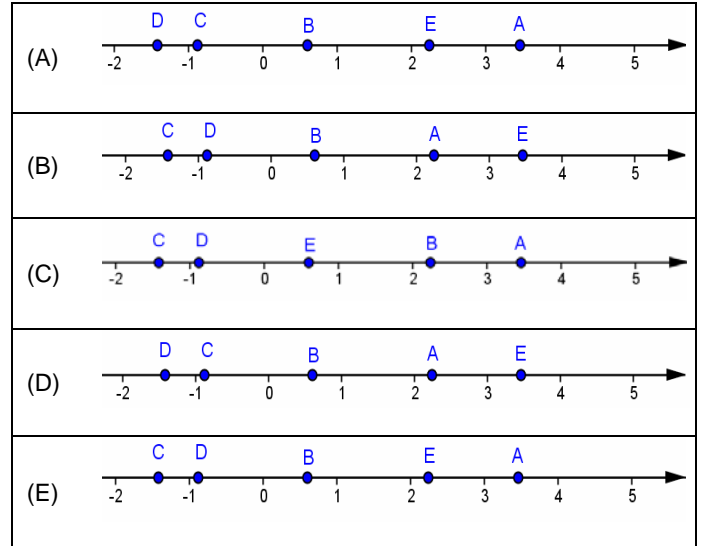
20. Assinale a alternativa correta em relação à ortografia.

- (A) A jovem foi vítima de estrupo.
- (B) Pagou com atraso a fatura do cartão de crédito.
- (C) A comida daquele restaurante era simplesmente maravilhosa.
- (D) Apagou todos os vestígios de que tinha passado por lá.
- (E) Conseguiu hêsito em sua apresentação.

MATEMÁTICA

21. Dados os números $A = \sqrt{5}$, $B = \frac{3}{5}$, $C = -\sqrt{2}$,

$D = -\frac{7}{8}$, $E = 2\sqrt{3}$, assinale a alternativa que apresenta a representação correta destes números na reta numérica.



22. Se $-6 < a < -1$ e $1 < b < 3$, então ab e $-\frac{b}{2}$ estão no intervalo

- (A) $] -18, -1[$.
- (B) $] -\frac{3}{2}, -\frac{1}{2}[$.
- (C) $] -18, -\frac{3}{2}[$.
- (D) $] -\frac{3}{2}, -1[$.
- (E) $] -18, -\frac{1}{2}[$.

23. Se 5kg de farinha de trigo custam R\$15,00, então 250g custam

- (A) R\$3,75.
- (B) R\$3,00.
- (C) R\$1,50.
- (D) R\$0,75.
- (E) R\$0,25.

24. Quando se transforma 5.162dm^2 em km^2 (quilômetros quadrados), obtêm-se

- (A) $0,00005162\text{km}^2$.
- (B) $0,0005162\text{km}^2$.
- (C) $0,005162\text{km}^2$.
- (D) $0,05162\text{km}^2$.
- (E) $0,5162\text{km}^2$.

25. O ser humano desenvolveu e inventou instrumentos tecnológicos com o objetivo de superar dificuldades. Sendo assim, relacione os anos 1590, 1707, 1876 e 1943 de acordo com as informações dadas abaixo e, em seguida, assinale a alternativa que apresenta a ordem crescente dos fatos.

1. O número que indica o ano em que o físico inglês John Floyer inventou o relógio de pulso é divisível por 3, mas não por 2.
2. O número que indica o ano em que o americano Alexander Graham Bell inventou o telefone é divisível por 2, mas não por 3.
3. O número que indica o ano em que a empresa japonesa Motorola lançou no mercado o walkie-talkie não é divisível por 2 nem por 3.
4. O número que indica o ano em que o holandês Zacharias Janssen fabricou o microscópio é divisível por 2 e por 3.

- (A) 1/ 2/ 3/ 4
- (B) 2/ 3/ 4/ 1
- (C) 4/ 1/ 2/ 3
- (D) 4/ 2/ 1/ 3
- (E) 1/ 3/ 2/ 4

26. A geratriz da dízima periódica $1,757575\dots$ é

- (A) $\frac{175}{99}$.
- (B) $\frac{175}{100}$.
- (C) $\frac{56}{33}$.
- (D) $\frac{58}{33}$.
- (E) $\frac{175}{66}$.

27. A forma fatorada do polinômio $x^3 - 10x^2 + 25x$ é

- (A) $(x^2 - 5)^2$.
- (B) $x(x - 25)$.
- (C) $(x^{1,5} - 5)^2$.
- (D) $x(x - 10)^2$.
- (E) $x(x - 5)^2$.

28. Dados os números reais $y = 7,5$, $w = \sqrt{60}$ e $z = \frac{15}{2}$, é correto afirmar que

- (A) $y = w = z$.
- (B) $y = z > w$.
- (C) $y = z < w$.
- (D) $y = w < z$.
- (E) $y = w \geq z$.

29. Se $x = 256$, $y = 512$ e $z = 1.024$, então $\left(\frac{xy}{z}\right)^8$ é

- (A) 2^{15} .
- (B) 2^{32} .
- (C) 2^{44} .
- (D) 2^{56} .
- (E) 2^{60} .

30. Deseja-se dividir igualmente 986 metros de linha em 17 carretéis. Portanto, cada carretel terá

- (A) 58cm de linha.
- (B) 580cm de linha.
- (C) 5.800cm de linha.
- (D) 58.000cm de linha.
- (E) 580.000cm de linha.

31. Sobre os números racionais e irracionais, analise as afirmações abaixo.

- I. $-8,4$ é um número racional.
- II. $5,404004000\dots$ é uma dízima periódica.
- III. $1,4142135623\dots$ é um número irracional.

É correto o que se afirma em

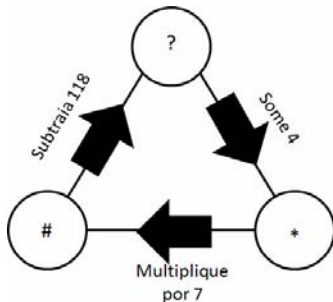
- (A) I, apenas.
- (B) II, apenas.
- (C) III, apenas.
- (D) I e III, apenas.
- (E) I, II e III.

32. Assinale a alternativa que apresenta o valor da expressão

$$-5 + \frac{1}{4} \times 12 - 6 \div \frac{1}{2}.$$

- (A) -14.
- (B) $-\frac{69}{2}$.
- (C) -75.
- (D) -5.
- (E) 31.

33. Cada círculo da figura abaixo possui um número, dê um giro completo no circuito da figura efetuando as operações indicadas. Em seguida, assinale a alternativa que apresenta o número que substitui o asterisco corretamente.



- (A) 15.
(B) 19.
(C) 22.
(D) 27.
(E) 35.

34. Em uma piscina com volume de $0,13\text{dam}^3$ de água foram colocados 54.000 litros de água. Para encher completamente a piscina ainda faltam

- (A) 56.000 litros.
(B) 76.000 litros.
(C) 90.000 litros.
(D) 124.600 litros.
(E) 1.246.000 litros.

35. Se uma pessoa comprasse toda semana a edição de certa revista (totalizando 50 exemplares), o preço avulso seria de R\$9,90. Fazendo uma assinatura anual desta revista, o cliente recebe 50 edições e paga R\$405,90 pela assinatura. Dessa forma, pode-se afirmar que o desconto oferecido é igual a

- (A) 15%.
(B) 17%.
(C) 18%.
(D) 19%.
(E) 21%.

36. Laura saiu de casa às 7h25min e, depois de 3 minutos, ela pegou um ônibus. Ela desceu do ônibus depois de 37 minutos, caminhou por mais 10 minutos e chegou ao seu trabalho. Desse modo, é correto afirmar que Laura chegou ao seu trabalho às

- (A) 8h15min.
(B) 8h05min.
(C) 7h55min.
(D) 7h58min.
(E) 8h13min.

37. Assinale a alternativa que completa corretamente a frase abaixo.

“O número 432 possui _____ divisores naturais”.

- (A) 16.
(B) 17.
(C) 18.
(D) 19.
(E) 20.

38. Ana andou $\frac{3}{10}$ do caminho de sua casa até a farmácia.

Para que Ana percorra a metade do caminho, faltam

- (A) $\frac{7}{10}$ do caminho.
(B) $\frac{3}{5}$ do caminho.
(C) $\frac{3}{10}$ do caminho.
(D) $\frac{1}{2}$ do caminho.
(E) $\frac{1}{5}$ do caminho.

39. Jonas foi a uma banca de frutas e comprou 1,5kg de bananas prata a R\$3,54 o kg, 1 melão a R\$8,59 a unidade, 3 abacaxis a R\$3,29 a unidade e 3kg de maçãs a R\$5,90 o kg. Pagou tudo com uma nota de R\$50,00, recebendo de troco

- (A) R\$9,24.
(B) R\$8,53.
(C) R\$7,32.
(D) R\$5,45.
(E) R\$3,30.

40. Analise as afirmações abaixo sobre as propriedades dos números inteiros (\mathbb{Z}) e dos racionais (\mathbb{Q}).

- I. Na divisão em \mathbb{Z} , não vale a propriedade “comutativa”, mas em \mathbb{Q} vale.
II. Na divisão em \mathbb{Q} , vale a propriedade “fechamento”, mas em \mathbb{Z} não vale.
III. A propriedade da distributiva da multiplicação vale em \mathbb{Z} e em \mathbb{Q} .

É correto o que se afirma em

- (A) I, apenas.
(B) II, apenas.
(C) III, apenas.
(D) I e II, apenas.
(E) II e III, apenas.

CONHECIMENTOS GERAIS

41. Festa que comemora um ano de realização contará com a apresentação de atrações internacionais. A descrição refere-se ao(à)

- (A) Virada Cultural.
- (B) Festa Favela Chic.
- (C) Festival Amazonas.
- (D) Festival de Rock.
- (E) Festival de Música Cristã do Amazonas.

42. No fim do mês de março de 2012, o Centro Cultural dos Povos da Amazônia sediou a Pré-Bienal de Artes do Amazonas, que contou com peças de um grande pintor, desenhista, ilustrador e caricaturista. Trata-se de

- (A) Chico Buarque.
- (B) Ziraldo.
- (C) Di Cavalcanti.
- (D) Paulo Coelho.
- (E) Maurício de Souza.

43. No dia 27 de abril de 2012, Manaus deu início à primeira edição deste evento tão conhecido pelo Brasil. Trata-se do(a) chamado(a)

- (A) Caprichoso 2012.
- (B) Party Rock.
- (C) Festival Amazonas de Ópera.
- (D) Bienal do Livro Amazonas.
- (E) Amazonas Film Festival.

44. A Virada Cultural 2011, em Manaus, teve como novidade uma enquete lançada no Facebook, pela Fundação Municipal de Cultura e Artes (ManausCult). Esta novidade se mantém no evento deste ano, e trata-se da escolha, feita pelo(a)

- (A) público, sobre o artista nacional a se apresentar no evento.
- (B) público, sobre o artista internacional a se apresentar no evento.
- (C) Fundação Municipal de Cultura e Artes (ManausCult), sobre o artista nacional a se apresentar no evento.
- (D) público, sobre o local a ser realizado o evento.
- (E) Fundação Municipal de Cultura e Artes (ManausCult), sobre a decoração dos palcos nos quais serão realizadas as apresentações.

45. Focados no cinema e na comunidade, três projetos foram recebidos pelo Secretário de Cultura do Amazonas, Robério Braga. Sobre estes projetos, assinale a alternativa correta.

- (A) Projeto de reabertura do Cinema Oriental de Parintins, da parceria entre a Secretaria de Cultura do Estado (SEC) e o Cine Theatro Dib Barbosa (de Itacoatiara), que se encontra em atividade; e da construção do Hakko Kaikan (centro cultural) da Vila Amazônia, comunidade de imigrantes japoneses próximo ao município de Parintins.
- (B) Projeto de criação do Cinema Oriental de Parintins e do Cine Theatro Dib Barbosa, e da construção do Hakko Kaikan (centro cultural) da Vila Amazônia, comunidade de imigrantes japoneses próximo ao município de Parintins.
- (C) Projeto de criação do Cinema Oriental de Parintins e de reabertura do Cine Theatro Dib Barbosa, e da construção do Hakko Kaikan (centro cultural) da Vila Amazônia, comunidade de imigrantes japoneses próximo ao município de Parintins.
- (D) Projeto de reabertura do Cinema Ocidental de Parintins, da parceria entre a Secretaria de Cultura do Estado (SEC) e o Cine Theatro Dib Barbosa, que se encontra em atividade, e da reabertura do Hakko Kaikan (centro cultural) da Vila Amazônia, comunidade de imigrantes japoneses próximo ao município de Parintins.
- (E) Projeto de reabertura do Cinema Ocidental de Parintins, da parceria entre a Secretaria de Cultura do Estado (SEC) e criação do Cine Theatro Dib Barbosa, e da reabertura do Hakko Kaikan (centro cultural) da Vila Amazônia, comunidade de imigrantes japoneses próximo ao município de Parintins.

46. Leia o trecho abaixo e, em seguida, assinale a alternativa que preenche correta e respectivamente a lacuna.

Os Servidores Públicos da Saúde e Especialista em Saúde Médica da Prefeitura Municipal de Manaus receberão, a partir do dia 2 de abril de 2012, recomposição salarial no percentual de _____. De acordo com Decreto nº 1.504, de 27 de março de 2012, serão contemplados os servidores contratados sob o Regime de Direito Administrativo e Celetistas do Município de Manaus.

- (A) 10% (dez por cento)
- (B) 20% (vinte por cento)
- (C) 30% (trinta por cento)
- (D) 40% (quarenta por cento)
- (E) 50% (cinquenta por cento)

47. Oito países vão dividir US\$102,6 milhões para combater o desmatamento. O anúncio do rateio do Fundo Amazônia deverá ser divulgado pelo Governo brasileiro durante a Rio+20. Sobre o assunto, marque V para verdadeiro ou F para falso e, em seguida, assinale a alternativa que apresenta a sequência correta.

() O anúncio do rateio do fundo deverá ser anunciado pelo Governo brasileiro na conferência sobre o desenvolvimento sustentável Rio+20, que acontece de 20 a 22 de junho, no Rio de Janeiro.

() Segundo o diretor do departamento da América do Sul, do Ministério de Relações Exteriores (MRE), e representante do Brasil na OTCA, Clemente Baena Soares, a organização vai encaminhar imediatamente o projeto de enquadramento jurídico ao Banco Nacional de Desenvolvimento Nacional (BNDES), para que os países da cooperação amazônica possam acessar os recursos do fundo.

() O Fundo Amazônia já recebeu US\$94,4 milhões em doações da Noruega, US\$3,9 milhões da Alemanha e US\$4,3 milhões da Petrobras.

- (A) V/ F/ V
- (B) F/ V/ F
- (C) F/ F/ F
- (D) V/ V/ V
- (E) V/ V/ F

48. Leia o trecho abaixo e, em seguida, assinale a alternativa que preenche corretamente a lacuna.

O desembargador _____ foi eleito, por 11 votos a 8, o novo presidente do Tribunal de Justiça do Amazonas (TJAM). A votação, realizada na manhã do dia 27 de março de 2012, na sede do Tribunal, chegou a ser anulada após o desaparecimento de uma cédula de votação.

- (A) Luís Wilson Barroso
- (B) João Simões
- (C) Ari Moutinho
- (D) José Serra
- (E) Eduardo Paes

49. O presidente do Instituto Municipal de Planejamento Urbano (Implurb), Manoel Ribeiro, entregou, na última sexta-feira (27), à Câmara Municipal de Manaus (CMM) projeto do Plano Diretor da cidade. O documento foi recebido pelo presidente da Casa, Isaac Tayah (PSD), que tem até o final do ano para colocá-lo em votação. Sobre o assunto, analise as assertivas abaixo.

- I. O projeto do Plano Diretor deve ser analisado e discutido por várias comissões técnicas.
- II. O propósito é rediscutir o plano, permitindo o acesso das informações à população.
- III. O estudo do Plano Diretor demorou seis meses para ser concluído pelo Implurb, foi alvo de questionários distribuídos a 2,5 manauenses e da realização de 18 audiências públicas, que tiveram a participação de mais de três mil pessoas. Todas as informações obtidas nos estudos foram reunidas em um banco de dados, que passaram por um crivo técnico e jurídico.

É correto o que se afirma em

- (A) I e II, apenas.
- (B) II e III, apenas.
- (C) I e III, apenas.
- (D) I, apenas.
- (E) I, II e III.

50. A Prefeitura de Manaus ganhou novas secretarias. Sobre o assunto, analise as assertivas abaixo.

- I. Assumindo a Manaustur no lugar de Vital da Costa Melo, foi nomeada Maria Francinete Correia de Lima, a qual ocupava o cargo de diretora do Departamento Administrativo e Financeiro na pasta.
- II. Para a Semtrad foi nomeado o vice-presidente Juscinei Reis Sêmen, antes assessor técnico nível II da instituição e que substituiu João Thomé Mestrinho, o qual deixou o cargo para tentar uma vaga em cargo eletivo no pleito deste ano.
- III. Para a Manaustur foi nomeada a diretora-presidente Idage Maria Abraham Fernandes, a qual exercia a função de diretora de Área na instituição. Ela substituiu Arlindo Júnior, que voltou à Câmara Municipal de Manaus (CMM) para ocupar sua cadeira e tentar a reeleição.

É correto o que se afirma em

- (A) I e II, apenas.
- (B) III, apenas.
- (C) I e III, apenas.
- (D) II e III, apenas.
- (E) I, II e III.

51. Instalados na rua Barão de São Domingos e na rua dos Barés, ambas no centro de Manaus, lojistas tomam algumas precauções para evitar prejuízos com um fenômeno que ocorreu também em 2009. A situação preocupa também comerciantes da Feira da Manaus Moderna, que ficam próximos à rua Barão de São Domingos. Esses cuidados estão sendo tomados devido

- (A) aos fortes ventos que assolam a região nessa época do ano.
- (B) à cheia do rio Negro.
- (C) à poluição, que aumenta bastante nessa época do ano.
- (D) ao aumento da temperatura.
- (E) à falta de água para a população do centro da cidade.

52. Leia o trecho abaixo e, em seguida, assinale a alternativa que preenche corretamente a lacuna.

O Congresso Nacional recebeu, em 27 de março de 2012, o(a) _____, cuja pauta mínima é composta por 16 projetos prioritários relacionados à regulamentação da economia, meio ambiente, legislação trabalhista, infraestrutura e sistema tributário.

- (A) projeto Amazônia para todos
- (B) projeto de reflorestamento da Floresta Amazônica
- (C) agenda de visitação à Floresta amazônica
- (D) projeto que proíbe a entrada de estrangeiros na Floresta Amazônica
- (E) Agenda Legislativa da Indústria de 2012

53. Empresários de um país asiático estão em busca de novos mercados para transferir tecnologia e fazer investimentos e o Brasil é o parceiro ideal, segundo o cônsul geral desse país em Manaus. De acordo com ele, no Amazonas, a presença do país asiático funciona muito bem, propondo mediar conversas entre os empresários do país e a Suframa para fortalecer e ampliar a presença deste país no Polo Industrial de Manaus (PIM). Desse modo, assinale a alternativa que apresenta o país em questão.

- (A) Austrália.
- (B) Japão.
- (C) Rússia.
- (D) Ucrânia.
- (E) Botswana.

54. Leia o trecho abaixo e, em seguida, assinale a alternativa que preenche correta e respectivamente as lacunas.

O Diário Oficial da União publicou, em 9 de abril de 2012, o Protocolo ICMS 22, celebrado entre os governos do Amazonas e _____, que dispõe sobre as operações realizadas por estabelecimentos industriais localizados na Zona Franca de Manaus (ZFM) por meio de armazém geral localizado no município de Ipojuca, _____, na Região Metropolitana de _____.

- (A) Bahia/ na Bahia/ Salvador
- (B) Ceará/ no Ceará/ Fortaleza
- (C) Alagoas/ em Alagoas/ Maceió
- (D) Sergipe/ em Sergipe/ Aracaju
- (E) Pernambuco/ em Pernambuco/ Recife

55. Até o fim do primeiro semestre de 2012, Manaus deve contar com mais sete bancos comunitários. Para evitar a baixa adesão dos comerciantes, a Secretaria Municipal de Trabalho e Desenvolvimento Social (Semtrad) deve inaugurar os novos bancos já com recurso disponível para o empréstimo produtivo, orçado em R\$50 mil para cada um. Hoje, estão em funcionamento na cidade dois bancos comunitários, certificados pela rede brasileira de bancos comunitários. É correto afirmar que os bancos comunitários visam a estimular o

- (A) aumento das vendas de produtos nacionais com moedas nacionais e estrangeiras.
- (B) desenvolvimento econômico local através de moedas estrangeiras.
- (C) aumento do turismo local.
- (D) desenvolvimento econômico local através de moeda social.
- (E) aumento das vendas de produtos nacionais com dólar e euro.

56. A regulamentação da criação do banco de dados nacional de DNA foi aprovada, recentemente, pela Câmara dos Deputados. Em Manaus, a partir do material genético, foi possível relacionar os crimes aos respectivos criminosos. Com essa regulamentação, a medida visa a(à)

- (A) auxiliar as investigações e facilitar a elucidação de crimes violentos.
- (B) auxiliar a denúncia de crimes e restabelecer a ordem social.
- (C) fiscalizar os profissionais da perícia policial no trabalho de coleta de materiais.
- (D) coletar provas para armazenamento em laboratórios climatizados para entrar no banco de dados.
- (E) diminuição dos crimes contra o patrimônio público e privado.

57. Com a aproximação da copa do mundo, Manaus se prepara para receber os turistas e oferecer um bom atendimento durante este período. Para isto, o projeto "e-Taxi" atenderá os taxistas com cursos de língua inglesa e espanhola. O projeto em questão oferecerá

- (A) monitoramento via GPS como auxílio aos profissionais da área, a fim de garantir melhor opção para o turista.
- (B) celulares com identificação de voz e GPS, além de tarifas diferenciadas durante o período do evento.
- (C) tablets com aplicativos para o turismo, além de aceitar pagamentos por cartão de crédito.
- (D) sistema de rastreamento contra roubos na região, além de apoio de patrulhamento policial.
- (E) rotas alternativas para que o trânsito seja evitado e o profissional possa transportar mais passageiros em menor tempo.

58. Recentemente, em Manaus, foi realizada Audiência Pública, discutindo a mobilidade urbana da região, que contou com a participação de estudiosos e especialistas em arquitetura e urbanismo. O principal objetivo desta discussão foi

- (A) controlar o transporte da região e promover a sustentabilidade da área.
- (B) incentivar o uso de meios de transporte alternativos para evitar os engarrafamentos da região.
- (C) promover propostas políticas para o controle de tráfego.
- (D) definir diretrizes e soluções para o espaço urbano, visando a uma melhor qualidade de vida.
- (E) reduzir o número de acidentes causados por imprudência e negligência.

59. O decreto, que declara como em situação de emergência o Município de Manaus, foi assinado pelo prefeito, autorizando a Subsecretaria Municipal de Defesa Civil (Subdec) a desencadear o Plano Emergencial de Resposta aos Desastres. Esta medida preocupa-se com

- (A) a poluição do ar, a qual impossibilita uma boa qualidade de vida para a população.
- (B) as enchentes que podem afetar a região.
- (C) a pesca predatória em regiões de preservação ambiental.
- (D) o combate ao tráfico de drogas nas regiões de fronteira.
- (E) a importação de produtos chineses, que prejudica a comercialização dos produtos da zona franca de Manaus.

60. A área central de Manaus foi alvo da ação da Secretaria Municipal de Meio Ambiente e Sustentabilidade (Semmas), que autuou lojas na região. Esta operação de fiscalização teve como finalidade

- (A) combater a incidência de poluição sonora provocada pelos estabelecimentos comerciais instalados na região.
- (B) coibir o comércio ambulante.
- (C) combater a incidência de poluição visual, seguindo como exemplo o estado de São Paulo.
- (D) recolher produtos em desacordo com as normas do sindicato do comércio que não apresentassem nota fiscal.
- (E) autuar comerciantes sem registro em carteira profissional e que descartam lixo em via pública.