


NÍVEL MÉDIO CARGO 13

AUXILIAR TÉCNICO EM COMPUTAÇÃO



INSTRUÇÕES ESPECIAIS

- 01** Você está recebendo o seu Caderno de Questões, contendo 50 (cinquenta) questões objetivas de múltipla escolha, numeradas de 01 a 50, em ordem sequencial. Confira a sequência numérica de seu Caderno de Questões antes de iniciar a resolução, assim como o número de páginas, comunicando, imediatamente, o Fiscal de Sala, em caso de repetição ou ausência de questão ou página.
- 02** Você deve conferir, na capa do Caderno de Questões e no rodapé das páginas internas, o nome do cargo ao qual este Caderno de Questões se refere. Caso você tenha recebido um Caderno de Questões que não corresponda ao cargo para o qual está inscrito, comunique imediatamente o Fiscal de Sala e exija o Caderno de Questões correto.
- 03** As respostas das questões objetivas de múltipla escolha do Caderno de Questões deverão ser transcritas para o Cartão Resposta com caneta esferográfica de tinta azul ou preta.
- 04** Para cada questão da Prova Objetiva de Múltipla Escolha existirão 05 (cinco) alternativas de resposta (A, B, C, D e E), das quais apenas uma será correta, de acordo com o comando da questão. A marcação de mais de uma no Cartão Resposta anula, automaticamente, a resposta da questão.
- 05** O tempo máximo disponível para realização da prova é de 03h30 (três horas e trinta minutos), já incluído o tempo destinado à identificação e ao preenchimento do Cartão Resposta.
- 06** Somente depois de decorridos 60 minutos do início da prova, o candidato poderá entregar o seu Caderno de Questões e o seu Cartão Resposta, e retirar-se da sala de prova.
- 07** Os 3 (três) últimos candidatos só poderão sair da sala de prova juntos.
- 08** Será permitido ao candidato levar consigo o Caderno de Questões e o Gabarito desde que nos últimos 30 (trinta) minutos antes do término da prova.

ATENÇÃO

Escreva no espaço apropriado do **Cartão Resposta**, com a sua caligrafia usual, a seguinte "frase mestra" de Mário Quintana:

"A poesia não se entrega a quem a define."

A transcrição da "frase mestra" é obrigatória e servirá para identificar o Cartão Resposta do candidato, bem como possibilitar o Exame Pericial Grafotécnico, quando for o caso.



Após a leitura do texto, responda o que se pede no comando das questões.

As Esquisitices do Amor

Eu estava quieta, só ouvindo. Éramos eu e mais duas amigas numa mesa de restaurante e uma delas se queixando, pela trigésima vez, do seu namoro caótico, dizendo que não sabia por que ainda estava com aquele sequelado etcetera, etcetera. Estava planejando terminar com o cara de novo, e a gente sabia o quanto essa mulher sofria longe dele. Eu estava me divertindo diante desse relato mil vezes já escutado: adoro histórias de amor meio dramáticas. Foi então que a terceira componente da mesa, que é psicanalista, disse a frase definitiva: "Eu, se fosse você, não terminava. Às vezes ficamos mais presas a um amor quando ele termina do que quando nos mantemos na relação".

Tacada de mestre.

A partir daí, começamos a debater essa inquestionável verdade: em determinadas relações, ficamos muito mais sufocadas pela ausência do homem que amamos do que pela presença dele. Creio que vale para ambos os sexos, aliás. Um namoro ou casamento pode ser questionado dia e noite: será que tem futuro? Será que vou segurar a barra de conviver com alguém tão diferente de mim? Será que passaremos a vida assim, às turras? Óbvio que não há respostas para essas perguntas, elas são feitas pelo simples hábito de querer adivinhar o dia de amanhã, mas a verdade é que mesmo sem certificado de garantia, a relação prossegue, pois, além de dúvidas, existe amor e desejo. E isso ameniza tudo. Os dois estão unidos nesse céu e inferno. Até que um dia, durante uma discussão, um dos dois se altera e termina tudo. Alforria? Nem sempre. Aí é que pode começar a escravidão.

Nossa amiga queixosa, a da relação ioiô, perdia o rumo cada vez que terminava com o namorado. Aí mesmo é que não pensava em outra coisa. Só nele. Não conseguia se desvencilhar, mesmo quando tentava. Todas as suas atitudes ficavam atreladas a esse homem: queria vingar-se dele, ou fugir dele, ou atazaná-lo – cada dia uma decisão, mas todas relacionadas a ele. Só quando reatavam (e sempre reatavam) é que ela descansava um pouco desse stress emocional e se reconciliava com ela mesma.

Eu nunca havia analisado o assunto por esse ângulo. Sempre achei que a sensação de asfixia era derivada de uma união claustrofóbica e a sensação de liberdade só era conquistada com o retorno à solteirice. Mas o amor, de fato, possui artimanhas complexas.

Minha amiga finalmente terminou sua relação tumultuada e hoje está vivendo um casamento mais maduro e sereno. Aquele nosso papo foi há alguns anos, mas nunca mais esqueci dessa inversão de sentimentos que explica tanta angústia e tanta neura. Por que temos urgência de abandonar um amor pelo fato de ele não ser fácil? Quem garante que sem esse amor a vida não será infinitamente mais difícil? Às vezes é melhor uma rendição do que fugir de um amor que não foi vivido até o fim. Foi isso que nossa amiga psicanalista quis dizer durante o jantar: não antecipe o término do que ainda não acabou, espere a relação chegar até a rapa, e aí sim.

Fonte: MEDEIROS, Martha. Feiz por nada. 6 ed. Porto Alegre: L&PM, 2011, p. 34-35.

Questão 01

Marque a expressão do texto que resume, segundo a narradora, a maneira eficiente de análise da questão feita pela psicanalista:

- A) "Eu estava me divertindo diante desse relato [...]".
- B) "Às vezes ficamos mais presas a um amor [...]".
- C) "Eu nunca havia analisado o assunto por esse ângulo."
- D) "Tacada de mestre."
- E) "A partir daí, começamos a debater essa inquestionável verdade [...]".

Questão 02

O adjetivo que qualifica pejorativamente o namorado da amiga da narradora é:

- A) dramáticas.
- B) sequelado.
- C) caótico.
- D) quieta.
- E) novo.

Questão 03

"Eu, se fosse você, não terminava.". Quanto à pontuação, segundo a norma culta, é CORRETO afirmar:

- A) As vírgulas marcam a separação da oração coordenada da oração principal.
- B) As vírgulas separam a oração adverbial condicional intercalada no período.
- C) As vírgulas separam o sujeito do predicado.
- D) As vírgulas separam a oração principal da oração subordinada substantiva.
- E) As vírgulas separam o verbo de seu objeto.

Questão 04

Martha Medeiros usa duas vezes: "etcetera, etcetera" para destacar a atitude da amiga que aparece claramente exposta em:

- A) "[...] diante desse relato mil vezes já escutado [...]".
- B) "Creio que vale para ambos os sexos [...]".
- C) "Óbvio que não há respostas para essas perguntas [...]".
- D) "Eu estava quieta, só ouvindo."
- E) "Aí é que pode começar a escravidão."

Questão 05

Quando analisa o caso amoroso da amiga, a narradora o chama de "relação ioiô":

- A) pela inconstância, representada pela subida e descida do brinquedo.
- B) pela presença de uma terceira pessoa na relação.
- C) pelas frequentes agressões físicas entre o casal.
- D) pelas intromissões de todos na relação.
- E) pela durabilidade e firmeza do namoro do casal.

Questão 06

Assinale a palavra que estabelece relação semântica oposta à palavra "escravidão" em: "Aí é que pode começar a escravidão.":

- A) claustrofóbica.
- B) atazaná-lo.
- C) inferno.
- D) ameniza.
- E) alforria.

Observe o fragmento seguinte e responda às questões 7 e 8:
"Aquele nosso papo foi há alguns anos [...]".

Questão 07

- Sobre o excerto é CORRETA a análise presente na alternativa:
- A) O acréscimo da palavra "atrás", após "anos", estaria correto de acordo com a norma culta.
 - B) O verbo "haver" (há) poderia ser substituído por "fazer" (faziam).
 - C) "Aquele" é o núcleo do sujeito.
 - D) "foi há" pode ser substituído, corretamente, por "deve fazer".
 - E) "deviam haver" substitui "foi há", obedecendo à norma culta.

Questão 08

- Sobre os pronomes presentes no excerto é INCORRETO afirmar que:
- A) há três pronomes no fragmento.
 - B) o primeiro pronome é demonstrativo.
 - C) "nosso" é pronome possessivo.
 - D) "alguns anos" e "anos alguns" têm sentidos equivalentes.
 - E) funcionam como adjuntos adnominais.

Questão 09

- A relação de sentido de opção ou alternância pretendida pelo enunciado é explícita no fragmento:
- A) "Um namoro ou casamento pode ser questionado dia e noite [...]".
 - B) "Os dois estão unidos nesse céu e inferno."
 - C) "Mas o amor, de fato, possui artimanhas complexas."
 - D) "Só nele."
 - E) "Só quando reatavam [...]".

Questão 10

- O uso do acento grave (crase) em: "[...] com o retorno à solteirice." é equivalente ao que ocorre na alternativa:
- A) Psicanálise pode ser útil à relação amorosa.
 - B) "Às vezes ficamos mais presas a um amor [...]".
 - C) "Às vezes é melhor uma rendição do que fugir de um amor [...]".
 - D) "Será que passaremos a vida assim, às turras?"
 - E) As relações à ioiô são estressantes.

Questão 11

- Em: "E isso ameniza tudo.", o termo "isso" faz referência:
- A) a dúvidas.
 - B) à relação.
 - C) a amor e desejo.
 - D) à garantia.
 - E) a certificado.

Questão 12

- No 3º parágrafo, Martha Medeiros repete, três vezes, o verbo "ser" (será) com a intenção de:
- A) evidenciar a eternidade das brigas.
 - B) mostrar o tempo presente como dominante nos namoros.
 - C) destacar a incerteza sobre o futuro da relação.
 - D) relacionar as brigas passadas como entraves no relacionamento.
 - E) diversificar o uso dos termos.

NÍVEL MÉDIO

Questão 13

- Em todas as alternativas seguintes, ocorre um predicado nominal (verbo de ligação + predicativo), EXCETO em:
- A) "Eu estava quieta [...]".
 - B) "[...] que é psicanalista [...]".
 - C) "[...] mas a verdade é [...]".
 - D) "Todas as suas atitudes ficavam atreladas a esse homem [...]".
 - E) "[...] a relação chegou até a rapa [...]".

Observe o fragmento seguinte e responda às questões 14 e 15: "Por que temos urgência de abandonar um amor pelo fato de ele não ser fácil?"

Questão 14

- Ao analisar "de ele", é CORRETO afirmar que:
- A) não houve contração por "ele" ser sujeito.
 - B) "dele" seria opcional.
 - C) "dele" obedeceria à norma culta.
 - D) "de" poderia ser substituído por "com".
 - E) em "dê" falta acento circunflexo.

Questão 15

- A grafia do "Por que", no fragmento, deve-se:
- A) a estar em uma resposta.
 - B) a estar substantivado.
 - C) a ser equivalente a "por que motivo".
 - D) à equivalência a "por qual".
 - E) à falha na grafia, deveria ser "Por quê".

MATEMÁTICA - RACIOCÍNIO LÓGICO

Questão 16

- Diminuindo-se 07 anos da idade de Manoel, obtém-se $\frac{3}{4}$ de sua idade. Então, pode-se, CORRETAMENTE, afirmar que a idade de Manoel, em anos, é de:
- A) 24.
 - B) 26.
 - C) 28.
 - D) 16.
 - E) 18.

Questão 17

- Consultado um grupo com 400 pessoas sobre as emissoras de televisão a que, habitualmente, assistem, verificou-se que:
- 280 pessoas assistem ao canal R.
 - 250 pessoas assistem ao canal M.
 - 200 pessoas assistem aos dois canais, R e M.

- Portanto, o número de pessoas deste grupo consultado que não assistem ao canal R e nem ao canal M é de:
- A) 70.
 - B) 62.
 - C) 72.
 - D) 80.
 - E) 65.

Questão 18

- Um professor pediu aumento salarial na escola em que trabalha alegando que o valor que recebe não cobre suas reais necessidades, nem paga a qualidade de seu trabalho. Na ocasião, seu salário era de R\$1.650,00 e sua proposta foi de uma correção de 14%. Ao final do mês, foi lhe concedido um aumento, passando este professor a receber um salário de R\$1.848,00. De quantos por cento foi a correção salarial dada ao professor?

- A) 14%
- B) 20%
- C) 10%
- D) 15%
- E) 12%

Questão 19

Uma fatura de R\$10.000,00 sofrerá descontos sucessivos de 8% e de mais 3%. Após os dois descontos, esta fatura será liquidada com o valor de:

- A) R\$9.832,00
- B) R\$8.924,00
- C) R\$8.936,50
- D) R\$8.632,00
- E) R\$8.004,00

Questão 20

Um Banco oferece um rendimento de 11% ao ano para aplicações feitas em uma certa modalidade sob o regime de juros compostos. Um cliente deste Banco deposita R\$5.000,00 nesta modalidade de aplicação. Ao final de "n" anos, seu montante será igual a:

- A) $5.000 (1,11)^n$
- B) $5.000 (0,11)^n$
- C) $5.000 (11)^n$
- D) $5.000 (11)^n$
- E) $5.000 (1,10)^n$

Questão 21

Abrindo 4 torneiras idênticas, é possível encher um depósito de água em 1 hora e 12 minutos. Se forem abertas 9 torneiras iguais a estas, o depósito ficará cheio em:

- A) 15 minutos.
- B) 32 minutos.
- C) 1 hora.
- D) 42 minutos.
- E) 36 minutos.

Questão 22

O lucro mensal de uma Fábrica foi dividido entre seus 3 sócios: A, B e C na proporção 3, 5 e 9, respectivamente. Sabendo que este lucro foi de R\$34.000,00, pergunta-se: Quanto recebeu o sócio B?

- A) R\$ 6.800,00
- B) R\$14.000,00
- C) R\$12.500,00
- D) R\$10.000,00
- E) R\$11.500,00

Leia as informações seguintes e responda as questões 23, 24 e 25: Desejando comprar livros didáticos para a alfabetização de adultos, uma Comissão pesquisou os preços cobrados por 10 editoras e obteve os seguintes valores em reais:

5,00; 5,00; 5,30; 5,30; 5,40; 5,50; 5,50; 5,50; 5,75; 6,20

Questão 23

Qual a média aritmética destes valores?

- A) 5,50
- B) 5,30
- C) 5,445
- D) 5,545
- E) 5,25

Questão 24

Qual a mediana destes valores?

- A) 5,40
- B) 5,30
- C) 5,20
- D) 5,45
- E) 5,25

Questão 25

Qual a moda destes valores?

- A) 5,00
- B) 5,30
- C) 5,75
- D) 6,20
- E) 5,50

INFORMÁTICA

Questão 26

No Sistema Operacional Windows XP, é possível criar atalhos para pastas dentro do disco rígido. Para criar um atalho para uma pasta, e colocar esse atalho na "Área de trabalho", deve-se:

- A) fazer um clic com o botão direito do mouse na pasta, e selecionar a opção "Enviar para" e "Área de Trabalho (criar atalho)".
- B) fazer um clic com o botão direito do mouse na pasta, e selecionar a opção "Habilitar atalho na Área de Trabalho".
- C) selecionar "Desktop", clicar na opção "Novo", e, em seguida, "Pasta".
- D) abrir o "Painel de Controle", e selecionar a opção "Atalhos".
- E) selecionar a pasta e pressionar a tecla F2.

Questão 27

A barra de tarefas no Sistema Operacional Windows XP agrega vários elementos. Analise os elementos a seguir e selecione a alternativa CORRETA:

- I- Botão do Menu "Iniciar".
 - II- Área de Notificação.
 - III- Barra de Inicialização Rápida.
 - IV- Documentos Recentes.
 - V- Backup do Sistema.
- A) Somente o item II pertence à barra de tarefas.
 - B) Somente o item IV pertence à barra de tarefas.
 - C) Somente os itens I e V pertencem à barra de tarefas.
 - D) Somente os itens I, II e III pertencem à barra de tarefas.
 - E) Nenhum dos itens listados pertence à barra de tarefas.

Questão 28

Marque a alternativa que complete corretamente as lacunas do trecho seguinte: "O atalho _____ no Microsoft Word altera o formato da palavra selecionada para _____":

- A) Ctrl+A / Arial.
- B) Ctrl+I / Itálico.
- C) Ctrl+P / Parágrafo.
- D) Ctrl+L / Sublinhado.
- E) F12 / Tamanho 12.

Questão 29

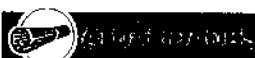
No Microsoft Excel, ao pressionar a tecla F2 em uma célula,:

- A) o formato da célula é alterado para "Moeda".
- B) o formato da célula é alterado para "Porcentagem".
- C) a célula se mescla com a célula à direita.
- D) edita-se a célula ativa posicionando o cursor no final do seu conteúdo.
- E) aplica-se borda à célula.

Questão 30

O campo CCO (ou BCC em aplicativos em inglês) de um e-mail se refere:

- A) à importância do e-mail para o destinatário.
- B) ao ato de confirmação de leitura.
- C) a endereços de navegadores que receberão o e-mail em cópia.
- D) a endereços de correio eletrônico que receberão o e-mail em cópia, mas cujos endereços não serão vistos pelos receptores do e-mail.
- E) ao assunto do e-mail.



Questão 31

"Problema no motor impede lançamento de foguete nos EUA. Um problema no motor do foguete Falcon 9 da empresa SpaceX impediu no último momento o aguardado lançamento da cápsula Dragon rumo à Estação Espacial Internacional (ISS) neste sábado (19), anunciou Elon Musk, fundador e presidente executivo da SpaceX. Este seria o primeiro voo privado rumo à ISS, uma missão destinada a iniciar uma nova era para o transporte espacial. A pressão em uma câmara de um dos motores do primeiro estágio do Falcon 'excedia levemente o limite técnico', anunciou Musk em sua conta do twitter. 'Reajustaremos este limite para realizar uma nova tentativa nos próximos dias', acrescentou. Se o problema for solucionado a tempo, a próxima oportunidade de lançamento será 22 de maio a partir da base aérea de Cabo Canaveral, perto do Centro Espacial Kennedy."

Fonte: Portal Folha UOL, 19.05.2012.

Em qual região dos EUA ocorreu este fato narrado na aludida reportagem?

- A) Flórida.
- B) Califórnia.
- C) Minesota.
- D) Texas.
- E) Nebraska.

Questão 32

"Uma bomba explodiu neste sábado (19) diante do instituto profissional Morvillo Falcone, na localidade de Brindisi, matando uma pessoa e ferindo outras sete pessoas, informou o funcionário da Defesa Civil regional Fabiano Amati [...]. Segundo os moradores da área, a explosão foi muito potente e destruiu os vidros do colégio e os dos edifícios contíguos em um raio de 200 metros. A explosão aconteceu às 2h45 (horário de Brasília) e, segundo os investigadores, os artefatos de fabricação caseira estavam unidos a dois bujões de gás escondidos em mochilas que foram colocadas em um contêiner diante do colégio."

Fonte: Portal Folha UOL, 19.05.2012.

Em qual país ocorreu este fato?

- A) Síria.
- B) Israel.
- C) Grécia.
- D) Itália.
- E) Chechênia.

NÍVEL MÉDIO

Questão 33

"IPO do Face faz mais oito novos bilionários. A empresa, que levantou US\$ 18,4 bilhões no mercado, vale agora US\$ 104,2 bilhões. Com isso, aos 28 anos recém-completados, o diretor-executivo e um dos fundadores da rede, Mark Zuckerberg, passa a ter US\$ 19,3 bilhões, ficando como o 29º homem mais rico do mundo pelo ranking da Bloomberg em tempo real."


Fonte: Portal Globo, 18.05.2012.

O que significa o IPO do Face?

- A) Significa a compra de todas as ações da internet pelo Facebook.
- B) Significa a venda das ações do Facebook ao empresário Eike Batista.
- C) Significa a abertura de capital do Facebook.
- D) Significa a mudança de nível das ações do Facebook para o nível classe A.
- E) Significa a decisão do mercado financeiro em conferir ao Facebook o título de maior rede social do mundo.

Questão 34

"Com 29,8 m, enchente em Manaus é a maior em 110 anos." (Fonte: Portal Folha UOL, 17.05.2012). A Figura 1 demonstra as ruas da cidade de Manaus cheias de água. Sobre o assunto, analise os itens seguintes e marque a alternativa CORRETA:



Fonte: Portal Folha UOL.

I- O nível do rio Amazonas ultrapassou na manhã desta quinta-feira (17) em 3 cm a cheia histórica, registrada em 2009, marcando o recorde de 29,8 m. A causa da elevação anormal das águas são as fortes chuvas que ocorrem no sudeste do Amazonas.

II- Segundo o Serviço Geológico do Brasil, o nível deve continuar quebrando recordes. A previsão é que a cheia termine somente no fim do mês de julho, quando acaba o inverno na região e se inicia a vazante, a baixa das águas.

III- A expectativa dos especialistas é que o rio suba até 30,13 m. Segundo o superintendente Marco Oliveira, do Serviço Geológico do Brasil, uma marca histórica era esperada para daqui a cem anos. Mas fenômenos climáticos influenciaram a enchente, assim como a vazante anterior.

IV- O La Niña, resfriamento das águas do Pacífico, aumentou o volume de chuvas em 2009 e 2012. O El Niño, aquecimento das águas do oceano, intensificou a estiagem de 2010. "Considerávamos a cheia de 2009 secular porque a previsão é que ela se repetisse a cada cem anos. Mas tivemos três eventos importantes que associamos aos fenômenos climáticos. Se o sistema climático da Terra está mudando, os fenômenos vão ficar cada vez mais frequentes, com maior intensidade de secas e cheias."

V- A cheia afeta 29.015 pessoas em Manaus. Lojas e pontos turísticos no centro estão alagados. No interior, 52 dos 62 municípios estão em situação de emergência. Há três cidades em calamidade pública. Os governos federal e estadual enviaram R\$ 63,8 milhões para auxílio. Mais de 40 mil famílias já receberam a "bolsa enchente", de R\$ 400.

- A) Apenas os itens I, II e III estão corretos.
- B) Apenas os itens II, IV e V estão corretos.
- C) Apenas os itens I, III e V estão corretos.
- D) Apenas os itens II e IV estão corretos.
- E) Apenas os itens III, IV e V estão corretos.

Questão 35

"Autoridade veta a venda de medicamentos em supermercados." (Fonte: Revista Época, 18.05.2012). Sobre o assunto, apenas NÃO se pode afirmar:

- A) A presidente Dilma Rousseff vetou, nesta sexta-feira (18), a venda de remédios que não exijam prescrição médica em supermercados, armazéns, empórios, lojas de conveniência e similares.
- B) O veto, publicado no Diário Oficial da União, diz que a liberação dificultaria o controle sobre a comercialização, assim como poderia desestimular a automedicação e o uso indiscriminado, prejudicando a saúde pública. A decisão considerou a análise dos ministérios da Saúde e da Cultura.
- C) A possível liberação da venda de medicamentos em supermercados provocou reação no setor farmacêutico. O Sindicato do Comércio Varejista de Produtos Farmacêuticos de São Paulo (Sincofarma) afirmou que iria recorrer ao Judiciário, caso a presidente não vetasse parte do Projeto de Lei de Conversão (PLV) 7/2012.
- D) O Projeto de Lei de Conversão (PLV) surgiu a partir da Medida Provisória n.º 549/2011, que trata de isenção de impostos sobre produtos destinados a pessoas com deficiência. Um dos artigos previa a ampliação da permissão de venda.
- E) O presidente do Sindicato das Farmácias do Distrito Federal, Felipe de Faria, disse que a decisão dará mais segurança para o consumidor na hora de comprar o medicamento, porque ele poderá ter a orientação de um farmacêutico. Em sua opinião: "O supermercado vende alimento, a farmácia vende remédio."



Questão 36

As Regiões de Saúde serão instituídas pelo Estado, em articulação com os Municípios, respeitadas as diretrizes gerais pactuadas na Comissão Intergestores Tripartite – CIT. Para ser instituída, nos termos do art. 5º do Decreto n.º 7.508/11, a Região de Saúde deve conter, no mínimo, ações e serviços de:

- I- atenção terciária;
- II- urgência e emergência;
- III- atenção psicossocial;
- IV- atenção ambulatorial especializada e hospitalar;
- V- vigilância em saúde.

Estão CORRETOS os itens:

- A) I, II e III.
- B) II, III, IV e V.
- C) I, III e V.
- D) I, IV e V.
- E) I, II e IV.

Questão 37

De acordo com a Lei n.º 8.142/90, para os Municípios receberem os recursos do Fundo Nacional de Saúde (FNS) alocados como cobertura das ações e serviços de saúde a serem implementados pelos Municípios, estes deverão contar com, EXCETO:

- A) Fundo de Saúde.
- B) plano de saúde.

- C) contrapartida de recursos para a saúde no respectivo orçamento.
- D) Comissão de elaboração do Plano de Carreira, Cargos e Salários (PCCS), previsto o prazo de dois anos para sua implantação.
- E) Conselho de Saúde, com composição a ser definida pelo Município.

Questão 38

As ações e serviços de saúde, executados pelo Sistema Único de Saúde (SUS), seja diretamente ou mediante participação complementar da iniciativa privada, serão organizados de forma regionalizada e hierarquizada em níveis de complexidade crescente. Sobre o assunto, de acordo com a Lei n.º 8.080/1990, NÃO se pode afirmar:

- A) Os municípios poderão constituir consórcios para desenvolver em conjunto as ações e os serviços de saúde que lhes correspondam.
- B) Aplica-se aos consórcios administrativos intermunicipais o princípio da direção única, e os respectivos atos constitutivos disporão sobre sua observância.
- C) No nível municipal, o Sistema Único de Saúde (SUS), poderá organizar-se em distritos de forma a integrar e articular recursos, técnicas e práticas voltadas para a cobertura total das ações de saúde.
- D) Serão criadas comissões intersetoriais de âmbito municipal, subordinadas ao Conselho Estadual de Saúde, integradas pelos Ministérios e órgãos competentes e por entidades representativas da sociedade civil.
- E) As comissões intersetoriais terão a finalidade de articular políticas e programas de interesse para a saúde, cuja execução envolva áreas não compreendidas no âmbito do Sistema Único de Saúde (SUS).

Questão 39

Nos termos do art. 200 da Lei n.º 7.502/1990, será aplicada a pena de demissão a bem do serviço público ao funcionário que:

- I- revelar segredos de que tenha conhecimento em razão do cargo, desde que o faça culposamente e com prejuízo para o Município ou particulares;
- II- lesar o patrimônio ou os cofres públicos;
- III- exercer advocacia administrativa;
- IV- apresentar com dolo declaração falsa em matéria de salário-família, com prejuízo da responsabilidade civil e de procedimento criminal que no caso couber.

Pode-se afirmar, após a leitura dos itens anteriores, que:

- A) apenas os itens I e II estão corretos.
- B) apenas os itens III e IV estão corretos.
- C) apenas os itens II e III estão corretos.
- D) apenas os itens I, II e III estão corretos.
- E) apenas os itens II, III e IV estão corretos.

Questão 40

"A Constituição de 1988 é a primeira Carta Brasileira a consagrar o direito fundamental de proteção à saúde [...]. Atualmente, a Constituição brasileira não apenas prevê expressamente a existência de direitos sociais (artigo 6º), especificando seu conteúdo de forma de prestação, como também não faz distinção entre os direitos e deveres individuais e coletivos e os direitos sociais ao estabelecer que os direitos e garantias fundamentais têm aplicação imediata."

Fonte: MENDES, Gilmar Ferreira. BRANCO, Paulo Gustavo Gonet. Curso de Direito Constitucional. 6.ed. São Paulo: Saraiva, 2011. p. 685.

Com base nas noções de direito constitucional e no texto da Constituição da República que faz referência à saúde, analise as afirmativas seguintes e marque a única ERRADA:

- A) São direitos dos trabalhadores urbanos e rurais, além de outros que visem à melhoria de sua condição social, a redução dos riscos inerentes ao trabalho, por meio de normas de saúde, higiene e segurança.
- B) É competência comum da União, dos Estados, do Distrito Federal e dos Municípios cuidar da saúde e assistência pública, da proteção e garantia das pessoas portadoras de deficiência.
- C) O salário mínimo, fixado em lei, nacionalmente unificado, capaz de atender a suas necessidades vitais básicas e às de sua família com moradia, alimentação, educação, saúde, lazer, vestuário, higiene, transporte e previdência social, com reajustes periódicos que lhe preservem o poder aquisitivo, sendo vedada sua vinculação para qualquer fim, é um direito dos trabalhadores urbanos e rurais.
- D) Compete à União, aos Estados e ao Distrito Federal legislar privativamente sobre previdência social, proteção e defesa da saúde.
- E) Compete aos Municípios prestar, com a cooperação técnica e financeira da União e do Estado, serviços de atendimento à saúde da população.

Questão 45

Selecione a alternativa que liste duas tecnologias de controladoras de disco rígido:

- A) USB e Pendrive.
B) IDE e SATA.
C) ISA e PCI.
D) CD e DVD.
E) DIMM e DDR.

Questão 46

A opção "Formatar" – "Página" permite alterar o formato das páginas de um documento de texto no Libre Office Writer. Selecione a alternativa que NÃO corresponde a uma configuração permitida nesta opção:

- A) Largura e Altura.
B) Orientação: Retrato e Paisagem.
C) Margens.
D) Bandeja de papel.
E) Tamanho da letra.

Questão 47

A opção "Pincel de estilo" do Libre Office Writer permite:

- A) desenhar formas geométricas livres.
B) aplicar um estilo pré-definido a um parágrafo.
C) copiar a formatação de uma seleção de texto e aplicá-la em outra seleção de texto.
D) alterar a cor do fundo de uma imagem.
E) alterar a cor do fundo de uma célula em uma tabela.

Questão 48

No Libre Office Writer, as marcas de tabulação para o parágrafo atual podem ser vistas no(a):

- A) régua horizontal.
B) barra de estado.
C) barra de ferramentas.
D) menu "Formatar" - "Tabulações".
E) menu "Exibir" - "Tabulações".

Questão 49

Para editar um gráfico no Libre Office Calc, a opção "Intervalos de Dados" possui um campo chamado "Categorias". Selecione a alternativa que descreve de forma CORRETA a função deste campo:

- A) Permite digitar o nome do eixo de categorias.
B) Permite inserir ou selecionar um intervalo de células que será utilizado como valores para as séries de dados.
C) Permite inserir ou selecionar um intervalo de células que será utilizado como texto para os rótulos do eixo de categorias do gráfico.
D) Permite alterar a categoria do documento: Coluna, Barra, Pizza, entre outros.
E) Permite inserir novos eixos de categorias no gráfico.

Questão 50

Em uma planilha eletrônica editada no Libre Office Calc, quando se aplica o formato "Porcentagem" em uma célula com a fórmula "=15/100", a célula mostra o conteúdo:

- A) "15,00%".
B) "15/100%".
C) "0,15%".
D) "=15%100".
E) "0,15".



SECRETARIA MUNICIPAL DE SAÚDE - SESMA

Questão 41

Dizer que um determinado componente do computador é "on board" significa que ele:

- A) é integrado ao teclado.
B) pode ser colocado diretamente na mesa do computador.
C) é integrado à placa-mãe.
D) pode ser conectado via USB.
E) é plug-and-play.

Questão 42

Marque a alternativa que complete corretamente as lacunas do trecho seguinte: "A _____ é um dispositivo que permite _____ usualmente para ser transmitido (a) pela Internet de forma direta.":

- A) Rede social / tirar foto.
B) Rede social / escrever uma mensagem.
C) Memória RAM / armazenar um arquivo.
D) Webcam / capturar vídeo.
E) Impressora / imprimir um documento.

Questão 43

Suponha que no Microsoft Windows Vista, ao pressionar uma tecla do teclado, aparece um caractere diferente do esperado. Selecione a alternativa que contém as duas configurações do teclado que devem ser verificadas:

- A) Layout do teclado e Menu Iniciar.
B) Local e Fuso horário.
C) Idioma de entrada e Fuso horário.
D) Painel de Controle e Propriedades de vídeo.
E) Layout do teclado e Idioma de entrada.

Questão 44

Na configuração do protocolo TCP/IP, o servidor DNS corresponde ao endereço IP de um servidor responsável por:

- A) resolver nomes de rede para endereços IP.
B) proteger os computadores da rede de acessos indevidos.
C) fornecer IPs dinâmicos para os computadores da rede.
D) fornecer IPs estáticos para os computadores da rede.
E) bloquear sites da Internet para os computadores da rede.

NÍVEL MÉDIO