

**PORTUGUÊS**

Considere a imagem abaixo e responda as questões **01**, **02** e **03**.



**Não, meu filho, você não foi baixado pela internet. Você nasceu!**

Fonte: <http://images.google.com.br>

**01.** Pela imagem acima é possível concluir que:

- A) a mãe inicia uma conversa confusa.
- B) a mãe inicia uma conversa, explicando sobre como a criança nasceu.
- C) há uma pergunta explícita do garoto, questionando se ele nasceu da internet.
- D) a mãe está respondendo a uma pergunta do garoto que está implícita no texto.
- E) o garoto nasceu de um *downloads*.

**02.** Pelo texto acima, também, é possível concluir que:

- A) o texto deixa claro que o garoto estava jogando na internet.
- B) a criança trata-se de uma pessoa do sexo feminino.
- C) as crianças, desde cedo, vivem a influência da internet, criando, muitas vezes estereótipos.
- D) a mãe foi interrompida pelo garoto de assistir televisão.
- E) a mãe chama o garoto para desmistificar a ideia de que ele não nasceu da internet.

**03.** A palavra internet, presente no texto, trata-se de:

- A) Artigo
- B) pronome
- C) adjetivo
- D) advérbio
- E) substantivo

**04.** Considere a frase abaixo e marque a alternativa correta.

João acertou tecnicamente o alvo.

A sequência correta da frase acima, quanto a classificação das palavras é:

- A) Substantivo, verbo, advérbio, artigo substantivo.
- B) Substantivo, verbo, adjetivo, artigo, substantivo.
- C) Substantivo, advérbio, verbo, artigo, substantivo.
- D) Substantivo, verbo, pronome, artigo, adjetivo.
- E) Substantivo, verbo, advérbio, artigo, adjetivo.

**05.** Considere a frase abaixo e marque a alternativa correta.

Rita com aquela morosidade dificilmente chegaria em tempo de resolver o problema.

Assinale a alternativa abaixo onde a palavra grifada pode ser trocada sem alterar o sentido da frase.

- A) esperteza
- B) dificuldade
- C) displicência
- D) aflição
- E) lentidão

**06.** Marque a única alternativa abaixo que apresenta uma palavra do gênero masculino.

- A) pá
- B) alface
- C) tomate
- D) cal
- E) couve

**07.** Considere a frase abaixo e marque a alternativa correta.

Melissa terá que pedir ao pai autorização para viajar de Recife para Moreilândia.

A palavra destacada, quanto ao número de sílabas, é:

- A) monossílaba
- B) dissílaba
- C) trissílaba
- D) polissílaba
- E) esdrúxula

**08.** Marque a alternativa abaixo onde todas as palavras estão separadas corretamente.

- A) Mo-to-ci-cle-ta, pne-u
- B) obs-tá-cu-lo, pi-a
- C) pa-i, pe-dra
- D) cons-tru-ção, a-de-pto
- E) náu-ti-co, psi-qui-a-tria

**09.** Marque a alternativa abaixo onde na frase apresenta o registro de um tritongo.

- A) Zeca está cada vez mais feliz.
- B) Maria continua a pentear o cabelo.
- C) Jorge foi ao Paraguai.
- D) Georgina chegou em Moreilândia.
- E) Pernambuco é um estado bom de se viver.

**10.** Assinale, entre as palavras abaixo citadas a que apresenta um hiato.

- A) coelho
- B) pai
- C) tempo
- D) bicicleta
- E) rã

**MATEMÁTICA**

11. Alfredone resolveu fazer umas compras na Merceria Compre Barato do bairro onde mora. Lá, ele comprou 5 kg de açúcar a R\$ 0,97 cada, 2 kg de feijão a 4,20 cada e um pacote de fuba por R\$ 3,70. Alfredone pagou com uma cédula de 20,00 reais. Neste caso, ele recebeu de troco:

- A) R\$ 3,05
- B) R\$ 3,95
- C) R\$ 6,93
- D) R\$ 11,13
- E) R\$ 12,13

12. A quantia R\$ 137.665.000,00 por extenso se escreve:

- A) Cento e trinta e sete milhões, seiscentos e sessenta e cinco reais;
- B) Cento e trinta e sete mil, seiscentos e sessenta e cinco mil reais;
- C) Cento e trinta e sete milhões, seiscentos e sessenta e cinco mil reais;
- D) Cento e trinta e sete milhões, seiscentos e sessenta mil reais;
- E) Cento e trinta e sete bilhões, seiscentos e sessenta e cinco milhões reais.

13. Aponte a alternativa em que aparece o resultado da expressão numérica  $6 + 4^2 \times 8$ .

- A) 80
- B) 108
- C) 112
- D) 134
- E) 1030

14. A imagem numérica abaixo corresponde a um numeral:



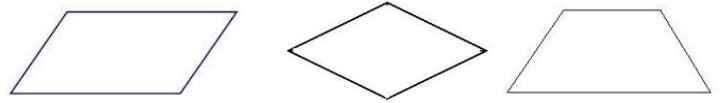
- A) ordinal;
- B) coletivo;
- C) fracionário;
- D) cardinal;
- E) arábico.

15. A sequência das horas dos relógios abaixo corresponde a:



- A) 09h00; 10h00; 11h00.
- B) 17h00; 16h00; 15h00.
- C) 05h00; 04h00; 03h00.
- D) 03h00; 06h00; 07h00.
- E) 03h00; 04h00; 05h00.

16. Seguindo a ordem, da esquerda para a direita, temos:

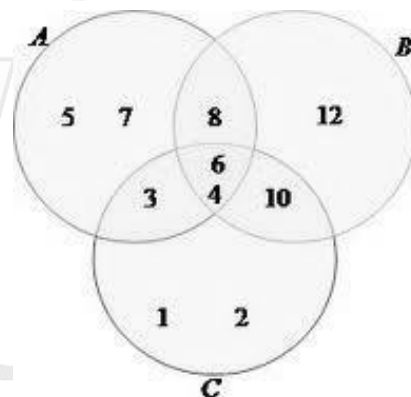


- A) retângulo, losango, trapézio.
- B) paralelogramo, losango, trapézio
- C) retângulo, losango, paralelogramo
- D) retângulo, pentágono, trapézio
- E) paralelogramo, losango, retângulo

17. O sucessor do antecessor de 1001 é:

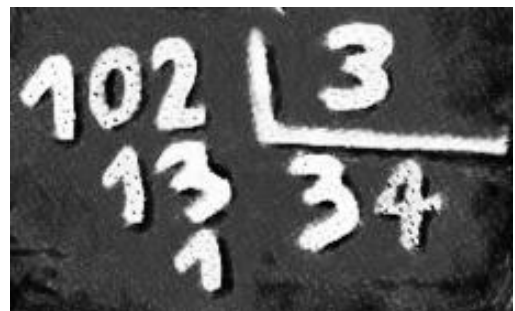
- A) 999
- B) 1000
- C) 1001
- D) 1002
- E) 1003

18. A soma apenas dos números presentes nos três círculos corresponde a:



- A) 10
- B) 18
- C) 31
- D) 48
- E) 54

19. A conta que aparece na imagem abaixo corresponde a:



- A) uma adição;
- B) uma subtração;
- C) uma multiplicação;
- D) uma divisão;
- E) potenciação.

20. O resultado da expressão  $17^3 - 17^2$  é:

- A) 289
- B) 789
- C) 4243
- D) 4624
- E) 4913

### CONHECIMENTOS GERAIS

21. O mês de Junho é caracterizado por danças, comidas típicas, bandeirinhas, além das peculiaridades de cada região. É a festa junina com o dia de Santo Antônio e encerra no dia de São Pedro. Durante os festejos acontecem quadrilhas, forrós, leilões, bingos e casamentos caipiras.

(<http://www.brasile scola.com/datacomemorativas/festa-junina.htm>).

O dia de São João é comemorado no dia:

- A) 12 de junho;
- B) 13 de junho;
- C) 23 de junho;
- D) 24 de junho;
- E) 30 de junho.

22. O Poder Executivo é comandado em nosso país:

- A) pelo Presidente da República;
- B) pelo Presidente do Senado Federal;
- C) pelo Presidente do Congresso Nacional;
- D) pelo Presidente do Supremo Tribunal Federal;
- E) pelo Presidente do Superior Tribunal de Justiça.

23. Marque o ÚNICO município citado abaixo que faz divisa com Moreilândia e não pertence ao estado de Pernambuco.

- A) Exu;
- B) Crato;
- C) Serrita;
- D) Granito;
- E) Carnaúba.

24. O município de Moreilândia está inserido nos domínios da Bacia Hidrográfica:

- A) do Rio Brígida;
- B) do Rio Gravatá;
- C) do Rio Carnaúba;
- D) do Rio Canta Galo;
- E) do Rio Cariri Mirim.

25. O município de Moreilândia está localizado na microrregião de:

- A) Serrita;
- B) Araripina;
- C) Moreilândia;
- D) Vale do Ipanema;
- E) Petrolina.

26. O aniversário da cidade de Moreilândia comemora no dia:

- A) 09 de maio;
- B) 10 de maio;
- C) 19 de maio;
- D) 20 de maio;
- E) 29 de maio.

27. Marque a alternativa em que aparece o primeiro nome dado ao município de Moreilândia.

- A) Sítio Iguatu;
- B) Povoado Granito;
- C) Povoado Poços D'água;
- D) Sítio dos Moreiras;
- E) Povoado Santa Terezinha.

28. Todas as alternativas abaixo correspondem a transportes terrestres, EXCETO:

- A) automóvel
- B) charrete
- C) motocicleta
- D) trator
- E) lancha

29. Entre os meios de comunicação abaixo citados, marque o que pode enviar e receber a mensagem simultaneamente.

- A) rádio
- B) televisão
- C) revista
- D) jornal
- E) telefone

30. A função de um vereador, no serviço público, corresponde a um cargo:

- A) diplomático
- B) eletivo
- C) comissionado
- D) efetivo
- E) contratado