

PREFEITURA MUNICIPAL DE IBIMIRIM – PE
CONCURSO PÚBLICO 2012

20 QUESTÕES DE LÍNGUA PORTUGUESA

ARTE DE AMAR

Se queres sentir a felicidade de amar, esquece a tua alma.
A alma é que estraga o amor.
Só em Deus ela pode encontrar satisfação.
Não noutra alma.
Só em Deus - ou fora do mundo.
As almas são incomunicáveis.
Deixa o teu corpo entender-se com outro corpo.
Porque os corpos se entendem, mas as almas não.

01. ‘Se queres sentir a felicidade de amar, esquece a tua alma.’
O emprego da vírgula no período acima se fez necessário para:

- A. Isolar o aposto.
- B. Isolar o vocativo.
- C. Separar uma oração condicional da principal.
- D. Separar orações aditivas numa enumeração.
- E. Introduzir uma negação.

02. ‘Porque os corpos se entendem, mas as almas não.’ O que a conjunção sublinhada expressa em relação à oração anterior?


- A. Alternância
- B. Concessão
- C. Adição
- D. Contraste
- E. Conclusão

03. De acordo com o que se lê no texto, qual a intenção do eu lírico ao intitular o poema de ‘Arte de Amar’?

- A. Provar que o amor só é expresso artisticamente.
- B. Usar a poesia como destruidora de conceitos antigos.
- C. Mostrar sua ideia do que é o amor, de como ele acontece.
- D. Analisar uma história de amor própria, sem se delongar sobre a visão geral do sentimento.
- E. Pregiar sua religião.

04. O poeta refere-se frequentemente ao papel da alma no amor. Para ele, a alma:

- A. Não existe em nenhum âmbito da vida do homem.
- B. É sinônimo de felicidade e deve ser fator principal no amor.
- C. É sinônimo de um amor caridoso, na qual os corpos podem unir-se para sempre.
- D. Por ser divina, é quem deve determinar as regras do amor.
- E. Não deve ser considerada no envolvimento amoroso.



05. Onde está o humor da frase?

- A. Na falta de compreensão do garoto em entender os limites de um ser irracional, mesmo na ficção.
- B. Na originalidade do autor em colocar um animal para responder à pergunta.
- C. No garoto que simplesmente ignora um conceito bastante comum na escola.
- D. Na confusão que há entre a sílaba ‘pro’ e a palavra ‘pró’, que significa ‘em defesa de’.
- E. No desconhecimento do garoto do conceito formal de ‘pronomes’ e a confusão que o amigo faz com suas variantes linguísticas.

06. O emprego do advérbio ‘talvez’ no último quadrinho indica:

- A. Dúvida
- B. Negação
- C. Protesto
- D. Lugar
- E. Classificação

Ver a história ser feita é sempre um privilégio, em qualquer setor, e no esporte não é diferente. Todas as Olimpíadas têm suas lendas e feitos heroicos, e em Londres três nomes devem ser acompanhados mais de perto do que quaisquer outros: Michael Phelps, da natação, pode se tornar o maior recordista de medalhas de todos os Jogos; Usain Bolt pode quebrar mais três recordes mundiais e virar o maior velocista de todos os tempos; e Yelena Isinbayeva pode se sagrar tricampeã de salto com vara e bater o recorde mundial pela 18ª vez.

07. Por que a notícia afirma que pode-se ‘ver a história ser feita’ nas Olimpíadas?

- A. Porque só as Olimpíadas, a cada 4 anos, têm seu período sempre marcado por feitos históricos e, assisti-las, é vê-los na certa.
- B. Porque os recordes mundiais ficam sempre reservados para essa época e não para outra.
- C. Porque geralmente são feitos estudos de aproximação e no mais recente ficou claro que a história mudará seu curso depois das Olimpíadas de Londres.
- D. Porque os feitos acima não precisarão da distância do tempo para saber que devem ficar na lembrança.
- E. Porque devido à crise mundial, o conceito de feito histórico tem mudado a cada dia e, na nova concepção, o esporte é a fonte mais rica que temos.

PREFEITURA MUNICIPAL DE IBIMIRIM – PE
CONCURSO PÚBLICO 2012

08. Qual convenção gramatical explica a escrita de ‘privilégio’ com ‘G’?

- A. Forma verbal terminada em AR.
- B. Diferenciar um substantivo de uma forma verbal.
- C. Palavra terminada em –égio.
- D. Palavras de origem árabe.
- E. Palavra derivada de outra que já apresenta a letra “g”.

09. Assim como ‘heroicos’, não acentuamos o ditongo em:

- A. Assembleia
- B. Bau
- C. Paraguai
- D. Saude
- E. Container

10. No texto, o verbo pronominal ‘sagrar-se’ é sinônimo de:

- A. Abençoar
- B. Ungir
- C. Santificar
- D. Conquistar
- E. Brilhar



11. Na tirinha pode-se perceber que predominam os sentimentos:

- A. De brincadeira e susto
- B. De estranhamento e medo
- C. De ódio e de loucura
- D. De falar e ouvir
- E. De amor e ódio

12. O texto combina imagem e palavra. Por meio de qual processo de formação o autor escolheu passar sua mensagem?

- A. Enigma
- B. Sons animais
- C. Onomatopeia
- D. Sigla
- E. Prefixação

Olimpíada de Londres tem uma marca feminina forte. Pela primeira vez na história todas as modalidades olímpicas são disputadas por mulheres. Além disso, a Arábia Saudita cedeu à pressão internacional e mandou duas atletas para o evento, uma no atletismo, outra no judô. Os EUA, também de forma inédita, chegam com uma delegação com maioria feminina, com 268 mulheres e 261 homens.

Mas, se o número de competidoras cresce, as mulheres ainda ficam atrás dos homens em dois pontos: os Jogos de Londres-2012 vão distribuir 30 medalhas de ouro a menos para mulheres (132 contra 162) e o nível de performance, inalterado desde o início da década de 80.

Segundo estudo publicado por pesquisadores do Instituto de Pesquisas Biomédicas e de Epidemiologia do Esporte, da França, a diferença média no nível de performances entre homens e mulheres, em provas olímpicas, segue em 10% desde 1983. O estudo levou em conta resultados até os Jogos Olímpicos de Pequim, em 2008, de natação, atletismo, ciclismo de pista, levantamento de peso e patinação de velocidade. Incluiu também análise de recordes mundiais e, no caso de natação e atletismo, os 10 melhores resultados ano a ano.

13. Qual regra justifica a acentuação de ‘judô’?

- A. Acentuam-se os monossílabos terminados em ‘o’.
- B. Acentuam-se as paroxítonas terminadas em ‘o’.
- C. Acentuam-se os oxítonos terminados em ‘o’.
- D. São acentuadas as sílabas tônicas da 3ª pessoa do plural do presente do indicativo dos verbos.
- E. São acentuadas as oxítonas que são precedidas de vogais.

14. Segundo o texto:

- A. A participação de mulheres bem como o nível de performance em relação aos homens permanece inalterado desde os anos 80.
- B. Sempre sendo verificados e analisados, os números que calculam a participação e o nível de desempenho em mulheres, apesar de algumas alterações, não muda desde Pequim.
- C. Os países participantes conseguiram colocar mulheres em todas as modalidades olímpicas em Londres, o que não aconteceu com o nível de desempenho.
- D. As competidoras do sexo feminino pela primeira vez estão na disputa em todas as modalidades, embora a diferença no nível de desempenho em relação aos homens não tenha sido alterado desde os anos 80.
- E. Apesar de tentarem ao máximo conseguir superioridade, os homens têm que conviver nessas Olimpíadas com mulheres em todas as modalidades. Eles continuam vencendo apenas na diferença do nível de desempenho.

15. Segundo o texto, as atletas sauditas:

- A. Cederam aos apelos e vão participar dos jogos olímpicos.
- B. Tiveram o direito de se inscrever nas Olimpíadas, mas só duas passaram.

PREFEITURA MUNICIPAL DE IBIMIRIM – PE
CONCURSO PÚBLICO 2012

- C. Foram beneficiadas pelos apelos internacionais e os jogos contarão com duas delas.
- D. Nunca haviam participado dos jogos Olímpicos antes, mas ao apelarem para organismos internacionais, duas delas conseguiram ir.
- E. Foram enviadas para as Olimpíadas por organismos internacionais.

16. ‘a Arábia Saudita cedeu à pressão’. A ocorrência de crase e o emprego do acento grave se explicam:

- A. Pela exigência de preposição pelo verbo e de artigo pelo termo feminino.
- B. Pela exigência de preposição pelo verbo mais uma palavra que não aceita artigo.
- C. Pela ocorrência do pronome de tratamento.
- D. Pela ocorrência de nome de lugar.
- E. Pela ausência de pronome possessivo antes do complemento verbal.

17. ‘Os EUA, também de forma inédita, chegam com uma delegação com maioria feminina, com 268 mulheres e 261 homens.’ Segundo o texto, os Estados Unidos:

- A. Nunca tinham levado uma delegação feminina para as Olimpíadas.
- B. Já haviam levado uma delegação com maioria feminina para as Olimpíadas.
- C. Jamais haviam levado uma delegação feminina maior que a masculina para as Olimpíadas.
- D. Algumas vezes levam a delegação feminina em número superior à masculina para as Olimpíadas.
- E. Sempre levam uma delegação feminina em maior número que a masculina.

18. ‘a diferença média no nível de performances entre homens e mulheres, em provas olímpicas, segue em 10% desde 1983.’ Em qual sentença abaixo o emprego do número percentual NÃO obedeceu às regras de concordância?

- A. “30% dos moradores votaram contra a proposta”.
- B. 1,97% dos clientes ganha acima de 30 salários mínimos.
- C. 1% dos proprietários rurais, no Brasil, controlam 48% do nosso território.
- D. Só 0,3% das empresas está habilitado a exportar.
- E. Os salários devem subir entre 10% e 30% .

19. Em qual das alternativas abaixo NÃO houve erro de concordância?

- A. A carcaça inchada de um “mutante” encontrada à beira do East River, na ilha de Manhattan, está intrigando os novaiorquinos.
- B. Com o corpo sem pelo e os dedos vermelho, o animal foi apelidado de “monstro de Manhattan”.
- C. O grande focinho em decomposição dar a impressão de que o animal está rosnando.
- D. A criatura se tornam ainda mais assustadora por ter cinco dedos humanoides em cada uma das patas.

- E. Muitos acreditam que se trata de uma imensa ratazana ou de um porco assado – tese defendida pelo departamento que cuidam dos parques em Nova York.

20. Qual das alternativas abaixo a regência do nome teve a sua regência transcrita com erro?

- A. Afinal, você tem orgulho de ser brasileiro?
- B. Nenhuma das redações foi escolhida pelos jurados?
- C. Embora não pareça, ele está bem consciente de tudo.
- D. A professora agiu favoravelmente aos alunos.
- E. Quando o resultado das provas foi divulgado, ela chorou perante a todos.

**20 QUESTÕES DE CONHECIMENTOS
ESPECÍFICOS**

21. Existem três figuras, a primeira possui 9 lados, a segunda 12 lados e a terceira 20 lados. Elas deverão ser denominadas respectivamente como uma figura:

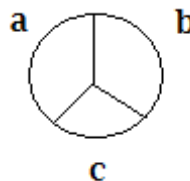
- A. Eneágona, Dodecágona e Icoságona.
- B. Icoságona, Eneágona, Undecágona.
- C. Eneadecágona, Icoságona, Pitadecágona.
- D. Eneadecágona, Pitadecágona, Icoságona.
- E. Eneadecágona, Duodecágona e Icoságona.

22. Os principais fatores que influenciam na resistência à ruptura de um concreto são, EXCETO:

- A. Qualidade dos materiais componentes.
- B. Qualidade da execução.
- C. Relação água/cimento.
- D. Idade do concreto (quando mais velho mais provável ruptura).
- E. Forma e dimensões do CP (corpo-de-prova).

23. Utilizando para traço de argamassa, latas de 18 litros para argamassa de assentamento, para uma aplicação em alvenaria de tijolo de barro cozido (maciço) o traço deve ser de 1 lata de cimento, 2 latas de cal, 8 latas de areia, que tem em média o rendimento de:

- A. 5m²
- B. 10m²
- C. 20m²
- D. 30m²
- E. 35m²








24. Este símbolo significa:

- A. Interruptor Four-Way.
- B. Interruptor de uma seção.

PREFEITURA MUNICIPAL DE IBIMIRIM – PE
CONCURSO PÚBLICO 2012

- C. Interruptor de duas seções.
- D. Interruptor de três seções.
- E. Interruptor Three-Way.

25. Indique a linha que serve para indicar cortes e seções:

- A. 
- B. 
- C. 
- D. 
- E. 

26. Em medições topográficas, são procedimentos de uso da trena, EXCETO:

- A. Sempre medir do centro de uma baliza até o centro de outra baliza.
- B. Não fazer trenadas maiores de 20,0 m.
- C. Começar pelo ponto mais alto (zero da trena) no terreno.
- D. Achar a vertical (menor distância entre duas linhas verticais).
- E. Não apoiar a trena em nada.

27. A principal escala utilizada para planta de propriedades rurais é:

- A. 1:50
- B. 1:100
- C. 1:200
- D. 1:500
- E. 1:1000

28. Uma escala de 1:2000, a precisão de escala é de:

- A. 2 m
- B. 40 cm
- C. 20 cm
- D. 10 cm
- E. 5 cm

29. Na sinalização de perigo, os riscos químicos representados por poeiras, fumos, gases, vapores, névoas, neblinas é identificado pela cor:

- A. Verde
- B. Vermelha
- C. Marrom
- D. Amarela
- E. Azul

30. As letras e cifras das coordenadas devem ter altura de:

- A. 1 mm
- B. 2 mm
- C. 3 mm
- D. 4 mm
- E. 5 mm

31. Referente à coteagem por faces de referência é INCORRETO afirmar:

- A. Na coteagem por faces de referência as medidas da peça são indicadas a partir das faces.
- B. A coteagem por faces de referência ou por elementos de referência pode ser executada como coteagem em paralelo ou coteagem aditiva.
- C. A coteagem aditiva é uma simplificação da coteagem em paralelo e pode ser utilizada onde há limitação de espaço, desde que não haja problema para interpretação.
- D. A coteagem aditiva em duas direções pode ser utilizada quando for vantajoso.
- E. A coteagem relativa refere-se a coteagem triangular ou retangular que permite melhor visualização do desenho.

32. Numa rede de esgoto, a tubulação vertical que recebe efluentes de subcoletores, ramais de esgoto e ramais de descarga recebe o nome de:

- A. Tubo de queda.
- B. Esgoto primário.
- C. Esgoto secundário.
- D. Coluna de ventilação.
- E. Ramal de descarga.

33. Os rincões ou águas furtadas formam ângulos de quantos graus com as projeções das paredes e partem dos cantos internos?

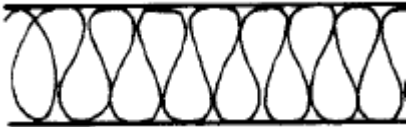
- A. 15°
- B. 45°
- C. 60°
- D. 75°
- E. 90°

PREFEITURA MUNICIPAL DE IBIMIRIM – PE
CONCURSO PÚBLICO 2012

34. Na escada, o primeiro e o último degrau de um lance de escada devem distar pelo menos quantos centímetros da área da circulação adjacente?

- A. 10cm
- B. 15cm
- C. 20cm
- D. 30cm
- E. 40cm

35. Observe a imagem. Ela representa:



- A. Aço em corte
- B. Granito em vista
- C. Talude em vista
- D. Isolamento térmico
- E. Aterro

36. Aduela é um (a):

- A. Cobertura de secção curva.
- B. Portinhola no piso ou no teto para acesso a porões ou sótãos.
- C. Tubo de descida de água pluviais, em geral embutido na parede.
- D. Peça da grade ou marco da portas e de janelas.
- E. Área coberta, saliente de construção, cuja cobertura é sustentada por colunas, pilares ou consolos, geralmente na entrada da edificação.

37. Segundo as normas técnicas, as características técnicas das estradas são estabelecidas em função da *Classe da Estrada* e da *Região* onde ela será construída. Originalmente, a Norma de estradas do DNER estabeleceu 3 tipos de regiões: *plana*, *ondulada* e *montanhosa*. Posteriormente, foi também incluída na classificação a *região escarpada*. A região Montanhosa apresenta declividades maiores do que:

- A. 8%
- B. 10%
- C. 15%
- D. 20%
- E. 80%

38. Existem muitos tipos de treliças de pontes, esta demonstração abaixo é de:



- A. Treliça “King” com Postes.
- B. “Treliça Queen” com Postes.
- C. Treliça de Howe.
- D. Treliça de Pratt.
- E. Treliçado de Town.

39. Nas convenções gráficas, as dimensões mínimas de portas dos banheiros é de:

- A. 0,50cm x 2,00 m
- B. 0,60cm x 2,10 m
- C. 0,70cm x 2,20 m
- D. 0,80cm x 2,20 m
- E. 0,80cm x 2,10 m

40. Sobre as informações fornecidas pela sondagem de solo é INCORRETO afirmar:

- A. Coleta de amostras de solo, semi-deformadas de metro a metro, para uma posterior caracterização táctil-visual em laboratório, através do barrilete amostrador padrão.
- B. Perfil geotécnico do local investigado.
- C. Profundidade de ocorrência do lençol freático (nível d'água do subsolo).
- D. Determinação da resistência do solo através do S.P.T. (Standard Penetration Test), ou seja, o número de golpes necessários para a cravação dos últimos 45 cm do barrilete amostrador por um peso de 75 kg, solto a uma altura de 85 cm em queda livre.
- E. Fornecer informações sobre a consistência e compacidade dos solos investigados.