

## Língua Portuguesa

### TEXTO 1

#### O retorno dos brasileiros

Ao final do século XX, alterou-se o fluxo migratório no Brasil: ao invés de receber a força de trabalho dos imigrantes (o que sempre ocorreu e possibilitou a formação multiétnica do nosso povo), o País passou a exportar mão-de-obra. Na década de 80, por causa da recessão econômica, acompanhada de elevada inflação, poucas oportunidades de trabalho e baixos salários, estima-se que 2,6 milhões de cidadãos emigraram, número que aumentou gradualmente, até chegar nossa "diáspora" a cerca de 2% da população total.

Em anos recentes, porém, com o crescimento da economia brasileira, aliado às crises que afetam os polos de desenvolvimento mundial, o número de emigrantes caiu significativamente. Assistimos, assim, a uma nova inversão dos fluxos migratórios, caracterizada não apenas pelo retorno dos brasileiros, mas também pela entrada de novos imigrantes que estão desembarcando no Brasil.

A nacionalidade brasileira encontra-se dentre aquelas que mais têm solicitado apoio do Programa de Retorno Voluntário da Organização Internacional para as Migrações (OIM). Geralmente, o projeto inicial dos emigrantes brasileiros é o de ficar pouco tempo no exterior, investir no Brasil e retornar logo que consigam fazer alguma poupança, conforme comprovam as remessas de dinheiro. Enquanto a Europa e os EUA registram milhões de desempregados, o Brasil tem hoje taxas de desemprego de aproximadamente 6%, consideradas próximas do chamado pleno emprego.

Por outro lado, segundo dados do Ministério da Justiça, o número de estrangeiros em situação regular no Brasil aumentou em 52,4% no último semestre e continua crescendo. Passou de 961 mil registros em 2010 para 1,466 milhão até junho de 2011. Parece um número elevado, mas ainda é muito inferior à força de trabalho que o Brasil pode absorver, tendo em vista a forte demanda de empresas brasileiras por profissionais de alta qualificação.

Além dos aspectos econômicos, fatores políticos e sociais relevantes, como a crescente visibilidade internacional do País, os grandes eventos esportivos programados para os próximos anos, a tradição de receptividade e a plena democracia fazem do Brasil um país de portas abertas para o imigrante. Como diz o Secretário Nacional de Justiça, Paulo Abrão, "o Brasil tem tradição de receptividade. Somos vistos como um país aberto, democrático, receptivo. O Brasil sempre foi um país de imigração".

Embaixador Luiz Henrique Fonseca. [http://milao.itamaraty.gov.br/pt-br/mensagens\\_do\\_consul-geral.xml](http://milao.itamaraty.gov.br/pt-br/mensagens_do_consul-geral.xml). Acesso em 26/05/2012. Adaptado.

**01.** O Texto 1 dá ao leitor uma visão clara, principalmente:

- A) das consequências de uma formação multiétnica para a nação brasileira.
- B) das cidades brasileiras em que há mais oportunidades de emprego.
- C) das últimas mudanças ocorridas no movimento migratório em nosso país.
- D) de como se dá a valorização da nacionalidade brasileira no exterior.
- E) das consequências, para a nossa economia, de sermos um país aberto à imigração.

**02.** No final do 1º §, lê-se: "até chegar nossa "diáspora" a cerca de 2% da população total." Acerca do emprego do termo destacado, é correto afirmar que:

- A) o autor tem consciência de que o está utilizando em contexto no qual ele normalmente não é utilizado; daí a opção por empregá-lo entre aspas.
- B) ele está sendo empregado com valor hiperbólico, para expressar a ideia de "ponto máximo do desespero" a que chegaram os brasileiros.
- C) a escolha desse termo, cujo emprego se restringe aos judeus, indica que o autor é profundo conhecedor da história desse povo.
- D) com ele, o autor pretendeu expressar a ideia de "quantidade máxima". As aspas revelam que se trata de um estrangeirismo.
- E) com esse termo, o autor pretendeu se referir ao estado de tristeza coletiva, consequência de um povo perder o sentimento de nacionalidade.

03. Em relação ao futuro, o autor demonstra otimismo, pois, segundo ele:

- A) o Brasil tem plenas condições de empregar qualquer imigrante que aqui chegue, ainda que sem qualificação.
- B) a previsão de que grandes eventos esportivos aconteçam em nosso país é o único fator capaz de aumentar a entrada de imigrantes.
- C) as grandes remessas de dinheiro enviadas pelos brasileiros que estão fora do País confirmam que a poupança tende a se estabilizar.
- D) as taxas de desemprego no Brasil são, atualmente, semelhantes às da Europa e dos EUA, as quais são consideradas próximas do "pleno emprego".
- E) diversos aspectos do Brasil, dentre os quais os políticos, os sociais e os econômicos, contribuem para incrementar a imigração.

04. "Geralmente, o projeto inicial dos emigrantes brasileiros é o de ficar pouco tempo no exterior, investir no Brasil e retornar logo que consigam fazer alguma poupança". Nesse trecho, o segmento sublinhado insere uma relação semântica de:

- A) causa.
- B) tempo.
- C) condição.
- D) proporção.
- E) finalidade.

05. Analise as proposições abaixo, acerca de alguns elementos linguísticos empregados no Texto 1.

- 1) No trecho: "ao invés de receber a força de trabalho dos imigrantes (...), o País passou a exportar mão-de-obra.", a expressão destacada expressa uma ideia de 'substituição'.
- 2) No trecho: "Na década de 80, por causa da recessão econômica, acompanhada de elevada inflação, poucas oportunidades de trabalho e baixos salários, estima-se que 2,6 milhões de cidadãos emigraram", o segmento destacado apresenta ao leitor várias causas que motivaram a emigração de muitos cidadãos brasileiros.
- 3) No trecho: "Assistimos, assim, a uma nova inversão dos fluxos migratórios, caracterizada não apenas pelo retorno dos brasileiros, mas também pela entrada de novos imigrantes que estão desembarcando no Brasil", as expressões destacadas marcam uma oposição entre as ideias apresentadas.
- 4) "Por outro lado, segundo dados do Ministério da Justiça, o número de estrangeiros em situação regular no Brasil aumentou em 52,4%". Com a expressão destacada nesse trecho, o autor sinaliza que considera encerrado o assunto de que vinha tratando, e vai agora introduzir um novo assunto.

Estão corretas:

- A) 2 e 3, apenas
- B) 2 e 4, apenas.
- C) 1 e 3, apenas.
- D) 1 e 2, apenas.
- E) 1, 2, 3 e 4.

06. Quanto ao emprego do sinal indicativo de crase, analise os enunciados abaixo.

- 1) À ideia de voltarem sem emprego fixo resistem muitos brasileiros que estão fora do País.
- 2) Poucos estudos fazem referência àqueles brasileiros que estão felizes fora do Brasil.
- 3) Nos anos 80, o êxodo de brasileiros deveu-se à um conjunto de condições adversas.
- 4) Geralmente, os estrangeiros desconhecem as instituições às quais podem recorrer no exterior.

Estão corretos os enunciados:

- A) 1, 2, 3 e 4.
- B) 2 e 3, apenas.
- C) 1, 2 e 4, apenas.
- D) 2, 3 e 4, apenas.
- E) 1 e 3, apenas.

07. Assinale a alternativa na qual as regras da concordância (verbal e nominal) foram atendidas.

- A) Fontes seguras comprovam que, hoje, há muito menos pessoas querendo deixar o Brasil.
- B) Poucos brasileiros haveria de deixar o País se lhes fosse oferecido boas condições de vida.
- C) Foi necessário muitas mudanças para que os brasileiros decidissem retornar ao País.
- D) A crise internacional está grande: falta empregos, e as oportunidades, agora, são escassas.
- E) Já faz mais de 20 anos que os brasileiros não optam por emigrar do País.

08. Todos os segmentos destacados nos trechos a seguir têm valor de adjetivo, EXCETO:

- A) Na década de 80 [...], estima-se que 2,6 milhões de cidadãos emigraram.
- B) [...] com o crescimento da economia brasileira, aliado às crises que afetam os polos de desenvolvimento mundial, o número de emigrantes caiu.
- C) Assistimos, assim, a uma nova inversão dos fluxos migratórios, caracterizada não apenas pelo retorno dos brasileiros, mas também pela entrada de novos imigrantes que estão desembarcando no Brasil.
- D) Parece um número elevado, mas ainda é muito inferior à força de trabalho que o Brasil pode absorver.
- E) Somos vistos como um país aberto, democrático, receptivo. O Brasil sempre foi um país de imigração.

09. De fato, não foi muito grande a mudança operada pelo último Acordo Ortográfico da Língua Portuguesa. Ele prevê, por exemplo, que algumas palavras não sejam mais grafadas com acento agudo. São exemplos de palavras que tiveram sua grafia alterada:

- A) heroi e pinceis.
- B) Piaui e caqui.
- C) abençoó e doi.
- D) feiura e europeia.
- E) meia e papeis.

TEXTO 2



(Imagem disponível em [www.leonidantas.blogspot.com](http://www.leonidantas.blogspot.com).  
Acesso em 26/05/2012.)

10. A resposta da mãe revela que ela não consegue perceber, principalmente, que:

- A) seu filho, como qualquer criança, tem necessidade de socialização.
- B) um direito básico de seu filho está sendo desrespeitado.
- C) seu filho demonstra um grande potencial para a escrita literária.
- D) depende inteiramente dela o processo de alfabetização de seu filho.
- E) o ensino público, no País, está carente de crianças que, de fato, querem aprender.

RASCUNHO

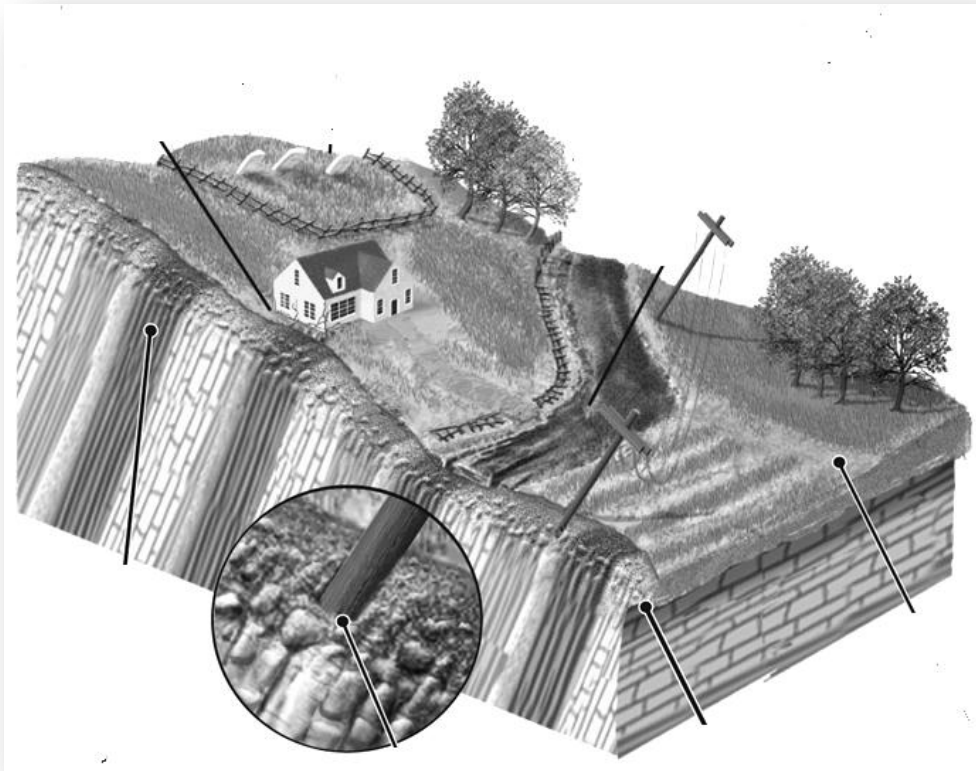
### Conhecimentos Gerais - Atualidades

- 11.** As recentes eleições realizadas, na França, trouxeram expectativas que se chocaram com a condução administrativa e política de Sarkozy. Com o novo governo socialista houve:
- A) uma quebra nas ideias mais conservadoras e mudanças nas negociações sobre a crise econômica na Europa.
  - B) um fortalecimento dos partidos socialistas no mundo ocidental ajudando na superação imediata da instabilidade social.
  - C) um acordo entre França e Alemanha que levaram ao surgimento de um novo parlamento europeu.
  - D) uma mudança na estratégia que define as relações com os Estados Unidos que causou tensões.
  - E) uma melhoria nas relações com os muçulmanos com o fim das leis que impunham sanções autoritárias
- 12.** Vivemos numa sociedade que estimula o consumo e a competição. Nessa sociedade o sistema capitalista consegue ser hegemônico e:
- A) livrar-se das crises mais profundas, mantendo a supremacia inquestionável dos Estados Unidos.
  - B) conviver com instituições democráticas que evitem autoritarismo e preconceitos raciais da colonização.
  - C) manter políticas que busquem resolver certos conflitos e assegurem uma tradição na república histórica.
  - D) globalizar-se, com certas resistências, promovendo a venda de mercadorias que movimentam o mercado internacional.
  - E) realizar mudanças sociais que derrubaram os governos autoritários do Oriente Médio, com suas religiões politeístas.
- 13.** A violência urbana parece não temer as ações dos governos. No México, o chamado crime organizado:
- A) tem atuado no narcotráfico, não tolerando denúncias e eliminando seus opositores de forma brutal, mas com atuação regional.
  - B) mantém ligações com o mercado de drogas internacional, embora esteja em fase de decadência.
  - C) exerce grande poder na formação do governo central, corrompendo ministros e deputados sem resistência.
  - D) dedica-se ao roubo de mercadorias vindas do exterior, não se envolvendo com o mercado de drogas.
  - E) é liderado por políticos dos governos anteriores com intenções revanchistas.
- 14.** As instituições políticas buscam redefinir suas estratégias diante das inúmeras denúncias de corrupção e da falta de ideias políticas que promovam mudança efetivas. No Brasil:
- A) os partidos fazem alianças pragmáticas, mas qualquer forma de autoritarismo, mostrando interesses democráticos.
  - B) as realizações do governo se ressentem de mais profundidade nas áreas sociais, com ampliação da participação popular.
  - C) o Partido dos Trabalhadores firmou-se no poder central com a ajuda do PTB e PMDB, sem dissonâncias e resistências.
  - D) a democracia tem se fortalecido devido ao surgimento de novas lideranças comprometidas com o social.
  - E) existe uma tradição republicana atuante que não nega suas vinculações com a democracia da época de Vargas.
- 15.** O governo de Obama não conseguiu empolgar a sociedade norte-americana como muitos esperavam. Obama:
- A) fez reformas que assustaram os conservadores e trouxeram turbulências sérias nas relações entre negros e brancos.
  - B) enfrenta dificuldades para se reeleger, embora conte com a admiração especial dos democratas mais radicais.
  - C) realizou mudanças na economia, condenadas pelos países europeus, provocando uma crise diplomática.
  - D) tornou-se um defensor de ideias socialistas, criando tensões no interior dos democratas que o acompanham.
  - E) frustrou muitos eleitores, mas caminha para reafirmar sua condição de presidente dos Estados Unidos.

- 16.** A Organização das Nações Unidas tem atuado procurando resolver as questões internacionais e cuidar da ampliação dos direitos humanos. A atuação da ONU é:
- A) marcada por conflitos internos que evitam qualquer eficácia na sua gestão no século atual.
  - B) submetida à vontade das grandes potências, sendo administrada de acordo com as pressões norte-americanas.
  - C) eficaz em algumas áreas, ajudando a conhecer situações de muitos países e propor alternativas mais urgentes.
  - D) subordinada à política dos países capitalistas não interferindo nos problemas das regiões mais pobres.
  - E) importante na resolução dos problemas na saúde, não conseguindo ser respeitada pelos países do Oriente Médio.
- 17.** Walter Salles é um cineasta brasileiro com grande destaque internacional. Seu último filme participou do festival de Cannes e obteve destaques. O filme de Salles:
- A) conseguiu resumir os acontecimentos marcantes da época de Richard Nixon, inclusive sua renúncia política.
  - B) fez uma crítica ao populismo existente no Brasil na época de Vargas, mostrando a importância dos meios de comunicação.
  - C) analisou a vida nas cidades brasileiras mais violentas e sua relação com o tráfico de drogas pesadas
  - D) retratou as dificuldades existentes no sertão nordestino, seus costumes e a forma da população se rebelar contra os políticos.
  - E) adaptou o livro "On the Road", com cuidado estético relevante e boa aceitação da crítica e da plateia.
- 18.** Uma das obras marcantes do modernismo denunciava a opressão e a violência do fascismo com grande beleza estética e um simbolismo significativo. Estamos nos referindo a:
- A) Guernica.
  - B) Harmonia em Vermelho.
  - C) O Retrato de Dora Maar.
  - D) O Cão.
  - E) Seara com Ciprestes.
- 19.** As conquistas da ciência têm entusiasmado grupos e incentivado a ampliação das pesquisas e movimentado os intercâmbios culturais no mundo contemporâneo. A organização da ciência atual:
- A) garante eficácia que beneficia à população sem haver hierarquias ou influência do mercado.
  - B) está vinculada às grandes universidades norte-americanas, sem atuação nos outros países do Ocidente.
  - C) tem ligações com a formação de um mercado internacional e a obtenção de lucros expressivos.
  - D) passa por uma crise marcantes, devido ao desinteresse geral das grandes potências com suas universidades.
  - E) assegura a neutralidade do conhecimento e reforça o cuidado ético com o anúncio das pesquisas.
- 20.** O aumento do poder de divulgação das redes sociais vem modificando as mobilizações políticas e facilitando a organização de protestos. As redes sociais:
- A) atuam, com destaque, nos países ricos da Europa, não tendo repercussão nos países da América Latina.
  - B) atingem uma parte pequena da população mundial, sendo usada para comunicar recados e fofocas sociais nos países pobres.
  - C) crescem no mundo político e tendem a ser um veículo expressivo para as negociações políticas.
  - D) dependem de uma tecnologia sofisticada que se encontra numa fase pouco produtiva e decadente.
  - E) preocupam-se com assuntos políticos que se restringem ao domínio dos partidos socialistas e democráticos.

## Conhecimentos Específicos

21. Um geógrafo que trabalha numa determinada Prefeitura brasileira foi encarregado de estudar um problema ambiental constatado em certo trecho colinoso do município, esquematicamente representado na figura a seguir. Observe-a atentamente.



Pelas características vislumbradas na paisagem, é correto dizer que nessa localidade o principal problema ambiental verificado é a(o):

- A) falha transcorrente reativada.
  - B) dobramento flexural do regolito.
  - C) creep.
  - D) fluxo de terra.
  - E) erosão linear.
22. Os movimentos sociais urbanos podem ser estudados a partir de diversas abordagens, sendo que cada uma delas confere diferentes significados às ações empreendidas pelos participantes desses movimentos.

“Pode-se interpretar os movimentos sociais utilizando o enfoque que procura relacioná-los aos fatos do cotidiano, mas não como o proposto por Thompson, que fundamenta as suas análises utilizando-se do método marxista. Esse enfoque se baseia na ‘teoria da ação social’.

(Adaptado de SANTOS, Regina Célia Bega dos. *Os movimentos sociais urbanos: questões conceituais relacionadas à práxis*).

Assinale a alternativa que apresenta o tipo de abordagem sintetizada a seguir, relacionada a esse tema.

- A) Abordagem Cultural.
- B) Abordagem Gramsciana.
- C) Abordagem dos Historiadores Ingleses
- D) Abordagem Histórico-Estrutural.
- E) Abordagem Neoliberal.

23. Esta questão deve ser respondida a partir da leitura atenta do texto transcrito a seguir.

“Nas suas teorizações acerca da relação homem-natureza, Karl Marx contestou não apenas a visão idealista de um homem abstrato- não colocado como ser histórico- mas também a concepção reificada da natureza- posta como um “outro” em relação ao homem. E’ conhecida a passagem onde ele fala da natureza ambiente como “corpo exterior do homem”, definindo este como o “sujeito da natureza”, dotado também da naturalidade. Assim, homem e natureza articulam-se na relação. Daí, não se deve, contudo, inferir que Marx considere a história natural e a história humana como indiferenciadas, bem o contrário é afirmado em suas obras. Para ele o que está em jogo é uma relação em si mesma social, que envolve homem e natureza numa dialética de apropriação, transformação, destruição, construção. A história humana é vista como uma progressiva naturalização dos homens, através de uma crescente incorporação da natureza, a qual cada vez mais se antropomorfiza. A história dos homens socializa a natureza, humanizando a superfície terrestre.”

(Antônio Carlos Robert de Moraes, in: São Paulo: USP, **Orientação**, nº 6, 1985)

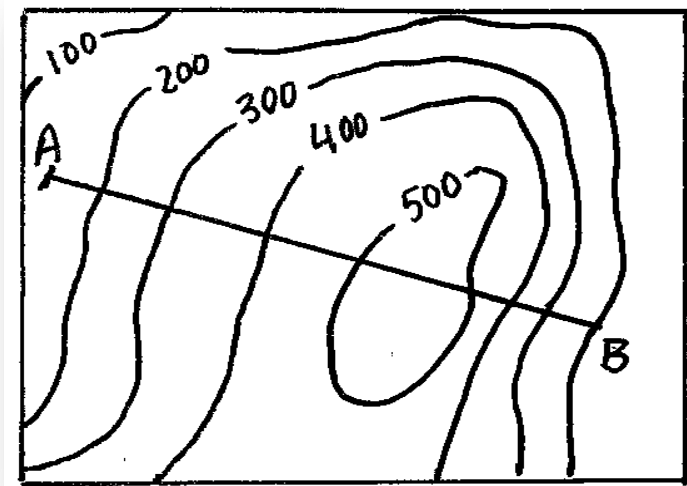
Com base na leitura do texto, é correto afirmar que:

- A) Karl Marx considera que o Homem, mesmo socializando a natureza, é um dependente dela.
  - B) a história da estruturação da natureza, segundo Karl Marx, interferiu consideravelmente na elaboração da história humana.
  - C) a antropomorfização da natureza humanizou a superfície terrestre, mas foi algo independente do Modo de Produção e das relações dialéticas entre as forças produtivas.
  - D) o conceito marxista de Segunda Natureza foi elaborado nesse contexto de discussão apresentado no texto.
  - E) Karl Marx, apesar do posicionamento crítico que assumiu em suas obras, adotava uma postura nitidamente determinista, ao analisar as relações dialéticas entre natureza e sociedade.
24. É importante avaliar, numa análise geográfica, o impacto do homem sobre o meio ambiente. Um bom exemplo disso é o caso da “ilha de calor”, que se define em certos ambientes urbanos. A que se pode atribuir a formação da **ilha de calor urbana**?
- 1) Produção de energia antropogênica através da emissão de calor pelas atividades urbanas.
  - 2) Redução do resfriamento causado pela diminuição da evaporação, em face das poucas áreas verdes e o transporte de água pluvial através de canalização.
  - 3) Efeitos de transformação de energia no interior da cidade com formas específicas, cores e materiais de construção (condutibilidade).
  - 4) Expansão de atividades agrícolas, como, por exemplo, o cultivo de cana-de-açúcar ou de café, nos espaços periféricos das cidades.
  - 5) Verticalização das cidades e preservação de florestas urbanas.

Está(ão) correta(s), apenas:

- A) 1.
- B) 4.
- C) 3 e 5.
- D) 1, 2 e 3.
- E) 1, 2, 4 e 5.

25. Um geógrafo, para realizar um estudo de movimentos de massa em vertentes no município em que exerce a sua profissão, necessitou construir o esboço de um perfil topográfico, utilizando uma carta com curvas de nível, reproduzida a seguir. Examine-a.

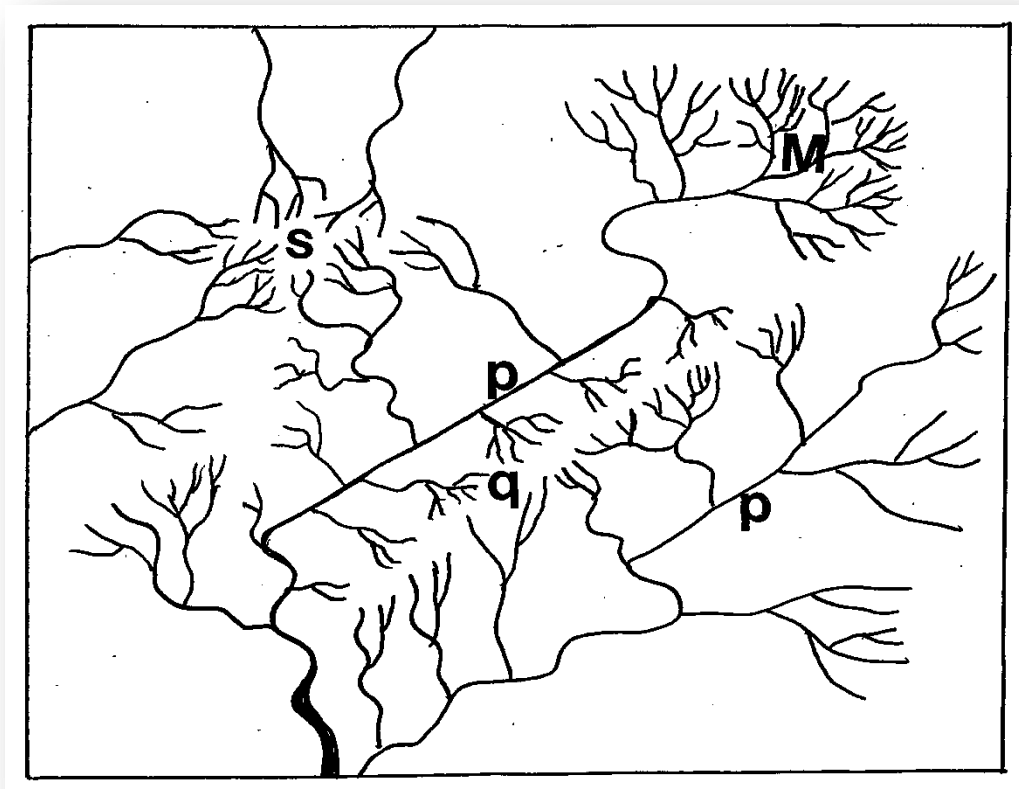


Assinale a alternativa que apresenta o perfil topográfico que mais se aproxima do corte AB indicado acima.

- A)
- B)
- C)
- D)
- E)



26. Observe o esboço da rede de drenagem feito por um geógrafo que estava preparando um determinado Relatório de Impactos Ambientais de uma área do município em que trabalha.



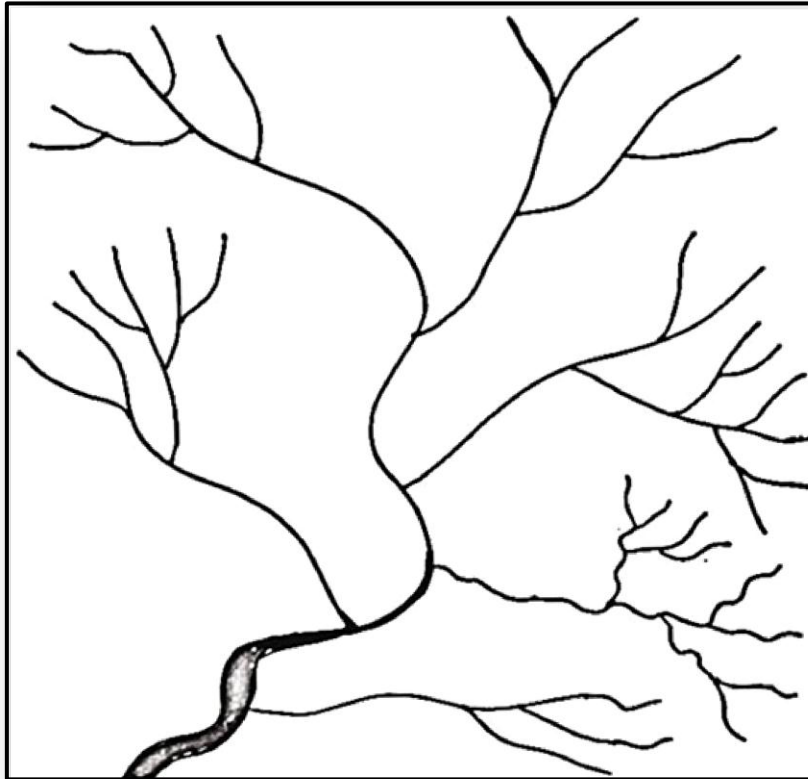
Quanto às informações que podem ser deduzidas a partir da observação do esboço, considere as afirmações abaixo.

- 1) Do ponto de vista geomorfológico, essa área estudada apresenta-se bastante homogênea, conforme mostram os padrões e a textura de drenagem.
- 2) A área assinalada pela letra "S" apresenta um padrão de drenagem radial centrífuga.
- 3) As áreas "S" e "M", em face da estrutura geológica, possuem um mesmo arranjo geométrico de drenagem.
- 4) Os rios indicados pela letra "P" estão exibindo marcas de um expressivo controle estrutural da rede de drenagem.
- 5) O divisor d'água indicado pela letra "Q" é do tipo crista, conforme mostra o comportamento espacial da rede de drenagem.

Estão corretas:

- A) 1 e 2, apenas.
- B) 1 e 5, apenas.
- C) 2, 3 e 4, apenas.
- D) 2, 4 e 5, apenas.
- E) 1, 2, 3, 4 e 5.

27. Levando-se em consideração o modelo de hierarquia de drenagem, proposto por Arthur Strahler, é correto afirmar que a bacia da figura a seguir é de que ordem?



- A) Quarta Ordem  
B) Quinta Ordem  
C) Sexta Ordem  
D) Sétima Ordem  
E) Oitava Ordem.
28. Leia com atenção as afirmativas a seguir, referentes ao tema **fotografias aéreas**.
- 1) As fotografias aéreas verticais são utilizadas como base para mapeamentos geológicos porque são similares a mapas planialtimétricos.
  - 2) As dobras podem ser expressas nas fotografias aéreas pela distribuição da estratificação, pelas características de drenagem, pela topografia, pela distribuição dos solos ou pela combinação desses critérios.
  - 3) O centro da fotografia aérea, também denominado de ponto principal, corresponde ao nadir do terreno, ou seja, ao ponto do terreno verticalmente abaixo do centro de perspectiva da câmara fotográfica.
  - 4) A visão tridimensional de uma paisagem, a partir do emprego de fotografias aéreas, só é possível mediante a observação da área de recobrimento representada em duas fotografias.
  - 5) As fotografias aéreas podem permitir o reconhecimento dos tipos litológicos de uma sucessão estratigráfica e das estruturas presentes em determinada área.

Estão corretas:

- A) 1 e 5, apenas.  
B) 2 e 3, apenas.  
C) 1, 2 e 4, apenas.  
D) 3, 4 e 5, apenas.  
E) 1, 2, 3, 4 e 5.

29. A Resolução nº 20, de 18 de junho de 1986, do Conselho Nacional do Meio Ambiente, estabelece especificamente um (a):

- A) área-limite para ser ocupada pelas matas ciliares no entorno de curso fluvial.
- B) espaço compreendido entre cinco e dez metros para a proibição da retirada de areias de terraços fluviais.
- C) classificação das águas doces, salobras e salinas do Território Nacional.
- D) legislação específica para o controle de erosão nas bacias hidrográficas de cabeceiras
- E) espaço geográfico, determinado em lei, para a utilização geoecológica de paisagens fitogeográficas no Território Nacional.

30. Junto à superfície terrestre, a litomassa sofre ação contínua dos agentes biológicos e atmosféricos. A rocha-mater influencia, até certo ponto, muitas das propriedades do solo. Contudo, constata-se que a sua influência é maior nos(as):

- A) tabuleiros, onde o regolito é bem profundo e arenoargiloso.
- B) regiões mais secas e frias.
- C) estágios mais avançados do desenvolvimento do solo.
- D) regiões que possuem climas equatoriais, sem estação seca.
- E) áreas em que o regolito apresenta uma maior quantidade de húmus.

31. A umidade observada no solo é geralmente classificada em: água higroscópica, água gravitacional e água capilar.

Considerando esse assunto, analise as seguintes afirmações.

- 1) A velocidade do movimento da água em um perfil de solo varia grandemente com a diferença de textura e estrutura.
- 2) A água gravitacional ou hidrostática é aquela que percola para baixo, descendo pelos espaços e poros não capilares.
- 3) A água higroscópica é a umidade retida no solo tão firmemente que não pode mover-se de acordo com as forças capilares.
- 4) A água capilar é a umidade que não pode ser retida no solo em face da tensão molecular; esta classe de água não é livre para mover-se em qualquer direção.

Estão corretas, apenas:

- A) 1.
- B) 3.
- C) 1 e 4.
- D) 1, 2 e 3.
- E) 2, 3 e 4.

32. A presença de níveis freáticos temporários ou permanentes nas proximidades da superfície colabora para a formação de um determinado tipo de solo, caracterizado pela redução de óxidos férricos, em ambiente anaeróbico de águas estagnadas, carregadas de produtos orgânicos ácidos.

Qual é o tipo de solo referido?

- A) Hidromórfico.
- B) Podzólico Vermelho-amarelo.
- C) Latossolo Eutrófico.
- D) Chernozem.
- E) Coluvial.

33. Assinale a alternativa que apresenta o assunto abordado no texto a seguir.

“Trata-se de um conjunto de mercados, instituições e ativos que viabiliza a transferência de recursos financeiros entre tomadores (companhias abertas) e aplicadores (investidores) destes recursos. Essa transferência ocorre por meio de operações financeiras que podem se dar diretamente entre companhias e investidores ou através de intermediários financeiros.”

- A) Mercado Livre.
- B) Mercado de Balcão.
- C) Mercado de Capitais.
- D) Mercado Liberal.
- E) Mercado de Consumo.

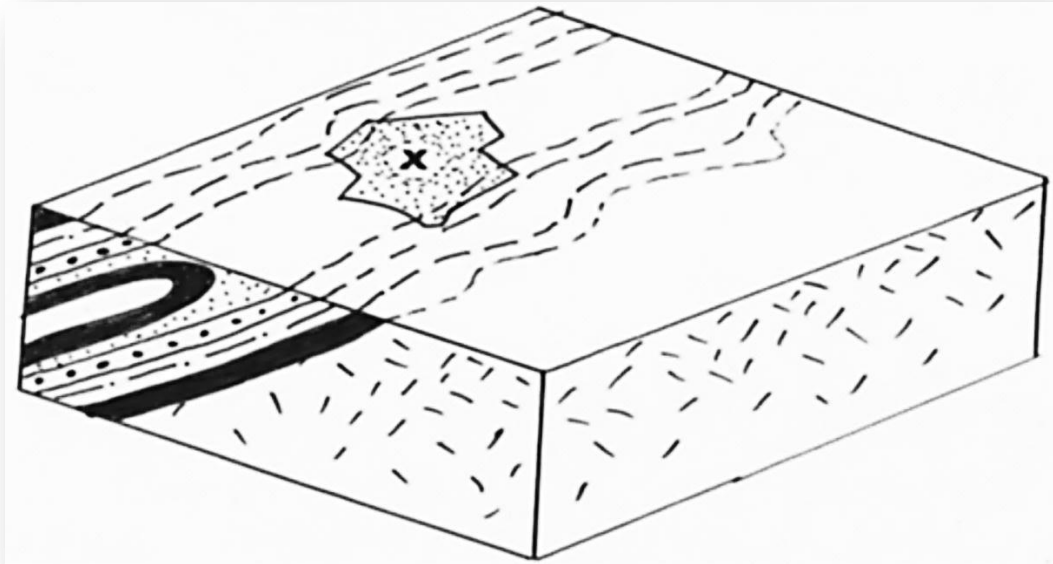
34. O Conselho Monetário Nacional é o órgão de cúpula do Sistema Financeiro Nacional, mas não desempenha função executiva, tendo apenas funções normativas. É composto, atualmente, pelos seguintes membros:

- 1) Presidente da República.
- 2) Presidente do Banco Central.
- 3) Governadores dos Estados.
- 4) Ministro da Fazenda.
- 5) Ministro do Planejamento, Orçamento e Gestão.
- 6) Chefe da Casa Civil da Presidência da República.

Estão corretas, apenas:

- A) 2, 4 e 5
- B) 1, 2 e 4
- C) 1, 4 e 6
- D) 2, 3 e 6.
- E) 1, 2, 3 e 5.

35. Com base no bloco-diagrama a seguir, em que aparece a estrutura subsuperficial de uma paisagem geomorfológica esquematicamente representada, é correto dizer que o município X encontra-se situado na seguinte unidade estrutural



- A) Diápiro  
B) Domo de Esfoliação  
C) Anticlinal  
D) Mesoclinal  
E) Batólito.
36. A desapropriação de imóveis rurais, por interesse social, para fins de **Reforma Agrária**, será precedida de:
- 1) elaboração de Laudo e de Vistoria.
  - 2) atualização dos dados cadastrais do Sistema Nacional de Cadastro Rural, visando a obtenção dos valores do Grau de Utilização de Terra.
  - 3) parecer político e econômico das organizações de trabalhadores rurais assentadas na área.
  - 4) levantamento da cadeia dominial do imóvel.
  - 5) elaboração de Relatório Técnico, com base em levantamento de dados e informações sobre o imóvel rural, visando caracterizar a sua situação quanto ao cumprimento de sua função social.
- Estão corretas, apenas:
- A) 3 e 5.  
B) 1, 2 e 3.  
C) 1, 3 e 4.  
D) 1, 2, 4 e 5.  
E) 2, 3, 4 e 5.
37. A partir da segunda metade do século XX, mais especificamente após a década de 1960, o espaço agrário brasileiro passou a sofrer um **processo de modernização** que implicou importantes transformações no campo. Quais foram as principais características dessa modernização?
- A) A mecanização da lavoura e maior liberdade de organização dos trabalhadores rurais.  
B) A mecanização e a tecnificação dos meios de produção.  
C) A introdução de culturas temperadas e o uso de agroquímicos.  
D) A tecnificação dos meios de produção e o uso de mão-de-obra urbana nas atividades agrárias de subsistência.  
E) A proibição legal do latifúndio monocultor e a mecanização da produção.

38. As formações vegetais, que recobriam as áreas sobretudo continentais são de vital importância para o geógrafo. As plantas, como objetos estáticos que possuem propriedades físicas características, constituem um elemento da paisagem igual, como podem sê-lo o relevo, os solos e as características hidrográficas. Sobre esse assunto, assinale a única afirmativa que não corresponde à realidade.
- A) As formações vegetais variam de forma sistemática na superfície continentais em função dos seguintes fatores: altitude, longitude, solos e condições climáticas ambientais.
  - B) Em cada habitat, em particular, pode encontrar-se uma unidade menor do ecossistema, ou seja, a comunidade vegetal, composta por uma certa proporção de organismos que são mais ou menos interdependentes.
  - C) As epífitas, que são comuns nas florestas latifoliadas subperenifólias, encontram-se presas às árvores mediante uma massa de raízes fibrosas.
  - D) As formações vegetais de transição entre floresta e caatinga são arbustivas e arbóreo-arbustivas densas, com bastante plantas espinhosas; são encontradas, por exemplo, na Chapada do Araripe.
  - E) As florestas caducifólias, outrora encontradas de forma exuberante na Zona da Mata Norte de Pernambuco, estão relacionadas aos solos Bruno Não Cálculo, Planossólico e Podzólico Vermelho-Amarelo Equivalente Eutrófico.
39. Leia as considerações feitas a seguir.

*“A produção baseia-se no trabalho exercido pelos seres humanos, dirigido no sentido do atendimento das necessidades econômicas individuais e coletivas. O agricultor, por exemplo, organizador da produção, empregando **fatores produtivos** e certos **insumos** provenientes de outras **unidades produtoras**, logra, ao fim de um ciclo produtivo, colher determinada quantidade de cana-de-açúcar.”*

Do ponto de vista geoeconômico, quais dos seguintes fatores podem ser corretamente considerados como produtivos?

- 1) Sementes.
- 2) Fertilizantes.
- 3) Trabalho.
- 4) Terra.
- 5) Capital.
- 6) Usina.

Estão corretos, apenas:

- A) 1, 4 e 5.
- B) 2, 3 e 6.
- C) 2, 3 e 4.
- D) 3, 4 e 5.
- E) 1, 2, 5 e 6.

40. Nos regimes caracterizados pela propriedade privada, indivíduos e empresas, em dependência de sua estrutura econômica, detêm um certo patrimônio que genericamente compreende **Ativo Real e Ativo Financeiro**.

Dos exemplos mencionados nas alternativas a seguir, qual o que não pode ser considerado Ativo Financeiro?

- A) Ações.
- B) Títulos da Dívida Pública.
- C) Depósitos Bancários.
- D) Dinheiro em nota.
- E) Residências.