



CONCURSO PÚBLICO PREFEITURA DO MUNICÍPIO DE PORTO VELHO/RO

EDITAL DE CONCURSO PÚBLICO Nº. 001/2011

INSTRUÇÕES

- 01 - Material a ser utilizado: caneta esferográfica azul ou preta. Os objetos restantes devem ser colocados em local indicado pelo fiscal da sala, inclusive aparelho celular desligado e devidamente identificado com etiqueta.
- 02 - Não é permitido consulta, utilização de livros, códigos, dicionários, apontamentos, apostilas, calculadoras e etc. Não é permitido ao candidato ingressar na sala de provas sem a respectiva identificação e o devido recolhimento de telefone celular, bip e outros aparelhos eletrônicos.
- 03 - Durante a prova, o candidato não deve levantar-se, comunicar-se com outros candidatos e nem fumar.
- 04 - A duração da prova é de 03 (três) horas, já incluindo o tempo destinado à entrega do Caderno de Provas e à identificação – que será feita no decorrer da prova – e ao preenchimento do Cartão de Respostas (Gabarito).
- 05 - Somente em caso de urgência pedir ao fiscal para ir ao sanitário, devendo no percurso permanecer absolutamente calado, podendo antes e depois da entrada sofrer revista através de detector de metais. Ao sair da sala no término da prova, o candidato não poderá utilizar o sanitário. Caso ocorra uma emergência, o fiscal deverá ser comunicado.
- 06 - O Caderno de Provas consta de 50 (cinquenta) questões de múltipla escolha. Leia-o atentamente.
- 07 - As questões das provas objetivas são do tipo múltipla escolha, com 05 (cinco) opções (A a E) e uma única resposta correta.**
- 08 - Ao receber o material de realização das provas, o candidato deverá conferir atentamente se o Caderno de Provas corresponde ao cargo a que está concorrendo, observando o nome do cargo na parte superior da próxima página, bem como se os dados constantes no Cartão de Respostas (Gabarito) que lhe foi fornecido, estão corretos. Caso os dados estejam incorretos, ou o material esteja incompleto ou tenha qualquer imperfeição, o candidato deverá informar tal ocorrência ao fiscal.
- 09 - Os fiscais não estão autorizados a emitir opinião e prestar esclarecimentos sobre o conteúdo das provas. Cabe única e exclusivamente ao candidato interpretar e decidir.
- 10 - O candidato poderá retirar-se do local de provas somente a partir dos 90 (noventa) minutos após o início de sua realização, contudo não poderá levar consigo o Caderno de Provas, somente sendo permitida essa conduta apenas no decurso dos últimos 30 (trinta) minutos anteriores ao horário previsto para o seu término.
- 11 - Os 3 (três) últimos candidatos de cada sala somente poderão sair juntos. Caso o candidato insista em sair do local de aplicação da prova, deverá assinar um termo desistindo do Concurso Público e, caso se negue, deverá ser lavrado o Termo de Ocorrência, testemunhado pelos 2 (dois) outros candidatos, pelo fiscal da sala e pelo coordenador da unidade escolar.

RESULTADOS E RECURSOS

- Os **gabaritos oficiais preliminares** das provas objetivas serão divulgados na Internet, no *site* www.consulplan.net, a partir das 16h00min do dia subsequente ao da realização da prova escrita (segunda-feira).
- Os recursos deverão ser apresentados, conforme determinado no item 11 do Edital nº. 001/2011, sendo observados os seguintes aspectos:
- a) O candidato que desejar interpor recursos contra os gabaritos oficiais preliminares das provas objetivas disporá de **02 (dois) dias úteis**, a partir do primeiro dia útil após a divulgação (terça-feira), em requerimento próprio disponibilizado no *link* correlato ao Concurso Público no *site* www.consulplan.net.
- b) A interposição de recursos poderá ser feita **via Internet**, através do **Sistema Eletrônico de Interposição de Recursos**, com acesso pelo candidato ao fornecer os dados referentes à sua inscrição, apenas no prazo recursal previsto para cada fase, conforme cronograma constante do **Anexo VI deste Edital**, à Consulplan, observadas as disposições contidas no *site* www.consulplan.net, no *link* correspondente a este Concurso Público.

CONCURSO PÚBLICO – PREFEITURA DO MUNICÍPIO DE PORTO VELHO/RO
CARGO: TÉCNICO EM PLANEJAMENTO E OPERAÇÃO DE TRANSPORTES MULTIMODAL

TEXTO:

Violência e direitos humanos

Sendo praticados no âmbito das relações profissionais ou afetivas e íntimas, os atos violentos apresentam características comuns: relação de poder desigual entre os sujeitos envolvidos; imposição e força; medo, submissão e privação da liberdade, momentâneos ou duradouros.

A violência é, portanto, a ação de um sujeito que, ao subjugar um outro, seja pela força física, pelo assédio moral ou sexual, obriga-o a fazer algo que por sua livre escolha não faria. Ação de quem se julga – por um momento, ou indefinidamente – no direito de impor a sua vontade ou desejo a outra pessoa, tendo ou não consciência plena desse julgamento. A violência é, também, um ato desprovido de humanidade, pois ao impor a um terceiro a condição de objeto, o sujeito desta ação também se desumaniza.

Para ser humano é preciso tornar-se humano. O processo de humanização é uma via de mão dupla. Nos tornamos humanos quando agimos humanamente em relação aos nossos interlocutores. Para agir humanamente é preciso admitir que, apesar das diferenças existentes entre os indivíduos, existe algo em comum, fundamentalmente igual entre as pessoas, quer se trate de brancos, negros, velhos, jovens, sábios, ignorantes, ricos, pobres, mulheres ou homens. É imprescindível poder colocar-se no lugar do outro, adotando por um momento, o seu modo de ver as coisas, seu ponto de vista, seu lugar ou sua posição.

No momento em que agride, ao agressor não interessam os apelos de sua vítima, tem enjoo de seus lamentos, que lhe parecem uma provocação. O que parece verdade, pois, quando a vítima pede compaixão, ela tenta resgatar no agressor a consciência do que ele está fazendo. Apela para seus sentimentos de filho, irmão, marido... Mas ele não lhe reconhece como igual, não imagina (ou não se importa) que algo semelhante aconteça aos seus, não é capaz de compartilhar o sofrimento, de ter compaixão. Tratando a vítima como objeto, negando-se a reconhecer sua dor, impondo-lhe uma situação contrária ao seu desejo, obrigando-lhe a fazer o que não concorda, que moralmente não aceita, o agressor avilta a liberdade da pessoa agredida e percorre a trilha da violação dos direitos humanos.

(Elcylene Leocádio. Disponível em: <http://www.aads.org.br/rhamas/violenciadire.html>, com adaptações)

01) De acordo com as ideias do texto é correto afirmar que os argumentos acerca da violência indicam que

- A) todo ser humano é violento e por isso precisa passar por um processo de humanização.
- B) pode ser praticada no âmbito de várias relações, porém intensifica-se no campo das relações afetivas e íntimas.
- C) nela não há presença de humanidade por parte de quem a pratica, pois é imposta a condição de objeto à vítima, desumanizando também o sujeito da ação.
- D) o sofrimento e a compaixão são sentimentos que fazem parte da rotina do agressor, sentimentos desencadeados pelos atos violentos.
- E) a violação dos direitos humanos diante da violência é uma realidade, já que o agressor tem como consequência a privação da sua liberdade.

02) No 1º§, a expressão “características comuns” faz referência à(ao)s

- A) simplicidade dos atos violentos citados no texto.
- B) alto grau de violência existente na sociedade do século XXI.
- C) reduzido número de atos violentos presentes nas relações profissionais.
- D) características presentes nos atos violentos de uma forma geral.
- E) fato de que a violência é vista como um caso comum e rotineiro.

03) O 2º§ do texto é iniciado por um(a)

- A) conclusão acerca da violência.
- B) ideia contrária às ideias do 1º§.
- C) causa para o crescimento dos atos violentos.
- D) consequência para a prática de atos violentos.
- E) relato de exemplos práticos de atos violentos.

04) A partir das relações de coesão estabelecidas no texto é correto afirmar que em

- A) “obriga-o a fazer algo” (2º§), o termo destacado refere-se a “fazer algo”.
- B) “sua livre escolha” (2º§), “sua” pode ser substituído por “alguma” sem que haja alteração de sentido ou prejuízo na correção gramatical.
- C) “o sujeito desta ação” (2º§), a expressão em destaque refere-se a um exemplo de violência citado no 3º§.
- D) “adotando por um momento, o seu modo de ver as coisas” (3º§), o termo destacado indica “o modo de ver do outro”.
- E) “que lhe parecem” (4º§) pode ser substituído por “que aparecem-no” mantendo-se a correção gramatical e semântica.

05) De acordo com o contexto está correto o significado apresentado para o vocábulo

- A) âmbito = recinto
- B) imposição = improbidade
- C) submissão = humilhação
- D) privação = limitação
- E) imprescindível = mister



CONCURSO PÚBLICO – PREFEITURA DO MUNICÍPIO DE PORTO VELHO/RO

06) No 1º§, o sinal de dois pontos (:), depois de “comuns”

- A) introduz uma ideia que explica a afirmação da oração anterior.
- B) pode ser substituído pelo sinal de ponto preservando-se a coerência.
- C) introduz uma enumeração em referência às características dos atos violentos.
- D) introduz uma citação de autoridade que confere ao texto maior credibilidade.
- E) pode ser substituído pelo sinal de ponto e vírgula separando orações coordenadas.

07) Com base no pressuposto de que algumas palavras indicam o modo como as ideias do texto estão relacionadas entre si, indique a seguir a palavra cujo sentido é o mesmo do termo destacado em “A violência é, também, um ato desprovido de humanidade, pois ao impor...”

- A) como
- B) porque
- C) contudo
- D) e
- E) se

08) Acerca do período “Para ser humano é preciso tornar-se humano.”, marque V para as afirmativas verdadeiras e F para as falsas.

- () Acrescentando-se o artigo definido “o” anteposto ao vocábulo “ser”, preservam-se o sentido e a correção gramatical.
- () A oração “tornar-se humano” tem a função de sujeito de “é preciso”.
- () O pronome “se” indica que a ação verbal é praticada e recebida pelo mesmo sujeito.

A sequência está correta em

- A) V, V, F
- B) F, V, F
- C) V, V, V
- D) F, V, V
- E) F, F, V

09) Há, no texto, um exemplo de frase que NÃO está de acordo com a norma padrão da língua. Indique-o.

- A) “Nos tornamos humanos quando agimos humanamente em relação aos nossos interlocutores.”
- B) “É imprescindível poder colocar-se no lugar do outro, adotando por um momento, o seu modo de ver as coisas,...”
- C) “No momento em que agride, ao agressor não interessam os apelos de sua vítima, tem enjoo de seus lamentos, que lhe parecem uma provocação.”
- D) “... quando a vítima pede compaixão, ela tenta resgatar no agressor a consciência do que ele está fazendo.”
- E) “Tratando a vítima como objeto, negando-se a reconhecer sua dor, impondo-lhe uma situação contrária ao seu desejo,...”


10) Dentre os trechos destacados, pode ser identificado um exemplo de linguagem figurada em

- A) “... relação de poder desigual entre os sujeitos envolvidos; imposição e força; medo, submissão e privação da liberdade,...”
- B) “... a ação de um sujeito que, ao subjugar um outro, seja pela força física, pelo assédio moral ou sexual, obriga-o a fazer algo...”
- C) “Ação de quem se julga – por um momento, ou indefinidamente – no direito de impor a sua vontade...”
- D) “A violência é, também, um ato desprovido de humanidade, pois ao impor a um terceiro a condição de objeto, ...”
- E) “Para ser humano é preciso tornar-se humano. O processo de humanização é uma via de mão dupla.”

RACIOCÍNIO LÓGICO-MATEMÁTICO

11) A figura representa uma bandeira, cujas faixas deverão ser coloridas, cada uma de uma cor. De quantas maneiras é possível pintar esta bandeira dispondo-se de 8 cores diferentes de tinta?

- A) 56
- B) 412
- C) 258
- D) 336
- E) 24



12) Cada figura a seguir representa um valor numérico. Observe.

$$\star + \text{😊} = 16$$

$$\text{😊} + \text{♥} = 11$$

$$\text{♥} + \star = 13$$

$$\text{😊} + \text{♥} + \star = ?$$

O valor numérico que substitui corretamente o sinal de interrogação é

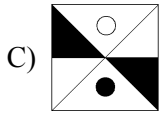
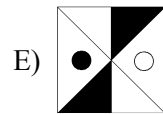
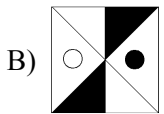
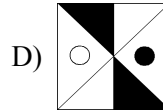
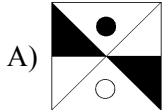
- A) 20
- B) 23
- C) 21
- D) 19
- E) 22



CONCURSO PÚBLICO – PREFEITURA DO MUNICÍPIO DE PORTO VELHO/RO

- 13) Seja uma progressão geométrica cuja razão é 0,5 e o décimo segundo termo é 0,25. O primeiro termo desta sequência é um número
- A) ímpar. D) menor que 100.
B) maior que 100 e menor que 300. E) formado por 3 algarismos distintos.
C) divisível por 5.
- 14) Sejam ABC os algarismos de um número inteiro positivo, tal que
- A e B são ímpares e C é par.
 - $A + B = C$.
 - B e C não são consecutivos.
 - $A < B < C$.
- A soma $B + C$ é igual a
- A) 13 B) 11 C) 8 D) 10 E) 14

- 15) Qual das figuras a seguir é diferente das demais?



NOÇÕES DE INFORMÁTICA

- 16) “Programa de correio eletrônico livre e distribuído gratuitamente. O _____ foi desenvolvido pela Mozilla; é uma aplicação gratuita fácil de configurar, personalizar e está cheio de grandes recursos.” Assinale a alternativa que completa corretamente a afirmativa anterior.
- A) Outlook B) Sylpheed C) Evolution D) Gnome E) Thunderbird
- 17) Em relação à Internet, marque V para as afirmativas verdadeiras e F para as falsas.
- () Geralmente, o acesso é feito em um servidor local em uma rede local denominada LAN.
() O HTTP é o protocolo mais utilizado.
() Também é conhecida pela sigla WWW.
() Para o funcionamento da Internet existem três camadas de protocolos.
- A sequência está correta em
- A) V, V, F, F B) F, F, V, V C) F, V, F, V D) V, F, V, F E) F, F, V, F
- 18) “World Wide Web, também conhecida como Web ou www, é um sistema de documentos em hipermídia interligados e executados na _____.” Assinale a alternativa que completa corretamente a afirmativa anterior.
- A) Intranet B) Extranet C) Home Page D) Internet E) Intelnet
- 19) No aplicativo para edição de textos Microsoft Word 2003 (configuração padrão – idioma português Brasil) existem inúmeras funções para formatar um texto ou até mesmo importar um texto já digitado e formatado para dentro de um outro documento. Analisando as figuras a seguir, relacione as colunas aos seus respectivos significados.
1. () Com esta função, pode-se copiar qualquer caractere ou objeto inserido no documento, ou seja, fazer uma cópia de um texto ou uma figura.
2. () Quando especifica-se onde o documento deverá ser copiado ou recortado, deve-se clicar em colar para confirmar a operação.
3. () Permite copiar a formatação de qualquer caractere ou objeto que se insere no documento.
4. () Com esta função, remove-se um caractere ou objeto e dá-se um novo destino a ele, ou seja, é mudado de lugar.
- A sequência está correta em
- A) 2, 3, 1, 4 B) 3, 2, 4, 1 C) 4, 2, 3, 1 D) 1, 4, 3, 2 E) 2, 3, 4, 1



CONCURSO PÚBLICO – PREFEITURA DO MUNICÍPIO DE PORTO VELHO/RO

- 20) “Em uma determinada empresa perdia-se muito tempo na troca de informações entre os setores, além do desperdício de papel. Decidiu-se em uma reunião, a implantação de um sistema em que os usuários pudessem compartilhar documentos e enviar avisos de forma prática e dinâmica.” A modalidade de sistema implantada deve ser
- A) Arpanet. B) Extranet. C) Intranet. D) Internet. E) Fortnet.

NOCÕES DE DIREITO CONSTITUCIONAL E ADMINISTRATIVO

- 21) Nos termos da Constituição da República Federativa do Brasil, invalidada por sentença judicial, a demissão do servidor estável será a ele reintegrada e o eventual ocupante da vaga, se estável, será
- A) exonerado, podendo usufruir dos benefícios do cargo.
B) exonerado do serviço público, pois a vaga já tinha titular.
C) reconduzido ao cargo de origem, sem direito a indenização, aproveitado em outro cargo ou posto em disponibilidade com remuneração proporcional ao tempo de serviço.
D) demitido, pois a vaga já possuía titular.
E) sempre posto em disponibilidade.
- 22) A licença é um ato administrativo
- A) vinculado e unilateral. D) discricionário e bilateral.
B) vinculado e bilateral. E) enunciativo.
C) discricionário e unilateral.
- 23) Constitui ato de improbidade administrativa importando enriquecimento ilícito
- A) realizar operação financeira sem observância das normas legais e regulamentares ou aceitar garantia insuficiente ou inidônea.
B) conceder benefício administrativo ou fiscal sem a observância das formalidades legais ou regulamentares aplicáveis à espécie.
C) perceber vantagem econômica, direta ou indireta, para facilitar a alienação, permuta ou locação de bem público ou o fornecimento de serviço por ente estatal por preço inferior ao valor de mercado.
D) ordenar ou permitir a realização de despesas não autorizadas em lei ou regulamento.
E) liberar verba pública sem estrita observância das normas pertinentes ou influir de qualquer forma para a sua aplicação irregular.
- 24) De regra, em tema de responsabilidade civil do Estado, adota-se a teoria da
- A) irresponsabilidade. D) responsabilidade equânime.
B) responsabilidade subjetiva. E) responsabilidade que exige o elemento interno.
C) responsabilidade objetiva.
- 25) O processo administrativo é regido por uma série de princípios que, segundo alguns doutrinadores, o deixaram mais democrático. De acordo com o entendimento doutrinário majoritário, ele NÃO é regido pelo princípio do(a)
- A) legalidade. B) motivação. C) contraditório. D) ampla defesa. E) verdade formal.

CONHECIMENTOS GERAIS

- 26) Leia o texto.

A presidente Dilma Rousseff voltou a afirmar nesta quinta-feira (10) que a prorrogação da DRU (Desvinculação de Receitas da União) é importante para o Brasil diante do cenário de crise econômica internacional. “A DRU é uma condição para isso que eu chamei de manter a nossa robustez fiscal. Não é dar ao governo liberdade de gasto. É dar ao governo margem de manobra diante de uma crise internacional que se avizinha”, afirmou a presidente após cerimônia de sanção do Supersimples, no Palácio do Planalto.

(Folha online, 10/11/2011, <http://www1.folha.uol.com.br/poder/1004623-aprovacao-da-dru-e-importante-diante-da-crise-afirma-dilma.shtml>)

Através deste instrumento, o Executivo Federal tem permissão específica para

- A) apresentar apoios financeiros aos países atingidos pela grande crise econômica internacional, como Grécia e Portugal.
B) contratar 25% dos servidores sem concursos públicos, através da nomeação a cargos comissionados.
C) investir 30% da receita federal na Saúde, possibilitando o incremento do sistema único com mais medicamentos e serviços.
D) realizar contratos para obras do Programa de Aceleração do Crescimento (PAC) sem realizar licitações.
E) reservar 20% das receitas orçamentárias para gastar como quiser sem os vínculos das despesas obrigatórias.



CONCURSO PÚBLICO – PREFEITURA DO MUNICÍPIO DE PORTO VELHO/RO

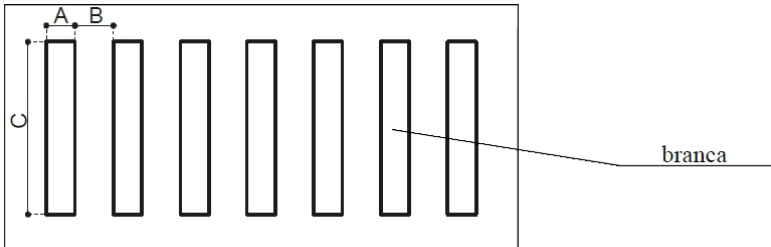

- 27) Em 2011, a Organização das Nações Unidas comemorou os 100 anos do Dia Internacional da Mulher. Implantado pioneiramente na Dinamarca, o dia da mulher passou a ser adotado nos anos seguintes por vários países até que, em 1977, foi acolhido pela própria ONU, internacionalmente. O acontecimento que é comumente associado ao Dia Internacional da Mulher ocorreu em Nova York (EUA), quando
- A) a principal cidade do planeta passou a ser governada por uma mulher, Mary Stewart, que foi a primeira prefeita do mundo.
 - B) o governo norte-americano sancionou a lei que permitiu às mulheres votarem nas eleições presidenciais de 1911.
 - C) as primeiras damas de vários países representativos economicamente se reuniram em apoio ao movimento feminista.
 - D) um grupo de mulheres marchou pelas principais ruas da cidade e queimaram seus sutiãs em pleno Central Park.
 - E) um incêndio em uma fábrica de roupas causou a morte de centenas de trabalhadores, sendo a grande maioria costureiras.
- 28) “No primeiro ano de governo, a presidente Dilma Rousseff efetuou um número de trocas de ministros recorde, dentre os presidentes civis eleitos após a ditadura militar, num curto espaço de tempo (12 meses). Uma das mudanças mais polêmicas envolveu a saída de Antônio Palocci da Casa Civil que foi substituído por _____ que, até então, atuava no Congresso Nacional como _____.” Assinale a alternativa que completa correta e sequencialmente a afirmativa anterior.
- A) Anna de Hollanda / assessora parlamentar
 - B) Gilberto Carvalho / deputado federal
 - C) Gleisi Hoffmann / senadora
 - D) Ideli Salvatti / senadora
 - E) Nelson Jobin / deputado federal
- 29) “No final de 2011, a Liga Árabe suspendeu a(o) _____ e impôs sanções econômicas e políticas, além de solicitar a retirada dos embaixadores do país, depois que o governo do ditador _____ manteve repressão violenta às manifestações da oposição.” Assinale a alternativa que completa correta e sequencialmente a afirmativa anterior.
- A) Egito / Hosni Mubarak
 - B) Líbia / Muammar Kadafi
 - C) Palestina / Yasser Arafat
 - D) Síria / Bashar al-Assad
 - E) Tunísia / Zine al-Abidine Ben Ali
- 30) O BRICS, formado originariamente pelos países emergentes: Brasil, Rússia, Índia e China, ganhou um quinto integrante em 2011, a saber
- A) Austrália.
 - B) México.
 - C) Israel.
 - D) Coreia do Sul.
 - E) África do Sul

CONHECIMENTOS ESPECÍFICOS

- 31) Segundo estabelecido pelo CONTRAN, sinalização vertical é um subsistema da sinalização viária, cujo meio de comunicação está na posição vertical, e é dividida em tipos de acordo com sua função. São tipos de sinalização
- A) de regulamentação, de advertência e marcas transversais.
 - B) de regulamentação, de advertência e de indicação.
 - C) marcas longitudinais, de canalização e transversais.
 - D) marcas longitudinais, transversais e sinalização de advertência.
 - E) marcas transversais, de canalização e sinalização de indicação.
- 32) Segundo o CONTRAN, a sinalização horizontal é um subsistema da sinalização viária que se utiliza de linhas, marcações, símbolos e legendas, pintados ou apostos sobre o pavimento das vias. Tem como função
- A) identificar as vias e os locais de interesse, bem como orientar condutores de veículos quanto aos percursos, os destinos, as distâncias e os serviços auxiliares, podendo também ter como função a educação do usuário. Suas mensagens possuem caráter informativo ou educativo.
 - B) organizar o fluxo de veículos e pedestres; controlar e orientar os deslocamentos em situações com problemas de geometria, topografia ou frente a obstáculos; complementar os sinais verticais de regulamentação, advertência ou indicação. Em casos específicos, tem poder de regulamentação.
 - C) informar aos usuários condições, proibições, obrigações ou restrições no uso das vias. Suas mensagens são imperativas e o desrespeito a elas constitui infração.
 - D) alertar os usuários da via para condições potencialmente perigosas, indicando sua natureza.
 - E) Nenhuma das afirmativas anteriores transcreve a função da sinalização horizontal.
- 33) Segundo o CONTRAN, as placas de identificação de atrativo turístico têm como padrão forma retangular e cores: de fundo, orla interna, orla externa e legendas, respectivamente
- A) marrom, branca, marrom e branca.
 - B) marrom, branca, preta e branca.
 - C) branca, vermelha, vermelha e preta.
 - D) branca, marrom, branca e marrom.
 - E) azul, branca, azul e branca.



CONCURSO PÚBLICO – PREFEITURA DO MUNICÍPIO DE PORTO VELHO/RO

- 34) Segundo o CONTRAN, é necessário acrescentar informações para complementar os sinais de regulamentação, como período de validade, características e uso do veículo, condições de estacionamento. Deve ser utilizada uma placa adicional ou incorporada à placa principal, formando um só conjunto, na forma
- A) retangular, com as mesmas cores do sinal de regulamentação.
B) retangular, com as cores verde e branca.
C) circular, com mesmas cores do sinal de regulamentação.
D) circular, com as cores verde e branca.
E) circular, com as cores vermelha e branca.
- 35) Na sinalização horizontal, as linhas de divisão de fluxos opostos das marcas longitudinais têm como função
- I. separar os movimentos veiculares de sentidos contrários.
II. regulamentar a ultrapassagem.
III. regulamentar os deslocamentos laterais, exceto para acesso à imóvel lindeiro.
IV. regulamentar os deslocamentos laterais, inclusive para acesso à imóvel lindeiro.
- Estão corretas apenas as alternativas
- A) I, III, IV B) I, III C) I, IV D) I, II, III E) I, II, IV
- 36) Sobre as marcas longitudinais pode-se afirmar que
- I. as linhas de bordo delimitam a parte da pista destinada ao deslocamento de veículos.
II. as linhas de continuidade proporcionam continuidade a outras marcações longitudinais, quando há quebra no alinhamento visual.
III. as linhas de divisão de fluxos opostos separam os movimentos veiculares de sentidos contrários, não tendo obrigação de regulamentar a ultrapassagem.
IV. segundo o CONTRAN, as linhas de divisão de fluxo de mesmo sentido terão como padrão a cor amarela.
- Estão corretas apenas as afirmativas
- A) I, II B) II, III C) I, II, III D) I, II, IV E) II, IV
- 37) Segundo o CONTRAN, na sinalização horizontal, as responsáveis por ordenar os deslocamentos frontais dos veículos e os harmonizar com os deslocamentos de outros veículos e dos pedestres, além de informar os condutores sobre a necessidade de reduzir a velocidade e indicar travessia de pedestres e posições de parada, são as marcas
- A) oblíquas B) longitudinais. C) transversais. D) de delimitação. E) de canalização.
- 38) Observe a figura que representa uma faixa de travessia de pedestres tipo zebra. Segundo o CONTRAN, os valores máximos, em metros, para A e B são, respectivamente
- A) 0,40 m / 0,50 m
B) 0,40 m / 0,80 m
C) 0,45 m / 0,75 m
D) 0,40 m / 0,60 m
E) 0,45 m / 0,70 m
- 
- 39) As setas representam inscrições no pavimento asfáltico destinado ao fluxo veicular. Segundo o CONTRAN, o valor mínimo, em metros, para o comprimento das setas é
- A) 3,50 m.
B) 4,00 m.
C) 4,50 m.
D) 5,00 m.
E) não existe comprimento mínimo estabelecido.
- 
- 40) Na sinalização de regulamentação, os sinais de forma triangular, implantados em uma via urbana terão dimensões mínimas de lado de
- A) 0,40 m B) 0,45 m C) 0,50 m D) 0,65 m E) 0,75 m
- 41) A forma padrão dos sinais de advertência é quadrada, devendo uma das diagonais ficar na posição vertical. As dimensões mínimas de lado para os sinais de advertência na forma quadrada, em estradas, segundo o CONTRAN é de
- A) 0,30 m B) 0,35 m C) 0,40 m D) 0,45 m E) 0,50 m

42) Segundo o código de trânsito brasileiro, pode-se afirmar que

- I. o órgão ou entidade de trânsito com circunscrição sobre a via poderá retirar ou determinar a imediata retirada de qualquer elemento que prejudique a visibilidade da sinalização viária e a segurança do trânsito, com ônus para quem o tenha colocado.
- II. nas vias públicas e nos imóveis é proibido colocar luzes, publicidade, inscrições, vegetação e mobiliário que possam gerar confusão, interferir na visibilidade da sinalização e comprometer a segurança do trânsito.
- III. nenhuma via pavimentada poderá ser entregue após sua construção, ou reaberta ao trânsito após a realização de obras ou de manutenção, enquanto não estiver devidamente sinalizada, vertical e horizontalmente, de forma a garantir as condições adequadas de segurança na circulação.
- IV. nas vias ou trechos de vias em obras deverá ser afixado sinalização específica e adequada.

Estão corretas apenas as afirmativas

- A) I, II, III, IV B) II, III, IV C) I, III, IV D) I, IV E) II, III

43) Segundo o código de trânsito brasileiro, compete aos órgãos e entidades executivas de trânsito dos municípios, no âmbito de sua circunscrição

- I. planejar, projetar, regulamentar e operar o trânsito de veículos, de pedestres e de animais, e promover o desenvolvimento da circulação e da segurança de ciclistas.
- II. implantar, manter e operar o sistema de sinalização, os dispositivos e os equipamentos de controle viário.
- III. coletar dados estatísticos e elaborar estudos sobre os acidentes de trânsito e suas causas.
- IV. estabelecer, em conjunto com os órgãos de polícia ostensiva de trânsito, as diretrizes para o policiamento ostensivo de trânsito.

Estão corretas apenas as alternativas

- A) I, II, III B) II, III, IV C) I, II, IV D) I, III, IV E) I, II, III, IV

44) Relacione as colunas a seguir sobre os comandos do AutoCAD e suas respectivas funções.

Comandos:

- 1. Stretch
- 2. Fillet
- 3. Grid
- 4. Array

Funções:

- () Liga uma malha de pontos no fundo da área gráfica.
- () Faz cópias ordenadas de uma figura tanto em organização ortogonal (linha e colunas), quanto circular, usando um ângulo.
- () Arredonda os cantos entre duas linhas ou polilinhas.
- () Estica ou encurta uma figura como se ela fosse um elástico.

A sequência está correta em

- A) 4, 1, 2, 3 B) 1, 3, 4, 2 C) 3, 4, 2, 1 D) 2, 3, 1, 4 E) 2, 4, 1, 3

45) No AutoCAD, o comando utilizado para arrastar o desenho na tela sem alterar sua dimensão ou posição em relação às coordenadas, é

- A) Fillet. B) Trim. C) Pline. D) Pan. E) Snap.

46) Observe as figuras.

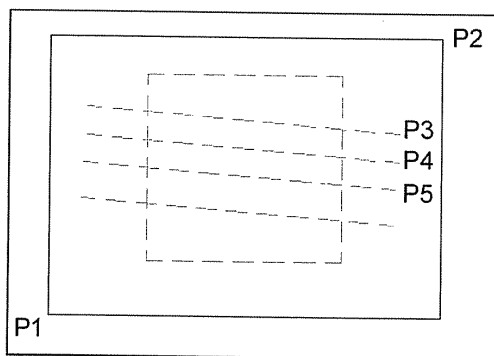


Figura 1

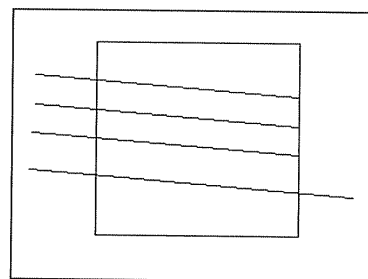


Figura 2

Marcos está utilizando o AutoCAD para desenhar um projeto de sinalização e precisa cortar algumas linhas que se cruzam (como representado na figura 1 pelas linhas P1, P2, P3, P4 e P5), de forma a obter como resultado a figura 2. O comando do AutoCAD que melhor o atenderá será

- A) Limits. B) Snap. C) Trim. D) Dimjogged. E) Mirror.

47) No AutoCAD, o comando utilizado para criar um conjunto de linhas e arcos continuamente, é

- A) Fillet. B) Trim. C) Pline. D) Pan. E) Snap.

CONCURSO PÚBLICO – PREFEITURA DO MUNICÍPIO DE PORTO VELHO/RO

48) Observe a planilha eletrônica.

	A	B	C	D	E	F	G
1		10:00	11:00	12:00	13:00	Média de veículos	
2	Rodovia A	100	102	115	90	101,75	
3	Rodovia B	99	150	160	45	113,5	
4	Rodovia C	40	56	56	34	46,5	
5	Rodovia D	78	87	96	72	83,25	
6							
7							
8							

Caso seja digitada a função =ARRED(F5;1) na célula C7, obtém-se como resultado o seguinte valor

A) 113,5 B) 83 C) 83,2 D) 83,3 E) 101,7

49) Os limites de proibição de ultrapassagem em curvas horizontais ou verticais são definidos em função da distância de visibilidade, tendo seus extremos estabelecidos onde ela for menor que a distância mínima de visibilidade necessária para a ultrapassagem com segurança, considerando-se os seguintes fatores

I. distância de visibilidade mínima, correspondente à distância dupla de visibilidade de parada, variável em função da velocidade de operação.

II. altura da visada do observador em relação a superfície do pavimento, aproximadamente de 1,2 metros.

III. altura do veículo em sentido oposto em relação a superfície do pavimento.

Está(ão) correto(s) apenas o(s) fator(es)

A) I B) II C) III D) II, III E) I, II, III

50) Quanto às cores empregadas na sinalização horizontal, pode-se afirmar que a cor

I. amarela é utilizada na regulação de fluxos de sentidos opostos, na delimitação de espaços proibidos para estacionamento e/ou parada e na marcação de obstáculos.II. vermelha é utilizada para proporcionar contraste, quando necessário, entre a marca viária e o pavimento das ciclofaixas e/ou ciclovias, na parte interna destas associada à linha de bordo branca ou de linha de divisão de fluxo de mesmo sentido.III. azul é utilizada para proporcionar contraste entre o pavimento e a pintura.IV. branca é utilizada na regulação de fluxos de mesmo sentido, na delimitação de trechos de vias destinados ao estacionamento regulamentado de veículos em condições especiais, na marcação de faixas de travessias de pedestres, símbolos e legendas.

Estão corretas apenas as afirmativas

A) I, II B) II, III C) I, II, III D) I, II, IV E) II, III, IV







