

Cargo: **Odontólogo (20 H)**

Língua Portuguesa

Leia a notícia:

OS PALAVRÓRIOS EM DILMÊS EXIGEM TRADUÇÃO SIMULTÂNEA, LEGENDAS E VERSÃO DUBLADA

Incompreensível em qualquer tema, o dilmês se torna impenetrável quando o assunto é economia. A confusão armada por Dilma Rousseff ao tentar explicar o que acha da inflação nada tem de surpreendente para os leitores da coluna. Como no discurso que inspirou o post republicado na seção Vale Reprise, o neurônio solitário fez o que sempre faz quando penetra nesse campo minado: não disse coisa com coisa.

A performance na África do Sul confirmou que a presidente não pode falar de improviso sem ter ao lado um craque em tradução simultânea. E os vídeos que registram o palavrório em dilmês exigem legendas em português. Caso a inovação pareça excessivamente constrangedora, a coluna sugere aos marqueteiros do Planalto o imediato lançamento da versão dublada.

28/03/2013 <http://veja.abril.com.br/blog/augusto-nunes/>

01. Sobre o texto acima e seus aspectos linguísticos e semânticos escreva (V) para verdadeiro ou (F) para falso:

- () A palavra dilmês é um neologismo.
- () O título do texto apresenta claramente uma ironia.
- () As palavras “performance” e “post” são estrangeirismos.
- () A palavra “**impenetrável**” em “[...] o dilmês se torna impenetrável quando o assunto é economia.”, pode ser substituída por “**incompreensível**” sem causar prejuízo de sentido ao texto.
- () As palavras **neurônio**, **solitário** e **simultânea** são acentuadas pela mesma regra.

Assinale a alternativa que indica a sequência correta de cima para baixo:

- A) V, V, F, F, F. B) F, F, V, V, V. C) V, V, V, V, V. D) F, F, F, F, F. E) F, V, F, V, F.

02. No texto abaixo, os parágrafos foram colocados, de propósito, fora de sua sequência normal. Numere os parênteses de 1 a 5, de acordo com a ordem em que os parágrafos devem aparecer para que o texto tenha sentido. Leia o texto a seguir e assinale a opção que dá sequência com coerência e coesão:

PENA DE MORTE NO BRASIL PARA CRIMES HEDIONDOS

- () No entanto, tenho conhecimentos em alguns casos de crimes hediondos em que foram feitas tentativas de recuperação ao criminoso, houve melhoras significativas, portanto, dar uma segunda chance, seria uma ação humana admirável.
- () Porém há opiniões contrárias a minha, que acreditam na pena de morte como única alternativa para crimes hediondos, valendo-se do pensamento “olho por olho, dente por dente”.
- () Na minha opinião, a pena de morte, não deve ser implantada no Brasil, é um critério de punição muito severo, é um poderio do qual homem nenhum deveria utilizar.
- () Enfim, não temos o poder de dar vida às pessoas, muito menos de tirá-la, por piores que sejam os crimes, eu acredito que no máximo a prisão perpétua, deveria ser a sentença de um acusado.
- () É indiscutível o pensamento “violência gera violência”, quem somos para colocarmos um fim na vida de um ser humano, por piores atrocidades que possam ter cometidos?

Fonte: <http://thunderms1.blogspot.com/>

Assinale a opção que dá sequência com coerência e coesão:

- A) 3 - 5 - 2 - 1 - 4. B) 4 - 3 - 2 - 1 - 5. C) 1 - 2 - 3 - 4 - 5. D) 5 - 4 - 3 - 2 - 1. E) 1 - 2 - 3 - 5 - 4.

Leia o fragmento abaixo e responda a questão 03:

“Uma faixa com os dizeres “Maricotinha, te amo” ou “Obrigado a santo Agapito pela graça alcançada”, estendida de poste a poste, de um lado a outro da rua, estimula que alguém pendure outras faixas apregoando “Vendem-se túmulos” ou “Jazigos abaixo do custo”, como já vi perto de cemitérios, penduradas de árvore a árvore”.

03. “Vendem-se túmulos” podemos afirmar que :

- I. A frase está na voz passiva, pois a partícula “se” é apassivadora.
- II. O sujeito “túmulos” sofre a ação verbal.
- III. Se a frase for reescrita na voz passiva sintética teremos: “Túmulos são vendidos”.
- IV. Em: “Precisa-se de túmulos”, a partícula é apassivadora, porém o verbo deve ficar no singular, pois sua regência assim exige.

Assinale a alternativa correta:

- A) Estão corretas somente as afirmativas II, III e IV.
- B) Estão corretas somente as afirmativas I, II e III.
- C) Estão corretas as afirmativas I, II, III e IV.
- D) Estão corretas somente as afirmativas III e IV.
- E) Está correta somente a afirmativa IV.

As questões de 04 a 07 são relacionadas ao artigo a seguir:

O ERRO DO SÉCULO

Faz dez anos que o colosso americano invadiu o Iraque governado por Saddam Hussein. O motivo apresentado ao mundo foi a existência de armas químicas, biológicas, nucleares de destruição em massa. O espantinho do apocalipse frequentou discursos importantes, inclusive o anual diante do Congresso dos Estados Unidos. Nessa encenação até Tony Blair queimou seu patrimônio político conquistado na década de 90 ao ratificar a farsa. Bush tentou obter aval das Nações Unidas para a sua guerra e não conseguiu; mesmo assim, foi adiante, montando força basicamente anglófona para sua empreitada.

As bravatas de Saddam cederam rapidamente diante dos mísseis que zuniam sobre Bagdá. Em Basra, mais perto do litoral, os ingleses fizeram o serviço com tropas terrestres. Em poucos dias as estátuas de Saddam eram derrubadas e os caos se espalhou com saques, vinganças de vítimas da ditadura, acertos de contas entre rivais políticos, violência de fundo religioso. O que era ruim ficou péssimo.

Confirmada a inexistência de arsenal letal, o discurso mudou e o motivo da guerra passou a ser a construção da democracia no Iraque. Não mais proteger o mundo, mas libertar os iraquianos do tirano cruel. Diga-se, a truculência de Saddam e seus filhos, especialmente Uday, atingia níveis de sadismo difíceis de imaginar, mas em essência semelhante à de outros déspotas que não foram derrubados pelo exército do império. Implantar democracia mediante o “prendo e arrevento quem não concordar comigo” é tolice que soa cômica, não fosse causa de tragédias. A democracia não é produto prêt-à-porter. É modo de convivência política que admite variações decorrentes da cultura de cada povo que a constrói por si.

As instituições norte-americanas, anestesiadas pelo terror do 11 de setembro de 2001, não conseguiram impedir a iniciativa belicosa de George Bush. Aliás, qualquer um que tentasse levantar argumento sensato padecia da acusação de antipatriotismo. A debilidade do sistema de freios e contrapesos formais e do conjunto das organizações da sociedade civil diante da maré de insanidade que levou à invasão do Iraque é caso para estudos acadêmicos. Quem sabe os estudiosos digam como evitar que a democracia caia nessas armadilhas.

Adeptos da teoria da conspiração recitam mantras sobre a intenção de assenhorear-se do petróleo. Quem gastou US\$ 1 bilhão por dia para manter as armas poderia ter comprado todo o óleo do planeta. O déficit fiscal norte-americano explodiu em razão dessa despesa e hoje contamina a economia mundial com o tsunami de dólares sem lastro que Obama emite para pagar despesas correntes.

A vendetta de Bush foi tão tola a ponto de servir à revanche do Irã, derrotado na guerra contra o Iraque nos anos 80. Ao derrubar o sunita Saddam, os Estados Unidos permitiram que os xiitas do Iraque se aliassem a seus pares iranianos, aumentando o peso do Irã no Oriente Médio, alterando as relações de poder da região e propiciando a sua entrada no clube nuclear. **Bush fez política com o fígado e os Estados Unidos arcarão muito tempo com o custo político, emocional e moral dessa guerra.**

www.gazetadopovo.com.br-25/03/2013 - Friedmann Wendpap

Em “O motivo apresentado ao mundo foi a existência de armas químicas, biológicas, nucleares de destruição em massa. O espantinho do apocalipse frequentou discursos importantes, inclusive o anual diante do Congresso dos Estados Unidos. Nessa encenação até Tony Blair queimou seu patrimônio político conquistado na década de 90 ao ratificar a farsa. Bush tentou obter aval das Nações Unidas para a sua guerra e não conseguiu; mesmo assim, foi adiante, montando força basicamente anglófona para sua empreitada.”

04. Os termos sublinhados não alterariam o sentido do texto se fossem substituídos, respectivamente, por:

- A) Prejudicou – confirmar – apoiou.
- B) Explodiu – retificar – assinatura.
- C) Desacreditou – desfez - não apoiou.
- D) Aprovou – refutou - avaliou.
- E) Construiu – enjeitou – desabono.

05. Em “ **Faz** dez anos que o colosso americano invadiu o Iraque governado por Saddam Hussein”. O verbo **fazer** só NÃO pode ser substituído por :

- I. Fazem.
- II. Há.
- III. Há cerca de.

Assinale a alternativa correta:

- A) Está correta somente a afirmativa II.
B) Está correta somente a afirmativa III.
C) Estão corretas somente as afirmativas II e III.
D) Está correta somente a afirmativa I.
E) Estão corretas somente as afirmativas I e II.
06. A expressão “As bravatas de Saddam” significa que:
A) Saddam tomava atitudes corajosas.
B) As atitudes de Saddam eram bravas.
C) As lutas de Saddam contra o governo americano não eram legítimas.
D) As mentiras de Saddam em relação às armas nucleares.
E) As ameaças de Saddam eram apenas fanfarrices.
07. Com relação ao parágrafo anterior, o último parágrafo, destacado abaixo, expressa uma:
“**Bush fez política com o fígado e os Estados Unidos arcarão muito tempo com o custo político, emocional e moral dessa guerra.**”
A) Justificativa.
B) Advertência.
C) Condição.
D) Oposição.
E) Contradição.

Matemática

08. Qual é o valor numérico da soma $5 + 10 + 15 + \dots + 75$?
A) 750.
B) 195.
C) 570.
D) 105.
E) 600.
09. O Sr. Juca gasta 420 kg de ração para alimentar suas 7 vacas durante 15 dias. Ao comprar mais 2 vacas, quantos quilos de ração ele irá gastar para alimentar seu rebanho durante 8 dias?
A) 274.
B) 362.
C) 500.
D) 288.
E) 540.
10. O valor da expressão $(0,4)^{-2} : 2^{-4}$ é igual a:
A) 256.
B) 1.
C) 100.
D) 16.
E) 4.
11. De quantas maneiras oito pessoas podem sentar-se num banco que tem apenas três lugares?
A) 24.
B) 336.
C) 21.
D) 249.
E) 320.
12. Numa progressão geométrica o quinto termo é cinco e o sétimo é vinte. Qual é o sexto termo dessa progressão geométrica?
A) 10.
B) 80.
C) 4.
D) 15.
E) 25.

13. Se $\log_a 5 = 0,70$ e $\log_a 3 = 0,30$ então o valor de $\log_a 15$ é:


- A) 1.
B) 100.
C) 21.
D) 15.
E) 8.

14. Numa caixa há sete bolas brancas e três bolas pretas. A probabilidade de se retirar, ao acaso, uma bola preta da caixa é:

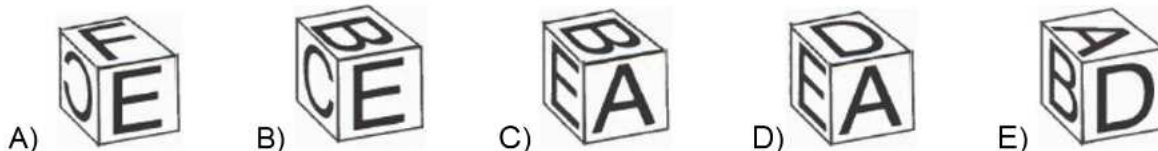
- A) 20%
B) 52%
C) 10%
D) 42%
E) 30%

Conhecimentos Gerais, Desenvolvimento Intelectual e Psicológico

A montagem do diagrama abaixo resultará em um dos cubos apresentados nas opções de A) a E):



Assinale a opção que indica o cubo correto.



16. Apenas uma das afirmativas abaixo está correta. Indique qual:

- A) Kilimanjaro é a montanha mais alta da Ásia.
B) Politeísmo é a crença religiosa baseada em um único Deus.
C) Ambidestro é a pessoa que possui habilidades iguais nas duas mãos.
D) Moais é o nome dado aos monumentos encontrados na ilha de Capri na Itália.
E) Minotauros são lendários gigantes imortais com um olho só no meio da testa.

17. Marque V para verdadeiro e F para Falso:

- () Margareth Thatcher, ex primeira ministra britânica falecida recentemente, era conhecida como "A Dama de Ferro".
() O filme "ARGO" foi o vencedor como melhor filme do Oscar 2013.
() O Greenpeace é uma organização global cuja missão é proteger o meio ambiente, promover a paz e inspirar mudanças de atitudes que garantam um futuro mais verde e limpo para esta e para as futuras gerações.
() A Jornada Mundial da Juventude promovida pela Igreja Católica, acontecerá no Brasil, no mês de julho de 2013 e prevê a visita do novo Papa ao país.
() A Copa das Confederações da FIFA acontece no Brasil em junho de 2013.

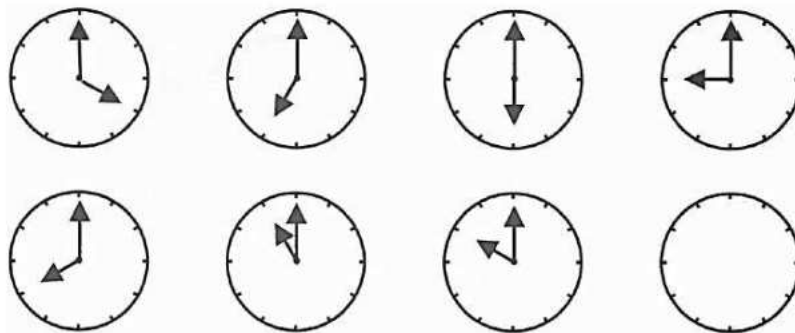
Assinale a alternativa que indica a sequência correta de cima para baixo:

- A) V, V, F, F, V. B) F, V, V, V, V. C) V, V, F, V, V D) V, V, V, V, V.. E) V, V, V, F, V.

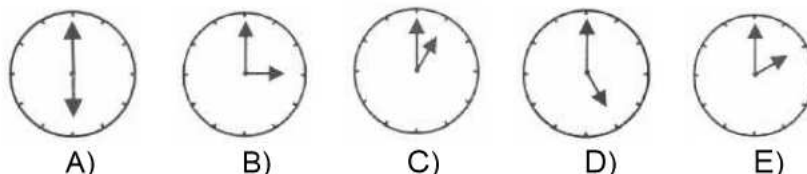
18. Cada costureira demora 3 horas para montar uma camisa. Pelas normas da empresa onde elas trabalham, cada camisa deve ser montada por uma única pessoa. O tempo necessário para que as dez costureiras montem as 48 camisas de uma encomenda é:

- A) 20 horas. B) 15 horas. C) 18 horas D) 5 horas. E) 16 horas.

19. Considerando a sequência lógica, que horas são no relógio em branco?



Assinale a opção correta:



20. Assinale a alternativa incorreta:

- A) A morte de Hugo Chávez, aos 58 anos, marca o fim de um período de quase 14 anos nos quais o ex-coronel esteve à frente da Venezuela e promoveu inúmeras transformações - defendidas por seus simpatizantes e criticadas pelos opositores.
- B) O anúncio de que uma criança havia sido curada do vírus do HIV foi comemorado como um avanço no tratamento de recém-nascidos infectados com a doença. A cura definitiva da AIDS, porém, ainda deve demorar a ser descoberta. Se os resultados forem confirmados, será o primeiro caso de cura "funcional" (quando o paciente apresenta remissão da doença após a suspensão dos medicamentos) de uma criança.
- C) A queda de um meteorito na Rússia e, no mesmo dia, a passagem de um asteroide próximo a órbita terrestre deixou o mundo em alerta para a possibilidade, mesmo que remota, de um desastre global. Os incidentes, apesar de semelhantes, não têm relação entre si, segundo especialistas.
- D) O cardeal argentino Francisco Mário Bergoglio foi eleito o novo Papa da Igreja Católica assumindo o nome de Francisco.
- E) A presidente Dilma Rousseff sancionou em 20 de dezembro de 2012 a lei que torna mais rígida a punição para motoristas que dirigem alcoolizados. A nova Lei Seca corrige uma brecha da anterior, permitindo que sejam utilizados outros meios, além do bafômetro, para comprovar a embriaguez ao volante.

Conhecimentos Específicos Relativos ao Cargo

21. A membrana da mucosa bucal pode ser infectada por vários vírus diferentes, cada um produzindo um quadro clínico patológico relativamente distinto. Marque "V" para a opção Verdadeira e "F" para a opção Falsa:

- () O período de incubação após a exposição ao vírus Herpes Simples varia de alguns dias até duas semanas. Na doença primária ocorre uma erupção vesículo-ulcerativa nos tecidos bucais.
- () A reatividade do vírus da Herpes Simples pode seguir-se à exposição à luz solar ou a frio, trauma estresse ou imunossupressão causando uma infecção secundária ou recidivante.
- () O vírus da Herpes Simples reativado desloca-se pelo trajeto do nervo trigêmeo até o local da superfície epitelial onde, inicialmente, houve a infecção, ocorrendo a replicação que resulta em uma erupção vesículo-ulcerativa focal.
- () A Herpes secundária pode ser controlada até certo ponto com aciclovir sistêmico. As recidivas são evitadas, a progressão e a gravidade da doença podem ser diminuídas.

Assinale a opção que apresenta a sequência correta de cima para baixo:

- A) V, F, V, V B) V, V, F, V C) F, V, F, F D) V, V, V, F E) F, V, V, F

22. Em relação aos sistemas adesivos é correto afirmar:

- I – A função da água nos sistemas adesivos autocondicionantes é ionizar os monômeros ácidos para que se tornem aptos a desmineralizar a *smear layer* e a dentina subjacente para formar a camada híbrida.
- II – O Primer do sistema adesivo de três passos é uma solução hidrofílica compatível com o esmalte e que possui solventes em sua composição.
- III – O Adesivo é a parte hidrofílica do sistema adesivo de três passos e compatível com a resina composta.

IV – Os sistemas adesivos de dois passos são mais hidrofílicos e tendem a ter maior degradação ao longo do tempo.

V – O colapso das fibrilas de colágeno é um fenômeno irreversível e aumenta os valores de resistência de união.

Assinale a alternativa correta:

- A) Apenas as afirmativas I, II e III estão corretas.
- B) Apenas as afirmativas I e II estão corretas.
- C) Apenas as afirmativas III e V estão corretas.
- D) Apenas as afirmativas I e IV estão corretas.
- E) Apenas as afirmativas I, II e IV estão corretas.

23. Assinale a afirmativa **incorreta**:

- A) O esmalte dental é o único tecido mineralizado de origem epitelial e o que contém mais conteúdo mineral do corpo humano.
- B) As propriedades físicas do esmalte dental são marcantes: baixa densidade; baixo módulo de elasticidade; baixa resistência à tração e alta fragilidade e dureza.
- C) Estruturalmente o esmalte dental apresenta como sua maior unidade o prisma de esmalte que se encontram em uma direção de 30 a 60° com a superfície nos dentes permanentes.
- D) Cada prisma de esmalte é composto por uma reunião de bilhões de cristalitos, os quais são formados por um agregado ordenado de milhares de subunidades.
- E) O esmalte dental é um tecido poroso, que funciona como uma barreira semipermeável e pode ser atravessado, especialmente por fluidos e pequenas moléculas.

24. São músculos da expressão facial:

- A) Músculo nasal, Músculo zigomático maior e Músculo bucinador.
- B) Músculo orbicular da boca, Músculo levantador do lábio superior e Músculo pterigoideo lateral.
- C) Músculo temporal, Músculo digástrico e Músculo mentoniano.
- D) Músculo corrugador do supercílio, Músculo bucinador e Músculo digástrico,
- E) Músculo genioglosso, Músculo abaixador do ângulo da boca e Músculo mentoniano.

25. Segundo Madeira, são considerados quatro músculos pertencentes ao grupo da mastigação: três músculos elevadores e um protrusor da mandíbula. Assinale a alternativa que apresenta os músculos elevadores e o protrusor da mandíbula respectivamente.

- A) Temporal, pterigoideo lateral, masseter e gênio-hioideo.
- B) Pterigoideo medial, masseter, temporal e gênio-hioideo.
- C) Pterigoideo lateral, pterigoideo medial, masseter e milo-hioideo.
- D) Gênio-hioideo, temporal, masseter e pterigoideo medial.
- E) Masseter, temporal, pterigoideo medial e pterigoideo lateral.

26. A respeito das resinas compostas assinale a alternativa correta:

- A) As resinas compostas de baixa viscosidade possuem como indicação clínica restauração de dentes posteriores que recebem alta carga mastigatória.
- B) Resinas microparticuladas são indicadas para restauração de dentes anteriores e dentes posteriores.
- C) Resinas compostas de baixa viscosidade são indicadas para selamento de fissuras.
- D) Resinas micro-híbridas são indicadas apenas para restaurações de dentes anteriores em que não há grandes tensões mastigatórias, como cavidades de classe III, V e facetas estéticas.
- E) As resinas nanoparticuladas são consideradas resinas de uso universal, no entanto não possuem boas propriedades mecânicas, podendo ser empregadas somente para dentes posteriores.

27. Assinale a alternativa incorreta a respeito do Flúor:

- A) A toxicidade aguda ocorre com ingestão de poucas quantidades diárias de flúor, podendo levar à fluorose dental ou óssea.
- B) Pode ser administrado, sistemicamente, através da fluoretação da água de abastecimento, da ingestão de alimentos, bebidas, sal e do uso de preparações farmacêuticas.
- C) A concentração de flúor na água de abastecimento, na maioria dos países, normalmente é de 0,7 a 1 ppm.
- D) A ação do flúor se dá pela substituição da hidroxiapatita por fluorapatita, que é menos solúvel.
- E) A ingestão de 1 a 3 mg/dia de flúor em comunidades com fluoretação ótima é considerada segura.

28. Em relação aos anestésicos locais é correto afirmar:

- I – Procaína, propoxicaína e benzocaína são anestésicos do grupo dos ésteres.
- II – Prilocaína, mepivacaína e bupivacaína são anestésicos do grupo das amidas.
- III – O pH da solução anestésica não influencia na ação bloqueadora do nervo, apenas o pH do tecido.
- IV – Quanto maior o pH da solução anestésica, maior a sensação de queimação quando injetada, e mais lento o início da anestesia.

V - A prilocaína com felipressina pode ser usada com segurança em pacientes gestantes.

Assinale a alternativa correta:

- A) Apenas as afirmativas I, II, IV estão corretas.
B) Apenas as afirmativas I e IV estão corretas.
C) Apenas as afirmativas II, III e IV estão corretas.
D) Apenas as afirmativas I, IV e V estão corretas.
E) Apenas as afirmativas I e II estão corretas.
29. Analise as afirmativas a seguir e marque a alternativa incorreta:
- A) O nervo trigêmeo ou quinto nervo craniano possui três grandes ramos periféricos denominados nervo maxilar, nervo mandibular e nervo oftálmico.
B) O nervo oftálmico ou primeira divisão do trigêmeo, sai da extremidade superior do gânglio trigeminal, para alcançar a órbita pela fissura orbital superior.
C) O nervo maxilar, ou terceira divisão do trigêmeo é essencialmente motor, sai do crânio através do forame oval e logo alcança o alto da fossa pterigopalatina.
D) O nervo mandibular é caracterizado como nervo misto, pois é o único a possuir, em seu interior, componentes funcionais sensitivos e motores.
E) Nervo temporal profundo, nervo bucal e nervo lingual são ramos do nervo mandibular.
30. Entre as doenças citadas abaixo, assinale a alternativa cujas manifestações bucais têm como característica lesões brancas.
- A) Linfoma.
B) Líquen plano.
C) Cisto de retenção de muco.
D) Penfigoide.
E) Granuloma de células gigantes.
31. Relacione o nervo com sua respectiva inervação:
1. Alveolar superior médio
 2. Alveolar superior posterior
 3. Nasopalatino
 4. Palatino maior
 5. Mentoniano
- () Mucosa da região anterior do palato duro entre caninos e incisivos.
() Polpa e periodonto dos dentes pré-molares e eventualmente, a raiz mesiovestibular do 1º molar superior.
() Pele do mento, mucosa e pele do lábio inferior, mucosa e gengiva vestibular dos dentes anteriores.
() Polpa e periodonto dos dentes molares superiores.
() Mucosa do palato duro desde a região do canino até o limite anterior do palato mole.
- A opção que apresenta a sequência correta, de cima para baixo, é:
- A) 3,1, 2, 4, 5. B) 3, 2, 5, 1, 4. C) 4, 2, 5, 1, 3. D) 3, 1, 5, 2, 4. E) 2, 1, 5, 3, 4.
32. Paciente A.P, 43 anos vem ao consultório para uma avaliação e constatamos a indicação de exodontia dos dentes 11, 27, 16, 43 e 46. Qual fórceps deve ser utilizado para exodontia de cada dente citado respectivamente?
- A) Fórceps número 151, 18L, 18R, 151 e 69.
B) Fórceps número 1, 18L, 18R, 151 e 1.
C) Fórceps número 1, 18R, 18L, 151 e 17.
D) Fórceps número 151, 17L, 17R, 150 e 16.
E) Fórceps número 150, 18L, 18R, 17 e 17.
33. Uma paciente de 30 anos de idade do sexo feminino, sétimo mês de gestação, apresenta lesão nodular de coloração avermelhada, de aspecto ora inflamatório ora fibros, assintomática, sangrante ao toque em algumas áreas, com 2,0 X 1,2cm na região da papila gengival entre os dentes 43 e 44. Os dentes envolvidos apresentam restaurações de resina composta tipo classe III e classe II com problemas de adaptação marginal. Com base no texto exposto assinale a alternativa correta:
- A) A lesão tem o diagnóstico clínico compatível com um Granuloma Piogênico também conhecido como granuloma gravídico.
B) A lesão tem o diagnóstico clínico compatível com Exostose.
C) A lesão tem o diagnóstico clínico compatível com Cisto Gengival.
D) A lesão tem o diagnóstico clínico compatível com um Granuloma Gravídico associado à gestação e má higiene bucal também conhecido como Cisto Dermóide.
E) A lesão tem o diagnóstico clínico compatível com um Granuloma Gravídico associado à gestação e má higiene bucal também conhecido como Cisto Piogênico.

34. Quando solicitamos hemograma de um paciente que será submetido a tratamento odontológico devemos analisar o número de leucócitos, pois pode indicar:
- Capacidade de coagulação do paciente ao realizarmos cirurgia.
 - Capacidade de o paciente reagir frente a uma infecção.
 - Capacidade de cicatrização do paciente.
 - Risco de hemorragia do paciente ao realizarmos cirurgia
 - Capacidade de coagulação e cicatrização do paciente ao realizarmos cirurgia.
35. Antes de um procedimento cirúrgico medicamentos como o ácido acetilsalicílico (AAS) devem ser suspensos. Assinale a alternativa correta:
- O uso do AAS aumenta o risco de infecção.
 - O uso do AAS diminui o tempo de sangramento do paciente durante cirurgia.
 - O uso do AAS aumenta o tempo de sangramento do paciente durante cirurgia.
 - O uso do AAS diminui o número de leucócitos.
 - O uso do AAS diminui o hematócrito do paciente.
36. Analise as afirmativas abaixo em relação a pacientes com risco de endocardite bacteriana e que serão submetidos a procedimento cirúrgico:
- É necessário antibióticoterapia profilática.
 - Não é necessário antibióticoterapia profilática.
 - Não podem ser submetidos a procedimentos cirúrgicos.
 - O objetivo principal da antibióticoterapia profilática neste caso é evitar infecção no local da cirurgia.
 - A antibióticoterapia profilática é realizada 1 hora após o procedimento cirúrgico.
- Assinale a alternativa correta:
- É correta apenas a alternativa I.
 - São corretas apenas as alternativas I, II e IV.
 - São corretas apenas as alternativas I e V.
 - É correta apenas a alternativa III.
 - Todas as alternativas estão corretas.
37. Um paciente do sexo masculino, 65 anos de idade, leucoderma, edêntulo total superior e usa a mesma prótese total superior há mais de 15 anos. Apresenta aumento de volume localizado em fundo de sulco vestibular, na região de pré-molares. O tempo de evolução da lesão é de aproximadamente 2 anos, com aumento lento e gradual de tamanho. A presença de dor e sangramento está diretamente relacionada ao uso da prótese e à mastigação de alimentos de consistência dura. Com base no que foi exposto acima assinale a alternativa correta:
- A lesão tem o diagnóstico clínico provável de lesões periféricas de células gigantes.
 - A lesão tem o diagnóstico clínico provável de um fenômeno de extravasamento de muco.
 - Não é possível fazer o diagnóstico clínico provável da lesão.
 - Nenhuma das alternativas está correta.
 - A lesão tem o diagnóstico clínico provável de uma hiperplasia inflamatória.
38. Analise as afirmativas abaixo e assinale a afirmativa incorreta:
- Pesquisas demonstram que a doença periodontal pode estar modestamente associada a aterosclerose, infarto do miocárdio e eventos cardiovasculares.
 - A presença de periodontite pode aumentar o risco de complicações diabéticas.
 - Pesquisas demonstram que intervenção mecânica em mães grávidas com gengivite ou periodontite pode reduzir a incidência de parto prematuro de bebês com baixo peso.
 - Segundo Lindhe a doença periodontal não está relacionada com a pré-eclâmpsia, parto prematuro e nascimento de bebês com baixo peso.
 - Abscesso periodontal relacionado à periodontite ocorre quando a infecção aguda se origina do biofilme presente em bolsas periodontais profundas.
39. Quantas mg de sal anestésico podemos usar para um paciente de 20Kg se usarmos o anestésico Lidocaina 2% na concentração 1:100 000 de adrenalina sabendo que a dose máxima de Lidocaina 2% é de 4,4mg/Kg.
- A) 44mg. B) 36mg. C) 88mg. D) 54mg. E) 72mg.
40. Qual deve ser o antibiótico de primeira escolha para uma paciente gestante:
- Tetraciclina.
 - Vancomicina.
 - Claritromicina.
 - Clindamicina.
 - Amoxicilina.