



CONCURSO PÚBLICO

002. PROVA OBJETIVA**MOTORISTA**

- ◆ Você recebeu sua folha de respostas e este caderno contendo 50 questões objetivas.
- ◆ Confira seu nome e número de inscrição impressos na capa deste caderno e na folha de respostas.
- ◆ Quando for permitido abrir o caderno, verifique se está completo ou se apresenta imperfeições. Caso haja algum problema, informe ao fiscal da sala.
- ◆ Leia cuidadosamente todas as questões e escolha a resposta que você considera correta.
- ◆ Marque, na folha de respostas, com caneta de tinta azul ou preta, a letra correspondente à alternativa que você escolheu.
- ◆ A duração da prova é de 3 horas, já incluído o tempo para o preenchimento da folha de respostas.
- ◆ Só será permitida a saída definitiva da sala e do prédio após transcorridos 75% do tempo de duração da prova.
- ◆ Ao sair, você entregará ao fiscal a folha de respostas e este caderno, podendo levar apenas o rascunho de gabarito, localizado em sua carteira, para futura conferência.
- ◆ Até que você saia do prédio, todas as proibições e orientações continuam válidas.

AGUARDE A ORDEM DO FISCAL PARA ABRIR ESTE CADERNO DE QUESTÕES.

CONHECIMENTOS GERAIS

LÍNGUA PORTUGUESA

Leia o texto para responder às questões de números **01** a **06**.

Uma reparação histórica

A origem do trabalho doméstico no Brasil é a escravidão.

Com o advento da Lei Áurea, de 13 de maio de 1888, o trabalho doméstico continuou a ser exercido majoritariamente por mulheres negras – jovens e inclusive crianças –, vindas das cidades do interior do país para trabalhar nos grandes centros urbanos.

Nesse processo histórico, deve-se destacar a contribuição inestimável do trabalho doméstico para o desenvolvimento da economia e de toda a sociedade brasileira. No entanto, por muito tempo, predominou uma visão, fundamentada no preconceito, de que o trabalho doméstico seria uma atividade sem importância.

Diante desse ponto de vista, permeado por racismo, houve evidente desvalorização do trabalho doméstico. As mulheres foram submetidas a condições degradantes no que se refere ao desempenho de suas atividades, não tendo sequer a proteção das leis trabalhistas como os demais trabalhadores.

Em virtude dessa realidade, que fere a dignidade do trabalhador doméstico, surgiram organizações de defesa da igualdade de direitos entre essa e as demais categorias. A primeira delas foi a Associação de Trabalhadoras Domésticas, fundada em 1936, em Santos (SP), por Laudelina de Campos Melo.

Como consequência dessa luta, no ano de 1972, foi aprovada a lei 5.859, que garantiria o registro da carteira de trabalho e previdência social para os trabalhadores domésticos no Brasil. No ano de 2006, a lei 11.324 passou a assegurar estabilidade para gestantes, folgas nos feriados e a proibição do desconto de utilidade no salário da categoria.

Nem mesmo com esses avanços, o trabalho doméstico adquiriu a proteção das leis trabalhistas necessárias para igualá-lo às demais profissões celetistas. Hoje, no Brasil, depois de tantas reivindicações, é o momento da aprovação, no Senado Federal, da PEC (proposta de emenda constitucional) 478/2010, conhecida como a PEC das domésticas. A emenda garante à categoria a extensão de 16 direitos já assegurados a outros trabalhadores.

Diante da aprovação da PEC, o Brasil demonstra que está mudando de mentalidade. A justiça social está sendo feita para uma categoria que tem papel importante na construção deste país.

(Creuza Maria Oliveira. *Folha de S.Paulo*, 28.03.2013. Adaptado)

01. Segundo a autora, uma das causas para a desvalorização do trabalho doméstico no Brasil é o fato de ser uma atividade que

- (A) não demanda qualquer tipo de esforço físico ou mental.
- (B) é realizada por mão de obra não especializada.
- (C) não contribui para o desenvolvimento da economia.
- (D) pode ser realizada pela dona de casa.
- (E) teve sua origem na escravidão.

02. Ao se relacionar o título com a opinião da autora expressa no texto, entende-se que a PEC 478/2010 representa uma reparação para

- (A) a exploração sofrida por operários atuando em empresas irregulares, que desrespeitam os direitos trabalhistas.
- (B) a pouca oferta de postos de trabalhos públicos a descendentes de escravos africanos no Brasil.
- (C) os baixos salários que as mulheres domésticas recebem em comparação com os homens em igual função.
- (D) o excesso de qualificações exigidas de quem deseja exercer a função de trabalhador doméstico.
- (E) o tratamento desigual que os trabalhadores domésticos brasileiros receberam ao longo da história.

03. A partir das informações do texto, é correto afirmar que a luta em favor dos direitos dos trabalhadores domésticos

- (A) é muito antiga e deu origem à Lei Áurea, de 13 de maio de 1888.
- (B) liga-se à fundação da Associação de Trabalhadoras Domésticas, em 1936.
- (C) iniciou-se, de maneira organizada, em 1972, a partir da aprovação da lei 5.859.
- (D) conquistou o primeiro benefício aos trabalhadores domésticos em 2006, com a lei 11.324.
- (E) foi concluída com a aprovação da PEC 478/2010, que amplia a jornada de trabalho das domésticas.

04. Considere o segundo parágrafo:

Com o advento da Lei Áurea, de 13 de maio de 1888, o trabalho doméstico continuou a ser exercido majoritariamente por mulheres negras – jovens e inclusive crianças –, vindas das cidades do interior do país **para** trabalhar nos grandes centros urbanos.

No contexto do parágrafo, o termo **para** tem sentido equivalente ao da expressão:

- (A) com o objetivo de.
- (B) contra a expectativa de.
- (C) à proporção que.
- (D) por consequência de.
- (E) ao passo que.

05. Considere a passagem do penúltimo parágrafo:

Nem mesmo com esses avanços, o trabalho doméstico adquiriu a proteção das leis trabalhistas...

Assinale a alternativa em que o trecho está reescrito sem alteração de sentido.

- (A) **Apesar desses avanços**, o trabalho doméstico **não** adquiriu a proteção das leis trabalhistas...
- (B) **No caso desses avanços**, o trabalho doméstico adquiriu a proteção das leis trabalhistas...
- (C) **Assim como esses avanços**, o trabalho doméstico **não** adquiriu a proteção das leis trabalhistas...
- (D) **De acordo com esses avanços**, o trabalho doméstico adquiriu a proteção das leis trabalhistas...
- (E) **A exemplo desses avanços**, o trabalho doméstico **não** adquiriu a proteção das leis trabalhistas...

06. Considere a passagem do último parágrafo:

A justiça social está sendo feita para uma categoria que tem papel **importante** na construção deste país.

Um antônimo para o termo **importante** é:

- (A) considerável.
- (B) excepcional.
- (C) imprescindível.
- (D) insignificante.
- (E) intenso.

07. Assinale a alternativa correta quanto à pontuação.

- (A) O trabalho doméstico, continuou a ser, exercido na maior parte, por mulheres negras.
- (B) Deve-se destacar, em nossa história, o valor do trabalho doméstico para toda a sociedade.
- (C) Organizações de defesa da igualdade de direitos, surgiram em virtude, dessa realidade.
- (D) Este é depois de tantas reivindicações, o momento da aprovação, da PEC das domésticas.
- (E) O Brasil demonstra, que diante da aprovação da PEC, está mudando de mentalidade.

08. Assinale a alternativa que substitui a expressão destacada na frase, conforme as regras de regência da norma-padrão da língua e sem alteração de sentido.

Muitas organizações lutaram **a favor da** igualdade de direitos dos trabalhadores domésticos.

- (A) da
- (B) na
- (C) pela
- (D) sob a
- (E) sobre a

09. Assinale a alternativa em que a concordância do termo destacado atende às regras da norma-padrão da língua.

- (A) Os trabalhadores domésticos são muito **importante** para a construção deste país.
- (B) Infelizmente, ainda **existe** muitas pessoas com preconceito contra o trabalho doméstico.
- (C) **Faz** décadas que a Associação de Trabalhadoras Domésticas foi fundada em Santos.
- (D) Os direitos que a PEC garante ao trabalhador doméstico **provocou** muita discussão.
- (E) Em todo o Brasil, foi **promovido** uma série de debates para avaliar a PEC das domésticas.

10. Assinale a alternativa que completa corretamente a frase, no que se refere ao uso do acento indicativo de crase.

As redes de TV brasileiras dedicaram um espaço de sua programação...

- (A) ... à informar o que muda com a nova PEC.
- (B) ... à uma discussão acerca dos direitos dos domésticos.
- (C) ... à assuntos que se relacionam com o trabalho doméstico.
- (D) ... à aprovação da PEC das domésticas.
- (E) ... à novas regras de contratação de domésticos.

MATEMÁTICA

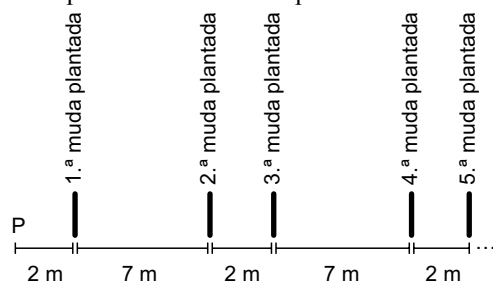
11. Renato vai dividir R\$ 189,00 em três parcelas, de modo que a menor seja a décima parte da maior e a sétima parte da intermediária. A menor das três parcelas será igual a

- (A) R\$ 1,50.
- (B) R\$ 5,50.
- (C) R\$ 10,50.
- (D) R\$ 12,00.
- (E) R\$ 15,00.

12. Mateus tem mais de 100 DVDs. Quando ele forma pilhas com 3 DVDs, sobra um. Quando ele faz pilhas com 4 DVDs, sobram dois. Quando ele faz pilhas com 5 DVDs, as pilhas são feitas sem sobras. Nas condições dadas, o menor número de DVDs de Mateus é

- (A) 125.
- (B) 130.
- (C) 135.
- (D) 139.
- (E) 140.

13. Um agricultor pretende plantar 10 mudas de árvores de acordo com certo padrão de alinhamento, conforme mostra a figura. Todas as mudas estão localizadas inicialmente em P e o serviço será realizado com o transporte e o plantio sempre de uma única muda por vez. O terreno é plano e o agricultor irá percorrer sempre o menor caminho possível durante o trabalho.



Partindo de P, e retornando até P ao final do plantio da última muda, esse agricultor terá percorrido, em metros,

- (A) 456.
 (B) 470.
 (C) 484.
 (D) 488.
 (E) 502.

Considere o texto e tabela a seguir para responder às questões de números 14 e 15.

A tabela a seguir indica as informações nutricionais contidas em uma embalagem com barras de cereais, cada barra com massa de 20 g.

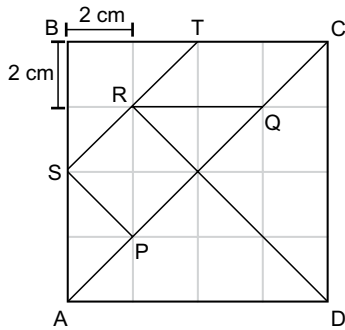
	Porção de 20 g	% de valores diários em uma dieta de 2 000 kcal
Valor energético	80 kcal	4%
Carboidratos	13 g	4%
Proteínas	1,2 g	2%
Gorduras	2,8 g	5%
Fibras	0,8 g	3%
Sódio	24 mg	1%

14. A partir da tabela, conclui-se que, em uma dieta de 2 000 kcal, a quantidade diária de sódio que deve ser consumida é igual a
- (A) 0,24 g.
 (B) 0,48 g.
 (C) 4,8 g.
 (D) 2,4 g.
 (E) 24 g.
15. A porcentagem da massa de uma barra de cereal que corresponde à massa de carboidratos, proteínas, gorduras e fibras, juntas, é igual a
- (A) 99%.
 (B) 98%.
 (C) 97%.
 (D) 92%.
 (E) 89%.

16. Em situação normal, um ônibus de viagem percorre certa distância em t horas. Se o motorista está em fase de experiência, o mesmo trajeto é feito com $\frac{4}{5}$ da velocidade média do ônibus em situação normal, o que acarreta 4 horas a mais de viagem. Nas condições dadas, t é igual a
- (A) 12.
 (B) 15.
 (C) 16.
 (D) 18.
 (E) 19.

Considere o texto e figura a seguir para responder às questões de números 17 e 18.

A figura indica as sete peças de um jogo chamado Tangram, feitas sobre uma malha composta por 16 quadrados de lado 2 cm.



17. A área do trapézio PQRS, em cm^2 , é igual a
- (A) 6.
 (B) 6,5.
 (C) 8,5.
 (D) 12.
 (E) 12,5
18. O perímetro do paralelogramo RQCT, em cm, é igual a
- (A) $2(\sqrt{2} + 2)$
 (B) $4(\sqrt{2} + 1)$
 (C) $4\sqrt{2} + 5$
 (D) $2(\sqrt{2} + 4)$
 (E) $4(\sqrt{2} + 2)$

19. Janete tirou notas 4, 6 e 7 nas três primeiras provas de matemática, que irão compor a média final com pesos 2, 3 e 4, respectivamente. Ainda entrará na composição da média final uma quarta prova, com peso 5. Para que Janete fique com média final igual a 7, sua nota na quarta prova de matemática terá que ser igual a
- (A) 8,8.
 - (B) 8,9.
 - (C) 9,0.
 - (D) 9,1.
 - (E) 9,2.

20. Os quatorze dígitos de um cartão comercial são tais que a soma de três dígitos em posições consecutivas quaisquer é sempre igual a 20.

9	p	q	r	s	x	7	y
---	---	---	---	---	---	---	---

Se p, q, r, s, x e y representam seis dígitos desse cartão, então, $s+q$ é igual a

- (A) 9.
- (B) 11.
- (C) 13.
- (D) 15.
- (E) 17.

LEGISLAÇÃO

21. Assinale a alternativa que contempla corretamente um dos Direitos e Garantias Fundamentais previstos na Constituição Federal.

- (A) São invioláveis a intimidade, a vida privada, a honra e a imagem das pessoas, assegurado o direito a indenização pelo dano moral, exceto o dano material, decorrente de sua violação.
- (B) É livre a manifestação do pensamento, sendo facultativo o anonimato.
- (C) É livre o exercício de qualquer trabalho, ofício ou profissão, atendidas as qualificações profissionais que a lei estabelecer.
- (D) Aos autores pertence o direito exclusivo de utilização, publicação ou reprodução de suas obras, intransmissível aos herdeiros.
- (E) Nenhuma pena passará da pessoa do condenado, não podendo a obrigação de reparar o dano ser estendida aos sucessores.

22. A lei só poderá restringir a publicidade dos atos processuais quando

- (A) houver acordo entre as partes litigantes.
- (B) o crime for hediondo ou afiançável.
- (C) o crime for de grande repercussão internacional.
- (D) o crime for julgado perante o Tribunal do Júri.
- (E) a defesa da intimidade ou o interesse social o exigirem.

23. Conforme estabelece a Constituição Federal, é permitida a acumulação remunerada de cargos quando houver compatibilidade de horários, entre outros, no caso de

- (A) dois cargos ou empregos privativos de profissionais da saúde, com profissões regulamentadas.
- (B) três cargos ou empregos privativos ou públicos de profissionais da saúde, com profissões regulamentadas.
- (C) dois cargos de professor com outro de pesquisador científico.
- (D) dois cargos de técnico com outro cargo científico.
- (E) três cargos de professor.

24. Em relação à Ordem Social estabelecida na Constituição Federal, assinale a alternativa correta.

- (A) O casamento religioso não tem efeito de casamento civil, conforme dispõe a lei.
- (B) O Estado assegurará a assistência à família na pessoa de cada um dos que a integram, criando mecanismos para coibir a violência no âmbito de suas relações.
- (C) É facultativa a censura de natureza política, sendo vedada a de natureza ideológica e artística.
- (D) Os Estados e o Distrito Federal atuarão prioritariamente no ensino médio e superior.
- (E) É vedado às universidades admitir professores, técnicos e cientistas estrangeiros, na forma da lei.

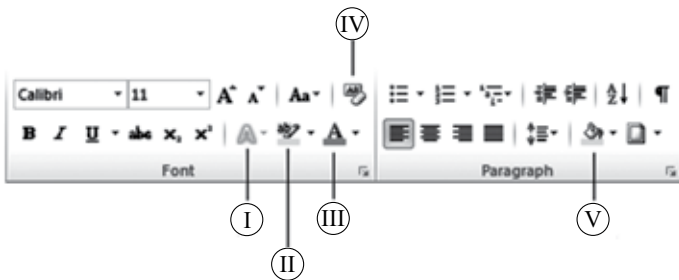
25. Conforme estabelece o Regimento geral da Unesp, a estrutura e o funcionamento da Agência Unesp de Inovação serão estabelecidos mediante

- (A) Portaria do Reitor, atendidas as diretrizes fixadas pelo Conselho Universitário.
- (B) Portaria do Reitor, atendidas as diretrizes fixadas pelo Conselho de Ensino, Pesquisa e Extensão Universitária.
- (C) Portaria do Reitor, atendidas as diretrizes fixadas pela Congregação.
- (D) Decreto do Conselho Universitário, atendidas as normas fixadas pelo Reitor.
- (E) Decreto do Reitor, atendidas as normas fixadas pela Congregação.

26. Considerando o Microsoft Windows 7, em sua configuração padrão, assinale a alternativa que contém opções válidas que aparecem no menu de contexto de um arquivo com extensão *txt*.


- (A) Renomear, Copiar, Duplicar.
- (B) Abrir, Imprimir, Propriedades.
- (C) Editar, Criar Atalho, Clonar.
- (D) Recortar, Deletar, Publicar.
- (E) Imprimir, Criar Atalho, Expandir.

27. Considerando o Microsoft Word 2010, em sua configuração padrão, assinale a alternativa que apresenta o ícone correto que pinta o fundo de uma célula pré-selecionada em uma tabela, considerando as opções na imagem a seguir, da guia *Início*.



- (A) I
- (B) II
- (C) III
- (D) IV
- (E) V

28. No Microsoft PowerPoint 2010, em sua configuração padrão, tem-se uma apresentação com 3 formas, configuradas com animações.



Assinale a alternativa correta com relação ao recurso animação, no momento da apresentação do *slide*.

- (A) O triângulo será a primeira imagem a ser exibida, o quadrado, a segunda e o círculo, a terceira.
- (B) O quadrado será a primeira imagem a ser exibida, o triângulo e o círculo serão a segunda exibição, ao mesmo tempo.
- (C) O triângulo e o quadrado serão a primeira exibição, ao mesmo tempo, e o círculo, a segunda.
- (D) As três formas serão exibidas ao mesmo tempo.
- (E) O círculo será a primeira imagem a ser exibida, o quadrado, a segunda e o triângulo, a terceira.

29. No Microsoft Outlook 2010, em sua configuração original, uma mensagem de correio eletrônico gravada, mas ainda não enviada, fica armazenada na pasta

- (A) Rascunhos.
- (B) Caixa de saída.
- (C) Itens enviados.
- (D) Itens deletados.
- (E) Caixa de entrada.

30. Considere a planilha editada no Microsoft Excel 2010, em sua configuração original.

	A	B
1	aaa	
2	AAA	
3	aAA	
4	AAa	
5	aAa	
6		
7		
8		

Ao selecionar a coluna A por completo, clicar no botão *Remover Duplicatas*, na guia *Dados*, grupo *Ferramentas de Dados*, e manter nas configurações da janela *Remover Duplicata* a caixa *Meus dados contém cabeçalhos* desmarcada, o resultado será:

(A)

	A	B
1	a	
2		
3		
4		
5		
6		
7		
8		

(B)

	A	B
1	A	
2		
3		
4		
5		
6		
7		
8		

(C)

	A	B
1	aaa	
2		
3		
4		
5		
6		
7		
8		

(D)

	A	B
1	AAA	
2		
3		
4		
5		
6		
7		
8		

(E)

	A	B
1	aaa	
2	AAA	
3	aAA	
4	AAa	
5	aAa	
6		
7		
8		

CONHECIMENTOS ESPECÍFICOS

31. O uso de buzina, de acordo com o artigo 41 do CTB, é permitido
- para solicitar prioridade de passagem aos demais veículos da via.
 - para exprimir impaciência diante de um congestionamento.
 - em toque breve para evitar acidentes.
 - para apressar o embarque de passageiros.
 - para apressar a travessia de pedestres.
32. De acordo com o artigo 47 do CTB, o conceito de parada de um veículo na via restringe-se
- à operação de carga e descarga.
 - ao embarque e desembarque.
 - à imobilização na espera semafórica.
 - à ausência do condutor no veículo.
 - à sua imobilização com o motor ligado, por tempo indeterminado.
33. De acordo com as Normas Gerais de Circulação e Conduta do CTB, assinale a alternativa correta.
- Após colocar o veículo em circulação nas vias, o condutor deve verificar a existência e as boas condições de funcionamento dos equipamentos de uso obrigatório.
 - Um veículo que quer adentrar em uma rotatória não precisa aguardar quem já estiver transitando nela, porque não há preferência de passagem.
 - Dar preferência de passagem a uma ambulância significa manter seu automóvel na faixa da esquerda.
 - Um condutor de veículo, saindo de uma garagem para a via pública, deve dar preferência aos veículos e pedestres que já estiverem transitando na via.
 - Os veículos de menor porte são responsáveis pela segurança dos maiores, assim como os não motorizados pelos motorizados.
34. É proibido ao motorista profissional, no exercício de sua função, conduzir um veículo de transporte de carga com peso bruto total superior a 4 536 kg, por mais de
- 4 horas ininterruptas.
 - 4 horas intercaladas.
 - 3 horas ininterruptas.
 - 3 horas intercaladas.
 - 2 horas ininterruptas.

35. No exercício de sua função, um motorista profissional, num período de 24 horas, é obrigado a descansar por, no mínimo,
- (A) 6 horas.
 - (B) 7 horas.
 - (C) 8 horas.
 - (D) 10 horas.
 - (E) 11 horas.
36. Um proprietário de um veículo automotor registrado e licenciado em Botucatu quer mudar a cor da pintura e das lanternas, alterando as características de fábrica. Ele deverá solicitar autorização
- (A) ao órgão ou entidade executivos de trânsito do Estado.
 - (B) ao órgão ou entidade executivos municipais de trânsito.
 - (C) à Junta Administrativa de Recursos de Infrações (JARI).
 - (D) ao órgão executivo rodoviário de trânsito.
 - (E) ao Departamento Nacional de Infraestrutura de Transportes (DNIT).
37. A classificação de um veículo como “de propulsão humana” refere-se à sua
- (A) categoria.
 - (B) espécie.
 - (C) tração.
 - (D) dimensão.
 - (E) titularidade.
38. Para transitarem nas vias, os guindastes autopropelidos
- (A) não precisam de autorização de trânsito.
 - (B) só podem receber autorização de trânsito se forem de fabricação nacional.
 - (C) só podem receber autorização se a obra em que estiverem durar mais que 6 meses.
 - (D) só precisam receber autorização do INMETRO.
 - (E) sempre precisarão de autorização concedida pela autoridade com circunscrição sobre a via.
39. Leia o texto do artigo 114 do CTB.
- O veículo será identificado obrigatoriamente por caracteres gravados no _____ ou no _____, reproduzidos em outras partes, conforme dispuser o CONTRAN.
- Assinale a alternativa que completa, correta e respectivamente, as lacunas desse texto.
- (A) baú ... monobloco
 - (B) chassi ... monobloco
 - (C) monobloco ... vidro frontal
 - (D) vidro frontal ... chassi
 - (E) baú ... chassi
40. O proprietário de um veículo automotor deverá obter um novo Certificado de Registro do Veículo sempre que
- (A) mudar seu registro civil.
 - (B) completar 60 anos de idade.
 - (C) for transferida a sua propriedade.
 - (D) for transferido o credor consorcial.
 - (E) completar a maioridade penal.
41. Para a obtenção de um novo Certificado de Registro de Veículo, a comprovação da quitação de débitos de multas será exigida
- (A) juntamente com a apresentação da Carteira Nacional de Habilitação do interessado.
 - (B) somente se as infrações forem de responsabilidade de condutor habilitado.
 - (C) se a autoridade de trânsito aplicou a advertência por escrito.
 - (D) somente se as infrações foram cometidas no último exercício fiscal.
 - (E) sempre.
42. Para conduzir um veículo de transporte coletivo de passageiros, o candidato à habilitação deverá ter, no mínimo,
- (A) 18 anos.
 - (B) 19 anos.
 - (C) 20 anos.
 - (D) 21 anos.
 - (E) 22 anos.

43. Leia o texto do artigo 147 do CTB.

O candidato à habilitação deverá submeter-se a exames realizados pelo órgão executivo de trânsito, na seguinte ordem:

I - de aptidão _____ e _____ .

Assinale a alternativa que completa, correta e respectivamente, as lacunas desse texto.

- (A) moral ... física
- (B) física ... mental
- (C) mental ... social
- (D) mental ... moral
- (E) física ... social

44. Leia o texto do artigo 144 do CTB.

O trator de roda, o trator de esteira, o trator misto ou o equipamento automotor destinado à movimentação de cargas ou execução de trabalho agrícola, de terraplenagem, de construção ou de pavimentação só podem ser conduzidos na via pública por condutor habilitado nas categorias _____ , _____ ou _____ .

Assinale a alternativa que completa, correta e respectivamente, as lacunas desse texto.

- (A) A ... B ... C
- (B) B ... C ... D
- (C) C ... D ... E
- (D) B ... D ... E
- (E) A ... D ... B

45. Assinale a alternativa que completa corretamente a lacuna do parágrafo 1.º do artigo 159 do CTB.

É obrigatório o porte da Permissão para _____ ou da Carteira Nacional de Habilitação quando o condutor estiver à direção do veículo.

- (A) pilotar
- (B) guiar
- (C) conduzir
- (D) dirigir
- (E) transitar

46. De acordo com o CTB, deixar o condutor de usar o cinto de segurança na condução de um veículo automotor é uma infração de trânsito

- (A) gravíssima.
- (B) grave.
- (C) média.
- (D) leve.
- (E) levíssima.

47. É uma infração de trânsito cometida pelo condutor do automóvel, que pode ser autuada pelo agente de trânsito, mesmo que o motorista não esteja no carro.

- (A) Ter seu veículo imobilizado na via por pane mecânica.
- (B) Não portar os documentos obrigatórios para conduzir veículo automotor.
- (C) Usar fones nos ouvidos conectados à aparelhagem sonora.
- (D) Parar para o embarque de passageiros em local proibido.
- (E) Estacionar ao lado de outro veículo em fila dupla.

48. Dentre as infrações a seguir, aquela que é considerada leve, no CTB, é

- (A) usar o veículo para arremessar água sobre os pedestres.
- (B) atirar objetos do veículo.
- (C) usar buzina em locais e horários proibidos pela sinalização.
- (D) desobedecer às ordens do agente da autoridade de trânsito.
- (E) bloquear a via com veículo.

49. De acordo com o CTB, deixar de portar o Certificado de Licenciamento Anual pode acarretar

- (A) apreensão da CNH.
- (B) apreensão do veículo.
- (C) apreensão do condutor.
- (D) multa.
- (E) curso de reciclagem.

50. Assinale a alternativa que relaciona corretamente a cor usada na sinalização horizontal e seu uso na via.

- (A) A cor azul é usada para regular fluxos de mesmo sentido.
- (B) A cor vermelha é usada para inscrever símbolo em áreas especiais de estacionamento para idosos.
- (C) A cor branca é usada na regulação de fluxos de sentidos opostos.
- (D) A cor azul é usada para demarcar ciclovias ou ciclofaixas.
- (E) A cor amarela é usada para regulação de fluxos de sentidos opostos.

