



GOVERNO DO ESTADO DE SÃO PAULO
INSTITUTO DE MEDICINA SOCIAL E DE CRIMINOLOGIA DE SÃO PAULO – IMESC

CONCURSO PÚBLICO

001. PROVA OBJETIVA

OFICIAL ADMINISTRATIVO / OFICIAL OPERACIONAL

- ◆ Você recebeu sua folha de respostas e este caderno contendo 50 questões objetivas.
- ◆ Confira seu nome e número de inscrição impressos na capa deste caderno e na folha de respostas.
- ◆ Quando for permitido abrir o caderno, verifique se está completo ou se apresenta imperfeições. Caso haja algum problema, informe ao fiscal da sala.
- ◆ Leia cuidadosamente todas as questões e escolha a resposta que você considera correta.
- ◆ Marque, na folha de respostas, com caneta de tinta azul ou preta, a letra correspondente à alternativa que você escolheu.
- ◆ A duração da prova é de 3 horas, já incluído o tempo para o preenchimento da folha de respostas.
- ◆ Só será permitida a saída definitiva da sala e do prédio após transcorridos 75% do tempo de duração da prova.
- ◆ Ao sair, você entregará ao fiscal a folha de respostas e este caderno, podendo levar apenas o rascunho de gabarito, localizado em sua carteira, para futura conferência.
- ◆ Até que você saia do prédio, todas as proibições e orientações continuam válidas.

AGUARDE A ORDEM DO FISCAL PARA ABRIR ESTE CADERNO DE QUESTÕES.

CONHECIMENTOS GERAIS

LÍNGUA PORTUGUESA

01. Leia a charge.



(www.chargeonline.com.br)

Na charge, está explícita a crítica a quem

- (A) fuma em ambiente doméstico.
- (B) cuida da saúde alheia.
- (C) descuida da limpeza pública.
- (D) administra a limpeza da cidade.
- (E) restringe o uso do cigarro.

Leia o texto para responder às questões de números 02 a 10.

Herança maldita

SÃO PAULO – O roteiro é manjado. O protesto, seja lá contra o que for, começa pacífico até que um grupo mascarado, como se atendesse a um comando único, toma a frente da marcha e começa a quebrar tudo o que surge pela frente.

“Chegaram os black blocs”, costuma-se ouvir entre os manifestantes, num tom que mistura medo e um certo glamour da violência.

O “black bloc”, na verdade, não é um movimento, e sim uma estratégia de protesto anarquista. Seus adeptos cobrem o rosto e se vestem de preto para dificultar a identificação e a fim de parecer uma massa única, criando uma aura revolucionária.

Esse método apareceu nos protestos antiglobalização no fim da década de 1990. Símbolos capitalistas são os alvos preferidos, mas a versão tupiniquim tem especial atração por semáforos, radares, cabines da PM e outros equipamentos públicos.

Por aqui, seus adeptos deram as caras nos primeiros atos pela redução da tarifa de ônibus, em São Paulo. De lá para cá, entretanto, muita coisa mudou. Os “black blocs”, especialmente paulistas e cariocas, crescem em progressão geométrica, estão sempre preparados para a guerra e já organizam as suas próprias manifestações.

Em “assembleia” assistida pela *Folha*, discutiram táticas para escapar da polícia, entre elas hospedar sites em servidores da Rússia ou de Taiwan, “impossíveis de derrubar”.

As “vozes das ruas” produziram conquistas inegáveis. A principal delas foi dar à classe política a sensação de estar sendo constantemente vigiada. Nesse balanço, porém, pode-se dizer que os “black blocs” são a herança maldita dos protestos.

(Alan Gripp, Herança maldita. *Folha de S.Paulo*, 01.08.2013. Adaptado)

02. Analisando os argumentos do autor, é correto afirmar que ele

- (A) promove o glamour da violência dos “black blocs”.
- (B) considera ilegítima a ação dos “black blocs”.
- (C) reconhece o papel dos “black blocs” para a democracia.
- (D) vê nos “black blocs” as verdadeiras vozes das ruas.
- (E) julga impossível combater as ações dos “black blocs”.

03. O autor mostra que a ação dos “black blocs” nas manifestações públicas

- (A) enfraquece a identidade do grupo.
- (B) carece de planejamento prévio.
- (C) acontece de forma inesperada.
- (D) ocorre de forma pacífica.
- (E) é um expediente já conhecido.

04. De acordo com o texto, o que diferencia os “black blocs” dos demais participantes de um protesto é

- (A) o medo da anarquia social.
- (B) o zelo pelo patrimônio público.
- (C) a simplicidade na sua comunicação.
- (D) a violência própria aos seus atos.
- (E) a promoção do sistema capitalista.

05. Sem que haja prejuízo de sentido ao texto, na passagem – ... *mas a versão tupiniquim tem especial atração por...* –, o termo em destaque pode ser substituído por

- (A) brasileira.
- (B) indígena.
- (C) simplificada.
- (D) internacional.
- (E) social.

06. O protesto começa pacífico até que um grupo mascarado, como se atendesse ____ uma ordem única, sai ____ frente na marcha e começa a quebrar tudo que aparece ____ frente.

As lacunas da frase devem ser preenchidas, correta e respectivamente, com:

- (A) à ... à ... a
- (B) a ... a ... à
- (C) à ... a ... à
- (D) a ... à ... à
- (E) à ... à ... à

07. Na frase – *A principal delas foi dar à classe política a sensação de estar sendo constantemente vigiada.* –, o advérbio em destaque expressa circunstância de
- (A) intensidade e, nesse contexto, é antônimo de *eventualmente*.
 - (B) intensidade e, nesse contexto, é sinônimo de *plenamente*.
 - (C) tempo e, nesse contexto, é antônimo de *raramente*.
 - (D) tempo e, nesse contexto, é sinônimo de *obviamente*.
 - (E) modo e, nesse contexto, é sinônimo de *diuturnamente*.

08. Quanto à colocação pronominal, está correta a alternativa:
- (A) Conheceram-se os primeiros “black blocs” no Brasil nos atos pela redução da tarifa de ônibus, em São Paulo.
 - (B) Se ouve comumente entre os manifestantes: “Chegaram os ‘black blocs’”.
 - (C) Os protestos com a presença dos “black blocs”, no Brasil, têm espalhado-se por diversas cidades.
 - (D) Os “black blocs” já organizam-se para realizar as suas próprias manifestações.
 - (E) Na versão tupiniquim, não tem-se nos símbolos capitalistas os alvos preferidos dos “black blocs”.

09. Nas passagens:

- ... **como** se atendesse a um comando único... (1.º parágrafo);
- ... e se vestem de preto **para** dificultar a identificação... (3.º parágrafo);
- De lá para cá, **entretanto**, muita coisa mudou. (5.º parágrafo);

as expressões em destaque estabelecem entre os enunciados, respectivamente, relações de

- (A) conformidade, causa e oposição.
- (B) conformidade, causa e conclusão.
- (C) causa, finalidade e explicação.
- (D) comparação, consequência e conclusão.
- (E) comparação, finalidade e oposição.

10. Assinale a alternativa correta quanto à pontuação.

- (A) Os “black blocs”, deram as caras por aqui nos primeiros atos pela redução da tarifa de ônibus, em São Paulo.
- (B) Os “black blocs” deram as caras, por aqui, nos primeiros atos pela redução da tarifa de ônibus, em São Paulo.
- (C) Os “black blocs” por aqui, deram as caras nos primeiros atos pela redução da tarifa de ônibus, em São Paulo.
- (D) Os “black blocs”, por aqui deram as caras nos primeiros atos pela redução da tarifa de ônibus, em São Paulo.
- (E) Os “black blocs” deram as caras, por aqui nos primeiros atos pela redução da tarifa de ônibus, em São Paulo.

11. Ultimamente, quem discorda _____ alguma coisa, sai à rua para protestar, tendo a vontade _____ suas reivindicações sejam ouvidas.

De acordo com a norma-padrão da língua portuguesa, as lacunas da frase devem ser preenchidas, respectivamente, com:

- (A) com ... de que
- (B) com ... que
- (C) em ... que
- (D) de ... de que
- (E) de ... a que

Leia a charge para responder às questões de números 12 e 13.



(www.chargeonline.com.br)

12. De acordo com a norma-padrão da língua portuguesa, a lacuna na fala da personagem deve ser preenchida com

- (A) que o
- (B) aonde o
- (C) cujo
- (D) do qual o
- (E) o qual

13. Assinale a alternativa correta quanto à concordância, de acordo com a norma-padrão da língua portuguesa.

- (A) Tudo e todos é espionado pela NSA.
- (B) Tudo e todos são espionados pela NSA.
- (C) Tudo e todos são espionado pela NSA.
- (D) Tudo e todos é espionados pela NSA.
- (E) Tudo e todos tem sido espionado pela NSA.

“Hoje é domingo, pé de cachimbo”, eu cantava, quando era pequeno, e me vinha à cabeça uma árvore de madeira escura, com pencas de cachimbos pendendo das pontas dos galhos, prontos para serem colhidos e fumados. Fiquei um pouco desapontado, lá pelos dez anos, ao descobrir que o certo era “pede” cachimbo. Corrigi a música, mas o domingo, não: pra mim, ele continua sendo esse quadro pintado por Magritte e Dalí, com sua frondosa oferta de descanso e generosa sombra de melancolia.

(Antonio Prata, Pé de cachimbo. *Folha de S.Paulo*, 28.07.2013. Adaptado)

14. Com a expressão “lá pelos dez anos”, o autor faz

- (A) uma aproximação da idade que tinha quando soube a forma certa da canção infantil.
- (B) uma indicação de que cantou muito a música, até os dez anos.
- (C) uma referência à idade exata que tinha quando descobriu a letra certa da música.
- (D) uma alusão à idade certa que tinha quando desencantou-se pela música.
- (E) uma hipótese da idade que teria quando se encantou pela canção infantil.

15. No texto, está empregada em sentido figurado a seguinte passagem:

- (A) ... *eu cantava, quando era pequeno...*
- (B) ... *lá pelos dez anos...*
- (C) ... *o certo era “pede” cachimbo.*
- (D) *Corrigi a música...*
- (E) ... *e generosa sombra de melancolia.*

16. Em determinada sala com um total de 24 pessoas presentes, 6 estavam em pé e as demais sentadas. Logo, é correto afirmar que a razão entre o número de pessoas sentadas e o número total de pessoas corresponde a

- (A) 60%.
- (B) 65%.
- (C) 70%.
- (D) 75%.
- (E) 80%.

17. Considere a seguinte informação, apresentada por um jornal on-line: *Oito em cada 10 brasileiros apoiam manifestações* (*Folha de S.Paulo*, 29.06.2013 – Cotidiano).

Com base nessa informação e supondo que na época da sua publicação o Brasil tivesse 195 milhões de habitantes, o número de brasileiros que apoiariam as manifestações seria de, aproximadamente,

- (A) 155 milhões.
- (B) 156 milhões.
- (C) 157 milhões.
- (D) 158 milhões.
- (E) 159 milhões.

18. Em um grupo de 10 pessoas, duas têm 20 anos, três têm 25 anos, quatro têm 30 anos e uma pessoa tem 40 anos. A média de idade desse grupo de pessoas, em anos, é

- (A) 27,5.
- (B) 28,75.
- (C) 57,5.
- (D) 58,75.
- (E) 137,5.

19. Uma pessoa dispunha de um valor, em reais, para comprar algumas unidades de um determinado produto. Se ela comprasse quatro unidades desse produto, ficaria devendo R\$ 11,20. Assim, ela resolveu comprar três unidades do produto e recebeu de troco R\$ 16,60. O valor de que essa pessoa dispunha, antes da compra, era

- (A) R\$ 250,00.
- (B) R\$ 200,00.
- (C) R\$ 150,00.
- (D) R\$ 100,00.
- (E) R\$ 50,00.

20. Considere que uma pessoa trabalhe de segunda a sexta, todos os dias, e que de dois em dois dias ela tenha que arquivar documentos do tipo A, que de três em três dias ela tenha que arquivar documentos do tipo B, e que de quatro em quatro dias ela tenha que arquivar documentos do tipo C. Se em uma mesma segunda-feira ela arquivou documentos dos tipos A, B e C e obedeceu rigorosamente, a partir desse dia, os períodos para o arquivamento desses documentos, então a próxima vez em que ela arquivou, no mesmo dia, documentos desses três tipos foi em uma

- (A) segunda-feira.
- (B) terça-feira.
- (C) quarta-feira.
- (D) quinta-feira.
- (E) sexta-feira.

21. Nove recipientes idênticos comportam um total de 28 litros de água. Para comportar 16 litros de água, será necessário, desses recipientes, o número mínimo de

- (A) 2.
- (B) 3.
- (C) 4.
- (D) 5.
- (E) 6.

22. Uma máquina do tipo X fabrica 12 unidades de um determinado produto em uma hora de funcionamento ininterrupto. Três máquinas idênticas, do tipo X, nas mesmas condições de funcionamento, fabricarão 21 unidades desse mesmo produto em

- (A) 15 minutos.
- (B) 20 minutos.
- (C) 25 minutos.
- (D) 30 minutos.
- (E) 35 minutos.

23. Um vendedor tem liberdade para vender um determinado produto ao preço que lhe convier, desde que cumpra uma exigência da empresa em que trabalha, que é a de vender, em cada dia, no mínimo, 3 unidades desse produto ao preço médio de R\$ 80,00 cada um. Se em um dia ele conseguir vender uma unidade desse produto a R\$ 100,00 e outra unidade a R\$ 70,00, para cumprir com a exigência, ele deverá vender a terceira unidade ao preço mínimo de

- (A) R\$ 50,00.
- (B) R\$ 60,00.
- (C) R\$ 70,00.
- (D) R\$ 80,00.
- (E) R\$ 90,00.

24. Pedro e João montaram uma sociedade com um capital total de R\$ 15.800,00. Sabendo-se que desse capital total a parte de João corresponde a um terço da parte de Pedro, pode-se afirmar que a parte correspondente a Pedro é de

- (A) R\$ 3.950,00.
- (B) R\$ 5.266,67.
- (C) R\$ 7.900,00.
- (D) R\$ 10.533,33.
- (E) R\$ 11.850,00.

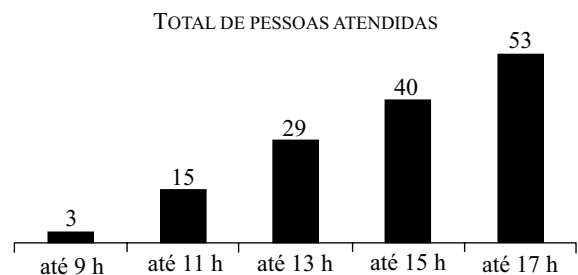
25. Na tabela a seguir, constam informações sobre o número de filhos dos 25 funcionários de uma pequena empresa.

N.º de filhos	N.º de funcionários		Total
	Homens	Mulheres	
0	2	3	5
1	3	4	7
2	2	3	5
3	1	2	3
Mais de 3	3	2	5
Total	11	14	25

Com base nas informações contidas na tabela, é correto afirmar que o número total de filhos dos funcionários dessa pequena empresa é necessariamente

- (A) menor que 41.
- (B) igual a 41.
- (C) maior que 41 e menor que 46.
- (D) igual a 46.
- (E) maior ou igual a 46.

26. O gráfico a seguir apresenta informações sobre o número total de pessoas atendidas em determinado dia, em um setor de uma repartição pública que atende ao público das 7 horas às 17 horas.

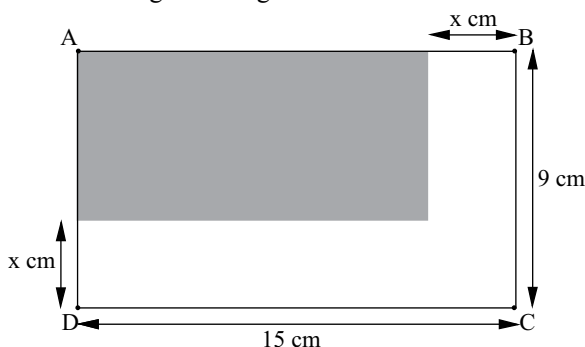


Com base nas informações contidas no gráfico, pode-se afirmar corretamente que nesse dia

- (A) o período em que foram atendidas menos pessoas foi o das 13 h até às 15 h.
- (B) o período em que foram atendidas mais pessoas foi o das 15 h até às 17 h.
- (C) o número total de pessoas atendidas foi 140.
- (D) até às 13 h foram atendidas mais da metade do total de pessoas atendidas.
- (E) antes das 9 h o número de funcionários atendendo era necessariamente pequeno.

27. Uma caixa d'água em formato de cubo, com medidas internas de 2 metros, comporta um volume máximo de água correspondente, em litros, a
- (A) 10 000.
 (B) 8 000.
 (C) 6 000.
 (D) 4 000.
 (E) 2 000.
28. Meu primo me emprestou o valor de R\$ 5.000,00 para que eu devolvesse, tudo de uma só vez, em um prazo de 5 meses. Pela afinidade que temos, ele propôs esse empréstimo a juros simples, com taxa anual de 10%. O montante a ser pago, no prazo estipulado, é de
- (A) R\$ 5.208,33.
 (B) R\$ 5.500,00.
 (C) R\$ 5.728,77.
 (D) R\$ 5.903,66.
 (E) R\$ 6.000,00.
29. Necessita-se dividir duas verbas, uma de R\$ 60.000,00 e outra de R\$ 22.500,00, para que possam ser aplicadas apenas em projetos que serão desenvolvidos. Mas para essa divisão existem algumas exigências: (1.^a) essas verbas não podem ser juntadas; (2.^a) cada projeto deverá receber o mesmo valor e nada mais, além disso; (3.^a) cada parte decorrente da divisão deverá ter o maior valor possível. Obedecendo a essas exigências, o número de projetos que serão desenvolvidos com essas verbas será
- (A) 11.
 (B) 15.
 (C) 22.
 (D) 25.
 (E) 33.

30. Considere a figura retangular ABCD:



Sabendo-se que a região plana escura, também retangular, tem área de 72 cm^2 , o seu perímetro, em centímetros, é

- (A) 34.
 (B) 36.
 (C) 38.
 (D) 40.
 (E) 42.

31. *Morre o cantor, compositor e sanfoneiro aos 72 anos*

O cantor, compositor e sanfoneiro morreu hoje [terça-feira, 23/jul] em decorrência de complicações infecciosas e cardíacas, aos 72 anos, em São Paulo. Nasceu em Garanhuns (PE), em 12 de fevereiro de 1941, e começou a tocar e compor aos oito anos, com uma sanfona de oito baixos em feiras livres, para em seguida se profissionalizar com a de 48, 80 e 120 baixos.

Teve músicas gravadas pelos maiores nomes da MPB, como “Eu Só Quero um Xodó” (em parceria com Anastácia), grande sucesso de Gilberto Gil, e “De Volta pro Aconchego” (em parceria com Nando Cordel), popularizada na voz de Elba Ramalho.

(Folha de S.Paulo, 23.07.13. Adaptado)

Ex-jogador morre aos 84 anos

Morreu na noite desta terça-feira [23 de julho], aos 84 anos, o jogador bicampeão mundial pela seleção brasileira. Foi campeão do mundo nas copas de 1958 e 1962. Ele também participou das copas de 1954 e 1966. Foi jogador da Portuguesa de Desportos, do Palmeiras e do Atlético Paranaense, onde encerrou a carreira. Lateral direito, é considerado o melhor jogador da posição no mundo, em todos os tempos.

(Agência Brasil, 23.07.13. Adaptado)

Os trechos tratam, respectivamente, de

- (A) Luiz Gonzaga e Leônidas da Silva.
 (B) Sérgio Reis e Ademir da Guia.
 (C) Alceu Valença e Toninho Cerezo.
 (D) Dominginhos e Djalma Santos.
 (E) Gonzaguinha e Rivelino.

32. *Visita do papa ao Brasil custará R\$ 118 milhões para os cofres públicos*

(UOL.com.br, 11.05.13. Adaptado)

O custo para os cofres públicos da visita do papa ao Brasil fez com que fosse retomada, à época, a polêmica discussão sobre

- (A) a maioria de evangélicos na população brasileira.
 (B) a laicidade do Estado.
 (C) a cobertura midiática antipática à Igreja Católica.
 (D) o desprezo do governo pelo catolicismo.
 (E) a influência do judaísmo na grande imprensa.

33. Obama cancela visita à Rússia

Porta-voz da Casa Branca diz que “decepcionante decisão” motivou o cancelamento.

(Estadão.com.br, 07.08.13. Adaptado)

A decisão da Rússia que levou ao cancelamento da visita de Obama ao país foi

- (A) o apoio dado à China e à Coreia do Norte em meio ao aumento das tensões no Oriente, de tal forma que o principal aliado dos EUA na região – o Japão – ficou isolado.
- (B) o financiamento do programa nuclear do Irã, o que tem provocado forte incômodo em Israel e nos EUA, países considerados os maiores alvos em potencial de possíveis ataques iranianos.
- (C) a concessão de asilo temporário a Edward Snowden, ex-funcionário americano do setor de inteligência dos Estados Unidos que revelou detalhes de um vasto programa de vigilância do seu próprio país.
- (D) a não extradição de famosos terroristas afeitos que teriam matado soldados dos EUA e agora estariam escondidos no interior da Rússia ou em outras regiões do Leste Europeu.
- (E) o posicionamento adotado pelo governo russo no Conselho de Segurança da ONU favorável à intervenção militar na Síria desde que preservada a integridade territorial do Líbano.

34. O Brasil tem 455 municípios sem médicos, de um total de mais de 5 560 cidades no país. O problema é mais acentuado em regiões distantes dos maiores centros urbanos, como no Nordeste, que lidera a lista de cidades sem médicos com 117, 25,7% do total. Além de nos faltarem profissionais, 70% dos médicos brasileiros concentram-se nas regiões Sudeste e Sul do país. E em geral trabalham nas grandes cidades.

(Brasil de Fato, 15.05.13. Adaptado)

Entre as propostas feitas pelo governo para lidar com o problema apontado no excerto, encontra-se

- (A) o “Projeto de Desenvolvimento da Saúde”, que pretende ampliar a oferta de seguros de saúde particulares em todo o território nacional.
- (B) o “Programa de Atenção à Saúde”, que visa aumentar os gastos com médicos da família sem expandir o número de vagas de medicina no ensino superior.
- (C) o “Pacto para a Saúde”, que busca estabelecer uma parceria entre os poderes federal, estadual e municipal para garantir o aumento do salário dos médicos.
- (D) o “Projeto Saúde Revisitada”, que deixará de lado os municípios menores do interior e investirá nas grandes cidades.
- (E) o “Programa Mais Médicos”, que tem como um de seus objetivos levar mais médicos para regiões onde há escassez e ausência de profissionais.

35. Polícia investiga rota de carro que levou Amarildo

Policiais da Delegacia de Homicídios estão comparando as imagens do sistema de câmeras instalado na Rocinha e outros pontos do Rio com a rota do GPS do carro policial que transportou Amarildo de Souza.

(Folha de S.Paulo, 23.08.13)

O Amarildo de que fala o texto é

- (A) um ajudante de pedreiro morador da Rocinha que foi abordado pela Polícia Militar e desapareceu em seguida, sem que se saiba ao certo as circunstâncias em que ocorreu o seu desaparecimento.
- (B) uma criança moradora do Complexo do Alemão que desapareceu no contexto da visita do papa ao Brasil, em meio aos milhões de pessoas que tomaram as ruas do Rio de Janeiro.
- (C) um jovem carioca que teria sido baleado por matadores profissionais depois de denunciar os assassinos de um casal de policiais, em um crime que também provocou a morte de duas senhoras e do filho do casal.
- (D) um importante traficante da Favela da Maré, que escapou do cerco feito pela Polícia Militar à comunidade em que vivia depois da instalação da UPP.
- (E) um jovem trabalhador que foi assassinado à luz do dia em pleno Morro dos Macacos por homens mascarados, possivelmente membros da tropa de elite das forças de segurança pública disfarçados.

36. Após mal-estar diplomático, Kerry marca visita ao Brasil

(UOL.com.br, 07.08.13. Adaptado)

A visita do secretário de Estado americano, John Kerry, ao País está relacionada

- (A) às duras críticas feitas pelos EUA à postura independente do Brasil na política externa pouco tempo antes da viagem.
- (B) ao profundo desconforto criado no Brasil pelas denúncias da espionagem que vem sendo realizada pelo governo americano.
- (C) à cobrança pública que os EUA fizeram ao Brasil devido ao polêmico ingresso da Venezuela no Mercosul.
- (D) ao impacto negativo que a fala agressiva do governo dos EUA, sobre Cuba e o bloqueio americano, teve no Brasil.
- (E) às discordâncias na relação entre os EUA e o Brasil devido à proposta de criação de uma área de livre comércio das Américas.

37. Stephen Fry pede boicote a Olimpíada russa

O ator e apresentador britânico Stephen Fry pediu um boicote à realização da Olimpíada de Inverno de 2014, que ocorre em Sochi, na Rússia.

(Folha de S.Paulo, 23.08.13)

Algumas figuras públicas têm defendido o boicote à Olimpíada de Sochi, na Rússia, devido ao fato de que o país

- (A) declarou apoio ao governo sírio, mesmo depois da possível utilização de armas químicas no conflito contra os separatistas.
- (B) incorporou à legislação a discriminação de negros e de imigrantes oriundos de outros países, como o sul da Europa.
- (C) começou a emitir enormes quantidades de gases que contribuem para o aquecimento global nas proximidades da região da Sibéria.
- (D) aprovou uma lei considerada homofóbica, e os homossexuais estão sendo vítimas de violência e perseguição sistemáticas.
- (E) tem impedido seguidas vezes os estudantes de se manifestarem nas ruas e de ocuparem as praças e parques públicos.

38. Dilma sanciona sem vetos lei que trata do atendimento às vítimas de violência sexual no SUS

(Globo.com, 01.08.13)

Os principais opositores da lei sancionada foram

- (A) os médicos, que teriam perdido espaço no atendimento às mulheres que sofreram violência sexual.
- (B) os educadores, que preferiam que o governo investisse em aulas e em ações de cuidado sexual e prevenção.
- (C) alguns setores da Igreja Católica e grupos evangélicos, que acusaram a lei de “legalizar o aborto”.
- (D) os psicólogos, que reconheceram na lei uma tentativa de reforçar o controle do Estado sobre as mulheres.
- (E) algumas organizações de direitos humanos, que defendiam um período de transição para a adaptação da rede pública.

39. Exército do Egito depõe Mohammed Morsi e anuncia suspensão da Constituição

(Último Segundo, 03.07.13. Adaptado)

Uma das explicações para a queda de Mohammed Morsi do poder no Egito é a

- (A) hegemonia que a Irmandade Muçulmana e outros grupos islâmicos detinham, deixando de lado a pluralidade política e religiosa que tem força no país.
- (B) oposição veemente que o governo egípcio fazia às pretensões palestinas de constituir um Estado independente, provocando sérios atritos no mundo árabe.
- (C) sua tentativa de nacionalizar o Canal de Suez, expulsando as empresas estrangeiras e cobrando mais taxas e impostos para o tráfego de navios pelo canal.
- (D) sua política bastante conservadora e restritiva em relação ao turismo, considerado por muitos a principal atividade econômica do país.
- (E) sua ambição de tornar-se um líder regional nacionalista e anti-imperialista, o que provocou reações críticas de outros presidentes e líderes políticos da região.

40. Mujica liga alta de roubo no Uruguai ao tráfico

O presidente do Uruguai, José Mujica, associou o aumento da criminalidade no país ao consumo e ao tráfico de entorpecentes. A declaração foi dada quando ele comentava um crime de repercussão nacional: a morte de um policial em um tiroteio em uma tentativa de assalto a uma agência dos Correios.

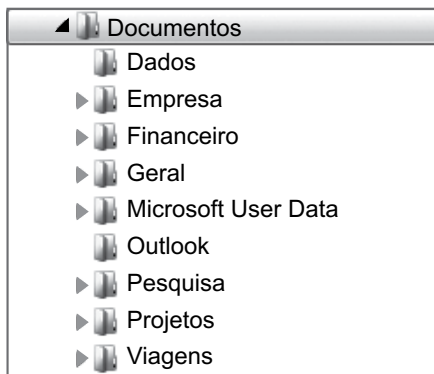
(Folha de S.Paulo, 08.08.13)

A notícia citada revela um dos argumentos utilizados por José Mujica para defender

- (A) o aumento dos impostos sobre o álcool e o cigarro.
- (B) a utilização do exército no policiamento.
- (C) o fechamento das fronteiras do Uruguai com o Brasil.
- (D) o não pagamento da dívida externa.
- (E) a legalização da venda controlada da maconha.

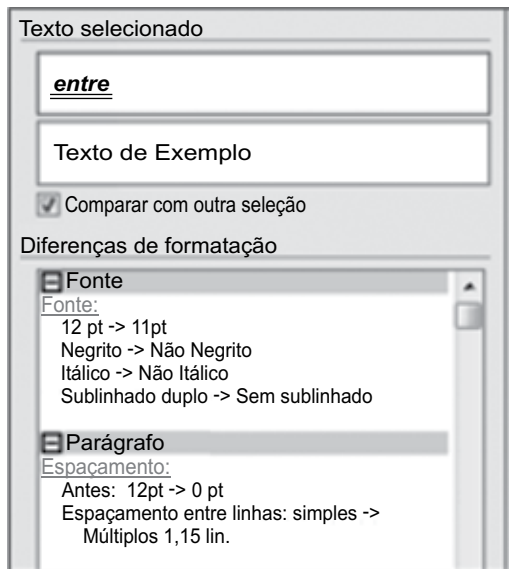
NOÇÕES DE INFORMÁTICA

41. Observe a estrutura de arquivos extraída do Windows Explorer, em sua configuração padrão.



Assinale a alternativa que contém o nome de uma pasta que não possui subpastas.

- (A) Documentos.
 (B) Viagens.
 (C) Outlook.
 (D) Pesquisa.
 (E) Projetos.
42. Qual o nome do recurso do MS-Word 2010, em sua configuração padrão, apresentado na figura a seguir, que permite comparar a formatação entre dois textos?



- (A) Gerenciar Estilos.
 (B) Revelar Formatação.
 (C) Alterar Estilos.
 (D) Formatação Condicional.
 (E) Novo Estilo.

43. Qual opção de quebra de seção do MS-Word 2010, em sua configuração padrão, permite inserir uma quebra de seção e iniciar a nova seção na mesma página?

- (A) Próxima Página.
 (B) Página Par.
 (C) Página Ímpar.
 (D) Quebra Automática de Texto.
 (E) Contínuo.

Considere a planilha a seguir, do MS-Excel 2010, em sua configuração padrão, para responder às questões de números 44 e 45.

	A	B	C	D
1	Nome	Idade	Salario	Bonus
2	Carlos	30	R\$ 5.400,00	R\$ 90,00
3	Paulo	25	R\$ 7.000,00	
4	Sandra	20	R\$ 2.500,00	
5	Gabriela	15	R\$ 900,00	

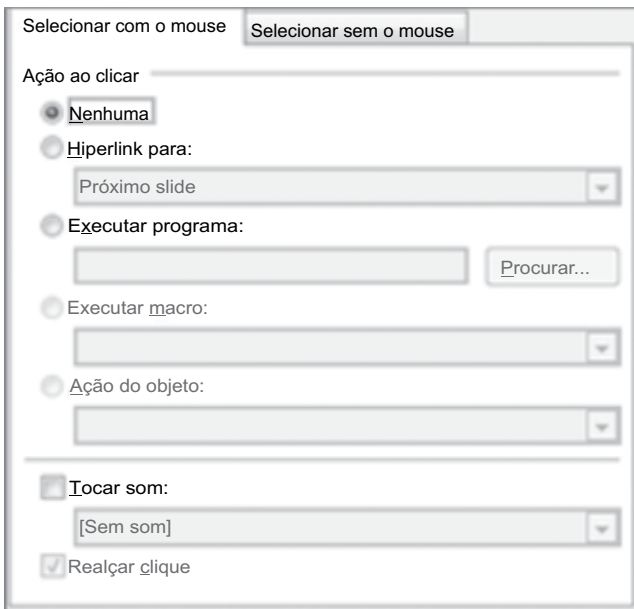
44. Qual valor aparecerá na célula D5 se o usuário arrastar a alça de preenchimento da célula D2 até a célula D5?

- (A) VAZIO
 (B) R\$ 30,00
 (C) R\$ 62,50
 (D) R\$ 90,00
 (E) R\$ 140,00

45. Assinale a alternativa em que o resultado da fórmula é igual ao valor da célula C2.

- (A) =MÍNIMO(C2:C5)
 (B) =SE(C4<5400;C4;C5)
 (C) =MÉDIASE(B2:B5;"<25";C2:C5)
 (D) =MÉDIASE(B2:B5;">25";C2:C5)
 (E) =SE(C4>5400;C4;B5)

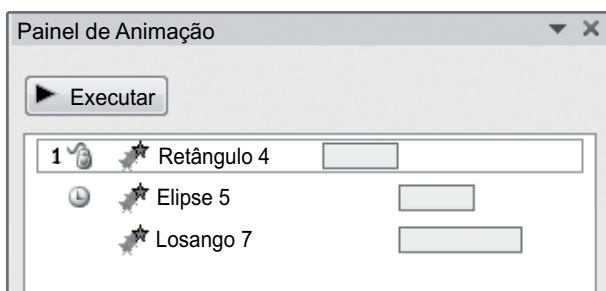
46. Observe a figura.



No MS-PowerPoint 2010, em sua configuração padrão, a opção do menu de contexto do botão de ação, sem ações configuradas, que abre o painel apresentado na figura é:

- (A) Hiperlink...
- (B) Editar Texto
- (C) Tamanho e Posição...
- (D) Formatar Forma
- (E) Definir como Forma Padrão

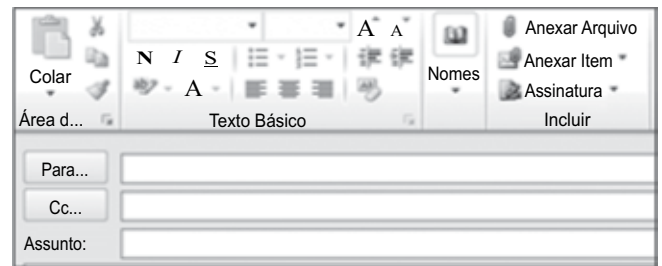
47. Considere o painel de animação mostrado na figura a seguir, extraído do MS-PowerPoint 2010, em sua configuração padrão.



De acordo com a configuração apresentada, quando a animação associada ao "Losango 7" iniciará a execução?


- (A) Ao se clicar na apresentação.
- (B) Ao se clicar duas vezes na apresentação.
- (C) Com a animação anterior.
- (D) Após a animação anterior.
- (E) Ao se clicar no objeto.

48. Observe a figura a seguir, extraída do Microsoft Outlook 2010, em sua configuração padrão.



A opção que permite escolher um arquivo para ser enviado junto com a mensagem é:

- (A) Para...
- (B) Anexar Arquivo
- (C) Cc...
- (D) Assunto:
- (E) Nomes

49. Qual página é aberta ao se clicar no ícone  do Internet Explorer 8, em sua configuração padrão?

- (A) A última página do histórico de navegação.
- (B) A primeira página da barra de favoritos.
- (C) A página do motor de busca na Internet.
- (D) A página de configuração do navegador.
- (E) A página configurada como Página de Início.

50. Para imprimir uma página web no Internet Explorer 8, em sua configuração padrão, o usuário deve utilizar as teclas de atalho:

- (A) Ctrl+B
- (B) Ctrl+W
- (C) Ctrl+I
- (D) Ctrl+P
- (E) Ctrl+N

