


Observe os quadrinhos.



SOUSA, Mauricio de. O Popular. Goiânia, 23 jun. 2009. p. 6. Magazine.

1. A leitura da tirinha sugere que:

- (A) A pergunta feita por Chico Bento aponta uma incoerência presente na questão levantada no primeiro quadrinho.
- (B) A pergunta feita no primeiro quadrinho encontra sua justificativa nos elementos verbais presentes no segundo.
- (C) A compreensão global dos quadrinhos só é possível a partir da articulação da linguagem verbal com a linguagem não verbal.
- (D) A interpretação dos quadrinhos ancora-se apenas na linguagem não verbal, já que a variedade linguística neles usada é inadequada.



ERIVALDO. Capas para Gonçalo Ferreira da Silva. Disponível em: <http://www.ablc.com.br> Acesso em: 28 mar. 2008.

2. As ilustrações acima, denominadas xilogravuras, possuem estreita relação com um tipo de literatura popular nordestina, que por sua vez inspirou outros autores, como Ariano Suassuna em O Santo e a Porca, por exemplo. Essa literatura popular é a chamada literatura:

- (A) Concretista.
- (B) Modernista.
- (C) De cordel.
- (D) O ciclo do cangaço.

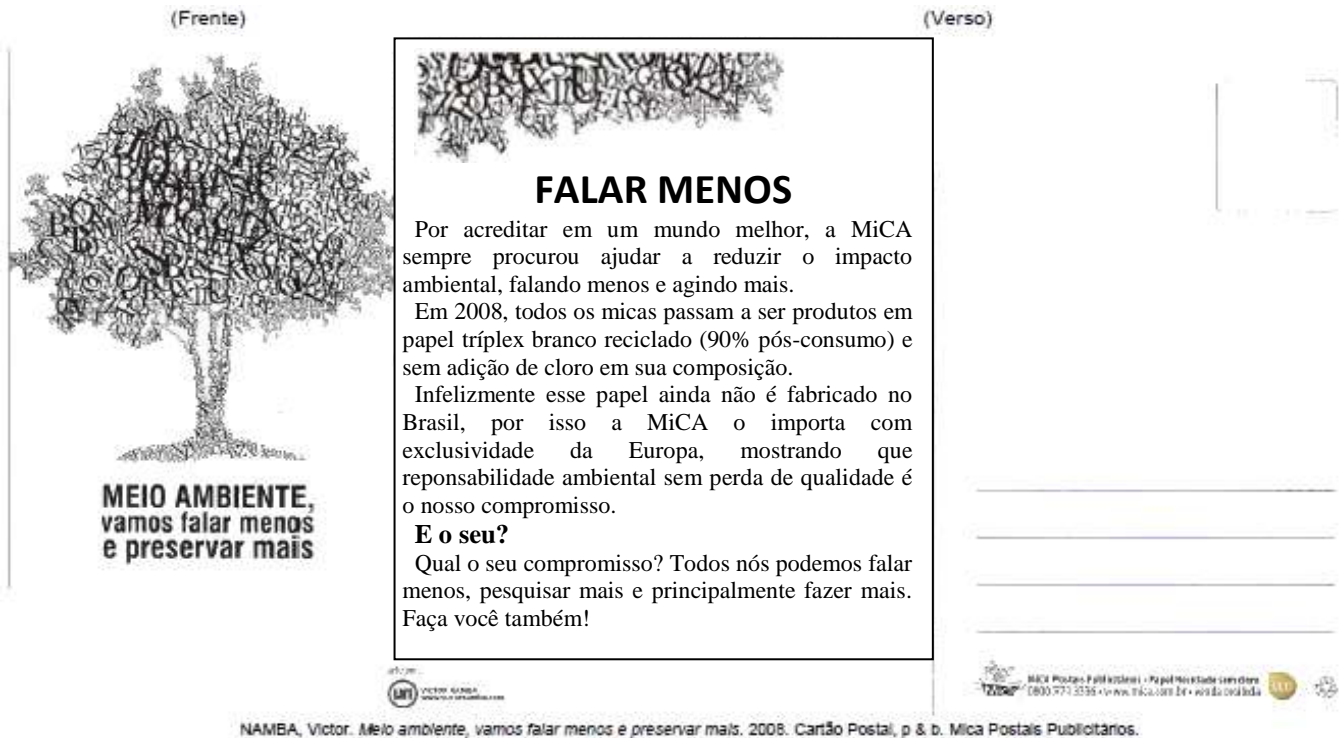
3. No enunciado a seguir, retirado de um texto do gênero Editorial, observa-se, na passagem destacada, a não contração da preposição e do artigo.

“Em contraste com a oposição, parlamentares governistas parecem não ver nenhum inconveniente no fato de o Presidente da República impor sua pauta ao Congresso.”

O EXECUTIVO é a Lei. Folha de S.Paulo. Disponível em <<http://www1.folha.uol.com.br/fsp/opiniao/fz2610201001.htm>>.

Isso ocorreu porque:

- (A) A expressão **Presidente da República** é sujeito do verbo **impor**. O Sujeito, em português, é o único elemento da frase que não pode ser preposicionado.
- (B) Não há contração da preposição mais artigo porque o sujeito é **parlamentares governistas**.
- (C) A não contração deve-se ao fato de o termo Presidente da República ser objeto indireto.
- (D) N.D.A



NAMBA, Victor. Meio ambiente, vamos falar menos e preservar mais. 2008. Cartão Postal, p & b. Mica Postais Publicitários.

4. A mensagem central do cartão postal, presente tanto em seu conteúdo verbal como nas imagens que o ilustram, pode ser resumida na seguinte afirmação:

- (A) Todos devem assumir o compromisso de usar materiais reciclados para preservar o meio ambiente.
- (B) Deve-se ter responsabilidade ambiental, sem perder, contudo, a qualidade dos produtos.
- (C) O discurso sobre defesa do meio ambiente não deve ficar só em palavras, mas traduzir-se em ações concretas.
- (D) A utilização de materiais reciclados nas atividades cotidianas ajuda a reduzir o impacto ambiental da indústria.

5. No período “Por acreditar em um mundo melhor, a MiCA sempre procurou ajudar a reduzir o impacto ambiental, falando menos e agindo mais”, a primeira oração expressa, em relação ao restante do período, a noção de:

- (A) Condição.
- (B) Consequência.
- (C) Efeito.
- (D) Causa.

Leia o poema.

### Consoada

Manuel Bandeira

Quando a Indesejada das gentes chegar  
 (Não sei se dura ou caroável),  
 Talvez eu tenha medo.  
 Talvez sorria, ou diga:  
 – Alô, iniludível!  
 O meu dia foi bom, pode a noite descer.  
 (A noite com os seus sortilégios),  
 Encontrará lavrado o campo, a casa limpa,  
 A mesa posta, com cada coisa em seu lugar.

ESTRELA DA VIDA INTEIRA. Rio de Janeiro: Nova Fronteira, 1993. p. 223.

6. Em relação à vida e à futura morte do eu lírico, os termos “dia” e “noite”, no sexto verso, constituem uma:

- (A) Comparação.
- (B) Metáfora
- (C) Aliteração.
- (D) Anáfora.

Leia o texto “Sustentável é pouco” e responda:

### Sustentável é pouco

Ideias e experiências que vão além do discurso da sustentabilidade.

Enfim, juntou-se um “dream team” do novo urbanismo mundial para dar ideias para São Paulo. Os arquitetos do escritório de Gehl resolveram dedicar-se a transformar a região do Anhangabaú no centro vivo da cidade, um lugar onde a cidade toda se encontraria. Eles passaram semanas observando o jeito como as pessoas se relacionam com o espaço, entendendo o papel de cada um lá: os mendigos, as prostitutas, os policiais, os meninos de rua, os trabalhadores, os executivos, os camelôs. Ao final, eles propuseram um projeto lindo. Fiquei morrendo de vontade de passear pelo novo Anhangabaú.

Mas provavelmente não vou ter a chance. São Paulo recusou o projeto do dream team dos urbanistas do mundo. As ideias deles servem para Bogotá, Londres, Nova York, Copenhague, Melbourne, mas não para nós.

Por quê? Por quê São Paulo – e muitas cidades brasileiras – são tão refratárias a ideias inovadoras? [...].

Em parte é fácil de entender o porquê. Os setores imobiliários e de construção são os maiores financiadores de campanhas eleitorais, tanto à prefeitura quanto à Câmara dos Vereadores. A Associação Imobiliária Brasileira deu dinheiro a 29 dos 55 vereadores em exercício – o suficiente para ganhar com folga qualquer votação em plenário.

[...]

Quer entender por que o espaço público tende a ser tão ruim no Brasil? Talvez a resposta esteja nas regras de financiamento de campanhas e no sistema político. Talvez nosso sistema privilegie os candidatos que se preocupam em agradar empreiteiras e incorporadoras, em vez de se especializar em atender as pessoas e tornar a vida delas melhor.

BURGIERMAN, Denis Russo. Sustentável é pouco. Disponível em: <http://veja.abril.com.br/blog/denis-russo/cidade/nossas-cidades-nao-mudam/> Acesso em 25 out. 2010.

7. O uso da expressão “dream team”, entre aspas indica que o autor lança mão explicitamente de recursos linguísticos chamados:

- (A) Intertextualidade e/ou estrangeirismo.
- (B) Conectividade e/ou estrangeirismo.
- (C) Coerência e/ou intertextualidade.
- (D) Coesão e/ou estrangeirismo.

8. O uso da acentuação é um recurso linguístico normalizado por regras. Se usado inadequadamente, um acento pode mudar o sentido de uma palavra e alterar a compreensão de uma informação no texto. A presença do acento na palavra ANHANGABAÚ demonstra que é uma palavra:

- (A) Oxítona terminada em ditongo “aú” tônico.
- (B) Oxítona terminada em “u”
- (C) Própria de origem indígena.
- (D) Oxítona terminada em hiato “u” tônico.

Leia a tira a seguir e responda.



(Dik Browne. Folha de São Paulo, 18/04/2003)

9. Assinale a alternativa que registra corretamente a pessoa, o número, o tempo e o modo dos verbos destacados das frases do texto: “Sei que vivo me queixando de tudo...” e “Mas gostaria que parassem de cantar”.

- (A) 1ª. pessoa, singular, presente, indicativo; 1ª. pessoa, singular, futuro do pretérito, indicativo.
- (B) 1ª. pessoa, singular, presente, subjuntivo; 1ª. pessoa, singular, pretérito mais-que-perfeito, indicativo.
- (C) 1ª. pessoa, singular, futuro, subjuntivo; 1ª. pessoa, singular, presente, indicativo.
- (D) 1ª. pessoa, singular, pretérito perfeito, indicativo; 1ª pessoa, singular, futuro do presente, indicativo.

10. Na frase “Mas gostaria que vocês parassem de cantar”, a forma verbal destacada:

- (A) Transmite a ideia de uma ação completamente concluída.
- (B) Indica um fato incerto ou improvável.
- (C) Expressa uma ação que está ocorrendo no momento em que se fala.
- (D) Expressa a ideia de um acontecimento possível no futuro.

### Matemática – questões de 11 a 20.

11. Dois operários receberam juntos R\$ 10.000,00 para fazerem a manutenção de uma linha de transmissão de uma empresa. O primeiro trabalhou durante 25 dias e o segundo, que recebe R\$ 30,00 por dia a mais que o primeiro, trabalhou durante 18 dias. Com base nessas informações, julgue os itens abaixo.

- I - O primeiro operário recebeu um salário diário acima de R\$ 215,00.
- II - O salário total do primeiro operário foi inferior a R\$ 5.600,00.
- III - O segundo operário recebeu um salário diário inferior a R\$ 265,00.
- IV - O salário total do segundo operário foi superior a R\$ 4.400,00.

Assinale a alternativa correta.

- (A) Somente I e II estão corretas.
- (B) Somente IV está correta.
- (C) Somente III está incorreta.
- (D) Todas estão corretas.

A maquete de um prédio é uma redução, em escala, em três dimensões. Na maquete, todas as medidas de comprimento são proporcionais às medidas reais correspondentes.

Observe as seguintes fotos de um prédio de **48 m** de altura, representado na maquete com escala **1:75**.



Edifício em São Paulo



Maquete do Edifício

Fonte: Fotos de Sérgio Dotta Jr.

12. Qual é a altura da maquete?


- (A) 60 cm                      (B) 64 cm                      (C) 55 cm                      (D) 73 cm

13. Muitas situações do cotidiano exigem que se conheça a medida de um ângulo. Em outras, é necessário comparar ângulos e existem também aquelas nas quais a classificação dos ângulos se faz necessária. A postura correta em diversos esportes é de suma importância para um maior desempenho do atleta. Observe as figuras a seguir:

Elas possuem, em comum, a classificação dos ângulos indicados.

Esses ângulos são:

- (A) Obtusos  
(B) Rasos  
(C) Agudos  
(D) Retos



14. Um investidor aplicou a quantia de R\$ 500,00 em um fundo de investimento que opera no regime de juros simples. Após 6 meses o investidor verificou que o montante era de R\$ 560,00. Qual a taxa de juros desse fundo de investimento?

- (A) A taxa de juros do fundo de investimento é igual a 7%.  
(B) A taxa de juros do fundo de investimento é igual a 2%.  
(C) A taxa de juros do fundo de investimento é igual a 5%.  
(D) A taxa de juros do fundo de investimento é igual a 4%.

15. Determinado capital aplicado a juros simples durante 18 meses rendeu R\$ 7.200,00. Sabe-se que, se o dobro deste capital fosse aplicado a juros simples com a mesma taxa anterior, geraria, ao final de dois anos, o montante de R\$ 40.000,00. O valor do capital aplicado na primeira situação foi:

- (A) R\$ 20.800,00                      (B) R\$ 10.400,00                      (C) R\$ 15.200,00                      (D) R\$ 12.500,00

16. Qual é o conjunto solução da equação  $4x - 8 = 10$ ?

- (A)  $S = \{4,5\}$ .                      (B)  $S = \{6,5\}$ .                      (C)  $S = \{3,7\}$ .                      (D)  $S = \{5,2\}$ .

17. Um Assentador de pisos consegue assentar todos os pisos de um salão em 24 horas. Um outro assentador consegue fazer o mesmo trabalho em 21 horas. Trabalhando juntos, conseguem realizar tal trabalho em quantas horas?

- (A) 9 horas e 10 minutos.  
(B) 10 horas e 12 minutos.  
(C) 11 horas e 12 minutos.  
(D) 6 horas e 20 minutos.

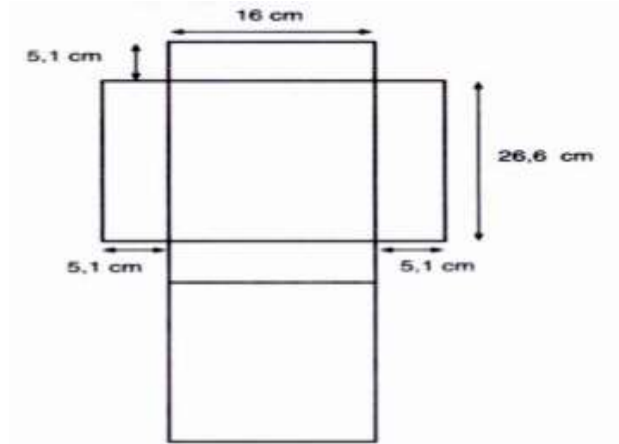
Leia as informações e analise as embalagens a seguir.

As embalagens são projetadas segundo as necessidades do fabricante. No caso de uma embalagem para se colocar cereal em flocos, geralmente ela tem o formato de um prisma retangular e é confeccionada de papelão. Analise uma dessas embalagens e sua planificação contendo suas respectivas medidas.





Fonte da Imagem: Site cidademarketing.com.br



18. A partir da análise, calcule o volume, em  $\text{cm}^3$ , da embalagem.

- (A) 3 230,36  $\text{cm}^3$   
 (B) 2 130,56  $\text{cm}^3$   
 (C) 1 170,46  $\text{cm}^3$   
 (D) 2 170,56  $\text{cm}^3$

### QUAIS OS ESPORTES RADICAIS MAIS PERIGOSOS?

“Viver é negócio muito perigoso”, já dizia Guimarães Rosa. Fica mais se, nas horas vagas, o vivente caminhar sobre aviões em pleno vôo ou surfar entre ondas da altura de prédios. Essas atividades são o 1<sup>o</sup> e 2<sup>o</sup> lugares no ranking dos esportes que apresentam maior risco de morte. Alguns desses passatempos são tão perigosos que equivalem a ir para a guerra. Na verdade, é uma injustiça: um soldado estrangeiro, no Iraque, tem 5 vezes mais possibilidade de continuar vivo do que quem passeia fora do avião. Está achando esses caras doidos? Bem, eles amam o que fazem e, como também dizia Guimarães Rosa: “Qualquer amor já é um pouquinho de saúde, um descanso na loucura”.

### EMOÇÕES FORTES

Esportes mais perigosos, por probabilidade de morte.



#### WING WALKING

**O que é:** mover-se sobre as asas do avião durante o vôo e saltos em que se abre o paraquedas no último instante possível.

**Por que é perigoso:** o show vira suicídio sempre que alguém desrespeita a lei do wing walking: “Nunca largue do que você está segurando até estar segurando em outra coisa”.



#### BIG WAVE SURF

**O que é:** modalidade de surf em que o surfista é rebocado ou pula de helicóptero no meio do oceano, onde se formam ondas gigantes – de 6 a 15 metros.

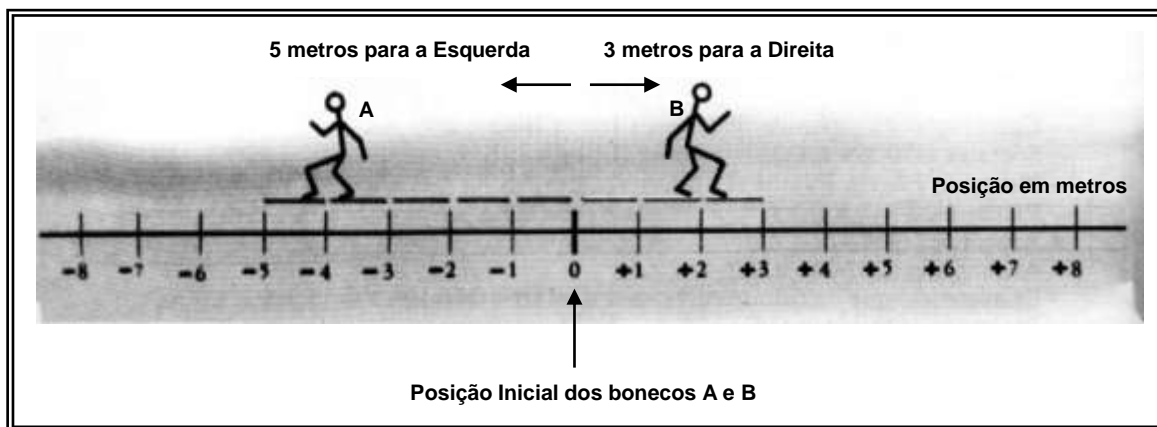
**Por que é perigoso:** as mortes geralmente envolvem saltos do helicóptero mal executados, em que o surfista cai de mal jeito e fica suscetível a afogamentos.

Fonte: Revista Super Interessante  
 Edição 275 - Fevereiro de 2010  
 Editora Abril

19. Qual a porcentagem de esportistas que morrem nas duas categorias citadas acima?

- (A) Wing Walking: 0,5% e Big Wave Surf: 0,3%  
 (B) Wing Walking: 0,3% e Big Wave Surf: 0,8%  
 (C) Wing Walking: 0,1% e Big Wave Surf: 0,4%  
 (D) Wing Walking: 0,9% e Big Wave Surf: 0,6%

20. Dois bonequinhos, A e B, bem como suas posições na reta representativa dos números inteiros foram desenhados pelo professor de Ciências. Observe a seguir o desenho apresentado aos alunos e algumas informações nele contidas.



Calcule a distância entre os bonecos A e B após o deslocamento de ambos utilizando módulo de um número inteiro, em seguida, assinale a alternativa correta.

- (A) 10 metros. (B) 4 metros. (C) 6 metros. (D) 8 metros.

**Conhecimentos Gerais – questões 21 a 30.**

21. A construção de uma nova capital para o Brasil era uma proposta muito antiga, e estava presente na segunda constituição brasileira, elaborada em 1891. Porém, foi somente no período de 1956 a 1960, que essa ideia saiu do papel.

Marque a alternativa que completa corretamente a seguinte frase:

Antes de Brasília, o Brasil teve duas outras capitais que foram:

- (A) Salvador e Rio de Janeiro.  
(B) Salvador e Porto Seguro.  
(C) Belo Horizonte e Rio de Janeiro.  
(D) Rio de Janeiro e São Paulo.



Fonte: Acervo UH/Folha Imagem 28/04/1959

**Povo:** Gostaria que V. Exa. me informasse se a construção de Brasília ainda vai demorar...

**JK:** Ainda demora um pouco. Creio que mais um ano, mais ou menos. Por quê?

**Povo:** Apenas pra saber quanto tempo ainda terei de passar fome.

22. A ilustração acima, elaborada no contexto da construção de Brasília, traduz uma das principais críticas ao governo de Juscelino Kubitschek. Entre essas críticas, assinale a alternativa correta que refere a construção de Brasília:

- (A) Impediu o processo de industrialização do país e, portanto, o desenvolvimento econômico brasileiro.  
(B) Desviou recursos, que melhorariam as condições de vida de toda a população brasileira, para construir a nova capital, causando o empobrecimento do país.  
(C) Produziu um forte decréscimo populacional no Rio de Janeiro e em São Paulo, por causa da migração para o interior do Brasil.  
(D) Ocorreu de forma lenta e burocrática, dificultando o processo de transferência da capital.

23. Leia o trecho abaixo.

“Quando a cidade sepulta no anonimato os seus tipos de rua, é sinal que o humanismo desapareceu das esquinas e o tempo/relogio passou a controlar a vida de seus habitantes. [...] Goiânia cresceu. Sepultou seus tipos de rua, atropelados na pressa dos automóveis”.

TELES, José Mendonça. Crônicas de Goiânia. Goiânia: Kelps, 2005. p. 65-66.

O trecho acima tematiza o crescimento de Goiânia e relaciona desaparecimento do humanismo e velocidade dos automóveis ao tempo controlado da população. Considerando as leituras de base sociológica e geográfica acerca do espaço urbano, é correto afirmar:

- (A) Goiânia cresceu e tornou-se uma cidade moderna, por isso mudou o nome de suas ruas para o nome de figuras folclóricas e populares, com o intuito de preservar a memória da cidade.  
(B) Goiânia cresceu por causa do processo de expansão da indústria automobilística, da construção civil e da intervenção estatal.

(C) O crescimento de Goiânia significou a formação de uma moderna cidade capitalista, marcada pelo predomínio do controle do tempo e pela primazia dos automóveis nas ruas.

(D) O crescimento de Goiânia significou uma mudança cultural que mescla rural e urbano, mantendo o predomínio de valores humanos.

A finalidade primordial da agricultura é a produção de alimentos. Todavia, apesar dos avanços e das conquistas tecnológicas, o número de famintos no mundo continua alto.



COELHO, Marcos Amorim; TERRA, Lígia. Geografia geral: o espaço natural e socioeconômico. 5. ed. São Paulo: Moderna, 2005, p. 349.

24. Com relação a esse tema, é correto afirmar:

(A) A modernização da agricultura gerou oferta recorde e excedente de alimentos para alimentar toda a humanidade, debelando, assim, a fome nos países pobres.

(B) Nos países subdesenvolvidos, nos quais a principal atividade econômica é a agropecuária, o problema da fome é menor devido à produção de alimentos básicos.

(C) A fome no mundo deve-se mais a fatores relacionados às condições naturais adversas, como secas prolongadas, excesso de chuvas, pobreza do solo, entre outras.

(D) A existência da fome no mundo é reflexo do preço elevado dos alimentos, da falta de acesso à terra, do controle das multinacionais no mercado agrícola, entre outras causas.

25. No início do século XX, um jornalista descreveu o Rio de Janeiro, como “um monstro onde as epidemias se albergam dançando sabats magníficos, aldeia melancólica de prédios velhos e alçapados, a descascar pelos rebocos, vielas sórdidas cheirando mal”.

(Nosso Século. São Paulo: Abril Cultural/Círculo do Livro, 1985, v. 1, p. 37.)

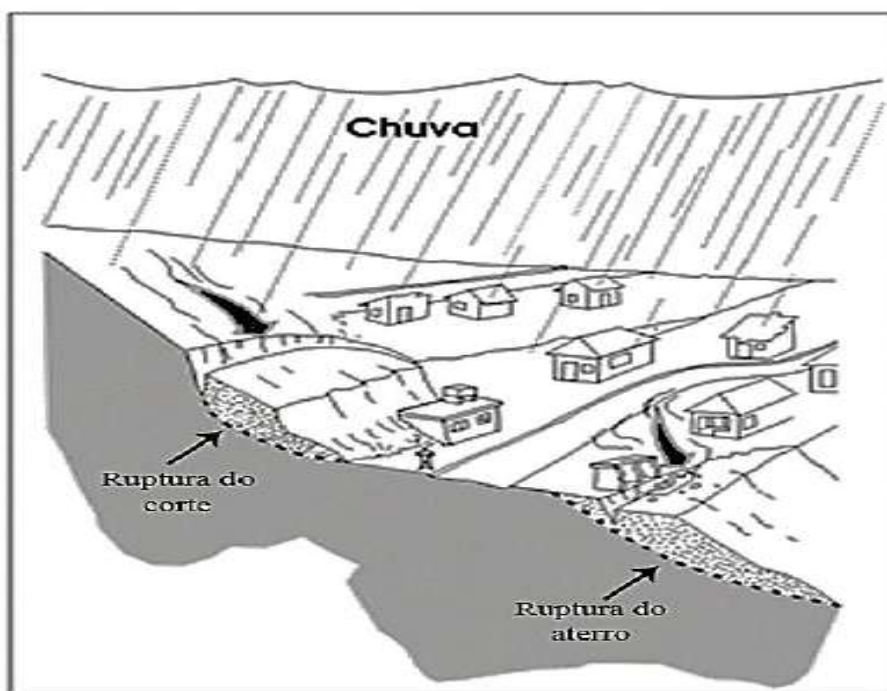
Entretanto, uma tentativa oficial de alterar esse cenário desolador resultou, em 1904, na rebelião popular conhecida como:

(A) Revolta da Chibata.

(B) Revolta de Canudos.

(C) Revolta do Contestado.

(D) Revolta da Vacina.



**26.** Analise a figura apresentada acima.

A partir dela, pode-se dizer que:

(A) A especulação territorial urbana faz com que as populações menos favorecidas economicamente ocupem áreas de encostas. Essas áreas são conhecidas como áreas de risco e podem ser ocupadas segundo a legislação ambiental brasileira por aqueles que não têm moradia.

(B) A ruptura do aterro e o movimento de massa resultam da inexistência de vegetação, da inclinação da vertente, da ocorrência da chuva, da saturação do solo e do escoamento superficial das águas pluviais modificado pela terraplanagem necessária para construção de residências.

(C) A figura pouco demonstra a influência do homem na transformação da natureza. O quadro descrito se deve a um desastre natural.

(D) A ruptura do aterro se deve ao padrão de construção e ao tipo de residências construídas, que não estão adaptadas às características naturais da área, caso contrário, não haveria o movimento de massa, a ruptura do aterro e os impactos ambientais negativos.



**27.** Preencha as lacunas do texto a seguir e escolha, em seguida, a opção que contém a sequência correta.

\_\_\_\_\_, o naufrágio do Titanic – um dos maiores desastres da história naval – continua fascinando pessoas de todo o mundo. \_\_\_\_\_, o navio inglês afundou após colidir com um iceberg no \_\_\_\_\_, deixando \_\_\_\_\_ entre passageiros e tripulação. Desde então, se tornou um ícone da cultura ocidental, tema de livros, filmes, peças de teatro, músicas, museus e obras de arte.

(A) Dois Séculos depois – Em 25 de abril de 1918 – Oceano Índico – na Europa.

(B) Um Século depois – Em 15 de abril de 1912 – Atlântico Norte – 1.512 mortos.

(C) Uma década depois – Em 15 de abril de 1812 – Oceano Pacífico – 1.201 mortos.

(D) Oitenta e cinco anos atrás – Em 13 de abril de 1712 – porto de Southampton– França, 2.500 mortos.

**28.** Sobre o município de Jandaia é incorreto afirmar que:

(A) Situa-se no planalto central do Brasil.

(B) Está situado entre o Morro do Segredo e Serra do Boqueirão.

(C) Foi fundado no ano de 1929.

(D) O gentílico da cidade é Jandiaense

**29.** Indique abaixo o único requisito básico de investidura em cargo público estabelecido pelo Estatuto dos Servidores de Jandaia:

(A) Ter aptidão física e mental.

(B) Ser aprovado em concurso público.

(C) Ter idade mínima de 21 anos

(D) Ter idoneidade moral ilibada.

**30.** Analise as afirmativas acerca do Estatuto dos Servidores de Jandaia e assinale a incorreta:

(A) Ao entrar em exercício, o servidor nomeado para cargo de provimento efetivo ficará sujeito a estágio probatório por período de 24 (vinte e quatro) meses. Como condição para aquisição da estabilidade, é obrigatória a avaliação especial de desempenho, por comissão instituída para essa finalidade.

(B) O servidor em estágio probatório poderá exercer quaisquer cargos de provimento em comissão ou funções de direção, chefia ou assessoramento no órgão ou entidade de lotação, e poderá ser cedido a outro órgão, município ou estado.

(C) O servidor em estágio probatório poderá tirar licença para participar de curso de formação decorrente de aprovação em concurso para outro cargo na Administração Pública Municipal.

(D) O servidor não aprovado no estágio probatório será exonerado ou, se estável, reconduzido ao cargo anteriormente ocupado.

### ***Conhecimentos Específicos – questões de 31 a 40.***

---

**31.** Deve-se considerar como fecho apropriado para a correspondência oficial:

(A) Atenciosamente...

(B) Sem mais para o momento...

(C) Limitados ao exposto...

(D) Circunscritos ao exposto...



32. Há três tipos de expedientes que se diferenciam antes pela finalidade, do que pela forma: o *ofício*, o *aviso* e o *memorando*. Com o fito de uniformizá-los, pode-se adotar uma diagramação única, que siga o que chamamos de:

- (A) Diagramação Contextualizada.
- (B) Padrão Aviso.
- (C) Padrão Ofício.
- (D) Padrão Memorando.

33. No método numérico de arquivamento, o número é o elemento principal para a organização do arquivo. Por ser numérico, pertence ao sistema indireto de busca. De acordo com a afirmativa, para localizar a documentação através desse método, é necessário fazer primeiro, a consulta ao:

- (A) Manual do arquivo.
- (B) Índice auxiliar alfabético.
- (C) Guia de operações de arquivamento.
- (D) Esquema de classificação dos documentos.

34. Quando há impossibilidade jurídica de competição entre contratantes, quer pela natureza específica do negócio, quer pelos objetivos sociais visados pela Administração, diz-se que a licitação é:

- (A) Vedada.
- (B) Inexequível.
- (C) Dispensável.
- (D) Inexigível.

35. Protocolar é:

- (A) Formalizar o recebimento / entrega de algum documento ou material.
- (B) Arquivar documentos em pastas.
- (C) Encaminhar uma correspondência.
- (D) Responder ofícios.

36. Assinale V para alternativa verdadeira e F para falsa:

( ) **Regulamentos** - são atos administrativos anteriores aos decretos, servem para especificar os mandamentos da lei ou para prover disposições de lei.

( ) **Regimentos** - são atos administrativos normativos internos que visam dirigir o funcionamento dos órgãos colegiados e corporações legislativas.

( ) **Resoluções** - São atos administrativos normativos expedidos pelas autoridades do executivo.

Assinale a sequência correta:

- (A) VVV (B) FFF (C) VVF (D) FVV

37. De acordo com o artigo 5º do Estatuto dos Servidores Municipal, são requisitos básicos para investidura em cargo público,

**EXCETO:**

- (A) Idade mínima de 18 anos no ato da posse.
- (B) Aprovação em concurso público ou processo seletivo.
- (C) Aptidão física e mental.
- (D) Nacionalidade brasileira.

38. Considerando a Lei nº 8.666/93 e posteriores alterações, em qual dos casos abaixo não está configurada hipótese de dispensa de licitação:

- (A) Caso de compras de hortifrutigranjeiros, pão e outros gêneros perecíveis, no tempo necessário para realização dos processos licitatórios correspondentes, realizadas diretamente com base no preço do dia.
- (B) Situação em que houver inviabilidade de competição.
- (C) Quando houver guerra ou grave perturbação da ordem.
- (D) Quando não acudirem interessados à licitação anterior e esta, justificadamente, não puder ser repetida sem prejuízo para a administração, mantidas, neste caso, todas as condições preestabelecidas.

39. Selecione a alternativa **CORRETA**:

(A) Windows XP não possui firewall próprio.

(B) Ao acessar uma página de Internet, se você encontrar  no canto inferior direito, é o indicativo que você está acessando um site com conteúdo original alterado.

(C) Ao acessar uma página de Internet, se você encontrar  no canto inferior direito, é o indicativo que você está acessando um site seguro.

(D) Não é possível bloquear pop-ups através do Internet Explorer.

40. O ícone ¶ no Microsoft Office Word tem a função de:

- (A) Justificar um parágrafo.
- (B) Dar a aparência de um texto marcado com marca texto.
- (C) Mostrar marcas de parágrafos e outros símbolos de formatação ocultos.
- (D) Alternar as páginas entre os *layouts* retrato e paisagem.