



PREFEITURA MUNICIPAL DE GRAMADO  
Estado do Rio Grande do Sul  
CONCURSO PÚBLICO Nº 01/2012

# DESIGNER GRÁFICO

## INSTRUÇÕES

Leia atentamente e cumpra rigorosamente as instruções que seguem, pois elas são parte integrante das provas e das normas que regem este Concurso Público.

1. Verifique se o cargo constante na capa deste caderno é aquele para o qual realizou a inscrição.
2. Cada questão oferece 5 (cinco) alternativas de respostas, representadas pelas letras **A**, **B**, **C**, **D** e **E**, sendo apenas 1 (uma) a resposta correta.
3. O tempo para a realização da prova é de 3 horas, incluindo o preenchimento da grade de respostas. O candidato só poderá retirar-se do recinto da prova, portando o caderno de provas, após transcorrida 1 hora e 30 minutos de seu início. Os dois últimos candidatos deverão retirar-se da sala de prova ao mesmo tempo, devendo assinar a ata da sala.
4. Nenhuma informação sobre as instruções e/ou sobre o conteúdo das questões será dada pelo fiscal, pois são parte integrante da prova.
5. No caderno de prova, o candidato poderá rabiscar, riscar, calcular, etc.
6. Os gabaritos preliminares da prova objetiva serão divulgados no dia 12/03/2012, às 20h, no portal da Fundatec ([www.fundatec.org.br](http://www.fundatec.org.br)) e da Prefeitura Municipal de Gramado ([www.gramado.rs.gov.br](http://www.gramado.rs.gov.br)).
7. Certifique-se de que este caderno contém 40 (quarenta) questões. Caso contrário, solicite ao fiscal da sala a sua substituição.



Instrução: As questões de números 01 a 12 referem-se ao texto abaixo.

**Gramado, um pedacinho da Europa em solo gaúcho**

01 Um pequeno espaço de terra, coberto por um gramado encantador, servia de repouso para tropeiros  
 02 que tocavam o gado para os Campos de Cima da Serra ainda no fim do século XIX. Muitos acreditam que  
 03 essa foi a origem do nome dado para a cidade, que hoje é considerada o berço do turismo no Rio Grande  
 04 do Sul. Para outros, porém, a origem do nome do município se deve ao acesso do Vale dos Sinos à Serra,  
 05 pela Serra Grande, que inspirava muito cuidado na travessia, pelos perigos que ....., e era chamado  
 06 de Gramado.

07 Em 1875 deu-se início à chegada dos primeiros colonizadores europeus em Gramado. Nesse ano  
 08 chegaram os portugueses, seguidos dos alemães e italianos. As três culturas deixaram suas marcas neste  
 09 pequeno espaço de terra. A arquitetura e a gastronomia, em vista disso, são marcas do início da história de  
 10 Gramado. As paisagens serranas, com florestas de araucárias, pássaros e outros animais silvestres, além  
 11 do nevoeiro da serra, reforçam ainda mais as características europeias.

12 Hoje, Gramado está comemorando 57 anos, ..... pelo desenvolvimento de seus  
 13 empreendimentos, de seu povo e, principalmente, do setor turístico. O município foi criado pela Lei 2.522  
 14 em 15 de dezembro de 1954, após ser emancipado da cidade de Taquara. Mais tarde, receberia o título de  
 15 Cidade Jardim das Hortênsias, devido à beleza de sua vegetação nas entradas da cidade e ao capricho dos  
 16 moradores em seus jardins.

17 O cultivo dessas plantas, então, deu origem à primeira grande festa do município: a Festa das  
 18 Hortênsias, que foi o marco inicial para a realização de outros volumosos eventos como o Natal Luz. O  
 19 Festival de Cinema, que foi um dos impulsionadores do segmento turístico, inseriu Gramado no circuito  
 20 nacional na produção de eventos. Hoje o Natal Luz, o próprio Festival de Cinema, a Festa da Colônia, o  
 21 Gramado Fantasia, o Gramado Aleluia – Chocofest são exemplos de que o município tem no sangue o  
 22 cunho turístico.

23 Para aqueles que buscam momentos de lazer e entretenimento, Gramado é uma excelente alternativa.  
 24 Em frente ao Palácio dos Festivais, a Rua Coberta é um local charmoso com bares e restaurantes e serve  
 25 também como palco de grandes eventos culturais e turísticos da cidade, a qual oferece atrativos para todas  
 26 as idades o ano inteiro. Outra dica: quem quiser conhecer um pouco mais da história de Gramado pode  
 27 optar por um belo passeio pelo interior do município. O agroturismo, no qual as origens de Gramado e a  
 28 preservação ambiental são destaques, está em evidência.

29 Gramado foi escolhida pelo governo federal como um dos “65 Destinos Indutores do  
 30 Desenvolvimento Turístico” no país. No Rio Grande do Sul, Porto Alegre, Bento Gonçalves e Gramado  
 31 fazem parte do seletto grupo de cidades do Brasil que ..... de forma prioritária investimentos  
 32 financeiros e técnicos do Ministério do Turismo. O município foi selecionado por possuir infraestrutura  
 33 básica e turística, além de ter atrativos qualificados e ser um núcleo receptor e distribuidor de fluxos  
 34 turísticos.

(FONTE: <http://www.olaserragaucha.com.br/noticias/geral/16391/Gramado-um-pedacinho-da-Europa-em-solo-gaucha-completa-57-anos.html> Publicada em 12/12/2011 – texto adaptado)

**QUESTÃO 01** – As lacunas das linhas 05, 12 e 31 devem ser completadas, correta e respectivamente, por

- A) havia – marcados – receberá
- B) haviam – marcada – receberão
- C) havia – marcadas – recebem
- D) haviam – marcada – receberam
- E) haviam – marcado – recebeu

**QUESTÃO 02** – Assinale V (verdadeiro) ou F (falso) nas seguintes afirmações sobre Gramado.

- ( ) O título e o primeiro período do texto afirmam que é uma cidade bem pequena.
- ( ) Por ter sido colonizada por imigrantes portugueses, italianos e alemães, pode-se depreender que sua população tenha traços físicos de europeus.
- ( ) O clima e a paisagem, bem como a arquitetura e a gastronomia, contribuem para que pareça uma cidade estrangeira no sul do Brasil.
- ( ) Como possui atrações para turistas de todas as idades e infraestrutura para recebê-los bem, foi escolhida para ser visitada pelo governo federal.

A ordem correta das respostas, de cima para baixo, é:

- A) V – V – V – V.
- B) V – V – F – F.
- C) F – V – V – F.
- D) F – F – V – V.
- E) F – V – F – V.

**QUESTÃO 03** – Sobre as ocorrências do sinal indicador de crase, no texto, foram feitas as seguintes considerações.

- I. Na linha 03, pode-se substituir **para a** por **à**.
- II. Na linha 04, pode-se modificar **à Serra** por **até a Serra**.
- III. Na linha 07, pode-se alterar **deu-se início à** para **iniciou a**.

Quais manteriam a correção gramatical do texto?

- A) Apenas I.
- B) Apenas I e II.
- C) Apenas I e III.
- D) Apenas II e III.
- E) I, II e III.

**QUESTÃO 04** – Qual dos seguintes vocábulos está sendo usado, no texto, em sentido figurado?

- A) espaço (linha 01).
- B) berço (linha 03).
- C) capricho (linha 15).
- D) interior (linha 27).
- E) atrativos (linha 33).

**QUESTÃO 05** – Para aqueles que buscam momentos de lazer e entretenimento, Gramado é uma excelente alternativa. (linha 23)

Assinale a alternativa que apresenta uma opção de reescrita do período acima, sem prejuízos à correção gramatical e ao sentido.

- A) Gramado é uma excelente alternativa para quem buscam momentos de lazer e entretenimento.
- B) Gramado, para os que buscam momentos de lazer e entretenimento, é uma excelente alternativa.
- C) Para aqueles que buscam ter lazer e se enterter, Gramado é uma excelente alternativa.
- D) Para aqueles que buscam Gramado, uma excelente alternativa é ter momentos de lazer e entretenimento.
- E) Gramado é uma excelente alternativa de lazer e entretenimento buscada para aqueles.

**QUESTÃO 06** – Todas as alternativas a seguir apresentam sinônimos para **repouso** (linha 01), **impulsionadores** (linha 19) e **seleto** (linha 31), respectivamente, adequados ao texto, EXCETO:

- A) alívio – tensionadores – único.
- B) sossego – estimuladores – distinto.
- C) parada – promotores – selecionado.
- D) descanso – fomentadores – excelente.
- E) pausa – incrementadores – importante.

**QUESTÃO 07** – Se o segmento **As paisagens** (linha 10) for substituído por **O cenário**, quantas outras palavras, em toda a frase, deverão ser flexionadas para fins de concordância?

- A) Duas.
- B) Três.
- C) Quatro.
- D) Cinco.
- E) Seis.

**QUESTÃO 08** – Qual dos vocábulos a seguir, retirados do texto, apresenta mais fonemas do que letras?

- A) pequeno.
- B) travessia.
- C) pássaros.
- D) capricho.
- E) fluxos.

**QUESTÃO 09** – Em todas as ocorrências a seguir, a palavra **que** retoma um segmento – termo ou expressão – do texto, EXCETO:

- A) **que** essa foi a origem do nome (linhas 02 e 03).
- B) **que** hoje (linha 03).
- C) **que** inspirava (linha 05).
- D) **que** foi o marco (linha 18).
- E) **que** foi um dos impulsionadores (linha 19).

**QUESTÃO 10** – Analise as seguintes considerações acerca de alguns nexos do texto.

- I. **porém** (linha 04) introduz uma informação contrastante com a anterior.
- II. **em vista disso** (linha 09) indica causa.
- III. **então** (linha 17) é um nexo conclusivo e pode ser substituído por **portanto**.

Quais estão corretas?

- A) Apenas I.
- B) Apenas II.
- C) Apenas I e II.
- D) Apenas II e III.
- E) I, II e III.

**QUESTÃO 11** – Assinale a alternativa em que os dois vocábulos, retirados do texto, são formados por composição.

- A) Gramado – volumosos
- B) tropeiros – italianos
- C) colonizadores – silvestre
- D) gastronomia – agroturismo
- E) serranas – moradores

**QUESTÃO 12** – Assinale a alternativa INCORRETA acerca do emprego de vírgulas no texto.

- A) A primeira vírgula da linha 01, por ser opcional, pode ser suprimida sem ocasionar problema estrutural ao texto.
- B) A vírgula da linha 03 antecede um segmento que explicará algo sobre o vocábulo **cidade**.
- C) A vírgula após **Festa das Hortênsias** (linhas 17 e 18) introduz uma oração de caráter explicativo.
- D) As vírgulas da linhas 20 e 21 separam termos que desempenham a mesma função sintática.
- E) Se houvesse vírgula após **Gramado** (linha 29), ocorreria um problema de fragmentação da frase.

**INFORMÁTICA**

Para a resolução das questões desta prova, considere os seguintes detalhes: (1) o mouse está configurado para uma pessoa que o utiliza com a mão direita (destro) e usa, com maior frequência, o botão esquerdo, que possui as funcionalidades de seleção ou de arrastar normal, entre outras. O botão da direita serve para ativar o menu de contexto ou de arrastar especial; (2) os botões do mouse estão devidamente configurados com a velocidade de duplo clique; (3) os programas utilizados nesta prova foram instalados com todas as suas configurações padrão, entretanto, caso tenham sido realizadas alterações que impactem a resolução da questão, elas serão alertadas no texto da questão ou mostradas visualmente, se necessário; (4) no enunciado e nas respostas de algumas questões existe(m) letra(s), abreviatura(s), acrônimo(s), fórmula(s), palavra(s) ou texto(s) que foram digitados entre aspas, apenas para destacá-los. Neste caso, para resolver as questões, desconsidere tais aspas e atente somente para a(s) letra(s), abreviatura(s), acrônimo(s), fórmula(s), palavra(s) ou o(s) texto(s) propriamente ditos; e (5) para resolver as questões desta prova considere, apenas, os recursos disponibilizados para os candidatos, tais como essas orientações, os textos introdutórios das questões, normalmente disponibilizados antes das Figuras, os enunciados propriamente ditos e os dados e informações disponíveis nas Figuras das questões, se houver.

A questão 13 baseia-se nas Figura 1(a) e 1(b), do Windows 7 Starter. A Figura 1(a) mostra, intencionalmente, apenas parte de uma janela do Painel de Controle. A Figura 1(b) mostra, também, intencionalmente, apenas parte de uma janela do Windows 7 Starter, ativada a partir da Figura 1(a).

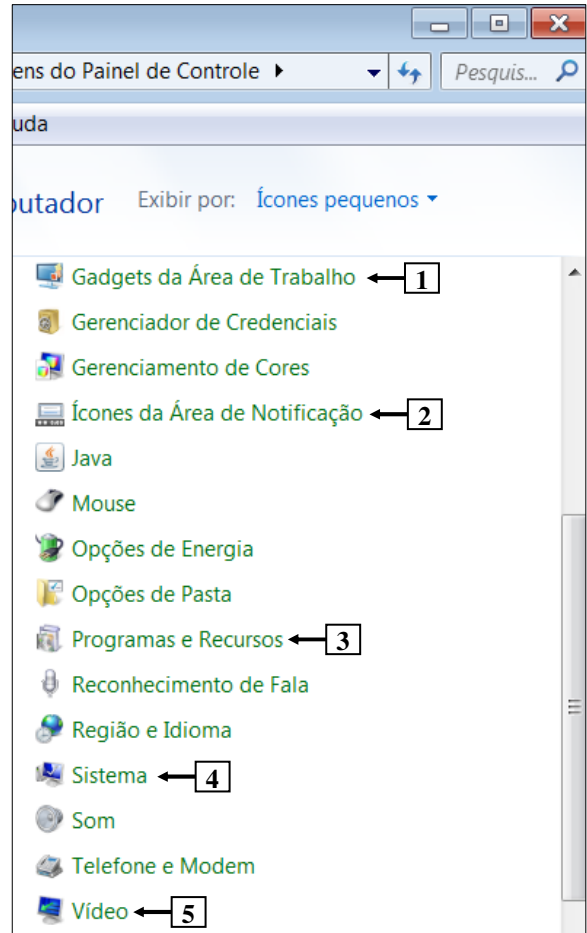


Figura 1(a) - Janela do Painel de Controle

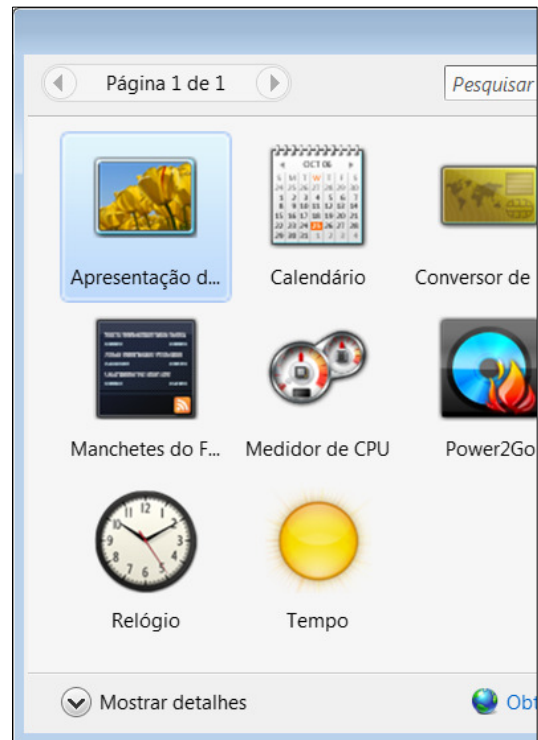


Figura 1(b) - Janela do Windows 7 Starter

**QUESTÃO 13** – Para que fosse exibida a Figura 1(b), do Windows 7 Starter, bastou, antes, na Figura 1(a), dar um clique, com o botão esquerdo do mouse, sobre o item do Painel de Controle apontado pela seta nº

- A) 1.
- B) 2.
- C) 3.
- D) 4.
- E) 5.

A questão 14 baseia-se na Figura 2, que mostra a janela principal do BrOffice Writer 3.2, na qual se observam os seguintes detalhes: (1) a seta nº 1 aponta para o ponto de inserção de texto, no formato de uma barra vertical (" | "); e (2) a seta nº 2 aponta para o cursor do mouse, no formato de um "I", posicionado à esquerda da palavra "Um".

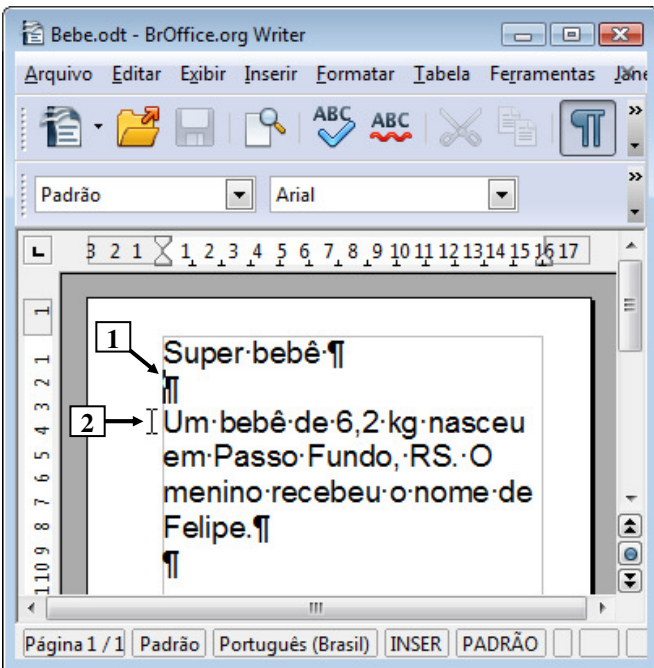
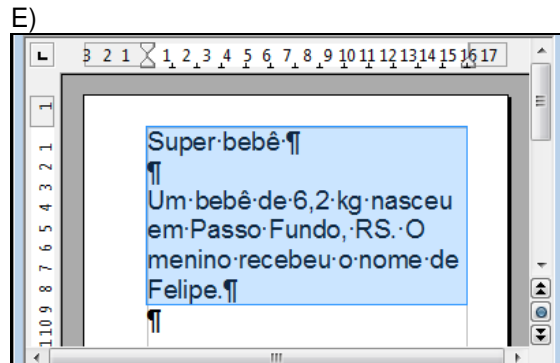
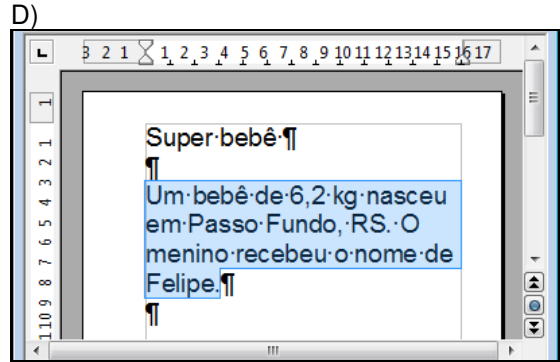
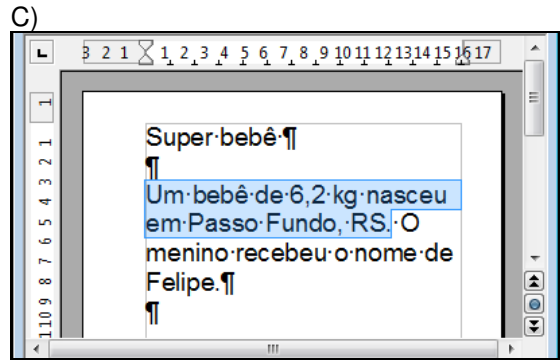
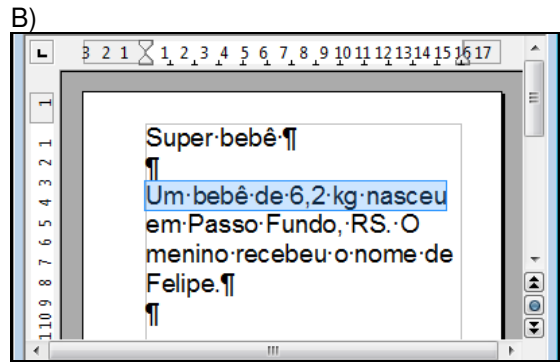
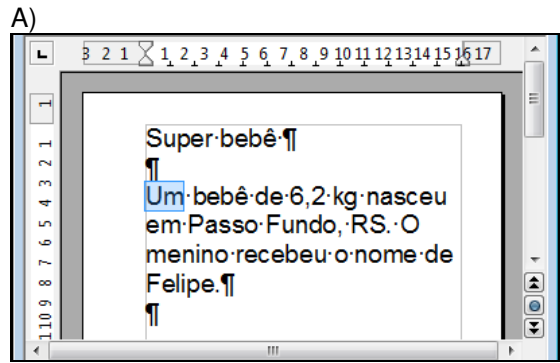


Figura 2 - Janela principal do BrOffice Writer 3.2

**QUESTÃO 14** – A Figura 2 mostra um documento elaborado no BrOffice Writer 3.2, onde o ponto de inserção de texto, no formato de uma barra vertical ("|"), encontra-se apontado pela seta nº 1, e o cursor do mouse, no formato de um "I", está posicionado à esquerda da palavra "Um", no local apontado pela seta nº 2. Nesse caso, dando-se um duplo clique, sobre o botão esquerdo do mouse, a área de trabalho, desse editor de texto, será mostrada da seguinte forma:



A questão 15 baseia-se na Figura 3, que mostra a janela principal do BrOffice Writer 3.2, na qual se selecionou o texto apontado pela seta nº 1. Nessa Figura, está sendo exibida a imagem apontada pela seta nº 2. Nas alternativas dessa questão, estão sendo exibidas, intencionalmente, apenas parte de caixas de diálogos do BrOffice Writer 3.2.

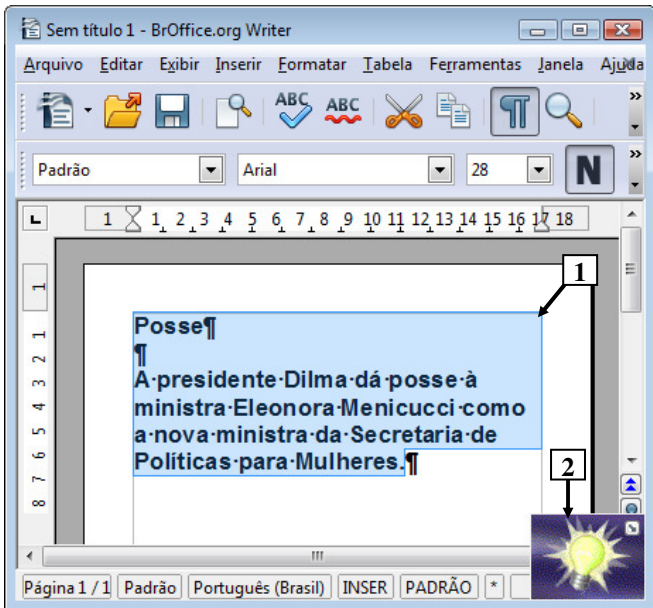
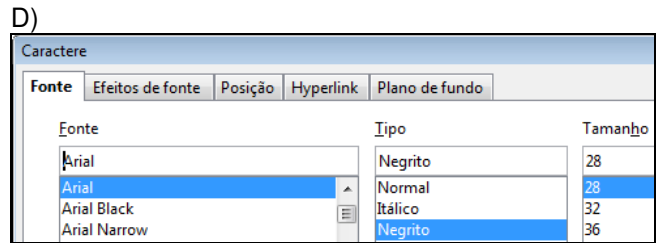
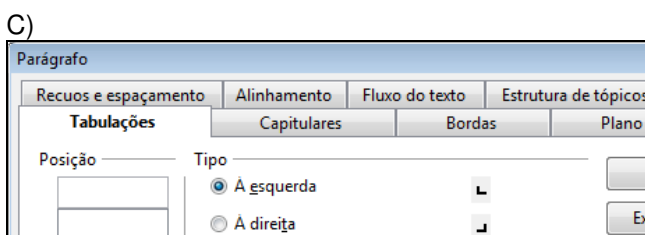
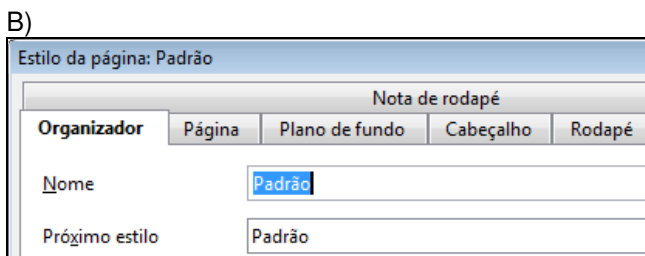
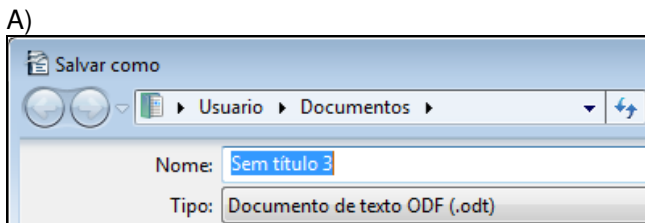


Figura 3 - Janela principal do BrOffice Writer 3.2

**QUESTÃO 15** – Na Figura 3, do BrOffice Writer 3.2, dando-se um clique, com o botão esquerdo do mouse, sobre a imagem apontada pela seta nº 2, pode-se afirmar que será exibida a seguinte caixa de diálogo:



A questão 16 baseia-se nas Figura 4(a), 4(b) e 4(c). A Figura 4(a) mostra a janela principal do BrOffice Writer 3.2. A Figura 4(b) exibe um menu, do BrOffice Writer 3.2, ativado a partir da Figura 4(a). A Figura 4(c) mostra a janela principal do BrOffice Calc 3.2.

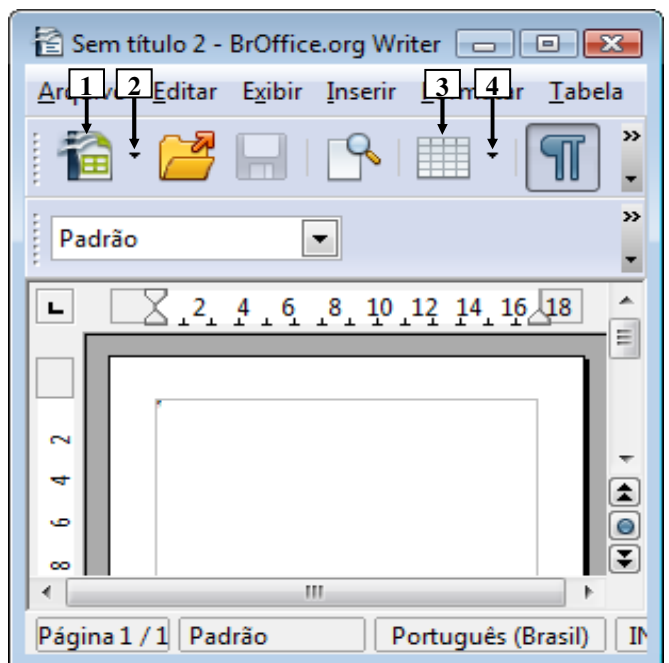


Figura 4(a) - Janela principal do BrOffice Writer 3.2

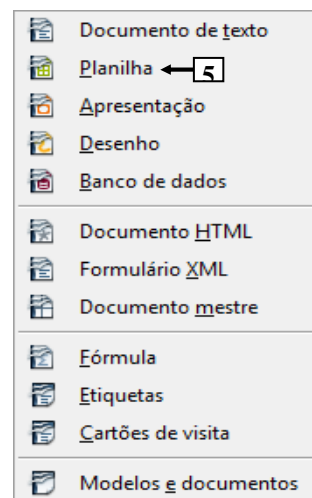


Figura 4(b) - Menu do BrOffice Writer 3.2

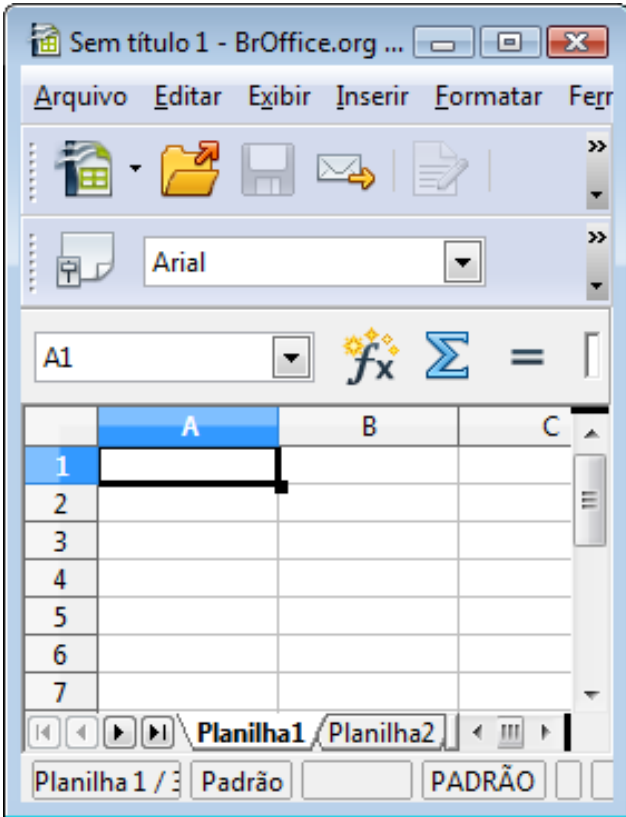


Figura 4(c) - Janela principal do BrOffice Calc 3.2

**QUESTÃO 16** – Para que passasse a ser exibida a janela principal do BrOffice Calc 3.2, mostrada na Figura 4(c), bastou, antes, na Figura 4(a):

- I. Dar um clique, com o botão esquerdo do mouse, sobre o ícone apontado pela seta nº 1.
- II. Dar um clique, com o botão esquerdo do mouse, sobre o local apontado pela seta nº 2 e, ao ser mostrado o menu da Figura 4(b), dar outro clique, com o botão esquerdo do mouse, sobre o item de menu apontado pela seta nº 5.
- III. Dar um clique, com o botão esquerdo do mouse, sobre o ícone apontado pela seta nº 3.
- IV. Dar um clique, com o botão esquerdo do mouse, sobre o local apontado pela seta nº 4 e, ao ser mostrado o menu da Figura 4(b), dar outro clique, com o botão esquerdo do mouse, sobre o item de menu apontado pela seta nº 5.

Quais estão corretas?

- A) Apenas II.
- B) Apenas I e II.
- C) Apenas III e IV.
- D) Apenas I, III e IV.
- E) I, II, III e IV.

A questão 17 baseia-se na Figura 5, que mostra, intencionalmente, apenas parte da janela principal do Internet Explorer 9. Nessa Figura, está sendo exibida uma página eletrônica e o menu apontado pela seta nº 7.




Figura 5 - Janela principal do Internet Explorer 9

**QUESTÃO 17** – Na Figura 5, do Internet Explorer 9, dando-se um clique, com o botão esquerdo do mouse, sobre o ícone apontado pela seta nº 1, pode-se afirmar que será exibida a página eletrônica apontada pela seta nº

- A) 2.
- B) 3.
- C) 4.
- D) 5.
- E) 6.

**ATUALIDADES**

**QUESTÃO 18** – O conjunto das rebeliões no Norte da África, que, desde janeiro de 2011 vem derrubando governos ditatoriais, é denominado de

- A) Articulação democrática.
- B) Primavera árabe.
- C) Rebeliões populares.
- D) Mobilização juvenil.
- E) Redes revolucionárias.

**QUESTÃO 19** – Observe a charge abaixo, de Marco Aurélio, publicada em Zero Hora de 28/01/2012:



Ela satiriza:

- A) O derramamento de óleo no litoral do Rio Grande do Sul.
- B) O aumento dos índices de CO<sup>2</sup> no litoral sul do Brasil.
- C) O vazamento de Petróleo na Baía de Santos.
- D) Os perigos com a exposição ao sol durante o verão.
- E) O crescimento do buraco na camada de ozônio no hemisfério sul.

**QUESTÃO 20** – Entre os dias 05 e 09 de fevereiro último, o jornal Zero Hora publicou uma série de reportagens sobre os países europeus que vivem de forma mais dramática os efeitos da crise econômica que assola o continente. A série de reportagens teve início com um retrato do cotidiano do primeiro país europeu a ser atingido pela crise que teve início em 2008 nos Estados Unidos e que hoje provoca sérios efeitos na zona do euro.

Que país é esse?

- A) Portugal.
- B) Espanha.
- C) Irlanda.
- D) Grécia.
- E) Itália.

**QUESTÃO 21** – Foram acontecimentos que marcaram o Mundo em 2011, EXCETO:

- A) Cristina Kirchner é reeleita Presidente da Argentina.
- B) Os Estados Unidos aumentam restrições para concessão de visto de entrada no país a brasileiros.
- C) Barak Obama anunciou a captura e morte de Osama Bin Laden.
- D) Um terremoto seguido por tsunami destruiu parte do território japonês.
- E) O mundo ultrapassou a marca dos 7 bilhões de habitantes.

**QUESTÃO 22** – O que as cidades de Fortaleza, Cuiabá, Curitiba e Porto Alegre possuem em comum?

- A) São cidades portuárias, localizadas na região centro-oeste.
- B) São as cidades com as maiores taxas de mortalidade infantil do Brasil.
- C) São cidades onde há a predominância do clima subtropical.
- D) São cidades sedes da Copa do Mundo de 2014.
- E) São as cidades com as maiores taxas de densidade demográfica do país.

**QUESTÃO 23** – 2012 é ano eleitoral no Brasil, nesse ano os brasileiros irão às urnas para eleger seus representantes aos seguintes cargos:

- I. Prefeitos.
- II. Vereadores.
- III. Governadores.
- IV. Senadores.
- V. Deputados Federais e Estaduais.

Quais estão corretas?

- A) Apenas I e II.
- B) Apenas III e IV.
- C) Apenas IV e V.
- D) Apenas I, II e III.
- E) Apenas III, IV e V.



**LEGISLAÇÃO**

**QUESTÃO 24** – O Vale-Transporte, instituído pela Lei Municipal nº 2.917/2011 e sua alteração posterior, é concedido pelo Município de Gramado aos servidores públicos municipais, para deslocamento de suas residências para os locais de trabalho e vice-versa, através do sistema de transporte coletivo municipal, intermunicipal e interestadual.

Segundo aquelas disposições legais, **o Vale-Transporte será custeado pelo servidor, na parcela equivalente a \_\_\_\_\_ de seu vencimento básico, excluídos quaisquer adicionais ou vantagens.**

Marque a alternativa que completa corretamente a lacuna do trecho acima.

- A) 5% (cinco por cento)
- B) 6% (seis por cento)
- C) 7% (sete por cento)
- D) 8% (oito por cento)
- E) 9% (nove por cento)

**A Lei Municipal nº 2.912 de 06.05.2011 e sua alteração posterior através da Lei Municipal nº 2.983 de 27.12.2011 dispõem sobre o Regime Jurídico dos Servidores Públicos do Município de Gramado.**

**Assim, com base nas disposições contidas nesse regime, responda às questões de nº 25 a 30.**

**QUESTÃO 25** – Com base nesse regime, assinale V (verdadeiro) ou F (falso) para as assertivas que seguem:

- ( ) Servidor público é a pessoa legalmente investida em cargo público.
- ( ) Cargo público é o criado em Lei, em número certo, com denominação própria e com vencimento padronizado, remunerado pelos cofres municipais, ao qual corresponde um conjunto de atribuições e responsabilidades cometidas ao servidor público.
- ( ) Os cargos públicos serão de provimento efetivo ou em comissão.
- ( ) A investidura em cargo público, como regra geral, depende de aprovação prévia em processo seletivo através de testes psicológicos.
- ( ) Somente poderão ser criados cargos em comissão de provimento em comissão para atender encargos de assessoramento.

A ordem correta de preenchimento dos parênteses, de cima para baixo, é:

- A) V – V – V – F – F.
- B) F – V – V – F – V.
- C) V – V – F – F – V.
- D) V – F – V – V – F.
- E) F – V – F – V – V.

**QUESTÃO 26** – A vacância do cargo público municipal decorrerá de uma das hipóteses previstas no artigo nº 31 da referida Lei. Dentre as hipóteses arroladas naquele artigo está, EXCETO:

- A) Recondução.
- B) Demissão.
- C) Exoneração.
- D) Ascensão.
- E) Readaptação.

**QUESTÃO 27** – Entre as gratificações e adicionais dos servidores municipais, segundo a seção que trata das Gratificações e Adicionais na referida Lei Municipal, estão:

- I. O adicional pelo tempo de serviço.
- II. O adicional de dedicação integral.
- III. O adicional noturno.
- IV. A gratificação semestral.

Quais estão corretas?

- A) Apenas I.
- B) Apenas I e III.
- C) Apenas II e III.
- D) Apenas I, II e III.
- E) I, II, III e IV.

**QUESTÃO 28** – Segundo o artigo nº 19 da referida Lei, *“Ao entrar em exercício, o servidor nomeado para cargo de provimento efetivo ficará sujeito a estágio probatório por período de 36 (trinta e seis) meses, durante o qual sua aptidão, capacidade e desempenho serão objeto de avaliação pela Comissão Permanente de Gestão da Qualidade (CPGQ), com vista à obtenção da estabilidade...”*

Dentre os quesitos de avaliação previstos naquele artigo estão, EXCETO:

- A) Autodesenvolvimento.
- B) Assiduidade.
- C) Disciplina.
- D) Pontualidade.
- E) Responsabilidade.

**QUESTÃO 29** – O parágrafo primeiro do artigo nº 82 da referida Lei define que “**Os servidores que executam atividades perigosas fazem jus a um adicional no percentual de sobre o valor do vencimento de seu cargo.**”

Marque a alternativa que completa corretamente a lacuna do trecho acima.

- A) dez por cento (10%)
- B) vinte por cento (20%)
- C) trinta por cento (30%)
- D) quarenta por cento (40%)
- E) cinquenta por cento (50%)

**QUESTÃO 30** – O artigo nº 112 da referida Lei, define os casos de concessões em que o servidor poderá ausentar-se ao serviço sem qualquer prejuízo. Com base naquelas definições, associe os prazos arrolados na coluna 1 com os motivos das ausências apontadas na coluna 2.

**Coluna 1**

- 1. Por um dia, a cada ano.
- 2. Até dois dias consecutivos.
- 3. Até cinco dias consecutivos.

**Coluna 2**

- ( ) Por motivo de falecimento de tios e avós.
- ( ) Por motivo de casamento civil.
- ( ) Por motivo de doação de sangue.
- ( ) Por motivo de falecimento do cônjuge, companheiro, pais, padrasto e madrasta.
- ( ) Por motivo de falecimento de filhos ou enteados e irmãos.

A ordem correta de preenchimento dos parênteses, de cima para baixo, é:

- A) 2 – 1 – 1 – 3 – 3.
- B) 3 – 3 – 1 – 2 – 1.
- C) 2 – 1 – 3 – 3 – 2.
- D) 1 – 2 – 3 – 1 – 2.
- E) 2 – 3 – 1 – 3 – 3.

**CONHECIMENTOS ESPECÍFICOS**

**QUESTÃO 31** – Da mistura de cores primárias, segundo Newton (amarelo, azul e vermelho), surgem as secundárias e destas as terciárias que complementares entre si são

- A) Azul Turquesa e Verde Limão, Abóbora e Púrpura, Amarelo Ouro e Azul.
- B) Azul Turquesa e Púrpura, Abóbora e Verde Limão, Amarelo e Azul Anil.
- C) Azul Turquesa e Púrpura, Abóbora e Amarelo Ouro, Verde e Azul Anil.
- D) Azul Turquesa e Abóbora, Verde Limão e Púrpura, Amarelo Ouro e Azul Anil.
- E) Azul Turquesa e Amarelo Ouro, Verde Limão e Púrpura, Abóbora e Azul Anil.

**QUESTÃO 32** – Entre as formas do Cubo, Cilindro e Esfera qual(is) proporcionam a possibilidade de maior volume com menor superfície?

- A) Cubo.
- B) Cilindro.
- C) Esfera.
- D) Cubo e Cilindro.
- E) Cilindro e Esfera.

**QUESTÃO 33** – Para fabricar o cabo de tesouras em plástico é utilizada a tecnologia de

- A) Anti-fusão.
- B) Prospecção.
- C) Injeção.
- D) Termo-erosão.
- E) Extrusão.

**QUESTÃO 34** – Identifique a bitola ou diâmetro adequado e correspondente, entre polegadas e milímetros, para barras de ferro CA50.

- A) 2" = 40,3 mm.
- B) 1" = 23,0 mm.
- C) 1/2" = 12,7 mm.
- D) 1/4" = 6,0 mm.
- E) 1/16" = 2,9 mm.

**QUESTÃO 35** – A variação na espessura dos traços de desenho (fino, médio e grosso) é utilizada para representar respectivamente

- A) medidas e cotas; elementos intermediários; superfícies cortadas.
- B) paredes; elementos de fundo; elementos em corte.
- C) medidas; elementos em corte; texturas.
- D) texturas; elementos em corte.
- E) superfícies cortadas; elementos intermediários; medidas e cotas.

**QUESTÃO 36** – Tensão de compressão é a

- A) força obtida da divisão da superfície em área.
- B) superfície distribuída na força.
- C) superfície dividida e decomposta por forças.
- D) força obtida da multiplicação da área.
- E) força aplicada e distribuída na superfície.

**QUESTÃO 37** – No programa de desenho AutoCAD, da Autodesk, as ferramentas com função de aparar, faca ou Cortar e Stretch, alongar ou estender

- A) só existiram a partir da versão 2012.
- B) existem desde a versão R11.
- C) são denominações para um comando só.
- D) são denominações para dois comandos diferentes.
- E) são comandos que não existem no Autocad.

**QUESTÃO 38** – Assinale V, se verdadeiro, ou F, se falso para as afirmações abaixo referentes aos conhecimentos em Desenho Assistido por Computador – CAD:

- ( ) Agilizam o trabalho do designer.
- ( ) Aumentam os custos interferindo no preço do desenho.
- ( ) Inviabilizam a produção artística ou criativa do designer.

A ordem correta de preenchimento dos parênteses, de cima para baixo, é:

- A) V – V – V.
- B) V – F – F.
- C) F – V – F.
- D) F – F – V.
- E) F – F – F.

**QUESTÃO 39** – Assinale V, se verdadeiro, ou F, se falso, para as afirmações abaixo referente ao programa 3D Studio Max:

- ( ) O programa de desenho 3ds Max (anteriormente conhecido como 3D **Studio Max**) é um programa para modelagem tridimensional que permite renderização de imagens e animações.
- ( ) É possível visualizar uma prévia dos movimentos de uma animação ao teclar interrogação.
- ( ) Para diminuir a intensidade de iluminação em um objeto basta trocar o parâmetro multiply de 1 para 0,6.

A ordem correta de preenchimento dos parênteses, de cima para baixo, é:

- A) V – V – V.
- B) V – V – F.
- C) F – V – V.
- D) V – F – V.
- E) F – F – F.

**QUESTÃO 40** – Assinale V, se verdadeiro, ou F, se falso, para as afirmações abaixo:

- ( ) A madeira de **Pinho do Paraná** - Araucária angustifolia (Bert.) O. Ktze para ser utilizada de modo sustentável deve ser produzida de forma artesanal extrativista.
- ( ) Sustentabilidade é um conceito extrassistêmico, relacionado com a descontinuidade dos aspectos econômicos, sociais, culturais e ambientais da sociedade humana.
- ( ) O consumismo desmedido e acelerado viabiliza a sustentabilidade.

A ordem correta de preenchimento dos parênteses, de cima para baixo, é:

- A) V – V – V.
- B) V – V – F.
- C) V – F – V.
- D) F – V – V.
- E) F – F – F.