





## LÍNGUA PORTUGUESA

Leia o texto abaixo para responder às questões de 1 a 5.

### A Lei e o Comportamento Humano

A legislação é um produto social que pretende regular não só condutas individuais como também relações sociais. No trânsito, espera-se que os motoristas conheçam e respeitem as leis de trânsito, que pedestres se comportem dentro de padrões esperados, que as sinalizações funcionem e auxiliem as relações entre pedestres e motoristas.

No entanto, a lei está situada no nível social. No nível individual, os comportamentos das pessoas manifestam-se de forma a se aproximar ou se afastar das normas sociais, facilitando ou dificultando as interações entre pedestres, motoristas e agentes fiscalizadores. Ainda que o comportamento individual seja engendrado a partir das práticas sociais dos grupos nos quais o indivíduo está inserido, é possível encontrar diferentes comportamentos e expectativas dentro de grupos aparentemente homogêneos. Espera-se, do ponto de vista social, que indivíduos que cumprem a lei contribuam para um trânsito mais harmônico; espera-se que os indivíduos respeitem *a priori* todos os pressupostos que nortearam as análises técnicas que resultaram em padronização de comportamentos. Espera-se que os indivíduos, por exemplo, respeitem os limites de velocidade, uma vez que estudos técnicos foram realizados e orientaram as decisões contidas na legislação.

É possível identificar que uma parcela do conhecimento perito é utilizada pela legislação de trânsito ao definir limites de velocidade para determinadas vias. Ao mesmo tempo, destaca-se a importância exercida pela confiança nesses sistemas peritos, de modo que a legislação aparece como um mediador importante nos comportamentos sociais ao estabelecer normas que permitem uma convivência mais harmônica.

Fonte: [http://pepsic.bvsalud.org/scielo.php?pid=S1414-98932007001200013&script=sci\\_arttext](http://pepsic.bvsalud.org/scielo.php?pid=S1414-98932007001200013&script=sci_arttext). Adaptado.

1. De acordo com o texto, analise as assertivas abaixo.
  - I. A legislação é o resultado de análises técnicas que visam à ocorrência de um trânsito mais harmônico, por meio da padronização de comportamentos.
  - II. As sinalizações têm a função de auxiliar as relações entre pedestres e motoristas, contribuindo para um trânsito mais harmônico.
  - III. As decisões contidas na legislação não são fruto de estudo e análise de situações, são decisões acidentais.

É correto o que se afirma em

- (A) I, apenas.
- (B) II e III, apenas.
- (C) I e II, apenas.
- (D) II, apenas.
- (E) III, apenas.

2. Leia o trecho abaixo, retirado do segundo parágrafo, e, em seguida, assinale a alternativa que **não** apresenta um sinônimo do vocábulo destacado.

“No nível individual, os comportamentos das pessoas **manifestam-se** de forma a se aproximar ou se afastar das normas sociais.”

- (A) Revelam-se.
- (B) Mostram-se.
- (C) Despontam.
- (D) Simulam.
- (E) Surgem.

3. De acordo com a norma-padrão da Língua Portuguesa e em relação à classe das palavras, assinale a alternativa cujos vocábulos destacados apresentam, respectivamente, a mesma classificação das palavras destacadas na frase abaixo.

A **legislação** é um produto **social**.

- (A) O **homem** é um animal **racional**.
- (B) As crianças **pequenas** adoram brincar **no parque**.
- (C) É **melhor** amar que ser **amado**.
- (D) **Hoje amanheceu** chovendo.
- (E) **Amanhã, tudo** será diferente.

4. De acordo com a norma-padrão da Língua Portuguesa e em relação à acentuação, assinale a alternativa cujo par de palavras seja acentuado, obedecendo à mesma regra do vocábulo “**homogêneo**”.

- (A) Ambulância/ saía.
- (B) Violência/ convivência.
- (C) Errôneo/ fútil.
- (D) Saúde/ cômico.
- (E) Hipopótamo/ arquipélago.

5. Assinale a alternativa cuja conjunção **não** substitui adequadamente o conectivo grifado no período abaixo, prejudicando a informação.

Espera-se que os indivíduos, por exemplo, respeitem os limites de velocidade, uma vez que estudos técnicos foram realizados e orientaram as decisões contidas na legislação.

- (A) Visto que.
- (B) Já que.
- (C) Porque.
- (D) Apesar de que.
- (E) Pois.

6. As alternativas abaixo apresentam um trecho adaptado do site <http://www.dprf.gov.br/PortalInternet/leiSeca.faces>. De acordo com a norma-padrão da Língua Portuguesa e em relação à pontuação, assinale a alternativa correta.

- (A) Com o conceito – Dirigir, alcoolizado é crime e pode dar cadeia –, a campanha tem envergadura nacional e inclui ações promocionais em quatro capitais: São Paulo, Brasília, Belo Horizonte e Florianópolis.
- (B) Com o conceito – Dirigir alcoolizado é crime e pode dar cadeia –, a campanha, tem envergadura nacional e inclui ações promocionais em quatro capitais: São Paulo Brasília, Belo Horizonte e Florianópolis.
- (C) Com o conceito – Dirigir alcoolizado é crime e pode dar cadeia –, a campanha tem envergadura nacional e inclui ações promocionais em quatro capitais: São Paulo, Brasília, Belo Horizonte e Florianópolis.
- (D) Com o conceito – Dirigir alcoolizado é crime e pode dar cadeia –, a campanha tem, envergadura nacional e inclui, ações promocionais em quatro capitais: São Paulo, Brasília Belo Horizonte e Florianópolis.
- (E) Com o conceito – Dirigir, alcoolizado, é crime e pode dar cadeia –, a campanha tem envergadura nacional e inclui, ações promocionais em quatro capitais: São Paulo, Brasília, Belo Horizonte e Florianópolis.

7. Leia o trecho abaixo e, em seguida, assinale a alternativa que completa correta e respectivamente as lacunas do período abaixo.

Não \_\_\_\_\_ como evitar \_\_\_\_\_ reclamações quanto \_\_\_\_\_ falta de pagamento na data prevista.

- (A) há/ as/ à
- (B) á/ às/ a
- (C) há/ às/ a
- (D) à/ as/ à
- (E) á/ as/ há

8. De acordo com a norma-padrão da Língua Portuguesa e em relação à ortografia, assinale a alternativa **incorreta**.

- (A) Apesar do atraso, não houve reclamação.
- (B) Chegou sedo ao encontro e sua amada não apareceu.
- (C) Todos ficaram muito assustados com o resultado da pesquisa.
- (D) Os açudes são muros de pedra que servem para reter, elevar e desviar a água dos rios.
- (E) Sempre que vou a um restaurante de frutos do mar, peço polvo e caranguejo.

9. De acordo com a norma-padrão da Língua Portuguesa e em relação à concordância verbal, assinale a alternativa correta.

- (A) A gente gostamos muito de reunião de família.
- (B) A multidão agitaram as bandeiras no estádio.
- (C) Metade dos alunos viajaram para Cancun.
- (D) Fui eu que convenceu a equipe para participar do torneio.
- (E) Eu e meu irmão foi ao concerto de música.

10. De acordo com a norma-padrão da Língua Portuguesa e em relação à regência verbal, assinale a alternativa **incorreta**.

- (A) Mário, todas as manhãs, banhava-se no rio.
- (B) Samuel convidou os amigos para a festa.
- (C) Virgínia desmontou no cavalo e foi a pé para a fazenda.
- (D) Carmen consertou todas as suas roupas.
- (E) O motorista estacionou o carro no meio-fio.

### MATEMÁTICA/ RACIOCÍNIO LÓGICO

11. Se um número natural somado com sua metade é igual a 102, então, o triplo desse número é

- (A) 100.
- (B) 124.
- (C) 132.
- (D) 196.
- (E) 204.

12. A área total de um cubo de aresta medindo 50mm é

- (A) 2.500mm<sup>2</sup>.
- (B) 5.000mm<sup>2</sup>.
- (C) 15.000mm<sup>2</sup>.
- (D) 75.000mm<sup>2</sup>.
- (E) 125.000mm<sup>2</sup>.

13. Em um cofre, há 35 notas de R\$20,00, 48 notas de R\$50,00, 23 notas de R\$100,00 e 128 moedas de R\$0,50. Portanto, neste cofre, há
- (A) R\$3.468,00.  
 (B) R\$5.464,00.  
 (C) R\$5.528,00.  
 (D) R\$6.464,00.  
 (E) R\$6.528,00.


14. Quatro amigos, Paulo, Ricardo, Samuel e Tales, foram a uma casa noturna e, na hora de pagar, apenas um deles tinha cartão de crédito. Observe o diálogo:
- Paulo disse: Eu não tenho cartão de crédito.  
 Ricardo disse: Foi Samuel quem trouxe o cartão de crédito.  
 Samuel disse: Tales é quem trouxe o cartão.  
 Tales: Ricardo não sabe o que fala.
- Sabendo que apenas um deles mentiu, então, é correto afirmar que
- (A) Paulo tinha cartão de crédito.  
 (B) Ricardo tinha cartão de crédito.  
 (C) Samuel tinha cartão de crédito.  
 (D) Tales tinha cartão de crédito.  
 (E) não é possível saber quem tinha cartão de crédito.

15. Na sequência de números 6, 7, 8, 9, 10, 10, 9, 8, 7, 6, 6, 7, 8, 9, 10, 10, 9, 8, 7, 6, ..., o 1007º algarismo é
- (A) 6.  
 (B) 7.  
 (C) 8.  
 (D) 9.  
 (E) 10.

16. Em um compartimento de carga é possível armazenar, no máximo, 6,5 toneladas. Deseja-se guardar, neste compartimento, 64 caixas de 102kg cada uma. Sobre essa situação, é correto afirmar que
- (A) todas as caixas serão armazenadas nesse compartimento.  
 (B) poderão ser armazenadas nesse compartimento, no máximo, 63 caixas de 102kg cada.  
 (C) há um excesso de 72kg nesse compartimento.  
 (D) ainda será possível colocar mais uma caixa de 102kg.  
 (E) poderão ser armazenadas neste compartimento somente 62 caixas de 102kg cada.

17. Para construir um mosaico numa área de  $32\text{m}^2$ , foram utilizados 420 ladrilhos do mesmo tamanho. Assinale a alternativa que apresenta a quantidade necessária desses mesmos ladrilhos para construir outro mosaico numa área de  $40\text{m}^2$ .
- (A) 525.  
 (B) 530.  
 (C) 545.  
 (D) 550.  
 (E) 565.

18. Observe a figura abaixo.



As figuras apresentadas nas alternativas são giradas em sentido horário sobre um papel. Dessa forma, assinale a alternativa que apresenta a figura que **não** coincide com a figura apresentada acima.

- (A)
- (B)
- (C)
- (D)
- (E)

19. O valor da expressão  $(-2)^0 + (-2)^1 + (-2)^2 + (-2)^3$  é

- (A) -5.
- (B) 5.
- (C) 6.
- (D) -15.
- (E) 15.

20. Um capital de R\$15.000,00 aplicados em regime de juros simples, durante 5 meses, com taxa de 1,5% ao mês, produzirá juros igual a

- (A) R\$1.050,00.
- (B) R\$1.100,00.
- (C) R\$1.125,00.
- (D) R\$1.150,00.
- (E) R\$1.175,00.

### INFORMÁTICA

21. Em uma planilha do *Microsoft Office Excel* 2010, foram digitados os seguintes dados:

|   | A | B |
|---|---|---|
| 1 | 3 |   |
| 2 | 6 |   |
| 3 | 2 |   |
| 4 | 1 |   |
| 5 |   |   |
| 6 |   |   |
| 7 |   |   |

Assinale a alternativa que apresenta a fórmula que deve ser digitada na célula A5, caso o usuário deseje calcular a média aritmética dos valores das células A1, A2, A3 e A4.

- (A) = A1 + A2 + A3 + A4 / 4
- (B) = A1:A4 / 4
- (C) = (A1 + A2 + A3 + A4) / 2
- (D) = A1:A4 / 2
- (E) = (A1 + A2 + A3 + A4) / 4

22. Em um *slide* de uma apresentação do *Microsoft Office PowerPoint* 2010, um usuário inseriu uma forma (um retângulo) e agora gostaria de alterar a sua cor de preenchimento, porém, não está sendo exibida a guia *Formatar*, na qual se encontra o comando para preenchimento da forma. Sendo assim, é correto afirmar que isso está acontecendo porque

- (A) o usuário não clicou na barra de guias e escolheu a opção *Formatar*.
- (B) a versão instalada do *Microsoft Office PowerPoint* 2010 é a versão *Basic*, que não possui essa formatação.
- (C) a forma não está agrupada com alguma outra forma.
- (D) a forma não está selecionada.
- (E) o *Microsoft Office PowerPoint* 2010 possui algumas formas que não podem ser modificadas e uma delas é o retângulo.

23. Assinale a alternativa que apresenta a utilidade do botão



no *Microsoft Office Word* 2010.

- (A) Aumentar o tamanho da fonte do texto selecionado.
- (B) Formatar o caractere selecionado como sobrescrito.
- (C) Inserir uma Caixa de Texto.
- (D) Abrir a caixa de diálogo *Formatar Fonte*.
- (E) Modificar o espaçamento entre linhas do parágrafo.

24. Sobre a ferramenta *Painel de Controle* do sistema operacional *Microsoft Windows* 7, analise as assertivas abaixo.

- I. Essa ferramenta pode ser usada para desinstalar programas do computador.
- II. Essa ferramenta também permite gerenciar arquivos e pastas do disco rígido do computador.
- III. Essa ferramenta permite visualizar a configuração do *hardware* instalado no computador, inclusive indicando problemas de instalação de *drivers*.

É correto o que se afirma em


- (A) I, apenas.
- (B) II e III, apenas.
- (C) I e III, apenas.
- (D) III, apenas.
- (E) I, II e III.

25. Em relação ao Correio Eletrônico, é correto afirmar que *Web Mail* é(são)

- (A) aquelas mensagens de correio eletrônico que são enviadas por empresas que possuem páginas na *web*, para avisar sobre alguma coisa, para fazer propaganda etc..
- (B) aquelas mensagens de correio eletrônico que são enviadas automaticamente quando a pessoa não está disponível para responder no momento.
- (C) aquele programa que o usuário tem instalado no seu computador e que permite acessar as suas mensagens de correio eletrônico, sem ter que acessar qualquer página *web*.
- (D) um recurso, em uma página *web*, que permite o acesso às suas mensagens de correio eletrônico utilizando o seu navegador.
- (E) uma ferramenta que permite utilizar a *Internet* para descobrir o endereço eletrônico de pessoas para as quais o usuário gostaria de enviar mensagens de correio eletrônico.

26. Um computador com o sistema operacional *Microsoft Windows 7*, tem em sua área de trabalho, alguns ícones. Um usuário precisa aumentar o tamanho desses ícones para melhorar a sua visualização (aumentar para o máximo tamanho possível). Sendo assim, assinale a alternativa que apresenta como é possível fazer isso.



- (A) Clicar no botão  (*Iniciar*), clicar na opção *Imagens* e escolher *Ícones Grandes*.
- (B) Clicar com o botão direito do *mouse* sobre a Área de Trabalho; no menu que surgir, apontar o *mouse* para a opção *Exibir* e escolher *Ícones Grandes*.
- (C) Clicar com o botão direito do *mouse* sobre a Barra de Tarefas e escolher *Ícones Grandes*.
- (D) Clicar no botão ▲ (*Mostrar Ícones Ocultos*) da Barra de Ferramentas; no menu que surgir, apontar o *mouse* para a opção *Exibir* e escolher *Ícones Grandes*.
- (E) Dar um duplo clique com o *mouse* sobre a Área de Trabalho; no menu que surgir, apontar o *mouse* para a opção *Exibir* e escolher *Ícones Grandes*.

27. No *Microsoft Office Word 2010*, assinale a alternativa que apresenta os dois tipos de orientação que o documento pode ser mostrado (opções que podem ser configuradas no aplicativo).

- (A) Horizontal e Vertical.
- (B) Retrato e Paisagem.
- (C) Página e Tabela.
- (D) Documento e Livro.
- (E) Normal e Largura da Página.

28. No *Microsoft Office Excel 2010*, para selecionar somente as células A1, B4 e D15 ao mesmo tempo, deve-se clicar essas células com a seguinte tecla pressionada:

- (A) Ctrl
- (B) Esc
- (C) Shift
- (D) Enter
- (E) Alt

29. Na *Internet*, quando solicitam que se insira a URL (*Universal Resource Locator*) no navegador, é correto afirmar que está sendo solicitado(a) o(a)

- (A) nome de usuário para acessar uma rede.
- (B) protocolo que será utilizado para comunicação.
- (C) senha para acesso ao conteúdo de uma página *web*.
- (D) *plug-in* que deve ser executado para acessar uma página *web*.
- (E) endereço de uma página *web*.

30. O *Microsoft Office PowerPoint 2010* oferece algumas opções de Preenchimento da Forma (formatação de como ficará o interior de uma forma inserida no *slide*). Sobre essas opções, assinale a alternativa correta.

- (A) A opção *Sem Preenchimento* sempre deixará a forma com a cor branca.
- (B) A opção *Mais Cores de Preenchimento* apresenta todas as cores disponíveis para o *Tema* escolhido para a apresentação.
- (C) A opção *Imagem* permite preencher a forma com qualquer imagem que esteja armazenada no computador.
- (D) A opção *Gradação* apresenta algumas opções de gradação para o usuário escolher e não permite qualquer formatação sobre essas opções.
- (E) A opção *Textura* só permite utilizar as texturas que são apresentadas pelo programa.

## CONHECIMENTOS ESPECÍFICOS

31. Leia o trecho abaixo e, em seguida, assinale a alternativa que preenche correta e respectivamente as lacunas.

O trânsito, em condições seguras, é um direito \_\_\_\_\_ e dever \_\_\_\_\_.

- (A) especialmente do pedestre/ dos órgãos estaduais de trânsito
- (B) de todos/ dos órgãos e entidades componentes do Sistema Nacional de Trânsito
- (C) do Sistema Nacional de Trânsito/ de todo cidadão
- (D) de qualquer motorista/ de todos os indivíduos que compõem o trânsito
- (E) de utilitários das vias/ de qualquer cidadão

32. Em relação ao disposto no Código de Trânsito Brasileiro e aos princípios que regem as relações interpessoais no trânsito, analise as assertivas abaixo.

- I. Mesmo não compondo o Conselho Nacional de Trânsito – CONTRAN –, poderá um representante do Ministério do Meio Ambiente e da Amazônia Legal defender seus interesses, na forma da lei, nas sessões com tomadas de decisões.
- II. A defesa da vida inclui a preservação da saúde e do meio ambiente, e terá prioridade ante os Órgãos e entidades de trânsito integrantes do Sistema Nacional de Trânsito.
- III. Entre os fatores que determinam comportamentos reprováveis no trânsito, estão a falta de controle emocional, a falta de planejamento em relação ao horário e ao percurso e o desconhecimento das leis.

É correto o que se afirma em

- (A) I, apenas.
- (B) I e II, apenas.
- (C) II, apenas.
- (D) III, apenas.
- (E) II e III, apenas.

33. No que tange à habilitação para dirigir, assinale a alternativa correta.

- (A) A cada 10 (dez) anos, o condutor de veículos deverá realizar preliminarmente exame de aptidão física e mental a fim de renovar a habilitação para dirigir.
- (B) O condutor com mais de 65 (sessenta e cinco) anos precisa refazer os exames anualmente para continuar dirigindo.
- (C) Independentemente de indícios de deficiência física, mental, ou de progressividade de doença que possa diminuir a capacidade para conduzir o veículo, o prazo previsto para renovação da habilitação será o mesmo que o estabelecido para o candidato sem deficiência.
- (D) Sempre que o condutor estiver exercendo atividade remunerada, ao veículo, deverá prestar, além dos exames físicos e mentais, avaliação psicológica preliminar e complementar.
- (E) O condutor que exerce atividade remunerada, ao veículo, não necessita ter essa informação incluída na Carteira Nacional de Habilitação, ou qualquer outro documento, bastando portar a credencial da empresa para que trabalha, ou cartão com número do CNPJ.

34. Em relação às disposições gerais sobre os crimes de trânsito, assinale a alternativa correta.

- (A) Se o indivíduo que cometer crime de trânsito receber a pena de prisão, é desnecessária a aplicação da suspensão ou a proibição de se obter a permissão ou a habilitação para dirigir. Logo, não haverá cumulação.
- (B) A regra diz que a suspensão ou a proibição de se obter a permissão ou habilitação para dirigir automotor pode chegar a 5 (cinco) anos.
- (C) Após determinado indivíduo receber sentença condenando-o, terá 45 (quarenta e cinco) dias para entregar à autoridade judiciária a Permissão para Dirigir ou a Carteira de Habilitação.
- (D) Sempre que o crime cometido no trânsito causar prejuízo à vítima, poderá ser aplicada a pena de multa administrativa de caráter pedagógico, que será revertida em favor de instituições de caridade ou organizações sem fins lucrativos.
- (E) Conduzir o veículo com Permissão para Dirigir ou Carteira de Habilitação de categoria diferente da do veículo pode aumentar o valor da multa, mas não agrava as demais penalidades.

35. De acordo com o Código de Trânsito Brasileiro, no homicídio culposo cometido na direção de veículo automotor, a pena é aumentada de um terço à metade, se o agente

- I. não emitir sinal sonoro à vítima, dando a ela chances de defesa.
- II. praticá-lo em situação iminente de catástrofe natural ou incidência de outro acidente.
- III. deixar de prestar socorro, quando possível fazê-lo sem risco pessoal, à vítima do acidente.
- IV. no exercício de sua profissão ou atividade, estiver conduzindo veículo de transporte de passageiros.

É correto o que está contido em

- (A) I, II e III, apenas.
- (B) II e III, apenas.
- (C) I, II e IV, apenas.
- (D) III e IV, apenas.
- (E) I, II, III e IV.

36. Assinale a alternativa que apresenta uma infração de trânsito considerada gravíssima.

- (A) Conversar com passageiros do banco de trás, sem manter a visão no trânsito à frente, com veículo em movimento.
- (B) Estacionar o veículo afastado da guia da calçada (meio-fio) cerca de 70 (setenta) centímetros.
- (C) Parar o veículo afastado da guia da calçada (meio-fio) cerca de 70 (setenta) centímetros.
- (D) Rebocar outro veículo com cabo flexível ou corda nos casos em que não haja emergência.
- (E) Dirigir veículo com capacidade superior a 9 (nove) passageiros com Carteira Nacional de Habilitação ou Permissão para Dirigir de categoria C.




37. Assinale a alternativa que apresenta o significado da placa de sinalização de advertência abaixo.



A-21a

- (A) Adverte o condutor da existência de estreitamento da pista em ambos os lados à frente.
- (B) Adverte o condutor da existência de uma ponte móvel à frente.
- (C) Adverte o condutor da existência de uma ponte estreita à frente.
- (D) Adverte o condutor da existência de declive leve à frente.
- (E) Adverte o condutor da existência de declive acentuado à frente.

38. A placa abaixo é a única que mantém o formato octogonal e coloração vermelha e branca, e pode ser reconhecida em quase todos os países, em especial aqueles signatários da Convenção de Viena sobre a Sinalização Rodoviária, por manter quase sempre essas características, embora a mensagem, que foi apagada no modelo abaixo, varie de acordo com o idioma local.



A placa acima se refere à

- (A) parada obrigatória.
- (B) obrigação de dar preferência.
- (C) proibição de seguir ou entrar em frente.
- (D) proibição de estacionar.
- (E) proibição de trânsito de veículos automotores.

39. Na figura abaixo, é possível observar um agente de trânsito com o braço levantado, com a palma da mão para a frente.



Com base nisso, assinale a alternativa que apresenta o significado do sinal acima representado.

- (A) Ordem de parada obrigatória para todos os veículos, desde que não executado em interseções.
- (B) Ordem de diminuição de velocidade.
- (C) Ordem de seguir.
- (D) Ordem de parada para todos os veículos que venham de direções perpendiculares à posição do guarda.
- (E) Ordem de parada para todos os veículos que venham de direções perpendiculares à posição do guarda somente do lado da mão levantada.

40. Sobre a preferência de passagem, assinale a alternativa correta.

- (A) Os pedestres têm preferência sobre todos que compõem o trânsito. A bicicleta tem preferência sobre motos e carros, estes sobre veículos de grande porte, e estes sobre veículos que se desloquem sobre trilhos.
- (B) O condutor que for ingressar numa via, procedente de um lote lindeiro a essa via, terá preferência sobre veículos e pedestres que por ela estejam transitando.
- (C) Nas vias urbanas e nas rurais de pista dupla, a circulação de bicicletas deverá ocorrer, quando não houver ciclovia, ciclofaixa, ou acostamento, ou quando não for possível a utilização destes, nos bordos da pista de rolamento, em sentido oposto de circulação regulamentado para a via, respeitando a preferência dos veículos automotores.
- (D) Durante a manobra de mudança de direção, o condutor deverá ceder passagem aos pedestres e ciclistas, aos veículos que transitem em sentido contrário pela pista da via da qual vai sair, respeitadas as normas de preferência de passagem.
- (E) Quando veículos, transitando por fluxos que se cruzem, se aproximarem de local não sinalizado, terá preferência de passagem, no caso de rotatória, aquele que estiver invadindo o fluxo da rotatória.

41. Sobre paradas e estacionamento, assinale a alternativa correta.

- (A) Não se admite o trânsito de veículos sobre passeios, calçadas e nos acostamentos.
- (B) Os veículos prestadores de serviços de utilidade pública podem parar e estacionar livremente no local da prestação de serviço, mesmo sem identificação ou sinalização, quando em atendimento.
- (C) Os veículos destinados a socorro de incêndio e salvamento gozam de livre estacionamento e parada, quando em serviço de urgência e devidamente identificados por dispositivos regulamentares de alarme sonoro e iluminação vermelha intermitente.
- (D) Quando o estacionamento na via for proibido, a parada deverá durar somente o tempo indispensável para ações curtas, como atender o celular, pedir informações ou colocar o cinto de segurança.
- (E) Avançar o sinal de parada obrigatória constitui infração leve.

42. Sobre a penalidade de apreensão do veículo, assinale a alternativa correta.

- (A) Caso o condutor bloqueie a via com o veículo, este será apreendido e ainda receberá medida administrativa de remoção.
- (B) O veículo apreendido em decorrência de penalidade aplicada poderá ficar em posse do seu dono por não mais que 30 (trinta) dias, devendo, dentro desse prazo, ser recolhido a depósito, com ônus para o seu proprietário, conforme critério a ser estabelecido pelo CONTRAN.
- (C) No caso de infração em que seja aplicável a penalidade de apreensão do veículo, é proibido ao agente de trânsito recolher o Certificado de Licenciamento Anual imediatamente.
- (D) Os veículos apreendidos serão restituídos mediante o prévio pagamento das multas impostas, taxas e despesas com remoção e estada, e assinatura de termo comprometendo-se a reparar qualquer componente ou equipamento obrigatório que não esteja em perfeito estado de funcionamento.
- (E) Os veículos apreendidos ou removidos a qualquer título e os animais não reclamados por seus proprietários, dentro do prazo de 1 (um) ano, serão levados à hasta pública.

43. Assinale a alternativa que apresenta uma conduta correta para se evitar acidentes no trânsito.

- (A) Dirigir próximo ao veículo da frente.
- (B) Esperar o último instante na frenagem para colocar o pé sobre o freio.
- (C) Parar bruscamente após antecipar situação de perigo à frente.
- (D) Manter curta distância com o veículo que vem atrás.
- (E) Prestar atenção nos sinais como luz de freio, seta, pisca alerta, braços etc. dos outros condutores, pois eles indicam suas próximas manobras.

44. Em relação aos recursos contra penalidades e medidas administrativas, analise as assertivas abaixo.

- I. O recurso contra a imposição de multa poderá ser interposto no prazo legal, sem o recolhimento do seu valor.
- II. Das decisões das Juntas Administrativas de Recursos de Infrações (JARI) cabe recurso a ser interposto no prazo de 30 (trinta) dias contado da publicação ou da notificação da decisão.
- III. Se, por motivo de força maior, o recurso não for julgado dentro do prazo de 30 (trinta) dias, a autoridade que impôs a penalidade, de ofício, ou por solicitação do recorrente, poderá conceder-lhe efeito suspensivo.

É correto o que se afirma em

- (A) I, apenas.
- (B) I e III, apenas.
- (C) II, apenas.
- (D) I, II e III.
- (E) III, apenas.

45. Sobre os cuidados que se deve ter em situações de condições adversas, as quais o condutor pode ter que enfrentar, assinale a alternativa correta.

- (A) O uso do farol alto é sempre obrigatório à noite, mesmo em vias com iluminação, para evitar má visualização na escuridão, na chuva ou túneis, e para se ter ampla visão dos outros veículos com quem se cruza.
- (B) Dirigindo sob neblina ou cerração, não se devem usar os faróis altos.
- (C) No tempo chuvoso, o veículo corre mais risco de derrapagem. Por isso, a frenagem deve ser feita de forma rápida e brusca, para diminuir as chances de que isso aconteça.
- (D) Ao atravessar área tomada por fumaça proveniente de queimada, orienta-se que sejam usados os faróis altos.
- (E) Em curvas muito acentuadas, a velocidade deve se manter constante ou maior, para evitar que, devido à redução de visibilidade, veículos que venham atrás colidam com o do condutor.

46. Segundo o Código de Trânsito Brasileiro, é correto afirmar que dirigir sob a influência de álcool ou de qualquer outra substância psicoativa que determine dependência

- (A) constitui infração de gravidade média.
- (B) por si só não dá causa a recolhimento do documento de habilitação ou retenção do veículo.
- (C) enseja multa (dez vezes) e suspensão do direito de dirigir por 12 (doze) meses.
- (D) no caso de reincidência, aplica-se multa (cinco vezes).
- (E) é punível quando a concentração de álcool supera 6 (seis) decigramas por litro de sangue.

47. Em relação aos pneus, analise as assertivas abaixo.
- I. O pneu deve ter sulcos para escoar a água e garantir a aderência ao piso molhado.
  - II. Não há problemas em pneus com bolhas ou cortes, pois ajudam na aderência ao piso.
  - III. Devem-se usar os pneus de modelos e dimensões recomendadas pelo fabricante.

É correto o que se afirma em

- (A) I, apenas.
- (B) II, apenas.
- (C) I e III, apenas.
- (D) II e III, apenas.
- (E) III, apenas.

48. Em relação ao sistema de freios, assinale a alternativa correta.

- (A) O desgaste dos freios não influencia em sua eficiência.
- (B) Freios desgastados exigem maior distância para frear, aumentando o risco de acidentes.
- (C) São componentes do sistema de freios, entre outros, a caixa de câmbio e o diferencial.
- (D) Deve-se tomar cuidado para que o nível de fluido dos freios permaneça baixo.
- (E) As lonas de freios convencionais duram até 200.000 (duzentos mil) quilômetros. Por isso, é bom checá-las a cada 40.000 (quarenta mil) quilômetros percorridos.

49. Sobre as atitudes a serem tomadas numa situação de acidente, assinale a alternativa correta.

- (A) Se a vítima de um acidente parece bem e não possui mais que ferimentos leves, não é necessário chamar a emergência.
- (B) A sinalização deve ser feita próxima a aclives, curvas ou diante de outras circunstâncias que diminuam a visualização, e só pode ser feita com o material desenvolvido para isso.
- (C) A vítima inconsciente deve ser retirada imediatamente do local. Caso haja apenas um socorrente, pegar a vítima no colo ou por trás com braços sob as axilas da vítima.
- (D) Deve-se esquecer, por hora, ações como acalmar pessoas, confortar vítimas, pois tomam o tempo que poderia ser utilizado para ajudar.
- (E) Alguns números úteis deverão ser utilizados pelo socorrente: Corpo de Bombeiros (193); Serviço de Atendimento Móvel de Urgência – SAMU (192); e Polícia Militar (190).

50. Sobre as atitudes a serem tomadas numa situação de acidente, assinale a alternativa correta.

- (A) Deve-se retirar o capacete de motociclistas acidentados para facilitar a respiração.
- (B) Se a vítima estiver atordoada, ofegante, é aconselhável dar-lhe líquido para beber.
- (C) Nunca se deve retirar o cinto de segurança da vítima.
- (D) Deve-se fazer o máximo de esforço para evitar que a vítima de atropelamento movimente a cabeça.
- (E) Mesmo que a vítima seja cardíaca e tome remédios regularmente, caso ela queira tomar o remédio naquele momento, aconselha-se que a vítima seja impedida, para evitar engasgo.