



PROCESSO SELETIVO para contratação de  
empregados do Serviço Social do Comércio - SESC BAHIA

## Arquiteto

PROVA  
**S06 - P**  
TARDE

**ATENÇÃO:**  
Verifique se o código da  
prova deste caderno de  
questões confere com o  
seu cartão de respostas



TRANSCREVA EM ESPAÇO DETERMINADO NO SEU CARTÃO DE RESPOSTAS A FRASE  
DO ESCRITOR JORGE AMADO PARA EXAME GRAFOTÉCNICO

**"Meus livros falam sobre o povo e para o povo."**

### ATENÇÃO

- DURAÇÃO DA PROVA: 03h30min
- ESTE CADERNO CONTÉM 50 (CINQUENTA) QUESTÕES DE MÚLTIPLA ESCOLHA, CADA UMA COM 5 ALTERNATIVAS DE RESPOSTA – A, B, C, D e E – CONFORME DISPOSIÇÃO ABAIXO:

Disciplinas	Quantidade de questões	Valor de cada questão
Língua Portuguesa	15	2
Atualidades	5	1
Informática Básica	10	1,5
Conhecimentos Específicos	20	2,5

- VERIFIQUE SE ESTE MATERIAL ESTÁ EM ORDEM, CASO CONTRÁRIO, NOTIFIQUE IMEDIATAMENTE O FISCAL.
- RESERVE OS 30 (TRINTA) MINUTOS FINAIS PARA MARCAR SEU CARTÃO DE RESPOSTAS.

### LEIA AS INSTRUÇÕES ABAIXO

- Após identificado e instalado na sala, você não poderá consultar qualquer material, enquanto aguarda o horário de início da prova.
- Siga, atentamente, a forma correta de preenchimento do Cartão de Respostas, conforme estabelecido no próprio.
- Não haverá substituição do Cartão de Respostas por erro do candidato.

#### Por motivo de segurança:

- O candidato só poderá retirar-se definitivamente da sala após 1 (uma) hora do início efetivo da prova;
- Somente faltando 1 (uma) hora para o término da prova, o candidato poderá retirar-se levando o seu Caderno de Questões;
- O candidato que optar por se retirar sem levar o seu Caderno de Questões, não poderá copiar suas respostas por qualquer meio. O descumprimento dessa determinação será registrado em ata e acarretará a eliminação do candidato; e
- Ao terminar a prova, o candidato deverá retirar-se imediatamente do local, não sendo possível nem mesmo a utilização dos banheiros e/ou bebedouros.
- Ao terminar a prova, é de sua responsabilidade entregar ao fiscal o Cartão de Respostas assinado. Não se esqueça dos seus pertences.
- Os três últimos candidatos deverão permanecer na sala até que o último candidato entregue o Cartão de Respostas.
- O fiscal de sala não está autorizado a alterar qualquer destas instruções. Em caso de dúvida, solicite a presença do coordenador local.

**BOA PROVA!**

[www.funcab.org](http://www.funcab.org)

Leia o texto abaixo e responda às questões propostas.

TEXTO 1:

### Do navio sueco com sereia de amor

[...]

No dia seguinte, depois do almoço, os marinheiros tiveram novamente folga, espalharam-se pelas ruas. Como gostavam da cachaça ilheense!, comprovavam com orgulho os grapiúnas. Vendiam cigarros estrangeiros, peças de fazenda, frascos de perfume, bugigangas douradas. Gastavam o dinheiro em cachaça, enfiavam-se nas casas de mulheres-dama, caíam bêbados na rua.

Foi depois da sesta. Antes da hora do aperitivo da tarde, naquele tempo vazio, entre as três e as quatro e meia. Quando Nacib aproveitava para fazer as contas da caixa, separar o dinheiro, calcular os lucros. Foi quando Gabriela, terminado o serviço, partiu para casa. O marinheiro sueco, um loiro de quase dois metros, entrou no bar, soltou um bafo pesado de álcool na cara de Nacib e apontou com o dedo as garrafas de “Cana de Ilhéus”. Um olhar suplicante, umas palavras em língua impossível. Já cumprira Nacib, na véspera, seu dever de cidadão, servira cachaça de graça aos marinheiros. Passou o dedo indicador no polegar, a perguntar pelo dinheiro. Vasculhou os bolsos o loiro sueco, nem sinal de dinheiro. Mas descobriu um broche engraçado, uma sereia dourada. No balcão colocou a nórdica mãe-d'água, Yemanjá de Estocolmo. Os olhos do árabe fitavam Gabriela a dobrar a esquina por detrás da igreja. Mirou a sereia, seu rabo de peixe. Assim era a anca de Gabriela. Mulher tão de fogo no mundo não havia, com aquele calor, aquela ternura, aqueles suspiros, aquele langor. Quanto mais dormia com ela, mais tinha vontade. Parecia feita de canto e dança, de sol e luar, era de cravo e canela. Nunca mais lhe dera um presente, uma tolice de feira. Tomou da garrafa de cachaça, encheu um copo de vidro grosso, o marinheiro suspendeu o braço, saudou em sueco, emborcou em dois tragos, cuspiu. Nacib guardou no bolso a sereia dourada, sorrindo. Gabriela ria contente, diria a gemer: “precisava não, moço bonito...”

E aqui termina a história de Nacib e Gabriela, quando renasce a chama do amor de uma brasa dormida nas cinzas do peito.

(AMADO, Jorge. *Gabriela, cravo e canela*. 53. ed. Rio de Janeiro: Record, 1977. p. 357.)

### Questão 01

A crônica de costumes é uma das maneiras pelas quais se manifesta o regionalismo na obra de Jorge Amado. Todas as alternativas abaixo apresentam elementos que identificam esse regionalismo no texto apresentado, EXCETO:

- A) Descrição dos hábitos dos marinheiros na zona litorânea.
- B) Referência a costumes locais como a sesta.
- C) A presença de elementos da religiosidade popular.
- D) O olhar suplicante e palavras de uma língua impossível.
- E) Venda de quinquilharias à população local e o gosto pela cachaça ilheense.

### Questão 02

Com base na leitura do texto, analise as afirmativas a seguir:

- I. Pode-se dizer que o narrador registra tudo o que narra, como se a vida fosse um espetáculo para os olhos.
- II. Gabriela é descrita como uma mulher completa, feita só de qualidades positivas.
- III. O amor entre Nacib e Gabriela é impossível porque ambos pertencem a culturas diferentes.

Assinale a alternativa que aponta a(s) afirmativa(s) correta(s).

- A) Somente a I está correta.
- B) Somente a II está correta.
- C) Somente I e II estão corretas.
- D) Somente I e III estão corretas.
- E) Somente II e III estão corretas.

### Questão 03

Na composição do fragmento “[...] renasce a chama do amor de uma brasa dormida nas cinzas do peito.”, último parágrafo, o autor emprega uma figura que constrói a ideia a partir de termos inconciliáveis. A figura de linguagem em questão é:

- A) paradoxo.
- B) eufemismo.
- C) aliteração.
- D) comparação.
- E) hipérbole.

Questão 04

Transpondo-se para a voz passiva analítica a frase “Vendiam cigarros estrangeiros [...]”, a forma verbal resultante será:

- A) São vendidos.
- B) Vendiam-se.
- C) Serão vendidos.
- D) Foram vendidos.
- E) Eram vendidos.

Questão 05

Sobre a acentuação das palavras do texto é correto afirmar:

- A) Se fosse retirado o acento de CAÍAM (1º parágrafo), o tempo verbal permaneceria inalterado.
- B) IMPOSSÍVEL (2º parágrafo) recebe acento porque é proparoxítona.
- C) As palavras ÁRABE (2º parágrafo) e BÊBADOS (1º parágrafo) são acentuadas pelo mesmo motivo.
- D) A palavra GRAPIÚNAS (1º parágrafo) recebe o acento gráfico por ser paroxítona.
- E) Se fosse retirado o acento da palavra HISTÓRIA (3º parágrafo), haveria manutenção de sua classe gramatical.

Questão 06

No período “Quanto mais dormia com ela, mais tinha vontade”, a relação de sentido, estabelecida entre as orações, é de:

- A) causalidade.
- B) finalidade.
- C) temporalidade.
- D) proporcionalidade.
- E) conformidade.

Questão 07

Levando em conta o contexto em que aparecem os termos destacado das frases abaixo, assinale a alternativa em que o sinônimo apresentado é adequado.

- A) “[...] os marinheiros tiveram novamente FOLGA [...]” = espaço.
- B) “Um olhar SUPLICANTE [...]” = irreverente.
- C) “VASCULHOU os bolsos o loiro sueco [...]” = investigou.
- D) “TOMOU da garrafa de cachaça [...]” = ingeriu.
- E) “[...] EMBORCOU em dois tragos [...]” = virou.

Questão 08

Sobre o trecho em destaque no período “Mulher tão DE FOGO no mundo não havia, com aquele calor, aquela ternura, aqueles suspiros, aquele langor.”, pode-se afirmar que poderia ser substituído, sem perda do sentido original, pelo adjetivo:

- A) ardente.
- B) dengosa.
- C) fulminante.
- D) intempestiva.
- E) pudica.

Leia o texto abaixo e responda às questões propostas.

TEXTO 2:

### O trapiche

[...] uma grande parte dos Capitães da Areia dormia no velho trapiche abandonado, em companhia dos ratos, sob a lua amarela. Na frente, a vastidão da areia, uma brancura sem fim. Ao longe, o mar que arrebatava no cais. Pela porta viam as luzes dos navios que entravam e saíam. Pelo teto viam o céu de estrelas, a lua que os iluminava.

[...] moleques de todas as cores e de idades as mais variadas, desde os 9 aos 16 anos, que  noite se estendiam pelo assoalho e por debaixo da ponte e dormiam, indiferentes ao vento que circundava o casarão uivando, indiferentes  chuva que muitas vezes os lavava, mas com os olhos puxados para as luzes dos navios, com os ouvidos presos  canções que vinham das embarcações...

É aqui também que mora o chefe dos Capitães da Areia: Pedro Bala. Desde cedo foi chamado assim, desde seus cinco anos. Hoje tem 15 anos. Há dez que vagabundeia nas ruas da Bahia. Nunca soube de sua mãe, seu pai morrera de um balço. Ele ficou sozinho e empregou anos em conhecer a cidade. [...] Quando se incorporou aos Capitães da Areia (o cais recém-construído atraiu para as suas areias todas as crianças abandonadas da cidade) o chefe era Raimundo, o Caboclo, mulato avermelhado e forte.

Não durou muito na chefia o caboclo Raimundo. Pedro Bala era muito mais ativo, sabia planejar os trabalhos, sabia tratar com os outros, trazia nos olhos e na voz a autoridade de chefe. [...]

Todos reconheceram os direitos de Pedro Bala à chefia, e foi desta época que a cidade começou a ouvir falar nos Capitães da Areia, crianças abandonadas que viviam do furto. [...]

Vestidos de farrapos, sujos, semiesfomeados, agressivos, soltando palavrões e fumando pontas de cigarro, eram, em verdade, os donos da cidade, os que a conheciam totalmente, os que totalmente a amavam, os seus poetas.

(AMADO, Jorge. *Capitães da Areia*. 117. Ed. Rio de Janeiro: Record, 2005. p. 19-21. Fragmento.)

### Questão 10

Tomando como base a leitura do texto 2, analise as afirmações.

- I. O local onde vivem retrata a miséria da vida desses meninos, vestidos de farrapos, sujos e agressivos, que vivem do furto.
- II. O trapiche abandonado oferece proteção contra a chuva, o vento e aponta as condições dignas de sobrevivência a que os meninos estão submetidos.
- III. Os garotos contam com a simpatia do narrador, embora sejam caracterizados como ladrões.

Assinale a alternativa que aponta a(s) afirmação(ões) correta(s).

- A) Somente a I está correta.
- B) Somente a II está correta.
- C) Somente a III está correta.
- D) Somente I e III estão corretas.
- E) Somente II e III estão corretas.

### Questão 11

Assinale a alternativa em que estão correta e respectivamente identificadas as relações de sentido dos elementos em destaque nas frases.

- I. “QUANDO se incorporou aos Capitães da Areia [...]”
- II. “[...] MAS com os olhos puxados para as luzes dos navios [...]”
- III. “[...] soltando palavrões E fumando pontas de cigarro, [...]”

- A) tempo – conclusão – adversidade
- B) tempo – adversidade – adição
- C) concessão – tempo – contrariedade
- D) condição – oposição – finalidade
- E) conclusão – conformidade – causa

### Questão 09

Assinale a alternativa que preenche correta e respectivamente as quadrículas das linhas 09, 12 e 15 do texto “O trapiche”.

- A) à – a – às
- B) à – à – às
- C) à – às – às
- D) a – a – às
- E) a – à – a

Questão 12

Em “Ao longe, o mar que arrebatava no cais.” a classe gramatical da palavra QUE é:

- A) conjunção integrante.
- B) pronome indefinido.
- C) pronome relativo.
- D) substantivo.
- E) advérbio.

Questão 13

Sobre o segmento “Pelo teto viam o céu de estrelas, a lua que os iluminava.”, é correto afirmar:

- A) O verbo da primeira oração é impessoal.
- B) O verbo da segunda oração é transitivo indireto.
- C) A palavra OS (antes de iluminava) é pronome indefinido.
- D) DE ESTRELAS é uma locução adverbial de lugar.
- E) Os verbos VER e ILUMINAR estão flexionados no pretérito imperfeito do indicativo.

Questão 14

Em “[...] seu pai morrera DE um balaço.”, qual a relação de sentido estabelecida, no contexto, pela preposição DE?

- A) Modo
- B) Instrumento
- C) Posse
- D) Matéria
- E) Causa

Questão 15

No sexto parágrafo, os adjetivos sujos, semiesfomeados, agressivos, concordam com:

- A) crianças.
- B) Pedro Bala.
- C) todos.
- D) Capitães da Areia.
- E) outros.

ATUALIDADES

Questão 16

O ano de 2012 ficou marcado por algumas políticas econômicas que provocaram discussões até mesmo entre os leigos. Uma das ações econômicas adotadas pelo Governo Federal em 2012 foi:

- A) a proibição das importações de produtos industrializados provenientes dos países asiáticos.
- B) o aumento sistemático da taxa de juros denominada Selic a um patamar superior a 15%.
- C) a mudança na regra dos juros para depósitos em novas cadernetas de poupança.
- D) o congelamento dos salários dos servidores públicos federais com 20 anos de serviço.
- E) a isenção de imposto de renda para todo contribuinte com salário de até 3 mil reais por mês.

Questão 17

Foi realizado pelo jornal Folha de São Paulo, com a contribuição do Instituto Datafolha, um ranking entre as universidades brasileiras, listando-as de acordo com a qualidade. Para a elaboração do ranking, foram utilizados quatro indicadores, a saber: “qualidade da pesquisa”, “qualidade de ensino”, “avaliação do mercado” e “indicador de inovação”. Entre as instituições localizadas no estado da Bahia, a que ficou com a melhor colocação foi a Universidade:

- A) Federal da Bahia (UFBA).
- B) Estadual de Santa Cruz (UESC).
- C) Estadual de Feira de Santana (UEFS).
- D) Estadual do Sudoeste da Bahia (UESB).
- E) Federal do Recôncavo da Bahia (UFRB).

Questão 18

Leia o fragmento da reportagem a seguir.

“Acertamos em cheio com a implantação do 4G enquanto expandimos a 3G, que vai ficar um bom tempo e prestar ainda grande serviço”, disse na noite desta segunda-feira (8) o ministro das Comunicações, Paulo Bernardo, ao abrir a Futurecom, feira de telecomunicações que acontece até quinta-feira (11) no Riocentro, na Zona Sul do Rio. Paulo Bernardo disse que a adesão ao 4G vai ser rápida e vai descongestionar a rede 3G, que, segundo disse, “vai ficar melhor ainda”.

(Fonte: <<http://g1.globo.com/tecnologia/noticia/2012/10.html>>)

A tecnologia denominada de 4G, logo após ser instalada, possibilitará:

- A) a universalização, no Brasil, das televisões com o sistema HD.
- B) a transmissão de dados em velocidade muito superior ao 3G.
- C) o contato telefônico direto entre as zonas urbanas e rurais.
- D) a remoção de todas as antenas de celulares instaladas no país.
- E) o envio de fotos por meio de aparelhos celulares e telefones fixos.

Questão 19

O prêmio Nobel da Paz é um dos títulos mais divulgados no mundo e, normalmente, contempla uma personalidade de reconhecido esforço por movimentos pacíficos. O Nobel da Paz de 2012 foi marcado por discussões acaloradas sobre o poder das relações internacionais na outorga do prêmio. O prêmio foi concedido, em 2012, para:

- A) Médicos Sem Fronteiras.
- B) Barack Obama.
- C) Mahmoud Ahmadineja.
- D) União Europeia.
- E) Fundo Monetário Internacional.

Questão 20

Foi sancionada pela presidência da República, em 29 de agosto de 2012, a denominada Lei de Cotas Sociais. Após grande debate e avaliação de práticas já adotadas em diversas instituições de Ensino Superior, a lei prevê, entre outras obrigações, a reserva de:

- A) 15% das vagas nas Universidades Federais para quem tiver estudado, no último ano do Ensino Médio, em escola pública.
- B) 25% das vagas para negros e 25% para portadores de deficiência motora em Universidades Federais, Estaduais e Municipais.
- C) 50% das vagas em Universidades Federais para quem tiver feito o Ensino Médio integralmente em escola pública.
- D) 30% das vagas para negros e 20% para indígenas em todas as instituições de Ensino Superior, sejam públicas ou privadas.
- E) 65% das vagas para estudantes que estudaram todo o Ensino Fundamental e Médio em instituições públicas federais e estaduais.




INFORMÁTICA BÁSICA

Questão 21

No Painel de Controle do Windows XP, a ferramenta que exibe a quantidade de RAM e velocidade do processador de seu computador é:

- A) Programas.
- B) Sistema.
- C) Rede e Internet.
- D) Aparência e Personalização.
- E) Hardware e Sons.

Questão 22

No Microsoft Office Word 2003, os ícones ,  e  correspondem, respectivamente, às funções:

- A) Mostrar/ocultar marcações de parágrafo, Abrir e Realce.
- B) Negrito, Salvar e Cor da Borda.
- C) Alinhar texto à esquerda, Abrir e Cor da Fonte.
- D) Mostrar/ocultar marcações de parágrafo, Salvar e Cor de Preenchimento.
- E) Negrito, Abrir e Realce.

Questão 23

No Microsoft Office Excel 2003, a tecla TAB:

- A) move o cursor para a próxima célula acima.
- B) move o cursor para a próxima célula abaixo.
- C) move o cursor para a próxima célula à esquerda.
- D) move o cursor para a próxima célula à direita.
- E) apaga o conteúdo da célula.

Questão 24

Num sistema de correio eletrônico, faz parte da Caixa Postal:

- A) Caixa de Entrada.
- B) Caixa de Saída.
- C) Lixeira.
- D) Rascunho.
- E) Catálogo de Endereços.

Questão 25

Considere que o técnico da área de suporte da empresa na qual você trabalha tenha detectado, em seu computador, um Cavalo de Troia. O recurso de computador que pode ter auxiliado nessa localização foi:

- A) Ferramenta de Busca Google.
- B) Firewall.
- C) Sistema Antivírus.
- D) Gerenciador de Tarefas.
- E) Fragmentador.

Questão 26






No Microsoft Office Word 2007, o ícone que permite mudar a aparência do texto abaixo do Formato 1 para o Formato 2 é:

Formato 1:

Processo Seletivo – SESC – Serviço Social do Comércio/Bahia

Formato 2:

Processo Seletivo – SESC – Serviço Social do Comércio/Bahia

- A) 
- B) 
- C) 
- D) 
- E) 

Questão 27

Observe a seguir o resultado parcial da pesquisa da palavra “funcab” na ferramenta de busca Google. Para acessar o site correspondente, deve-se clicar em:

[FUNCAB - Fundação Professor Carlos Augusto Bittencourt](#)

[www.funcab.org/](http://www.funcab.org/)




**FUNCAB** - Fundação Professor Carlos Augusto Bittencourt. Fundação Professor Carlos Augusto Bittencourt. Projetos **Funcab**. Conheça a Fundação ...

- A) [www.funcab.org/](http://www.funcab.org/)
- B) Projetos Funcab
- C) FUNCAB – Fundação Professor Carlos Augusto Bittencourt
- D) Conheça a fundação
- E) FUNCAB - Funda

Questão 28

Observe abaixo a planilha criada no Microsoft Office Excel 2007. Sobre essa planilha, é INCORRETO afirmar que:

	A	B
1	Item	Valor
10	Luz	150
16	IPTU	133
17	Incêndio	4
20	Alimentação (mercado, feira, peixaria, padaria)	680
23	CEG	150
25	Remédios crianças	150
32		
33	<b>Total Despesas</b>	<b>2.637</b>

- A) Existem linhas ocultas.
- B) Para copiar a formatação da célula 1A para as demais células, basta utilizar o recurso  Copiar
- C) Para acrescentar casas decimais nas células da coluna B, basta utilizar o recurso 
- D) Para totalizar os valores das células da coluna B, basta utilizar o recurso  AutoSoma
- E) A célula 1A está em negrito e centralizada.

Questão 29

A estrutura padrão de um endereço eletrônico é:

- A) protocolo://máquina/caminho/recurso
- B) www + . + nome da conta + nome do provedor
- C) HTTP://máquina/caminho/recurso
- D) nome da caixa postal + @ + nome da empresa
- E) nome da caixa postal + @ + nome do provedor

Questão 30

Observe a seguir uma questão postada numa comunidade técnica:

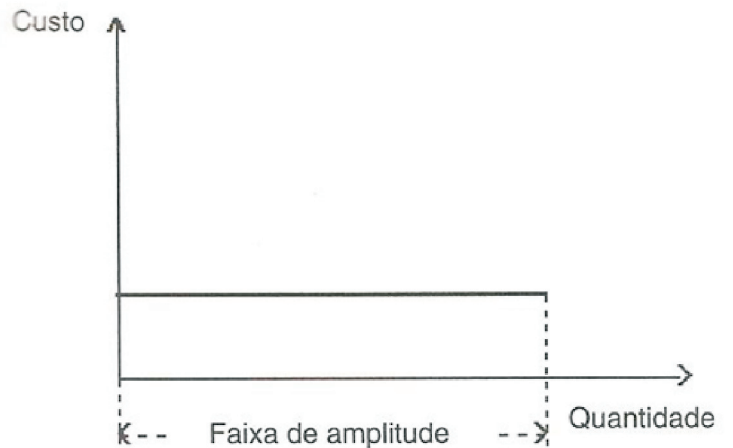
*“Como modificar a configuração do meu computador para 1920x1080?”*

A ferramenta do Windows que permite alterar essa configuração é:

- A) Resolução de Tela.
- B) Protetor de Tela.
- C) Plano de fundo.
- D) Tema.
- E) Fontes e Cores.

CONHECIMENTOS ESPECÍFICOS

Questão 31



Na elaboração de um orçamento de projeto, a definição do custo de execução de cada atividade ou serviço é fundamental. Estes custos podem ser classificados de acordo com o volume de produção. A figura acima representa que tipo de custo?

- A) Variável.
- B) Fixo.
- C) Semivariável.
- D) Total.
- E) Indireto.

Questão 32

De acordo com a NBR 9050 (Acessibilidade a edificações, mobiliários, espaços e equipamentos urbanos), nas bibliotecas e centros de leitura, a largura entre as estantes de livros deve ser de no mínimo:

- A) 80 cm
- B) 85 cm
- C) 90 cm
- D) 95 cm
- E) 100 cm



Questão 33

Nos sanitários e vestiários acessíveis a pessoas com mobilidade reduzida, a instalação de espelhos inclinados, deve atender as seguintes condições:

- A) 10° em relação ao plano vertical, a altura da borda inferior deve ser de no máximo 1,10 m e a da borda superior de no mínimo 1,80 m do piso acabado.
- B) 5° em relação ao plano vertical, a altura da borda inferior deve ser de no máximo 1,00 m e a da borda superior de no mínimo 1,80 m do piso acabado.
- C) 10° em relação ao plano vertical, a altura da borda inferior deve ser de no máximo 1,10 m e a da borda superior de no mínimo 1,70 m do piso acabado.
- D) 8° em relação ao plano vertical, a altura da borda inferior deve ser de no máximo 1,10 m e a da borda superior de no mínimo 1,80 m do piso acabado.
- E) 10° em relação ao plano vertical, a altura da borda inferior deve ser de no máximo 1,00 m e a da borda superior de no mínimo 1,90 m do piso acabado.

Questão 34

Na arquitetura, a pintura possui, além de valor estético, a finalidade de combater a deterioração dos materiais. Uma classificação simplificada das tintas seria a natureza da fase líquida de sua composição. De acordo com essa classificação, podemos afirmar que um exemplo de tinta miscível em água é a tinta do tipo:

- A) laca.
- B) betuminosa.
- C) óleo.
- D) alquídica.
- E) emulsão de polímero.

Questão 35

Na Administração Pública, o Serviço Público é todo serviço prestado pela Administração ou por seus delegados, sob normas e controle estatais. Os serviços classificados como de utilidade pública podem ser prestados por terceiros, nas condições regulamentadas, sob controle estatal, por conta e risco dos prestadores e mediante remuneração dos usuários. São exemplos desses serviços todos os listados abaixo, EXCETO:

- A) energia elétrica.
- B) transporte coletivo.
- C) telefone.
- D) saúde pública.
- E) gás.

Questão 36

A Lei nº 12.651, de 25 de maio de 2012, que dispõe sobre a proteção da vegetação nativa, denomina a área protegida, coberta ou não por vegetação nativa, cuja função ambiental é preservar os recursos hídricos, a paisagem, a estabilidade geológica e a biodiversidade, e também facilitar o fluxo gênico de fauna e flora, proteger o solo e assegurar o bem-estar das populações humanas, como:

- A) Amazônia Legal.
- B) Área de Preservação Permanente.
- C) Reserva Legal.
- D) Área Rural Consolidada.
- E) Reserva Particular do Patrimônio Natural.

Questão 37

O parcelamento do solo urbano, observadas as disposições da Lei Federal nº 6.766/1979 e das legislações estaduais e municipais pertinentes, poderá ocorrer mediante loteamento ou desmembramento. Entende-se por desmembramento:

- A) A subdivisão da gleba em lotes destinados à edificação, com abertura de novas vias de circulação e logradouros públicos, ou prolongamento, modificação ou ampliação das vias existentes.
- B) A subdivisão da gleba em lotes destinados à edificação, com aproveitamento do sistema viário existente, desde que não implique na abertura de novas vias e logradouros públicos, nem no prolongamento, modificação ou ampliação dos já existentes.
- C) A subdivisão da gleba em lotes destinados à edificação, com aproveitamento do sistema viário existente ou a abertura de novas vias e logradouros públicos.
- D) A subdivisão da gleba em lotes destinados à edificação, com aproveitamento do sistema viário existente e a ampliação das vias existentes.
- E) A subdivisão das glebas em lotes destinados à edificação, com abertura de novas vias de circulação, porém sem a modificação ou ampliação das vias existentes.

Questão 38

Os custos indiretos empresariais de um orçamento de projeto relacionam-se com as atividades necessárias ao funcionamento da empresa como um todo, e deverão ser rateados entre todas as obras da empresa. Uma empresa estima que terá, em determinado exercício, um custo anual de construção das obras que irá realizar, de R\$ 650.000,00. Para o primeiro trimestre do ano em foco, avaliam-se os custos da administração central, conforme mostrado no Quadro 7.2.

Quadro 7.2 Mapa trimestral de custos indiretos de empresa

Custos	Jan.	Fev.	Mar.	Total	Anual (×4)
1. Administrativos					
1.1. Salários	3.000	3.320	3.140	9.460	37.840
1.2. Aluguéis	1.200	1.320	1.240	3.760	15.040
1.3. Telefone	200	220	200	620	2.480
1.4. Material de escritório	900	1.000	940	2.840	11.360
1.5. Energia elétrica	100	120	120	340	1.360
2. Comerciais					
2.1. Propaganda	200	220	208	628	2.512
2.2. Assessoria técnica	100	110	104	314	1.256
2.3. Elaboração de propostas	120	132	124	376	1.504
Totais	9.600	10.600	10.000	30.200	120.800

Nota: Valores em milhares de \$.

Com base no quadro acima, a taxa percentual de custos indiretos empresariais a incidir sobre os custos de produção é de aproximadamente:

- A) 17,5%
- B) 18,0%
- C) 18,6%
- D) 19,5%
- E) 20,0%

Questão 39

No procedimento licitatório, o ato pelo qual a Administração atribui ao vencedor o objeto da licitação é o princípio:

- A) da Adjudicação Compulsória.
- B) do Julgamento Objetivo.
- C) da Vinculação ao Instrumento Convocatório.
- D) da Isonomia.
- E) da Legalidade.

Questão 40

A cidade utópica, idealizada por Ebenezer Howard, onde as pessoas vivem de forma harmônica com a natureza, distribuídas em bairros planejados com baixa densidade de ocupação e ampla arborização é denominada:

- A) Subúrbio-Jardim.
- B) Cidade Satélite.
- C) Broadacre City.
- D) Cidade Jardim.
- E) Town City.

Questão 41

Nas instalações elétricas prediais, o diagrama que apresenta partes principais de um sistema elétrico e identifica o número de condutores e seus trajetos, por um único traço, e geralmente representa a posição física dos componentes da instalação é denominado:

- A) unifilar.
- B) funcional.
- C) multifilar.
- D) de distribuição.
- E) trifilar.

Questão 42

A NBR 5410 estabelece critérios para a divisão dos circuitos de distribuição nos projetos de instalações elétricas residenciais. De acordo com essa norma, deve-se prever:

- A) circuito único para iluminação e tomadas de uso geral (TUG).
- B) circuitos independentes, exclusivos para tomadas de uso específico (TUE).
- C) circuito único para todas as tomadas de uso específico (TUE).
- D) apenas um circuito de iluminação independente da carga final.
- E) circuito único para tomadas de uso geral (TUG) e tomadas de uso específico (TUE).

Questão 43

Le Corbusier, nas primeiras décadas do século XX, introduziu o conceito de uma cidade fundada na noção de circulação livre e verde, cuja tipologia dominante eram edifícios altos para administração e habitação coletiva. Apesar da simetria axial, o traçado não previa um poder centralizado. Este modelo racional descentralizado de cidade proposto por Le Corbusier é denominado:

- A) Ville Contemporaine.
- B) Garden City.
- C) Broadacre City.
- D) Ville Radieuse.
- E) Town City.

Questão 44

Nas instalações hidráulicas de uma unidade residencial, o tubo de pequena extensão com roscas na parte interna de cada extremidade, utilizado para conectar dois tubos de mesmo diâmetro é chamado de:

- A) niple.
- B) cap.
- C) tampão.
- D) tê.
- E) luva.

Questão 45

Nos sistemas estruturais, o meio de prender um elemento estrutural a outro ou ao seu alicerce, via de regra, para resistir a forças horizontais e de soerguimento, é denominado:

- A) junta rígida.
- B) tirante.
- C) apoio.
- D) ancoragem.
- E) junta de gonzo.

Questão 46

Em locais de clima quente, a solução ideal para a ventilação permanente em edificações residenciais próximas de fontes promotoras de ruídos projetados ou existentes é:

- A) não localizar as aberturas na fachada voltada para a fonte de ruído.
- B) colocar um muro robusto na frente da fachada voltada para a fonte do ruído.
- C) retirar os obstáculos do caminho da fonte de ruído.
- D) localizar as aberturas na fachada voltada para a fonte de ruído.
- E) colocar obstáculos porosos no caminho da fonte de ruído.

Questão 47

Um problema patológico de uma edificação pode ser entendido como uma situação em que o edifício ou uma parte dele, num determinado instante de sua vida útil, não apresenta o desempenho previsto. Entre as patologias observadas nas pinturas das edificações, a formação de finas partículas, semelhantes a um pó esbranquiçado, sobre a superfície pintada exposta ao tempo, causado normalmente pela aplicação externa de um produto que é indicado apenas para interiores ou pelo uso de tinta de baixa qualidade é a:

- A) saponificação.
- B) eflorescência.
- C) calcinação.
- D) fissura.
- E) trinca.

Questão 48

No desenvolvimento de Projetos de Arquitetura, a Planta de Situação contém os elementos necessários para situar o terreno onde a edificação será construída. Conforme a NBR 6492/94, estes elementos são, EXCETO:

- A) curvas de nível existentes e projetadas.
- B) indicação do Norte.
- C) escala.
- D) vias de acesso, arruamento e logradouros adjacentes.
- E) eixos do projeto.

Questão 49

Nos desenhos dos Projetos de Arquitetura, as linhas de representação seguem os parâmetros da NBR 8403/84. De acordo com essa norma, as linhas de projeção devem ser representadas por:

- A) traço e ponto.
- B) traço e dois pontos.
- C) linha contínua.
- D) linha tracejada.
- E) linha pontilhada.

Questão 50

No programa AutoCAD 14, quando desejamos salvar um desenho com a possibilidade de alterar o nome atual e o local de gravação, acionamos o comando:

- A) *save*.
- B) *export*.
- C) *save as*.
- D) *send*.
- E) *paste special*.