



MINISTÉRIO DA EDUCAÇÃO

FUNDAÇÃO UNIVERSIDADE FEDERAL DO ABC

REITORIA

CONCURSO PÚBLICO

014. PROVA OBJETIVA

BIBLIOTECÁRIO – DOCUMENTALISTA

- ◆ Você recebeu sua folha de respostas e este caderno contendo 60 questões objetivas.
- ◆ Confira seu nome e número de inscrição impressos na capa deste caderno e na folha de respostas.
- ◆ Quando for permitido abrir o caderno, verifique se está completo ou se apresenta imperfeições. Caso haja algum problema, informe ao fiscal da sala.
- ◆ Leia cuidadosamente todas as questões e escolha a resposta que você considera correta.
- ◆ Marque, na folha de respostas, com caneta de tinta azul ou preta, a letra correspondente à alternativa que você escolheu.
- ◆ A duração da prova é de 3 horas e 30 minutos, já incluído o tempo para o preenchimento da folha de respostas.
- ◆ Só será permitida a saída definitiva da sala e do prédio após transcorridos 75% do tempo de duração da prova.
- ◆ Ao sair, você entregará ao fiscal a folha de respostas e este caderno, podendo levar apenas o rascunho de gabarito, localizado em sua carteira, para futura conferência.
- ◆ Até que você saia do prédio, todas as proibições e orientações continuam válidas.

AGUARDE A ORDEM DO FISCAL PARA ABRIR ESTE CADERNO DE QUESTÕES.

CONHECIMENTOS GERAIS

LÍNGUA PORTUGUESA

Leia o texto para responder às questões de números **01** a **06**.

Questão de igualdade

De Barack Obama a Woody Allen, passando pelo “black bloc”, todo mundo resolveu imprecisar contra a desigualdade. Há um interessante debate econômico sobre as repercussões sociais de diferenças crescentes entre a renda dos mais pobres e a dos mais ricos.

Para os teóricos mais à direita, a disparidade não chega a ser um problema. Desde que não haja miséria e os mais pobres tenham assegurada uma existência digna, a desigualdade funciona até como um motor da economia. É para comprar um carrão melhor do que o do vizinho que o sujeito se dispõe a trabalhar mais.

Economistas mais à esquerda, entretanto, afirmam que, quando a diferença entre a maior e a menor remuneração cresce demais, a mobilidade social fica emperrada, o que gera uma série de problemas. Sistemas que beneficiam apenas uma elite, além de fracassarem em seu compromisso democrático, carregam as sementes de sua própria destruição.

Nessa discussão, sou agnóstico e penso até que os dois lados podem estar certos. Mas há uma questão anterior, como coloca o filósofo Stephen Asma em “Against Fairness”.

Para Asma, nós, seres humanos, estamos biologicamente programados para favorecer os próximos. O amor é discriminatório, diz. Se mães não protegessem suas crias, mamíferos e aves seriam inviáveis. Esse pendor simplesmente não combina com as exigências republicanas que nos impomos, ocasionando paradoxos. Acertadamente, condenamos o juiz que contrata parentes para seu gabinete, mas também recriminamos o empresário de sucesso que deixa de empregar seu irmão necessitado.

Uma igualdade estrita exigiria que eu dê a meu filho o mesmo valor que atribuo ao filho de um desconhecido e que dispense ao mendigo o tratamento que concedo a um amigo. Para Asma, éticas consequencialistas, centradas na igualdade, têm algo de profundamente desumano.

(Helio Schwartzman. *Folha de S.Paulo*. 11.08.2013. Adaptado)

01. De acordo com o texto,

- (A) os governantes estão empenhados em evitar as repercussões sociais negativas provocadas pelo debate sobre a desigualdade social.
- (B) para os economistas, teóricos com postura política de esquerda são responsáveis pelo recente debate em torno da desigualdade.
- (C) a crescente discussão sobre a má distribuição de riquezas contribuiu para o surgimento de medidas concretas a fim de corrigir a desigualdade.
- (D) as consequências sociais da crescente diferença entre a renda dos mais ricos e a dos mais pobres têm sido intensamente discutidas.
- (E) economistas são unânimes em defender que a desigualdade é economicamente inviável, pelo fato de não possibilitar mobilidade social.

02. Segundo a opinião do autor, o fato de condenarmos o juiz que contrata parentes para seu gabinete, mas recriminarmos o empresário que deixa de empregar seu irmão necessitado se revela como uma

- (A) coerência.
- (B) virtude.
- (C) indecisão.
- (D) paridade.
- (E) contradição.

03. Segundo o pensamento do filósofo Stephen Asma, expresso no penúltimo parágrafo do texto, a propensão natural para favorecer os mais próximos

- (A) inexistente entre seres humanos.
- (B) inviabiliza a manutenção da vida.
- (C) é inerente aos seres humanos.
- (D) é uma imperfeição do instinto materno.
- (E) é o que distingue o homem das outras espécies.

04. O termo destacado na frase – É **para** comprar um carrão melhor do que o do vizinho que o sujeito se dispõe a trabalhar mais. –, no contexto, expressa

- (A) finalidade.
- (B) causa.
- (C) condição.
- (D) consequência.
- (E) conclusão.

05. Assinale a alternativa cujo termo em destaque expressa circunstância de posse.

- (A) **De** Barack Obama a Woody Allen, passando pelo “black bloc”, todo mundo resolveu imprecisar...
- (B) É para comprar um carrão melhor do que o **do** vizinho que o sujeito se dispõe a trabalhar mais.
- (C) ... a mobilidade social fica emperrada, o que gera uma série **de** problemas.
- (D) ... além **de** fracassarem em seu compromisso democrático, carregam as sementes de sua própria destruição.
- (E) ... recriminamos o empresário de sucesso que deixa **de** empregar seu irmão necessitado.

06. Assinale a alternativa em que a palavra ou expressão destacada está empregada, no contexto do texto, em sentido figurado.

- (A) Há um **interessante debate** econômico sobre as repercussões sociais. (1.º parágrafo)
- (B) Desde que não haja miséria e os mais pobres tenham assegurada uma **existência digna**... (2.º parágrafo)
- (C) ... a **desigualdade** funciona até como um motor da economia. (2.º parágrafo)
- (D) ... além de fracassarem em seu compromisso democrático, carregam **as sementes** de sua própria destruição. (3.º parágrafo)
- (E) Acertadamente, **condenamos** o juiz que contrata parentes para seu gabinete... (5.º parágrafo)

07. Assinale a alternativa correta quanto à concordância, de acordo com a norma-padrão da língua portuguesa.

- (A) A má distribuição de riquezas e a desigualdade social está no centro dos debates atuais.
- (B) Políticos, economistas e teóricos diverge em relação aos efeitos da desigualdade social.
- (C) A diferença entre a renda dos mais ricos e a dos mais pobres é um fenômeno crescente.
- (D) A má distribuição de riquezas tem sido muito criticado por alguns teóricos.
- (E) Os debates relacionado à distribuição de riquezas não são de exclusividade dos economistas.

08. Considere o seguinte trecho:

Sistemas que beneficiam apenas uma elite, além de fracassarem em seu compromisso democrático, carregam as sementes de sua própria destruição.

Assinale a alternativa em que o trecho está corretamente reescrito, no que diz respeito às regras de pontuação, de acordo com a norma-padrão da língua portuguesa.

- (A) Além de fracassarem em seu compromisso democrático, sistemas que beneficiam apenas uma elite, carregam as sementes de sua própria destruição.
- (B) Além de fracassarem em, seu compromisso democrático, sistemas que beneficiam apenas uma elite carregam as sementes, de sua própria destruição.
- (C) Sistemas que beneficiam apenas uma elite, carregam as sementes de sua própria destruição, além de fracassarem, em seu compromisso democrático.
- (D) Sistemas que beneficiam apenas uma elite, carregam as sementes de sua própria destruição, além de fracassarem em seu compromisso, democrático.
- (E) Sistemas que beneficiam apenas uma elite carregam as sementes de sua própria destruição, além de fracassarem em seu compromisso democrático.

Leia a tira para responder às questões de números 09 e 10.



(Disponível em: <http://revistaescola.abril.com.br>. Acesso em 21.08.2013)

09. A oração do primeiro quadrinho – ... se não houver mais perguntas... – está corretamente reescrita e sem alteração do sentido em:

- (A) ... mesmo que não hajam mais perguntas...
- (B) ... de modo que não houve mais perguntas...
- (C) ... caso não haja mais perguntas...
- (D) ... quando não houver mais perguntas...
- (E) ... ainda que não houverem mais perguntas...

10. Releia a fala do terceiro quadrinho da tira:

Eu me referi a perguntas sobre a matéria **que** estamos estudando.

Considerando as regras de regência, de acordo com a norma-padrão da língua portuguesa, o termo em destaque no trecho pode ser corretamente substituído por:

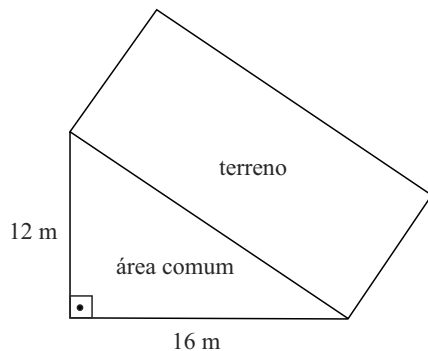
- (A) a qual.
- (B) da qual.
- (C) em cuja.
- (D) na qual.
- (E) pela qual.

11. Certa empresa da área de tecnologia da informação tem computadores com memória volátil (RAM) de 8 gigabytes. Sabendo-se que cada gigabyte corresponde a 2^{30} bytes, então a quantidade de bytes de RAM de cada computador é
- (A) 2^{31} .
 (B) 2^{32} .
 (C) 2^{33} .
 (D) 2^{38} .
 (E) 2^{90} .
12. O visor de LCD de certa calculadora está com defeito, de modo que alguns algarismos, marcados em cor escura na figura, não aparecem.

$$\begin{array}{r} 293 \blacksquare \\ \times 3 \\ \hline 8 \blacksquare 0 2 \end{array}$$

Supondo que os outros algarismos aparecem corretamente e de acordo com a operação aritmética indicada, a soma dos dois algarismos que não aparecem no visor é

- (A) 12.
 (B) 13.
 (C) 14.
 (D) 15.
 (E) 16.
13. Um terreno retangular de um condomínio tem um dos lados que faz divisa inteiramente com uma área comum do loteamento, como mostra a figura. A área comum é um triângulo retângulo com as medidas dos catetos indicadas na figura.



Sabendo-se que a área do terreno retangular é 160 m^2 , o seu perímetro é

- (A) 40 m.
 (B) 56 m.
 (C) 72 m.
 (D) 80 m.
 (E) 96 m.

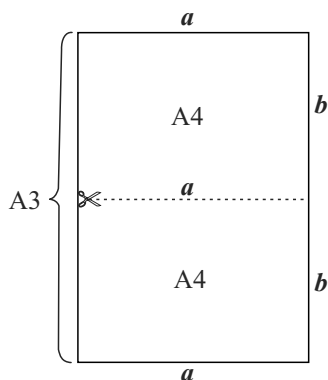
14. Em certa empresa de tecnologia da informação, os funcionários Abel, Beatriz e Carlos trabalham em horários variados. No dia 19.08.2013, Abel entrou às 08h00 e saiu 12 horas depois. No mesmo dia, Beatriz entrou às 14h30 e saiu 12 horas depois, e Carlos entrou às 17h40 e saiu às 23h00 do mesmo dia. Nesse dia, os três funcionários estiveram ao mesmo tempo na empresa por um período de

- (A) 50 minutos.
- (B) 1 hora e 15 minutos.
- (C) 1 hora e 40 minutos.
- (D) 2 horas.
- (E) 2 horas e 20 minutos.

15. Um jardineiro preencheu parcialmente, com água, 3 baldes com capacidade de 15 litros cada um. O primeiro balde foi preenchido com $\frac{2}{3}$ de sua capacidade, o segundo com $\frac{3}{5}$ da capacidade, e o terceiro, com um volume correspondente à média dos volumes dos outros dois baldes. A soma dos volumes de água nos três baldes, em litros, é

- (A) 27.
- (B) 27,5.
- (C) 28.
- (D) 28,5.
- (E) 29.

16. A figura sem escala definida representa uma folha de papel retangular tamanho A3 que, quando cortada ao meio, paralelamente a seu lado menor, gera 2 folhas de tamanho A4. O lado maior da folha A4 corresponde ao corte.



Uma propriedade interessante é que a razão entre as medidas do lado maior a e do lado menor b da folha A4 é igual à razão entre as medidas do lado maior e do lado menor da folha A3. Assim, sabendo que a medida b é 21 cm, a medida a é igual a

- (A) $10,5 \cdot \sqrt{2}$ cm.
- (B) 21 cm.
- (C) $21 \cdot \sqrt{2}$ cm.
- (D) 42 cm.
- (E) $42 \cdot \sqrt{2}$ cm.

17. Félix aplicou uma quantia de R\$ 7.000,00 com taxa de juro simples de 2% ao mês, durante 10 meses. O montante gerado correspondeu a 40% dos 10 meses de salário líquido que Félix recebeu nesse período. Portanto, o salário líquido mensal de Félix é
- (A) R\$ 1.200,00.
 - (B) R\$ 1.400,00.
 - (C) R\$ 1.800,00.
 - (D) R\$ 2.100,00.
 - (E) R\$ 2.400,00.

18. Um atleta está treinando corrida diariamente e montou a seguinte tabela, que mostra o percurso dia a dia.

Dia	Percurso (m)
1.º	4 500
2.º	4 700
3.º	5 000
4.º	4 800
5.º	-----

O objetivo do atleta é alcançar uma média diária, nesses 5 dias, de 5 km de percurso. Para alcançar essa meta, ele deverá percorrer, no 5.º dia,

- (A) 5 km.
 - (B) 6 km.
 - (C) 7 km.
 - (D) 8 km.
 - (E) 9 km.
19. Ana, Bento, Célia, Dario e Eva são cinco irmãos, não necessariamente nessa ordem de idades. Dario é mais velho que Célia, e esta é mais nova que Bento. Eva e Ana são ambas mais novas que Bento e mais velhas que Dario. Dentre todos os irmãos e irmãs, quem tem menos idade é
- (A) Ana.
 - (B) Bento.
 - (C) Célia.
 - (D) Dario.
 - (E) Eva.
20. O uso das lâmpadas domésticas comuns de filamento está sendo, aos poucos, descontinuado, com substancial economia de energia elétrica. Em certa residência, 10 lâmpadas de filamento, acesas em média 5 horas por dia, geravam um custo total de R\$ 0,15 por dia. Foram substituídas por 20 lâmpadas fluorescentes compactas, que agora ficam acesas em média 6 horas por dia. Cada lâmpada fluorescente consome apenas 25% do que consumia cada lâmpada de filamento, no mesmo tempo de uso. Portanto, o gasto diário devido a todas as novas lâmpadas passou a ser de
- (A) R\$ 0,15.
 - (B) R\$ 0,14.
 - (C) R\$ 0,12.
 - (D) R\$ 0,10.
 - (E) R\$ 0,09.

LEGISLAÇÃO




21. Nos termos da Lei n.º 8.112/90, ao entrar em exercício, o servidor nomeado para cargo de provimento efetivo ficará sujeito a estágio probatório, durante o qual a sua aptidão e capacidade serão objeto de avaliação para o desempenho do cargo, observados, entre outros, os seguintes fatores:
- (A) disciplina e subserviência.
 - (B) ingerência e responsabilidade.
 - (C) assiduidade e produtividade.
 - (D) fidelidade e lealdade.
 - (E) pontualidade e leniência.
22. Ao servidor público, cujo regime jurídico é regido pela Lei n.º 8.112/90, é proibido
- (A) atribuir fé a documentos públicos.
 - (B) utilizar pessoal ou recursos materiais da repartição em serviços ou atividades particulares.
 - (C) tratar com indiferença ou urbanidade as pessoas.
 - (D) representar contra ilegalidade, omissão ou abuso de poder.
 - (E) opor resistência, ainda que justificadamente, ao andamento de documento e processo ou execução de serviço.
23. Conforme o disposto na Lei n.º 8.666/93, a alienação de bens da Administração Pública, em regra,
- (A) é permitida, mas subordinada ao interesse público justificado e precedida de avaliação.
 - (B) é vedada em qualquer hipótese, uma vez que os bens públicos não podem ser alienados.
 - (C) é permitida, independentemente de licitação, obedecido o interesse da Administração.
 - (D) dispensa a avaliação prévia quando se tratar de bens móveis.
 - (E) quando de bens imóveis, dependerá de avaliação prévia e de licitação na modalidade de leilão.
24. Considerando o que estabelece a Lei n.º 8.666/93 a respeito dos contratos administrativos, é correto afirmar que
- (A) a única modalidade de garantia que pode ser aceita pela Administração Pública é a fiança-bancária.
 - (B) não admitem a presença de cláusulas exorbitantes.
 - (C) permite à Administração Pública, em alguns casos, rescindi-los, unilateralmente.
 - (D) as cláusulas econômico-financeiras e monetárias podem ser alteradas sem prévia concordância do contratado.
 - (E) o contratado não poderá manter preposto no local da obra ou serviço quando da execução do contrato.

25. Assinale a alternativa que está de acordo com a Lei de Acesso à Informação (Lei n.º 12.527/11).

- (A) Subordinam-se ao regime dessa Lei os órgãos públicos integrantes da administração direta, exceto as empresas públicas e as sociedades de economia mista.
- (B) Considera-se informação sigilosa aquela submetida à restrição de acesso público em razão de sua imprescindibilidade para a imagem da Administração Pública.
- (C) A negativa de acesso às informações objeto de pedido formulado aos órgãos públicos sujeitará o responsável à pena de prisão.
- (D) O serviço de busca e fornecimento da informação será cobrado diretamente do interessado, não podendo ser subsidiado pelo poder público.
- (E) Quando se tratar de acesso à informação contida em documento cuja manipulação possa prejudicar sua integridade, deverá ser oferecida a consulta de cópia, com certificação de que esta confere com o original.

NOÇÕES DE INFORMÁTICA

26. Considere a figura a seguir, extraída do Windows Explorer no MS-Windows 7, em sua configuração padrão.


Nome	Tamanho
 Arquivos do Outlook	
 Linha do Tempo 2011	136 KB
 Linha do Tempo 2012	205 KB
 Livros	1.648 KB
 Mapa Político Brasil	567 KB

Assinale a alternativa que contém o nome de um arquivo do tipo apresentação do MS-PowerPoint 2010.

- (A) Arquivos do Outlook.
- (B) Linha do Tempo 2011.
- (C) Linha do Tempo 2012.
- (D) Livros.
- (E) Mapa Político Brasil.

27. Considere a planilha a seguir, extraída do MS-Excel 2010, em sua configuração padrão. O número da célula A1 está formatado na categoria moeda.

	A	B
1	R\$ 0,50	
2		

Assinale a alternativa que apresenta o valor dessa célula, após a aplicação do recurso de formatação associado ao ícone , encontrado no grupo “Número” da guia “Página Inicial”.

- (A) R\$ 0,05
- (B) R\$ 50
- (C) 0,50%
- (D) 5%
- (E) 50%

Nas questões de números 28 e 29, assinale a alternativa que preenche corretamente a lacuna do texto.

28. No MS-Word 2010, em sua configuração padrão, o usuário pode adicionar _____ a figuras e utilizá-las(os) na criação de índices de ilustrações.

- (A) marcadores
- (B) notas
- (C) anotações
- (D) legendas
- (E) comentários

29. O modo de exibição de apresentação _____ da guia “Exibição” do MS-PowerPoint 2010, em sua configuração padrão, permite editar as anotações do orador da forma como ficarão quando forem impressas.

- (A) Modo Exibição de Leitura
- (B) Anotações
- (C) Normal
- (D) Classificação de Slides
- (E) Slide Mestre

30. Para atualizar uma página Web exibida no Internet Explorer 8, o usuário pode utilizar a seguinte tecla de atalho:

- (A) F1
- (B) F4
- (C) F5
- (D) F7
- (E) F12

CONHECIMENTOS ESPECÍFICOS

31. A evolução da oferta de informações é marcada pela sua expansão quantitativa e a implosão do tempo para sua comunicação. Diversas são as características desse processo, tais como

- (A) a falta de tempo para consumir e comunicar informação, pela rapidez com que a internet dissemina novas informações.
- (B) a multiplicação da informação, com o advento da escrita, a necessidade de métodos novos de armazenamento, e a transferência da função de memória social às bibliotecas.
- (C) a Ciência da Informação ter passado a função de comunicação da informação para áreas como Jornalismo e Publicidade, a fim de dedicar-se preponderantemente à sua organização.
- (D) o primeiro “boom” da informação corresponder à massificação do acesso à internet, ocorrido nos anos noventa do século passado.
- (E) a crise na Biblioteconomia, provocada pela implosão da informação que leva a mudar seu nome para Ciência da Informação.

32. Sobre a Ciência da Informação e suas interfaces documentais, pode-se dizer que

- (A) o termo Biblioteconomia é utilizado para indicar a atividade de gestão de acervos de arquivos e museus, imputando à Documentação as ações de digitalização.
- (B) a Biblioteconomia engloba a Documentação e a Arquivologia, no que compete aos princípios de estudo de usuários e registro informacional.
- (C) essa ciência tem suas origens na Revolução Francesa, com a formação das primeiras instituições de arquivos para salvaguarda de documentos.
- (D) a Museologia foi oficialmente incorporada à Ciência da Informação no encontro anual da IFLA, de 1995, em Istambul.
- (E) a Documentação refere-se ao conjunto de técnicas de representação de conteúdo de documentos, visando sua recuperação, acesso e uso.

33. São consideradas fontes primárias, secundárias e terciárias de informação, respectivamente,

- (A) congressos, legislação e centros de informação.
- (B) relatórios técnicos, teses e manuais.
- (C) enciclopédias, catálogos de biblioteca e traduções.
- (D) tabelas, patentes e bibliotecas.
- (E) normas técnicas, dicionários e bibliografias de bibliografias.

- 34.** As bibliotecas universitárias têm como principal finalidade
- (A) preservar a memória nacional, com ênfase na produção bibliográfica de um país.
 - (B) estimular nas comunidades locais o hábito da leitura e preservar seu acervo cultural.
 - (C) atender às necessidades de estudo, consulta e pesquisa de professores e alunos do ensino superior.
 - (D) dedicar-se à coleta e à organização de conhecimentos específicos e à recreação dos usuários.
 - (E) atender os usuários com deficiência, oferecendo acervos específicos para suas necessidades.
- 35.** O AACR2 está organizado em capítulos, com regras referentes à descrição de tipos de materiais específicos, de forma que
- (A) livros e folhetos são tratados como monografias, mas folhas impressas soltas não são incluídas no mesmo capítulo.
 - (B) teses, dissertações e trabalhos de conclusão de curso são incluídos no capítulo de manuscritos.
 - (C) filmes cinematográficos e gravações de vídeo são tratados no capítulo de materiais iconográficos.
 - (D) teses, dissertações e trabalhos de conclusão de curso são incluídos no capítulo de monografias.
 - (E) música impressa, como partituras, e as gravações de som, como discos, fitas e CDs são incluídos no mesmo capítulo.
- 36.** Catalogação é
- (A) o preparo dos registros oficiais e completos de cada nova publicação editada para compor a bibliografia nacional.
 - (B) o estudo, preparação e organização de registros do conhecimento passíveis de inclusão em um ou vários acervos.
 - (C) um sistema lógico de arranjo de conhecimento, baseado em uma estrutura arborescente por ajustamento das classes que o compõem.
 - (D) qualquer combinação organizada de pessoas, *hardware*, *software*, redes de comunicação, em fichas de biblioteca ou em bases de dados.
 - (E) mensagens veiculadas por meio de símbolos e sinais, que precisam ser entendidos, pelas pessoas, pela comunicação oral.
- 37.** Sobre ponto de acesso ou cabeçalho, é correto afirmar que
- (A) a determinação dos pontos de acesso do item catalogado começa pela fonte secundária de informação para esse item, ou por qualquer parte do item que seja usada em sua substituição.
 - (B) na escolha dos cabeçalhos, é necessário indicar informações encontradas fora do item, para aumentar a revocação na aplicação das estratégias de buscas e na recuperação da informação.
 - (C) é um nome, termo, título ou expressão, pelo qual o usuário pode procurar a representação bibliográfica de um recurso, ou o próprio recurso eletrônico, por acesso remoto.
 - (D) o cabeçalho de uma obra, emanada de uma ou mais entidades, deve ter sua entrada estabelecida para a entidade correspondente somente se for de uma obra de natureza administrativa, que trata da própria entidade.
 - (E) o ponto de acesso deve ser apresentado como entrada de título principal e título uniforme, mesmo que a obra tenha autoria pessoal conhecida, ou seja proveniente de uma entidade reconhecida.
- 38.** Catálogos de autoridade são
- (A) as diversas alternativas de entrada para os mesmos pontos de acesso principais e secundários.
 - (B) o conteúdo intelectual ou artístico do documento, cujo ponto de acesso pode ter diferentes formatos.
 - (C) as listas de apêndices para uso de maiúsculas, abreviaturas e numerais, no AACR2.
 - (D) as listas de cabeçalhos autorizados que controlam e padronizam as formas de entrada dos registros de um sistema de informação.
 - (E) os documentos históricos das autoridades pesquisadas, cujo nome certo em português pode conter diferenças específicas.
- 39.** Sobre a Classificação Decimal de Dewey, é correto afirmar que
- (A) foi elaborada por John Dewey, em 1876, nos Estados Unidos, para a organização da biblioteca onde ele estudava.
 - (B) possui, atualmente, mais de cinquenta mil entradas, com edições completas em inglês, francês e português, e edições resumidas em inglês e alemão.
 - (C) comporta dez classes principais: 0 Generalidades, 1 Filosofia, 2 Religião, 3 Ciências Sociais, 4 Vazia, 5 Ciências Puras, 6 Tecnologia, 7 Artes, 8 Literatura e 9 História e Geografia.
 - (D) foi elaborada por Melvil Dewey, e publicada em 1873, nos Estados Unidos, para a organização da biblioteca de seu orientador.
 - (E) comporta dez classes principais: 000 Generalidades, 100 Filosofia, 200 Religião, 300 Ciências Sociais, 400 Linguística, 500 Ciências Puras, 600 Tecnologia, 700 Artes, 800 Literatura e 900 História e Geografia.

40. Sobre a seleção da notação da CDD, assinale a afirmação correta.
- (A) Após determinar o assunto e o ponto de vista sob o qual é tratado, existem duas aproximações básicas para consulta ao esquema de classificação: pelo esquema diretamente e por meio do índice.
 - (B) O classificador, iniciante ou perito, deverá classificar somente por meio do índice, que oferece as direções para o esquema; é exaustivo e reproduz a riqueza de informações disponíveis.
 - (C) Se a aproximação for direta, o classificador determinará o assunto específico do documento, em seguida procurará as subseções, depois a seção, para, finalmente, indicar em qual das dez classes a obra se insere.
 - (D) A cada passo da classificação há notas e explicações que somente deverão ser seguidas caso seja recomendado explicitamente no índice.
 - (E) Ao subir e descer na hierarquia, o classificador deve observar os cabeçalhos centrais, identificados com a indicação “CC”, e os indicadores adjacentes, identificados por “CA”, e seguir com a observação das notas obrigatórias “NO”.
41. Na indexação, como processo de análise de conteúdo informacional,
- (A) atinência é o termo utilizado para definir a qualidade da indexação em relação à exaustividade.
 - (B) as principais etapas são: identificação dos descritores, análise do contexto e tradução em linguagem artificial.
 - (C) o principal objetivo de um grupo de termos é indicar de que trata o documento.
 - (D) a linguagem documentária contempla exaustivamente a terminologia utilizada pelo autor do documento.
 - (E) os tipos de metodologia são: indexação indicativa, indexação informativa e indexação crítica.
42. A indexação automática
- (A) depende apenas de um vocabulário controlado acoplado ao sistema indexador para ser bem sucedida.
 - (B) garante em até cem por cento a consistência, se for realizada por meio de atribuição e não por extração.
 - (C) utiliza no Brasil os seguintes aplicativos: o SISA, desenvolvido na Espanha, o norte-americano PRECIS, e o TECER, do IBICT.
 - (D) compreende a indexação assistida por computador, a indexação semiautomática e a indexação automática propriamente dita.
 - (E) contribui para a elaboração de resumos indicativos de melhor qualidade.
43. A biblioteca universitária, para atender os cursos de graduação e de pós-graduação com eficiência, apoia-se em políticas de acervo com
- (A) forte tendência ao crescimento.
 - (B) variedade reduzida de materiais.
 - (C) elevada tendência ao descarte.
 - (D) pouca relação custo-benefício.
 - (E) pouca relação custo-efetividade.
44. A comutação bibliográfica é um serviço oferecido pelas bibliotecas que permite
- (A) a impressão de artigos de periódicos *on-line* disponíveis na biblioteca de origem do pesquisador.
 - (B) o fornecimento de pesquisas bibliográficas realizadas por meio de estratégias de busca específicas.
 - (C) a orientação para desenvolver no usuário a competência e a autonomia nas pesquisas bibliográficas.
 - (D) a obtenção de cópias de documentos técnico-científicos existentes em acervos de outras bibliotecas.
 - (E) a busca de informações bibliográficas por meio da internet com ênfase no texto completo.
45. O serviço de referência permite
- (A) auxiliar os usuários a melhor aproveitar os recursos informacionais disponíveis na biblioteca em qualquer formato.
 - (B) melhorar os sistemas de classificação e catalogação elaborados pelos auxiliares de bibliotecas.
 - (C) tornar as estruturas de atendimento da biblioteca compatíveis com as necessidades dos bibliotecários.
 - (D) reforçar o pouco uso do acervo da biblioteca, já que a ênfase do serviço é a manutenção da memória institucional.
 - (E) priorizar a utilização do acervo de livros, pois o atendimento do serviço restringe-se a estes materiais.
46. O bibliotecário de referência de uma biblioteca universitária negocia a questão inicial apresentada pelo usuário quando
- (A) ficar evidente que o usuário encontra-se em condições de localizar o que quer, sem mediação.
 - (B) for formulada de modo a necessitar de ajustes para tornar clara a real necessidade de informação do usuário.
 - (C) traz os conceitos e terminologia da área de forma a atender a necessidade de busca sem mediação.
 - (D) se trata de pergunta objetiva referente a informações que existem na sinalização da biblioteca.
 - (E) o usuário mostrar que necessita de informação sobre localização geográfica, no campus da universidade.

47. A disseminação seletiva da informação pode ser considerada como um serviço
- (A) geral e não especializado, voltado para públicos com diferentes perfis.
 - (B) especializado que abrange todas as áreas do conhecimento para o mesmo perfil.
 - (C) geral e especializado, que contém, simultaneamente, todas as informações existentes.
 - (D) especializado e direcionado a perfis específicos do público usuário.
 - (E) desvinculado de perfil específico de usuário, com informações desatualizadas.
48. A tecnologia da informação permitiu o avanço dos serviços de alertas, tornando comum, para este fim, nos periódicos científicos, o uso do
- (A) RSS.
 - (B) CHAT.
 - (C) HTML.
 - (D) RDF.
 - (E) XML.
49. O Portal de Periódicos da CAPES é uma biblioteca virtual que
- (A) permite que todos os cidadãos acessem periódicos científicos e bases de dados internacionais.
 - (B) oferece poucos recursos de pesquisa para o desenvolvimento da produção científica brasileira.
 - (C) disponibiliza revistas científicas e bases de dados nacionais e internacionais às instituições de ensino e pesquisa.
 - (D) permite o acesso a bases de dados bibliográficos, mas não oferece acesso a bases de patentes.
 - (E) visa oferecer exclusividade no atendimento de pesquisas sobre a produção científica brasileira.
50. Um sistema de armazenamento e recuperação de informação apresenta o seguinte fluxo lógico:
- (A) referência, produção, classificação, apropriação, uso e armazenamento.
 - (B) seleção, entrada, classificação, armazenamento, recuperação e uso.
 - (C) uso, avaliação, entrada, seleção, pesquisa e recuperação.
 - (D) seleção, análise, avaliação, produção, assimilação e apropriação.
 - (E) entrada, análise, classificação, pesquisa, recuperação e assimilação.
51. Os padrões mais utilizados nos sistemas de automação de bibliotecas são:
- (A) a norma ABNT NBR 16501:2011 e a ISO 14001.
 - (B) as normas ISO 5127, ISO 5964 e o formato UNISIST.
 - (C) os formatos MARC, MODS e MADS.
 - (D) as normas ISO 25964-1, ISO 25964-2 e ANSI/NISO Z39.19.
 - (E) a norma ISO 2709, o protocolo Z39.50 e o formato MARC.
52. Os registros bibliográficos organizados em forma de fichas catalográficas passam, durante a automação de bibliotecas, por um processo de inclusão no sistema denominado
- (A) alimentação automática.
 - (B) conversão retrospectiva.
 - (C) indexação retrospectiva.
 - (D) conversão automática.
 - (E) catalogação automática.
53. As bases de dados referenciais
- (A) contêm informações secundárias que identificam as várias fontes de informação primárias.
 - (B) dão respostas completas a determinada pergunta, funcionando como substitutos dos documentos originais.
 - (C) podem ser bibliográficas, com referências ou citações, desde que acompanhadas de resumos.
 - (D) são os diretórios que trazem referências, resumos e informações primárias sobre especialistas, projetos de pesquisa e organizações.
 - (E) são bases que fazem a mediação entre usuário e acervo, substituindo o serviço de referência dos centros de documentação.
54. Considerando bibliotecas, centros de documentação, centros de informação e a Web 2.0, são possibilidades de interação com o usuário, nesse contexto,
- (A) o Facebook e o CDS-ISIS.
 - (B) o *e-mail* e o Flickr.
 - (C) os *blogs* e o Twitter.
 - (D) as Wikis e as enciclopédias.
 - (E) o serviço de referência e as bases bibliográficas.

55. As funções de planejamento, em uma unidade de informação,

- (A) estabelecem o diagnóstico e a avaliação, na organização, como as únicas funções relevantes.
- (B) adotam procedimentos para acelerar o processo de mudanças organizacionais e, em seguida, realizam diagnóstico específico.
- (C) formulam a adoção de processos e técnicas cujas implicações futuras, em relação aos objetivos estabelecidos, são secundárias.
- (D) apoiam o processo decisório, trazem racionalidade às decisões e orientam as ações na organização.
- (E) iniciam a implantação, o controle e a avaliação de processos simultaneamente à análise do objeto do planejamento.

56. O *marketing* de uma biblioteca universitária tem como principais atividades

- (A) confeccionar *folders* como método principal de divulgação e promoção de produtos e serviços aos usuários.
- (B) tornar produtos e serviços conhecidos e atraentes aos usuários, evidenciando os benefícios e a forma de usá-los.
- (C) manter os sistemas de organização e de armazenamento da informação alinhados com os objetivos institucionais.
- (D) transformar o ambiente e os serviços da biblioteca para que obtenham sustentabilidade.
- (E) disponibilizar o catálogo bibliográfico, em versão *on-line*, aos usuários preferenciais.

57. Em relação às normas da Associação Brasileira de Normas Técnicas (ABNT) para a área de informação e documentação a

- (A) NBR 6023 é usada para Citações em Documentos.
- (B) NBR 14724 é usada para Elaboração de Relatórios Técnico-Científicos.
- (C) NBR 6028 é usada para Elaboração de Resumos.
- (D) NBR 10719 é usada para Elaboração de Trabalhos Acadêmicos.
- (E) NBR 10520 é usada para Elaboração de Referências.

58. De acordo com a Norma ABNT de Elaboração de Referências, assinale a alternativa correta para referenciar o item reproduzido a seguir.



(A) PPGCI. **IRIS: Informação, Memória e Tecnologia**. Recife: UFPE, dez. 2012. v.1, n.1.

(B) **IRIS: Informação, Memória e Tecnologia**. Recife, n.1, v.1, dez. 2012.

(C) **Informação, Memória e Tecnologia (IRIS)**, Recife, n.1, v.1, dez. 2012.

(D) PPGCI (2012). **IRIS: Informação, Memória e Tecnologia**. Recife, n.1, v.1, dez.

(E) **IRIS: Informação, Memória e Tecnologia**, Recife, v.1, n.1, dez. 2012.

59. Sobre o Conselho Federal de Biblioteconomia, é correto afirmar que

(A) é uma autarquia federal dotada de personalidade jurídica de direito público, com autonomia administrativa, patrimonial e financeira.

(B) é bianualmente atualizado, no que se refere a normas e diretrizes, pela colaboração dos Conselhos Regionais de Biblioteconomia, por meio de votação de seus representantes.

(C) é uma instituição que necessita da obtenção de lucros para bonificar igualmente seus dirigentes e conselheiros.

(D) é composta de Presidente, Vice-Presidente, 1.º e 2.º Secretários e Tesoureiro, eleitos pelos seus plenários para um mandato de dois anos.

(E) é o órgão responsável por providenciar os documentos para o exercício profissional dos bibliotecários que não têm Conselho Regional em seu estado.

60. Sobre a Lei que dispõe sobre a profissão de bibliotecário e regula seu exercício, é correto dizer que
- (A) se trata da Lei n.º 4.048, de 31 de julho de 1952, assinada pelo presidente João Goulart, que não se relaciona diretamente com o texto publicado no D.O.U. de 2.7.1952.
 - (B) dispõe que o exercício da profissão é permitido aos diplomados por escolas ou cursos de curta duração ou especialização.
 - (C) define como atribuições: a organização, direção e execução de serviços técnicos em repartições públicas federais, estaduais, municipais, autárquicas e empresas.
 - (D) dispõe que os bibliotecários que trabalham em instituições públicas terão descontos na anuidade referente ao Conselho Regional de Biblioteconomia.
 - (E) libera os bibliotecários registrados nos conselhos regionais da apresentação do diploma de bacharel para provimento e exercício de cargos técnicos.

