

# Município de Cantagalo

ESTADO DO RIO DE JANEIRO

## CONCURSO PÚBLICO Nº 001/2013



## Biólogo

## MANHÃ

Organizadora:



**CARGO: BIÓLOGO**

**Texto**

**Envelhecer com mel ou fel?**

Conheço muitas pessoas que estão envelhecendo mal. Desconfortavelmente. Com uma infelicidade crua na alma. Estão ficando velhas, mas não estão ficando sábias. Um rancor cobre-lhes a pele, a escrita e o gesto. São críticos azedos, aliás estão ficando cítricos sem nenhuma doçura nas palavras. Estão amargos. Com fel nos olhos.

[...]

Envelhecer deveria ser como planar. Como quem não sofre mais (tanto) com os inevitáveis atritos. Assim como a nave que sai do desgaste da atmosfera e vai entrando noutra astral, e vai silente, e vai gastando nenhum-quase combustível, flutuando como uma caravela no mar ou uma cápsula no cosmos.

Os elefantes, por exemplo, envelhecem bem. E olha que é uma tarefa enorme. Não se queixam do peso dos anos, e nem da ruga do tempo, e, quando percebem a hora da morte, caminham pausadamente para um certo lugar – o cemitério dos elefantes, e aí morrem, completamente, com a grandeza existencial só aos sábios permitida.

Os vinhos envelhecem melhor ainda. Ficam ali nos limites de sua garrafa, na espessura de seu sabor, na adega do prazer. E vão envelhecendo e ganhando vida, envelhecendo e sendo amados, e, porque velhos, desejados. Os vinhos envelhecem densamente. E dão prazer.

O problema da velhice também se dá com certos instrumentos. Não me refiro aos que enferrujam pelos cantos, mas a um envelhecimento atuante como o da faca. Nela o corte diário dos dias a vai consumindo. E no entanto, ela continua afiadíssima, encaixando-se nas mãos da cozinheira como nenhuma outra faca nova.

Vai ver, a natureza deveria ter feito os homens envelhecerem diferente. Como as facas, digamos, por desgaste, sim, mas nunca desgastante. Seria uma suave solução: a gente devia ir se gastando, se gastando, se gastando até se evaporar. E aí iam perguntar: cadê fulano? E alguém diria: gastou-se, foi vivendo, vivendo e acabou. Acabou, é claro, sem nenhum gemido ou resmungo.

[...]

Especialistas vão dizer que envelhece mal o indivíduo que não realizou suas pulsões eróticas essenciais; que deixou coagulada ou oculta uma grande parte de seus desejos. Isto é verdade. Parcial porém. Pois não se sabe por que estranhos caminhos de sublimação, há pessoas que, embora roxas de levar tanta pancada da vida, têm, contudo, um arco-íris na alma.

Bilac dizia que a gente deveria aprender a envelhecer com as velhas árvores. *Walt Whitman* tem um poema onde vai dizendo: “Penso que podia viver com os animais que são plácidos e bastam-se a si mesmos”.

Ainda agora tirei os olhos do papel e olhei a natureza em torno. Nunca vi o sol se queixar no entardecer. Nem a lua chorar quando amanhece.

*(Affonso Romano de Sant'anna. Fizemos bem em resistir. Rio de Janeiro: Ed. Rocco, 1984.)*

**01**

**Assinale a alternativa em que o sinônimo ou termo equivalente da palavra sublinhada encontra-se INCORRETO.**

- A) “Estão amargos.” (1º§) – ressentidos
- B) “... animais que são plácidos...” (8º§) – mansos
- C) “... com os inevitáveis atritos.” (2º§) – prescindíveis
- D) “... estranhos caminhos de sublimação...” (7º§) – exaltação
- E) “Os vinhos envelhecem densamente.” (4º§) – espessamente

**02**

**O título do texto possui um sentido que se define como**

- A) enfático.
- B) antitético.
- C) metafórico.
- D) metonímico.
- E) onomatopaico.

**03**

**“Nunca vi o sol se queixar no entardecer. Nem a lua chorar quando amanhece.” (9º§). Numa construção conotativa, a partir do excerto anterior, o autor revela que a natureza**

- A) não é como o ser humano que morre e renasce a cada dia com um brilho peculiar.
- B) não reclama do seu ciclo, cumprindo de forma silente e com elegância seu destino.
- C) não reclama, cumpre seu ciclo em silêncio e envelhece com parcimônia e aspereza.
- D) se renova a cada dia, cumprindo seu ciclo e sempre agradecendo o que de rude existe.
- E) é sábia e possui a capacidade de ver tudo ao seu redor como algo natural e conflitante.

04

Segundo o texto, o passar do tempo deveria trazer às pessoas

- A) sapiência.                      B) insolência.                      C) eminência.                      D) eloquência.                      E) insipiência.

05

Assinale a alternativa que é frase, mas não é oração.

- A) “Estão amargos.” (1º§)  
B) “Seria uma suave solução:...” (6º§)  
C) “Com uma infelicidade crua na alma.” (1º§)  
D) “Os vinhos envelhecem melhor ainda.” (4º§)  
E) “O problema da velhice também se dá com certos instrumentos.” (5º§)

06

Na frase “E no entanto, ela continua afiadíssima, encaixando-se nas mãos da cozinheira...” (5º§), há um adjetivo no grau

- A) comparativo de igualdade.                      D) comparativo de superioridade.  
B) superlativo absoluto analítico.                      E) superlativo relativo de superioridade.  
C) superlativo absoluto sintético.

07

A oração sublinhada em “Estão ficando velhas, mas não estão ficando sábias.” (1º§) estabelece, com o período anterior, uma relação de

- A) causa.                      B) adição.                      C) oposição.                      D) conclusão.                      E) explicação.

08

Analise as frases.

- I. “Conheço muitas pessoas que estão envelhecendo mal.” (1º§)  
II. “Acabou, é claro, sem nenhum gemido ou resmungo.” (6º§)  
III. “Nela o corte diário dos dias a vai consumindo.” (5º§)  
IV. “Vai ver, a natureza deveria ter feito os homens envelhecerem diferente.” (6º§)

Os termos grifados são, respectivamente,

- A) conjunção, pronome, artigo e artigo.                      D) adjetivo, preposição, artigo e preposição.  
B) adjetivo, advérbio, preposição e artigo.                      E) advérbio, numeral, pronome e preposição.  
C) advérbio, preposição, pronome e artigo.

09

Na frase “Os vinhos envelhecem melhor ainda.” (4º§), há um exemplo de figura de linguagem denominada

- A) antítese.                      B) hipérbole.                      C) catacrese.                      D) pleonismo.                      E) prosopopeia.

10

Em “São críticos azedos, aliás estão ficando cítricos...” (1º§), a palavra “aliás” pode ser substituída, sem prejuízo semântico, por

- A) contudo.                      B) portanto.                      C) além disso.                      D) no entanto.                      E) de outro modo.

### RACIOCÍNIO LÓGICO


11

Marcelo fez um curso de informática com duração de 10 aulas, sendo que cada aula ocorreu uma vez por semana sempre no mesmo dia da semana e todas em um mesmo ano. Se as aulas começaram num dia 5 e terminaram num dia 6, então o início e o término desse curso ocorreram nos meses de

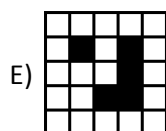
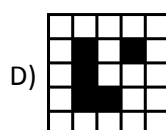
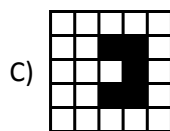
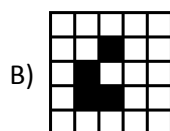
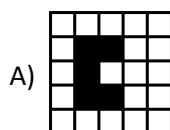
- A) março e maio.                      D) outubro e dezembro.  
B) janeiro e março.                      E) setembro e novembro.  
C) julho e setembro.

12

Observe as linhas formadas pelas figuras.



A figura que substitui o quadrado com (?) é



13

Para digitar uma palavra em um computador uma pessoa deverá escolher dentre uma das seguintes fontes: Calibri, Arial ou Times New Roman. Considerando que o tamanho da fonte deve ser 10, 12 ou 14 e a cor escolhida vermelha ou azul, então o número de maneiras que essa pessoa pode escolher a formatação da palavra a ser digitada é igual a

A) 18.                      B) 20.                      C) 24.                      D) 30.                      E) 36.

14

A sequência a seguir é formada por 10 números:

5, 10, 2, 8, 9, 4, 6, \_\_\_\_, \_\_\_\_, \_\_\_\_.

Os 3 últimos números dessa sequência são, respectivamente,

- A) 1, 3 e 7.                      B) 1, 7 e 3.                      C) 3, 1 e 7.                      D) 7, 1 e 3.                      E) 7, 3 e 1.

15

André, Bruno, Carlos e Diego são irmãos e suas idades formam, na ordem apresentada, uma proporção. Considere que André tem 3 anos, Diego tem 18 anos e Bruno é 3 anos mais novo que Carlos. Assim, a soma das idades destes quatro irmãos é igual a

- A) 30.                      B) 32.                      C) 34.                      D) 36.                      E) 38.

16

Dentre os ingredientes utilizados para a fabricação dos pães em uma padaria encontram-se o ovo e o leite. Considerando que 45% dos pães produzidos levam leite, 60% levam ovo e 23% não levam nem leite nem ovo, então a porcentagem de pães que levam leite e ovo é de

- A) 26%.                      B) 27%.                      C) 28%.                      D) 29%.                      E) 30%.

17

O terceiro e o trigésimo termos de uma progressão aritmética são, respectivamente, iguais a 13 e 121. O menor termo de 3 algarismos dessa sequência é

- A) 100.                      B) 101.                      C) 102.                      D) 103.                      E) 104.

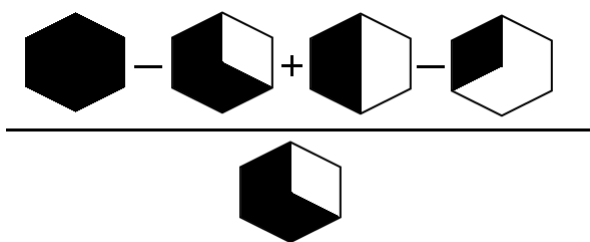
18

Uma TV por assinatura oferece 80 canais em um de seus pacotes cuja numeração vai de 6 a 85. Considerando que a primeira metade dos canais são nacionais e a segunda metade são de canais estrangeiros, então o canal estrangeiro de menor numeração ímpar é o canal

- A) 41.                      B) 43.                      C) 45.                      D) 47.                      E) 49.

19

Determine o valor numérico que representa o resultado da expressão.



- A) 1/2                      B) 1/3                      C) 3/4                      D) 3/5                      E) 5/6

20

Cinco amigos foram a uma lanchonete e cada um deles pediu dois itens, sendo um de cada coluna do cardápio abaixo.

Cachorro quente: R\$ 5,00	Guaraná: R\$ 2,00
Sanduíche natural de frango: R\$ 6,00	Suco de fruta: R\$ 4,00
Hambúrguer: R\$ 5,00	Chá gelado: R\$ 3,00
Misto quente: R\$ 4,00	Caldo de cana: R\$ 2,00
Sanduíche vegetariano: R\$ 6,00	Água de coco: R\$ 3,00

Considere que:

- Diego pediu um misto quente e Augusto não tomou água de coco;
- Eduardo é vegetariano e Carlos pediu cachorro quente ou chá gelado;
- Bruno não pediu caldo de cana nem água de coco;
- o sanduíche natural de frango e o sanduíche vegetariano foram as opções de Augusto e Eduardo, não necessariamente nessa ordem;
- o cachorro quente foi servido junto com o guaraná e o misto quente com o caldo de cana;
- quem pediu caldo de cana não comeu sanduíche natural e nem foi o Eduardo;
- Carlos não comeu cachorro quente nem tomou suco de fruta.

A conta mais cara e a mais barata foram pagas, respectivamente, por

- A) Diego e Bruno.                      D) Bruno e Eduardo.  
 B) Augusto e Diego.                      E) Eduardo e Carlos.  
 C) Carlos e Augusto.

### CONHECIMENTOS ESPECÍFICOS

21

Com a descoberta do microscópio, o estudo da célula tornou-se mais detalhado, utilizando-se várias técnicas e corantes para analisar o conteúdo celular. Através da técnica esfregaço, observam-se as células

- A) hepáticas.                      D) epidérmicas.  
 B) musculares                      E) da mucosa oral.  
 C) sanguíneas.

22

**As mitocôndrias, presentes no citoplasma de protozoários, células vegetais e animais, caracterizam-se por uma série de propriedades morfológicas bioquímicas e funcionais. Acerca das propriedades das mitocôndrias, é correto afirmar que**

- A) a principal função é promover a fosforilação oxidativa, através da transformação da energia luminosa em energia química.
- B) a matriz mitocondrial contém todas as enzimas envolvidas no ciclo de *Krebs*, assim como o DNA e a maquinaria para a síntese de proteínas.
- C) possuem organização estrutural, composição glicoproteica e contém um grande número de enzimas, as quais participam das reações de oxidação.
- D) as células de plantas verdes contêm um número maior de mitocôndrias do que muitas células animais, pois algumas de suas funções não são executadas pelos cloroplastos.
- E) são constituídas por duas membranas e dois compartimentos, sendo que a membrana externa delimita a organela. Internamente a esta, localiza-se a membrana interna, que projeta para dentro da cavidade mitocondrial complexas invaginações denominadas *granun* mitocôndrias.

23

**Um problema mundial de saúde: gripe**

Embora seja uma doença corriqueira, milhares e milhares de pessoas morrem anualmente em decorrência da infecção pelo vírus de gripe. Na grande pandemia (epidemia mundial), ocorrida em 1918 e 1919, morreram entre 20 e 40 milhões de pessoas em todo o mundo, de todas as idades e classes sociais. Entre as vítimas estava Francisco de Paula Rodrigues Alves, ex-presidente da República do Brasil. Outras grandes pandemias foram a gripe asiática de 1957, que matou mais de 1 milhão de pessoas, e a gripe de *Hong Kong*, de 1968, em que morreram cerca de 700 mil pessoas.

*(José Mariano Amabis; Gilberto R. Martho Biologia 2: Biologia dos organismos. 3ª ed. São Paulo: Moderna, 2009. Adaptado)*

**Em relação ao mecanismo de transmissão viral, assinale a afirmativa correta.**

- A) O vírus da gripe humana, hantavírus, é transmitido direta ou indiretamente de uma pessoa para outra.
- B) Os vírus sobrevivem por um bom tempo fora do corpo do hospedeiro, pois apresentam um metabolismo próprio.
- C) Os vírus causadores do herpes, que atacam a pele e as mucosas, podem ser transmitidos somente por meio de secreções.
- D) Muitos vírus são transmitidos por meio de vetores animais, principalmente insetos, sendo conhecidos genericamente como arbovírus.
- E) Há indícios de que a varíola e o sarampo, por exemplo, passaram da ave para espécie humana, quando a população humana passou a conviver com animais domésticos.

24

**Quando grandes quantidades de drogas são administradas a um organismo, desencadeia-se uma maior atividade enzimática pelas células hepáticas. O trabalho de desintoxicação da célula deve-se, especificamente, à organela denominada**

- A) lisossomos.
- B) peroxissomos.
- C) complexo golgiense.
- D) retículo endoplasmático liso.
- E) retículo endoplasmático rugoso.

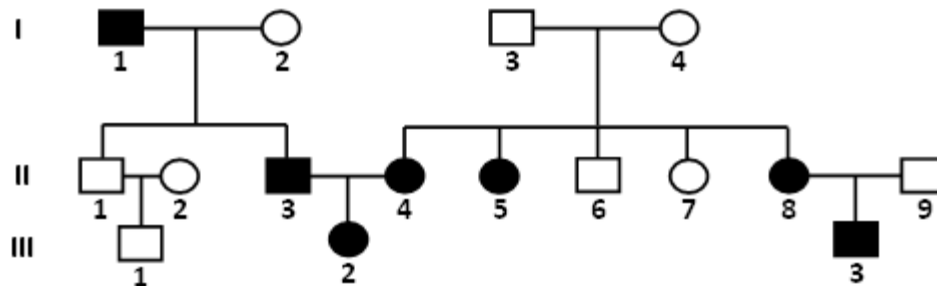
25

**Os anticorpos são moléculas proteicas esquematicamente representadas em forma de Y e genericamente denominadas imonoglobinas (Ig). Cada anticorpo reconhece apenas o antígeno que induziu a sua formação. Qual a função desempenhada pelas IgD – Imonoglobinas D?**

- A) Importantes nos processos alérgicos.
- B) Uma das primeiras a serem produzidas na resposta imunitária.
- C) Participam da estimulação do sistema imunitário relacionado aos linfócitos B.
- D) Única classe de anticorpos que atravessa a placenta e passa para o feto, protegendo-o.
- E) Presentes no colostro, sendo fundamentais para evitar infecções gastrointestinais no bebê.

26

Analise a genealogia a seguir, cujos indivíduos representados por símbolos escuros são afetados e os brancos são normais.

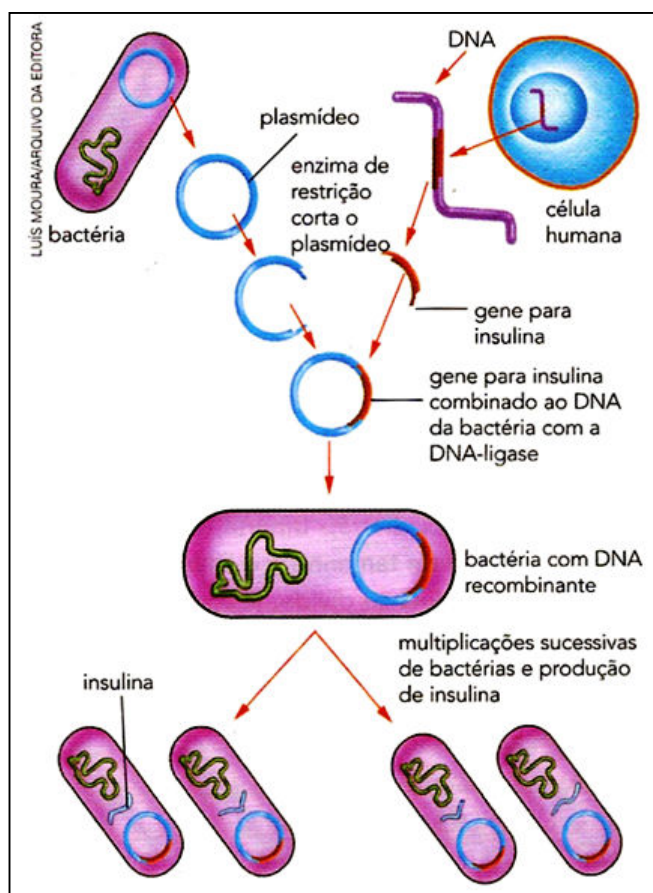


O gene causador da doença

- A) é autossômico e recessivo.
- B) é autossômico e dominante.
- C) está ligado ao sexo e recessivo.
- D) está ligado ao sexo e dominante.
- E) se manifesta, apenas, em homozigose dominante.

27

O esquema a seguir mostra a produção de insulina por meio da técnica de engenharia genética.



(Sérgio Linhares; Fernando Gewandszajder. *Biologia hoje: os seres vivos*. v. 2. São Paulo: Ática, 2011.)

Com base no esquema apresentado, assinale a afirmativa correta.

- A) Essa técnica conta com o auxílio de bacteriófagos.
- B) A insulina é responsável pelo controle de lipídios no sangue.
- C) Essa técnica é realizada com o auxílio de enzimas especiais do tipo transcriptase.
- D) A técnica usada é de grande importância para os portadores de diabetes *mellitus*.
- E) A insulina é uma proteína produzida pelo fígado e controla a utilização de glicose pela célula.

28

**Uma descoberta brasileira: o genoma da *Xylella fastidiosa***

O trabalho de sequenciamento do genoma da bactéria *Xylella fastidiosa* foi concluído e a informação foi publicada em 13 de julho de 2000 [...].

Essa bactéria é a causadora do “amarelinho”, ou “Clorose Variegada dos Citrus” (CVC), que provoca o amarelecimento (clorose) das folhas, grande perda de frutos e finalmente a morte das laranjeiras infectadas. [...] é transmitida pelo inseto popularmente conhecido como “cigarrinha” [...].

*(Dados obtidos da Fundação de Amparo à Pesquisa do Estado de São Paulo (Fapesp). César Silva Júnior; Sezar Sasson. Biologia: genética, evolução e ecologia. v. 3, 3. série. 7ª ed. São Paulo: Saraiva, 2005. p. 174-175.)*

**A bactéria *Xylella fastidiosa* ataca a planta, especificamente, nos**

- A) vasos lenhosos.
- B) vasos liberianos.
- C) meristemas primários.
- D) meristemas secundários.
- E) tecidos parenquimáticos.

29

**Sobre as formas de provimento descritas no Estatuto dos Servidores Municipais de Cantagalo (Lei Municipal nº 10/90), assinale a alternativa correta.**

- A) **Readaptação**: retorno à atividade de funcionário posto em disponibilidade, em cargo de atribuições e vencimentos compatíveis com o anteriormente ocupado.
- B) **Reversão**: aceitação expressa das atribuições, deveres e responsabilidades inerentes ao cargo imediatamente superior, galgado segundo critérios de merecimento e antiguidade.
- C) **Recondução**: retorno à atividade de funcionário aposentado por invalidez quando, por junta médica oficial, forem declarados insubsistentes os motivos determinantes da aposentadoria.
- D) **Reintegração**: reinvestidura do funcionário ao cargo anteriormente ocupado ou cargo resultante da sua transformação, quando invalidada a sua demissão por decisão administrativa ou judicial.
- E) **Aproveitamento**: investidura do funcionário em cargo de atribuições e responsabilidades compatíveis com a limitação que tenha sofrido em sua capacidade física ou mental, verificada em inspeção médica.

30

**Acerca dos direitos e vantagens regulamentados pelo Estatuto dos Servidores Municipais de Cantagalo (Lei Municipal nº 10/90), assinale a afirmativa INCORRETA.**

- A) O servidor público será aposentado compulsoriamente, aos sessenta e cinco anos de idade, com proventos integrais.
- B) Além do vencimento e da remuneração poderão ser pagas ao funcionário as seguintes vantagens: ajuda de custo, diárias, gratificações, dentre outras.
- C) Ao funcionário investido em função de chefia e cargo em comissão é devida uma gratificação ou comissão pelo seu exercício, não fazendo jus, entretanto, ao recebimento da gratificação por serviço extraordinário.
- D) Será concedido abono familiar ao funcionário ativo ou inativo pelo cônjuge ou companheira do funcionário que viva comprovadamente em sua companhia e que não exerça atividade remunerada e nem tenha renda própria.
- E) Nenhum funcionário poderá perceber, mensalmente, a título de remuneração, importância superior à soma dos valores percebidos como remuneração, em espécie, a qualquer título, no âmbito dos respectivos Poderes, pelo Prefeito e Presidente da Câmara Municipal.

**CONHECIMENTOS GERAIS**

31

“Um dos mais antigos conflitos atuais opõe a Índia e o Paquistão na disputa pelo(a) \_\_\_\_\_, situado(a) na Cordilheira do Himalaia e habitada por uma população de maioria \_\_\_\_\_.” Assinale a alternativa que completa correta e sequencialmente a afirmativa anterior.

- A) Tibete / budista
- B) Chechênia / laica
- C) Kosovo / hinduísta
- D) Afeganistão / islâmica
- E) Caxemira / muçulmana





36

A 180 quilômetros da costa do Rio de Janeiro, no pré-sal da bacia de Santos, Libra é o maior campo de petróleo já descoberto no Brasil e um dos maiores encontrados no mundo nos últimos anos. Segundo estimativas da Agência Nacional de Petróleo, o local pode produzir 12 bilhões de barris recuperáveis de óleo e será explorado por um consórcio vencedor de um leilão realizado em 2013, que é formado pela Petrobras, duas empresas chinesas (CNPC e CNOOC) e duas multinacionais gigantes do setor petrolífero – uma holandesa e outra francesa – que são

- A) Shell e Total. D) BP e ConocoPhillips.  
B) Gazprom e Statoil. E) ExxonMobil e Lukoil.  
C) Chevron e Rosneft.

37

Em 1990, as Organizações das Nações Unidas (ONU) criaram o Índice de Desenvolvimento Humano (IDH) para medir a qualidade de vida nos países com base em três dimensões: vida longa e saudável (expectativa de vida); acesso ao conhecimento (média de anos de estudo); e, padrão de vida digno (calculado pela renda nacional bruta *per capita*). Cada país recebe uma pontuação que varia de 0 a 1 ranqueando os países em quatro faixas: muito alto, alto, médio e baixo. Sobre a situação do Brasil no que tange a essa medida da ONU, é INCORRETO afirmar que

- A) a longevidade foi o índice que mais puxou o IDHM nacional para cima.  
B) a renda *per capita* dos brasileiros teve um ganho, mas ainda há grande desigualdade.  
C) houve avanços nos últimos anos, mas a educação freou o desenvolvimento do país no período.  
D) municípios das regiões Nordeste e Norte tiveram a maior evolução no quesito “renda” no último ano.  
E) possui o maior IDH dentre os países da América do Sul e os demais países emergentes que compõem o Brics.

Texto para responder às questões de 38 a 40.

A contribuição do Bolsa Família para a segurança e a qualidade de vida das populações mais pobres foi o tema da segunda rodada de debates realizada nesta quarta-feira (30), no Museu da República, em Brasília, durante as comemorações dos 10 anos do maior programa de transferência de renda do mundo. O encontro discutiu o impacto causado pelos programas sociais do governo federal na última década – como a mudança nas expectativas dos brasileiros, que já vislumbram um futuro melhor para si e suas famílias – e a inclusão social inédita de uma parcela da população colocada historicamente à margem das decisões do Poder Público.

*(Especial Bolsa Família do site do Ministério de Desenvolvimento Social. Disponível em: <http://bolsafamilia10anos.mds.gov.br/>. Acesso em: 31/10/2013.)*

38

O Programa Bolsa Família foi criado no governo de

- A) Itamar Franco. D) Fernando Collor de Mello.  
B) Dilma Rousseff. E) Fernando Henrique Cardoso.  
C) Luiz Inácio Lula da Silva.

39

Sobre o Programa Bolsa Família, é INCORRETO afirmar que

- A) uma das exigências para manutenção do benefício consiste na matrícula e acompanhamento da frequência na escola das crianças e adolescentes entre 6 e 17 anos.  
B) o Programa Bolsa Família faz parte do Fome Zero e resultou da junção dos antigos programas do Governo – Bolsa Escola, Bolsa Alimentação, Cartão Alimentação e Auxílio Gás – em um só Programa.  
C) o pagamento do benefício ocorre nos executivos de cada município que recebem os recursos do Governo e repassam para a instituição financeira escolhida para promover o pagamento dos beneficiados.  
D) as famílias com renda mensal por pessoa de até R\$ 70,00, com ou sem crianças, e aquelas com renda mensal por pessoa entre R\$ 70,01 e R\$ 140,00 com crianças e adolescentes na sua composição, podem receber o BF.  
E) a família beneficiada deverá realizar os cuidados básicos em relação à saúde, ou seja, cumprir o calendário de vacinação, para as crianças entre 0 e 6 anos, e a agenda pré e pós-natal, para as gestantes e mães em amamentação.

40

**No mesmo ano da implantação do Programa Bolsa Família, o governo federal colocou em prática o Programa Brasil Alfabetizado. Sobre o Brasil Alfabetizado, analise.**

- I. É desenvolvido em todo o território nacional, com o atendimento prioritário a municípios que apresentam alta taxa de analfabetismo, sendo que 90% destes localizam-se na região Nordeste.
- II. Ocorre por meio de ações desenvolvidas pelo Ministério da Educação apenas em escolas técnicas federais, onde os cursos são ministrados a jovens e adultos que não se alfabetizaram.
- III. Tem por objetivo promover a superação do analfabetismo entre jovens com 15 anos ou mais, adultos e idosos, além de contribuir para a universalização do ensino fundamental no Brasil.

**Está(ão) correta(s) a(s) afirmativa(s)**

- A) I, II e III.                      B) I, apenas.                      C) II, apenas.                      D) III, apenas.                      E) I e III, apenas.

## INSTRUÇÕES

1. Material a ser utilizado: caneta esferográfica de tinta azul ou preta. Os objetos restantes devem ser colocados em local indicado pelo fiscal da sala, inclusive aparelho celular desligado e devidamente identificado.
2. Não é permitida, durante a realização das provas, a utilização de máquinas calculadoras e/ou similares, livros, anotações, impressos ou qualquer outro material de consulta, protetor auricular, lápis, borracha, corretivo. Especificamente, não é permitido que o candidato ingresse na sala de provas sem o devido recolhimento, com respectiva identificação, dos seguintes equipamentos: *bip*, telefone celular, *walkman*, agenda eletrônica, *notebook*, *palmtop*, *ipad*, *ipod*, *tablet*, *smartphone*, mp3, mp4, receptor, gravador, calculadora, câmera fotográfica, controle de alarme de carro, relógio de qualquer modelo etc.
3. Durante a prova, o candidato não deve levantar-se, comunicar-se com outros candidatos e nem fumar.
4. A duração da prova é de 04 (quatro) horas, já incluindo o tempo destinado à entrega do Caderno de Provas e à identificação – que será feita no decorrer da prova – e ao preenchimento do Cartão de Respostas (Gabarito).
5. Somente em caso de urgência pedir ao fiscal para ir ao sanitário, devendo no percurso permanecer absolutamente calado, podendo antes e depois da entrada sofrer revista através de detector de metais. Ao sair da sala no término da prova, o candidato não poderá utilizar o sanitário. Caso ocorra uma emergência, o fiscal deverá ser comunicado.
6. O Caderno de Provas consta de 40 (quarenta) questões de múltipla escolha para os cargos de nível superior, médio técnico, médio e fundamental completo e de 30 (trinta) questões para os cargos de nível fundamental incompleto. Leia-o atentamente.
7. **As questões das provas objetivas são do tipo múltipla escolha, com 05 (cinco) alternativas (A a E) e uma única resposta correta.**
8. Será aplicada prova escrita discursiva, somente para o cargo de Procurador Jurídico, constituída de 1 (uma) redação.
9. Ao receber o material de realização das provas, o candidato deverá conferir atentamente se o Caderno de Provas corresponde ao cargo a que está concorrendo, bem como se os dados constantes no Cartão de Respostas (Gabarito) que lhe foi fornecido estão corretos. Caso os dados estejam incorretos, ou o material esteja incompleto, ou tenha qualquer imperfeição, o candidato deverá informar tal ocorrência ao fiscal.
10. Os fiscais não estão autorizados a emitir opinião e prestar esclarecimentos sobre o conteúdo das provas. Cabe única e exclusivamente ao candidato interpretar e decidir.
11. O candidato poderá retirar-se do local de provas somente a partir dos 90 (noventa) minutos após o início de sua realização, contudo não poderá levar consigo o Caderno de Provas, sendo permitida essa conduta apenas no decurso dos últimos 30 (trinta) minutos anteriores ao horário previsto para o seu término.
12. Os 3 (três) últimos candidatos de cada sala somente poderão sair juntos. Caso o candidato insista em sair do local de aplicação das provas, deverá assinar um termo desistindo do Concurso Público e, caso se negue, deverá ser lavrado Termo de Ocorrência, testemunhado pelos 2 (dois) outros candidatos, pelo fiscal da sala e pelo coordenador da unidade.

## RESULTADOS E RECURSOS

- As provas aplicadas, assim como os gabaritos preliminares das provas objetivas serão divulgados na *Internet*, no *site* **[www.consulplan.net](http://www.consulplan.net)**, a partir das 16h00min do dia subsequente ao da realização das provas.
- O candidato que desejar interpor recursos contra os gabaritos oficiais preliminares das provas objetivas disporá de **02 (dois) dias úteis**, a partir do dia subsequente à divulgação, em requerimento próprio disponibilizado no *link* correlato ao Concurso Público no *site* **[www.consulplan.net](http://www.consulplan.net)**.
- A interposição de recursos poderá ser feita **via Internet**, através do **Sistema Eletrônico de Interposição de Recursos**, com acesso pelo candidato ao fornecer dados referentes à sua inscrição apenas no prazo recursal, à **CONSULPLAN**, conforme disposições contidas no *site* **[www.consulplan.net](http://www.consulplan.net)**, no *link* correspondente ao Concurso Público.