

Código

102



Data e horário

Domingo

24/11/2013

14 horas

(Horário Oficial de Brasília)


INSTRUÇÕES

- Você receberá do fiscal
 - um **caderno de questões** das **provas objetiva e discursiva** contendo 50 (cinquenta) questões de múltipla escolha, com 5 (cinco) alternativas de resposta cada uma, e apenas uma alternativa correta, e 1 (uma) questão discursiva;
 - um **cartão de respostas** ótico personalizado; e
 - uma **folha de respostas da prova discursiva**.
- Verifique se a numeração das questões, a paginação do **caderno de questões** e as codificações do **cartão de respostas** ótico e da **folha de respostas da prova discursiva** estão corretas.
- Quando autorizado pelo **fiscal do IADES**, no momento da identificação, escreva no espaço apropriado do **cartão de respostas**, com a sua caligrafia usual, a seguinte frase:

Educação, arma poderosa.

- Você dispõe de 4 (quatro) horas para fazer as **provas objetiva e discursiva**, devendo controlar o tempo, pois não haverá prorrogação desse prazo. Esse tempo inclui a marcação do **cartão de respostas** ótico e o preenchimento da **folha de respostas da prova discursiva**.
- Somente será permitido levar o **caderno de questões** após 3 (três) horas e 30 (trinta) minutos do início das provas.
- Somente após decorrida 1 (uma) hora do início das provas, você poderá entregar seu **cartão de respostas** ótico e a **folha de respostas da prova discursiva** e retirar-se da sala.
- Após o término da prova, entregue ao fiscal do **IADES** o **cartão de respostas** e a **folha de respostas da prova discursiva** devidamente assinados.
- Deixe sobre a carteira apenas o documento de identidade e a **caneta esferográfica de tinta preta ou azul, fabricada de material transparente**.
- Não é permitida a utilização de qualquer aparelho eletrônico de comunicação. Desligue e guarde em embalagem fornecida pelo fiscal do **IADES**: máquina fotográfica; telefone celular; relógio; gravador; *bip*; receptor; *pager*; *notebook*; *tablet* eletrônico; *walkman*; aparelho portátil de armazenamento e de reprodução de músicas, vídeos e outros arquivos digitais; agenda eletrônica; *palmtop*; régua de cálculo; máquina de calcular e (ou) qualquer outro equipamento similar.
- Não é permitida a consulta a livros, dicionários, apontamentos e apostilas.
- Você somente poderá sair e retornar à sala de aplicação de provas na companhia de um **fiscal do IADES**.
- Não será permitida a utilização de lápis em nenhuma etapa da prova.

INSTRUÇÕES PARA AS PROVAS OBJETIVA E DISCURSIVA

- Verifique se os seus dados estão corretos no **cartão de respostas da prova objetiva** e na **folha de respostas da prova discursiva**. Caso haja algum dado incorreto, escreva apenas no(s) campo(s) a ser(em) corrigido(s), conforme instruções no **cartão de respostas**.
- Leia atentamente cada questão e assinale, no **cartão de respostas** ótico, uma única alternativa.
- O **cartão de respostas** ótico e a **folha de respostas da prova discursiva** não podem ser dobrados, amassados, rasurados ou manchados nem podem conter nenhum registro fora dos locais destinados às respostas.
- A maneira correta de assinalar a alternativa no **cartão de respostas** é cobrir, fortemente, com **caneta esferográfica preta ou azul**, o espaço a ela correspondente. Marque as respostas assim: 

PROVA PARA O(S) SEGUINTE(S) EMPREGO(S) (Código 102):

CAU-BR: Contador / CAU-CE: Contador / CAU-DF: Analista Financeiro-Contábil / CAU-ES: Analista de Finanças / CAU-MS: Contador / CAU-PA: Contador / CAU-PI: Contador / CAU-RR: Contador.

Realização:



iades

Texto 1 para responder as questões de 1 a 4.

O olhar estrangeiro

1 Sempre que um livro de arquitetura me cai às mãos,
a primeira coisa que procuro é saber se Brasília ou os
arquitetos que a construíram estão nele. Quando o livro é de
4 autor estrangeiro, então, essa busca se torna ainda mais
ansiosa. É um modo de cotejar meu olhar com o olhar
estrangeiro.

7 Do recém-lançado *O futuro da arquitetura desde
1889*, de Jean-Louis Cohen, esmerada edição da CosacNaify,
com revisão técnica da professora Sylvia Ficher, da UnB, o
10 que mais me chamou a atenção foi o título do capítulo
destinado à produção brasileira: “O planeta Brasil”. Perfeito.
Em matéria de arquitetura e urbanismo modernos, somos
13 mesmo um universo singular. As obras surgidas a partir da
década de 1940 “abriu novos horizontes para os arquitetos
europeus e americanos, bem como para aqueles que
16 trabalhavam na África e no Oriente Médio”.

O fascínio das formas da arquitetura moderna
brasileira, escreveu o autor, “residia em sua fluência e
19 elegância, mas também em sua ousadia técnica, que dava
extrema leveza às mais complexas estruturas, possíveis
graças à articulação das duas técnicas desenvolvidas para o
22 uso do concreto armado: a ossatura e as cascas.” A
inventividade brasileira, prossegue, “era visível também nas
novas soluções para os pilotis de Le Corbusier, que deixavam
25 de ser simples cilindros para ganhar contornos em V ou Y
afinando nas extremidades.”

Brasília merece um item no capítulo destinado a Le
28 Corbusier. Aqui, o autor se contenta em descrever
resumidamente o projeto de Lucio Costa e as obras de Oscar
Niemeyer. Talvez Jean-Louis Cohen, um dos mais
31 renomados historiadores de arquitetura do século 20, quisesse
fugir da crítica feroz que os especialistas estrangeiros
destinam à cidade desde que ela foi construída. Sendo assim,
34 conclui o item dizendo: “A população de Brasília continua
profundamente arraigada à cidade, refutando as previsões
pessimistas de seus mais aguerridos detratores.”

37 Vale ressaltar que no livrão de 525 páginas, rico em
iconografia da arquitetura mundial do período, Brasília é só
um dos 207 itens distribuídos em 36 capítulos. O mundo é
40 bem mais diverso do que a gente é capaz de supor.

FREITAS, Conceição. In: *Correio Braziliense*. Caderno Cidades, 6/10/ 2013.

QUESTÃO 1

Portuguê

Considerando o contexto em que aparece o período “A
população de Brasília continua profundamente arraigada à
cidade, refutando as previsões pessimistas de seus mais
aguerridos detratores.” (linhas de 34 a 36), é correto afirmar
que os vocábulos em destaque significam, respectivamente,

- (A) ratificando e caluniadores.
- (B) reiterando e ultrajadores.
- (C) desmentindo e difamadores.
- (D) derrubando e apoiadores.
- (E) contrariando e seguidores.

QUESTÃO 2

Considerando as informações do texto e a sua relação com o
título, assinale a alternativa correta.

- (A) O texto intitula-se “O olhar estrangeiro”, pois o seu conteúdo principal tem como referente o livro *O futuro da arquitetura desde 1889*, de Jean-Louis Cohen, que faz considerações sobre a arquitetura brasileira.
- (B) O título faz referência direta às influências de alguns arquitetos brasileiros sobre a arquitetura estrangeira.
- (C) O título faz menção à influência dos arquitetos estrangeiros sobre as formas da arquitetura moderna brasileira.
- (D) O texto é intitulado “O olhar estrangeiro”, pois apresenta como tema principal a total divergência de opinião sobre a arquitetura brasileira entre a autora (o olhar brasileiro) e Jean-Louis Cohen (o olhar estrangeiro).
- (E) O título refere-se às comparações feitas pela autora entre as concepções dos arquitetos nacionais e as dos arquitetos estrangeiros sobre as produções arquitetônicas do final do século 19 até hoje.

QUESTÃO 3

Assinale a alternativa que, em conformidade com a norma padrão, reproduz o sentido original do período “Sempre que um livro de arquitetura me cai às mãos, a primeira coisa que procuro é saber se Brasília ou os arquitetos que a construíram estão nele.” (linhas de 1 a 3).

- (A) Toda a vez que um livro de arquitetura me cai às mãos, a primeira coisa que procuro é saber se Brasília ou os arquitetos, os quais a construíram, estão nele.
- (B) A primeira coisa que procuro, toda vez que um livro de arquitetura me cai às mãos, é saber se Brasília ou os arquitetos que lhe construíram estão nele.
- (C) Quando um livro de arquitetura me cai às mãos esporadicamente a primeira coisa que procuro é saber se Brasília ou os arquitetos que a construíram estão nele.
- (D) A primeira coisa que procuro, sempre que um livro de arquitetura me cai às mãos, é saber se Brasília ou os arquitetos que a construíram estão nele.
- (E) Saber se Brasília ou os arquitetos em cuja a construção trabalharam estão nele é a primeira coisa que procuro, sempre que um livro de arquitetura me cai às mãos.

QUESTÃO 4

Logo no início do texto, Conceição Freitas revela “a primeira coisa” (linha 2) que procura sempre que lhe cai às mãos um livro de arquitetura. A esse respeito, é correto afirmar que o livro *O futuro da arquitetura desde 1889*, de Jean-Louis Cohen,

- (A) não satisfaz a busca da autora.
- (B) satisfaz parcialmente a busca feita pela autora, pois apresenta apenas uma vaga menção a Oscar Niemeyer e Lucio Costa.
- (C) satisfaz parcialmente a procura feita pela autora, já que não é destinado um capítulo inteiro a Brasília.
- (D) satisfaz plenamente a procura feita pela autora, pois ele reconhece a importância da arquitetura moderna brasileira para a arquitetura mundial.
- (E) satisfaz plenamente a procura feita pela autora, pois nele aparece pelo menos um dos conteúdos que ela deseja encontrar.

Texto 2 para responder as questões de 5 a 8.

1 Quando arquiteto e morador encontram-se para
discutir um projeto de habitação, tem-se, por um lado, uma
dimensão de liberdade e de escolha a partir da possibilidade
4 de pensar e imaginar a casa que se quer e se sonha, baseada
em uma construção cultural, histórica, ideológica e
antropológica. Por outro, há a dimensão da necessidade e da
7 urgência, quando se trata de população de baixa renda e de
habitação social, traduzida nas ideias da casa como abrigo e
da habitação mínima com sua respectiva solução técnica.

10 A relação entre essas dimensões revela a
complexidade que caracteriza o diálogo entre arquiteto e
morador e se expressa pelos vínculos e dilemas entre
13 carência, liberdade, ideologia, gestão, política, técnica e
autonomia. Não me refiro a uma análise dessas categorias em
si, mas às ambiguidades que elas imprimem na produção do
16 objeto arquitetônico, problematizando o seu processo de
concepção e de construção.

19 Nesse espaço de diálogos e interlocuções entre
indivíduos e grupos carregados de experiências que ora os
diferenciam, ora os agrupam, efetivam-se as dimensões
participativas, que considero como uma esfera micro da
22 participação, baseadas no falar e no ouvir o outro a fim de se
conceber e se construir algo coletivamente.

25 A análise das questões colocadas nessa esfera da
participação pode contribuir para o debate sobre o conceito
de sustentabilidade, aplicado na produção do ambiente
construído, na medida em que pode indicar as limitações e as
28 potencialidades de um projeto que procura integrar, na
prática, as suas múltiplas dimensões, na perspectiva de se
evitar as categorizações socialmente vazias que são
31 encontradas em muitas noções sobre sustentabilidade que não
contemplam a diversidade social e suas formas de
apropriação e de uso dos recursos e do ambiente. Além disso,
34 na discussão sobre princípios e estratégias gerais sobre a
sustentabilidade, há o destaque para a dimensão política por
meio da criação de mecanismos que incrementam a
37 participação da sociedade nas tomadas de decisão.

SHIMBO, Lúcia Zanin; INO, Akemi. *Questões, conflitos e potencialidades do diálogo entre moradores e arquitetos sobre materiais construtivos sustentáveis para habitação.*

Disponível em: <http://www.habitare.org.br/doc/docs_revista/artigo_lucia_shimbo.pdf>. Acesso em:

1º/11/2013, com adaptações.

QUESTÃO 5

Acerca do texto, assinale a alternativa correta.

- (A) Os conectivos “por um lado” (linha 2) e “Por outro” (linha 6) foram empregados para estabelecer uma comparação que alude a dois aspectos da discussão do projeto de habitação entre o morador e o arquiteto.
- (B) Em “se expressa pelos vínculos e dilemas” (linha 12), o pronome refere-se ao substantivo “complexidade” (linha 11).
- (C) Em “efetivam-se” (linha 20) e “a fim de se conceber” (linhas 22 e 23), o “se” tem a mesma função sintática.
- (D) É opcional o emprego do verbo “pode” (linha 25) no singular ou no plural.
- (E) As palavras “ideológica” (linha 5), “carência” (linha 13) e “múltiplas” (linha 29) seguem a mesma regra de acentuação.

QUESTÃO 6

Acerca da oração “muitas noções sobre sustentabilidade que não contemplam a diversidade social e suas formas de apropriação e de uso dos recursos e do ambiente.”, (linhas de 31 a 33), assinale a alternativa correta.

- (A) O complemento de “contemplam” é formado por dois núcleos, “diversidade” e “formas”.
- (B) O verbo “contemplam” tem como núcleos do complemento “diversidade”, “formas” e “uso”.
- (C) Se o “que” fosse suprimido, haveria alteração semântica do texto.
- (D) Os termos “de apropriação” e “de uso dos recursos e do ambiente” são complementos do verbo “contemplam”.
- (E) Os termos “dos recursos” e “do ambiente” são complementos do nome “apropriação”.

QUESTÃO 7

Considere as afirmações acerca da leitura do texto e julgue os itens subsequentes.

- I. O texto é essencialmente informativo.
- II. O texto trata da complexa relação entre o processo de concepção da habitação, o produto arquitetônico e o perfil do morador.
- III. O texto mostra que é intrínseco à profissão do arquiteto passar por um dilema para escolher entre utilidade e estética.
- IV. Os autores do texto assumem um posicionamento crítico em relação ao conceito de sustentabilidade.

A quantidade de itens certos é igual a

- (A) 0. (B) 1. (C) 2. (D) 3. (E) 4.

QUESTÃO 8

Analise as reescrituras do terceiro parágrafo do texto, considerando corretas as que não alteram sintática e semanticamente o texto, e julgue os itens que se seguem.

- I. Efetivam-se as dimensões participativas nesse espaço de diálogos e interlocuções entre indivíduos e grupos carregados de experiências que ora os diferenciam, ora os agrupam, que considero como uma esfera micro da participação, baseadas no falar e no ouvir o outro a fim de se conceber e se construir algo coletivamente.
- II. Efetivam-se as dimensões participativas nesse espaço de diálogos e interlocuções entre indivíduos e grupos, carregados de experiências baseadas no falar e no ouvir o outro, que ora os diferenciam, ora os agrupam, a fim de se conceber e se construir algo coletivamente que considero como uma esfera micro da participação.
- III. Nesse espaço de diálogos e interlocuções entre indivíduos e grupos, carregados de experiências que ora os diferenciam, ora os agrupam, as dimensões participativas, que considero como uma esfera micro da participação, efetivam-se, baseadas no falar e no ouvir o outro a fim de se conceber e se construir algo coletivamente.
- IV. As dimensões participativas, que considero como uma esfera micro da participação, baseadas no falar e no ouvir o outro a fim de se conceber e se construir algo coletivamente, efetivam-se nesse espaço de diálogos e interlocuções entre indivíduos e grupos, carregados de experiências que ora os diferenciam, ora os agrupam.

A quantidade de itens certos é igual a

- (A) 0. (B) 1. (C) 2. (D) 3. (E) 4.

RACIOCÍNIO LÓGICO E MATEMÁTICO

Questões de 9 a 13

QUESTÃO 9

Se todo arquiteto é desenhista, existe professor que é arquiteto, mas algum desenhista não é professor, então é correto afirmar que

- (A) existe professor que não é arquiteto.
- (B) existe arquiteto que não é professor.
- (C) algum professor não é desenhista.
- (D) todo arquiteto que é professor é também desenhista.
- (E) algum desenhista que é professor é também arquiteto.

QUESTÃO 10

O edifício sede de certa construtora tem três andares e lá trabalham nove pessoas. De quantas maneiras essas pessoas podem ser distribuídas, de modo que quatro trabalhem no primeiro andar, três no segundo e, no terceiro andar, trabalhem o dono e sua secretária?

- (A) 15. (B) 20. (C) 25. (D) 30. (E) 35.

QUESTÃO 11

Um pedreiro construindo um muro linear afirmou para o arquiteto responsável: “se eu construir certa quantidade de metro por dia, passados 16 dias faltarão 22 metros a serem construídos. Se, com grande esforço, eu conseguir construir dois metros a mais por dia, passados 12 dias ainda faltarão 14 metros a serem construídos”. Nesse caso hipotético, assinale a alternativa que indica, em metros, o comprimento do muro.

- (A) 64. (B) 72. (C) 86. (D) 94. (E) 98.

QUESTÃO 12

Na reunião semanal entre engenheiros e arquitetos de determinada construtora, duas pessoas chegam atrasadas e pelo menos uma delas é arquiteta. A probabilidade das duas pessoas serem arquitetas é de

- (A) $\frac{1}{6}$.
- (B) $\frac{1}{3}$.
- (C) $\frac{1}{4}$.
- (D) $\frac{1}{2}$.
- (E) 1.

QUESTÃO 13

Candidatos a um emprego, em determinada construtora responderam um questionário com 10 itens do tipo verdadeiro ou falso. Observou-se que todos os candidatos responderam oito itens como verdadeiros e dois como falsos e que não existiam dois questionários com todas as respostas iguais. Nessa situação, o número máximo de candidatos era

- (A) 45. (B) 50. (C) 55. (D) 60. (E) 65.

Área livre

QUESTÃO 14

De acordo com a Lei nº 12.378/2010, é competência do Conselho de Arquitetura e Urbanismo do Brasil (CAU/BR)

- (A) zelar pela dignidade e valorização da arquitetura, do urbanismo e da agronomia.
- (B) criar órgãos colegiados com funções abrangentes e interdisciplinares.
- (C) representar os arquitetos e urbanistas em colegiados de órgãos públicos federais, estaduais ou municipais que tratem de questões de exercício profissional referentes à arquitetura e ao urbanismo.
- (D) homologar os regimentos internos e as prestações de contas dos CAUs.
- (E) julgar e homologar, com poder de veto, as questões administrativas decididas pelos CAUs.

QUESTÃO 15

Com base na Lei nº 12.378/2010, assinale a alternativa que apresenta uma atividade ou atribuição do Arquiteto e Urbanista.

- (A) Realização de estudos de viabilidade técnica e econômica de empreendimentos imobiliários.
- (B) Coleta de dados socioeconômicos da população para subsidiar projetos de planejamento urbanístico e cultural.
- (C) Controle de qualidade de projetos ambientais e de saúde alimentar.
- (D) Direção de obras e de serviços técnicos voltados para o restauro e a valorização de edificações.
- (E) Produção e divulgação técnica especializada de projetos de Arquitetura e Urbanismo e de Engenharia em geral.

QUESTÃO 16

O Colegiado Permanente com a participação das Entidades Nacionais de Arquitetos e Urbanistas (CEAU), a que se refere o art. 61 da Lei nº 12.378/2010 e instituído pelo art. 7º do Regimento Geral do CAU/BR, possui qual atribuição?

- (A) Desenhar o perfil das 100 maiores cidades brasileiras e propor soluções de melhoria do ambiente urbano.
- (B) Manter fórum permanente com instituições representativas da profissão de Arquiteto e Urbanista no âmbito internacional.
- (C) Zelar para a manutenção da imagem dos Conselhos de Arquitetura e Urbanismo.
- (D) Fiscalizar o exercício da profissão de Arquiteto e Urbanista.
- (E) Tratar das questões do ensino e exercício profissional do Arquiteto e Urbanista.

QUESTÃO 17

Assinale a alternativa que **não** apresenta unidade(s) organizacional(is) do CAU/BR.

- (A) Gerências Técnica, Administrativa e Financeira.
- (B) Gerências de Edificações e de Planejamento Urbanístico.
- (C) Assessorias Jurídica e de Relações Internacionais.
- (D) Assessorias de Planejamento e de Comunicação.
- (E) Auditoria e Ouvidoria.

QUESTÃO 18

Com base no Código de Ética e Disciplina do CAU/BR, assinale a alternativa correta.

- (A) O arquiteto e urbanista deve empenhar-se no conhecimento, na aplicação, no aperfeiçoamento, na atualização e na divulgação do Código de Ética e Disciplina do CAU/BR.
- (B) O arquiteto e urbanista deve fiscalizar o CAU no cumprimento da prática regular da profissão.
- (C) Para a obtenção do registro de autoria, faz-se necessário que o arquiteto e urbanista anexe parecer jurídico junto aos seus projetos de arquitetura.
- (D) Ao arquiteto e urbanista não compete opinar sobre a legislação pertinente às atividades da Arquitetura e Urbanismo.
- (E) A orientação, a disciplina e a fiscalização do exercício profissional são atividades exclusivas do Conselho, não cabendo ao arquiteto e urbanista colaborar com o CAU para a realização dessas atividades.

ATUALIDADES Questões de 19 a 22

QUESTÃO 19

Quando a menina nasceu, nenhum vizinho foi dar os parabéns aos seus pais. Em regiões do Paquistão como o Vale do Swat, onde ela vivia, só o nascimento de meninos é celebrado. Das meninas, espera-se apenas que vivam quietinhas atrás das cortinas, cozinhem e tenham filhos – preferencialmente antes dos 18 anos de idade. Aos 12 anos, para poder continuar indo à escola, desafiou uma das mais cruéis e violentas milícias em ação, o fundamentalista Talibã. Aos 15 anos, foi baleada na cabeça em uma tentativa do grupo de silenciá-la. Sobreviveu ao atentado e, aos 16 anos, tornou-se porta-voz mundial de uma causa até há pouco quase obscura, entre outros motivos, por ter surgido em uma região que já parecia ter problemas a tratar: as milhares de meninas no Afeganistão e no Paquistão que, graças a uma interpretação do Islã eivada de ignorância e ódio, são impedidas de ter acesso à educação e a um futuro melhor.

Revista *Veja*, 16/10/2013, edição 2.343. Editora Abril, pag. 86, com adaptações.

Essa autobiografia da jovem paquistanesa é narrada no livro.

- (A) Afeganistão depois do Talibã.
- (B) O caçador de pipas.
- (C) A costureira de Khair Khana.
- (D) Em que acreditam os muçulmanos.
- (E) Eu sou Malala.

QUESTÃO 20

Em dezembro de 2010 foi sancionada e regulamentada em dezembro de 2010 a Política Nacional de Resíduos Sólidos (PNLR), que reúne o conjunto de diretrizes e ações a ser adotado, com vistas à gestão integrada e ao gerenciamento adequado dos resíduos sólidos.

Quanto ao objeto e ao campo de aplicação da PNLR, é correto afirmar que

- (A) se aplica aos resíduos radioativos, pois estes não são regulados por leis específicas de acordo com o Ministério do Meio Ambiente.
- (B) estão sujeitas à observância desta lei apenas as pessoas jurídicas, de direito público ou privado, responsáveis, direta ou indiretamente, pela geração de resíduos sólidos.
- (C) institui a responsabilidade compartilhada dos geradores de resíduos sólidos, incluindo fabricantes, importadores, distribuidores, comerciantes e consumidores.
- (D) estabelece a logística reversa, caracterizada por um conjunto de ações e procedimentos, por parte dos consumidores, destinados à coleta e à restituição dos resíduos sólidos ao setor empresarial.
- (E) Serão permitidos os lixões a céu aberto, de acordo com a legislação, nas áreas que não coloquem em risco as nascentes de rios e os lençóis freáticos.

QUESTÃO 21

Os 25 anos da Constituição brasileira, que se comemoram hoje, talvez contenham em si mesmos – pela mera menção de sua durabilidade – o maior elogio ao texto atualmente em vigor.

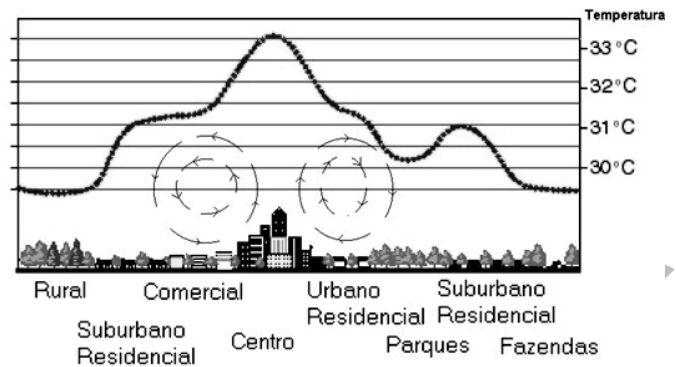
Quando foi promulgada, em 5 de outubro de 1988, não faltaram advertências quanto aos riscos de inviabilidade que a nova Carta projetava sobre os governos do futuro, dado seu detalhismo e sua prodigalidade ao acomodar demandas das mais distintas corporações.

<www.folha.uol.com.br/opiniao>. Seção: Editorial – Constituição em vigor, 05 de outubro de 2013.

Assinale a alternativa que, dentre os diversos fatores, aquele que justifica a denominação “Constituição Cidadã” dada para a atual Carta Magna do Brasil.

- (A) As leis que previam a licença-maternidade e a demarcação de terras indígenas pelos estados e municípios.
- (B) A multa de 50% no ato da demissão de um trabalhador e o direito à greve para os funcionários públicos e privados.
- (C) O direito à titularidade da terra para as mulheres trabalhadoras rurais e o conceito restrito de família.
- (D) A aprovação de leis a qual também contava com audiências públicas que preparavam emendas com a participação da sociedade civil na busca dos próprios interesses.
- (E) A transição entre o período da ditadura militar e a afirmação do regime democrático no País, marcada pela Constituição, tendo total respaldo dos militares desde o movimento Diretas Já.

QUESTÃO 22



Considere a figura acima, que demonstra um impacto ambiental provocado pela elevação da temperatura nos centros urbanos devido à demasiada concentração de materiais sólidos nas grandes cidades (asfalto, concreto, tijolos, prédios etc.), e observe que, quanto mais afastado do centro urbano menor, será a temperatura.

Sobre o assunto, é correto afirmar que o impacto ambiental demonstrado na figura e aludido no texto se refere à(o)

- (A) inversão térmica.
- (B) ilha de calor.
- (C) zoneamento ecológico.
- (D) buraco na camada de ozônio.
- (E) aquecimento global.

CONHECIMENTOS EM MICROINFORMÁTICA

Questões de 23 a 25

Figura 1 para responder as questões 23 e 24.

	A	B	C	D	E	F	G
	Cidades	População com Saneamento (mil hab.)		População sem Saneamento (mil hab.)			
1							
2	Arquitetolândia	80	80%	20	20%		
3	Urbanopólis	30	75%	10	25%		
4	Belas Paisagens	150	75%	50	25%		
5	Total	260	76%	80	24%		
6		População total: 340 mil habitantes.					
		Fonte: lades.					

QUESTÃO 23








De acordo com a imagem de uma planilha Excel, apresentada na figura 1, qual é a fórmula usada para definir o percentual da população total sem saneamento?

- (A) = MEDIA % (E2+E3+E4)
- (B) = MEDIA PONDERADA (D2;D3;D4)/(B2;B3;B4)
- (C) = D5/(B5+D5)
- (D) = E5/(C5+E5)
- (E) = (SOMA(E2:E4) 3) / (SOMA(C2:C4)/3)

QUESTÃO 24

Conforme a figura 1, percebe-se que os percentuais foram arredondados. Os valores exatos até a segunda casa decimal são **76,47%** e **23,53%**. Para que a linha 5 apareça com os totais, conforme mostrado a seguir, assinale a alternativa que apresenta uma sequência correta de cliques no *mouse*.

Total	260	76,47%	80	23,53%
-------	-----	--------	----	--------

- (A) <Selecionar a linha 5>, <Clicar 2 vezes no botão  >.
- (B) <Selecionar a célula C5>, <Clicar 2 vezes no botão  >, <Selecionar a célula E5>, <Clicar 2 vezes no botão  >.
- (C) <Selecionar a célula C5>, <Clicar 2 vezes no botão  >, <Selecionar a célula E5>, <Clicar 2 vezes no botão  >.
- (D) <Clicar em **Iniciador da Caixa de Diálogo**  ao lado de **Número**. Na lista **Categoria**, <Clicar 2 vezes em **Porcentagem**>.
- (E) <Selecionar as colunas C e E> e <Clicar 2 vezes no botão  >.

QUESTÃO 25

Para evitar a perda de informações importantes, faz-se necessário uma rotina de cópias de segurança (também chamadas de *backup*) conveniente para as necessidades de cada usuário de microinformática. Acerca desse tema, assinale a alternativa correta.

- (A) O *backup* de todos os arquivos do computador pessoal deve ser feito diariamente pelo usuário que os criou ou salvou a última versão.
- (B) Os sistemas operacionais atualmente usados em computadores pessoais têm ferramentas de incentivo ao bloqueio das chamadas cópias de segurança, com o objetivo de evitar a transmissão de arquivos e documentos criados naquele computador.
- (C) A opção adequada para *backups* em ambientes de escritório é salvar os arquivos criados diretamente em HD externo ou *pen drive*, sem salvá-los no disco rígido do PC.
- (D) As mídias óticas (DVD e CD) são as melhores alternativas para *backup* dos arquivos, pois não permitem novas cópias, mas apenas a leitura dos arquivos gravados.
- (E) Os HD externos e os *pendrives* representam, nos dias atuais, uma boa relação custo × benefício para *backups* de arquivos do usuário. O seu uso indiscriminado, porém, representa ameaça à segurança das informações corporativas.

CONHECIMENTOS ESPECÍFICOS

Questões de 26 a 50

QUESTÃO 26

O resultado financeiro do exercício de um ente público, evidenciado no balanço financeiro (art. 103 da Lei nº 3.420/1964), corresponde à diferença entre

- (A) o saldo disponível para o exercício seguinte e as receitas orçamentárias.
- (B) as receitas orçamentárias e as despesas orçamentárias.
- (C) o saldo do exercício anterior e restos a pagar (pagos).
- (D) receitas orçamentárias mais recebimentos extraorçamentários e despesas orçamentárias mais pagamentos extraorçamentários.
- (E) restos a pagar (pagos) e restos a pagar (inscritos).

QUESTÃO 27

Observe a tabela a seguir.

Dependente	Relação de parentesco	Data de nascimento
Júlia Lima	Esposa	12/11/1968
Pedro Gonçalves	Filho	04/04/1994
Eduardo Gonçalves	Filho	23/06/1999
Renata Lima	Enteada	26/11/2000

Tabela Salário-família

Vigência	Remuneração	Salário-família
A partir de 1º/01/2013 (Portaria Interministerial MPS/MF 15/2013)	R\$ 646,55	R\$ 33,16
	R\$ 646,56 a R\$ 971,78	R\$ 23,36

Com base na tabela apresentada, calcule o valor do salário-família a que o trabalhador Marcelo Gonçalves faz jus, sabendo que o salário dele é de R\$ 835,00 mensais e que ele possui quatro dependentes.

- (A) R\$ 23,36.
- (B) R\$ 33,16.
- (C) R\$ 46,72.
- (D) R\$ 70,08.
- (E) R\$ 93,44.

QUESTÃO 28

A doação em espécie recebida pelo ente público classifica-se como

- (A) receita extraorçamentária.
- (B) receita de capital.
- (C) receita de contribuição.
- (D) transferência corrente.
- (E) transferência de capital.

QUESTÃO 29

Acerca da dívida ativa, assinale a alternativa correta.

- (A) Serão inscritos na dívida ativa todos os créditos em favor da Fazenda Pública, que não tenham sido pagos até o último dia útil do exercício financeiro.
- (B) A dívida ativa constitui uma parcela do passivo da entidade pública.
- (C) A parcela estimada do crédito inscrito em dívida ativa, cuja liquidação é incerta, constituirá uma provisão redutora do Ativo da entidade pública, chamada Provisão para Perdas de Dívida Ativa.
- (D) A inscrição em dívida ativa de créditos vencidos e não pagos constitui-se em um fato contábil modificativo.
- (E) Apenas o valor principal do crédito tributário será inscrito na dívida ativa, excluindo-se o valor dos juros, multas e atualização monetária.

QUESTÃO 30

Considere hipoteticamente que fortes chuvas atingiram a região serrana do Rio de Janeiro, deixando milhares de desabrigados e centenas de casas destruídas. As estradas que dão acesso ao local foram bloqueadas pelos desmoronamentos ocorridos na região. A cidade ficou sem comunicação, registrando falta de alimentos e água potável. O prefeito declarou situação de calamidade pública.

Diante desse quadro hipotético, o orçamento poderá ser alterado para socorrer a região, por meio da abertura de crédito

- (A) suplementar.
- (B) especial.
- (C) extraorçamentário.
- (D) emergencial.
- (E) extraordinário.

QUESTÃO 31

Do financiamento da seguridade social participam tanto o empregador quanto o trabalhador. Acerca desse assunto, assinale a alternativa correta.

- (A) A contribuição do segurado empregado está limitada a 11% do seu salário.
- (B) Para o segurado empregado, há três alíquotas diferentes de contribuição, dependendo da faixa salarial em que ele se enquadre.
- (C) A contribuição do empregador é limitada a 20% do teto do salário-de-contribuição.
- (D) O segurado empregado contribui para a Previdência Social com alíquota de 8%, enquanto o empregador contribui com 20% sobre o salário do trabalhador.
- (E) Sobre o valor recebido pelo trabalhador acima do teto do salário-de-contribuição, não incide contribuição previdenciária patronal.

QUESTÃO 32

A Consolidação das Leis do Trabalho (CLT), Decreto-Lei nº 5.452/1943, no capítulo em que trata da jornada de trabalho, estabelece que

- (A) o tempo gasto pelo empregado que utiliza transporte público para ir ao trabalho e retornar integra a jornada de trabalho.
- (B) a remuneração da hora extra será 20% superior à da hora normal.
- (C) a jornada de trabalho, em nenhuma hipótese, poderá exceder oito horas diárias.
- (D) a jornada de trabalho diária poderá ser acrescida de até quatro horas extras.
- (E) a remuneração da hora extra poderá ser definida em acordo coletivo de trabalho, em percentual no mínimo 50% superior à da hora normal.

QUESTÃO 33

De acordo com o art. 32-I da Lei Orgânica da Seguridade Social (Lei nº 8.212/1991), a elaboração da folha de pagamento é obrigatória. Acerca desse assunto, assinale a alternativa correta.

- (A) Os valores dos salários devidos, mas que somente serão pagos no mês subsequente, deverão ser contabilizados na conta Salários a Pagar.
- (B) A folha de pagamento deve incluir apenas os empregados da empresa, não incluindo os trabalhadores avulsos e os contribuintes individuais.
- (C) A folha de pagamento é contabilizada segundo o regime de caixa.
- (D) A legislação trabalhista permite que o pagamento dos salários e das demais vantagens seja efetuado até o dia cinco do mês seguinte.
- (E) A folha de pagamento deve ser contabilizada no mesmo mês em que tiver sido efetuado o pagamento.

QUESTÃO 34

Dada a equação patrimonial, assinale a alternativa em que o Patrimônio Líquido é igual a zero ($PL = 0$), sendo:

- A = Ativo
P = Passivo
AC = Ativo Circulante
ANC = Ativo não Circulante
PC = Passivo Circulante
PNC = Passivo não Circulante
PL = Patrimônio Líquido
- (A) $AC = PC + PNC - ANC$
 - (B) $ANC = PNC$
 - (C) $AC > PC$
 - (D) $A < P$
 - (E) $PC = AC + ANC + PNC$

QUESTÃO 35

Observe o relatório a seguir.

Relatório Contábil em 31/12/2011	
Estoque inicial de mercadorias	\$ 400
Compras no período	\$ 200
Devolução de compras	\$ 50
Vendas no período	\$ 900
Devolução de vendas	\$ 100
Despesas com vendas	\$ 50
Despesas administrativas	\$ 30
Estoque final de mercadorias	\$ 100

Com base nas informações contidas no relatório contábil apresentado, é correto afirmar que a empresa obteve lucro bruto operacional de

- (A) \$ 270.
- (B) \$ 300.
- (C) \$ 320.
- (D) \$ 350.
- (E) \$ 400.

QUESTÃO 36

A fixação da despesa, entendida como um dos estágios a ser percorrido pela despesa pública, ocorre

- (A) no exercício anterior ao da realização da despesa, com a edição da Lei Orçamentária Anual.
- (B) no encerramento do exercício, após o levantamento dos restos a pagar processados.
- (C) após efetuado o pagamento.
- (D) após a sua regular liquidação.
- (E) no mesmo exercício em que será realizada a despesa.

QUESTÃO 37

As informações seguintes foram extraídas da Demonstração dos Fluxos de Caixa (DFC) da companhia Progresso S/A, elaborada pelo método direto.

Saldo inicial de caixa: \$ 3.500

Saldo final de caixa: \$ 4.800

Fluxo de caixa gerado pelas atividades operacionais: \$ 1.000

Fluxo de caixa gerado pelas atividades de investimento: \$ 600

Nesse caso hipotético, sabendo que, no exercício, a companhia contratou novos financiamentos no valor de \$ 1.000, amortizou empréstimos no valor de \$ 800 e distribuiu lucros no valor de \$ 500, o fluxo de caixa gerado pelas atividades de financiamento, no período, totalizou

- (A) \$ 300.
- (B) -\$ 300.
- (C) \$ 500.
- (D) -\$ 800.
- (E) \$ 1.300.

QUESTÃO 38

O princípio da universalidade estabelece que a Lei Orçamentária Anual (LOA) conterà todas as receitas previstas e as despesas fixadas para o exercício financeiro a que se refere. Com base nessa informação, é correto afirmar que o ingresso de valores nos cofres públicos, proveniente de operação de crédito não prevista na LOA, deverá ser classificado como

- (A) ingresso extraorçamentário.
- (B) receita extraorçamentária.
- (C) despesa extraorçamentária.
- (D) receita orçamentária.
- (E) despesa orçamentária.

QUESTÃO 39

Considere o lançamento de um fato contábil que:

1. causou um aumento no saldo de uma conta do Passivo;
2. debitou uma conta de Despesa; e,
3. não tenha alterado o total de Ativos e Passivos.

Nesse caso hipotético, é correto afirmar que se trata de um fato contábil

- (A) permutativo.
- (B) modificativo aumentativo.
- (C) misto.
- (D) permutativo aumentativo.
- (E) modificativo diminutivo.

QUESTÃO 40

Acerca do campo de aplicação da contabilidade pública, regulada pela Lei nº 4.320/1964, é correto afirmar que se aplica

- (A) tanto à Administração direta quanto à Administração indireta.
- (B) somente aos Poderes da União.
- (C) somente à Administração direta dos três Poderes da União, dos estados, dos municípios e do Distrito Federal.
- (D) somente às fundações públicas, na Administração indireta.
- (E) às autarquias federais, mas não às estaduais e municipais.

QUESTÃO 41

O elemento integrante do Plano de Contas, que contém a relação codificada dos fatos contábeis permitindo sua contabilização automática, denomina-se

- (A) relação de contas.
- (B) tabela de eventos.
- (C) elenco de contas.
- (D) indicadores contábeis.
- (E) tabela de códigos contábeis.

QUESTÃO 42

No Brasil, a contabilidade pública adota, para a despesa pública, o regime de competência. Acerca desse tema, é correto afirmar que a condição necessária para uma despesa pertencer ao exercício financeiro é ter sido

- (A) movimentada para todos os estágios da Despesa Pública.
- (B) liquidada no exercício.
- (C) paga no exercício.
- (D) fixada no Orçamento.
- (E) empenhada no exercício.

QUESTÃO 43

Considerando que, diversas técnicas podem ser empregadas para se analisar as demonstrações contábeis, é correto afirmar que a técnica de análise que consiste em observar, por meio de índices, a tendência de evolução das contas ao longo de dois ou mais períodos, adotando-se um ano-base=100, denomina-se análise

- (A) vertical.
- (B) horizontal.
- (C) transversal.
- (D) linear.
- (E) temporal.

QUESTÃO 44

Complementam as demonstrações contábeis com informações sobre critérios contábeis adotados; métodos de avaliação de estoques; garantias prestadas; espécies de ações do capital social; eventos subsequentes etc., de forma a esclarecer a situação patrimonial e os resultados do exercício. A definição apresentada refere-se a

- (A) Notas Explicativas.
- (B) Relatório da Diretoria.
- (C) Parecer dos Auditores.
- (D) Demonstração de Mutações do Patrimônio Líquido.
- (E) Demonstração de Valor Agregado.

QUESTÃO 45

Acerca dos objetivos da análise contábil, assinale a alternativa correta.

- (A) Cumprir as exigências contidas na legislação.
- (B) Auditar as demonstrações financeiras elaboradas pela contabilidade.
- (C) Extrair informações contidas nas demonstrações financeiras, a fim de subsidiar o processo de tomada de decisões.
- (D) Permitir que a empresa recolha menos impostos.
- (E) Definir a visão, a missão e os valores da empresa.

QUESTÃO 46

Tendo em vista que as demonstrações financeiras precisam ser preparadas para a análise contábil, é correto afirmar que a transcrição das contas das demonstrações contábeis para um modelo previamente definido, objetivando a simplificação e a comparabilidade, denomina-se

- (A) análise vertical.
- (B) análise horizontal.
- (C) circularização.
- (D) conciliação contábil.
- (E) padronização.

QUESTÃO 47

Um título com valor de face $N = \$1.000$ tem vencimento em seis meses. Dada uma taxa de desconto simples $i = 24\%$ ao ano, se o título for antecipado em três meses ($n=3$), o valor descontado do título (V_d) será

- (A) $V_d = \$60$.
- (B) $V_d = \$240$.
- (C) $V_d = \$940$, no caso de desconto bancário (por fora).
- (D) $V_d < \$940$, no caso de desconto racional (por dentro).
- (E) $V_d = \$760$, no caso de desconto racional (por dentro).

QUESTÃO 48

Ao realizar um financiamento bancário, o cliente recebeu a tabela seguinte contendo as informações sobre a forma de pagamento.

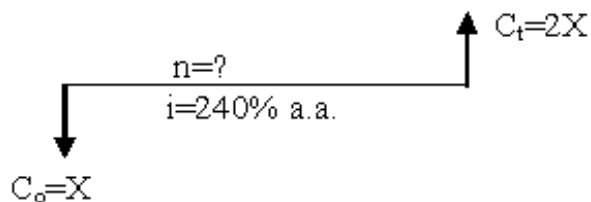
Períodos	Saldo Devedor	Amortização (\$)	Juros (\$)	Prestação (\$)
0	8.000,00			
1	7.000,00	1.000,00	800,00	1.800,00
2	6.000,00	1.000,00	700,00	1.700,00
3	5.000,00	1.000,00	600,00	1.600,00
4	4.000,00	1.000,00	500,00	1.500,00
5	3.000,00	1.000,00	400,00	1.400,00
6	2.000,00	1.000,00	300,00	1.300,00
7	1.000,00	1.000,00	200,00	1.200,00
8	0,00	1.000,00	100,00	1.100,00
Total		8.000,00	3.600,00	11.600,00

Com base nessa tabela, é correto afirmar que o sistema de amortização utilizado pelo banco foi o(a)

- (A) Sistema de Amortização Francês (SAF).
- (B) Tabela PRICE.
- (C) Sistema de Amortização Crescente (SACRE).
- (D) Sistema de Amortização Constante (SAC).
- (E) Sistema de Amortização Misto (SAM).

QUESTÃO 49 _____

Um capital $C_0=X$ foi aplicado a uma taxa de juros 240% ao ano, em regime de capitalização simples.



Em quantos meses $C_t = 2X$?

- (A) 1 mês.
- (B) 5 meses.
- (C) 9 meses.
- (D) 12 meses.
- (E) 24 meses.

QUESTÃO 50 _____

A taxa de juros real de uma aplicação é calculada pela fórmula:

$$\text{Taxa real } (r) = \left(\frac{1 + \text{taxa nominal}(i)}{1 + \text{taxa de inflação}(f)} - 1 \right) \times 100$$

Um poupador pretende aplicar \$3.425,16 em uma aplicação que promete pagar 10% ao ano. Sabendo que a expectativa de inflação para o período é de 6%, o ganho real dessa operação será

- (A) igual a 4%.
- (B) maior que 4%.
- (C) menor que 4%.
- (D) igual a 16%.
- (E) negativo.

Área livre

PROVA DISCURSIVA

Orientações para a elaboração do texto da prova discursiva:

- A prova discursiva consiste na elaboração de um texto dissertativo.
- A prova discursiva deverá ser manuscrita, em letra legível, com caneta esferográfica de tinta azul ou preta, fabricada de material transparente.
- A **folha de texto definitivo** da prova discursiva não poderá ser assinada, rubricada e não deverá conter, em outro local que não o apropriado, nenhuma palavra ou marca que a identifique, sob pena de anulação da prova discursiva.
- A detecção de qualquer marca identificadora no espaço destinado à transcrição de texto definitivo acarretará anulação da prova do candidato.
- A **folha de texto definitivo** é o único documento válido para a avaliação da prova discursiva.
- O espaço para rascunho, contido no caderno de provas, é de preenchimento facultativo e não valerá para avaliação da prova discursiva.
- O texto deverá ter extensão mínima de 20 (vinte) linhas e máxima de 40 (quarenta) linhas, com base no tema a seguir apresentado.

Leia, com atenção, o texto a seguir.

O orçamento é um produto integrado ao planejamento estratégico da organização, atuando como alerta aos gestores e indicando se o plano é eficaz. É um plano financeiro e cronológico, normalmente para um ano, que visa implementar e oferecer suporte às estratégias delimitadas pela organização.

FREZATTI, F. **Orçamento Empresarial: planejamento e controle gerencial**. 3. ed. São Paulo: Atlas, 2006.

Considerando que o texto apresentado tem caráter meramente motivador, redija um texto dissertativo acerca da elaboração, do acompanhamento e do controle do orçamento na organização sem fins lucrativos, comentando sobre:

- a) Os aspectos importantes a serem observados na elaboração do orçamento anual.
- b) As responsabilidades internas sobre o acompanhamento da execução do orçamento.
- c) O apoio necessário ao controle orçamentário, por meio de um sistema de informações, bem como a sua importância para o processo decisório na organização.

Área livre - rascunho na página seguinte

Rascunho

1	
5	
10	
15	
20	
25	
30	
35	
40	