



# PREFEITURA MUNICIPAL DE ITAPAJÉ - CE

## CONCURSO PÚBLICO – EDITAL 001/2013

### DENTISTA

NOME DO CANDIDATO: \_\_\_\_\_

RG: \_\_\_\_\_ ÓRGÃO EXPEDIDOR: \_\_\_\_\_

Nº DE INSCRIÇÃO

--	--	--	--	--	--

ASSINATURA: \_\_\_\_\_

### LEIA COM ATENÇÃO E SIGA RIGOROSAMENTE ESTAS INSTRUÇÕES:

1. Este caderno está contendo 60 (sessenta) questões de múltipla escolha, numeradas de 01 a 60.
2. Cada uma das questões apresenta um enunciado seguido de 5 (cinco) alternativas, das quais somente uma é a correta. Assinale-a.
3. Examine se a prova está completa, com a sequência numérica das questões, se há falhas ou imperfeições gráficas que causem dúvidas. Qualquer reclamação deverá ser feita durante os 20 minutos iniciais. Após esse tempo, qualquer reclamação será desconsiderada.
4. Depois de decorridos 2 (duas) horas do início da prova, será distribuído o Cartão-Resposta, o qual será o único documento válido para a correção da prova. Ao recebê-lo, verifique se o seu nome e número de inscrição estão corretos. Reclame imediatamente se houver discrepância.
5. O cartão-resposta não pode ser dobrado, amassado, rasurado ou manchado. Exceto sua assinatura e inscrição, nada deve ser escrito ou registrado fora dos locais destinados às respostas. Tenha muita atenção ao marcar seu cartão-resposta, pois não haverá substituição por erro do candidato. Marque sua resposta pintando completamente o espaço correspondente à alternativa de sua opção.  
  
Ex.: A  B  C  D  E
6. A leitora de marcas não registrará as respostas em que houver falta de nitidez, uso de corretivo, marcação a lápis ou marcação de mais de uma letra. Não serão computadas questões não assinaladas.
7. Durante a prova, é proibido o intercâmbio e o empréstimo de material de qualquer natureza entre os candidatos. A tentativa de fraude, a indisciplina e o desrespeito às autoridades encarregadas dos trabalhos são faltas que implicarão na desclassificação do candidato(a).
8. Qualquer forma de comunicação entre candidatos implicará na eliminação de ambos do certame.
9. Não será permitido ao candidato, durante a realização das provas, portar: armas; aparelhos eletrônicos de qualquer natureza; bolsas; livros; jornais ou impressos em geral; bonés, chapéus, lenço de cabelo, bandanas etc.
10. É vedado o uso de telefone celular ou de qualquer outro meio de comunicação. O candidato que for flagrado portando aparelho celular, durante o período de realização da prova, ou, ainda, aquele candidato cujo aparelho celular tocar será sumariamente eliminado do certame.
11. Em caso de dúvida, durante a prova, levante o braço para solicitar atendimento da fiscalização. Jamais pergunte em voz alta.
12. O Candidato que permanecer na sala de provas, por mais de 3h45min, poderá levar consigo a cópia do gabarito, em formulário específico, fornecido pela **ORGANIZADORA**.
13. Ao terminar a resolução da prova, entregue-a ao fiscal de sala juntamente com o **Cartão-Resposta** (devidamente assinado). Não esqueça, também, de **assinar a folha de frequência**.
14. As provas terão duração de 4 horas. Turno da Manhã com início às 08h00min e término às 12h00min e Turno da Tarde com início às 14h00min e término às 18h00min. Entretanto, o candidato só poderá ausentar-se da sala, depois de decorridas duas horas do início das provas.
15. Os **Gabaritos Preliminares das Provas Objetivas** serão divulgados 72 (setenta e duas) horas após a realização das mesmas.



**CONHECIMENTOS GERAIS**

Leia o texto I e responda as questões de 1 a 5.

**TEXTO I**

**Inclusão no Ensino Superior**

Nos últimos anos, o país assistiu a uma notável ampliação no número de alunos matriculados no ensino superior. Segundo dados do Censo da Educação Superior, de 2002 a 2011, o aumento de matrículas em graduação foi de 91%. As matrículas em instituições de ensino superior (IES) públicas cresceram 63% no mesmo período e, nas privadas, o número de matrículas mais que dobrou, com um crescimento de 104%. Mas qual é o perfil dos alunos que ingressam no ensino superior no Brasil?

"A expansão recente no número de matrículas revela que o acesso à educação superior ainda se mostra bastante concentrado nos jovens das faixas de renda alta e média e brancos", afirma Clarissa Eckert Baeta Neves, professora da Universidade Federal do Rio Grande do Sul (UFRS), em trabalho apresentado no Congresso da Associação de Estudos Americanos (Lasa).

No último Censo do Instituto Brasileiro de Geografia e Estatística (IBGE, 2010), pela primeira vez os afrodescendentes passaram a ser maioria na sociedade brasileira (com 51% da população). Os brancos representam 48%. Mas essa mudança está muito longe de acontecer no ensino superior. Analisando o perfil socioeconômico do estudante de graduação no Brasil<sup>1</sup>, Dilvo Ristoff, professor da Universidade Federal de Santa Catarina (UFSC), mostra que, nos cursos de Medicina e Odontologia, mais de 70% dos alunos são brancos. No curso de Direito, eles somam 66%. Nesse contexto, algumas políticas públicas têm buscado amenizar essas desigualdades, por meio de mecanismos para ampliar o número de alunos do ensino público e de negros, pardos e índios no ensino superior.

(Pré- universo, nº 33 agosto de 2013)

**1. Refletindo sobre o texto I, marque a opção CORRETA.**

- a) As matrículas nas instituições de ensino superior públicas cresceram mais que nas instituições privadas.
- b) Os pobres e negros ainda são minoria nesse processo.
- c) Não há políticas públicas voltadas para esse fim.
- d) Há igualdade de oportunidades para o acesso ao ensino de nível superior para os alunos de diferentes classes sociais.
- e) A porcentagem da população afrodescendente na sociedade brasileira é proporcional ao ingresso deles nas instituições de ensino superior.

**2. Em qual das opções a seguir, encontra-se verbo com a mesma regência do verbo "assistir", linha 1?**

- a) Vive-se bem neste país.
- b) Maria namora João há mais de dois anos.
- c) As empresas negam-se a assistir os idosos.
- d) O aluno parece dedicado.
- e) O ensino deve sempre visar ao progresso social.

**3. No trecho "afirma Clarissa Eckert Baeta Neves, professora da Universidade Federal do Rio Grande do Sul (UFRS), em trabalho apresentado no Congresso da Associação de Estudos Americanos (Lasa).", o termo entre vírgulas é classificado como:**

- a) Vocativo.
- b) Adjunto adverbial.

- c) Oração subordinada adjetiva.
- d) Aposto.
- e) Predicativo do sujeito.

**4. Quanto ao gênero textual, podemos classificar o Texto I como:**

- a) Crônica.
- b) Entrevista.
- c) Reportagem.
- d) Fábula.
- e) Conto.

**5. Marque a opção CORRETA que indica a função da linguagem predominante no texto I.**

- a) Referencial.
- b) Metalinguística.
- c) Poética.
- d) Fática.
- e) Apelativa.

**6. Marque a opção INCORRETA quanto ao uso ou não da crase.**

- a) Tenho um fogão a gás.
- b) Vou à Bahia.
- c) Cheguei à casa do professor.
- d) Parabéns a você.
- e) Refiro-me à minha velha amiga.

**7. Analise as afirmações a seguir:**

- I. No vocábulo "ruim" há um hiato.
- II. É facultativo pronunciar-se o "u" depois de "g" na palavra "antiguidade".
- III. "X" soa /KS/ nas palavras "tíxico", "asfixia", "intoxicar".
- IV. São proparoxítonas "caracteres", "edito" (lei, decreto), "filantropo".

**Marque a opção que apresenta as afirmativas CORRETAS.**

- a) I – II – III – IV.
- b) I – II – III.
- c) I – II – IV.
- d) I – III – IV.
- e) II – III – IV.

**8. Quanto ao gênero do substantivo, marque a opção CORRETA.**

- a) Borboleta é substantivo sobrecomum.
- b) Criança é substantivo comum de dois gêneros.
- c) Alface é substantivo feminino.
- d) Entorse é substantivo masculino.
- e) Aneurisma é substantivo epiceno.

**9. Observe os períodos a seguir:**

- I. A maior parte recusou-se a segui-los.
- II. Mais de um passageiro se irritou com ele.
- III. Vossa Senhoria não respeitastes o compromisso.
- IV. Fui eu quem perdeu mais no investimento.

**Quanto à concordância verbal, marque a opção que apresenta a(s) afirmativa(s) CORRETA(S).**

- a) I – II.
- b) II.
- c) I – II – III.
- d) III.
- e) I – II – IV.

Leia a tirinha para responder a questão 10  
**TEXTO II**



(disponível em [www.tirinhasnovestibular](http://www.tirinhasnovestibular))

10. Quanto à linguagem empregada no texto II, marque a opção **INCORRETA**.

- É coloquial, utilizada entre amigos.
- Há presença de gírias.
- É predominantemente denotativa.
- É predominantemente conotativa.
- É linguagem verbal.

11. Em “Fez tudo porque eu não obtivesse bons resultados”, o valor da conjunção do período é de:

- Causa.
- Condição.
- Conformidade.
- Explicação.
- Finalidade.

12. Marque a opção **CORRETA** em que as palavras destacadas apresentam a mesma relação semântica que “ausência” e “presença”.

- A participação em nosso grupo provoca sentimentos de segurança e bem-estar.
- O desconhecido provoca a nossa desconfiança, às vezes, nosso medo.
- Sentimos que aqueles que mais nos conhecem são também capazes de ignorar o que de melhor trazemos conosco.
- As situações novas são atraentes e provocantes.
- Ainda sonhamos com o país distante, a terra prometida onde possamos ser felizes.

13. Qual a figura de linguagem presente no período “Falta-lhe inteligência para compreender isso.”?

- Ironia.
- Eufemismo.
- Hipérbole.
- Metonímia.
- Prosopopeia.

14. Marque a opção **CORRETA** que indica a palavra que tem o sufixo formador de advérbio.

- Extremamente.
- Sociedade.
- Enriquecimento.
- Pessimismo.
- Desesperança.

15. Analise as afirmativas a seguir.

A enfermeira procede \_\_\_ exame do paciente.  
O conferencista aludiu \_\_\_ fato.  
A gerente visa \_\_\_ cheque do cliente.  
A equipe visa \_\_\_ primeiro lugar no campeonato.  
Não podendo lutar, preferiu morrer \_\_\_ viver.

Marque a opção que preenche corretamente e respectivamente as lacunas.

- Ao / o / ao / ao / do que.
- Ao / ao / ao / ao / do que.
- A / ao / o / ao / que.
- Ao / ao / o / ao / a.
- Ao / ao / o / ao / à.

16. Um provedor de acesso à Internet oferece dois planos para seus assinantes:

Plano A - Assinatura mensal de R\$ 8,00 mais R\$ 0,03 por cada minuto de conexão durante o mês.

Plano B - Assinatura mensal de R\$ 10,00 mais R\$ 0,02 por cada minuto de conexão durante o mês.

Acima de quantos minutos de conexão por mês é mais econômico optar pelo plano B?

- 160.
- 180.
- 200.
- 220.
- 240.

17. Quatro amigos, Gustavo, Natalia, João e Deborah, vão ao cinema e sentam-se em lugares consecutivos na mesma fila. O número de maneiras que os quatro podem ficar dispostos de forma que Gustavo e Natalia fiquem sempre juntos e João e Deborah também, é:

- 2.
- 4.
- 8.
- 16.
- 24.

18. Num grupo constituído de Y pessoas, das quais 14 jogam xadrez, 40 são homens. Se 20% dos homens jogam xadrez e 80% das mulheres não jogam xadrez, então o valor de Y é:

- 62.
- 70.
- 78.
- 84.
- 90.

19. Sendo D o determinante da matriz mostrada na figura adiante o valor positivo de x é:

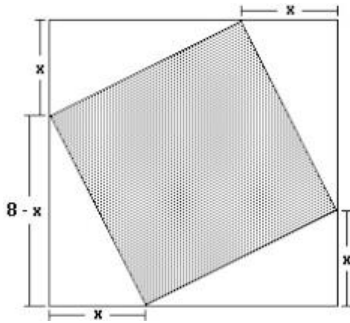
$$M = \begin{bmatrix} x & 1 \\ 1 & x \end{bmatrix} \text{ e } D = 8$$

- Um múltiplo de 4.
- O máximo divisor comum de 6 e 9.
- Um divisor de 10.
- O mínimo múltiplo comum de 3 e 5.
- Não se pode calcular.

20. Sabe-se que  $x - y = 4$  e  $x^2 + xy + y^2 = 52$ . Então:

- $x^2 - y^2 = 208$ .
- $x^2 + y^2 = 208$ .
- $x^3 + y^3 = 208$ .
- $x^3 - y^3 = 208$ .
- $x(x - y) = 208$ .

21. Na figura a seguir tem-se um quadrado inscrito em outro quadrado. Pode-se calcular a área do quadrado interno, subtraindo-se da área do quadrado externo as áreas dos 4 triângulos. Feito isso, verifica-se que  $A$  é uma função da medida  $x$ . O valor mínimo de  $A$  é:



- a)  $16 \text{ cm}^2$ .
- b)  $32 \text{ cm}^2$ .
- c)  $24 \text{ cm}^2$ .
- d)  $48 \text{ cm}^2$ .
- e)  $28 \text{ cm}^2$ .

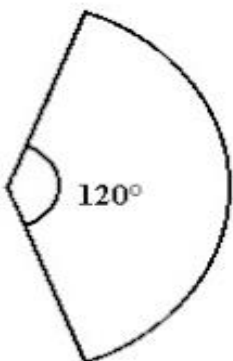
22. Considere dois pontos distintos  $A$  e  $B$  de um plano. O lugar geométrico dos pontos  $P$  deste plano tal que a soma das distâncias de  $P$  aos pontos  $A$  e  $B$  é constante, é uma curva denominada:

- a) Reta.
- b) Circunferência.
- c) Elipse.
- d) Parábola.
- e) Hipérbole.

23.  $A$  é um ponto não-pertencente a um plano  $P$ . O número de retas que contêm  $A$  e fazem um ângulo de  $45^\circ$  com  $P$  é igual a:

- a) 0.
- b) 1.
- c) 2.
- d) 4.
- e) Infinito.

24. O setor circular da figura a seguir é a superfície lateral de um cone cuja base tem diâmetro 4 e área igual a  $k\%$  da área total do cone. Então  $k$  vale:



- a) 20.
- b) 25.
- c) 30.
- d) 35.
- e) 40.

25. A soma de todos os elementos da inversa da matriz  $M$  mostrada na figura, a seguir, é igual a:

$$M = \begin{bmatrix} 1 & -1 \\ 0 & 2 \end{bmatrix}$$

- a) -2.
- b) -1.
- c) 0.
- d) 1.
- e) 2.

26. Um inseto, cujo tamanho é desprezível, faz um percurso linear. Inicialmente, caminha para a direita uma distância de 1 m. Então, ele vira para a esquerda, caminhando metade da distância do seu ponto corrente. Se o inseto continuar caminhando para a direita e para a esquerda, sempre andando a metade da distância previamente caminhada, percorrerá, a partir da origem, a distância de:

- a) 1 m.
- b) 2 m.
- c) 4 m.
- d) 8 m.
- e) 10 m.

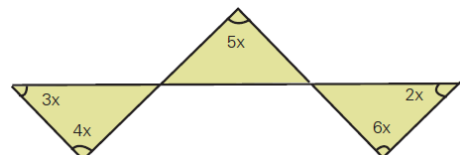
27. Luiz Eduardo depositou metade do seu capital para render juros durante três anos, a uma taxa de 15% ao ano, e a outra metade durante dois anos, a uma taxa de 12% ao ano, obtendo-se, ao final, um rendimento total de R\$ 8.625,00. Sabendo que a aplicação é com juros simples, determine o total aplicado nas duas operações.

- a) R\$ 25.000,00.
- b) R\$ 35.000,00.
- c) R\$ 15.000,00.
- d) R\$ 20.000,00.
- e) R\$ 8.000,00.

28. Para fazer 24 pães, Sr. João usa exatamente 1 quilo de farinha de trigo, 6 ovos e 200 gramas de manteiga. Qual é o maior número de pães que ele conseguirá fazer com 12 quilos de farinha, 54 ovos e 3,6 quilos de manteiga?

- a) 200.
- b) 216.
- c) 228.
- d) 300.
- e) 432.

29. Observe a figura, a seguir:



Quanto Vale " $x$ "?

- a)  $24^\circ$ .
- b)  $6^\circ$ .
- c)  $18^\circ$ .
- d)  $20^\circ$ .
- e)  $12^\circ$ .

**30. A diferença entre o quadrado da soma de dois números inteiros e a soma de seus quadrados NÃO pode ser:**

- 12.
- 6.
- 4.
- 2.
- 9.

**31. “Regime político no qual a soberania é exercida pelo povo, pertence ao conjunto dos cidadãos.”**

JAPIASSÚ, H.; MARCONDES, D. *Dicionário Básico de Filosofia*. Rio de Janeiro: Zahar, 2006.

**A afirmação acima é um conceito sobre:**

- Soberania.
- Autonomia.
- Direito.
- Justiça.
- Democracia.

**32. Leia a notícia a seguir:**

**Nordeste é região com mais bolsas do governo federal.**

*O Estado de S. Paulo – 16/09/2013*

*cod. 12.507*

Historicamente menos prestigiado nas políticas de ensino superior, o Nordeste enviou o maior número de graduandos para o exterior, em relação ao número de estudantes da região. Até agosto, o governo concedeu 547 bolsas para cada 100 mil universitários nordestinos, contra 509 no Sudeste. As bolsas oferecidas pelo Brasil somam quase 37,8 mil - das 101 mil prometidas até 2015.

Especialistas apontam que ainda é cedo para determinar impactos no desenvolvimento científico-tecnológico das instituições nordestinas. A expectativa mais imediata é de que as bolsas favoreçam a internacionalização das universidades locais e incrementem o repertório dos estudantes.

**A notícia apresenta dados sobre o programa:**

- Ciência Sem Fronteiras.
- Brasil Profissionalizado.
- Fundo de financiamento Estudantil.
- Plano Juventude Viva.
- Programa Nacional de Acesso ao Ensino Técnico e Emprego.

**Leia os textos (1 e 2) a seguir e responda a questão 33.**

#### TEXTO 1

**PIB - Apesar de mais altos, investimentos em educação ainda são mal distribuídos, aponta OCDE.**

*Agência Brasil – 14/09/2013*

*cod. 12.510*

Brasília – Os investimentos totais em educação no Brasil em relação ao Produto Interno Bruto (PIB) passaram de 5,8% para 6,1%, de 2010 para 2011. No mesmo período, as aplicações diretas – excluídos financiamentos e pagamento de bolsas, passaram de 5,1% para 5,3%. O último relatório da Organização para a Cooperação e Desenvolvimento Econômico (OCDE) mostra que, em relação a outros países, em 2010, o Brasil ultrapassou a Hungria (4,6%), a Itália (4,7%) e

equiparou-se à Suíça (5,6%). As porcentagens, no entanto, escondem os valores reais e a má distribuição desses recursos no país.

O relatório da OCDE mostra que o Brasil aumentou significativamente o investimento de 2000 para 2010, mas ainda está abaixo da média dos países da organização, que é de 6,3% do PIB. A porcentagem significa que, por aluno de instituição pública, o país investe, por ano, US\$ 2,96 mil. Os países cuja proporção foi ultrapassada ou equiparada, investem mais em termos reais. A Hungria investe US\$ 4,8 mil, a Itália US\$ 7,83 mil e a Suíça, US\$ 12,8 mil.

#### TEXTO 2

**RECURSOS - MEC usou menos de um terço do orçamento da pasta no primeiro semestre.**

*Agência Brasil – 14/09/2013*

*cod. 12.509*

Brasília – Nos primeiros seis meses deste ano, o Ministério da Educação (MEC) usou menos de um terço do orçamento aprovado para a pasta. Desse total, 2% foram usados em investimentos, ou seja, no que é incorporado ao patrimônio público. A Agência Brasil solicitou às consultorias de Orçamento da Câmara dos Deputados e do Senado Federal, que acompanham a execução orçamentária do governo, detalhes sobre o orçamento para o setor de janeiro a junho de 2013.

De acordo com os dados, até o dia 22 de junho, o Governo Federal liquidou R\$ 27,7 bilhões dos R\$ 89,1 bilhões autorizados para uso do MEC e financiamento estudantil, ou seja, 31% do que foi aprovado pelo Congresso Nacional no início do ano.

**33. Refletindo sobre os dois textos, marque a opção CORRETA.**

- São ambíguos, sem contextualização com a temática.
- A temática é comum, embora o Texto 2, contradiga o Texto 1.
- O Texto 2 é uma argumentação do Texto 1.
- Os dois textos diferem em argumentos.
- O Texto 1 fundamenta o Texto 2.

**34. A charge a seguir pretende, evidentemente, fazer uma crítica a um determinado comportamento da sociedade, postura essa decorrente do desenvolvimento da tecnologia.**

**Observe a charge:**



**A crítica apresentada na charge ao comportamento da sociedade equivale a(ao):**

- Consumismo exagerado das novas tecnologias.
- Registro por populares de acontecimentos inesperados.
- Insaciável corrida pelos últimos modelos de celular.

- d) Atitude uniforme pela ânsia de um “furo” de reportagem.  
e) Mudança nos relacionamentos interpessoais.

**35. Analise a charge a seguir:**



Leia-se: **VAI LAVAR AS MÃOS PARA O ABANDONO DA MATA ATLÂNTICA? APROVEITA ENQUANTO TEM ÁGUA.**

A charge sensibiliza para:

- a) O desperdício da água na região da mata atlântica.  
b) O desmatamento comprometendo os lençóis freáticos da região.  
c) A ausência de controle sobre os recursos hídricos da região.  
d) A deficiência da rede de água e esgoto na área urbana da região.  
e) Os procedimentos corretos da higiene das mãos da população na região.

Leia a notícia a seguir para responder a questão 36.

MEC – 13/09/2013

cod. 12.514

A presidenta da República, Dilma Rousseff, participou, em Uberlândia, no Triângulo Mineiro, da formatura de 2.634 alunos. Segundo a presidenta, o Brasil precisa de ensino técnico para ser competitivo e para desenvolver a economia. Daí a necessidade de a formação dos trabalhadores ser constante, é tão importante que vamos fazer com que se torne programa constante do governo” afirmou. “O Brasil precisa de ensino técnico para competir no mundo, precisamos para melhorar nós mesmos, a nossa economia.”

**36. De acordo com a notícia, a fala da Presidente refere-se a qual programa?**

- a) PROUNI.  
b) FIES.  
c) SISTEMA S de ensino.  
d) PRONATEC.  
e) PROEJA.

**37. O Jornal O POVO, de 23 de novembro de 1974 / sábado, destaca a seguinte manchete: “VEM DE ITAPAJÉ A PRIMEIRA DEPUTADA ESTADUAL DO CEARÁ”. Essa notícia refere-se a itapajeense:**

- a) Maria Luíza Gomes.  
b) Maria Lúcia Mota.  
c) Maria Zélia Mota.  
d) Maria Zélia Gomes.  
e) Maria Augusta Forte.

**38. Sobre o município de Itapajé marque (V) para as afirmativas VERDADEIRAS, e (F) para as FALSAS.**

- ( ) A BR – 022 é a principal via de acesso a cidade.  
( ) Itapajé é originário do Tupi, que significa “frade de pedra”.  
( ) O ano de criação do município foi 1847.  
( ) Os limites de Itapajé são: Apuiaries, Irauçuba e Itaipipoca.

Marque a opção que apresenta a sequência CORRETA.

- a) V – V – V – F.  
b) F – F – V – V.  
c) V – F – V – F.  
d) V – V – V – V.  
e) F – V – F – V.

**39. “Não há solução para os problemas sociológicos e ambientais dentro das lógicas de mercado global”.**

(Slavoj Zizek.)

**A economia mundial influencia outros setores da sociedade. Sobre esse tema, considere as seguintes afirmativas:**

- I. O atual modelo assumido pela economia mundial coloca países subdesenvolvidos e desenvolvidos em um mesmo patamar socioeconômico e cultural.  
II. A presença da rede McDonald’s em países como a Índia e a China mostra a eficácia dos modelos de consumo ocidentais difundidos pela ruptura de barreiras comerciais.  
III. Cuba é um dos poucos países do mundo ocidental que se mantém fora do circuito mundial do comércio, da informação e da comunicação, embora na atualidade se verifiquem algumas mudanças na participação cubana nesses setores.  
IV. A abertura econômica da China tem sido acompanhada por um acelerado processo de democratização do país.

Marque a opção que apresenta a(s) afirmativa(s) CORRETA(S).

- a) I.  
b) II – III.  
c) II – IV.  
d) I – II – III.  
e) I – III – IV.

**40. A agricultura familiar no Ceará se mostra um segmento importante, não só para a economia do agronegócio, mas também para a economia total. Sua importância social, seja pela geração de emprego e ocupação, seja pelo perfil dos produtos, é notória, especialmente, em algumas cadeias produtivas que têm características predominantemente familiares. Segundo o Instituto Agropólos do Ceará, marque a opção CORRETA que apresenta atividades agrícolas familiares.**

- a) Feijão, milho e mandioca.  
b) Algodão, milho e feijão.  
c) Feijão, mandioca e algodão.  
d) Cana-de-açúcar, feijão e milho.  
e) Soja, milho e mandioca.

**CONHECIMENTOS ESPECÍFICOS**

**41. A participação comunitária na gestão do Sistema Único de Saúde (SUS) tem como objetivo:**

- a) Incluir aspectos econômicos e financeiros nas homologações.
- b) Regulamentar as decisões sobre as coberturas dos serviços de saúde a nível complementar.
- c) Representar os poderes constituídos nas esferas secundária do governo.
- d) Incrementar a participação e controle social.
- e) Controlar, disciplinar e reprimir a população.

**42. Sobre as competências da direção municipal do Sistema Único de Saúde (SUS), nos termos da Lei Federal de 8080/1990, analise as afirmativas a seguir.**

- I. Deverá colaborar na fiscalização das agressões ao meio ambiente que tenham repercussão sobre a saúde humana.
- II. Devera coordenar em caráter complementar as ações de Vigilância Sanitária.
- III. É da competência do município formar consórcios administrativos intermunicipais.
- IV. Poderá celebrar contratos e convênios com entidades prestadoras de serviços privados de saúde, bem como controlar e avaliar sua execução.

**Marque a opção que apresenta as afirmativas CORRETAS:**

- a) I - III - IV.
- b) I - IV.
- c) I - II - III - IV.
- d) I - II.
- e) II - III.

**43. Analise as afirmativas sobre a Estratégia Saúde da Família.**

- I. A responsabilidade pelo processo saúde-doença é sempre do indivíduo doente.
- II. A Saúde da Família, estratégia priorizada pelo Ministério da Saúde para organizar a Atenção Básica, tem como principal desafio promover a reorientação das práticas e ações de saúde de forma integral e contínua, levando-as para mais perto da família e, com isso, melhorar a qualidade de vida dos brasileiros.
- III. Incorpora e reafirma os princípios básicos do SUS - universalização, descentralização, integralidade e participação da comunidade - mediante o cadastramento e a vinculação dos usuários.
- IV. O atendimento pode ser realizado na Unidade de Saúde ou nos domicílios, e é prestado pelos profissionais que compõem a equipe saúde da família.
- V. A Estratégia Saúde da Família valoriza, principalmente, o atendimento individual, atuando unicamente em procedimentos curativos.

**Marque a opção que apresenta as afirmativas CORRETAS.**

- a) I - II - IV.
- b) I - III - IV.
- c) II - III - IV.
- d) IV - V.
- e) II - III - V.

**44. De acordo com o Artigo 198 da Constituição Federal de 1988, as ações e serviços públicos de saúde são organizados de acordo com as seguintes diretrizes:**

- a) Descentralização com direção múltipla em cada esfera de governo, atendimento integral e participação da comunidade.
- b) Centralização com direção única em cada esfera de governo, atendimento integral e participação da comunidade.
- c) Descentralização com direção única em cada esfera de governo, atendimento individual e curativo e participação da comunidade.
- d) Descentralização com direção única em cada esfera de governo, atendimento integral e participação da comunidade.
- e) Centralização com direção múltipla em cada esfera de governo, atendimento individual e curativo e participação do governo.

**45. Sobre a cárie, marque a opção CORRETA.**

- a) Tecido dentinário duro, é uma característica clínica da lesão de cárie ativa.
- b) Tecido dentinário amolecido, porém de cor marrom-clara, é uma característica da lesão inativa.
- c) Manchas brancas, rugosas e opacas no esmalte são características clínicas da lesão de cárie ativa.
- d) Manchas brancas lisas e brilhantes no esmalte são características da lesão de cárie ativa.
- e) Tecido dentinário duro e escurecido é uma característica da lesão de cárie severa.

**46. A placa bacteriana ou biofilme e o acúmulo de bactérias da flora sobre a superfície dos dentes é o fator determinante para que ocorra a cárie e a doença periodontal. O processo de formação da placa pode ser dividido em 3 fases principais que são:**

- a) Formação de glicoproteínas, organização celular e concorrência de sítios receptores, transposição e maturação da placa.
- b) Formação da película adquirida, aderência inicial e fixação bacteriana, colonização e maturação da placa.
- c) Formação da película adquirida, fixação bacteriana inicial e receptores específicos, maturação da placa.
- d) Aderência inicial e colonização, fixação bacteriana e maturação, formação da película adquirida.
- e) Formação de glicoproteínas, aderência inicial e maturação, fixação e colonização.

**47. O selante de fossulas e fissuras devem ser indicados:**

- a) Sempre, independente do risco de cárie.
- b) Analisando-se fatores ligados ao dente e ao paciente como um todo.
- c) Analisando-se somente a dieta e a eficácia da higiene do paciente.
- d) Em todos os dentes em erupção.
- e) Em todos os pacientes que apresentem dentes com fissuras profundas.



**48. Em atendimentos odontológicos, uma série de doenças infecciosas podem ser transmitidas para pacientes e profissionais. Para que haja transmissão de microorganismos, os aspectos de vital importância são:**

- Estado imunológico do hospedeiro, susceptibilidade do local e sobrevivência extracorpórea do microorganismo.
- Quantidade do agente, susceptibilidade do local e sobrevivência extracorpórea do microorganismo.
- Virulência e quantidade do agente, susceptibilidade do local e temperatura do ambiente.
- Virulência e quantidade do agente, estado imunológico do hospedeiro e a susceptibilidade do local.
- Virulência e quantidade do agente e temperatura do ambiente.

**49. Após a aplicação tópica de flúor, forma-se sobre a superfície do esmalte:**

- Hidroxiapatita.
- Fluorapatita.
- Fluoreto de sódio.
- Fluoreto de zinco.
- Fluoreto de cálcio.

**50. Em pacientes imunodeprimidos pelo vírus HIV, a infecção mais frequente na cavidade oral é:**

- Carcinoma.
- Candidíase.
- Herpes simples.
- Herpes zoster.
- Leucoplasia.

**51. A autoclave é o meio mais confiável e deve ser o método de primeira escolha em consultórios, clínicas e hospitais para se esterilizar materiais que suportam altas temperaturas. A esterilização na autoclave age:**

- Através da passagem da água quente a 85 graus Celsius pela superfície dos materiais.
- Através de calor seco que atua nos microorganismos por meio da oxidação.
- Através de termodinâmica onde ocorre a ação de calor latente seco, liberado pela condensação da água.
- Através da termocoagulação por meio da ação de calor latente úmido, liberado pela condensação do vapor e pressão.
- Através de calor úmido sob baixa pressão que atua nos microorganismos através de desnaturação.

**52. Em odontologia, a correta identificação das estruturas anatômicas dentária e maxilo-mandibulares é fundamental no diagnóstico. Marque a opção em que apenas estruturas anatômicas radiolúcidas são descritas quando observadas nos exames radiográficos intrabucais.**

- Lâmina dura, forame incisivo, tubérculo Geni.
- Espinha nasal anterior, forame incisivo, canais nutricios.
- Esmalte, lâmina dura, fibras periodontais.
- Canal mandibular, sutura palatina mediana, fóvea mental.
- Seios maxilares, fosseta mirtiforme, fóvea submandibular.

**53. A técnica anestésica preconizada para a realização de bloqueio do nervo palatino maior consiste em injetar a solução anestésica nas proximidades do forame palatino maior. A localização mais provável desse forame é na metade:**

- Anterior do segundo molar.
- Anterior do terceiro molar.
- Posterior do terceiro molar.
- Posterior do segundo molar.
- Posterior do primeiro molar.

**54. O trauma dentário em crianças é muito frequente. Sobre esse assunto, assinale (V) para as afirmativas VERDADEIRAS e (F) para as FALSAS.**

- ( ) A contenção deve ser a mais rígida possível, para evitar a reabsorção radicular.
- ( ) A avulsão de dentes com ápice aberto deve ser tratada com imobilização por um período de 3 a 4 semanas.
- ( ) O tratamento endodôntico em dentes avulsionados deve ser sempre realizado imediatamente antes do seu reposicionamento e contenção.
- ( ) Dentes decíduos avulsionados devem ser reposicionados a fim de evitar a presença futura de escurecimento dental.
- ( ) Os dentes decíduos que sofreram intrusão traumática devem ser removidos cirurgicamente sempre que houver evidência de contato com o germe do dente permanente.

**Marque a opção que apresenta a sequência CORRETA.**

- F - F - V - F - V.
- V - F - F - F - V.
- F - V - F - V - V.
- F - V - F - F - V.
- F - V - V - V - F.

**55. Sobre tumores benignos, marque a opção CORRETA.**

- O papiloma apresenta-se clinicamente como uma massa plana, preta, semelhante a couve-flor, com uma base que não penetra na mucosa.
- O fibroma apresenta-se clinicamente como uma lesão ovóide, branco-rosada, firme, elevada, sendo mais comum em pessoas na terceira ou quarta décadas de vida.
- Histologicamente, o tumor gravídico é totalmente diferente do granuloma piogênico.
- O granuloma piogênico apresenta-se plano, amarronzado, geralmente presente em recém-nascidos.
- O fibroma apresenta-se clinicamente como uma massa exofítica, vermelha e mole a palpação.

**56. Uma das formas clínicas da candidose oral que acomete frequentemente a mucosa jugal, língua e palato, com manchas brancas, cremosas, descartáveis que dão a sensação de queimação é a sua forma:**

- Pseudomembranosa.
- Queilite angular.
- Eritematosa.
- Multifocal crônica.
- Glossite romboidal mediana.

**57. O cisto odontogênico que afeta com mais frequência os ossos maxilares, denomina-se:**

- a) Ceratocisto.
- b) Periodontal lateral.
- c) Radicular.
- d) Glóbulo-maxilar.
- e) Ameloblastoma.

**58. O comprimento ideal de um pino intraradicular em relação ao remanescente dental é de:**

- a) 2/3
- b) 1/3
- c) 1/2
- d) 1/1
- e) 2/2

**59. Em relação à documentação odontológica e a responsabilidade civil profissional, analise as afirmativas a seguir.**

- I. Os elementos constitutivos da responsabilidade profissional para que se caracterize o “nexo causal” são: o agente, o ato, a culpa e o dano.
- II. Cópias de atestados e receitas aviadas durante o tratamento fazem parte do prontuário odontológico.
- III. A responsabilidade profissional inerente ao Cirurgião-Dentista está relacionada às quatro instâncias: civil, penal, ética e administrativa.
- IV. Perante a legislação civil, a documentação do paciente, que é produzida pelo profissional durante o tratamento, não tem o mesmo valor de um contrato de prestação de serviço.

**Marque a opção que apresenta as afirmativas CORRETAS.**

- a) I - II - III.
- b) I - III - IV.
- c) II - III - IV.
- d) I - IV.
- e) I - II - IV.

**60. De acordo com o Código de Ética Odontológico, constitui-se infração ética:**

- a) Executar e propor tratamentos necessários ao paciente.
- b) Esclarecer adequadamente os propósitos, riscos, custos e alternativas do tratamento.
- c) Abandonar o paciente, salvo por motivo justificável.
- d) Adotar novas técnicas ou materiais que não tenham efetiva comprovação científica.
- e) Atender pacientes que procure cuidados profissionais em caso de urgência.