

# Município de Cantagalo

ESTADO DO RIO DE JANEIRO

## CONCURSO PÚBLICO

### Nº 001/2013



## Engenheiro Civil

### MANHÃ

Organizadora:



**CARGO: ENGENHEIRO CIVIL**

**Texto**

**Envelhecer com mel ou fel?**

Conheço muitas pessoas que estão envelhecendo mal. Desconfortavelmente. Com uma infelicidade crua na alma. Estão ficando velhas, mas não estão ficando sábias. Um rancor cobre-lhes a pele, a escrita e o gesto. São críticos azedos, aliás estão ficando cítricos sem nenhuma doçura nas palavras. Estão amargos. Com fel nos olhos.

[...]

Envelhecer deveria ser como planar. Como quem não sofre mais (tanto) com os inevitáveis atritos. Assim como a nave que sai do desgaste da atmosfera e vai entrando noutro astral, e vai silente, e vai gastando nenhum-quase combustível, flutuando como uma caravela no mar ou uma cápsula no cosmos.

Os elefantes, por exemplo, envelhecem bem. E olha que é uma tarefa enorme. Não se queixam do peso dos anos, e nem da ruga do tempo, e, quando percebem a hora da morte, caminham pausadamente para um certo lugar – o cemitério dos elefantes, e aí morrem, completamente, com a grandeza existencial só aos sábios permitida.

Os vinhos envelhecem melhor ainda. Ficam ali nos limites de sua garrafa, na espessura de seu sabor, na adega do prazer. E vão envelhecendo e ganhando vida, envelhecendo e sendo amados, e, porque velhos, desejados. Os vinhos envelhecem densamente. E dão prazer.

O problema da velhice também se dá com certos instrumentos. Não me refiro aos que enferrujam pelos cantos, mas a um envelhecimento atuante como o da faca. Nela o corte diário dos dias a vai consumindo. E no entanto, ela continua afiadíssima, encaixando-se nas mãos da cozinheira como nenhuma outra faca nova.

Vai ver, a natureza deveria ter feito os homens envelhecerem diferente. Como as facas, digamos, por desgaste, sim, mas nunca desgastante. Seria uma suave solução: a gente devia ir se gastando, se gastando, se gastando até se evaporar. E aí iam perguntar: cadê fulano? E alguém diria: gastou-se, foi vivendo, vivendo e acabou. Acabou, é claro, sem nenhum gemido ou resmungo.

[...]

Especialistas vão dizer que envelhece mal o indivíduo que não realizou suas pulsões eróticas essenciais; que deixou coagulada ou oculta uma grande parte de seus desejos. Isto é verdade. Parcial porém. Pois não se sabe por que estranhos caminhos de sublimação, há pessoas que, embora roxas de levar tanta pancada da vida, têm, contudo, um arco-íris na alma.

Bilac dizia que a gente deveria aprender a envelhecer com as velhas árvores. *Walt Whitman* tem um poema onde vai dizendo: “Penso que podia viver com os animais que são plácidos e bastam-se a si mesmos”.

Ainda agora tirei os olhos do papel e olhei a natureza em torno. Nunca vi o sol se queixar no entardecer. Nem a lua chorar quando amanhece.

(*Afonso Romano de Sant'anna. Fizemos bem em resistir. Rio de Janeiro: Ed. Rocco, 1984.*)

**01**

**Assinale a alternativa em que o sinônimo ou termo equivalente da palavra sublinhada encontra-se INCORRETO.**

- A) “Estão amargos.” (1º§) – ressentidos
- B) “... animais que são plácidos...” (8º§) – mansos
- C) “... com os inevitáveis atritos.” (2º§) – prescindíveis
- D) “... estranhos caminhos de sublimação...” (7º§) – exaltação
- E) “Os vinhos envelhecem densamente.” (4º§) – espessamente

**02**

**O título do texto possui um sentido que se define como**

- A) enfático.
- B) antitético.
- C) metafórico.
- D) metonímico.
- E) onomatopaico.

**03**

**“Nunca vi o sol se queixar no entardecer. Nem a lua chorar quando amanhece.” (9º§). Numa construção conotativa, a partir do excerto anterior, o autor revela que a natureza**

- A) não é como o ser humano que morre e renasce a cada dia com um brilho peculiar.
- B) não reclama do seu ciclo, cumprindo de forma silente e com elegância seu destino.
- C) não reclama, cumpre seu ciclo em silêncio e envelhece com parcimônia e aspereza.
- D) se renova a cada dia, cumprindo seu ciclo e sempre agradecendo o que de rude existe.
- E) é sábia e possui a capacidade de ver tudo ao seu redor como algo natural e conflitante.

04

Segundo o texto, o passar do tempo deveria trazer às pessoas

- A) sapiência. B) insolência. C) eminência. D) eloquência. E) insipiência.

05

Assinale a alternativa que é frase, mas não é oração.

- A) “Estão amargos.” (1º§)  
B) “Seria uma suave solução:...” (6º§)  
C) “Com uma infelicidade crua na alma.” (1º§)  
D) “Os vinhos envelhecem melhor ainda.” (4º§)  
E) “O problema da velhice também se dá com certos instrumentos.” (5º§)

06

Na frase “E no entanto, ela continua afiadíssima, encaixando-se nas mãos da cozinheira...” (5º§), há um adjetivo no grau

- A) comparativo de igualdade. D) comparativo de superioridade.  
B) superlativo absoluto analítico. E) superlativo relativo de superioridade.  
C) superlativo absoluto sintético.

07

A oração sublinhada em “Estão ficando velhas, mas não estão ficando sábias.” (1º§) estabelece, com o período anterior, uma relação de

- A) causa. B) adição. C) oposição. D) conclusão. E) explicação.

08

Analise as frases.

- I. “Conheço muitas pessoas que estão envelhecendo mal.” (1º§)  
II. “Acabou, é claro, sem nenhum gemido ou resmungo.” (6º§)  
III. “Nela o corte diário dos dias a vai consumindo.” (5º§)  
IV. “Vai ver, a natureza deveria ter feito os homens envelhecerem diferente.” (6º§)

Os termos grifados são, respectivamente,

- A) conjunção, pronome, artigo e artigo. D) adjetivo, preposição, artigo e preposição.  
B) adjetivo, advérbio, preposição e artigo. E) advérbio, numeral, pronome e preposição.  
C) advérbio, preposição, pronome e artigo.

09

Na frase “Os vinhos envelhecem melhor ainda.” (4º§), há um exemplo de figura de linguagem denominada

- A) antítese. B) hipérbole. C) catacrese. D) pleonismo. E) prosopopeia.

10

Em “São críticos azedos, aliás estão ficando cítricos...” (1º§), a palavra “aliás” pode ser substituída, sem prejuízo semântico, por

- A) contudo. B) portanto. C) além disso. D) no entanto. E) de outro modo.

### RACIOCÍNIO LÓGICO


11

Marcelo fez um curso de informática com duração de 10 aulas, sendo que cada aula ocorreu uma vez por semana sempre no mesmo dia da semana e todas em um mesmo ano. Se as aulas começaram num dia 5 e terminaram num dia 6, então o início e o término desse curso ocorreram nos meses de

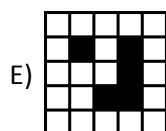
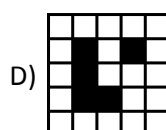
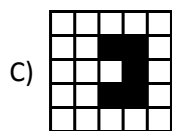
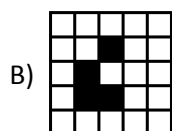
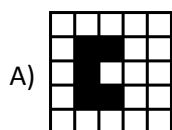
- A) março e maio. D) outubro e dezembro.  
B) janeiro e março. E) setembro e novembro.  
C) julho e setembro.

12

Observe as linhas formadas pelas figuras.



A figura que substitui o quadrado com (?) é



13

Para digitar uma palavra em um computador uma pessoa deverá escolher dentre uma das seguintes fontes: Calibri, Arial ou Times New Roman. Considerando que o tamanho da fonte deve ser 10, 12 ou 14 e a cor escolhida vermelha ou azul, então o número de maneiras que essa pessoa pode escolher a formatação da palavra a ser digitada é igual a

- A) 18. B) 20. C) 24. D) 30. E) 36.

14

A sequência a seguir é formada por 10 números:

5, 10, 2, 8, 9, 4, 6, \_\_\_\_, \_\_\_\_, \_\_\_\_.

Os 3 últimos números dessa sequência são, respectivamente,

- A) 1, 3 e 7. B) 1, 7 e 3. C) 3, 1 e 7. D) 7, 1 e 3. E) 7, 3 e 1.

15

André, Bruno, Carlos e Diego são irmãos e suas idades formam, na ordem apresentada, uma proporção. Considere que André tem 3 anos, Diego tem 18 anos e Bruno é 3 anos mais novo que Carlos. Assim, a soma das idades destes quatro irmãos é igual a

- A) 30. B) 32. C) 34. D) 36. E) 38.

16

Dentre os ingredientes utilizados para a fabricação dos pães em uma padaria encontram-se o ovo e o leite. Considerando que 45% dos pães produzidos levam leite, 60% levam ovo e 23% não levam nem leite nem ovo, então a porcentagem de pães que levam leite e ovo é de

- A) 26%. B) 27%. C) 28%. D) 29%. E) 30%.

17

O terceiro e o trigésimo termos de uma progressão aritmética são, respectivamente, iguais a 13 e 121. O menor termo de 3 algarismos dessa sequência é

- A) 100. B) 101. C) 102. D) 103. E) 104.

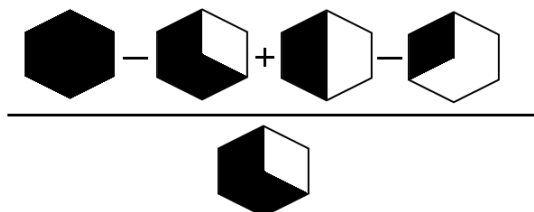
18

Uma TV por assinatura oferece 80 canais em um de seus pacotes cuja numeração vai de 6 a 85. Considerando que a primeira metade dos canais são nacionais e a segunda metade são de canais estrangeiros, então o canal estrangeiro de menor numeração ímpar é o canal

- A) 41. B) 43. C) 45. D) 47. E) 49.

19

Determine o valor numérico que representa o resultado da expressão.



- A) 1/2 B) 1/3 C) 3/4 D) 3/5 E) 5/6

20

Cinco amigos foram a uma lanchonete e cada um deles pediu dois itens, sendo um de cada coluna do cardápio abaixo.

Cachorro quente: R\$ 5,00	Guaraná: R\$ 2,00
Sanduíche natural de frango: R\$ 6,00	Suco de fruta: R\$ 4,00
Hambúrguer: R\$ 5,00	Chá gelado: R\$ 3,00
Misto quente: R\$ 4,00	Caldo de cana: R\$ 2,00
Sanduíche vegetariano: R\$ 6,00	Água de coco: R\$ 3,00

Considere que:

- Diego pediu um misto quente e Augusto não tomou água de coco;
- Eduardo é vegetariano e Carlos pediu cachorro quente ou chá gelado;
- Bruno não pediu caldo de cana nem água de coco;
- o sanduíche natural de frango e o sanduíche vegetariano foram as opções de Augusto e Eduardo, não necessariamente nessa ordem;
- o cachorro quente foi servido junto com o guaraná e o misto quente com o caldo de cana;
- quem pediu caldo de cana não comeu sanduíche natural e nem foi o Eduardo;
- Carlos não comeu cachorro quente nem tomou suco de fruta.

A conta mais cara e a mais barata foram pagas, respectivamente, por

- A) Diego e Bruno. D) Bruno e Eduardo.  
B) Augusto e Diego. E) Eduardo e Carlos.  
C) Carlos e Augusto.

### CONHECIMENTOS ESPECÍFICOS

21

Sapatas isoladas são elementos estruturais que exigem esforços os quais não podem ser absorvidos somente pelo concreto e, para tanto, faz-se o uso de armaduras para suporte dos esforços de tração. Acerca da execução de sapatas isoladas, assinale a afirmativa INCORRETA.

- A) Deixar o mais seco possível o solo antes da concretagem.  
B) As escavações devem seguir as recomendações pertinentes ao serviço.  
C) Recomenda-se apiloar o fundo da escavação (base de apoio da fundação).  
D) Em situações especiais, prever poços de captação de água e colocação de bombas.  
E) As escavações devem ter largura compatível com as atividades de execução das formas.

22

As estacas de madeira são de pouco uso, porém utilizadas em regiões onde há abundância de madeira de lei extraída conforme legislação ambiental e devem ser consideradas para obras de “pouca” solicitação. Para essa execução, deve-se considerar os seguintes aspectos, EXCETO:

- A) O comprimento da estaca pode atingir 8,0 metros.
- B) Para solos resistentes a ponta da estaca deve receber ponteira de aço.
- C) O topo da estaca deve estar devidamente protegido durante a escavação.
- D) O eixo da estaca deve estar totalmente inserido em todas as seções da estaca.
- E) A estaca de madeira deve ser arrasada sempre acima do nível da água permanente.

23

Em relação à rede de esgotos domésticos, há vários conceitos utilizados na confecção dos projetos e execução das obras. Sobre esses conceitos, marque **V** para as afirmativas verdadeiras e **F** para as falsas.

- ( ) Coletor de esgoto: canalização que, funcionando como conduto livre, recebe contribuição de esgoto em qualquer ponto ao longo do seu comprimento.
- ( ) Coletor-tronco: coletor de esgotos que recebe, além dos esgotos provenientes dos coletores prediais, a contribuição de vários coletores de esgotos.
- ( ) Fecho hidráulico: camada líquida, de nível constante, que, em um desconector, veda a passagem dos gases.
- ( ) Instalação secundária de esgoto: conjunto de tubulações e dispositivos que tem acesso aos gases provenientes do coletor público ou dos dispositivos de tratamento.

A sequência está correta em

- A) V, V, V, F                      B) V, V, F, V                      C) V, F, V, V                      D) F, V, V, V                      E) F, V, V, F

24

“Uma das fases iniciais do tratamento de esgotos é o gradeamento, que tem papel fundamental no processo. O gradeamento destina-se à \_\_\_\_\_ de matéria em suspensão ou em flutuação no esgoto que, pela sua dimensão, pode ser retida \_\_\_\_\_ de uma grade. A depuração obtida com este processo limita-se à remoção de \_\_\_\_\_.” Assinale a alternativa que completa correta e sequencialmente a afirmativa anterior.

- A) remoção da parcela / mecanicamente entre as barras / vegetais grosseiros, apenas
- B) remoção total / mecanicamente após a passagem das barras / vegetais grosseiros, apenas
- C) remoção total / eletricamente entre as barras / trapos, estopas, detritos vegetais, pedaços de madeira, animais mortos, dentre outros
- D) compactação total / sob pressão hidráulica entre as barras / trapos, estopas, detritos vegetais, pedaços de madeira, animais mortos, dentre outros
- E) remoção da parcela / mecanicamente entre as barras / trapos, estopas, detritos vegetais, pedaços de madeira, animais mortos, dentre outros

25

A respeito das alvenarias, marque **V** para as afirmativas verdadeiras e **F** para as falsas.

- ( ) Alvenaria ciclópica: alvenaria em que os blocos ou unidades não têm padronização de dimensões. Normalmente, executada com pedras de grandes diâmetros assentadas com argamassa de cimento, cal e areia, ou, ainda, com a utilização de barro.
- ( ) Alvenaria de vedação: utilizada para fechamento de vãos ou delimitação de áreas. Nas estruturas em concreto armado ou aço, os espaços são preenchidos com elementos sem a função estrutural de sustentação, apenas suportando o seu peso próprio.
- ( ) Alvenaria estrutural: sistema construtivo em que a alvenaria tem a função de suportar os esforços estruturais da edificação. Nesse sistema, a padronização das unidades ou blocos é a condição principal para a eficácia e segurança do sistema construtivo, já que a modulação do projeto, no sentido vertical e horizontal, é condição primeira.
- ( ) Ergonomia: executada assentando-se peça por peça, proporcionando um desgaste físico considerável aos trabalhadores. O tamanho, a textura e o peso podem influenciar diretamente na produtividade. Nem sempre um bloco maior é mais produtivo que um bloco pequeno.

A sequência está correta em

- A) V, V, V, F                      B) V, V, V, V                      C) V, V, F, V                      D) V, F, V, F                      E) F, V, F, F

26

**Analise as considerações acerca dos reservatórios, elementos constituintes do sistema de abastecimento de água potável, e assinale a INCORRETA.**

- A) Nenhum depósito de lixo domiciliar pode ficar sobre qualquer reservatório de água.
- B) Nenhuma canalização de esgoto sanitário pode passar pelo seu interior, apenas sobre a laje de cobertura dos mesmos.
- C) Devem possuir, obrigatoriamente, válvulas de flutuador (torneiras de boia) na canalização de entrada de água quando alimentados por gravidade.
- D) Devem ser instalados em local de fácil acesso à inspeção, não podendo ser colocados no interior de cozinhas ou compartimentos destinados às instalações de esgotos.
- E) Os reservatórios superiores devem ficar com o fundo mínimo a 0,80 m acima do piso do compartimento sobre o qual estejam situados para facilidade de acesso aos barriletes e encanamentos de limpeza.

27

**As características físicas da madeira definem o comportamento do material e as alterações que sofre seu estado físico quando ocorrem variações de umidade, temperatura ou outras em seu ambiente de emprego. Assinale a alternativa que NÃO é uma característica física da madeira.**

- A) Densidade.
- B) Retrabilidade.
- C) Amolgamento.
- D) Resistência ao fogo.
- E) Condutibilidade térmica.

28

**Relacione os seguintes termos às respectivas definições.**

- 1. Empreitada por preço global.     (    ) A contratada assume a responsabilidade de execução de uma determinada obra em troca de uma remuneração previamente acertada, assumindo os riscos financeiros e econômicos que ela representa. O pagamento pode ser ajustado parceladamente em datas ou etapas estabelecidas no contrato.
- 2. Empreitada integral.             (    ) Serviços de pequena monta, sem as formalidades exigidas para a sua contratação, não ultrapassando o limite de dispensa de licitação previsto na lei.  
    (    ) Modalidade muito utilizada quando não existe um projeto final definido ou que a definição só será possível durante o desenvolvimento da própria obra. A remuneração é definida pela quantidade executada em cada item de serviço ou etapa de trabalho. As unidades mais utilizadas são: m, m<sup>2</sup>, kg, mês, unidade e verba, quando o preço é representado por um determinado valor global para a execução de uma atividade específica. O pagamento é feito com base em medição de serviços efetivamente executados, em geral com periodicidade mensal.
- 3. Empreitada por preço unitário.
- 4. Tarefa.                                (    ) Trata-se de uma forma mais ampla do que uma outra empreitada, pois a contratada assume, também, todas as obrigações que normalmente são da contratante, deixando-a pronta para o uso.

**A sequência está correta em**

- A) 1, 2, 3, 4                             B) 1, 4, 3, 2                             C) 2, 1, 3, 4                             D) 2, 3, 1, 4                             E) 2, 4, 3, 1

29

**Sobre as formas de provimento descritas no Estatuto dos Servidores Municipais de Cantagalo (Lei Municipal nº 10/90), assinale a alternativa correta.**

- A) Readaptação: retorno à atividade de funcionário posto em disponibilidade, em cargo de atribuições e vencimentos compatíveis com o anteriormente ocupado.
- B) Reversão: aceitação expressa das atribuições, deveres e responsabilidades inerentes ao cargo imediatamente superior, galgado segundo critérios de merecimento e antiguidade.
- C) Recondução: retorno à atividade de funcionário aposentado por invalidez quando, por junta médica oficial, forem declarados insubsistentes os motivos determinantes da aposentadoria.
- D) Reintegração: reinvestidura do funcionário ao cargo anteriormente ocupado ou cargo resultante da sua transformação, quando invalidada a sua demissão por decisão administrativa ou judicial.
- E) Aproveitamento: investidura do funcionário em cargo de atribuições e responsabilidades compatíveis com a limitação que tenha sofrido em sua capacidade física ou mental, verificada em inspeção médica.

30

**Acerca dos direitos e vantagens regulamentados pelo Estatuto dos Servidores Municipais de Cantagalo (Lei Municipal nº 10/90), assinale a afirmativa INCORRETA.**

- A) O servidor público será aposentado compulsoriamente, aos sessenta e cinco anos de idade, com proventos integrais.
- B) Além do vencimento e da remuneração poderão ser pagas ao funcionário as seguintes vantagens: ajuda de custo, diárias, gratificações, dentre outras.
- C) Ao funcionário investido em função de chefia e cargo em comissão é devida uma gratificação ou comissão pelo seu exercício, não fazendo jus, entretanto, ao recebimento da gratificação por serviço extraordinário.
- D) Será concedido abono familiar ao funcionário ativo ou inativo pelo cônjuge ou companheira do funcionário que viva comprovadamente em sua companhia e que não exerça atividade remunerada e nem tenha renda própria.
- E) Nenhum funcionário poderá perceber, mensalmente, a título de remuneração, importância superior à soma dos valores percebidos como remuneração, em espécie, a qualquer título, no âmbito dos respectivos Poderes, pelo Prefeito e Presidente da Câmara Municipal.

### **CONHECIMENTOS GERAIS**

31

**“Um dos mais antigos conflitos atuais opõe a Índia e o Paquistão na disputa pelo(a) \_\_\_\_\_, situado(a) na Cordilheira do Himalaia e habitada por uma população de maioria \_\_\_\_\_.” Assinale a alternativa que completa correta e sequencialmente a afirmativa anterior.**

- A) Tibete / budista
- B) Chechênia / laica
- C) Kosovo / hinduísta
- D) Afeganistão / islâmica
- E) Caxemira / muçulmana

32

**“A questão da liberdade de publicação de biografias tem gerado grande polêmica no Brasil nos últimos meses. Vários autores e biógrafos criticam o posicionamento do grupo ‘Procure Saber’, formado por músicos e compositores que defendem direitos autorais. O grupo defendeu inicialmente a proibição de biografias não autorizadas pelos biografados ou por suas famílias, em caso de morte.” Sobre a questão do trecho anterior, analise.**

- I. O grupo “Procure Saber” surgiu após a Associação Nacional dos Editores de Livros (Anel) entrar com uma ação de inconstitucionalidade por considerar censura prévia depender, hoje, no Brasil, da autorização de uma pessoa pública para a publicação de biografias.
- II. O grupo “Procure Saber” teve início com a coordenação da empresária Paula Lavigne, ex-mulher de Caetano Veloso, e é integrado por vários artistas, como o próprio Caetano, Roberto Carlos, Djavan, Gilberto Gil, Chico Buarque, dentre outros.
- III. A polêmica gira em torno dos artigos 20 e 21 do Código Civil, os quais determinam, respectivamente, que o uso da imagem de uma pessoa pode ser proibida ou gerar a “indenização que couber, se lhe atingirem a honra, a boa fama ou a respeitabilidade, ou se destinarem a fins comerciais” e que “a vida privada da pessoa natural é inviolável”.

**Está(ão) correta(s) a(s) afirmativa(s)**

- A) I, II e III.
- B) I, apenas.
- C) II, apenas.
- D) III, apenas.
- E) II e III, apenas.

**Texto para responder às questões de 33 a 35.**

Na quarta-feira, 18 (setembro de 2013), quando o ministro Celso de Mello anunciou o voto de desempate no debate sobre embargos infringentes para 12 réus da ação penal 470, consumou-se uma mudança profunda no universo do Supremo Tribunal Federal.

*(Revista IstoÉ. Edição 2288 – 25/09/2013. p. 39.)*

33

**O texto trata, especificamente, do caso conhecido nacionalmente como**

- A) Mensalão.
- B) Propinoduto.
- C) Sanguessugas.
- D) Privataria Tucana.
- E) Anões do Orçamento.



34

O ministro do STF que foi relator dessa ação e se transformou num símbolo da luta contra a corrupção no Brasil, ocupando, hoje, a presidência do órgão em questão é

- A) Luiz Fux.
- B) Gilmar Mendes.
- C) Joaquim Barbosa.
- D) Marco Aurélio Mello.
- E) Luís Roberto Barroso.

35

Os embargos infringentes tratados no texto podem ser definidos como

- A) anulação do julgamento anterior, que condenavam os réus do Propinoduto devido às irregularidades apontadas pelo Ministério Público Federal na apuração do caso.
- B) cancelamento das sentenças que condenavam os envolvidos no caso Mensalão com base na Declaração Universal dos Direitos Humanos, que prevê direito de defesa irrestrita.
- C) pareceres contrários à Constituição Federal, portanto, em desacordo com as normas legais máximas vigentes no Brasil desde 1988, quando a atual Carta Magna entrou em vigor no país.
- D) recursos que permitiram um novo julgamento aos condenados do Mensalão, que tiveram mais de quatro votos pela absolvição nos crimes de formação de quadrilha e lavagem de dinheiro.
- E) revisão das penas impostas aos envolvidos no caso, popularmente conhecido como Privataria Tucana, por não ter sido considerado no julgamento, o fato de possuírem imunidade parlamentar.

36

A 180 quilômetros da costa do Rio de Janeiro, no pré-sal da bacia de Santos, Libra é o maior campo de petróleo já descoberto no Brasil e um dos maiores encontrados no mundo nos últimos anos. Segundo estimativas da Agência Nacional de Petróleo, o local pode produzir 12 bilhões de barris recuperáveis de óleo e será explorado por um consórcio vencedor de um leilão realizado em 2013, que é formado pela Petrobras, duas empresas chinesas (CNPC e CNOOC) e duas multinacionais gigantes do setor petrolífero – uma holandesa e outra francesa – que são

- A) Shell e Total.
- B) Gazprom e Statoil.
- C) Chevron e Rosneft.
- D) BP e ConocoPhillips.
- E) ExxonMobil e Lukoil.

37

Em 1990, as Organizações das Nações Unidas (ONU) criaram o Índice de Desenvolvimento Humano (IDH) para medir a qualidade de vida nos países com base em três dimensões: vida longa e saudável (expectativa de vida); acesso ao conhecimento (média de anos de estudo); e, padrão de vida digno (calculado pela renda nacional bruta *per capita*). Cada país recebe uma pontuação que varia de 0 a 1 ranqueando os países em quatro faixas: muito alto, alto, médio e baixo. Sobre a situação do Brasil no que tange a essa medida da ONU, é INCORRETO afirmar que

- A) a longevidade foi o índice que mais puxou o IDHM nacional para cima.
- B) a renda *per capita* dos brasileiros teve um ganho, mas ainda há grande desigualdade.
- C) houve avanços nos últimos anos, mas a educação freou o desenvolvimento do país no período.
- D) municípios das regiões Nordeste e Norte tiveram a maior evolução no quesito “renda” no último ano.
- E) possui o maior IDH dentre os países da América do Sul e os demais países emergentes que compõem o Brics.

Texto para responder às questões de 38 a 40.

A contribuição do Bolsa Família para a segurança e a qualidade de vida das populações mais pobres foi o tema da segunda rodada de debates realizada nesta quarta-feira (30), no Museu da República, em Brasília, durante as comemorações dos 10 anos do maior programa de transferência de renda do mundo. O encontro discutiu o impacto causado pelos programas sociais do governo federal na última década – como a mudança nas expectativas dos brasileiros, que já vislumbram um futuro melhor para si e suas famílias – e a inclusão social inédita de uma parcela da população colocada historicamente à margem das decisões do Poder Público.

(Especial Bolsa Família do site do Ministério de Desenvolvimento Social. Disponível em: <http://bolsafamilia10anos.mds.gov.br/>. Acesso em: 31/10/2013.)

38

O Programa Bolsa Família foi criado no governo de

- A) Itamar Franco.
- B) Dilma Rousseff.
- C) Luiz Inácio Lula da Silva.
- D) Fernando Collor de Mello.
- E) Fernando Henrique Cardoso.

39

Sobre o Programa Bolsa Família, é INCORRETO afirmar que

- A) uma das exigências para manutenção do benefício consiste na matrícula e acompanhamento da frequência na escola das crianças e adolescentes entre 6 e 17 anos.
- B) o Programa Bolsa Família faz parte do Fome Zero e resultou da junção dos antigos programas do Governo – Bolsa Escola, Bolsa Alimentação, Cartão Alimentação e Auxílio Gás – em um só Programa.
- C) o pagamento do benefício ocorre nos executivos de cada município que recebem os recursos do Governo e repassam para a instituição financeira escolhida para promover o pagamento dos beneficiados.
- D) as famílias com renda mensal por pessoa de até R\$ 70,00, com ou sem crianças, e aquelas com renda mensal por pessoa entre R\$ 70,01 e R\$ 140,00 com crianças e adolescentes na sua composição, podem receber o BF.
- E) a família beneficiada deverá realizar os cuidados básicos em relação à saúde, ou seja, cumprir o calendário de vacinação, para as crianças entre 0 e 6 anos, e a agenda pré e pós-natal, para as gestantes e mães em amamentação.

40

No mesmo ano da implantação do Programa Bolsa Família, o governo federal colocou em prática o Programa Brasil Alfabetizado. Sobre o Brasil Alfabetizado, analise.

- I. É desenvolvido em todo o território nacional, com o atendimento prioritário a municípios que apresentam alta taxa de analfabetismo, sendo que 90% destes localizam-se na região Nordeste.
- II. Ocorre por meio de ações desenvolvidas pelo Ministério da Educação apenas em escolas técnicas federais, onde os cursos são ministrados a jovens e adultos que não se alfabetizaram.
- III. Tem por objetivo promover a superação do analfabetismo entre jovens com 15 anos ou mais, adultos e idosos, além de contribuir para a universalização do ensino fundamental no Brasil.

Está(ão) correta(s) a(s) afirmativa(s)

- A) I, II e III.
- B) I, apenas.
- C) II, apenas.
- D) III, apenas.
- E) I e III, apenas.



## INSTRUÇÕES

1. Material a ser utilizado: caneta esferográfica de tinta azul ou preta. Os objetos restantes devem ser colocados em local indicado pelo fiscal da sala, inclusive aparelho celular desligado e devidamente identificado.
2. Não é permitida, durante a realização das provas, a utilização de máquinas calculadoras e/ou similares, livros, anotações, impressos ou qualquer outro material de consulta, protetor auricular, lápis, borracha, corretivo. Especificamente, não é permitido que o candidato ingresse na sala de provas sem o devido recolhimento, com respectiva identificação, dos seguintes equipamentos: *bip*, telefone celular, *walkman*, agenda eletrônica, *notebook*, *palmtop*, *ipad*, *ipod*, *tablet*, *smartphone*, mp3, mp4, receptor, gravador, calculadora, câmera fotográfica, controle de alarme de carro, relógio de qualquer modelo etc.
3. Durante a prova, o candidato não deve levantar-se, comunicar-se com outros candidatos e nem fumar.
4. A duração da prova é de 04 (quatro) horas, já incluindo o tempo destinado à entrega do Caderno de Provas e à identificação – que será feita no decorrer da prova – e ao preenchimento do Cartão de Respostas (Gabarito).
5. Somente em caso de urgência pedir ao fiscal para ir ao sanitário, devendo no percurso permanecer absolutamente calado, podendo antes e depois da entrada sofrer revista através de detector de metais. Ao sair da sala no término da prova, o candidato não poderá utilizar o sanitário. Caso ocorra uma emergência, o fiscal deverá ser comunicado.
6. O Caderno de Provas consta de 40 (quarenta) questões de múltipla escolha para os cargos de nível superior, médio técnico, médio e fundamental completo e de 30 (trinta) questões para os cargos de nível fundamental incompleto. Leia-o atentamente.
7. **As questões das provas objetivas são do tipo múltipla escolha, com 05 (cinco) alternativas (A a E) e uma única resposta correta.**
8. Será aplicada prova escrita discursiva, somente para o cargo de Procurador Jurídico, constituída de 1 (uma) redação.
9. Ao receber o material de realização das provas, o candidato deverá conferir atentamente se o Caderno de Provas corresponde ao cargo a que está concorrendo, bem como se os dados constantes no Cartão de Respostas (Gabarito) que lhe foi fornecido estão corretos. Caso os dados estejam incorretos, ou o material esteja incompleto, ou tenha qualquer imperfeição, o candidato deverá informar tal ocorrência ao fiscal.
10. Os fiscais não estão autorizados a emitir opinião e prestar esclarecimentos sobre o conteúdo das provas. Cabe única e exclusivamente ao candidato interpretar e decidir.
11. O candidato poderá retirar-se do local de provas somente a partir dos 90 (noventa) minutos após o início de sua realização, contudo não poderá levar consigo o Caderno de Provas, sendo permitida essa conduta apenas no decurso dos últimos 30 (trinta) minutos anteriores ao horário previsto para o seu término.
12. Os 3 (três) últimos candidatos de cada sala somente poderão sair juntos. Caso o candidato insista em sair do local de aplicação das provas, deverá assinar um termo desistindo do Concurso Público e, caso se negue, deverá ser lavrado Termo de Ocorrência, testemunhado pelos 2 (dois) outros candidatos, pelo fiscal da sala e pelo coordenador da unidade.

## RESULTADOS E RECURSOS

- As provas aplicadas, assim como os gabaritos preliminares das provas objetivas serão divulgados na *Internet*, no site **[www.consulplan.net](http://www.consulplan.net)**, a partir das 16h00min do dia subsequente ao da realização das provas.
- O candidato que desejar interpor recursos contra os gabaritos oficiais preliminares das provas objetivas disporá de **02 (dois) dias úteis**, a partir do dia subsequente à divulgação, em requerimento próprio disponibilizado no *link* correlato ao Concurso Público no site **[www.consulplan.net](http://www.consulplan.net)**.
- A interposição de recursos poderá ser feita **via Internet**, através do **Sistema Eletrônico de Interposição de Recursos**, com acesso pelo candidato ao fornecer dados referentes à sua inscrição apenas no prazo recursal, à **CONSULPLAN**, conforme disposições contidas no site **[www.consulplan.net](http://www.consulplan.net)**, no *link* correspondente ao Concurso Público.