



# PREFEITURA MUNICIPAL DE ITAPAJÉ - CE

## CONCURSO PÚBLICO – EDITAL 001/2013

### MÉDICO CLÍNICO GERAL

NOME DO CANDIDATO: \_\_\_\_\_

RG: \_\_\_\_\_ ÓRGÃO EXPEDIDOR: \_\_\_\_\_

Nº DE INSCRIÇÃO

--	--	--	--	--	--

ASSINATURA: \_\_\_\_\_

### LEIA COM ATENÇÃO E SIGA RIGOROSAMENTE ESTAS INSTRUÇÕES:

1. Este caderno está contendo 60 (sessenta) questões de múltipla escolha, numeradas de 01 a 60.
2. Cada uma das questões apresenta um enunciado seguido de 5 (cinco) alternativas, das quais somente uma é a correta. Assinale-a.
3. Examine se a prova está completa, com a sequência numérica das questões, se há falhas ou imperfeições gráficas que causem dúvidas. Qualquer reclamação deverá ser feita durante os 20 minutos iniciais. Após esse tempo, qualquer reclamação será desconsiderada.
4. Depois de decorridos 2 (duas) horas do início da prova, será distribuído o Cartão-Resposta, o qual será o único documento válido para a correção da prova. Ao recebê-lo, verifique se o seu nome e número de inscrição estão corretos. Reclame imediatamente se houver discrepância.
5. O cartão-resposta não pode ser dobrado, amassado, rasurado ou manchado. Exceto sua assinatura e inscrição, nada deve ser escrito ou registrado fora dos locais destinados às respostas. Tenha muita atenção ao marcar seu cartão-resposta, pois não haverá substituição por erro do candidato. Marque sua resposta pintando completamente o espaço correspondente à alternativa de sua opção.  
  
Ex.: A  B  C  D  E
6. A leitora de marcas não registrará as respostas em que houver falta de nitidez, uso de corretivo, marcação a lápis ou marcação de mais de uma letra. Não serão computadas questões não assinaladas.
7. Durante a prova, é proibido o intercâmbio e o empréstimo de material de qualquer natureza entre os candidatos. A tentativa de fraude, a indisciplina e o desrespeito às autoridades encarregadas dos trabalhos são faltas que implicarão na desclassificação do candidato(a).
8. Qualquer forma de comunicação entre candidatos implicará na eliminação de ambos do certame.
9. Não será permitido ao candidato, durante a realização das provas, portar: armas; aparelhos eletrônicos de qualquer natureza; bolsas; livros; jornais ou impressos em geral; bonés, chapéus, lenço de cabelo, bandanas etc.
10. É vedado o uso de telefone celular ou de qualquer outro meio de comunicação. O candidato que for flagrado portando aparelho celular, durante o período de realização da prova, ou, ainda, aquele candidato cujo aparelho celular tocar será sumariamente eliminado do certame.
11. Em caso de dúvida, durante a prova, levante o braço para solicitar atendimento da fiscalização. Jamais pergunte em voz alta.
12. O Candidato que permanecer na sala de provas, por mais de 3h45min, poderá levar consigo a cópia do gabarito, em formulário específico, fornecido pela **ORGANIZADORA**.
13. Ao terminar a resolução da prova, entregue-a ao fiscal de sala juntamente com o **Cartão-Resposta** (devidamente assinado). Não esqueça, também, de **assinar a folha de frequência**.
14. As provas terão duração de 4 horas. Turno da Manhã com início às 08h00min e término às 12h00min e Turno da Tarde com início às 14h00min e término às 18h00min. Entretanto, o candidato só poderá ausentar-se da sala, depois de decorridas duas horas do início das provas.
15. Os **Gabaritos Preliminares das Provas Objetivas** serão divulgados 72 (setenta e duas) horas após a realização das mesmas.



**CONHECIMENTOS GERAIS**

Leia o texto I e responda as questões de 1 a 5.

**TEXTO I**

**Inclusão no Ensino Superior**

Nos últimos anos, o país assistiu a uma notável ampliação no número de alunos matriculados no ensino superior. Segundo dados do Censo da Educação Superior, de 2002 a 2011, o aumento de matrículas em graduação foi de 91%. As matrículas em instituições de ensino superior (IES) públicas cresceram 63% no mesmo período e, nas privadas, o número de matrículas mais que dobrou, com um crescimento de 104%. Mas qual é o perfil dos alunos que ingressam no ensino superior no Brasil?

"A expansão recente no número de matrículas revela que o acesso à educação superior ainda se mostra bastante concentrado nos jovens das faixas de renda alta e média e brancos", afirma Clarissa Eckert Baeta Neves, professora da Universidade Federal do Rio Grande do Sul (UFRS), em trabalho apresentado no Congresso da Associação de Estudos Americanos (Lasa).

No último Censo do Instituto Brasileiro de Geografia e Estatística (IBGE, 2010), pela primeira vez os afrodescendentes passaram a ser maioria na sociedade brasileira (com 51% da população). Os brancos representam 48%. Mas essa mudança está muito longe de acontecer no ensino superior. Analisando o perfil socioeconômico do estudante de graduação no Brasil<sup>1</sup>, Dilvo Ristoff, professor da Universidade Federal de Santa Catarina (UFSC), mostra que, nos cursos de Medicina e Odontologia, mais de 70% dos alunos são brancos. No curso de Direito, eles somam 66%. Nesse contexto, algumas políticas públicas têm buscado amenizar essas desigualdades, por meio de mecanismos para ampliar o número de alunos do ensino público e de negros, pardos e índios no ensino superior.

(Pré-universo, nº 33 agosto de 2013)

**1. Refletindo sobre o texto I, marque a opção CORRETA.**

- a) As matrículas nas instituições de ensino superior públicas cresceram mais que nas instituições privadas.
- b) Os pobres e negros ainda são minoria nesse processo.
- c) Não há políticas públicas voltadas para esse fim.
- d) Há igualdade de oportunidades para o acesso ao ensino de nível superior para os alunos de diferentes classes sociais.
- e) A porcentagem da população afrodescendente na sociedade brasileira é proporcional ao ingresso deles nas instituições de ensino superior.

**2. Em qual das opções a seguir, encontra-se verbo com a mesma regência do verbo "assistir", linha 1?**

- a) Vive-se bem neste país.
- b) Maria namora João há mais de dois anos.
- c) As empresas negam-se a assistir os idosos.
- d) O aluno parece dedicado.
- e) O ensino deve sempre visar ao progresso social.

**3. No trecho "afirma Clarissa Eckert Baeta Neves, professora da Universidade Federal do Rio Grande do Sul (UFRS), em trabalho apresentado no Congresso da Associação de Estudos Americanos (Lasa).", o termo entre vírgulas é classificado como:**

- a) Vocativo.
- b) Adjunto adverbial.

- c) Oração subordinada adjetiva.
- d) Aposto.
- e) Predicativo do sujeito.

**4. Quanto ao gênero textual, podemos classificar o Texto I como:**

- a) Crônica.
- b) Entrevista.
- c) Reportagem.
- d) Fábula.
- e) Conto.

**5. Marque a opção CORRETA que indica a função da linguagem predominante no texto I.**

- a) Referencial.
- b) Metalinguística.
- c) Poética.
- d) Fática.
- e) Apelativa.

**6. Marque a opção INCORRETA quanto ao uso ou não da crase.**

- a) Tenho um fogão a gás.
- b) Vou à Bahia.
- c) Cheguei à casa do professor.
- d) Parabéns a você.
- e) Refiro-me à minha velha amiga.

**7. Analise as afirmações a seguir:**

- I. No vocábulo "ruim" há um hiato.
- II. É facultativo pronunciar-se o "u" depois de "g" na palavra "antiguidade".
- III. "X" soa /KS/ nas palavras "tíxico", "asfixia", "intoxicar".
- IV. São proparoxítonas "caracteres", "edito" (lei, decreto), "filantropo".

**Marque a opção que apresenta as afirmativas CORRETAS.**

- a) I – II – III – IV.
- b) I – II – III.
- c) I – II – IV.
- d) I – III – IV.
- e) II – III – IV.

**8. Quanto ao gênero do substantivo, marque a opção CORRETA.**

- a) Borboleta é substantivo sobrecomum.
- b) Criança é substantivo comum de dois gêneros.
- c) Alface é substantivo feminino.
- d) Entorse é substantivo masculino.
- e) Aneurisma é substantivo epiceno.

**9. Observe os períodos a seguir:**

- I. A maior parte recusou-se a segui-los.
- II. Mais de um passageiro se irritou com ele.
- III. Vossa Senhoria não respeitastes o compromisso.
- IV. Fui eu quem perdeu mais no investimento.

**Quanto à concordância verbal, marque a opção que apresenta a(s) afirmativa(s) CORRETA(S).**

- a) I – II.
- b) II.
- c) I – II – III.
- d) III.
- e) I – II – IV.

Leia a tirinha para responder a questão 10  
**TEXTO II**



(disponível em [www.tirinhasnovestibular](http://www.tirinhasnovestibular))

10. Quanto à linguagem empregada no texto II, marque a opção **INCORRETA**.

- É coloquial, utilizada entre amigos.
- Há presença de gírias.
- É predominantemente denotativa.
- É predominantemente conotativa.
- É linguagem verbal.

11. Em “Fez tudo porque eu não obtivesse bons resultados”, o valor da conjunção do período é de:

- Causa.
- Condição.
- Conformidade.
- Explicação.
- Finalidade.

12. Marque a opção **CORRETA** em que as palavras destacadas apresentam a mesma relação semântica que “ausência” e “presença”.

- A participação em nosso grupo provoca sentimentos de segurança e bem-estar.
- O desconhecido provoca a nossa desconfiança, às vezes, nosso medo.
- Sentimos que aqueles que mais nos conhecem são também capazes de ignorar o que de melhor trazemos conosco.
- As situações novas são atraentes e provocantes.
- Ainda sonhamos com o país distante, a terra prometida onde possamos ser felizes.

13. Qual a figura de linguagem presente no período “Falta-lhe inteligência para compreender isso.”?

- Ironia.
- Eufemismo.
- Hipérbole.
- Metonímia.
- Prosopopeia.

14. Marque a opção **CORRETA** que indica a palavra que tem o sufixo formador de advérbio.

- Extremamente.
- Sociedade.
- Enriquecimento.
- Pessimismo.
- Desesperança.

15. Analise as afirmativas a seguir.

A enfermeira procede \_\_\_ exame do paciente.

O conferencista aludiu \_\_\_ fato.

A gerente visa \_\_\_ cheque do cliente.

A equipe visa \_\_\_ primeiro lugar no campeonato.

Não podendo lutar, preferiu morrer \_\_\_ viver.

Marque a opção que preenche corretamente e respectivamente as lacunas.

- Ao / o / ao / ao / do que.
- Ao / ao / ao / ao / do que.
- A / ao / o / ao / que.
- Ao / ao / o / ao / a.
- Ao / ao / o / ao / à.

16. Um provedor de acesso à Internet oferece dois planos para seus assinantes:

Plano A - Assinatura mensal de R\$ 8,00 mais R\$ 0,03 por cada minuto de conexão durante o mês.

Plano B - Assinatura mensal de R\$ 10,00 mais R\$ 0,02 por cada minuto de conexão durante o mês.

Acima de quantos minutos de conexão por mês é mais econômico optar pelo plano B?

- 160.
- 180.
- 200.
- 220.
- 240.

17. Quatro amigos, Gustavo, Natalia, João e Deborah, vão ao cinema e sentam-se em lugares consecutivos na mesma fila. O número de maneiras que os quatro podem ficar dispostos de forma que Gustavo e Natalia fiquem sempre juntos e João e Deborah também, é:

- 2.
- 4.
- 8.
- 16.
- 24.

18. Num grupo constituído de Y pessoas, das quais 14 jogam xadrez, 40 são homens. Se 20% dos homens jogam xadrez e 80% das mulheres não jogam xadrez, então o valor de Y é:

- 62.
- 70.
- 78.
- 84.
- 90.

19. Sendo D o determinante da matriz mostrada na figura adiante o valor positivo de x é:

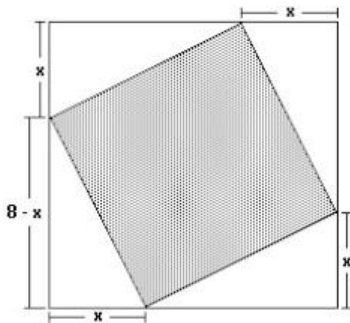
$$M = \begin{bmatrix} x & 1 \\ 1 & x \end{bmatrix} \text{ e } D = 8$$

- Um múltiplo de 4.
- O máximo divisor comum de 6 e 9.
- Um divisor de 10.
- O mínimo múltiplo comum de 3 e 5.
- Não se pode calcular.

20. Sabe-se que  $x - y = 4$  e  $x^2 + xy + y^2 = 52$ . Então:

- $x^2 - y^2 = 208$ .
- $x^2 + y^2 = 208$ .
- $x^3 + y^3 = 208$ .
- $x^3 - y^3 = 208$ .
- $x(x - y) = 208$ .

21. Na figura a seguir tem-se um quadrado inscrito em outro quadrado. Pode-se calcular a área do quadrado interno, subtraindo-se da área do quadrado externo as áreas dos 4 triângulos. Feito isso, verifica-se que  $A$  é uma função da medida  $x$ . O valor mínimo de  $A$  é:



- 16 cm<sup>2</sup>.
- 32 cm<sup>2</sup>.
- 24 cm<sup>2</sup>.
- 48 cm<sup>2</sup>.
- 28 cm<sup>2</sup>.

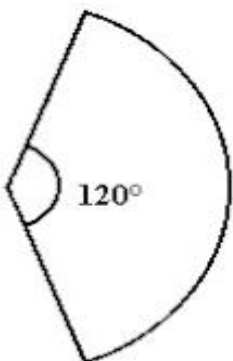
22. Considere dois pontos distintos  $A$  e  $B$  de um plano. O lugar geométrico dos pontos  $P$  deste plano tal que a soma das distâncias de  $P$  aos pontos  $A$  e  $B$  é constante, é uma curva denominada:

- Reta.
- Circunferência.
- Elipse.
- Parábola.
- Hipérbole.

23.  $A$  é um ponto não-pertencente a um plano  $P$ . O número de retas que contêm  $A$  e fazem um ângulo de 45° com  $P$  é igual a:

- 0.
- 1.
- 2.
- 4.
- Infinito.

24. O setor circular da figura a seguir é a superfície lateral de um cone cuja base tem diâmetro 4 e área igual a  $k\%$  da área total do cone. Então  $k$  vale:



- 20.
- 25.
- 30.
- 35.
- 40.

25. A soma de todos os elementos da inversa da matriz  $M$  mostrada na figura, a seguir, é igual a:

$$M = \begin{bmatrix} 1 & -1 \\ 0 & 2 \end{bmatrix}$$

- 2.
- 1.
- 0.
- 1.
- 2.

26. Um inseto, cujo tamanho é desprezível, faz um percurso linear. Inicialmente, caminha para a direita uma distância de 1 m. Então, ele vira para a esquerda, caminhando metade da distância do seu ponto corrente. Se o inseto continuar caminhando para a direita e para a esquerda, sempre andando a metade da distância previamente caminhada, percorrerá, a partir da origem, a distância de:

- 1 m.
- 2 m.
- 4 m.
- 8 m.
- 10 m.

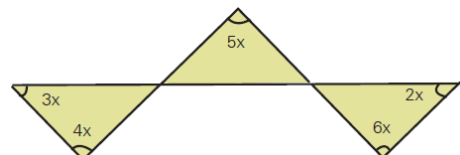
27. Luiz Eduardo depositou metade do seu capital para render juros durante três anos, a uma taxa de 15% ao ano, e a outra metade durante dois anos, a uma taxa de 12% ao ano, obtendo-se, ao final, um rendimento total de R\$ 8.625,00. Sabendo que a aplicação é com juros simples, determine o total aplicado nas duas operações.

- R\$ 25.000,00.
- R\$ 35.000,00.
- R\$ 15.000,00.
- R\$ 20.000,00.
- R\$ 8.000,00.

28. Para fazer 24 pães, Sr. João usa exatamente 1 quilo de farinha de trigo, 6 ovos e 200 gramas de manteiga. Qual é o maior número de pães que ele conseguirá fazer com 12 quilos de farinha, 54 ovos e 3,6 quilos de manteiga?

- 200.
- 216.
- 228.
- 300.
- 432.

29. Observe a figura, a seguir:



Quanto Vale " $x$ "?

- 24°.
- 6°.
- 18°.
- 20°.
- 12°.

**30. A diferença entre o quadrado da soma de dois números inteiros e a soma de seus quadrados NÃO pode ser:**

- 12.
- 6.
- 4.
- 2.
- 9.

**31. “Regime político no qual a soberania é exercida pelo povo, pertence ao conjunto dos cidadãos.”**

JAPIASSÚ, H.; MARCONDES, D. *Dicionário Básico de Filosofia*. Rio de Janeiro: Zahar, 2006.

**A afirmação acima é um conceito sobre:**

- Soberania.
- Autonomia.
- Direito.
- Justiça.
- Democracia.

**32. Leia a notícia a seguir:**

**Nordeste é região com mais bolsas do governo federal.**

*O Estado de S. Paulo – 16/09/2013*

*cod. 12.507*

Historicamente menos prestigiado nas políticas de ensino superior, o Nordeste enviou o maior número de graduandos para o exterior, em relação ao número de estudantes da região. Até agosto, o governo concedeu 547 bolsas para cada 100 mil universitários nordestinos, contra 509 no Sudeste. As bolsas oferecidas pelo Brasil somam quase 37,8 mil - das 101 mil prometidas até 2015.

Especialistas apontam que ainda é cedo para determinar impactos no desenvolvimento científico-tecnológico das instituições nordestinas. A expectativa mais imediata é de que as bolsas favoreçam a internacionalização das universidades locais e incrementem o repertório dos estudantes.

**A notícia apresenta dados sobre o programa:**

- Ciência Sem Fronteiras.
- Brasil Profissionalizado.
- Fundo de financiamento Estudantil.
- Plano Juventude Viva.
- Programa Nacional de Acesso ao Ensino Técnico e Emprego.

**Leia os textos (1 e 2) a seguir e responda a questão 33.**

#### TEXTO 1

**PIB - Apesar de mais altos, investimentos em educação ainda são mal distribuídos, aponta OCDE.**

*Agência Brasil – 14/09/2013*

*cod. 12.510*

Brasília – Os investimentos totais em educação no Brasil em relação ao Produto Interno Bruto (PIB) passaram de 5,8% para 6,1%, de 2010 para 2011. No mesmo período, as aplicações diretas – excluídos financiamentos e pagamento de bolsas, passaram de 5,1% para 5,3%. O último relatório da Organização para a Cooperação e Desenvolvimento Econômico (OCDE) mostra que, em relação a outros países, em 2010, o Brasil ultrapassou a Hungria (4,6%), a Itália (4,7%) e

equiparou-se à Suíça (5,6%). As porcentagens, no entanto, escondem os valores reais e a má distribuição desses recursos no país.

O relatório da OCDE mostra que o Brasil aumentou significativamente o investimento de 2000 para 2010, mas ainda está abaixo da média dos países da organização, que é de 6,3% do PIB. A porcentagem significa que, por aluno de instituição pública, o país investe, por ano, US\$ 2,96 mil. Os países cuja proporção foi ultrapassada ou equiparada, investem mais em termos reais. A Hungria investe US\$ 4,8 mil, a Itália US\$ 7,83 mil e a Suíça, US\$ 12,8 mil.

#### TEXTO 2

**RECURSOS - MEC usou menos de um terço do orçamento da pasta no primeiro semestre.**

*Agência Brasil – 14/09/2013*

*cod. 12.509*

Brasília – Nos primeiros seis meses deste ano, o Ministério da Educação (MEC) usou menos de um terço do orçamento aprovado para a pasta. Desse total, 2% foram usados em investimentos, ou seja, no que é incorporado ao patrimônio público. A Agência Brasil solicitou às consultorias de Orçamento da Câmara dos Deputados e do Senado Federal, que acompanham a execução orçamentária do governo, detalhes sobre o orçamento para o setor de janeiro a junho de 2013.

De acordo com os dados, até o dia 22 de junho, o Governo Federal liquidou R\$ 27,7 bilhões dos R\$ 89,1 bilhões autorizados para uso do MEC e financiamento estudantil, ou seja, 31% do que foi aprovado pelo Congresso Nacional no início do ano.

**33. Refletindo sobre os dois textos, marque a opção CORRETA.**

- São ambíguos, sem contextualização com a temática.
- A temática é comum, embora o Texto 2, contradiga o Texto 1.
- O Texto 2 é uma argumentação do Texto 1.
- Os dois textos diferem em argumentos.
- O Texto 1 fundamenta o Texto 2.

**34. A charge a seguir pretende, evidentemente, fazer uma crítica a um determinado comportamento da sociedade, postura essa decorrente do desenvolvimento da tecnologia.**

**Observe a charge:**



**A crítica apresentada na charge ao comportamento da sociedade equivale a(ao):**

- Consumismo exagerado das novas tecnologias.
- Registro por populares de acontecimentos inesperados.
- Insaciável corrida pelos últimos modelos de celular.

- d) Atitude uniforme pela ânsia de um “furo” de reportagem.  
e) Mudança nos relacionamentos interpessoais.

**35. Analise a charge a seguir:**



Leia-se: **VAI LAVAR AS MÃOS PARA O ABANDONO DA MATA ATLÂNTICA? APROVEITA ENQUANTO TEM ÁGUA.**

A charge sensibiliza para:

- a) O desperdício da água na região da mata atlântica.  
b) O desmatamento comprometendo os lençóis freáticos da região.  
c) A ausência de controle sobre os recursos hídricos da região.  
d) A deficiência da rede de água e esgoto na área urbana da região.  
e) Os procedimentos corretos da higiene das mãos da população na região.

Leia a notícia a seguir para responder a questão 36.

MEC – 13/09/2013

cod. 12.514

A presidenta da República, Dilma Rousseff, participou, em Uberlândia, no Triângulo Mineiro, da formatura de 2.634 alunos. Segundo a presidenta, o Brasil precisa de ensino técnico para ser competitivo e para desenvolver a economia. Daí a necessidade de a formação dos trabalhadores ser constante, é tão importante que vamos fazer com que se torne programa constante do governo” afirmou. “O Brasil precisa de ensino técnico para competir no mundo, precisamos para melhorar nós mesmos, a nossa economia.”

**36. De acordo com a notícia, a fala da Presidente refere-se a qual programa?**

- a) PROUNI.  
b) FIES.  
c) SISTEMA S de ensino.  
d) PRONATEC.  
e) PROEJA.

**37. O Jornal O POVO, de 23 de novembro de 1974 / sábado, destaca a seguinte manchete: “VEM DE ITAPAJÉ A PRIMEIRA DEPUTADA ESTADUAL DO CEARÁ”. Essa notícia refere-se a itapajeense:**

- a) Maria Luíza Gomes.  
b) Maria Lúcia Mota.  
c) Maria Zélia Mota.  
d) Maria Zélia Gomes.  
e) Maria Augusta Forte.

**38. Sobre o município de Itapajé marque (V) para as afirmativas VERDADEIRAS, e (F) para as FALSAS.**

- ( ) A BR – 022 é a principal via de acesso a cidade.  
( ) Itapajé é originário do Tupi, que significa “frade de pedra”.  
( ) O ano de criação do município foi 1847.  
( ) Os limites de Itapajé são: Apuiaries, Irauçuba e Itaipipoca.

Marque a opção que apresenta a sequência CORRETA.

- a) V – V – V – F.  
b) F – F – V – V.  
c) V – F – V – F.  
d) V – V – V – V.  
e) F – V – F – V.

**39. “Não há solução para os problemas sociológicos e ambientais dentro das lógicas de mercado global”.**

(Slavoj Zizek.)

**A economia mundial influencia outros setores da sociedade. Sobre esse tema, considere as seguintes afirmativas:**

- I. O atual modelo assumido pela economia mundial coloca países subdesenvolvidos e desenvolvidos em um mesmo patamar socioeconômico e cultural.  
II. A presença da rede McDonald’s em países como a Índia e a China mostra a eficácia dos modelos de consumo ocidentais difundidos pela ruptura de barreiras comerciais.  
III. Cuba é um dos poucos países do mundo ocidental que se mantém fora do circuito mundial do comércio, da informação e da comunicação, embora na atualidade se verifiquem algumas mudanças na participação cubana nesses setores.  
IV. A abertura econômica da China tem sido acompanhada por um acelerado processo de democratização do país.

Marque a opção que apresenta a(s) afirmativa(s) CORRETA(S).

- a) I.  
b) II – III.  
c) II – IV.  
d) I – II – III.  
e) I – III – IV.

**40. A agricultura familiar no Ceará se mostra um segmento importante, não só para a economia do agronegócio, mas também para a economia total. Sua importância social, seja pela geração de emprego e ocupação, seja pelo perfil dos produtos, é notória, especialmente, em algumas cadeias produtivas que têm características predominantemente familiares. Segundo o Instituto Agropólos do Ceará, marque a opção CORRETA que apresenta atividades agrícolas familiares.**

- a) Feijão, milho e mandioca.  
b) Algodão, milho e feijão.  
c) Feijão, mandioca e algodão.  
d) Cana-de-açúcar, feijão e milho.  
e) Soja, milho e mandioca.

### CONHECIMENTOS ESPECÍFICOS

**41. Conforme o Ministério da Saúde, a composição da equipe de saúde da família deve contemplar:**

- Médico para cada 1000 famílias e um agente comunitário de saúde para cada 150 famílias.
- Médico, enfermeiro, auxiliar de enfermagem e agente comunitário de saúde.
- Médico, dentista, enfermeiro, assistente social.
- Médico, nutricionista, enfermeiro e auxiliar/técnico de enfermagem.
- Agente comunitário de saúde e enfermeiro.

**42. A Agência Nacional de Vigilância Sanitária (ANVISA) legisla emitindo uma RDC. RDC é a sigla de:**

- Recomendação de Diretriz Consensual.
- Resolução de Direção Consolidada.
- Resolução da Diretoria Colegiada.
- Regulamento da Diretoria Clínica.
- Resolução Determinante de Cumprimento.

**43. Qual documento legal reafirma e regulamenta o princípio da saúde como direito universal e fundamental do ser humano?**

- A Constituição Brasileira de 1988.
- A Constituição Brasileira de 1948.
- A Declaração Universal dos Direitos Humanos de 1948.
- A Lei Orgânica da Saúde (Leis 8.080/90 e 8.142/90).
- A Reforma Sanitária Brasileira.

**44. Sobre a insuficiência renal, marque a opção INCORRETA.**

- As causas mais comuns de insuficiência renal crônica são diabetes mellitus, hipertensão, glomerulonefrite crônica e doença dos rins policísticos.
- Agentes de contraste radiológico não estão envolvidos na patogênese da insuficiência renal aguda.
- Anorexia, náuseas, soluço, vômitos, hematêmese, prejuízo na hemostasia são mais frequentes na retenção aguda de toxinas urêmicas.
- Prurido cutâneo, pericardite e anemia são mais frequentemente vistas após uremia prolongada.
- A ureia é o mais importante metabólito do catabolismo de proteínas, sendo excretada primariamente pelos rins.

**45. Qual medida prática deve ser utilizada para estratificar o risco no atendimento de um caso de suspeita de dengue na Unidade de Saúde?**

- Executar a prova do laço.
- Aferir a pressão arterial.
- Verificar grau de depleção do espaço extracelular.
- Verificar esplenomegalia.
- Verificar hepatomegalia.

**46. As emergências hipertensivas devem ser abordadas, em prazo de tempo, de algumas horas no máximo, pelo risco de deteriorização dos órgãos vitais. A respeito do assunto, considere as seguintes afirmativas:**

- Hipertensão com acidente vascular cerebral isquêmico é considerada emergência hipertensiva.

- Hipertensão com papiledema é considerada emergência hipertensiva.
- Hipertensão no pré-operatório em cirurgias de emergência é considerada emergência hipertensiva.
- Hipertensão com insuficiência cardíaca e edema agudo de pulmão é considerada emergência hipertensiva.

**Assinale a opção que contém as afirmativas corretas.**

- II – IV.
- I – II.
- I – III.
- II – III – IV.
- III – IV.

**47. Depressão é um dos transtornos de humor mais frequentes na sociedade atual. Marque a opção CORRETA sobre esse tema.**

- O eletroencefalograma é o exame laboratorial que define o diagnóstico.
- O tratamento com benzodiazepínicos deve ser realizado pelo período mais curto possível, de 1 a 6 meses.
- Eletroconvulsoterapia não é uma opção terapêutica útil em determinados casos.
- O diagnóstico diferencial entre depressão situacional e psicótica baseia-se na possibilidade de suicídio.
- O uso de antidepressivos tricíclicos ou inibidores de recaptação de serotonina está indicado.

**48. A atividade física pode ser recomendada para qual das enfermidades cardiovasculares indicadas a seguir?**

- Angina instável.
- Trombose venosa profunda.
- Insuficiência cardíaca.
- Aneurisma da aorta abdominal com área de dissecação.
- Insuficiência arterial periférica.

**49. Homem de 45 anos de idade procurou pronto atendimento com queixa de 3 episódios de melena. Estava em uso de AINES para tratamento de lombalgia. Ao exame: PA: 120 x 80mmHg e FC: 80bpm na posição supina e na posição sentado apresentava PA: 90 x60mmHg e FC: 120bpm.**

**A primeira conduta a ser tomada neste paciente, é:**

- Passar sonda nasogástrica e lavagem com solução fisiológica 0,9%.
- Solicitar parecer do gastroenterologista.
- Realizar endoscopia digestiva alta de urgência.
- Iniciar reposição vigorosa de volume.
- Administrar inibidor de bomba de prótons endovenosa.

**50. No lupus eritematoso cutâneo discóide aparecem com frequência:**

- Eritema e artralgia.
- Artralgia e febre.
- Febre e eritema.
- Eritema e fotossensibilização.
- Lesão glomerular e artralgias.



**51. Dentre os pacientes com infecção crônica pelo vírus da hepatite C (VHC), qual provavelmente terá a taxa mais baixa de progressão para fibrose hepática?**

- Um homem que adquiriu a infecção pelo VHC com 40 anos e bebe cinco doses de bebida alcoólica por dia.
- Um homem com infecção por HIV e VHC adquirida há 20 anos.
- Uma mulher que adquiriu infecção pelo VHC há mais de 20 anos e não ingere bebida alcoólica.
- Uma mulher imunossuprimida pós-transplante hepático com 45 anos de idade.
- Uma mulher que adquiriu a infecção pelo VHC aos 43 anos de idade e bebe três doses de bebida alcoólica por dia.

**52. Paciente do sexo feminino de 45 anos de idade, com queixa de palpitações e dor cervical persistente, iniciada há três semanas. Teve infecção do trato respiratório superior superada há uma semana antes do surgimento dos sintomas descritos acima. Exame da região cervical limitado devido a dor à palpação em tireoide, FC= 108 bpm com ritmo regular, PA= 130x70 mmHg. Laboratório: TSH < 0,02 (VR: 0,5 – 5,0 µU/mL) e T4 : 15,9 (VR: 5 - 12µg/dL). Qual o próximo procedimento para estabelecer o diagnóstico nesta paciente?**

- PAAF de tireoide.
- Solicitar VSH.
- Solicitar medida de anticorpos antitireoidianos.
- Solicitar medida de tireoglobulina sérica.
- Solicitar cintilografia de tireoide com I131.

**53. Uma paciente, com 25 anos de idade, há três dias apresenta febre, cefaléia intensa retroorbital, mialgia e exantema cutâneo morbiliforme. Há oito dias retornou de Fortaleza e há um dia começou a apresentar petéquias, epistaxe e teste do torniquete positivo. Sua pressão arterial é de 120/70 mmHg e sua pulsação, de 80 bpm, a temperatura é de 36,7°. Os exames laboratoriais mostraram plaquetas de 80.000, leucopenia, tempos de protrombina e tromboplastina parcial normais e sorologia para dengue (IgM) positiva. Esse quadro caracteriza diagnóstico de:**

- Dengue hemorrágica.
- Síndrome de choque da dengue.
- Dengue hemorrágica com CIVD.
- Dengue clássica.
- Dengue com comprometimento neurológico.

**54. Analise as afirmativas a seguir e marque (V) para as VERDADEIRAS e (F) para as FALSAS.**

- ( ) Uma gestante HIV positivo, linfócitos TCD4 + de 180cel/mm<sup>3</sup>, que faz todas as orientações propostas e chega ao final da gestação com Carga Viral para HIV indetectável, está liberada para amamentar seu bebê.
- ( ) Um paciente HIV positivo em seu primeiro esquema de tratamento com antiretrovirais, assintomático, pode ser recomendado a fazer suspensões temporárias dos antiretrovirais, não implicando na eficácia do tratamento a longo prazo.
- ( ) Um paciente HIV positivo assintomático com TCD4+ = 500células/mm<sup>3</sup> e carga viral= 250.000 cópias/ml enquadra-se nos critérios de início de terapia com antiretrovirais conforme consenso brasileiro atual.
- ( ) Um paciente HIV positivo assintomático, com TCD4+= 300células/mm<sup>3</sup> e carga viral= 50.000

cópias/ml enquadra-se nos critérios de início de terapia com antiretrovirais conforme consenso brasileiro atual.

( ) Um paciente HIV positivo, com cãndida esofágica grave, TCD4+= 190 células/mm<sup>3</sup> e carga viral= 5.300 cópias/ml, enquadra-se nos critérios de início de terapia com antiretrovirais conforme consenso brasileiro atual.

**Marque a opção que apresenta a sequencia CORRETA.**

- V – F – F – V – V.
- F – F – F – V – V.
- V – F – F – F – V.
- V – V – V – V – V.
- F – F – V – V – V.

**55. Em relação ao fibrinogênio, que é produzido no fígado, analise as afirmativas a seguir:**

- Essa produção ocorre sob o comando de mais de um gene, cada um responsável por determinada cadeia da molécula.
- A taxa plasmática pode variar dentro de certos limites.
- Aumenta numa série de estresses, como traumas, inflamações, endotoxinas, e na gestação.
- A maior parte do fibrinogênio do organismo se encontra nos grânulos alfa das plaquetas.
- O fibrinogênio do organismo é consumido na CIVD.

**Marque a opção que apresenta as afirmativas CORRETAS.**

- II – III – IV – V.
- I – III – IV – V.
- I – II – IV – V.
- I – II – III – V.
- I – II – III – IV.

**56. A nefrolitíase por ácido úrico vem aumentando em frequência nos últimos anos, principalmente em pacientes obesos, portadores de síndrome metabólica e diabéticos. Nesses pacientes, a anormalidade metabólica mais comumente observada é:**

- Urina com pH constantemente ácido.
- Hiperuricemia.
- Hiperuricosúria (maior que 750 mg/dia de ácido úrico).
- Volume urinário acima de 2 litros ao dia.
- Hiperossalúria (maior que 45 mg/dia de oxalato).

**57. Quanto ao tratamento da angina instável e do infarto agudo do miocárdio sem supradesnívelamento do segmento ST, é CORRETO afirmar que:**

- A heparina convencional é semelhante à enoxaparina no desfecho combinado morte/infarto do miocárdio, independentemente do escore de risco de TIMI. A segunda droga, entretanto, apresenta maior facilidade na maneira de administração.
- A morfina não deve ser realizada como rotina, mas habitualmente deve ser empregada em pacientes com dor persistente apesar de nitratos e beta-bloqueadores.
- Os nitratos endovenosos, mas não os sublinguais, são contra-indicados se o paciente tiver feito uso de sildenafil nas últimas 24 horas.
- A combinação de clopidogrel e aspirina aumenta o risco de sangramento e não reduz mortalidade. Não é, portanto, indicada.
- A heparina deve ser ajustada para que se atinja um valor de TTPa entre 2 e 3 vezes o valor controle.

Leia o enunciado a seguir sobre um caso Clínico, e responda as questões 58 a 60.

Paciente do sexo masculino 57 anos, procura o Pronto Atendimento com queixa surgimento de astenia e olhos amarelos há cerca de 01 semana. Nega febre, sangramento, sudorese noturna ou qualquer outra sintomatologia. Como antecedentes médicos: úlcera gástrica há 01 ano, tratada, HAS em uso de anti-hipertensivo (não lembra qual). No exame físico: paciente em BEG, mucosas hipocoradas ++, ictéricas, ausentes visceromegalia ou linfadenomegalia.

Solicitado hemograma:

Hb: 7,5 g/ dL

Hct: 27%

VCM: 103 f

L: 4500 - 65% neutrófilos

15% linfócitos

10% monócitos

7% eosinófilos

3% basófilos

Plaq: 220 000

**58. Sobre o caso clínico descrito, assinale a hipótese diagnóstica CORRETA.**

- a) Anemia ferropriva e anemia megaloblástica.
- b) Anemia hemolítica induzida por anticorpos e talassemia.
- c) Anemia megaloblástica e anemia hemolítica induzida por anticorpos.
- d) Alfa talassemia e anemia ferropriva.
- e) Anemia hemolítica e anemia de doença crônica.

**59. Quais exames devem ser solicitados para esse paciente?**

- a) Teste de crioaglutinina, teste de Coombs, dosagem de ferro sérico.
- b) DHL/teste de Coombs, contagem de reticulócitos.
- c) Dosagem de ferro sérico, hormônios teroidianos, transaminases.
- d) DHL, fosfatase alcalina, teste de Coombs.
- e) Bilirrubinas totais, dosagem de ferritina, teste de Coombs.

**60. Com relação ao caso clínico, considere as seguintes afirmativas:**

- I. O teste de Coombs direto negativo afasta a hipótese de anemia hemolítica.
- II. Por apresentar VCM normal se faz necessária pesquisa de doença crônica.
- III. Pacientes com doença gástrica podem apresentar dificuldade para absorção de vitamina B12.
- IV. Anticorpos da classe IgG são os principais responsáveis por anemia hemolítica auto-imune, causando hemólise extravascular.

**Marque a opção que apresenta a(s) afirmativa(s) CORRETA(S).**

- a) I – III.
- b) III.
- c) I – II.
- d) III – IV.
- e) II – IV.