

ESTADO DO ACRE
SECRETARIA DE ESTADO DA GESTÃO ADMINISTRATIVA
CORPO DE BOMBEIROS MILITAR DO ESTADO DO ACRE

EDITAL Nº 001/2015

CONCURSO PÚBLICO para

Aluno Oficial Bombeiro Militar Estadual Combatente – Masculino
Aluno Oficial Bombeiro Militar Estadual Combatente – Feminino

CÓDIGOS
B01 / B02



T

Verifique se esta
LETRA é a mesma
do seu Cartão
de Respostas.

DE ACORDO COM O EDITAL, O
CANDIDATO QUE FIZER PROVA
DE LETRA DIFERENTE SERÁ
ELIMINADO.

TRANSCREVA, EM ESPAÇO DETERMINADO NO SEU CARTÃO DE RESPOSTAS,
A FRASE DE FREDERICK DOUGLAS PARA EXAME GRAFOTÉCNICO

“Se não existe esforço, não existe progresso.”

ATENÇÃO

● DURAÇÃO DA PROVA: 4 horas.

● ESTE CADERNO CONTÉM 70 (SETENTA) QUESTÕES DE MÚLTIPLA ESCOLHA, CADA UMA COM 5 ALTERNATIVAS DE RESPOSTA – A, B, C, D e E – CONFORME DISPOSIÇÃO ABAIXO E DISCURSIVA.

Disciplinas	Quantidade de questões	Valor de cada questão
Física	10	2
Química	10	2
Matemática	10	2
Língua Portuguesa	10	2
Noções de Direito Administrativo	5	1
Noções de Direito Constitucional	5	1
Noções de Direito Penal Militar	5	1
Informática	5	1
Inglês/Espanhol	5	1
Atualidades	5	1

● VERIFIQUE SE ESTE MATERIAL ESTÁ EM ORDEM. CASO CONTRÁRIO, NOTIFIQUE IMEDIATAMENTE O FISCAL.

● RESERVE OS 30 (TRINTA) MINUTOS FINAIS PARA MARCAR SEU CARTÃO DE RESPOSTAS.

LEIA AS INSTRUÇÕES ABAIXO

- Após identificado e instalado na sala, você não poderá consultar qualquer material enquanto aguarda o horário de início da prova.
- Siga, atentamente, a forma correta de preenchimento do Cartão de Respostas, conforme estabelecido no próprio.
- Não haverá substituição do Cartão de Respostas e/ou da Folha de Resposta da Prova Discursiva por erro do candidato.
- Assinale no seu Cartão de Respostas a opção de Língua Estrangeira – Inglês ou Espanhol.

Por motivo de segurança:

- O candidato só poderá retirar-se definitivamente da sala após 1 (uma) hora do início efetivo da prova;
- Somente faltando 1 (uma) hora para o término da prova, o candidato poderá retirar-se levando o seu Caderno de Questões;
- O candidato que optar por se retirar sem levar o seu Caderno de Questões não poderá copiar suas respostas por qualquer meio. O descumprimento dessa determinação será registrado em ata e acarretará a eliminação do candidato; e
- Ao terminar a prova, o candidato deverá se retirar imediatamente do local, não sendo possível nem mesmo a utilização dos banheiros e/ou bebedouros.
- Ao terminar a prova, é de sua responsabilidade entregar ao fiscal o Cartão de Respostas assinado e a Folha de Resposta da Prova Discursiva. Não se esqueça dos seus pertences.
- A Prova Discursiva deverá ser desenvolvida na Folha de Resposta personalizada e desidentificada pelo candidato, que deverá destacar o canhoto que contém seus dados cadastrais e entregar ao fiscal da sala. A Folha de Resposta da Prova Discursiva é o único documento válido para a correção.
- O preenchimento da Folha de Resposta da Prova Discursiva será de sua inteira responsabilidade.
- Os três últimos candidatos deverão permanecer na sala até que o último candidato entregue o Cartão de Respostas e a Folha de Resposta da Prova Discursiva.
- O fiscal de sala não está autorizado a alterar quaisquer dessas instruções. Em caso de dúvida, solicite a presença do coordenador local.

BOA PROVA!

www.funcab.org

FÍSICA

Questão 01

A dimensão da potência em função das grandezas fundamentais, massa (**M**), comprimento (**L**) e tempo (**T**) está melhor expressa no item:

- A) ML^2T^{-3}
- B) MLT^{-3}
- C) $M^2L^2T^{-3}$
- D) $M^{-1}LT^{-2}$
- E) MLT

Questão 02

No estudo de um fenômeno da natureza foram envolvidas as grandezas **A**, **B**, **C** e **D**, diferentes entre si. A relação entre essas grandezas é $A = BCD^{-2}$. Se **B** tem dimensão de massa, **C** tem dimensão de comprimento e **D**, dimensão de tempo, a unidade de medida de **A**, no sistema internacional, pode ser representada por:

- A) J.
- B) C.
- C) N.
- D) W.
- E) R.

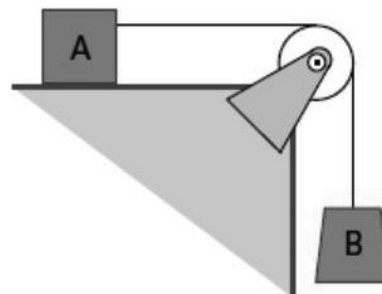
Questão 03

Um carro a 120 km/h é freado uniformemente com aceleração de 5 m/s^2 (em módulo) até parar completamente. A distância percorrida por esse carro até sua parada é de, aproximadamente:

- A) 193 m.
- B) 256 m.
- C) 522 m.
- D) 312 m.
- E) 111 m.

Questão 04

No sistema da figura a seguir, não há atrito e o fio é ideal. Considerando que a massa de **A** é 3,0 kg, e esta desce com aceleração de $3,0 \text{ m/s}^2$. Se a polia tem inércia desprezível, então a massa do corpo **B** deve ser de (adote $g = 10 \text{ m/s}^2$).



- A) 2,0 kg
- B) 1,0 kg
- C) 3,0 kg
- D) 5,0 kg
- E) 6,0 kg

Questão 05

Uma bola de futebol de 400 g encontra-se no alto de um armário de 3 metros de altura, em repouso. Sob tais condições a energia cinética desta bola é, em joules:

- A) 1,2.
- B) 1,0.
- C) 1,8.
- D) 0,0.
- E) 1,6.

Questão 06

O momento angular de uma partícula de massa m localizada pelo vetor (em negrito) posição \mathbf{r} , e que tem momento linear \mathbf{p} é definido pela expressão $\mathbf{L} = \mathbf{r} \times \mathbf{p}$. A variação temporal do momento angular é igual a uma outra grandeza conhecida como:

- A) trabalho.
- B) torque.
- C) força.
- D) momento linear.
- E) energia mecânica.

Questão 07

Qual a pressão em (Pa) exercida por um fluido de densidade $0,8 \text{ kg/m}^3$ que preenche um recipiente cilíndrico de 2m de altura (adote $g = 10 \text{ m/s}^2$)?

- A) 15
- B) 10
- C) 16
- D) 14
- E) 12

Questão 08

Ao fornecer 600 calorias de calor para um corpo, verifica-se, como consequência, uma variação de temperatura igual a $30 \text{ }^\circ\text{C}$. Determine a capacidade térmica desse corpo.

- A) $25 \text{ cal/}^\circ\text{C}$
- B) $15 \text{ cal/}^\circ\text{C}$
- C) $40 \text{ cal/}^\circ\text{C}$
- D) $10 \text{ cal/}^\circ\text{C}$
- E) $20 \text{ cal/}^\circ\text{C}$

Questão 09

Sendo Q a quantidade de calor trocada por um gás, V o volume desse gás, U a sua energia interna, P a sua pressão e T a sua temperatura em graus kelvin. Pode-se dizer que em uma transformação adiabática:

- A) $P = 0$.
- B) $U = 0$.
- C) $T = 0$.
- D) $Q = 0$.
- E) $V = 0$.

Questão 10

Uma máquina térmica ideal, funciona realizando um ciclo de Carnot. Em cada ciclo o trabalho útil fornecido pela máquina é de 1000 J, se as temperaturas das fontes de calor são $127 \text{ }^\circ\text{C}$ e $27 \text{ }^\circ\text{C}$, respectivamente. O rendimento dessa máquina é de:

- A) 25 %
- B) 45 %
- C) 15 %
- D) 10 %
- E) 35 %

QUÍMICA

Questão 11

Assinale a alternativa que apresenta exemplo de uma substância pura simples.

- A) Água
- B) Nitrogênio gasoso
- C) Cloreto de sódio
- D) Gás carbônico
- E) Dióxido de enxofre

Questão 12

Uma solução de cloreto de potássio em água pode ter seus componentes separados pela técnica chamada:

- A) sublimação.
- B) filtração.
- C) decantação.
- D) destilação simples.
- E) destilação fracionada.

Questão 13

O composto que apresenta em sua molécula somente ligações covalentes é:

- A) cloreto de cálcio.
- B) sulfato de sódio.
- C) amônia.
- D) iodeto de sódio.
- E) fluoreto de lítio.

Questão 14

A fórmula química do ácido clórico é:

- A) HClO_2
- B) HCl
- C) HClO_4
- D) HClO
- E) HClO_3

Questão 15

Uma reação de dupla troca é apresentada na alternativa:

- A) $C + O_2 \longrightarrow CO_2$
- B) $2 H_2O \longrightarrow 2H_2 + O_2$
- C) $Zn + H_2SO_4 \longrightarrow ZnSO_4 + H_2$
- D) $NaCl + AgNO_3 \longrightarrow NaNO_3 + AgCl$
- E) $Fe + CuSO_4 \longrightarrow FeSO_4 + Cu$

Questão 16

Considere as afirmativas a seguir:


- I. Isótopos são átomos de um mesmo elemento químico que apresentam o mesmo número atômico (Z) e diferentes números de massa (A).
- II. Isótonos são átomos de elementos químicos distintos que apresentam mesmos números atômicos (Z), diferentes números de massa (A) e o mesmo número de nêutrons.
- III. Isóbaros são átomos de elementos químicos distintos que apresentam o mesmo número de massa (A) e diferentes números atômicos (Z).
- IV. Um átomo sempre apresenta o número de nêutrons igual ao número de elétrons.

Está correto somente o que se afirma em:

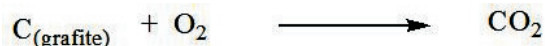
- A) I.
- B) I e IV.
- C) II e III.
- D) IV.
- E) I e III.

Questão 17

Considerando as reações a seguir:



O ΔH da reação a seguir é igual a:



- A) -393 kJ
- B) -173 kJ
- C) +393 kJ
- D) +173 kJ
- E) -786 kJ


Questão 18

Um elemento pertencente ao grupo dos halogênios é:

- A) Ca
- B) N
- C) Br
- D) O
- E) Fe

Questão 19

Observe o átomo de neptúnio representado a seguir:

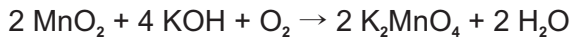


Após a emissão de uma partícula β de acordo com Lei de Soddy, Fajans e Russel dá origem ao átomo de:

- A) ${}_{93}^{238}\text{U}$
- B) ${}_{94}^{238}\text{Pu}$
- C) ${}_{95}^{241}\text{Am}$
- D) ${}_{94}^{239}\text{Pu}$
- E) ${}_{90}^{232}\text{Am}$

Questão 20

Considere a reação a seguir:



Para o preparo de 2 Moles de manganato de potássio (K_2MnO_4) é necessária uma massa de dióxido de manganês (MnO_2) igual a:

Dados: ($\text{MnO}_2 = 87 \text{ g/mol}$)

- A) 87 g.
- B) 1740 g.
- C) 870 g.
- D) 174 g.
- E) 8,7 g.

MATEMÁTICA

Questão 21

Em um sistema de equações lineares que contém três equações e três incógnitas, cada equação representa um plano no \mathbb{R}^3 . Se o sistema contém uma variável livre, é correto afirmar que:

- A) todos os planos são paralelos.
- B) apenas dois planos são paralelos.
- C) os planos se intersectam dois a dois.
- D) a interseção dos três planos é uma reta.
- E) a interseção dos três planos é um ponto.

Questão 22

Se $x = 3.200.000$ e $y = 0,00002$ então xy vale:

- A) 0,64
- B) 6,4
- C) 64
- D) 640
- E) 6.400

Questão 23

Considere que $3/5$ de um número somados a $1/2$ é igual a $2/3$ desse número. Indique a opção que representa esse número.

- A) 0
- B) 1
- C) $20/33$
- D) $33/20$
- E) $15/2$

Questão 24

O valor máximo da função $f(x) = -x^2 + 2x + 2$ é:

- A) 6.
- B) 5.
- C) 4.
- D) 3.
- E) 2.

Questão 25

Dada a função aceleração $a(t) = 6t + 2$, marque a opção que representa a respectiva função posição, $s(t)$ sabendo-se que a velocidade em $t = 0$ é 0 e a posição em $t = 0$ é 1.

- A) $s(t) = x^3 + x^2 + 1$
- B) $s(t) = x^3 + x^2 - 1$
- C) $s(t) = x^3 - x^2 + 1$
- D) $s(t) = -x^3 + x^2 - 1$
- E) $s(t) = -x^3 - x^2 + 1$

Questão 26

Se as funções reais $f(x)$ e $g(x)$ são contínuas em um ponto C , tal que $\text{Im}(f) = \text{Im}(g) = \mathbb{R}$, então:

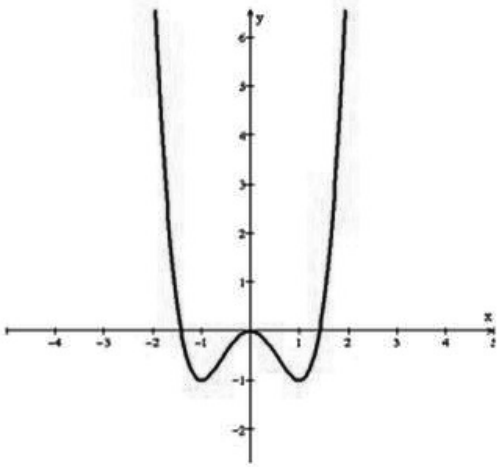
- I. $f + g$ é contínua em C .
- II. $f - g$ é contínua em C .
- III. $f \cdot g$ é contínua em C .
- IV. f/g é contínua em C .

São corretos os itens:

- A) I, II e III, apenas.
- B) I, II e IV, apenas.
- C) II, III e IV, apenas.
- D) I, III e IV, apenas.
- E) I, II, III e IV.

Questão 27

Considere a função definida por $y = f(x)$ e representada pelo gráfico a seguir.



É correto afirmar que:

- A) não existe $k \in \mathbb{R}$ tal que $f'(0) > 0$.
- B) existe $k \in \mathbb{R}$ tal que $f'(0) = 0$.
- C) não existe $k \in \mathbb{R}$ tal que $f'(0) < 0$.
- D) dados quaisquer k_1 e $k_2 \in \mathbb{R}$ então $f'(k_1) \leq f'(k_2)$.
- E) dados quaisquer k_1 e $k_2 \in \mathbb{R}$ então $f'(k_1) \geq f'(k_2)$.

Questão 28

O limite de $(\text{sen } \sqrt{3}x)/x$, quando x tende a zero, é igual a:

- A) 1.
- B) 0.
- C) $\sqrt{3}$.
- D) ∞ .
- E) 3.

Questão 29

Se $\text{sen } \theta = 1/2$, então o cosseno do complemento de θ é:

- A) 1.
- B) $\sqrt{2}/2$.
- C) $\sqrt{3}/2$.
- D) $1/2$.
- E) $\sqrt{3}$.

Questão 30

Considere A, B, C conjuntos de um certo universo U .

Se $A \cap C \neq \emptyset$ e $B = \bar{C}$, então $(A \cap B) \cup (A \cap C)$ é igual a:

- A) C .
- B) A .
- C) B .
- D) $A \cap C$.
- E) $B \cup C$.

Texto para responder às questões de 31 a 40.

O fragmento a seguir situa-se no último capítulo de *Triste fim de Policarpo Quaresma*.

Como lhe parecia ilógico com ele mesmo estar ali metido naquele estreito calabouço? Pois ele, o Quaresma plácido, o Quaresma de tão profundos pensamentos patrióticos, merecia aquele triste fim?

[...]

Por que estava preso? Ao certo não sabia; o oficial que o conduzira, nada lhe quisera dizer; e, desde que saíra da ilha das Enxadas para a das Cobras, não trocara palavra com ninguém, não vira nenhum conhecido no caminho [...]. Entretanto, ele atribuía a prisão à carta que escrevera ao presidente, protestando contra a cena que presenciara na véspera.

Não se pudera conter. Aquela leva de desgraçados a sair assim, a desoras, escolhidos a esmo, para uma carniçaria distante, falara fundo a todos os seus sentimentos; pusera diante dos seus olhos todos os seus princípios morais; desafiara a sua coragem moral e a sua solidariedade humana; e ele escrevera a carta com veemência, com paixão, indignado. Nada omitiu do seu pensamento; falou claro, franca e nitidamente.

Devia ser por isso que ele estava ali naquela masmorra, engaiolado, trancafiado, isolado dos seus semelhantes como uma fera, como um criminoso, sepultado na treva, sofrendo umidade, misturado com os seus detritos, quase sem comer... Como acabarei? Como acabarei? E a pergunta lhe vinha, no meio da revoada de pensamentos que aquela angústia provocava pensar. Não havia base para qualquer hipótese. Era de conduta tão irregular e incerta o Governo que tudo ele podia esperar: a liberdade ou a morte, mais esta que aquela.

[...]

Iria morrer, quem sabe se naquela noite mesmo? E que tinha ele feito de sua vida? Nada. Levava toda ela atrás da miragem de estudar a pátria, por amá-la e querê-la muito, no intuito de contribuir para a sua felicidade e prosperidade. Gastara a sua mocidade nisso, a sua virilidade também; e, agora que estava na velhice, como ela o recompensava, como ela o premiava, como ela o condecorava? Matando-o. E o que não deixara de ver, de gozar, de fruir, na sua vida? Tudo. Não brincara, não pandegara, não amara – todo esse lado da existência que parece fugir um pouco à sua tristeza necessária, ele não vira, ele não provara, ele não experimentara. Desde dezoito anos que o tal patriotismo lhe absorvia e por ele fizera a tolice de estudar inutilidades. Que lhe importavam os rios? Eram grandes? Pois que fossem... Em que lhe contribuiria para a felicidade saber o nome dos heróis do Brasil? Em nada... O importante é que ele tivesse sido feliz. Foi? Não.

Lembrou-se das suas coisas de tupi, do folclore, das suas tentativas agrícolas... Restava disso tudo em sua alma uma satisfação? Nenhuma! Nenhuma!

O tupi encontrou a incredulidade geral, o riso, a mofa, o escárnio; e levou-o à loucura. Uma decepção. E a agricultura? Nada. As terras não eram ferazes e ela não era fácil como diziam os livros. Outra decepção. E, quando o seu patriotismo se fizera combatente, o que achara? Decepções. Onde estava a doçura de nossa gente? Pois ele não a viu combater como feras? Pois não a via matar prisioneiros, inúmeros? Outra decepção. A sua vida era uma decepção, uma série, melhor, um encadeamento de decepções. [...].

Como é que não viu nitidamente a realidade, não a pressentiu logo e se deixou enganar por um falaz ídolo, absorver-se nele, dar-lhe em holocausto toda a sua existência? Foi o seu isolamento, o seu esquecimento de si mesmo; e assim é que ia para a cova, sem deixar traço seu, sem um filho, sem um amor, sem um beijo mais quente, sem nenhum mesmo, e sem sequer uma asneira!

Nada deixava que afirmasse a sua passagem e a terra não lhe dera nada de saboroso.

BARRETO, Lima. *Triste fim de Policarpo Quaresma*. São Paulo: Saraiva, 2007. p. 199-201 (Clássicos Saraiva).

Questão 31

Sobre o texto leia as afirmativas a seguir.

- I. Quaresma atribui à pátria e ao povo, respectivamente, a responsabilidade por sua prisão e pela violência da guerra.
- II. Quaresma era um idealista que se frustra ao ver que seus projetos não são compatíveis com a realidade do país.
- III. Na frase inicial do texto, a palavra ILÓGICO tem conotação fortemente positiva e explica a esperança de Quaresma.

Está correto apenas o que se afirma em:

- A) I.
- B) I e II.
- C) I e III.
- D) II e III.
- E) III.

Questão 32

No texto, há passagens em que é empregada a técnica do discurso indireto livre, exemplificada no seguinte trecho:

- A) “O tupi encontrou a incredulidade geral, o riso, a mofa, o escárnio”
- B) “Não havia base para qualquer hipótese”
- C) “Como acabarei? Como acabarei?”
- D) “Desde dezoito anos que o tal patriotismo lhe absorvia”
- E) “Entretanto, ele atribuía a prisão à carta que escrevera ao presidente”

Questão 33

Sobre os elementos do fragmento “Onde estava a doçura de nossa gente? Pois ele não a viu combater como feras?”, leia as afirmativas.

- I. Os verbos estão no pretérito imperfeito do modo indicativo.
- II. O vocábulo A, antes da forma verbal VIU, é objeto direto da oração a que pertence.
- III. COMO é uma conjunção subordinativa.

Está correto apenas o que se afirma em:

- A) I.
- B) II.
- C) I e II.
- D) I e III.
- E) II e III.

Questão 34

“Restava DISSO tudo em sua alma uma satisfação?”

O uso da forma destacada do demonstrativo, no contexto, se justifica porque:

- A) enuncia a prisão como consequência da carta que escrevera ao presidente.
- B) localiza Quaresma no espaço/tempo.
- C) relaciona termos de fora do texto para dentro.
- D) faz referência a ideias já introduzidas no texto.
- E) indica que o patriotismo originou-se do tupi.

Questão 35

A língua é “uma atividade social, um trabalho coletivo, empreendido por todos os seus falantes, cada vez que eles se põem a interagir por meio da fala ou da escrita” (BAGNO, 2010, p. 36).

Nessa perspectiva, analise as afirmativas.

- I. Na linguagem do texto, predomina o registro formal da língua.
- II. O autor, na progressão temática, faz uso da variação diagenérica da linguagem.
- III. O autor enfatiza a variação linguística diatópica, em que a fala tem um caráter emblemático.

Está correto apenas o que se afirma em:

- A) I.
- B) II.
- C) III.
- D) I e II.
- E) I e III.

Questão 36

A partícula SE pode assumir diversos valores morfossintáticos dentro do texto. Em “Iria morrer, quem sabe SE naquela noite mesmo?”, o elemento destacado é um(a):

- A) índice de indeterminação do sujeito.
- B) partícula apassivadora.
- C) conjunção subordinativa.
- D) parte integrante do verbo.
- E) pronome reflexivo.

Questão 37

No antepenúltimo parágrafo do texto se lê “A sua vida era uma decepção, uma série, melhor, um encadeamento de decepções.”, a diferença de sentido entre uma SÉRIE DE DECEPÇÕES e ENCADEAMENTO DE DECEPÇÕES é, respectivamente:

- A) sucessão temporal/ideia de conformidade.
- B) apenas noção de sequência/ideia de causa e efeito.
- C) apenas ênfase na ação/ideia de circularidade.
- D) apenas tendência ao exagero/sequência sem interrupção.
- E) ordenação sequencial dos fatos/divisão de uma sequência de fatos.

Questão 38

“Nada deixava que afirmasse a sua passagem e a terra não lhe dera nada de saboroso.”

A respeito do trecho acima, quanto aos aspectos gramatical, sintático e semântico, analise as afirmativas a seguir.

- I. A colocação enclítica do pronome LHE se dá em decorrência da presença de palavra de valor negativo.
- II. NADA, nas duas ocorrências, é um pronome indefinido e significa coisa nenhuma.
- III. SUA é um pronome substantivo possessivo e produz ambiguidade dentro do texto.

Está(ão) correta(s) apenas a(s) afirmativa(s):

- A) I.
- B) I e II.
- C) I e III.
- D) II.
- E) II e III.

Questão 39

A oração destacada em “O importante é QUE ELE TIVESSE SIDO FELIZ.” exerce a função sintática de:

- A) sujeito.
- B) objeto direto.
- C) predicativo do sujeito.
- D) aposto.
- E) complemento nominal.

Questão 40

Há muitos substantivos da Língua Portuguesa formados por derivação regressiva. Assinale a alternativa em que o vocábulo destacado exemplifica esse caso.

- A) “não vira nenhum conhecido no CAMINHO”
- B) “Aquela leva de DESGRAÇADOS a sair assim”
- C) “agora que estava na VELHICE”
- D) “E que tinha ele FEITO de sua vida?”
- E) “Foi o seu ISOLAMENTO”

NOÇÕES DE DIREITO ADMINISTRATIVO

Questão 41

No que se refere à organização administrativa do Estado brasileiro, assinale a alternativa correta.

- A) As entidades da administração pública indireta são criadas por decreto, por se tratar de uma desconcentração política.
- B) As autarquias devem explorar atividade econômica, sendo necessário o registro de seus atos constitutivos.
- C) A Câmara Municipal não tem personalidade jurídica e sim judiciária, podendo estar em Juízo defendendo os seus interesses.
- D) As sociedades de economia mista gozam de imunidade tributária, porque visam desempenhar uma atividade tipicamente estatal.
- E) A empresa pública, por ser pessoa jurídica de direito privado, podem se revestir apenas sob a forma de S. A. (Sociedade Anônima).

Questão 42

A respeito das agências reguladoras, assinale a opção correta.

- A) Integram a administração indireta e são pessoas jurídicas de direito privado, atuando no domínio econômico.
- B) Seus dirigentes poderão ser destituídos a qualquer momento por não possuírem estabilidade de mandato durante um termo fixo.
- C) Há hierarquia e subordinação ao ente político que as instituíram.
- D) Têm como finalidade regulamentar a execução dos serviços, através do planejamento e normatização, que foram objeto de concessão de serviço público.
- E) Descabimento de independência decisória e normativa para que a regulação ocorra de forma satisfatória e íntegra.

Questão 43

No que concerne a atos administrativos, marque a opção correta.

- A) No caso de obrigação a valores pecuniários, é incabível a autoexecutoriedade administrativa e deve se dar pela via judicial.
- B) A autorização constitui ato vinculado e precário, cabendo ao administrador valorar critérios de conveniência e oportunidade para seu deferimento.
- C) A cassação é forma de extinção e ocorre quando a retirada do ato funda-se no advento de nova legislação, impedindo a permanência da situação anteriormente consentida.
- D) Se houver modificação nos elementos finalidade, motivo ou objeto, dar-se-á a sanatória, pois não estará se mexendo no conteúdo.
- E) O ato, mesmo inválido, praticado em desconformidade com a lei, produz todos os efeitos, como válido fosse, porque a presunção de validade é absoluta.

Questão 44

“Loteamento que foi irregularmente licenciado, mas cuja ilegalidade só foi descoberta algum tempo depois, quando inúmeras famílias nele já haviam edificado suas habitações. Nessa esteira, cabe repisar que a anulação é um dever, uma obrigação da Administração.” (MADEIRA, José M. Pinheiro. *Administração Pública, Tomo I* Editora Freitas Bastos, 12ª Ed, p. 135)

No entanto, pode resultar em uma faculdade, em função do princípio da:

- A) legalidade.
- B) supremacia do interesse público.
- C) indisponibilidade do interesse público.
- D) eficiência.
- E) publicidade.

Questão 45

De acordo com os poderes disciplinar, hierárquico e discricionário, assinale a opção correta.

- A) O controle judicial pode adentrar no terreno que a lei reservou aos agentes administrativos, perquirindo os critérios de conveniência e oportunidade.
- B) Os princípios da razoabilidade e da proporcionalidade podem ensejar o controle da discricionariedade.
- C) No campo disciplinar, o funcionário nunca pode questionar a legalidade de uma ordem manifestamente ilegal.
- D) Admite-se a delegação de atribuições de um poder para outro, como também permite delegação de atos de natureza política.
- E) Pela falta residual, não compreendida na absolvição pelo juízo criminal, não se permite a punição administrativa do servidor.

NOÇÕES DE DIREITO CONSTITUCIONAL

Questão 46

Sobre os Direitos Fundamentais previstos na Constituição Federal vigente, assinale a alternativa correta.

- A) São invioláveis a intimidade, a vida pública, a honra e a imagem das pessoas, assegurado apenas o direito a indenização pelo dano material de sua violação.
- B) É livre, em qualquer época, a locomoção no território nacional, podendo qualquer pessoa, nos termos da lei, nele entrar, permanecer ou dele sair com seus bens.
- C) As entidades associativas têm legitimidade para representar seus filiados judicial ou extrajudicialmente, independentemente de autorização.
- D) A casa é asilo inviolável do indivíduo, ninguém nela podendo penetrar sem consentimento do morador, salvo em caso de flagrante delito ou desastre, ou para prestar socorro, ou, durante o dia, por determinação judicial.
- E) Todos podem reunir-se pacificamente, sem armas, em locais abertos ao público, desde que devidamente autorizados e não frustrem outra reunião anteriormente convocada para o mesmo local.

Questão 47

Com relação aos remédios constitucionais, marque a alternativa correta.

- A) O mandado de segurança coletivo possui previsão expressa na Constituição Federal de 1988 e pode ser impetrado por partido político com representação no Congresso Nacional, organização sindical, entidade de classe ou associação legalmente constituída e em funcionamento há pelo menos dois anos, em defesa dos interesses de seus membros ou associados.
- B) Qualquer cidadão é parte legítima para propor ação civil pública que vise anular ato lesivo ao patrimônio público ou de entidade de que o Estado participe, à moralidade administrativa, ao meio ambiente e ao patrimônio histórico e cultural, ficando o autor, salvo comprovada má-fé, isento de custas judiciais e do ônus da sucumbência.
- C) Conceder-se-á mandado de injunção sempre que a falta de norma regulamentadora torne inviável o exercício dos direitos e liberdades constitucionais e das prerrogativas inerentes à nacionalidade, à soberania e à cidadania.
- D) Conceder-se-á mandado de segurança para proteger direito líquido e certo, independentemente de ser ou não amparado por *habeas corpus* ou *habeas data*, quando o responsável pela ilegalidade ou abuso de poder for autoridade pública ou agente de pessoa jurídica no exercício de atribuições do Poder Público.
- E) A Constituição Federal de 1988 não assegura a gratuidade para o ajuizamento da ação de *habeas corpus*.

Questão 48

Levando-se em consideração os Princípios Fundamentais da Constituição Federal vigente, assinale a alternativa correta.

- A) Os valores sociais do trabalho e o pluralismo político são princípios que regem a República Federativa do Brasil nas relações internacionais.
- B) A República Federativa do Brasil, formada pela união indissolúvel dos Estados, Municípios e do Distrito Federal, constitui-se em Estado Democrático de Direito e tem como um de seus fundamentos construir uma sociedade livre, justa e solidária.
- C) Um dos objetivos fundamentais da República Federativa do Brasil, expressamente previsto no texto constitucional, é combater a corrupção.
- D) Todo o poder emana do povo, que será exercido por meio de representantes eleitos nos Poderes Legislativo, Executivo e Judiciário.
- E) A República Federativa do Brasil buscará a integração econômica, política, social e cultural dos povos da América Latina, visando à formação de uma comunidade latino-americana de nações.

Questão 49

A segurança pública, dever do Estado, direito e responsabilidade de todos, é exercida para a preservação da ordem pública e da incolumidade das pessoas e do patrimônio, através dos seguintes órgãos, EXCETO:

- A) Polícia Rodoviária Federal.
- B) Ministério Público Federal.
- C) Polícia Ferroviária Federal.
- D) Polícias militares e corpos de bombeiros militares.
- E) Polícia Federal.

Questão 50

No que diz respeito à distribuição de competência prevista na Constituição Federal, assinale a alternativa correta.

- A) É competência comum da União, dos Estados, do Distrito Federal e dos Municípios manter o serviço postal e o correio aéreo nacional.
- B) Compete privativamente à União legislar sobre direito civil, comercial, penal, processual, eleitoral, urbanístico, ambiental, aeronáutico, espacial e do trabalho.
- C) Compete à União, aos Estados e ao Distrito Federal legislar concorrentemente sobre requisições civis e militares, em caso de iminente perigo e em tempo de guerra.
- D) A competência material da União pode ser delegada aos Estados e Municípios mediante Lei Complementar.
- E) No âmbito da legislação concorrente, inexistindo lei federal sobre normas gerais, os Estados exercerão a competência legislativa plena, para atender a suas peculiaridades.

NOÇÕES DE DIREITO PENAL MILITAR

Questão 51

Segundo a aplicação da lei penal militar, pode-se afirmar:

- A) Considera-se praticado o crime no momento da ação ou omissão, ainda que outro seja o do resultado.
- B) A lei posterior que, de qualquer outro modo, favorece o agente, aplica-se retroativamente, exceto quando já tenha sobrevivido sentença condenatória irrecorrível.
- C) Para se reconhecer qual a mais favorável, a lei posterior e a anterior devem ser consideradas conjuntamente, cada qual no conjunto de suas normas aplicáveis ao fato.
- D) A pena cumprida no estrangeiro não atenua a pena imposta no Brasil pelo mesmo crime militar.
- E) Não há crime sem lei ou resolução anterior que o defina, nem pena sem prévia cominação legal.

Questão 52

Consideram-se crimes militares, em tempo de guerra:

- A) os crimes praticados por militar em situação de atividade ou assemelhado, contra militar na mesma situação ou assemelhado.
- B) os crimes praticados por militar em situação de atividade ou assemelhado, em lugar sujeito à administração militar, contra militar da reserva, ou reformado, ou assemelhado, ou civil.
- C) os crimes praticados por militar durante o período de manobras ou exercício, contra militar da reserva, ou reformado, ou assemelhado, ou civil.
- D) os crimes praticados por militar em situação de atividade, ou assemelhado, contra o patrimônio sob a administração militar, ou a ordem administrativa militar.
- E) os crimes definidos na lei penal comum ou especial, embora não previstos no Código Penal Militar, quando praticados em zona de efetivas operações militares ou em território estrangeiro, militarmente ocupado.

Questão 53

Caso o militar se ausente, sem licença, da unidade em que serve, ou do lugar em que deve permanecer, por mais de oito dias, este incorrerá na prática do crime de:

- A) omissão de oficial.
- B) abandono de posto.
- C) omissão de socorro.
- D) deserção.
- E) descumprimento de missão.

Questão 54

Caso o oficial deixe de restituir, por ocasião da passagem de função, ou quando lhe é exigido, objeto, plano, carta, cifra, código ou documento que lhe haja sido confiado, incorrerá na prática do crime de:

- A) omissão de eficiência da força.
- B) omissão de providências para evitar danos.
- C) descumprimento de missão.
- D) omissão de oficial.
- E) retenção indevida.

Questão 55

Qual o crime impropriamente militar que, comum em sua natureza, pode ser praticado por qualquer cidadão, civil ou militar, mas que, quando praticado por militar em certas condições, a lei considera militar?

- A) Abandono de posto
- B) Deserção
- C) Peculato
- D) Violência contra inferior
- E) Recusa de obediência

INFORMÁTICA

Questão 56

Um usuário do editor de textos MS Word 2010 que deseja criar um novo documento, utilizando o teclado, vai acessar as teclas de atalho:

- A) Ctrl + D
- B) Ctrl + O
- C) Ctrl + Z
- D) Shift + X
- E) Shift + F

Questão 57

São considerados dispositivos exclusivamente de entrada, em um computador, os periféricos:

- A) mouse e teclado.
- B) modem e teclado.
- C) impressoras e modem.
- D) gravador de CD/DVD e mouse.
- E) impressora e gravador de CD/DVD.

Questão 58

O comando do sistema operacional Linux utilizado para modificar as permissões de arquivos é o:

- A) chdir.
- B) chgrp.
- C) chmod.
- D) crypt.
- E) grep.

Questão 59

Quando um usuário utiliza, no sistema operacional MS Windows 8, as teclas de atalho Winkey + R, tem acesso direto à operação para:

- A) abrir o menu inicial.
- B) abrir a área de trabalho.
- C) digitar o nome de um programa a ser executado.
- D) mostrar o "aero bar" na área de trabalho ou na interface "metro".
- E) salvar a imagem da tela na pasta Capturas de Tela.

Questão 60

Considere a seguinte planilha do MS Excel 2010, em português:

LIC	C	D	E
3	Cidade	Quantidade de incêndios	Ano
4	Jordão	100	2014
5	Assis Brasil	200	2013
6	Feijó	120	2011

A execução, na célula F6, da fórmula:

$$=(\text{SOMASE}(\$E\$4:\$E\$6;"<2014";D4:D6))/\text{CONT.SE}(\$E\$4:\$E\$6;"<2014")$$

resultará no valor:

- A) 30.
- B) 100.
- C) 140.
- D) 160.
- E) 200.

Para responder as questões 61 a 65, faça a opção entre Inglês e Espanhol, assinalando a escolha no Cartão de Respostas.

INGLÊS

Questão 61

“Windsurfing is not a fashion, it's a lifestyle. Live to practice and practice to live”.

According to this motto, we could say that the habit of practicing sports brings:

- A) anxiety and paranoia.
- B) vanity and selfishness.
- C) discipline and pleasure.
- D) depression and shame.
- E) greed and irresponsibility.

Questão 62

Albinism is a genetic condition characterized by a deficit in the production in melanin and by the partial or complete absence of pigment in the skin, hair and eyes. According to The New York Times, albinos are being attacked, mutilated and murdered in Tanzania for the belief that their body parts can be turned into magic potions.

According to the text, albinos are being killed for:

- A) organ harvesting.
- B) political persecution.
- C) family vengeance.
- D) ethnic cleansing.
- E) religious intolerance.

Questão 63

The 2016 Summer Olympics starts on August 5, 2016 in Rio de Janeiro, Brazil and the city has undergone a rapid transformation. However, the waters where Olympians will compete have been considered a serious health risk for athletes.

The analysis of water quality revealed dangerous high levels of viruses and bacteria from sewage in venues where athletes will compete in water sports.

According to the statement, the risk discussed refers to:

- A) world population growth.
- B) host city's water pollution.
- C) brazilian educational system.
- D) unbearable levels of violence.
- E) environmentally friendly initiatives.

Questão 64

“No other country would give Syrians a visa, he recalls over a cup of Syrian coffee in the one-room apartment he shares with wife, two-year-old son and brother-in-law, in the Cambuci district of São Paulo. *We could have tried to get to Europe illegally by boat, but that was too dangerous for my family. So Brazil was the only safe choice.*”

According to the text, the total number of people who live in the one-room apartment in Cambuci is:

- A) one.
- B) two.
- C) three.
- D) four.
- E) five.

Questão 65

“The home is the inviolable refuge of the individual, and no one may enter therein without the consent of the dweller, except in the event of flagrante delicto or disaster, or to give help, or, during the day, by court order.”

As per the Constitution of the Federative Republic of Brazil, very few bodies are allowed to force entry into a private property. From the five alternatives given below, choose the one which indicate the body and the situation in which forced entry is permitted:

- A) The furniture delivery crew – to deliver a merchandise when the buyers are not home so they don't have to come back at another time.
- B) The police force – by court order authorization, during the night, to search a specified place for evidence even without the occupant's consent.
- C) The downstairs neighbor – to fix a water leakage that is damaging his apartment when the upstairs neighbor refuses to make the repairs.
- D) The landlord – to check if the current tenant is maintaining the apartment according to the condominium agreements and bylaws.
- E) The fire rescue service – responding to a report of smoke coming from a house where firefighters find two small fires and a man lying unconscious.

Ha muerto un niño. El cielo ha ganado un ángel

Presidente de Unión Romani
Juan de Dios Ramírez-Heredia

[...]

Cuando [...] he visto la fotografía de **Aylan Kurdi**, el pequeño niño sirio muerto por ahogamiento en la playa mediterránea de **Turquía**, he sentido en la garganta un nudo de aquellos que te impiden respirar con normalidad. Sabía, como lo sabemos todos, que esto está pasando. Que son miles de cuerpos los que están convirtiendo el fondo del Mediterraneo en un fosa infernal, como también sabemos que antes que Aylan Kurdi, muchos, muchísimos niños inocentes han perecido junto a sus padres al hundirse el barco de la muerte o la cáscara de nuez en la que les habían subido unos malditos traficantes sin alma de seres humanos. Lo sabíamos, pero no lo habíamos visto. Nos lo imaginábamos pero no habíamos recibido el puñetazo en pleno rostro que representa ver a este niño de tres añitos, tumbado en la arena de la playa turca. Hemos visto su foto pero no hemos visto la de su hermanito, **Galip**, de cinco años, ni la de su madre ahogados también en este episodio diabólico.

Y todo esto, ¿por qué sucede? La respuesta es tan sencilla como aterradora: sucede por causa del egoísmo de quienes lo tenemos todo y queremos protegerlo al precio que sea. Es evidente que no me refiero a usted, que es tan amable de leerme, pero usted y yo formamos parte de una sociedad egoísta que encuentra mil argumentos para justificar nuestra inoperancia diciéndonos a nosotros mismos: “¿Y qué vamos a hacer? Aquí no caben todos.”

Un día, cuando en el Parlamento Europeo los Gobiernos discutían si situar al ejército en el perímetro exterior de los países que integran la Unión Europea para impedir la entrada de los emigrantes, alguien con sobrada autoridad nos dijo: “Esa no es la solución porque el hambre tiene más fuerza”. Y llevaba razón. Estos datos hablan por sí solos:

Cada 30 segundos muere un niño a causa de la malaria. / 2.000 millones de personas carecen de los medicamentos esenciales. / Más de 1.800 millones de personas no tienen agua potable. / Más de mil millones de personas viven en la pobreza extrema. Sobreviven con un euro diario. El 70% son mujeres. / Y la mitad de la población mundial — este es un dato que me sorprendió grandemente cuando lo supe — nunca ha hecho una llamada telefónica.

Estas son las causas sangrantes que empujan a las poblaciones africanas y del Extremo Oriente a buscar un medio digno de subsistir. Y no es extraño que así sea cuando comprobamos que el 84% de la riqueza mundial está en manos del 20% de la población. Hace unos años los países ricos del planeta destinaron a la lucha contra la pobreza el

0,25% de su Producto Interior Bruto (PIB). Es decir, destinaron la décima parte del presupuesto que tenían destinado para sus políticas de Defensa, que era una millonada de dólares. Pues bien, solo con duplicar la ayuda a combatir la falta de alimentos se erradicaría por completo el hambre. Es decir, bastaría con pasar del 0,25% al 0,44%, lo que sería la quinta parte del presupuesto de defensa.

<http://www.nuevatribuna.es/>

Questão 61

Se puede expresar sentimientos a través del lenguaje. El autor expresa afecto y cariño a Aylan Kurdi por medio del:

- A) aumentativo.
- B) vocablo pequeño.
- C) pretérito perfecto compuesto.
- D) vocablo ángel.
- E) diminutivo.

Questão 62

El cuarto y el quinto párrafos del texto establecen una relación argumentativa de:

- A) causalidad.
- B) condición.
- C) alternancia.
- D) duda.
- E) exclusión.

Questão 63

“— este es un dato que me sorprendió grandemente cuando lo supe —”

En el fragmento, las rayas:

- A) enfatizan una información.
- B) contienen un dato.
- C) presentan un comentario.
- D) destacan una duda.
- E) enseñan una contradicción.

Questão 64

“**Es decir**, destinaron la décima parte del presupuesto que tenían destinado para sus políticas de Defensa, que era una millonada de dólares.”

En el fragmento, el conector subrayado introduce una:

- A) comparación.
- B) reformulación.
- C) causa.
- D) oposición.
- E) consecuencia.

Questão 65



<http://www.gaturro.com/>

“Ágatha le dio un pico a Gaturro”

El fragmento provoca sorpresa y espanto entre los personajes. En este contexto, “dar un pico” significa dar:

- A) una mano.
- B) un puñetazo.
- C) una patada.
- D) un beso.
- E) un abrazo.

ATUALIDADES

Questão 66

Assinale a alternativa que indica o rio que corta a cidade de Rio Branco, capital do estado.

- A) Envira
- B) Madeira
- C) Acre
- D) Juruá
- E) Branco

Questão 67

A história da ocupação e anexação pelo Brasil das terras, onde atualmente se localiza o estado do Acre, está diretamente associada a uma determinada atividade econômica. Essa atividade é:

- A) produção de borracha a partir das seringueiras.
- B) extração do gás natural das bacias sedimentares.
- C) exportação do chocolate a partir das fazendas de cacau.
- D) construção civil que atraiu milhares de trabalhadores.
- E) exploração do minério de ferro para as ferrovias da região.

Questão 68

O estado do Acre é caracterizado pelo clima equatorial, com temperaturas elevadas ao longo do ano e baixa amplitude térmica. Contudo, em determinados momentos, a temperatura pode cair significativamente e atingir 10°. Esse fenômeno é conhecido por friagem e ocorre com a influência da seguinte massa de ar:

- A) Setentrional amazônica.
- B) Tropical Continental.
- C) Temperada do Norte.
- D) Polar Atlântica.
- E) Meridional do leste.

Questão 69

A questão da segurança pública é temática central em diversos debates pelo Brasil, envolvendo os governos municipais, estaduais e federal. No Acre, o(a) atual Secretário(a) de Estado de Segurança Pública é:

- A) Nazareth Araújo.
- B) Emylson Farias da Silva.
- C) Maria da Conceição Maia de Oliveira.
- D) Marco Antônio Brandão Lopes.
- E) Shirley Maria Santos.

Questão 70

O debate sobre refugiados ganhou força nos últimos meses. No Brasil, o estado do Acre vem se consolidando como uma das portas de entrada de diversos refugiados. Entre as nacionalidades a seguir, a que predomina na entrada no Brasil pelo estado do Acre é a de:

- A) chilenos.
- B) tunisianos.
- C) mexicanos.
- D) palestinos.
- E) haitianos.

DISCURSIVA

Questão 01

Acerca dos direitos e garantias fundamentais presentes em inúmeros dispositivos da Constituição Federal de 1988, discorra sobre:

- A) Semelhanças e diferenças entre os direitos fundamentais e direitos humanos;
- B) Diferenças entre direitos e garantias fundamentais;
- C) Características gerais dos direitos fundamentais.

RASCUNHO