



CÂMARA MUNICIPAL DE DESCALVADO

ESTADO DE SÃO PAULO

CONCURSO PÚBLICO

001. PROVA OBJETIVA

CONTADOR

- ◆ Você recebeu sua folha de respostas e este caderno contendo 50 questões objetivas.
- ◆ Confira seus dados impressos na capa deste caderno e na folha de respostas.
- ◆ Quando for permitido abrir o caderno, verifique se está completo ou se apresenta imperfeições. Caso haja algum problema, informe ao fiscal da sala.
- ◆ Leia cuidadosamente todas as questões e escolha a resposta que você considera correta.
- ◆ Marque, na folha de respostas, com caneta de tinta azul ou preta, a letra correspondente à alternativa que você escolheu.
- ◆ A duração da prova é de 3 horas, já incluído o tempo para o preenchimento da folha de respostas.
- ◆ Só será permitida a saída definitiva da sala e do prédio após transcorridos 75% do tempo de duração da prova.
- ◆ Ao sair, você entregará ao fiscal a folha de respostas e este caderno, podendo levar apenas o rascunho de gabarito, localizado em sua carteira, para futura conferência.
- ◆ Até que você saia do prédio, todas as proibições e orientações continuam válidas.

AGUARDE A ORDEM DO FISCAL PARA ABRIR ESTE CADERNO DE QUESTÕES.

Nome do candidato _____

Prédio _____

Sala _____

Carteira _____

Inscrição _____

CONHECIMENTOS GERAIS

LÍNGUA PORTUGUESA

Leia o texto a seguir para responder às questões de números 01 a 07.

O potencial de consumo dos idosos

No Censo de 2010, a participação das pessoas com mais de 65 anos de idade atingiu 7,4%. Isso representa mais de 14 milhões de brasileiros.

Além de numeroso, esse grupo representa um grande potencial de vendas para o varejo e empresas em geral. Afinal, essas pessoas já passaram pelas maiores despesas da vida: educaram os filhos e construíram e mobiliaram a casa onde vivem. A renda agora é para alimentação, saúde e lazer e para continuar presenteando os familiares.

Como entender e atender esses consumidores? A pior coisa que uma empresa pode fazer é usar eufemismos como “melhor idade” para se comunicar com eles. “Melhor idade é quando eu tinha 20”, muitos vão dizer.

Mesmo assim, o estereótipo da velhinha de cabelos brancos usando bengala é absolutamente rejeitado por eles – e com toda a razão.

Hoje em dia, pessoas perto dos 70 anos não têm cara de velhinha de bengala, afinal foram culturalmente ativas e pioneiras: viram o homem pisar na Lua, viveram como hippies, passaram pelo regime militar, pela revolução sexual, da informática e da internet, entre tantas outras modificações.

Para elas, a idade é um estado de espírito, e não um número.

Entre os 20 e os 40 anos, as pessoas sentem-se imortais. O esforço pessoal é focado em ser alguém, em destacar-se. Acredita-se que é possível moldar o mundo às nossas necessidades.

Depois dos 40 anos, percebe-se que a realidade não é tão boa assim, e as pessoas iniciam uma busca por significado na vida, que se estende até seus últimos dias.

De maneira geral, até os 40, o foco é no “ser social”. Depois dessa idade, o foco passa a ser o “eu interior”.

Produtos e serviços que satisfaçam essa necessidade têm mais chances junto a esse público. Mas será que nossas lojas sabem atender esses consumidores?

Não, pois os consumidores mais velhos, apesar da mentalidade jovem, sentem desconforto em ambientes com excesso de estímulos, sua visão perde a capacidade de discernir cores (sem falar nas letras pequenas), sua agilidade para manusear objetos fica reduzida, além de sofrerem mais com as consequências da obesidade.

É patente que as lojas e os produtos não são desenhados para ajudá-los a superar essas dificuldades. No quesito atendimento, os mais velhos odeiam ser um número. Querem tratamento diferenciado, alguém treinado para ouvi-los e que os trate como indivíduos, coisas cada vez mais raras no varejo de hoje.

Além disso, não valorizam lojas, produtos e marcas pelo prestígio social que trazem. Querem algo autêntico, personalizado e, hoje, poucas marcas podem disputar esse lugar no mercado.

Em poucas palavras, o potencial dos consumidores mais velhos é grande, mas quase ninguém está preparado para atendê-los.

(Maurício Morgado. *Folha de S.Paulo*, 10.06.2012. Adaptado)

01. De acordo com a leitura do texto, é correto afirmar que

- (A) as lojas e as prestadoras de serviços vêm disponibilizando altas somas para adequar suas instalações às expectativas dos clientes idosos.
- (B) as pessoas com mais de 65 anos estão dispostas a consumir mais, embora parte significativa de seus rendimentos esteja comprometida com a formação dos filhos.
- (C) os idosos querem consumir diferentes produtos e serviços, mas os valores recebidos da aposentaria restringem sensivelmente os gastos dessas pessoas.
- (D) o mercado brasileiro está perdendo a oportunidade de aumentar os lucros, pois não tem conseguido atender adequadamente o público idoso.
- (E) as pessoas que já passaram dos 65 anos negam a imagem dos velhinhos de bengala, por isso preferem frequentar lojas direcionadas ao consumidor jovem.

02. Segundo o autor do texto,

- (A) dos 20 aos 40 anos, as pessoas acreditam na eternidade da vida e na impossibilidade de transformar a sociedade.
- (B) dos 20 aos 40 anos, as pessoas dedicam-se a cultivar a vida interior, já que o objetivo nessa fase é dar sentido à própria existência.
- (C) depois dos 40 anos, as pessoas são obrigadas a limitar suas atividades, pois não se adaptam às mudanças sociais que ocorrem com muita rapidez.
- (D) perto dos 70 anos, as pessoas veem a realidade com otimismo e querem se tornar indivíduos bem-sucedidos profissionalmente.
- (E) perto dos 70 anos, as pessoas definem a idade como um estado de espírito e refutam padrões tradicionalmente associados à velhice.

03. Assinale a alternativa em que os termos entre parênteses sejam, respectivamente, sinônimos dos termos destacados no trecho do texto.

- (A) A **renda** agora é para alimentação, saúde e lazer e para continuar **presenteando** os familiares. (pensão; sustentando)
- (B) ... sentem desconforto em ambientes com **excesso** de estímulos, sua visão perde a capacidade de **discernir** cores... (profusão; discriminar)
- (C) É **patente** que as lojas e os produtos não são **deseenhados** para ajudá-los a superar essas dificuldades. (questionável; projetados)
- (D) ... alguém **treinado** para ouvi-los e que os trate como indivíduos, coisas cada vez mais **raras** no varejo de hoje. (preparado; corriqueiras)
- (E) Querem algo autêntico, **personalizado** e, hoje, poucas marcas podem **disputar** esse lugar no mercado. (trivial; pleitear)

04. Assinale a alternativa que completa a frase com o trecho em que o sinal indicativo de crase foi empregado corretamente.

É necessário que as lojas se adaptem

- (A) à esse novo grupo de consumidores.
- (B) à uma parcela significativa dos idosos que está disposta a comprar.
- (C) à expectativa das pessoas mais velhas de verem seus direitos respeitados.
- (D) à todas as limitações físicas de que essas pessoas sejam portadoras.
- (E) à interesses de uma geração que já passou por várias transformações sociais.

05. Leia as frases.

Os profissionais _____ quem cabe a função de atender os idosos devem tratar esses clientes de maneira diferenciada.

Os rendimentos _____ que dispõem as pessoas mais velhas são gastos, sobretudo, com alimentação, saúde e lazer.

As agências de publicidade, _____ as quais as empresas contam para atrair consumidores idosos, devem estar cientes de que essas pessoas não querem ser vistas como um número.

De acordo com a norma-padrão da língua portuguesa, as preposições que preenchem, correta e respectivamente, as lacunas das frases são:

- (A) a – com – para
- (B) a – de – com
- (C) de – a – para
- (D) de – a – com
- (E) em – de – para

06. As pessoas que hoje estão na faixa dos 70 anos são culturalmente ativas e pioneiras, **visto que** participaram de fatos históricos marcantes, como a revolução sexual e da internet, **portanto, embora** tenham de lidar com algumas limitações físicas, para elas a idade está relacionada à vitalidade e não à passagem do tempo.

No trecho reescrito a partir das informações do texto, as conjunções destacadas estabelecem, respectivamente, as relações de

- (A) condição, causa e concessão.
- (B) causa, concessão e tempo.
- (C) causa, conclusão e concessão.
- (D) consequência, conclusão e finalidade.
- (E) consequência, causa e tempo.

07. Assinale a alternativa em que a concordância verbal e nominal está em conformidade com a norma-padrão da língua portuguesa.

- (A) Contestadores, alguns desses idosos foram hippies e se opuseram a guerras, como a do Vietnã, e a regimes ditatoriais.
- (B) Segundo dados do Censo realizado em 2010, existe 14 milhões de brasileiros com mais de 65 anos.
- (C) Essas pessoas já conquistaram certa estabilidade e dispõe de casa própria e do conforto necessário.
- (D) A população mundial está envelhecendo, por isso é preciso reformular conceitos a fim de que jovens e idosos tenham convivência harmoniosas.
- (E) Compreender esses consumidores é saber se comunicar com pessoas que, apesar da idade, não se sentem excluída da sociedade.

Para responder às questões de números 08 a 10, leia a charge, supondo que as personagens retratadas sejam pai e filha.

“- E eles viveram livres de dívidas para sempre...”



(Folha de S.Paulo, 27.08.2015)

08. Analisando a charge, é correto concluir que contribui para dar humor à cena o fato de

- (A) o pai estar lendo histórias para a filha, quando é a mãe que habitualmente realiza essa tarefa.
- (B) a narrativa tratar de tesouros e de reinos distantes, o que é inusitado em histórias para crianças.
- (C) a filha estar desatenta, enquanto o pai se empenha em narrar os acontecimentos.
- (D) as personagens do conto encontrarem a felicidade graças ao amor que as une.
- (E) a história contada pelo pai à filha apresentar um desfecho que foge ao clichê.

09. Na frase que finaliza a história infantil, a forma verbal **viveram** indica ação

- (A) iniciada no passado, mas a ser concluída no presente, como em: A autora autografaria seu novo livro de contos de fadas.
- (B) iniciada no passado, mas a ser concluída no presente, como em: A autora autografara seu novo livro de contos de fadas.
- (C) realizada habitualmente, como em: A autora autografava seu novo livro de contos de fadas.
- (D) concluída no passado, como em: A autora autografou seu novo livro de contos de fadas.
- (E) concluída no passado, como em: A autora autografa seu novo livro de contos de fadas.

10. Leia a frase a seguir.

Os pais, contando histórias para os filhos, despertam nas crianças o prazer pela leitura.

Considerando que, nas alternativas a seguir, o pronome está substituindo apenas uma das expressões grifadas na frase, é correto afirmar que ele está empregado corretamente, mantendo-se o sentido da frase, em:

- (A) Os pais, contando-lhes para os filhos, despertam nas crianças o prazer pela leitura.
- (B) Os pais, contando-lhes histórias, despertam nas crianças o prazer pela leitura.
- (C) Os pais, contando-se histórias, despertam nas crianças o prazer pela leitura.
- (D) Os pais, contando histórias para os filhos, despertam-lhe nas crianças.
- (E) Os pais, contando histórias para os filhos, despertam-se o prazer pela leitura.

11. Uma empresa tabulou o número de defeitos apresentados por cada uma de suas máquinas durante o mês de setembro.

Setembro	
Número de defeitos	% de máquinas
0	65%
1	15%
2	7,5%
3	5%
4	2,5%
5 ou mais	5%

Sabendo que, no mês de setembro, 88 máquinas apresentaram 2 ou mais defeitos, o número de máquinas, nesse mês, que não apresentaram defeito foi igual a

- (A) 247.
- (B) 260.
- (C) 273.
- (D) 286.
- (E) 299.

12. A razão entre o número de meninos e meninas que estudam em uma escola é igual a 0,75. Sendo o total de estudantes dessa escola igual a 315, o número de meninas excede o número de meninos em

- (A) 30.
- (B) 35.
- (C) 40.
- (D) 45.
- (E) 50.

13. Um museu tem 3 seguranças para cuidar de 10 instalações. Um dos seguranças deve ficar em cada instalação por 2 minutos; outro, por 6 minutos; e o terceiro, por 10 minutos. A ronda começa na primeira instalação, passa para a segunda e assim por diante até a décima. Após ficar o tempo determinado na décima instalação, o segurança volta para a primeira e reinicia a ronda. Considerando-se desprezível o tempo de passar de uma instalação para a outra e que esses 3 seguranças encontraram-se na primeira instalação às 9h para iniciar uma ronda, o próximo horário em que os três entrarão em uma mesma instalação, ao mesmo tempo, será às
- (A) 9h 30min.
 - (B) 10h.
 - (C) 10h 30min.
 - (D) 11h.
 - (E) 11h 30min.
14. Augusto planeja juntar dinheiro para comprar um videogame. No mês de janeiro, guardou o triplo do que conseguiu guardar em março e, no mês de fevereiro, guardou a nona parte do que conseguiu guardar em janeiro. Em abril, Augusto não juntou nada e ainda precisou gastar R\$ 250,00 do dinheiro que havia guardado. Em maio, ele guardou a metade do que guardou em janeiro, conseguindo assim os R\$ 2.200,00 de que precisava. O dinheiro economizado em março representa, do valor total do videogame, aproximadamente
- (A) 10%.
 - (B) 15%.
 - (C) 20%.
 - (D) 25%.
 - (E) 30%.
15. Uma oficina especializada em bicicletas treina seus funcionários para que, por hora, cada um repare 10 pneus furados ou para que, a cada duas horas, faça a revisão completa em 3 bicicletas. Um mesmo funcionário pode, no mesmo dia, fazer revisões completas e reparos em pneus. Se essa oficina estima que, a cada 8 horas, irá reparar 100 pneus e fazer revisões completas em 105 bicicletas, deverá contar com um número de funcionários, no mínimo, igual a
- (A) 9.
 - (B) 10.
 - (C) 11.
 - (D) 12.
 - (E) 13.
16. João lançou 12 vezes um dado de 12 faces numeradas de 1 a 12, cada face com um número. A média aritmética simples dos números obtidos é igual a 9, o que permite concluir que, por pelo menos
- (A) 9 vezes, saiu um número maior que 9.
 - (B) 8 vezes, saiu um número maior que 4.
 - (C) 3 vezes, saiu o número 12.
 - (D) 3 vezes, saiu o número 3.
 - (E) 1 vez, saiu um número menor que 6.

17. Seja x o menor de todos os números de 5 algarismos maiores que 87777 que tenham 4 algarismos iguais, a soma dos algarismos do número que resulta da operação $x - 87777$ é igual a
- (A) 3.
(B) 5.
(C) 8.
(D) 11.
(E) 16.
18. Uma sala retangular tem um comprimento que é o triplo de sua largura. Em um dos cantos dessa sala, será construído um escritório com $16,2 \text{ m}^2$ de área, que equivale a 15% da área da sala. O perímetro dessa sala, em metros, é igual a
- (A) 36.
(B) 39.
(C) 42.
(D) 45.
(E) 48.
19. Dois reservatórios A e B têm a forma de um paralelepípedo, com bases quadradas de arestas internas iguais a 2 m e 3 m, respectivamente. Inicialmente o reservatório A tem 3,25 m a mais de altura de coluna de água do que o reservatório B. Para que os dois reservatórios fiquem com a mesma altura de coluna de água, deve ser passado do reservatório A para o reservatório B um volume de água, em litros, igual a
- (A) 9000.
(B) 7750.
(C) 6500.
(D) 4000.
(E) 3250.
20. Uma cooperativa de lavradores recebeu uma certa quantia em dinheiro para a realização de um serviço. Foram designados n trabalhadores para o serviço, que dividiram igualmente entre si todo o dinheiro recebido. Caso 3 trabalhadores a mais tivessem sido designados para o serviço, o valor pago por trabalhador teria sido R\$ 66,00 a menos. Caso 2 trabalhadores a menos tivessem sido designados, o valor por trabalhador seria R\$ 66,00 a mais. O número n de trabalhadores designados para o serviço foi
- (A) 9.
(B) 11.
(C) 12.
(D) 14.
(E) 15.

LEGISLAÇÃO

21. São princípios da organização do Município de Descalvado, dentre outros,

- (A) a moralidade, a legalidade, a impessoalidade, a publicidade, a motivação, a proporcionalidade, a razoabilidade e a eficiência.
- (B) a soberania do Prefeito e do Presidente da Câmara Municipal.
- (C) o sigilo e o controle interno dos atos de governo.
- (D) a garantia do acesso, a todos os munícipes, de modo prioritário e individualizado aos bens e serviços.
- (E) o tratamento diferenciado a todo cidadão que se instale no Município em busca de oportunidade.

22. Segundo a Lei Orgânica do Município de Descalvado, fomentar a produção agropecuária e organizar o abastecimento alimentar, promover programas de construção de moradias e a melhoria das condições habitacionais e de saneamento básico, são competências

- (A) exclusivas do Município de Descalvado.
- (B) privativas da União.
- (C) concorrentes entre a União e os Estados.
- (D) concorrentes entre a União, os Estados, o Distrito Federal e o Município de Descalvado.
- (E) comuns entre a União, os Estados, o Distrito Federal e o Município de Descalvado.

23. As contas do Município ficarão à disposição dos contribuintes

- (A) durante trinta dias, a partir de dez de março de cada exercício.
- (B) que poderão consultá-las em horário pré-determinado pelo Presidente da Câmara Municipal.
- (C) durante sessenta dias, a partir de quinze de abril de cada exercício, no horário de funcionamento da Câmara, em local de fácil acesso ao público.
- (D) sendo necessário requerimento do contribuinte, autorizado ou despachado pelo Prefeito, para consulta às contas públicas.
- (E) e a consulta às contas públicas poderá ser feita no recinto da Câmara, onde deverão constar mais de seis cópias à disposição do público.

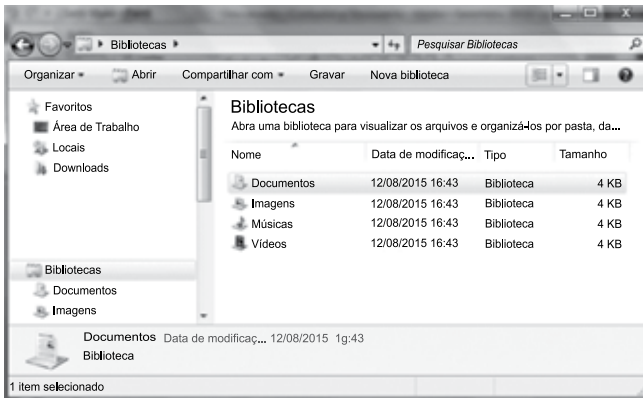
24. Com vistas ao que dispõe a Lei Orgânica do Município de Descalvado, em relação ao Processo Legislativo, assinale a alternativa correta.

- (A) A Lei Orgânica poderá ser emendada mediante proposta de, no máximo, 1/3 (um terço) dos membros da Câmara Municipal.
- (B) A Lei Orgânica não poderá ser emendada na vigência de intervenção estadual no Município de Descalvado, de estado de defesa ou de estado de sítio.
- (C) As leis ordinárias exigem, para sua aprovação, o voto favorável da maioria absoluta dos membros da Câmara Municipal presentes à sessão.
- (D) Os projetos de decreto legislativo e de resolução, aprovados pelo Plenário, em duas votações, dependem da sanção do Prefeito.
- (E) Compete privativamente ao Presidente da Câmara Municipal a iniciativa de lei que disponha sobre o regime jurídico, provimento de cargos, estabilidade e aposentadoria dos servidores municipais.

25. O controle externo da Câmara Municipal será exercido com o auxílio do Tribunal de Contas do Estado, que emitirá parecer prévio sobre as contas que o Prefeito Municipal de Descalvado deve prestar,

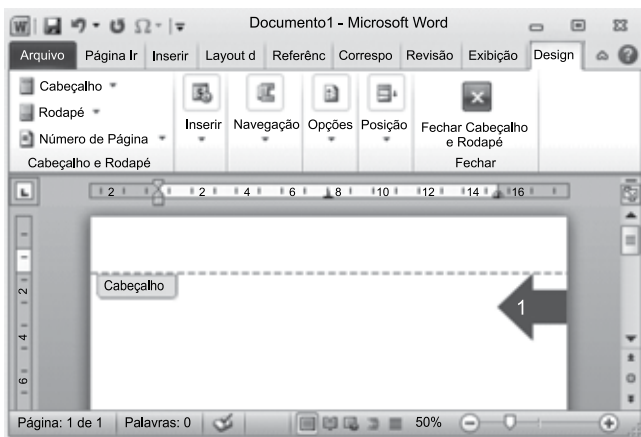
- (A) mensalmente, devendo o parecer prevalecer por decisão de um terço dos Membros da Câmara Municipal.
- (B) semestralmente, devendo o parecer prevalecer por decisão de dois terços dos Membros da Câmara Municipal.
- (C) anualmente, devendo o parecer prevalecer por decisão de um terço dos Membros da Câmara Municipal, cujo julgamento não deverá garantir ao Prefeito Municipal a ampla defesa.
- (D) anualmente, e só deixará de prevalecer o parecer prévio por decisão de dois terços dos Membros da Câmara Municipal, cujo julgamento deverá garantir ao Prefeito Municipal o contraditório e a ampla defesa.
- (E) semestralmente, e só deixará de prevalecer o parecer prévio por decisão da maioria absoluta dos Membros da Câmara Municipal, cujo julgamento deverá garantir ao Prefeito Municipal o contraditório e a ampla defesa.

26. Observe a janela do Windows Explorer do MS-Windows 7, instalado em sua configuração original, apresentada parcialmente na figura a seguir.



Assinale a alternativa que contém o modo de exibição aplicado na janela.


- (A) Conteúdo com painel de visualização.
 (B) Lista com painel de visualização.
 (C) Lista sem painel de visualização.
 (D) Detalhes com painel de visualização.
 (E) Detalhes sem painel de visualização.
27. Considere o documento do MS-Word 2010, em sua configuração original, apresentado na figura seguinte.



A numeração foi aplicada no cabeçalho do documento ao se clicar em **Número de Página** e escolher a opção

- (A) Início de Página.
 (B) Margens da Página.
 (C) Seção da Página.
 (D) Tabulação da Página.
 (E) Fim da Página.

28. Observe uma das bibliotecas do MS-Word 2010, em sua configuração padrão, apresentada parcialmente na figura a seguir.



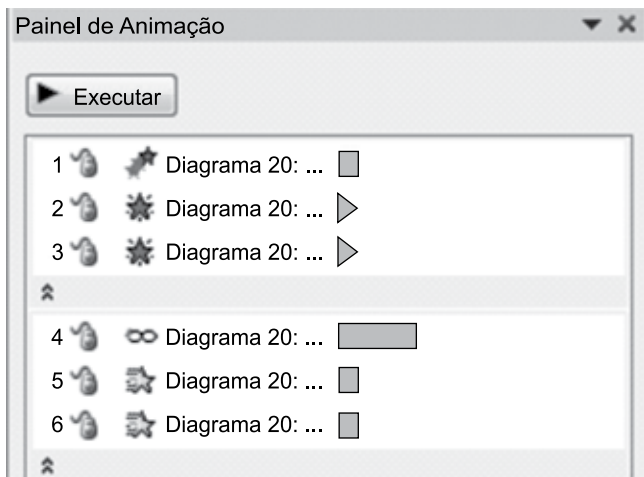
Essas opções estão disponíveis ao se clicar no seguinte botão do grupo Parágrafo, da guia Página Inicial:

- (A)
 (B)
 (C)
 (D)
 (E)

29. No MS-Excel 2010, em sua configuração original, para imprimir uma planilha de forma a ajustá-la em uma única página, é necessário que seja utilizada a seguinte opção do grupo Configurações da janela Imprimir, da guia Arquivo:

- (A)
 (B)
 (C)
 (D)
 (E)

30. A seguir, observe o painel de animação de uma apresentação do MS-PowerPoint 2010, em sua configuração original:



Dentre as animações apresentadas no painel, numeradas de 1 a 6, assinale a alternativa que contém aquela que contém o efeito de trajetória.

- (A) 1.
 (B) 3.
 (C) 4.
 (D) 5.
 (E) 6.

CONHECIMENTOS ESPECÍFICOS

31. Conforme resolução do CFC nº 1.282/10, que traz à luz os Princípios de Contabilidade, o Registro pelo Valor Original determina que os componentes do patrimônio devem ser inicialmente registrados pelos valores originais das transações, expressos em moeda nacional. Dessa forma, os efeitos da alteração do poder aquisitivo da moeda nacional devem ser reconhecidos nos registros contábeis mediante o ajustamento da expressão formal dos valores dos componentes patrimoniais.

O texto trata sobre

- (A) Valor justo.
 (B) Valor presente.
 (C) Atualização monetária.
 (D) Custo corrente.
 (E) Correção monetária.

32. O Comitê de Pronunciamentos Contábeis determina que as demonstrações contábeis retratem os efeitos patrimoniais e financeiros das transações e outros eventos, por meio do grupamento dos mesmos em classes amplas de acordo com as suas características econômicas. Essas classes amplas são denominadas de elementos das demonstrações contábeis.

Os elementos diretamente relacionados com a mensuração da posição patrimonial e financeira são os ativos, os passivos e o patrimônio líquido; dessa forma, um recurso controlado pela entidade como resultado de eventos passados e do qual se espera que fluam futuros benefícios econômicos para a entidade é definido como

- (A) Passivo.
 (B) Capital intelectual.
 (C) Bens a apropriar.
 (D) Patrimônio Líquido.
 (E) Ativo.

33. No mês de agosto de 2014, a indústria alimentícia Alhópolis Ltda, obteve os seguintes custos e despesas, apresentados nesta tabela:

Salários do mês	Valores em (R\$)
Mão de Obra Direta – Produtivo	140.000,00
Mão de Obra Indireta – Produtivo	54.500,00
Comercial	39.200,00
Administrativo e Financeiro	64.400,00
Benefícios a funcionários	
Mão de Obra Direta – Produtivo	4.900,00
Mão de Obra Indireta – Produtivo	1.900,00
Comercial	1.372,00
Administrativo e Financeiro	2.254,00
Previdência e FGTS	
Mão de Obra Direta – Produtivo	50.100,00
Mão de Obra Indireta – Produtivo	19.500,00
Comercial	14.030,00
Administrativo e Financeiro	23.050,00

Informações adicionais:

Os gastos gerais de fabricação totalizaram R\$ 140.000,00;

O valor do aluguel mensal da fábrica é de R\$ 29.100,00;

As unidades produzidas no mês totalizaram 4.000.

Com base nos dados apresentados, o custo de cada unidade produzida no mês correspondeu a R\$

- (A) 67,72.
 (B) 110,00.
 (C) 111,08.
 (D) 138,80.
 (E) 146,08.

34. A empresa de publicidade Public on line Ltda. pagou, no mês de março, o aluguel de sua sede no valor de R\$ 20.000,00, já provisionado, com 35 dias de atraso. A multa e os juros, conforme contrato, correspondem a R\$ 3.450,00. O lançamento contábil refletirá no balanço patrimonial:

- (A) redução do ativo, redução do passivo e redução do patrimônio líquido.
- (B) aumento do ativo e aumento do passivo.
- (C) aumento do ativo e redução do passivo, apenas.
- (D) redução do ativo, redução do passivo e aumento do patrimônio líquido.
- (E) aumento do ativo, redução do passivo e redução do patrimônio líquido.

35. O Princípio da Competência determina que os efeitos das transações e outros eventos sejam reconhecidos nos períodos a que se referem, independentemente do recebimento ou pagamento; adicionalmente, o artigo 179 da Lei das Sociedades por Ações refere-se a “aplicações de recursos em despesas do exercício seguinte” que, normalmente, não serão recebidas em dinheiro nem representam bem fisicamente existente. Dessa forma, as contas classificadas no Ativo Circulante no grupo de Despesas Antecipadas são:

- (A) despesas de prêmios de seguros, assinaturas e anuidades a apropriar, comissões e prêmios pagos antecipadamente, caução de aluguéis.
- (B) despesas de prêmios de seguros, assinaturas e anuidades mensais, comissões e prêmios pagos sobre vendas, caução de aluguéis.
- (C) prêmios de seguros a apropriar, assinaturas de jornais e revistas, comissões e prêmios pagos sobre vendas, caução de aluguéis e ativos especiais.
- (D) prêmios de seguros a apropriar, assinaturas e anuidades a apropriar, comissões e prêmios pagos antecipadamente, aluguéis pagos antecipadamente.
- (E) prêmios de seguros a vencer, assinaturas de jornais e revistas, comissões e prêmios sobre *royalties*, caução de aluguéis e ativos especiais.

36. Uma empresa comercial apresenta os seguintes dados extraídos de sua contabilidade:

Contas	Valores (R\$)
Caixa e Equivalentes de Caixa	140.000,00
Capital	85.000,00
Clientes	174.000,00
Compras de Mercadorias no mês	960.000,00
Contas a Receber	180.000,00
Depreciação Acumulada de Veículos	50.000,00
Despesas Administrativas	270.000,00
Despesas Financeiras	75.000,00
Despesas Antecipadas	18.000,00
Estoque Inicial de Mercadorias	260.000,00
Receitas de Vendas de Mercadorias	1.300.000,00
Veículos	100.000,00
Receitas Financeiras	25.000,00

Informações adicionais: O estoque final é de R\$ 380.000,00.

Conforme as informações apresentadas, assinale a alternativa que identifica o resultado do período.

- (A) Lucro de R\$ 90.000,00.
- (B) Lucro de R\$ 140.000,00.
- (C) Prejuízo de R\$ 240.000,00.
- (D) Lucro de R\$ 400.000,00.
- (E) Lucro de R\$ 980.000,00.

37. Uma empresa adquiriu, no dia 02 de fevereiro de 2014, um veículo cuja vida útil foi estimada em cinco anos. A contabilização correspondeu a R\$ 85.000,00. Ao final de sua vida útil estimada, o valor de realização corresponderá a R\$ 25.000,00. O método utilizado para o cálculo da depreciação é o linear. Não existem modificações no veículo, na vida útil e tampouco no valor de realização. No final de 2014, o valor líquido do veículo será correspondente a R\$

- (A) 25.000,00.
- (B) 60.000,00.
- (C) 68.000,00.
- (D) 73.000,00.
- (E) 74.000,00.

Considere a demonstração financeira a seguir, para responder às questões de números 38 a 41.

Balço patrimonial findo em 31/12/2014			
Ativo Circulante		Passivo Circulante	
Caixa e equivalentes de caixa	152.500,00	Fornecedores	178.000,00
Aplicações financeiras	290.000,00	Salários a pagar	146.000,00
Contas a receber	300.000,00	Encargos trabalhistas	49.000,00
Provisão para devedores de liquidação duvidosa	(18.000,00)	Provisão de férias e 13º Salário	65.325,00
Duplicatas descontadas	(100.000,00)	Empréstimos bancários	42.600,00
Estoques de mercadorias	280.000,00	IRPJ E CSLL a recolher	83.719,50
Adiantamentos diversos	21.150,00	Impostos e contribuições a recolher	337.375,00
Impostos a Recuperar	282.350,00	Aluguéis a pagar	31.600,00
Despesas Antecipadas	12.000,00	Contas a pagar	66.380,50
Total dos ativos circulantes	1.220.000,00	Total dos passivos circulantes	1.000.000,00
Ativo não circulante		Passivo não circulante	
Contas a Receber de LP	134.000,00	Contingências tributárias	113.875,00
Imposto a Recuperar	102.000,00	Contingências trabalhistas	72.250,00
Depósitos Judiciais	45.000,00	Empréstimos e financiamentos LP	105.000,00
		Total dos passivos não circulantes	291.125,00
Investimentos	59.500,00	Capital	400.000,00
Ativo Imobilizado	382.500,00	Reserva de capital	21.944,50
Depreciação / Amortização acumuladas	(76.500,00)	Reserva Legal	20.000,00
Ativos intangíveis	102.000,00	Lucro líquido do exercício	235.430,50
Total dos ativos não circulantes	748.500,00	Total do patrimônio líquido	677.375,00
Total dos ativos	1.968.500,00	Total dos passivos	1.968.500,00

Demonstração do Resultado do Exercício findo em 31/12/2014	
Receita de vendas	1.550.000,00
Impostos e Contribuições sobre vendas	(422.375,00)
Devoluções de vendas	(37.325,00)
Receita Líquida de vendas	1.090.300,00
Custos de Mercadorias Vendidas	(496.000,00)
Lucro Bruto	594.300,00
Despesas operacionais	
Despesas Comerciais	(62.000,00)
Despesas Administrativas	(93.000,00)
Despesas Financeiras, líquidas	(23.250,00)
Despesas com Depreciação	(76.500,00)
Despesas com Amortização	(20.400,00)
Outras despesas operacionais	(7.750,00)
Lucro antes do Imposto de Renda e da Contribuição Social	319.150,00
Imposto de renda	(54.996,00)
Contribuição social	(28.723,50)
Lucro líquido do exercício	235.430,50

Para as questões de números **38** e **39**, utilize apenas duas casas decimais após a vírgula.

38. O índice de Liquidez Corrente é de

- (A) 0,82.
- (B) 1,16.
- (C) 1,22.
- (D) 1,26.
- (E) 1,66.

39. O índice de Liquidez Seca é de

- (A) 0,84.
- (B) 0,94.
- (C) 0,98.
- (D) 1,28.
- (E) 1,46.

Para as questões de números **40** e **41**, utilize o critério de arredondamento e utilize duas casas decimais após a vírgula.

40. O índice que reflete a Composição do Endividamento corresponde a

- (A) 25%.
- (B) 52%.
- (C) 68%.
- (D) 77%.
- (E) 145%.

41. A Margem Líquida corresponde a

- (A) 15%.
- (B) 19%.
- (C) 22%.
- (D) 29%.
- (E) 32%.

Considere as informações a seguir para responder às questões de números **42** e **43**.

Uma empresa prestadora de serviços, tributada pelo lucro presumido e pelo regime cumulativo, auferiu, no segundo trimestre de 2015, as seguintes receitas operacionais:

Período	Valores em (R\$)
Abril	1.370.000,00
Maiο	1.210.000,00
Junho	920.000,00

42. Os tributos indiretos, correspondentes ao mês de abril, referentes ao Pis e à Cofins sobre as receitas operacionais são, respectivamente, de

- (A) R\$ 7.865,00 e R\$ 27.200,00.
- (B) R\$ 7.865,00 e R\$ 36.300,00.
- (C) R\$ 8.905,00 e R\$ 27.200,00.
- (D) R\$ 8.905,00 e R\$ 41.100,00.
- (E) R\$ 22.750,00 e R\$ 105.000,00.

43. A Contribuição Social (CSLL), o Imposto de Renda e o Adicional de Imposto de Renda, referentes ao período apresentado, correspondem, respectivamente, a

- (A) R\$ 26.496,00; R\$ 44.600,00 e R\$ 27.440,00.
- (B) R\$ 34.848,00; R\$ 58.080,00 e R\$ 36.720,00.
- (C) R\$ 39.456,00; R\$ 65.760,00 e R\$ 41.840,00.
- (D) R\$ 74.304,00; R\$ 123.840,00 e R\$ 76.560,00.
- (E) R\$ 100.800,00; R\$ 168.000,00 e R\$ 106.000,00.

44. A norma brasileira de contabilidade aplicada ao setor público, NBC T 16.8, determina que procedimentos de controle são medidas e ações estabelecidas para prevenir ou detectar os riscos inerentes ou potenciais à tempestividade, à fidedignidade e à precisão da informação contábil, classificando-se em

- (A) procedimentos de prevenção e de detecção.
- (B) monitoramento e controle de fraudes.
- (C) monitoramento e prevenção de fraudes.
- (D) procedimentos de riscos e de controle.
- (E) mapeamento de riscos e identificação de eventos.

45. De acordo com a Lei nº 4.320/64, a receita tributária pertence à categoria econômica das receitas

- (A) correntes.
- (B) de capital.
- (C) operacionais.
- (D) financeiras.
- (E) não operacionais.

46. Em conformidade com a Lei nº 8.666/93, as obras e os serviços poderão ser executados nas seguintes formas:
- (A) execução direta ou indireta, em conformidade com o edital.
 - (B) execução direta; execução indireta, nos seguintes regimes: empreitada por preço global, empreitada por preço unitário, tarefa, empreitada integral.
 - (C) empreitada pelo menor preço integral e empreitada global.
 - (D) execução de estudos técnicos e planejamento estruturado.
 - (E) execução direta de planejamento estruturado e de projetos técnicos.
47. De acordo com a Lei nº 10.520/02, a fase preparatória do pregão observará que a definição do objeto – vedadas especificações que, por excessivas, irrelevantes ou desnecessárias, limitem a competição – deverá ser suficiente, clara, e
- (A) robusta.
 - (B) publicada.
 - (C) garantida.
 - (D) precisa.
 - (E) competitiva.
48. As dotações para despesas às quais não corresponda contraprestação direta em bens ou serviços, inclusive para contribuições e subvenções destinadas a atender à manifestação de outras entidades de direito público ou privado, são classificadas como
- (A) superveniências ativas.
 - (B) insubsistências passivas.
 - (C) transferências correntes.
 - (D) insubsistências ativas.
 - (E) subvenções econômicas.
49. Em conformidade com o artigo 4º da Lei Complementar nº 101/00, a Lei de Diretrizes Orçamentárias – LDO atenderá a Constituição Federal e disporá sobre: o equilíbrio entre receitas e despesas; critérios e forma de limitação de empenho, a ser efetivada nas hipóteses previstas nos artigos 9º e 31 dessa LC; normas relativas ao controle de custos e à avaliação dos resultados dos programas financiados com recursos dos orçamentos; e também sobre
- (A) demais condições e exigências para transferências de recursos a entidades públicas e privadas.
 - (B) avaliação do cumprimento das metas relativas ao ano anterior.
 - (C) demonstrativo das metas anuais, instruído com memória e metodologia de cálculo que justifiquem os resultados pretendidos, comparando-as com as fixadas nos três exercícios anteriores e evidenciando a consistência delas com as premissas e os objetivos da política econômica nacional.
 - (D) evolução do patrimônio líquido, também nos últimos três exercícios, destacando a origem e a aplicação dos recursos obtidos com a alienação de ativos.
 - (E) avaliação da situação financeira e atuarial.
50. A Lei Complementar nº 101/00 estabelece que as contas apresentadas pelo Chefe do Poder Executivo ficarão disponíveis, para consulta e apreciação dos cidadãos e instituições da sociedade, durante todo o exercício,
- (A) no Senado e no órgão técnico para consulta e audiência pública.
 - (B) na Câmara dos deputados para consulta e apreciação pela sociedade.
 - (C) no Congresso Nacional para consulta e apreciação pela sociedade.
 - (D) no respectivo Poder Judiciário para consulta e apreciação pela sociedade.
 - (E) no respectivo Poder Legislativo e no órgão técnico responsável pela sua elaboração.

