

# CONTADOR

Escreva seu nome e número de inscrição de forma legível nos locais indicados:

Nome do(a) Candidato(a)

Nº de inscrição

Este caderno de questões está assim constituído:

DISCIPLINAS	Nº QUESTÕES
Português	10
Matemática	10
Informática	05
Legislação, Conhecimentos Gerais e Específicos	15
<b>Total de questões</b>	<b>40</b>

## INSTRUÇÕES:

- Confira devidamente o material (CARTÃO DE RESPOSTAS e CADERNO DE QUESTÕES); se houver falha, solicite a substituição ao fiscal.
- Após conferir seus dados no cartão de respostas (NOME, Nº da INSCRIÇÃO e CARGO), assine no local indicado.
- O CARTÃO DE RESPOSTAS é o único documento de correção, devendo ser preenchido com bastante atenção, à caneta esferográfica, azul ou preta, ponta grossa, marcando uma única alternativa em cada questão.
- Verifique no cartão de respostas as instruções para preenchimento. Não rasure, não amasse nem dobre o CARTÃO DE RESPOSTAS; evite usar borracha. É vedada a substituição do CARTÃO DE RESPOSTAS decorrente de erro cometido por candidato.
- Se o CARTÃO DE RESPOSTAS contiver maior número de alternativas e/ou de questões, preencha apenas as correspondentes à sua prova; as demais ficam em branco.
- Durante a realização da prova, não é permitida a comunicação entre candidatos nem a utilização de máquina calculadora e/ou similares, livros, anotações, réguas de cálculo, impressos ou qualquer outro material de consulta.
- O tempo de duração da prova objetiva será de **até 3 horas**. O candidato somente poderá retirar-se definitivamente do recinto de realização da prova após uma hora contada do seu efetivo início, podendo levar o seu caderno de provas.
- Ao final dos trabalhos, **DEVOLVA** ao Fiscal da sala o CARTÃO DE RESPOSTAS devidamente preenchido e assinado.
- Os três últimos candidatos de cada sala de prova deverão permanecer no recinto, a fim de acompanhar os fiscais até a coordenação para o lacre dos envelopes, quando, então, poderão retirar-se do local, simultaneamente, após concluído.
- Direitos autorais reservados à Objetiva Concursos Ltda. Proibida a reprodução, ainda que parcial, sem autorização prévia.

## PORTUGUÊS

Em oito meses, esgotamos todos os recursos que a Terra é capaz de oferecer de forma sustentável no período de um ano, desde \_\_\_ filtragem de gás carbônico (CO<sub>2</sub>) da atmosfera até \_\_\_ produção de matérias-primas para a alimentação.

A conta é do Global Footprint Network (GFN), uma organização de pesquisa que mede a pegada ecológica do homem no planeta. Até o fim de 2015, teremos consumido mais de um planeta Terra e meio.

A diferença entre a capacidade de regeneração do planeta e o consumo humano gera um saldo ecológico negativo que vem se acumulando desde a década de 80, também estimulado pelo crescimento populacional – já somos 7 bilhões de habitantes no mundo e, até o final do século, seremos 11 bilhões.

Entramos “no vermelho” cada vez mais cedo. Vinte anos atrás, o “Dia da Sobrecarga da Terra” acontecia em 10 de outubro. Mas, em 1975, ocorreu em 28 de novembro. Hoje, em 13 de agosto.

Se continuarmos no ritmo atual, prevê o GFN, vamos consumir o equivalente a dois planetas até 2030, antecipando ainda mais o “Dia da Sobrecarga”, para junho.

À medida que aumenta nosso consumo, cresce a nossa dívida ecológica. Em termos planetários, os resultados dos juros que pagamos se tornam mais claros a cada dia.

Eles se traduzem na perda de bens e serviços ambientais, desequilíbrio climático, na redução de florestas, perda de biodiversidade, colapso de recursos pesqueiros, escassez de alimentos, redução da produtividade do solo e acúmulo de gás carbônico na atmosfera. Este último é uma preocupação constante por conta das mudanças climáticas.

Atualmente, mais de 80% da população mundial vive em países que usam mais do que seus próprios ecossistemas podem renovar. Esses países “devedores ecológicos” ou esgotam de uma vez seus próprios recursos ecológicos ou os obtêm de outro lugar.

Residentes do Japão, por exemplo, consomem recursos de 7,1 “Japões”. São necessárias quatro “Itálias” para abastecer a Itália. Já o Egito usa os recursos ecológicos de 2,4 “Egitos”.

Claro que nem todos os países exigem mais do que seus ecossistemas podem fornecer, mas até mesmo os chamados “credores ecológicos”, como o Brasil, a Indonésia e a Suécia, estão diminuindo ao longo do tempo.

A mensagem é clara. Está cada vez mais difícil – e perigoso – sustentar um déficit orçamentário crescente entre o que a natureza é capaz de fornecer e o quanto nossa infraestrutura, economia e estilos de vida exigem. É hora de organizar as contas e rever os gastos.

<http://planetasustentavel.abril.com.br/noticias/...> - adaptado

1) Assinalar a alternativa que preenche as lacunas do texto CORRETAMENTE:

- a) à - a
- b) a - a
- c) à - à
- d) a - à

2) Segundo o texto, marcar C para as afirmativas Certas, E para as Erradas e, após, assinalar a alternativa que apresenta a sequência CORRETA:

- ( ) Agosto foi o mês de 2015 que fez com que todos os recursos naturais do Planeta fossem esgotados.
- ( ) Até 2030, prevê-se que o “Dia da Sobrecarga da Terra” seja antecipado para o mês de junho.
- ( ) A capacidade do Planeta de se regenerar começou a diminuir na década de 1980.

- a) E - C - E.
- b) E - E - E.
- c) C - E - C.
- d) C - C - C.

3) De acordo com o texto, pode-se inferir que:

- I - Quanto mais consumimos, mais produzimos “dívidas” para com o meio ambiente.
- II - Hoje em dia, todos os países do planeta são “devedores ecológicos”.

- a) Os itens I e II estão corretos.
- b) Somente o item I está correto.
- c) Somente o item II está correto.
- d) Os itens I e II estão incorretos.

4) A locução conjuntiva em “À medida que aumenta nosso consumo...” estabelece:

- a) Finalidade.
- b) Consequência.
- c) Comparação.
- d) Proporção.

5) O sublinhado em “Mas, em 1975, ocorreu em 28 de novembro.” NÃO pode ser substituído, por alterar o sentido, por:

- a) Porém.
- b) Entretanto.
- c) Portanto.
- d) Contudo.

6) Assinalar a alternativa que classifica, CORRETA e respectivamente, os termos sublinhados em “É hora de organizar as contas e rever os gastos.”:

- a) Preposição - artigo definido - adjetivo.
- b) Conjunção - pronome - adjetivo.
- c) Preposição - artigo definido - substantivo.
- d) Conjunção - artigo indefinido - substantivo.

7) O sufixo “-mente”, como em “atualmente”, forma palavras de qual classe gramatical?

- a) Adjetivo.
- b) Advérbio.
- c) Verbo.
- d) Substantivo.

8) Assinalar a alternativa que preenche as lacunas abaixo CORRETAMENTE:

\_\_\_\_\_ você parou de estudar? Diga-me, \_\_\_\_\_ ?

- a) Por quê - por que
- b) Porque - por que
- c) Porquê - por quê
- d) Por que - por quê

9) Ao passar-se para o singular o sublinhado em "Claro que nem todos os países exigem mais do que seus ecossistemas podem fornecer...", quantas outras palavras obrigatoriamente deverão sofrer flexão para fins de concordância?

- a) Seis.
- b) Cinco.
- c) Quatro.
- d) Três.

10) Considerando-se as regras de colocação do pronome "-se", analisar a sentença abaixo:

*Não pode-se mais abusar do ecossistema dessa maneira (1ª parte). Quando se quiser parar o consumo, será tarde demais (2ª parte).*

A sentença está:

- a) Totalmente correta.
- b) Correta somente em sua 1ª parte.
- c) Correta somente em sua 2ª parte.
- d) Totalmente incorreta.

### MATEMÁTICA

11) Dado o sistema linear abaixo, assinalar a alternativa que apresenta o resultado da operação  $3x - y + 3z$ :

$$\begin{cases} x + 3y + z = -3 \\ -x + 2y - 3z = -6 \\ x - 4y - z = 0 \end{cases}$$

- a) 4
- b) 3
- c) 2
- d) 1

12) Dada a lista de números abaixo, analisar os itens que seguem:

4, 3, 2, 3, 12, 7, 4, 8, 3

- I - O número 12 é a mediana.
- II - O número 8 é a moda.

- a) Os itens I e II estão corretos.
- b) Somente o item I está correto.
- c) Somente o item II está correto.
- d) Os itens I e II estão incorretos.

13) Cíntia deseja fazer uma aplicação de R\$ 160.000,00 em uma conta que rende a uma taxa de juros de 3% ao ano sob regime de juros simples. Se Cíntia deixar esse dinheiro aplicado durante três meses, qual será o valor que ela obterá de juros?

- a) R\$ 1.200,00
- b) R\$ 12.000,00
- c) R\$ 14.400,00
- d) R\$ 1.440.000,00

### RASCUNHO

14) Dada a matriz  $A = \begin{bmatrix} 2 & 0 \\ 5 & 1 \end{bmatrix}$  e a matriz  $B = \begin{bmatrix} 3 & 9 \\ 0 & 0 \end{bmatrix}$ ,

analisar os itens abaixo:

I)  $A \times B = \begin{bmatrix} 6 & 18 \\ 15 & 45 \end{bmatrix}$ .

II)  $B^{-1} = \begin{bmatrix} \frac{1}{2} & 0 \\ -\frac{5}{2} & 1 \end{bmatrix}$ .

- a) Os itens I e II estão corretos.
- b) Somente o item I está correto.
- c) Somente o item II está correto.
- d) Os itens I e II estão incorretos.

15) Dadas as letras A, B, C, D, E e F, quantas senhas de três letras podem ser criadas de modo que não haja repetição de letras e que a primeira letra seja a letra F?

- a) 240
- b) 120
- c) 70
- d) 20

16) Em uma caixa há 3 pares de tênis. Com base nessa informação, assinalar a alternativa que apresenta a probabilidade de uma pessoa retirar da caixa dois tênis do mesmo par em sequência e sem reposição:

- a)  $\frac{1}{3}$
- b)  $\frac{1}{6}$
- c)  $\frac{1}{5}$
- d)  $\frac{11}{30}$

17) Em relação à inequação  $x + 1 < 2x + 6 < x + 8$ , é CORRETO afirmar que o seu conjunto solução é:

- a)  $x \in (-5, 2)$
- b)  $x \in (-2, 5)$
- c)  $x \in [-5, 2]$
- d)  $x \in [-2, 5]$

18) Levando-se em consideração as funções  $f(x) = (x - 4)(x + 5)$  e  $g(x) = -2x^2 - 2x + 40$ , analisar os itens abaixo:

I - Os gráficos de  $f(x)$  e de  $g(x)$  se interceptam em dois pontos.

II - Ambas as parábolas interceptam o eixo das ordenadas em  $y = 40$ .

- a) Os itens I e II estão corretos.
- b) Somente o item I está correto.
- c) Somente o item II está correto.
- d) Os itens I e II estão incorretos.

## INFORMÁTICA

**19)** Dois Contadores, um inexperiente e outro experiente, têm exatamente 66 atribuições juntos. Sabendo-se que a razão entre as atribuições do Contador inexperiente e do Contador experiente é de 3 para 8, é CORRETO afirmar que o Contador experiente possui:

- a) 18 atribuições.
- b) 33 atribuições.
- c) 48 atribuições.
- d) 52 atribuições.

**20)** Dado o triângulo abaixo, assinalar a alternativa que apresenta a sequência da sexta linha:

```

1
1 1
1 2 1
1 3 3 1
1 4 6 4 1
    
```









- a) 1 5 9 5 2 1
- b) 1 10 10 5 3 1
- c) 1 8 12 11 6 1
- d) 1 5 10 10 5 1

### RASCUNHO

Atenção! Para responder às questões de Informática, a menos que seja explicitamente informado o contrário, considerar que os programas mencionados encontram-se na versão Português-BR e, em sua configuração padrão de instalação, possuem licença de uso, o mouse está configurado para destros, um clique ou duplo clique correspondem ao botão esquerdo do mouse e teclar corresponde à operação de pressionar uma tecla e, rapidamente, liberá-la, acionando-a apenas uma vez. Dessa forma, as teclas de atalho, os menus, os submenus, as barras, os ícones e os demais itens que compõem os programas abordados nesta prova encontram-se na configuração padrão, conforme exposto anteriormente.

**21)** Um internauta está acessando a Internet em certo computador e tentando visualizar determinado site utilizando o navegador Mozilla Firefox, em sua última versão. Com base na figura abaixo que representa a barra de navegação padrão desse navegador, assinalar a alternativa que apresenta os ícones necessários para verificar o andamento dos downloads e ir para a página inicial, respectivamente:

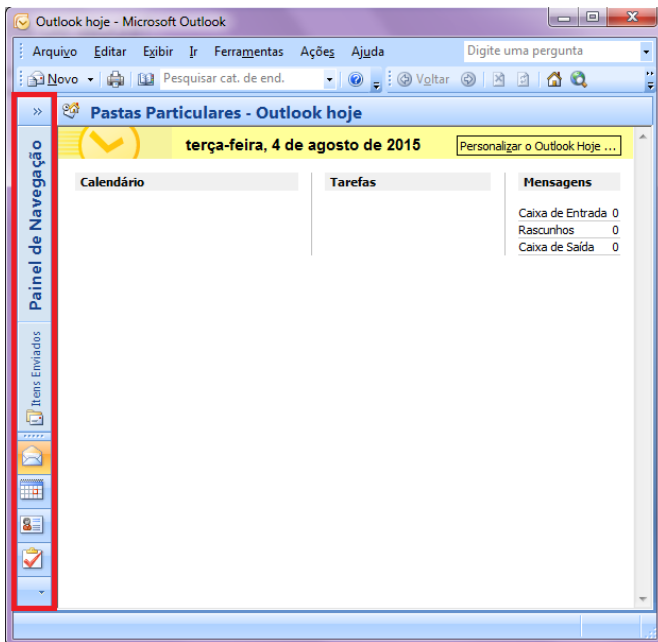


- a)  e .
- b)  e .
- c)  e .
- d)  e .

**22)** Em conformidade com a Cartilha de Segurança para Internet, em relação aos cuidados que o usuário deve tomar ao usar suas contas e senhas, assinalar a alternativa CORRETA:

- a) Usar a mesma senha para todos os serviços que acessa.
- b) Alterar as suas senhas sempre que julgar necessário.
- c) Certificar-se de que está sendo observado ao digitar as suas senhas.
- d) Fornecer suas senhas para outra pessoa, especialmente para desconhecidos.

23) A imagem abaixo apresenta um fragmento do Outlook 2007. Com base nesta imagem, é CORRETO afirmar que o Painel de Navegação destacado está:



- a) Normal.
- b) Minimizado.
- c) Maximizado.
- d) Desativado.

24) Os chipsets são circuitos de apoio da placa-mãe. O desempenho de uma placa-mãe está intimamente relacionado ao chipset utilizado. Em geral, as placas têm dois circuitos e são chamados de:

- a) Ponte Norte e Ponte Sul.
- b) BIOS e CMOS.
- c) Cache e Fireware.
- d) Memória Virtual e Paginação.

25) Qual é o resultado da função abaixo no Excel?



- a) 15,23
- b) 15,236
- c) 15
- d) 15,235

## LEGISLAÇÃO, CONHECIMENTOS GERAIS E ESPECÍFICOS

Atenção! Em todas as questões de legislação desta prova, serão consideradas as leis e suas alterações até a data do início das inscrições deste concurso.

26) De acordo com a Constituição Federal, sobre os direitos individuais e coletivos, analisar a sentença abaixo:

*A sucessão de bens de estrangeiros situados no País será regulada pela lei estrangeira em benefício do cônjuge ou dos filhos brasileiros (1ª parte). Constitui crime inafiançável e imprescritível a ação de grupos armados, civis ou militares, contra a ordem constitucional e o Estado Democrático (2ª parte).*

A sentença está:

- a) Totalmente correta.
- b) Correta somente em sua 1ª parte.
- c) Correta somente em sua 2ª parte.
- d) Totalmente incorreta.

27) De acordo com a Lei nº 8.666/93, constituem tipos de licitação, EXCETO:

- a) Melhor técnica.
- b) Maior lance ou oferta.
- c) Pregão eletrônico.
- d) Menor preço.

28) Segundo a Lei nº 8.429/92, constitui ato de improbidade administrativa que atenta contra os princípios da administração pública qualquer ação ou omissão que viole os deveres de honestidade, imparcialidade, legalidade, e lealdade às instituições, e notadamente:

- I - Praticar ato visando fim proibido em lei ou regulamento ou diverso daquele previsto, na regra de competência.
- II - Retardar ou deixar de praticar, indevidamente, ato de ofício.
- III - Prestar contas quando estiver obrigado a fazê-lo.

Estão CORRETOS:

- a) Somente os itens II e III.
- b) Somente os itens I e II.
- c) Somente os itens I e III.
- d) Todos os itens.

29) Segundo a Lei Orgânica do Município, são símbolos do Município, EXCETO:

- a) A Bandeira.
- b) O Brasão.
- c) O Hino.
- d) A sede da Prefeitura Municipal.

**30)** Em conformidade com o Regime Jurídico dos Servidores Públicos do Município, analisar os itens abaixo:

I - Os cargos públicos serão de provimento somente efetivo.

II - Somente poderão ser criados cargos de provimento em comissão para atender encargos de direção, chefia ou assessoramento.

- a) Os itens I e II estão corretos.
- b) Somente o item I está correto.
- c) Somente o item II está correto.
- d) Os itens I e II estão incorretos.

---

**31)** Segundo o Regimento Interno do Poder Legislativo do Município, assinalar a alternativa INCORRETA:

- a) O início dos períodos da Sessão Legislativa independe de convocação.
- b) A Sessão Legislativa compreenderá o período de 3 de janeiro a 31 de dezembro.
- c) O período da Sessão Legislativa é improrrogável.
- d) A Sessão Legislativa Extraordinária será convocada com antecedência mínima de 24 horas e nela não se tratará de assunto estranho à pauta da convocação.

---

**32)** De acordo com a Resolução nº 01/2014, analisar os itens abaixo:

I - O acesso à informação de que trata esta Resolução não se aplica às hipóteses previstas na legislação como sigilo fiscal, bancário, comercial, profissional, industrial e segredo de justiça.

II - As informações que possam colocar em risco a segurança dos vereadores da Câmara Municipal de Vale do Sol e de seus cônjuges ou filhos serão classificadas como reservadas e ficarão sob sigilo por tempo indeterminado.

- a) Somente o item I está correto.
- b) Somente o item II está correto.
- c) Os itens I e II estão corretos.
- d) Os itens I e II estão incorretos.

---

**33)** Considerando-se o Código Tributário do Município, em relação a alguns dos tributos de competência do Município, marcar C para as afirmativas Certas, E para as Erradas e, após, assinalar a alternativa que apresenta a sequência CORRETA:

- ( ) Transmissão "inter-vivos" de bens móveis - ITBM.
- ( ) Propriedade Predial e Territorial Urbana - IPTU.
- ( ) Taxa de coleta de lixo.

- a) C - C - C.
- b) E - C - E.
- c) C - E - E.
- d) E - C - C.

**34)** Em conformidade com o Código de Ética Profissional, numerar a 2ª coluna de acordo com a 1ª e, após, assinalar a alternativa que apresenta a sequência CORRETA:

- (1) Direito.
- (2) Dever.
- (3) Infração ética.

- ( ) Publicar relatório, parecer ou trabalho técnico-profissional, assinado e sob sua responsabilidade.
- ( ) Apropriar-se indevidamente de valores confiados a sua guarda.
- ( ) Manifestar, a qualquer tempo, a existência de impedimento para o exercício da profissão.

- a) 2 - 3 - 1.
- b) 3 - 1 - 2.
- c) 2 - 1 - 3.
- d) 1 - 3 - 2.

---

**35)** Em relação ao critério de avaliação de estoque, assinalar a alternativa que apresenta a avaliação mais utilizada nas empresas:

- a) Custo Médio Ponderado Móvel (média ponderada móvel).
- b) UEPS (último que entra, primeiro que sai).
- c) PEPS (primeiro que entra, primeiro que sai).
- d) Custo Médio Ponderado Fixo (média ponderada fixa).

---

**36)** Assinalar a alternativa que preenche as lacunas abaixo CORRETAMENTE:

O princípio do(a) \_\_\_\_\_ rege que é fundamental a distinção da pessoa dos sócios, da pessoa da empresa. Já o do(a) \_\_\_\_\_ diz que as entidades são consideradas como empreendimentos em prosseguimento, sendo necessária a avaliação dos bens da empresa.

- a) entidade - continuidade
- b) regime misto - entidade
- c) observância - descontinuidade
- d) sociedade - valor atualizado



**37)** De acordo com SILVA, sobre destinação de recursos para o setor privado, analisar os itens abaixo:

- I - A destinação de recursos para, direta ou indiretamente, cobrir necessidades de pessoas físicas ou déficits de pessoas jurídicas deverá ser autorizada por lei específica, atender às condições estabelecidas na lei de diretrizes orçamentárias e estar prevista no orçamento ou em seus créditos adicionais.
- II - Em nenhuma hipótese poderão ser utilizados recursos públicos, inclusive de operações de crédito, para socorrer instituições do Sistema Financeiro Nacional, ainda que mediante a concessão de empréstimos de recuperação ou financiamentos para mudança de controle acionário.
- III - A destinação de recursos públicos a entidades privadas sem fins lucrativos abrange, basicamente, as Organizações Não Governamentais e as Organizações da Sociedade Civil de Interesse Público.

Está(ão) CORRETO(S):

- a) Somente o item I.
- b) Somente o item II.
- c) Somente os itens I e III.
- d) Somente os itens II e III.

**38)** De acordo com SILVA, sobre créditos adicionais, analisar os itens abaixo:

- I - Pode ser dada autorização para abertura de crédito adicional de forma ilimitada.
- II - Não é necessária a indicação de recursos, desde que os mesmos não estejam comprometidos.
- III - É necessário prévia autorização legislativa, que pode ser dada pela própria Lei do Orçamento, como é o caso dos créditos suplementares, ou em lei específica, como é o caso dos créditos especiais.

Está(ão) CORRETO(S):

- a) Somente o item II.
- b) Somente o item III.
- c) Somente os itens I e III.
- d) Todos os itens.

**39)** Segundo ARRUDA et al., sobre receitas extraorçamentárias, marcar C para as afirmativas Certas, E para as Erradas e, após, assinalar a alternativa que apresenta a sequência CORRETA:

- ( ) São registrados como receitas extraorçamentárias, para exclusivo efeito de fechamento do balanço financeiro, os valores correspondentes às despesas empenhadas e não pagas em determinado exercício financeiro, transferidas para o ano seguinte como restos a pagar ou como serviço da dívida a pagar, para compensar sua inclusão na despesa orçamentária realizada.
- ( ) As receitas extraorçamentárias afetam o patrimônio financeiro do ente público, constituindo-se em meras entradas de numerário em contas pertencentes ao disponível do Ativo Financeiro com o acréscimo compensatório, em igual valor, dos saldos de contas exigíveis de curto prazo, integrantes do passivo financeiro do ente.
- ( ) As retenções de numerário classificadas como receitas extraorçamentárias, sempre registradas em contas do passivo financeiro, correspondem a valores de terceiros que lhes serão futuramente restituídos.

- a) E - C - C.
- b) E - C - E.
- c) C - C - E.
- d) C - E - C.

**40)** É base indispensável à integridade e à fidedignidade dos registros contábeis dos atos e dos fatos que afetam ou possam afetar o patrimônio da entidade pública, observadas as Normas Brasileiras de Contabilidade aplicadas ao Setor Público. A integridade e a fidedignidade dizem respeito à necessidade de as variações serem reconhecidas na sua totalidade, independentemente do cumprimento das formalidades legais para sua ocorrência, visando ao completo atendimento da essência sobre a forma. De acordo com a Resolução CFC nº 1.111/07, esse conceito refere-se ao Princípio da:

- a) Continuidade.
- b) Legalidade.
- c) Oportunidade.
- d) Entidade.