



PREFEITURA MUNICIPAL DE GRAMADO
ESTADO DO RIO GRANDE DO SUL
CONCURSO PÚBLICO Nº 01/2015

FISCAL DE ENGENHARIA E LICENÇA

Instruções

Leia atentamente e cumpra rigorosamente as instruções que seguem, pois elas são parte integrante das provas e das normas que regem esse Concurso ou Processo Seletivo.

1. Atente-se aos avisos contidos no quadro da sala.
2. Seus pertences deverão ser armazenados dentro do saco plástico fornecido pelo fiscal. Somente devem permanecer em posse do candidato caneta esferográfica, documento de identidade, lanche e água, se houver. A utilização de qualquer material não permitido em edital é expressamente proibida, acarretando a imediata exclusão do candidato.
3. Verifique se o cargo constante na capa deste caderno é aquele para o qual realizou a inscrição.
4. Cada questão oferece 5 (cinco) alternativas de respostas, representadas pelas letras A, B, C, D e E, sendo apenas 1 (uma) a resposta correta.
5. Será respeitado o tempo para realização da prova conforme previsto em edital, incluindo o preenchimento da grade de respostas.
6. Os dois últimos candidatos deverão retirar-se da sala de prova ao mesmo tempo, devendo assinar a Ata de Prova.
7. Nenhuma informação sobre o conteúdo das questões será dada pelo fiscal.
8. No caderno de prova, o candidato poderá rabiscar, riscar e calcular.
9. Os gabaritos preliminares da prova objetiva serão divulgados em data, horário e local descritos no Cronograma de Execução desse Concurso ou Processo Seletivo.
10. Certifique-se de que este caderno contém 40 (quarenta) questões. Caso contrário, solicite ao fiscal da sala a sua substituição.

Boa prova!



Instrução: As questões de números 01 a 10 referem-se ao texto abaixo.

Gramado: um sonho de cidade.

01 Gramado é puro encanto. Um pedacinho da Europa em pleno Rio Grande do Sul. O charme
02 das ruas floridas, repletas de _____; os detalhes da arquitetura bávara nos telhados com
03 franjas; os deliciosos chocolates, cafés coloniais e fondues; sem contar com o que a mãe natureza
04 oferece. Tudo conspira a favor de momentos inesquecíveis seja em família, com as crianças ou
05 em clima de romance. Além disso, a cidade parece ter sido especialmente _____ para acolher
06 turistas. É hospitaleira, limpíssima e está sempre vestida em trajes adequados ___ ocasião. Tem
07 figurinos especiais para o Natal Luz, para a Páscoa, para o Festival do Cinema ou simplesmente
08 para o "inverno".

09 Segundo o site do Ministério do Turismo, Gramado é a cidade brasileira mais procurada
10 como destino turístico de inverno. Mas o interessante é que no início não era assim. A cidade
11 começou a ser frequentada por moradores de Porto Alegre que subiam a serra no forte do verão
12 para fugir do calor. Mais interessante ainda é descobrir que a cidade não foi fundada por alemães
13 e italianos, como parece, mas por portugueses. Os açorianos chegaram por aquelas bandas com
14 seu gado, no século XVII. A região em torno da Avenida Borges de Medeiros começou a se
15 _____. Foi, então, que os alemães e italianos tomaram conta do pedaço. Os açorianos se
16 foram. Mas deixaram como herança a beleza do caminho das belas flores. Dali para frente, a vila
17 de colonos adotou o estilo _____ na sua arquitetura, a prefeitura assinou em baixo e, para
18 deleite dos visitantes, a cidade, que parece cenográfica, magnetiza a todos.

19 Gramado é uma pequena cidade que se espalha a partir da Avenida Borges de Medeiros.
20 Ela é a rua mais central e por onde todos circulam ___ pé nas lojinhas e restaurantes. Um dos
21 pontos visitados do centro é a Igreja de São Pedro. Foi construída em 1942, em pedra basáltica,
22 e ostenta uma torre de mais de 40 metros de altura.

23 Praticamente ao lado da igreja fica o Palácio dos Festivais. Ponto alto da cidade durante o
24 Festival de Cinema. É lá que os filmes são exibidos, e as celebridades atraem a atenção de todos.
25 Durante as festividades de final de ano, os ingressos para as atrações do Natal Luz fazem o Palácio
26 dos Festivais borbulhar de turistas.

27 A Rua Coberta - Rua Madre Verônica - é um local que abriga várias apresentações e
28 eventos. É um pedacinho de rua que liga ___ Av. Borges de Medeiros e ___ Rua Garibaldi, é mais
29 uma ótima alternativa para compras e gastronomia, principalmente em dias de chuva.

30 Na principal esquina da Avenida Borges de Medeiros fica o Centro de Informações
31 Turísticas. No subsolo da casa está o banheiro público mais sofisticado do país, que foi todo
32 construído em mármore importado, sendo um ponto turístico inusitado que merece uma visita.

33 Já no entorno da Avenida Borges de Medeiros, concentram-se lojas, restaurantes, cafés
34 coloniais e alguns parques. Começa no centro e se afasta até chegar a Canela. Por ali, pode-se
35 apreciar a arquitetura bávara. Casas lindas em madeira trabalhada e guarnecidas com franjas
36 nos telhados. Nem parece Brasil. A cidade é muito graciosa.

(Fonte: <http://www.viajarpelomundo.com/2009/12/gramado-um-sonho-de-cidade.html> – adaptação)

QUESTÃO 01 – Relativamente ao preenchimento das lacunas das linhas 02, 05, 15 e 17 do texto, respectivamente, assinale a alternativa cuja grafia das palavras esteja correta.

- A) hortências – taliada – urbanisar – enchaimel
- B) hortênsias – talhada – urbanizar – enxaimel
- C) hortencias – talheada – urbanisar – enxaimel
- D) hortênsias – talhada – urbanisar – enchaimel
- E) hortências – talhiada – urbanizar – enchaimel

QUESTÃO 02 – Analise as seguintes propostas de uso ou não da crase em determinadas passagens do texto:

- I. Na linha 06, o preenchimento da lacuna com à é facultativo, devido ao fato de a palavra regente ser masculina.
- II. Na linha 20, a lacuna, para manter a correção gramatical do período, deve receber à, devido a ocorrência de locução adverbial.
- III. As duas lacunas da linha 28 são corretamente preenchidas apenas pelo artigo feminino a, visto que não há o atendimento das condições que determinam o uso da crase.

Quais estão corretas?

- A) Apenas I.
- B) Apenas II.
- C) Apenas III.
- D) Apenas I e II.
- E) Apenas I e III.

QUESTÃO 03 – Analise as seguintes afirmações a respeito de determinados vocábulos e expressões do texto, assinalando V, se verdadeiras, ou F, se falsas.

- () Na linha 13, o vocábulo bandas, mantendo-se o sentido e a estrutura originais do texto, poderia ser substituído por margem.
- () Na linha 15, a expressão tomaram conta do pedaço significa apossaram-se apenas da Avenida Borges de Medeiros.
- () Na linha 17, assinou em baixo é uma expressão conotativa, cujo sentido se aproxima do significado que tem avalizou.

A ordem correta de preenchimento dos parênteses, de cima para baixo, é:

- A) F – F – V.
- B) V – F – V.
- C) V – F – F.
- D) F – V – V.
- E) F – V – F.

Para responder à questão 04, considere o seguinte período:

"Foi construída em 1942, em pedra basáltica, e ostenta uma torre de mais de 40 metros de altura." (l. 21 a 22).

QUESTÃO 04 – Em relação ao período citado, analise as assertivas abaixo:

- I. O período acima se constitui de duas orações coordenadas entre si.
- II. A locução verbal está flexionada na voz ativa.
- III. A expressão em 1942 representa o agente da passiva.

Quais estão INCORRETAS?

- A) Apenas I.
- B) Apenas II.
- C) Apenas III.
- D) Apenas I e II.
- E) Apenas II e III.

QUESTÃO 05 – Assinale a alternativa que contém a justificativa correta para o emprego da vírgula na linha 09.

- A) Assinalar um termo intercalado.
- B) Separar uma oração subordinada adjetiva explicativa.
- C) Separar termos de mesma função sintática.
- D) Marcar o deslocamento de um termo.
- E) Separar oração subordinada adverbial.

QUESTÃO 06 – Assinale a alternativa que contém a justificativa correta para o emprego da 2ª e 3ª vírgulas na linha 18.

- A) Assinalar um termo intercalado.
- B) Separar uma oração subordinada adjetiva explicativa.
- C) Separar termos de mesma função sintática.
- D) Marcar o deslocamento de um termo.
- E) Separar oração subordinada adverbial.

QUESTÃO 07 – Considere as seguintes sugestões de substituição de alguns pronomes relativos do texto:

- I. que (l. 11) por os quais.
- II. que (l. 19) por na qual.
- III. que (l. 32) por cujo qual.

Quais estão corretas?

- A) Apenas I.
- B) Apenas II.
- C) Apenas I e II.
- D) Apenas II e III.
- E) I, II e III.

QUESTÃO 08 – Qual das seguintes ocorrências de ponto-final poderia ser substituída por vírgula, desconsiderando-se a necessidade de ajustes quanto ao uso de maiúsculas e minúsculas, sem produzir erro de pontuação?

- A) Primeiro ponto-final da linha 01.
- B) Ponto-final da linha 12.
- C) Ponto-final da linha 21.
- D) Ponto-final da linha 31.
- E) Segundo ponto-final da linha 34.

QUESTÃO 09 – Analise as seguintes propostas de inserção, supressão ou substituição em partes do texto, assinalando V, se verdadeiras, ou F, se falsas.

- () A supressão da expressão sempre em e está sempre vestida em trajes adequados (l. 06) implicaria alteração semântica.
- () A inserção de mais imediatamente após o vocábulo pontos (l. 21) alteraria semanticamente a informação contida na frase.
- () A substituição de inusitado (l. 32) por inóspito mantém o sentido original do fragmento em que está inserido.

A ordem correta de preenchimento dos parênteses, de cima para baixo, é:

- A) F – F – F.
- B) F – V – V.
- C) F – V – F.
- D) V – F – V.
- E) V – V – F.

QUESTÃO 10 – Analise as seguintes afirmações em relação às informações contidas no texto:

- I. O vocábulo ainda (l. 12), elemento de coesão textual, tem a função de deixar clara a inserção do autor no texto, visto que expressa implicitamente sua opinião.
- II. A expressão Dali para frente (l. 16) funciona como marcador temporal em relação às informações contidas no parágrafo.
- III. Na linha 24, o advérbio lá faz referência a uma informação que o precede.

Quais estão INCORRETAS?

- A) Apenas I.
- B) Apenas II.
- C) Apenas III.
- D) Apenas I e II.
- E) Apenas II e III.

QUESTÃO 11 – Analise as seguintes afirmações em relação ao programa Microsoft Excel 2007:

- I. A tecla de atalho Ctrl+G exibe a caixa de diálogo Ir para.
- II. A tecla Ctrl+K exibe a caixa de diálogo Formatar células.
- III. Não existe o recurso Congelar Painéis, que é utilizado para manter as linhas e as colunas visíveis enquanto se rola pelo resto da planilha (com base na seleção atual).

Quais estão corretas?

- A) Apenas I.
- B) Apenas II.
- C) Apenas III.
- D) Apenas I e II.
- E) Apenas II e III.

QUESTÃO 12 – Sempre que é iniciada a digitação de um documento no programa Microsoft Word 2007, aparece, por padrão, uma aparência básica de um documento chamado de Estilo, que corresponde a uma determinada fonte, tamanho, alinhamento, cor da fonte, entre outras informações. Assinale a alternativa que representa o nome do Estilo que aparece por padrão.

- A) Padrão.doc
- B) Padrão.docx
- C) Normal.dotm
- D) Normal.docx
- E) Estilo.doc

Para responder à questão 13, considere a Figura 1 abaixo:

	A	B	C	D	E	F
1						
2						
3			30	40	50	60
4			3	4	5	6
5			3	40	30	50
6			2	2	4	5
7						
8						

Figura 1 – Visão parcial da tela principal do Microsoft Excel 2007

QUESTÃO 13 – Com base na Figura 1 e no uso prático do referido programa, analise as afirmações abaixo:

- I. Ao darmos um clique diretamente no ícone



, localizado no Grupo Edição, os seguintes valores ficarão nos respectivos endereços de células: C7=38, D7=86, E7=89 e F7=121.



- II. O ícone , chamado de Formato numérico: Porcentagem, possui a função de dividir um valor por cem e acrescentar o símbolo da porcentagem.




- III. O botão , chamado de Criação de função, permite ao usuário personalizar uma função.

Quais estão corretas?

- A) Apenas I.
- B) Apenas II.
- C) Apenas III.
- D) Apenas I e II.
- E) Apenas II e III.


QUESTÃO 14 – Analise as seguintes assertivas:

- I. O Índice de Experiência do programa Microsoft Windows 7 mede a capacidade de configuração de hardware e software do computador e expressa essa medida como um número denominado pontuação básica. Uma pontuação básica mais alta significa geralmente que o computador terá um desempenho melhor e mais rápido do que um computador com uma pontuação básica mais baixa ao executar tarefas mais avançadas e intensivas em recursos.
- II. O Gerenciador de Credenciais permite armazenar credenciais, como nomes de usuário e senhas utilizadas para fazer logon em sites ou em outros computadores da rede. Com o armazenamento de credenciais, o programa Microsoft Windows 7 pode fazer logon automaticamente em sites ou em outros computadores.
- III. O ícone  , localizado no Grupo Ilustrações do programa Microsoft Word 2007, permite criar um indicador para atribuir um nome a um ponto específico em um documento, podendo criar hiperlinks que saltam diretamente para um local indicado.

Quais estão corretas?

- A) Apenas I.
- B) Apenas II.
- C) Apenas III.
- D) Apenas I e II.
- E) Apenas II e III.



QUESTÃO 15 – O ícone  (Botão Office), do programa Microsoft Word 2007, ao ser acionado, mostra uma lista de opções. Assinale a alternativa que NÃO se encontra nessa mesma lista.

- A) Fechar.
- B) Preparar.
- C) Publicar.
- D) Enviar.
- E) Abrir Como.

QUESTÃO 16 – Analise as seguintes assertivas:

- I. Corresponde a um vínculo entre planilhas diferentes de uma mesma Pasta de trabalho, no programa Microsoft Excel 2007, a seguinte grafia: =A1?Plan1+B1?Plan2.
- II. Através da Central de Ações (Painel de Controle) do programa Microsoft Windows 7 Professional, visualizamos as opções: Exibir atualizações instaladas, Permitir acesso remoto e Gerenciador de dispositivos.
- III. Uma das formas de utilizar a Área de Transferência, no programa Microsoft Word 2007, é o recurso Colar.

Quais estão corretas?

- A) Apenas I.
- B) Apenas II.
- C) Apenas III.
- D) Apenas I e II.
- E) Apenas II e III.

Para responder à questão 17, considere a Figura 2 abaixo:

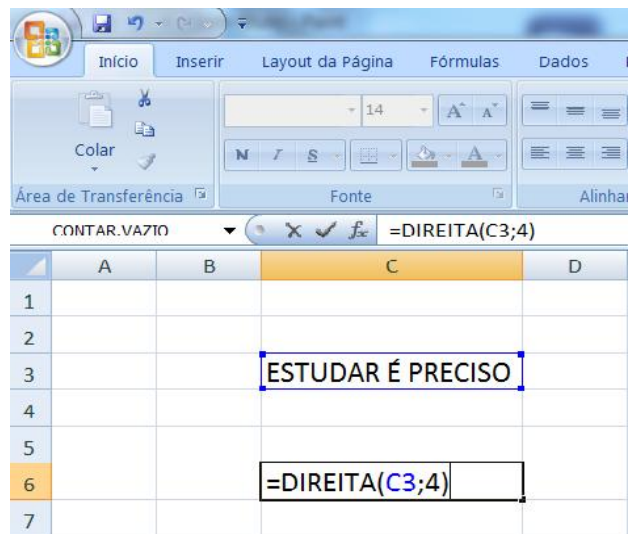


Figura 2 – Visão parcial da tela principal do Microsoft Excel 2007

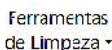
QUESTÃO 17 – Presuma que o usuário digitou, na célula C3, “ESTUDAR É PRECISO”, e no endereço, de célula C6, a função =DIREITA(C3;4) e, logo após, pressionou a tecla Enter, conforme Figura 2. Após essas ações, o que ficará gravado na célula C6?

- A) CISO
- B) ESTU
- C) OSIC
- D) PREC
- E) RADU

QUESTÃO 18 – No programa Microsoft Outlook



Ferramentas
de Limpeza

2010, o ícone  mostra uma lista de opções utilizadas frequentemente, quais sejam:

- Limpar Caixa de Correio, Backup e Arquivo morto.
- Limpar Caixa de Correio, Esvaziar Pasta de Itens Excluídos e Arquivo morto.
- Esvaziar Pasta de Itens Excluídos, Arquivo morto e Agendador de tarefas.
- Arquivo morto, Backup e Pontos de restauração do Outlook.
- Esvaziar Pasta de Itens Excluídos, Pontos de restauração do Outlook e Desfragmentador de disco.

Para responder à questão 19, considere a Figura 3 abaixo:

	A	B	C	D
1	10 M		20	0
2	C	10	0	50
3	50	0	60 H	
4				
5				

Figura 3 – Visão parcial de uma planilha do programa Microsoft Excel 2007

QUESTÃO 19 – Considere que o usuário digitou, na célula B4, =MÉDIA(B2:D2) e, logo após, pressionou a tecla Enter. Qual o conteúdo da célula B4 após essa sequência de ações?

- #NOME?
- 20
- 30
- #VALOR!
- 40

Para responder à questão 20, considere à Figura 4 abaixo:

Estatísticas:	
Páginas	7
Palavras	918
Caracteres (sem espaços)	4.429
Caracteres (com espaços)	5.277
Parágrafos	90
Linhas	157

Figura 4 – Informações extraídas de um documento do Microsoft Word 2007 em processo de edição

QUESTÃO 20 – Que recurso foi utilizado para mostrar as informações exibidas acima?

- Painel de Revisão.
- Mapa do Documento.
- Contar Palavras.
- Referências do documento.
- Hifenização.

LEGI SLAÇÃO

QUESTÃO 21 – Conforme a Lei Municipal nº 2.928/2011, o Poder Executivo Municipal fica autorizado a subsidiar o fornecimento de cesta básica aos servidores municipais ativos e inativos. Diante do exposto, assinale a alternativa que NÃO corresponde aos critérios estabelecidos nessa lei.

- A) Fica limitada a aquisição de 02 cestas básicas mensais por servidor.
- B) A cesta básica será composta de produtos não perecíveis, como alimentos, higiene e limpeza.
- C) O valor da cesta básica será limitado ao valor correspondente a 1/4 do salário mínimo nacional.
- D) A composição da cesta básica ficará a critério de cada servidor, de acordo com sua necessidade.
- E) Para atender às despesas decorrentes da aquisição das cestas básicas, serão utilizados recursos previstos em dotações orçamentárias próprias, suplementadas se necessário.

QUESTÃO 22 – Assinale a alternativa INCORRETA referente ao que está exposto na Lei Municipal nº 2.917/2011, no que se refere ao vale-transporte concedido pelo Município de Gramado aos servidores públicos municipais.

- A) Será concedido vale-transporte, para o deslocamento de suas residências para os locais de trabalho e vice-versa, excetuadas aquelas realizadas nos deslocamentos em intervalos para repouso ou alimentação, durante a jornada de trabalho.
- B) O vale-transporte será concedido através do sistema de transporte coletivo municipal, intermunicipal ou interestadual, inclusive aquelas efetuadas com transportes seletivos ou especiais.
- C) É vedada a incorporação do vale-transporte aos vencimentos, à remuneração, ao provento ou à pensão dos servidores municipais, para quaisquer efeitos e não comporá nenhuma base de cálculo para qualquer outro auxílio, vantagem ou benefício.
- D) O vale-transporte não será considerado para fins de incidência de imposto de renda ou de contribuição para o Plano de Seguridade Social, Planos de Assistência à Saúde e Fundo de Garantia por Tempo de Serviço – FGTS.
- E) Para fins da concessão do vale-transporte, considerar-se-á a base de 25 dias.

QUESTÃO 23 – De acordo com a Lei Municipal nº 2.915/2011, que estabelece a estrutura administrativa do Poder Executivo do Município de Gramado, a Secretaria Municipal de Governança e Desenvolvimento Integrado:

- A) É responsável pela execução estratégica de planos e ações voltadas ao desenvolvimento do Município.
- B) Tem por objetivo estimular a formação de parcerias do Poder Público Municipal com a sociedade civil organizada.
- C) Tem como objetivo primordial atender às disposições da Lei do Plano Diretor de Desenvolvimento Integrado do Município em todos os seus âmbitos, bem como coordenar ações relacionadas à circulação viária no Município.
- D) É responsável pelas atividades da área de Recursos Humanos, áreas de Compras e Licitações, área de Tecnologia da Informação, Arquivo Público e Patrimônio.
- E) É responsável pela aplicação da legislação tributária, no controle da contabilidade do Poder Executivo com reflexos e aplicações em quaisquer âmbitos financeiros.

QUESTÃO 24 – Conforme a Lei Municipal nº 3.360/2014, a Secretaria Municipal de Educação é responsável pela Política Educacional do Município, especialmente relacionada às escolas e bibliotecas escolares. Analise as seguintes assertivas em relação aos Conselhos Municipais que integram a Secretaria Municipal de Educação:

- I. Da Alimentação Escolar.
- II. De Educação.
- III. De Segurança.
- IV. Do FUNDEB.

Quais estão corretas?

- A) Apenas I e II.
- B) Apenas I e III.
- C) Apenas II e IV.
- D) Apenas I, II e IV.
- E) Apenas II, III e IV.

QUESTÃO 25 – “Há muito tempo a Secretaria de Gramado busca cruzar as informações sobre o faturamento obtido pelas empresas prestadoras de serviços do Município, através de pagamentos dos clientes com cartões de crédito, para comparar com o faturamento declarado pelas empresas no livro eletrônico do Município, que serve como base de cálculo para cobrança do ISSQN, uma das principais receitas de impostos da cidade. O objetivo é saber se, no mínimo, os valores obtidos através de cartões de crédito foram declarados integralmente no faturamento das empresas. O faturamento bruto das empresas prestadoras de serviços é a base de cálculo do ISSQN, e a receita dos cartões de crédito deve estar integralmente somada neste faturamento. Como o valor é declarado pela própria empresa, cabe ao Município fiscalizar e buscar medidas de controle, como é o cruzamento com o cartão de crédito, para homologar, ou não, estas declarações.” (Notícia adaptada e retirada do site da Prefeitura de Gramado, em 20/08/2015). A notícia apresenta uma ação da Secretaria Municipal responsável pela aplicação da legislação tributária, no controle da contabilidade do Poder Executivo com reflexos e aplicações em quaisquer âmbitos financeiros. Conforme a Lei Municipal nº 3.360/2014, qual é essa secretaria?

- A) Secretaria Municipal de Governança e Desenvolvimento Integrado.
- B) Secretaria Municipal da Administração.
- C) Secretaria Municipal da Fazenda.
- D) Secretaria Municipal da Cidadania e Assistência Social.
- E) Secretaria Municipal de Relações Institucionais.

QUESTÃO 26 – De acordo com o que está exposto na Lei Municipal nº 2.914/2011, que dispõe sobre a implantação do Plano de Carreira e estabelece o Quadro de Cargos, Vencimentos e Funções Públicas do Município de Gramado, referente à Função Gratificada, assinale a alternativa INCORRETA.

- A) Estão sujeitas a nomeação, sendo impedida a exoneração enquanto no exercício da função, e são destinadas aos servidores efetivos e em comissão.
- B) É instituída por lei para atender encargos de direção, chefia ou assessoramento, quando não justifique a criação do cargo em comissão.
- C) Poderá também ser criado em paralelo com o cargo em comissão, como forma alternativa de provimento da posição de confiança, hipótese em que o valor da mesma não poderá ser superior a 40% do vencimento do cargo em comissão.
- D) O servidor enquanto ocupante de Função Gratificada fará jus a continuidade da avaliação por desempenho, a qual ocorrerá, no entanto, em relação às atribuições que estiver exercendo e enquanto designado para Função Gratificada.
- E) Dispensado o servidor que ocupa Função Gratificada, retornará ao cargo de origem, passando a perceber a remuneração correspondente, sem qualquer manutenção de valores pecuniários pagos a maior na função, vedada qualquer incorporação.

QUESTÃO 27 – Conforme o Estatuto dos Servidores Municipais de Gramado, Lei nº 2.912/2011, o Exercício é o desempenho das atribuições do cargo pelo servidor. Assinale a alternativa que apresenta as formas de provimento em cargos públicos que não interrompem o exercício.

- A) Promoção – readaptação – recondução.
- B) Condução – integração – aproveitamento.
- C) Indicação – reversão – integração.
- D) Condução – indicação – aproveitamento.
- E) Recondução – entrevista – reversão.

QUESTÃO 28 – De acordo com a Lei Federal nº 8.666/93, que estabelece as normas para licitações e contratos da Administração Pública e dá outras providências, os avisos contendo os resumos dos editais das concorrências, das tomadas de preços, dos concursos e dos leilões, embora realizados no local da repartição interessada, deverão ser publicados em veículos oficiais com antecedência. Relacione a Coluna 1 à Coluna 2, associando os prazos mínimos estabelecidos até o recebimento das propostas ou da realização do evento.

Coluna 1

1. 45 dias.
2. 30 dias.
3. 5 dias úteis.

Coluna 2

- () Concurso.
- () Tomada de preços, quando a licitação for do tipo "melhor técnica" ou "técnica e preço".
- () Convite.
- () Concorrência, quando o contrato a ser celebrado contemplar o regime de empreitada integral ou quando a licitação for do tipo "melhor técnica" ou "técnica e preço".

A ordem correta de preenchimento dos parênteses, de cima para baixo, é:

- A) 2 – 1 – 3 – 2.
- B) 3 – 2 – 1 – 3.
- C) 1 – 2 – 3 – 1.
- D) 2 – 3 – 1 – 1.
- E) 1 – 3 – 1 – 2.

QUESTÃO 29 – Alessandro é servidor público da Prefeitura de Gramado, no cargo de Analista de RH. Em 2016, completará 4 anos ininterruptos de serviço prestado ao Município, contados da investidura no cargo de provimento efetivo. Diante do exposto, assinale a alternativa INCORRETA, de acordo com o Estatuto dos Servidores Municipais de Gramado, Lei 2.912/2011.

- A) Em 2016, quando completar 04 anos ininterruptos de serviço prestado ao Município de Gramado, Alessandro fará jus a um prêmio por assiduidade.
- B) O valor do prêmio por assiduidade será igual a um mês de vencimento do seu cargo efetivo.
- C) Alessandro não fará jus ao prêmio assiduidade se estiver em exercício de cargo em comissão ou função gratificada.
- D) O prêmio por assiduidade poderá ser convertido em gozo de 30 dias de licença remunerada, de forma ininterrupta e/ou em dois períodos de 15 dias cada, de acordo com a conveniência de período, estipulado pela Secretaria de Administração, vedada a cumulação de períodos.
- E) É facultado a Alessandro converter 15 dias do prêmio por assiduidade em abono pecuniário, podendo gozar os 15 dias restantes de acordo com a conveniência de período estipulado pela Secretaria de Administração.

QUESTÃO 30 – Joana, servidora pública do Município de Gramado, está com a mãe gravemente doente, necessitando de cuidados diários. De acordo com o Estatuto dos Servidores Municipais de Gramado, Lei nº 2.912/2011, poderá ser concedida licença ao servidor efetivo, por motivo de doença do cônjuge, companheiro ou companheira, do pai ou da mãe; do filho, enteado e de irmão, mediante comprovação médica oficial do Município. Sendo assim, diante do momento vivenciado por Joana, foi solicitada licença por motivo de doença em pessoa da família, para poder cuidar da mãe. De acordo com o exposto, analise as assertivas abaixo, assinalando V, se verdadeiras, ou F, se falsas.

- () A licença somente será deferida se a assistência direta de Joana for indispensável e não puder ser prestada simultaneamente com o exercício do cargo, o que deverá ser apurado através de acompanhamento por Assistente Social do Município.
- () Concedida a licença para Joana, não haverá prejuízo de sua remuneração em até um mês de afastamento.
- () Concedida a licença para Joana, quando exceder a 01 mês até 02 meses de afastamento, haverá desconto de 1/3 de sua remuneração.
- () Concedida a licença para Joana, quando exceder a 02 meses até 05 meses de afastamento, haverá desconto de 2/3 de sua remuneração.
- () Concedida a licença para Joana, se ela se afastar do serviço por mais de 06 meses, se iniciará o processo de exoneração da servidora.

A ordem correta de preenchimento dos parênteses, de cima para baixo, é:

- A) F – F – F – F – V.
- B) V – V – V – V – F.
- C) F – F – V – V – F.
- D) V – V – F – F – V.
- E) F – V – F – V – V.

CONHECIMENTOS ESPECÍFICOS

QUESTÃO 31 – As esquadrias para janelas têm a função de permitir a ventilação, deixar que a luz natural facilite a iluminação e, muitas vezes, proteger o imóvel contra invasões. Qual alternativa corresponde à definição “janela em que a folha é movimentada em torno de um eixo horizontal, ocorrendo a translação simultânea deste eixo”?

- A) Guilhotina.
- B) Pivotante.
- C) Maxim-ar.
- D) Correr.
- E) Basculante.

QUESTÃO 32 – Nas alternativas que seguem, assinale a que contém a característica possível de um tanque séptico dimensionado conforme a NBR 7229 (Projeto, construção e operação de sistemas de tanques sépticos).

- A) Volume útil menor do que 1000 litros.
- B) Período de retenção do esgoto afluente menor do que 12 horas.
- C) Dimensões internas iguais a 2x2x2m.
- D) Apta a receber despejos pluviais.
- E) Paredes executadas em tijolos de barro.

QUESTÃO 33 – Segundo a NBR 6118, na análise estrutural, deve ser considerada a influência de todas as ações que possam produzir efeitos significativos para a segurança da estrutura. As ações permanentes dividem-se em diretas e indiretas. Nas alternativas abaixo, qual NÃO constitui ação permanente indireta?

- A) Deslocamentos de apoio.
- B) Peso próprio.
- C) Retração do concreto.
- D) Fluência do concreto.
- E) Imperfeições geométricas.

QUESTÃO 34 – Apesar de a NBR 8160 (Sistemas prediais de esgoto sanitário - Projeto e Execução) estar vigente desde 1999, percebe-se que vários projetos e obras atuais não atendem muito dos seus requisitos. Analise as seguintes assertivas que tratam de tópicos da referida norma:

- I. Para efeitos de dimensionamento das tubulações, bacias sanitárias com caixas acopladas e bacias sanitárias com válvula de descarga têm o mesmo valor de unidades Hunter de contribuição.
- II. Os tubos de queda e os ramais de esgoto são dimensionados da mesma forma.
- III. As caixas de gordura existentes no mercado com diâmetro de 250mm não atendem as exigências da citada norma.

Quais estão corretas?

- A) Apenas I.
- B) Apenas II.
- C) Apenas III.
- D) Apenas I e III.
- E) I, II e III.

QUESTÃO 35 – O comportamento do solo está diretamente ligado à forma como a parte sólida, o volume de vazios e o volume de água se apresentam. Qual das alternativas abaixo corresponde à definição “relação entre o volume de água e o volume de vazios”?

- A) Índice de vazios.
- B) Grau de compressibilidade.
- C) Porosidade.
- D) Grau de saturação.
- E) Índice de compacidade.

QUESTÃO 36 – Um lote urbano sem benfeitorias paga anualmente o equivalente a X reais de IPTU. Após a execução de uma residência, a alíquota de imposto passa de 6% para 2%, pois deixou de ser terreno nu e passou a ser um lote com construção. Sabendo que, pela nova avaliação após a construção da residência, o imóvel quadruplicou seu valor total, qual o novo valor do imposto?

- A) 1,333X.
- B) 1,5X.
- C) 2X.
- D) 3X.
- E) 4X.

QUESTÃO 37 – A NBR 9050 (Acessibilidade a edificações, mobiliário, espaços e equipamentos urbanos) é aplicável a locais particulares e privados. Entretanto, para a disseminação do seu conteúdo, é preponderante que os espaços públicos sirvam como exemplo e sejam prioritariamente adaptados. Analise as seguintes assertivas que tratam de tópicos da referida norma:

- I. No rebaixamento de calçadas, a faixa de sinalização tátil de alerta no piso deverá ser colocada perpendicularmente ao sentido do deslocamento.
- II. Nos locais de pontos de ônibus, deve ser instalada, no piso, sinalização tátil de alerta ao longo do meio fio e faixa de piso tátil direcional demarcando o local de embarque.
- III. O piso tátil de alerta é constituído de peças com relevos tronco-cônicos, enquanto o piso direcional tem faixas paralelas constituindo relevos lineares.

Quais estão corretas?

- A) Apenas I.
- B) Apenas II.
- C) Apenas III.
- D) Apenas I e III.
- E) I, II e III.

QUESTÃO 38 – Qual material metálico NÃO deve ser usado em instalações prediais de água fria?

- A) Aço carbono galvanizado.
- B) Liga de cobre.
- C) Chumbo.
- D) Cobre.
- E) Ferro fundido galvanizado.

QUESTÃO 39 – Uma via urbana tem pavimentação do tipo reforçada composta pelas seguintes camadas:

1. Reforço.
2. Subleito.
3. Sub-base.
4. Base da pavimentação e regularização final.
5. Revestimento final da pavimentação.

Qual a sequência correta dessas camadas no sentido de baixo para cima?

- A) 1 – 2 – 3 – 4 – 5.
- B) 2 – 1 – 3 – 4 – 5.
- C) 2 – 3 – 1 – 4 – 5.
- D) 3 – 2 – 1 – 5 – 4.
- E) 3 – 1 – 2 – 5 – 4.

QUESTÃO 40 – Segundo a Lei Municipal de Gramado, que instituiu o Código de Posturas, compete ao Município zelar pela manutenção da cidade visando a melhoria do ambiente urbano e rural de modo a garantir o desenvolvimento social e econômico sustentáveis e o conforto público. Sobre o contido nessa Lei, analise as seguintes assertivas:

- I. Não são permitidos os ruídos que provenham de máquinas e equipamentos utilizados em construções, demolições e obras em geral, no período noturno.
- II. Os tapumes de obras podem avançar a partir do alinhamento do terreno até o meio fio, desde que no leito carroçável da via seja feita proteção para os pedestres circularem.
- III. Desde que atendendo condições estabelecidas, são permitidos ruídos de máquinas e equipamentos necessários à preparação ou conservação de logradouros públicos, no período das 8h às 18h.

Quais estão corretas?

- A) Apenas I.
- B) Apenas III.
- C) Apenas I e II.
- D) Apenas I e III.
- E) I, II e III.