



CONCURSO PÚBLICO Nº 003/2015
CADERNO DE PROVAS
CARGO: Fonoaudiólogo

INSTRUÇÕES AO CANDIDATO

1. Os telefones celulares e outros equipamentos eletrônicos deverão ser desligados antes do início da prova;
2. Você está recebendo um caderno de provas com 40 questões de múltipla escolha, com 4 alternativas de respostas cada, sendo que apenas 1 alternativa estará correta;
3. Para a realização da Prova Escrita, o candidato deverá utilizar apenas caneta esferográfica, de tinta azul ou preta;
4. Verifique se o caderno de provas está completo, sem falhas de impressão e se a quantidade de questões está de acordo com o informado acima. Confira também se sua prova corresponde ao cargo para o qual você se inscreveu. Caso haja qualquer divergência, comunique o fato ao fiscal imediatamente;
5. Além do caderno você está recebendo um cartão resposta, complete as informações e assine o cartão;
6. Você deverá transcrever as respostas das questões objetivas para o cartão resposta, que será o único documento válido para a correção das provas. O preenchimento do cartão resposta é de inteira responsabilidade do candidato. Este cartão **não** será substituído em caso de erro do candidato;
7. Durante a realização das provas é vedada a consulta a livros, revistas, folhetos ou anotações, bem como, o uso de máquinas de calcular, relógios e aparelhos celulares, ou ainda, qualquer equipamento elétrico ou eletrônico, sob pena de eliminação do candidato do concurso público;
8. No decurso da Prova o candidato somente poderá ausentar-se temporariamente da sala se acompanhado por um fiscal.
9. Você terá 3 horas para a realização da prova, incluindo o tempo para preenchimento do cartão-resposta.
10. O candidato somente poderá retirar-se definitivamente da sala de Prova após 60 minutos de seu início.
11. Os 3 últimos candidatos de cada sala somente poderão entregar as suas provas e retirar-se definitivamente do local simultaneamente, depois de haver rubricado o verso de todos os cartões resposta, bem como, o envelope lacrado contendo todos os cartões resposta da sala.
12. Para o **PREENCHIMENTO DO CARTÃO RESPOSTA** marque somente uma alternativa preenchendo totalmente o círculo, evitando ultrapassar a linha que margeia a letra. Não faça um X ou qualquer outra marca.

OBS: Você pode destacar esta folha. Utilize o verso para fazer suas anotações.



PREFEITURA DE NOVA TRENTO
CNPJ 82.925.025/0001-60
Praça del Comune, 126, Centro, CEP 88.270-000
Fone: 48 32673215



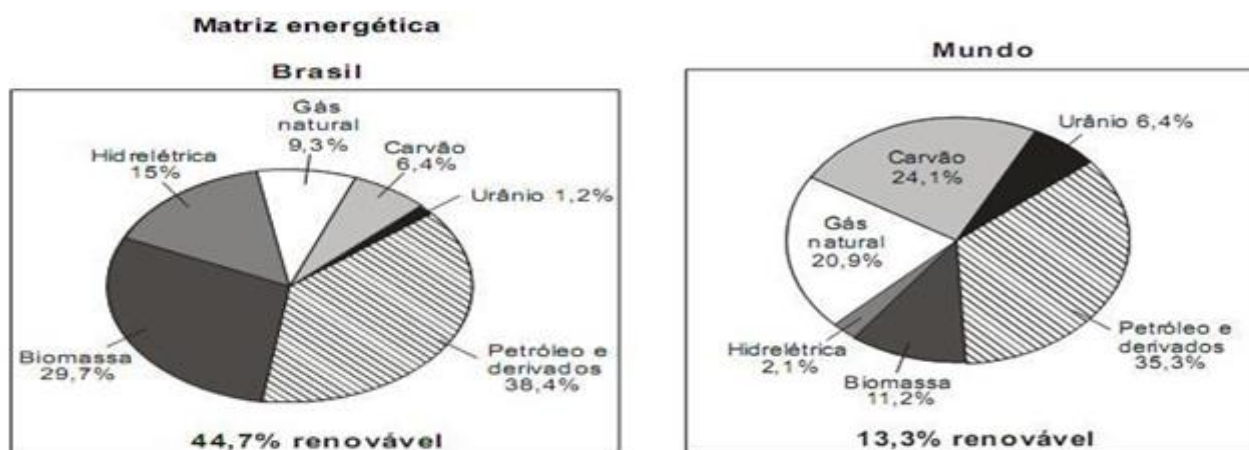


CONHECIMENTOS GERAIS E ATUALIDADES

1. A **Primavera Árabe** não se trata de um evento, de algo breve ou de uma estação do ano, trata-se de um período de transformações históricas nos rumos da política mundial. Tudo começou em dezembro de 2010 na Tunísia, sendo que o estopim que marcou o início da Primavera Árabe foi o episódio envolvendo o jovem Mohamed Bouazizi, que vivia com sua família através da venda de frutas e que teve os seus produtos confiscados pela polícia por se recusar a pagar propina. Extremamente revoltado com essa situação, Bouazizi ateou fogo em seu próprio corpo, marcando um evento que abalou a população de todo o país. Neste contexto, pode-se afirmar que a Primavera Árabe se caracteriza:

- Pelo esforço de todos os países árabes de implantar o cristianismo como religião predominante;
- Pela luta contra regimes autoritários (ditaduras) em países árabes.
- Pela vitória dos árabes na guerra contra Israel;
- Pela crescente onda de ataques terroristas promovidos pelo grupo conhecido como Estado Islâmico;

2. Observe os gráficos abaixo, que apresentam uma comparação entre a matriz energética do Brasil e do Mundo:



Sobre estes gráficos pode-se afirmar que:

- A matriz energética brasileira, um conjunto de fontes de energia ofertados no país, é das mais limpas do planeta. Quase metade da energia (44,7%) consumida aqui é renovável, ou seja, proveniente de recursos capazes de se refazer em um curto prazo.
- Analisando apenas o uso dos combustíveis fósseis (Petróleo e seus derivados, carvão e gás natural) é correto afirmar que o Brasil possui uma matriz energética mais danosa ao meio ambiente do que o planeta como um todo;

Pode-se afirmar que:

- Apenas a afirmação I está correta;
- Apenas a afirmação II está correta;
- As afirmações I e II estão corretas.
- As afirmações I e II estão incorretas;



3. Efeito Estufa é um mecanismo natural do planeta Terra para possibilitar a manutenção da temperatura numa média de 15°C, ideal para o equilíbrio de grande parte das formas de vida em nosso planeta. Sem o efeito estufa natural, o planeta Terra poderia ficar muito frio, inviabilizando o desenvolvimento de grande parte das espécies animais e vegetais. Este mecanismo vem sendo intensificado pela ação do homem o que acarreta sérias consequências para o meio ambiente. Neste contexto, dentre as alternativas abaixo assinale aquela que não é uma consequência do aumento do efeito estufa.

- a) Derretimento das geleiras;
- b) Extinção de espécies vegetais e animais;
- c) Aumento do desmatamento;
- d) Aumento de condições favoráveis para a ocorrência de incêndios em áreas verdes;

4. O município de Nova Trento é conhecido Nacional e Internacionalmente por ser o município onde está localizado:

- a) O santuário de Nossa Senhora Aparecida;
- b) O santuário de Santa Paulina;
- c) O santuário de Nossa Senhora da Salette;
- d) O santuário de Nossa Senhora do Rosário;

5. O atual prefeito de Nova Trento, eleito para exercer a administração do município de 2013 até 2016 é o senhor:

- a) Orivan Jarbas Orsi.
- b) Godofredo Luiz Tonini.
- c) Saul José Rover.
- d) Gian Francesco Voltolini.

6. A Violência doméstica é um abuso físico ou psicológico de um membro de um núcleo familiar em relação a outro, com o objetivo de manter poder ou controle. Esse abuso pode acontecer por meio de ações ou de omissões. A maioria das vítimas desse crime são mulheres. Neste contexto, é correto afirmar, que no Brasil:

- a) A violência doméstica é tratada como crime pela lei Maria da Penha;
- b) A violência doméstica é admitida como natural pela sociedade e, portanto, não criminalizada.
- c) A violência doméstica é considerada erradicada graças à lei Maria da Penha;
- d) A violência doméstica é ignorada pelas autoridades e pela legislação, pois não é considerada crime.

7. É uma formação vegetal que está presente em grande parte da região litorânea brasileira. Ocupa, atualmente, uma extensão de aproximadamente 100 mil quilômetros quadrados. É uma das mais importantes florestas tropicais do mundo, apresentando uma rica biodiversidade. Tem como características a presença de árvores de médio e grande porte, formando uma floresta fechada e densa, uma flora onde se destacam Palmeiras, Bromélias, Begônias, Orquídeas, Cipós e Briófitas, e uma fauna onde merece destaque o Bugio, o Tamanduá Bandeira, a Onça Pintada e a Capivara.

Estamos falando:

- a) da Floresta Amazônica;
- b) da Mata Atlântica;
- c) da Caatinga;
- d) dos Pampas;



8. No dia 08 de agosto de 2015 o município de Nova Trento comemorou mais um aniversário de emancipação política administrativa. Neste dia, Nova Trento completou:

- a) 125 anos;
- b) 123 anos;
- c) 120 anos;
- d) 118 anos;

9. O “pré-sal” é uma área de reservas petrolíferas encontrada sob uma profunda camada de rocha salina, que forma uma das várias camadas rochosas do subsolo marinho. As reservas do pré-sal encontradas no litoral do Brasil são as mais profundas em que já foi encontrado petróleo em todo o mundo. Representam também o maior campo petrolífero já encontrado em uma profunda região abaixo das camadas de rochas salinas ou evaporíticas. Segundo a Petrobrás de 2010 a 2014, a média anual de produção diária do pré-sal cresceu quase 12 vezes, avançando de uma média de 42 mil barris por dia em 2010 para 492 mil barris por dia em 2014.

Neste contexto, julgue as afirmações abaixo:

- I. A “camada pré-sal” está localizada na bacia sedimentar litorânea brasileira, mais precisamente, entre os litorais do Espírito Santo e Santa Catarina em uma extensão de cerca de 800 quilômetros abrangendo a região de três bacias sedimentares: as bacias do Espírito Santo, Campos e Santos.
- II. A camada pré-sal recebe este nome por se localizarem abaixo de camadas de sal, sendo que o óleo (petróleo) descoberto e explorado pela Petrobrás está localizado em camadas de 5 a 7 mil metros de profundidade abaixo do nível do mar.

Pode-se afirmar que:

- a) Apenas a afirmação I está correta;
- b) Apenas a afirmação II está correta;
- c) As afirmações I e II são corretas;
- d) As afirmações I e II são incorretas;

10. O poder legislativo do município é exercido por quem?

- a) Prefeito;
- b) Vereadores;
- c) Deputados;
- d) Promotor;

LINGUA PORTUGUESA

11. Considerando a concordância nominal, assinale a frase escrita de forma correta:

- a) Ela mesmo confirmou a presença do vereador
- b) Foi muito criticada pelos jornais o discurso do deputado.
- c) Ela ficou meia preocupada com o resultado do exame.
- d) Muito obrigada, querido, falou-me emocionada.



12. Observe a tira abaixo:



Copyright © 1999 Mauricio de Sousa Produções Ltda. Todos os direitos reservados.

5585

A partir da análise da tira acima escolha a resposta que melhor se enquadra com a situação apresentada:

- a) Magali estava cansada de ouvir contos de fadas.
- b) A escolha da Magali tem relação com o fato de ela gostar de comer.
- c) Apesar de não gostar de comer, Magali adora receitas novas.
- d) A mãe ficou triste porque não gosta de livros de receitas.

13. Assinale a série que preenche corretamente as lacunas:

- I. A aluna parecia ----- confusa. (meio/meia)
- II. As crianças comeram -----pizza no jantar. (meio/meia)
- III. As mães estavam ----- cansadas. (bastante/bastantes)
- IV. O time teve -----chances de demonstrar seu talento. (bastante/bastantes)

A sequencia correta de cima para baixo é:

- a) meio; meia; bastante; bastantes.
- b) meia; meia; bastantes; bastante.
- c) meio; meia; bastante; bastante.
- d) meia; meia; bastante; bastante.

14. Observe a tira e depois responda:



Sobre a palavra pátria está correta a afirmação:

- a) É uma dissílaba e é acentuada por ser paroxítone terminada em ditongo;
- b) É proparoxítone e não deve receber acento gráfico;
- c) É acentuada porque todas as oxítonas terminadas em a devem ser acentuadas;
- d) É acentuada porque todas as trissílabas terminadas em a são acentuadas.



15. Nas frases abaixo utilize a formas entre parênteses, conforme convier.

- I. A matemática e a física são ciências (a fim/ afim)
- II. Ele pretendia apoiá-la em seu projeto, na hora desistiu. (mas/mais)
- III. Ela está aborrecida com isso tudo. (meio/meia)

A sequencia correta, de cima para baixo é:

- a) a fim – mais – meio;
- b) afim – mas – meio;
- c) a fim – mas – meia;
- d) afim – mais – meia;

16. Assinale a frase que se completa corretamente com o segundo elemento entre parênteses.

- a) Quem possui deficiência auditiva não consegue _____ os sons com nitidez. (discriminar / discriminar);
- b) Assisti ao _____ do balé Bolshoi; (concerto / conserto);
- c) As _____ da câmara são programas de humor.; (sessões / cessões);
- d) A polícia federal combate o _____ de cocaína (tráfego / tráfico);

17. Os vícios de linguagem são palavras ou construções que vão de encontro às normas gramaticais. Neste contexto, dentre as alternativas abaixo assinale aquela que não apresenta vício de linguagem.

- a) Solicitei à cliente sua rúbrica;
- b) O segurança deteu aquele homem.
- c) José cumprimentou seu vizinho ao sair de casa.
- d) Eu assisti o filme em casa;

18. Fonema é a menor unidade sonora distintiva articulada pela voz humana. Neste contexto, a palavra “**tóxico**” apresenta quantos fonemas?

- a) 3;
- b) 4;
- c) 6;
- d) 7;

19. Dentre as alternativas abaixo assinale aquela que não apresenta dígrafo.

- a) Sequência;
- b) Cegueira;
- c) Assistir;
- d) Banho;

20. Observe a frase abaixo:

No ano de 2015 o “**lucro**”, objetivo principal da empresa, foi “**excelente**”.

Pode-se afirmar que as palavras em destaque (lucro – excelente) são respectivamente:



- a) Sujeito e predicativo do sujeito;
- b) Sujeito e adjunto adverbial;
- c) Adjunto adverbial e objeto direto;
- d) Objeto direto e adjetivo;

MATEMÁTICA E RACIOCÍNIO LÓGICO (10)

21. Observe as expressões numéricas abaixo: (IMPORTANTE: o “x” representa o sinal de multiplicação)

- I. $12 - (-3) \times (-5) =$
- II. $20 + 3 \times (-4) - 2 \times (-5) =$
- III. $5 \times (-3) - (-3) \times (+6) =$

Pode-se afirmar que:

- a) O valor da expressão I é -75 ;
- b) O valor da expressão I é maior que o valor da expressão III;
- c) A expressão que apresenta o maior valor é a expressão II;
- d) As três expressões apresentam o mesmo valor;

22. O atleta da figura ao lado é recordista catarinense dos 100 metros rasos. Sabe-se que ele percorre esta distancia em 10 segundos, neste contexto, qual é a velocidade média deste atleta, em Km/h?

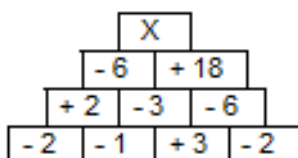
- a) 10 Km/h;
- b) 18 Km/h;
- c) 25 Km/h;
- d) 36 km/h;



23. A crise econômica está afetando todos os setores. Neste contexto, a loja de roupas “Bela Vestir” de Nova Trento reduziu os preços de seus produtos em 10% no mês de julho, porém, como as vendas não aumentaram de forma significativa, em agosto os preços foram novamente reduzidos em 10%. Após esta segunda redução Maria Eduarda comprou uma calça nesta loja no valor de R\$ 145,80. Neste contexto, qual foi a economia de Maria Eduarda, em relação ao preço praticado em junho (antes dos descontos)?

- a) R\$ 36,15
- b) R\$ 34,20
- c) R\$ 30,61
- d) R\$ 28,45

24. Observe a figura abaixo:



Descubra o “segredo da pirâmide” e assinale a alternativa que representa o valor numérico da letra X no topo da pirâmide.



- a) + 58;
- b) - 58;
- c) + 108;
- d) - 108;

25. IDH (Índice de Desenvolvimento Humano) é um índice que serve de comparação entre os países, com objetivo de medir o grau de desenvolvimento econômico e a qualidade de vida oferecida à população. O IDH Municipal varia de 0 a 1 considerando indicadores de longevidade (saúde), renda e educação. Quanto mais próximo de 0, pior é o desenvolvimento humano do município. Quanto mais próximo de 1, mais alto é o desenvolvimento do município. A tabela abaixo apresenta os indicadores do município de Nova Trento em 2010:

| Indicador | Valor do IDH |
|-------------|--------------|
| Longevidade | 0,891 |
| Renda | 0,749 |
| Educação | 0,628 |

Sabe-se que o IDH municipal é calculado através da média aritmética dos indicadores apresentados na tabela acima, logo, pode-se afirmar que o IDH municipal de Nova Trento é de:

- a) 0,625
- b) 0,684
- c) 0,756
- d) 0,812

26. A figura ao lado é da maquete de um edifício que será construído no centro do município de Nova Trento. Sabe-se que a altura da maquete é de 80 cm, e que esta foi construída em uma escala de 1:30 cm. Neste contexto, qual será a altura real do prédio?

- a) 20 metros;
- b) 24 metros;
- c) 32 metros;
- d) 38 metros;

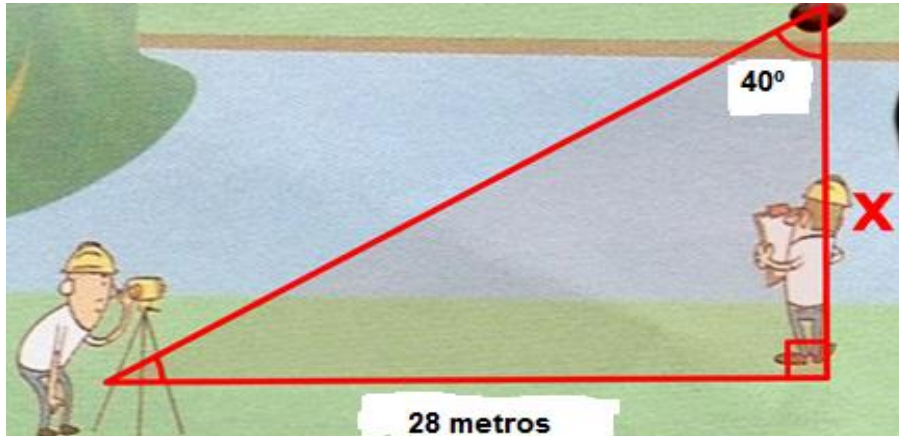


27. Sabe-se que a base de um retângulo tem 3 cm a mais que a altura. Qual é o valor da área deste retângulo se o seu perímetro é de 26 cm.

- a) 5 cm²;
- b) 8 cm²;
- c) 25 cm²;
- d) 40 cm²;



28. Dois topógrafos da prefeitura municipal de Nova Trento estão fazendo algumas medições no interior do município com a ajuda de um teodolito. Em um dado momento um deles observa uma pedra que está bem à sua frente, do outro lado do rio, conforme a figura abaixo.



Sabendo que $\sin 40^\circ = 0,64$, que $\cos 40^\circ = 0,76$ e que $\tan 40^\circ = 0,84$, qual é a largura aproximada do rio?

- a) 13 metros;
- b) 23 metros;
- c) 33 metros;
- d) 43 metros;

29. Após fazer uma reforma no posto de saúde da prefeitura municipal de Nova Trento, o pedreiro recobriu a parede com cerâmica (azulejo), conforme a imagem ao lado. Sabendo que a área total da sala é de 44 m², e que a peça de cerâmica utilizada era retangular, com 30 cm de comprimento e 20 cm de largura, quantos azulejos, aproximadamente, foram necessárias?



- a) 730 azulejos;
- b) 880 azulejos;
- c) 7.300 azulejos;
- d) 8.800 azulejos;

30. Dona Maria foi ao supermercado para comprar os itens da lista de compras abaixo:

| Produto | Preço |
|-----------------|---------------------|
| 5 Kg de Arroz | R\$: 2,97 por Kg |
| 2 kg de Feijão | R\$: 4,90 por Kg |
| 5 kg de Açúcar | R\$: 1,88 por Kg |
| 1 vidro de Café | R\$: 3,55 a unidade |
| 1 margarina | R\$: 3,95 a unidade |

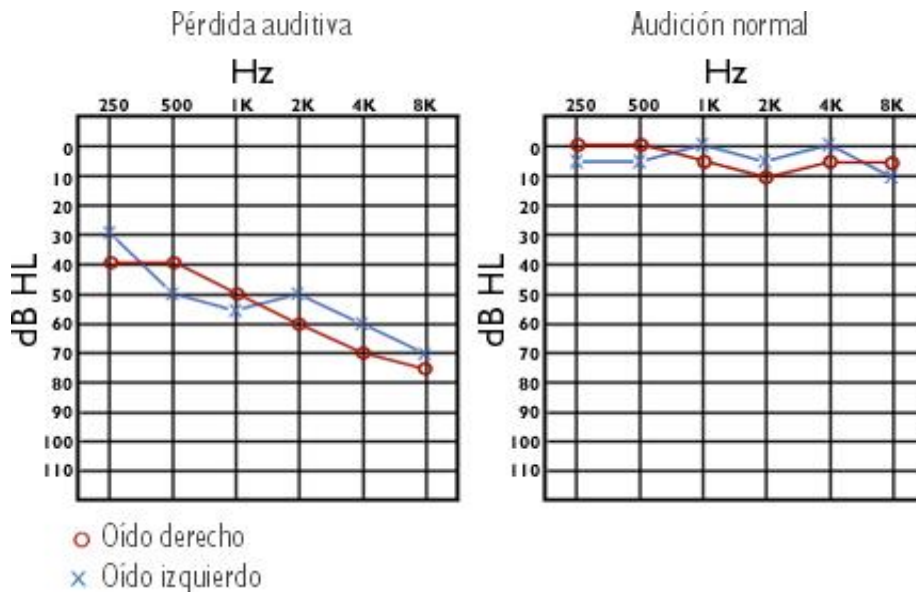
Para efetuar o pagamento Dona Maria utilizou uma nota de R\$ 100,00 (Cem reais), de quanto foi o seu troco?

- a) R\$ 17,25
- b) R\$ 41,55
- c) R\$ 58,45
- d) R\$ 82,75



CONHECIMENTOS ESPECÍFICOS

31. Sobre a correta interpretação de um audiograma julgue as afirmações abaixo e complete com verdadeiro (V) ou falso (F).



- () A linha horizontal do audiograma representa o volume do som ou a intensidade que é calculada em dB (decibéis). Quanto mais para baixo a linha se mover mais alto o ruído se torna, o que corresponde ao aumento do volume do rádio.
- () Quando zero decibel, no topo da linha, representa o som mais suave que uma pessoa, normalmente, pode ouvir, o que não impede de modo algum de se ouvir outros sons.
- () A linha vertical do audiograma representa a frequência do som ou da fala medida em hertz (Hz). A frequência cresce gradualmente com o aumento dos movimentos para a direita, onde os tons tornam-se mais agudos, frequências entre 500 (Hz) e 3000 (Hz) são as mais comuns e usadas durante uma conversa normal.
- () Durante o teste de audição os resultados são registrados no audiograma com a sigla O no ouvido direito e X no ouvido esquerdo. O resultado com as linhas vermelha e azul mostra o percentual de audição, o que deve ser bem diferente.

A sequencia correta de cima para baixo é:

- a) F – V – F – V.
- b) F – F – F – V.
- c) V – V – V – F.
- d) V – F – V – F.

32. As classificações dos Receptores sensoriais são quanto à natureza do estímulo que eles captam. Todas as alternativas abaixo são Receptores sensoriais, EXCETO.

- a) Quimioceptores.
- b) Linha lateral.
- c) Fotoceptores.
- d) Termoceptores.



33. O intestino primitivo é formado por três segmentos, sendo que um deles origina a faringe, o esôfago, o estômago, a primeira porção do intestino delgado (o duodeno), o pâncreas, o fígado e a vesícula biliar, estamos falando de:
- Intestino Médio.
 - Intestino Posterior.
 - Intestino anterior.
 - Intestino Grosso.
34. Podemos afirmar que os músculos supra-hioideos são músculos do pescoço. Todos os listados abaixo são músculos supra-hioideos, EXCETO.
- Digástrico.
 - Estiloióideo.
 - Miloiódeo.
 - Peròneo.
35. Nervos cranianos são os que fazem conexão com o encéfalo. Os motores (puros) são os que movimentam o olho, a língua e acessoriamente os músculos látero-posteriores do pescoço. Dentre as alternativas abaixo assinale aquele que não se enquadra no descrito anteriormente.
- Nervo Olfatório.
 - Nervo Oculomotor.
 - Nervo Troclear.
 - Nervo Abducente.
36. Quando falamos sobre Epidemiologia todas as afirmações abaixo são corretas, EXCETO.
- Epidemiologia é o estudo da frequência, da distribuição e dos determinantes dos estados ou eventos relacionados à saúde em específicas populações e a aplicação desses estudos no controle dos problemas de saúde. (J. Last, 1995).
 - A epidemiologia constitui também instrumento para o desenvolvimento de políticas no setor da saúde. Sua aplicação neste caso deve levar em conta o conhecimento disponível, adequando-o às realidades locais.
 - Sua aplicação foi inicialmente feita visando o controle de doenças transmissíveis e, no estudo das relações entre condições ou agentes ambientais e doenças específicas.
 - A epidemiologia é essencial no processo de identificação e mapeamento de doenças não emergentes.
37. A cavidade nasal na realidade são duas cavidades paralelas que vão das narinas até à faringe e estão separadas uma da outra por uma parede cartilaginosa. A cavidade nasal e os seios paranasais têm várias funções: EXCETO.
- Ajudar a filtrar o ar quente e úmido que respiramos.
 - Dar ressonância à voz.
 - Aliviar o peso do crânio.
 - Fornecer estrutura para o pescoço.



38. Sobre a Triagem do teste da Orelhinha assinale a afirmação incorreta.
- a) Um dos sentidos mais importantes para o desenvolvimento completo da criança é a audição, a partir do quinto mês de gestação, o bebê é capaz de ouvir os sons do corpo da mamãe e sua voz.
 - b) É através da audição e da experiência intra-uterina que o desenvolvimento da linguagem das crianças se inicia, qualquer perda na capacidade auditiva, mesmo sendo pequena, impede a criança de receber adequadamente as informações sonoras que são essenciais para a aquisição da linguagem.
 - c) O teste da Orelhinha é realizado já no primeiro mês de vida do bebê e ,ao contrário do nome parecido com o teste do pezinho, no Teste da Orelhinha não é preciso fazer um furinho na orelha do bebê, é realizado com o bebê dormindo, em sono natural, é indolor e não machuca, não tem contraindicações e dura em torno de 30 minutos.
 - d) O exame consiste na colocação de um fone acoplado ao computador na orelha do bebê que emite sons de fraca intensidade e recolhe as respostas que a orelha interna do bebê produz.
39. A cavidade nasal e nos seios paranasais são revestidos por uma camada de muco denominada mucosa, sendo que a mucosa tem muitos tipos de células, neste contexto, assinale a afirmação incorreta.
- a) São as células do músculo liso, escamosas, células achatadas que revestem os seios e formam a maior parte da mucosa.
 - b) São as células glandulares, similares às células pequenas das glândulas salivares, que produzem muco e outros líquidos.
 - c) São as células nervosas, que são responsáveis pela sensação e pelo olfato.
 - d) São as células dos vasos sanguíneos.
40. Termo usado para nomear as alterações motoras da fala resultantes de lesões do sistema nervoso central ou periférico. Assinale a alternativa correta que condiz com este conceito.
- a) Dislalia.
 - b) Disartria.
 - c) Disartrofonía.
 - d) Disfonia.