



# PREFEITURA MUNICIPAL DE SÃO BENEDITO – CE

## CONCURSO PÚBLICO – EDITAL 001/2015

### MÉDICO – PSF

NOME DO CANDIDATO: \_\_\_\_\_

RG: \_\_\_\_\_ ÓRGÃO EXPEDIDOR: \_\_\_\_\_

Nº DE INSCRIÇÃO

--	--	--	--	--	--	--	--	--	--

ASSINATURA: \_\_\_\_\_

### LEIA COM ATENÇÃO E SIGA RIGOROSAMENTE ESTAS INSTRUÇÕES:

1. Este caderno contém 60 (sessenta) questões de múltipla escolha, numeradas de 01 a 60.
2. Cada uma das questões apresenta um enunciado seguido de 5 (cinco) alternativas, das quais somente uma deve ser assinalada.
3. Examine se a prova está completa, com a sequência numérica das questões, se há falhas ou imperfeições gráficas que causem dúvidas. Qualquer reclamação deverá ser feita durante os 20 minutos iniciais. Após esse tempo, qualquer reclamação será desconsiderada.
4. Depois de decorridas 2 (duas) horas do início da prova, será distribuído o cartão-resposta, o qual será o único documento válido para a correção da prova. Ao recebê-lo, verifique se seu nome e seu número de inscrição estão corretos. Reclame imediatamente se houver discrepância.
5. O cartão-resposta não pode ser dobrado, amassado, rasurado ou manchado. Exceto sua assinatura e inscrição, nada deve ser escrito ou registrado fora dos locais destinados às respostas. Tenha muita atenção ao marcar seu cartão-resposta, pois não haverá substituição por erro do candidato. Marque sua resposta pintando completamente o espaço correspondente à alternativa de sua opção.  
  
Ex.: A ○ B ● C ○ D ○ E ○
6. A leitora de marcas não registrará as respostas em que houver falta de nitidez, uso de corretivo, marcação a lápis ou marcação de mais de uma letra. Não serão computadas questões não assinaladas.
7. Durante a prova, é proibido o intercâmbio e o empréstimo de material de qualquer natureza entre os candidatos. A tentativa de fraude, a indisciplina e o desrespeito às autoridades encarregadas dos trabalhos são faltas que implicarão a desclassificação do(a) candidato(a).
8. Qualquer forma de comunicação entre candidatos implicará a eliminação de ambos do certame.
9. Não será permitido ao candidato, durante a realização das provas, portar armas, aparelhos eletrônicos de qualquer natureza, relógios, bolsas, livros, jornais e impressos em geral; bonés, chapéus, lenço de cabelo, bandanas etc.
10. É vedado o uso de telefone celular ou de qualquer outro meio de comunicação. O candidato que for flagrado portando aparelho celular, durante o período de realização da prova, ou, ainda, aquele cujo aparelho celular tocar, será sumariamente eliminado do certame.
11. Em caso de dúvida, durante a prova, levante o braço para solicitar atendimento da fiscalização. Jamais pergunte em voz alta.
12. O candidato que permanecer na sala de provas, por mais de 3h45min, poderá levar consigo a cópia do gabarito, em formulário específico, fornecido pela **ORGANIZADORA**.
13. Ao terminar a resolução da prova, entregue-a ao fiscal de sala juntamente com o **cartão-resposta** (devidamente assinado). Não se esqueça, também, de **assinar a folha de frequência**.
14. As provas terão duração de 4 (quatro) horas. Turno da Manhã com início às 08h00min e término às 12h00min. Turno da Tarde com início às 14h00min e término às 18h00min. O candidato só poderá ausentar-se da sala depois de decorridas duas horas do início das provas.
15. Os **Gabaritos Preliminares das Provas Objetivas** serão divulgados 72 (setenta e duas) horas após a realização das mesmas.



**CONHECIMENTOS GERAIS**

Leia o Texto I, para responder às questões 1 a 6.

**TEXTO I  
TOCANDO EM FRENTE**

Ando devagar porque já tive pressa  
E levo esse sorriso porque já chorei demais  
Hoje me sinto mais forte, mais feliz,  
Quem sabe eu só levo a certeza  
De que muito pouco eu sei  
Ou nada sei.

Conhecer as manhas e as manhãs,  
O sabor das massas e das maçãs.  
É preciso amor para poder pulsar,  
É preciso paz para poder sorrir,  
É preciso chuva para florir.

Penso que cumprir a vida seja simplesmente  
Compreender a marcha e ir tocando em frente.  
Como um velho boiadeiro levando a boiada,  
Eu vou tocando os dias pela longa estrada, eu sou  
Estrada eu vou.

Todo mundo ama um dia  
Todo mundo chora um dia  
A gente chega e no outro vai embora  
Cada um de nós compõe a sua história  
E cada ser em si  
Carrega o dom de ser capaz  
E ser feliz

(Almir Sater / Renato Teixeira)

**1. Os versos “Ando devagar porque já tive pressa / E levo esse sorriso porque já chorei demais” denotam**

- alegria.
- experiência.
- tristeza.
- sagacidade.
- popularidade.

**2. Segundo o Texto I, a felicidade depende**

- do amor.
- do sorriso.
- de cada ser.
- das manhas e das manhãs.
- da compreensão.

**3. O tema central do Texto I é o(a)**

- boiada.
- amor.
- felicidade.
- vida.
- conhecimento.

**4. De acordo com o Texto I, marque a opção CORRETA.**

- Nem todas as pessoas têm a oportunidade de amar.
- Poucas pessoas sofrem na vida.
- Os dias são todos iguais.
- Não somos responsáveis pelo que acontece conosco.
- A felicidade está em cada um de nós.

**5. Os versos “Como um velho boiadeiro levando a boiada, / Eu vou tocando os dias pela longa estrada” estabelecem uma circunstância de**

- comparação.
- causa.
- consequência.
- condição.
- proporção.

**6. Indique a opção CORRETA em relação ao período “...muito pouco eu sei / Ou nada sei”.**

- É composto por subordinação e tem oração concessiva.
- É composto por coordenação e tem oração alternativa.
- É composto por coordenação e tem oração aditiva.
- É composto por subordinação e tem oração predicativa.
- É um período simples.

**7. Em relação à correlação entre tempos verbais, marque a opção INCORRETA.**

- Se eu tiver condições, ficarei aqui por alguns meses.
- Se eu tivesse condições, ficaria aqui por alguns meses.
- Se você tem condições, fique aqui por alguns meses.
- Se nós temos condições, ficamos aqui por alguns meses.
- Se eu tivesse condições, ficava aqui por alguns meses.

**8. Marque a opção que contém apenas pronomes indefinidos.**

- que / qual / muito / um.
- este / aquele / o / isso.
- algum / outrem / alguém / cada.
- que / qual / quanto / quem.
- minha / nossas / seu / vosso.

**9. Em qual das alternativas a conjunção “e” exerce valor adversativo?**

- Casou e viajou.
- A casa era antiga e muito conservada.
- Juçara fuma, e não traga.
- “Dá-me um ponto de apoio, e suspenderei a terra.”
- Precisamos esclarecer isso, e logo.

Leia o Texto II, para responder às questões 10 a 13.

**TEXTO II**

Pode dizer-se que a presença do negro representou sempre fator obrigatório no desenvolvimento dos latifúndios coloniais. Os antigos moradores da terra foram, eventualmente, prestimosos colaboradores da indústria extrativa, na caça, na pesca, em determinados ofícios mecânicos e na criação do gado.

Difícilmente se acomodavam, porém, ao trabalho acurado e metódico que exige a exploração dos canaviais. Sua tendência espontânea era para as atividades menos sedentárias e que pudessem exercer-se sem regularidade forçada e sem vigilância e fiscalização de estranhos.

(Sérgio Buarque de Holanda, in Raízes)

**10. “Prestimosos colaboradores”, linhas 3 e 4, é o mesmo que**

- importantes colaboradores.
- inúteis colaboradores.
- muitos colaboradores.
- velozes colaboradores.
- infinitos colaboradores.

**11. De acordo com o Texto II, os antigos moradores da terra não tinham**

- habilidades.
- trabalho.
- disposição.
- preguiça.
- responsabilidade.

**12. Marque a opção CORRETA quanto à função sintática do termo “Os antigos moradores da terra...”, no primeiro parágrafo.**

- Sujeito composto.
- Sujeito simples cujo núcleo é moradores.
- Sujeito simples cujo núcleo é antigos.
- Sujeito oracional.
- Sujeito indeterminado.

**13. Em “Difícilmente se acomodavam...” o termo destacado é**

- advérbio de tempo.
- adjetivo.
- adjunto adnominal.
- adjunto adverbial de tempo.
- advérbio de modo.

14. Marque a alternativa CORRETA quanto à concordância.

- Há menos gente na cidade hoje.
- Conheci bastante pessoas na festa.
- Ela anda meio desanimada.
- Comprei duzentas gramas de queijo.
- Ela disse muito obrigado ao rapaz que a ajudou.

15. Pela mesma regra de pássaro e júri devem ser acentuadas as seguintes palavras:

- Pessego e gari.
- Relampago e taxi.
- Desemprego e iris.
- Bussola e caju.
- Armazem e vi.

16. Marque a opção em que a palavra foi formada por aglutinação.

- Girassol.
- Desconforto.
- Refazer.
- Vinagre.
- Amanhecer.

17. Calcule o juro simples referente a um capital de R\$ 2.400,00 nas seguintes condições: taxa de juros 21% a.a. e prazo: 32 dias.

- R\$ 44,80.
- R\$ 52,40.
- R\$ 58,90.
- R\$ 72,00.
- R\$ 84,70.

18. Considere dois números inteiros, "a" e "b", consecutivos e positivos. Qual das expressões corresponde, necessariamente, a um número par em seu resultado?

- $1 + a + b$ .
- $2a + b$ .
- $a + b$ .
- $1 + ab$ .
- $2 + a + b$ .

19. Num grupo de pessoas, verificou-se que 310 leram apenas um dos gibis A ou B; 270, o gibi B; 80, os dois gibis, A e B; e 340 não leram o gibi A. O número de estudantes desse grupo é igual a

- 480.
- 380.
- 540.
- 610.
- 430.

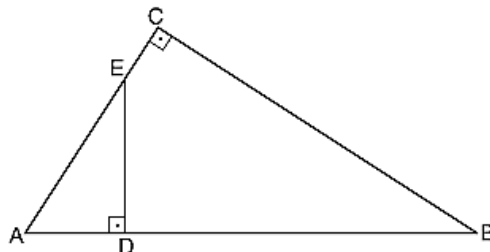
20. A loja de computadores instrui seus vendedores para calcularem o preço de uma mercadoria nas compras com cartão de crédito, dividindo o preço à vista por 0,75. Dessa forma, pode-se concluir que o valor da compra com cartão de crédito em relação ao preço à vista apresenta um

- desconto de 33,33%
- aumento de 25%
- desconto de 75%
- aumento de 33,33%
- aumento de 75%

21. Se  $f$  é uma função do primeiro grau tal que  $f(12) = 45$  e  $f(15) = 54$ , então  $f(18)$  é igual a

- 60.
- 61.
- 62.
- 63.
- 65.

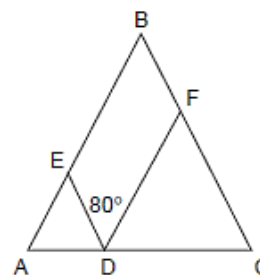
22. Na figura,  $AC = 5$ ,  $BC = 6$  e  $DE = 3$ .



A área do triângulo ADE é

- 10.
- 15.
- $15/2$ .
- $15/4$ .
- $15/8$ .

23. Na figura a seguir, tem-se que  $AD = AE$ ,  $CD = DF$  e  $BA = BC$  e o ângulo EDF mede  $80^\circ$ .



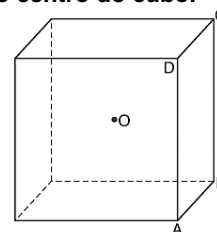
Quanto mede o ângulo ABC?

- $90^\circ$
- $60^\circ$
- $20^\circ$
- $30^\circ$
- $50^\circ$

24. João encontrou um paralelepípedo retangular com lados de 2, 3 e 6 cm. A distância máxima entre dois vértices desse paralelepípedo, em cm, é

- 11.
- 10.
- 7.
- 8.
- 9.

25. Na figura, O é o centro do cubo.



Se o volume do cubo é 1, o volume da pirâmide de base ABCD e vértice O é

- $1/2$ .
- $1/3$ .
- $1/4$ .
- $1/6$ .
- $1/8$ .

26. Um trabalho pode ser feito em 2 horas por Pedro, em 3 horas por Maria e em 6 horas por Juquinha. Em quanto tempo será feito pelos 3 juntos?

- 1h.
- $1/2$ h.
- 2h e  $1/2$ .
- 1h e  $1/2$ .
- 2h.

27. A fração  $\frac{0,65}{0,0104}$  é equivalente a

- 1/15.
- 1/50.
- 2/125.
- 3/45.
- 9/125.

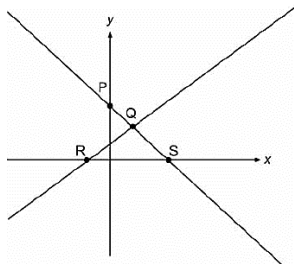
28. Calcule o Mínimo Múltiplo Comum (MMC) de (18, 75, 250) e marque a opção que apresenta o resultado CORRETO.

- 1.570.
- 2.135.
- 2.250.
- 3.350.
- 4.570.

29. Se o conserto de  $\frac{2}{3}$  de um carro foi realizado em 5 dias por 8 mecânicos trabalhando 6 horas por dia, o restante do conserto, agora, com 6 mecânicos, trabalhando 10 horas por dia será feito em quantos dias?

- 1.
- 2.
- 3.
- 4.
- 9.

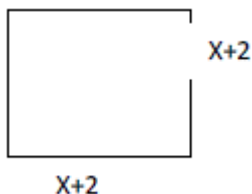
30. Observe a figura.



As retas da figura representam graficamente um sistema de duas equações do 1º grau com duas incógnitas, cuja solução pode ser representada pelo ponto

- P.
- R.
- S.
- Y.
- Q.

31. A área do seguinte quadrado é 49 cm<sup>2</sup>.



O valor de X, em cm, é

- 3.
- 6.
- 5.
- 9.
- 11.

32. A base de uma pirâmide é um triângulo equilátero de lado L = 6 cm e arestas laterais das faces A = 4 cm. Calcule a altura da pirâmide em cm.

- 1.
- 2.
- 3.
- 4.
- 5.

33. Observe a charge:



A charge denuncia o(a)

- morte da ética em Brasília.
- sepultamento da ética no Planalto.
- falta de ética dos representantes do povo.
- ausência de ética nas deliberações do Congresso.
- morte do principal princípio de governo.

34. Na página, Sorriso Pensante por Ivan Cabral, um leitor registrou:

Sr. Ivan Cabral,

sou professor de Sociologia em Escola Pública do D.F. e peço autorização para utilizar sua charge em atividade de sala de aula.

A atitude do leitor

- demonstra simpatia pelo trabalho criativo do autor.
- é pedagógica por aplicar charge em atividade discente.
- coloca em dúvida sua atuação como professor, por solicitar produção alheia.
- compromete o conteúdo da Sociologia por não estar relacionado à charges.
- apresenta um comportamento ético em relação à autoria da charge.

Leia a notícia a seguir para responder às questões 35 e 36.

A ecologia integral do Papa Francisco

Correm rumores de que a ecologia integral é o tema central da encíclica sobre a ecologia e o clima do **Papa Francisco**, a ser publicada nos próximos meses. A Igreja aconselhará o seu 1,2 bilhão de membros sobre questões morais prementes. A eminente encíclica já gerou um considerável impacto na mídia, grande parte do qual pode ser seguido no sítio eletrônico do **Fórum Yale sobre Religião e Ecologia**.

<http://ihu.unisinos.br/noticias/543131-a-ecologia-integral-do-papa-francisco>

35. O "integral" no termo ecologia integral é a novidade. Nessa abordagem podemos esperar que o Papa refira-se em prioridade sobre a(s)

- bondade de Deus ao criar a natureza para o homem.
- responsabilidade de todos na proteção do Planeta.
- questões de igualdade e justiça social.
- desigualdade econômica extrema.
- competição desenfreada pelo recurso.

36. Encíclica, linhas 2 e 5, é

- o nível mais alto e o mais abrangente de ensinamento da Igreja Católica.
- o instrumento principal pelo qual a palavra do Papa se torna lei.
- a intenção de trabalho do cristão, ditada pelo Papa.
- o mandamento da era moderna para os cristãos.
- um pronunciamento do Papa que orienta cardeais e bispos.

Leia o Texto III, para responder à questão 37.

### TEXTO III

#### Imigração no Brasil: Ilegais provocam crise humanitária no Acre

19/04/2013 08h03

Vivendo em condições precárias, imigrantes haitianos aguardam visto provisório em Brasília no estado do Acre.

O Brasil sempre foi conhecido por ser um país aberto aos demais povos, não impondo restrições em suas fronteiras. Nos últimos anos, porém, o crescimento da economia, em meio à crise financeira que atingiu a Europa e os Estados Unidos, tornou o país atrativo para uma massa de imigrantes vindos de países pobres.

"É como se estivesse formada uma rota internacional migratória que se associa à crise social grave que vive o povo do Haiti e a Polícia Federal tem tratado essa questão com bastante cuidado", diz Tião Viana.

A questão é que muitos Estados, principalmente da região Norte, não possuem estrutura de apoio para receber esses imigrantes, a maioria ilegais. E a política da nação acolhedora acaba gerando uma crise social.

<http://vestibular.uol.com.br/resumo-das-disciplinas/atualidades/imigracao-no-brasil-ilegais-provocam-crise-humanitaria-no-acre.htm>

#### 37. Considerando o Texto III, analise as afirmações a seguir.

- I. A situação é mais grave onde cerca de 1,3 mil refugiados vivem em condições precárias, em abrigos improvisados, sem assistência médica ou alimentação adequada.
- II. O fluxo de estrangeiros aumentou no último mês e levou o governador do Acre, Tião Viana, a decretar situação de emergência humanitária no Estado.
- III. A rota migratória começou em 2010, quando um terremoto devastou o Nepal, matando cerca de 200 mil habitantes.
- IV. Após a tragédia, muitos habitantes do Nepal deixaram a ilha e vieram para o Brasil em busca de emprego, aqui eles recebem um "visto humanitário"
- V. A rota aberta pelos haitianos também atraiu imigrantes de outras nacionalidades, como senegaleses, nigerianos, dominicanos e indianos.
- VI. No caso de estrangeiros vindos de países africanos em guerra, a documentação é diferente, a condição é de refugiados.

#### Marque a opção que apresenta as afirmativas CORRETAS.

- a) I – III – V – VI
- b) III – IV – V – VI
- c) I – II – III – IV
- d) I – II – V – VI
- e) II – III – IV – VI.

#### 38. Leia a notícia:

Quando lembramos dos atletas olímpicos, logo vem à mente a referência da perseverança, disciplina, dedicação e força de vontade. Conquistas que seguem como exemplo para todo o mundo. Estar em contato, sintonia e respeito com o meio ambiente também faz parte dos bons exemplos a serem seguidos pelos estudantes dos Jogos Escolares da Juventude 2015 que estiveram, na manhã desta sexta-feira (4/9), em visita ao Parque Ecológico do Cocó, em Fortaleza.

(<http://www.ceara.gov.br/component/content/article/13955/13955>).

#### Os referidos atletas estiveram no Ceará para participar do(da)s

- a) Fórum Pró-Olimpíadas 2016.
- b) treinos de diversas modalidades classificatórias.
- c) disputas de atletismo a nível nacional.
- d) competições internacionais de *badminton*.
- e) Jogos Escolares da Juventude.

39. São Benedito tem muitos filhos ilustres que se destacaram em várias áreas do conhecimento, além de exercerem funções na política, na educação e na cultura. Um deles foi filósofo e escritor, catedrático do Colégio Pedro II no Rio de Janeiro, formado como bacharel em direito, possui monumento em sua homenagem, dentre outras ações. Essa é parte da biografia de

- a) Adolfo Correia de Araujo.
- b) Raimundo de Farias Brito.
- c) Claudio de Sá do Amaral.
- d) Mons. Tibúrcio Alves.
- e) Luiz Gonzaga Pinto de Araujo.

#### 40. A bandeira de São Benedito tem por lema "*Virtus et Labor*" que significa

- a) Vitória e Liberdade.
- b) Virtude e Trabalho.
- c) Vitória e Lealdade.
- d) Virtude e Liberdade.
- e) Valentia e Trabalho.

### CONHECIMENTOS ESPECÍFICOS

#### 41. Qual dos estudos a seguir é o mais indicado para a investigação de associações etiológicas em doenças de baixa incidência?

- a) Secional.
- b) Ensaio clínico randomizado.
- c) Coorte.
- d) Ecológico.
- e) Caso-controle.

#### 42. Qual, das doenças NÃO faz parte do Sistema Nacional de Agravos Notificáveis?

- a) Sarampo.
- b) Varíola.
- c) Raiva.
- d) Erisipela.
- e) Tuberculose.

#### 43. Qual dos elementos é considerado padrão do Sistema de Informações de Mortalidade (SIM)?

- a) Serviço de Medicina Legal.
- b) Declaração de Óbito.
- c) Cartório de Registro Civil
- d) Serviço de Verificação de Óbitos.
- e) Atestado de óbito.

#### 44. A colecistite aguda refere-se a uma síndrome de dor no quadrante superior direito, febre e leucocitose associada à inflamação da vesícula biliar que, geralmente, está relacionado à presença do cálculo no interior da vesícula biliar. Sobre esta patologia, afirma-se que

- I. colecistite acalculosa é clinicamente idêntica à colecistite aguda, mas não está associada com cálculos biliares, e ocorre geralmente em pacientes criticamente enfermos. É responsável por cerca de 10 por cento dos casos de colecistite aguda e está associada com alta morbidade e mortalidade.
- II. colecistite crônica é o termo usado pelo patologista para descrever a infiltração de células inflamatória crônica da vesícula biliar visto em histopatologia. É quase sempre associada com a presença de cálculos biliares e pensa-se ser o resultado de uma irritação mecânica ou ataques recorrentes de colecistite aguda que conduzem a fibrose e espessamento da vesícula biliar.
- III. assim como na cólica biliar, o desenvolvimento de colecistite aguda está completamente explicado pela obstrução do canal cístico.

#### Marque a opção que indica a(s) afirmativa(s) CORRETA(S).

- a) I
- b) I – III
- c) II – III
- d) I – II – III
- e) I – II.

**45. Pesquisadores resolvem investigar a relação entre o consumo regular de café e os eventos coronarianos agudos. Para isso decidem acompanhar toda a população adulta de uma pequena cidade, registrando todos os casos de síndromes coronarianas agudas ao longo de três anos. A informação sobre o consumo de café é obtida através de consultas domiciliares a todos os habitantes da cidade. Trata-se então de um estudo**

- observacional, prospectivo de coorte.
- observacional, retrospectivo de caso-controle.
- observacional do tipo transversal.
- experimental, prospectivo de coorte.
- experimental, retrospectivo de coorte.

**46. As lesões traumáticas de baço que podem ter tratamento conservador devem ser acompanhadas**

- com o paciente internado, observando-se periodicamente radiografias e Hb/Ht.
- com o paciente internado, observando-se periodicamente TC e Hb/Ht, além dos parâmetros hemodinâmicos.
- ambulatorialmente com retornos do paciente a cada cinco dias.
- com o paciente internado, observando-se periodicamente RNM e Hb/Ht.
- ambulatorialmente com retornos do paciente a cada dois dias.

**47. Coleção purulenta bem limitada, desenvolvida em uma cavidade neoformada no interior dos tecidos, posterior a uma inflamação de evolução aguda. Trata-se de**

- osteomielite.
- panarício.
- adenopatia.
- abscesso frio.
- abscesso quente.

**48. Mulheres gestantes, não vacinadas ou com passado vacinal para tétano ignorado, devem tomar**

- uma dose da vacina na 14ª semana.
- três doses da vacina, com intervalo de 6 semanas, a partir da 12ª semana.
- uma dose de reforço logo que possível.
- duas doses da vacina, com intervalo de 8 semanas, a partir da 20ª semana.
- três doses da vacina, com intervalo de 8 semanas, a partir da 20ª semana.

**49. O esquema proposto pelo Ministério da Saúde para o tratamento da sífilis primária é penicilina benzatina**

- 2,4 milhões UI, intramuscular (IM) semanal, durante 3 semanas.
- 2,4 milhões UI, intramuscular (IM), repetida após uma semana.
- 4,8 milhões UI, intramuscular (IM), repetida após uma semana.
- 2,4 milhões UI, intramuscular (IM) em dose única (1,2 milhão em cada glúteo).
- 4,8 milhões UI, intramuscular (IM) em dose única (2,4 milhões em cada glúteo).

**50. A dismenorreia primária é caracterizada como dor em cólica, recorrente, localizada no abdome inferior, que ocorre no período menstrual. A dismenorreia é a queixa ginecológica mais comum em adolescentes e a principal causa de absentismo na escola ou no trabalho. A causa mais comum de dismenorreia primária é**

- varizes pélvicas.
- não há causa subjacente na dismenorreia primária.
- doença inflamatória pélvica.
- aderências pélvicas.
- endometriose.

**51. Pré-escolar de três anos, sexo feminino, apresenta quadro de urgência e disúria há dois dias. Exame físico: dor discreta à palpação da região suprapúbica, restante sem anormalidades. Exame de urina: piócitos incontáveis, 10/15 hemácias por campo de grande aumento. A conduta indicada nesse momento consiste em**

- internar, colher urinocultura, realizar ultrassonografia e iniciar tratamento com ceftriaxona.
- colher urinocultura e reavaliar em 72h, iniciando antimicrobiano de acordo com resultado.
- iniciar tratamento ambulatorial com amoxicilina sem necessidade de exame complementar.
- colher urinocultura e iniciar tratamento ambulatorial com sulfametoxazol-trimetoprim.
- realizar ultrassonografia em regime de urgência e reavaliar conduta após resultado.

**52. Adolescente de 11 anos, com diagnóstico de SIDA, apresenta-se desnutrido sem indicação de internação. O último exame mostrou CD4 de 150 células/mm<sup>3</sup>. Além da orientação alimentar e do tratamento específico para SIDA, está indicada quimioprofilaxia para**

- pneumocistose.
- tuberculose.
- tuberculose e pneumocistose.
- candidíase e pneumocistose.
- criptococose.

**53. Pré-escolar de três anos apresenta febre por cinco dias, acompanhada de fraqueza, mal-estar, dor de garganta, lacrimejamento, eritema das conjuntivas e linfadenopatia cervical e pré-auricular. O provável agente etiológico desse quadro clínico?**

- Adenovírus do tipo 3.
- Vírus herpes simples tipo 1.
- Streptococcus pyogenes.
- Bartonella henselae.
- Vírus de Epstein-Barr.

**54. As malignidades, eventualmente, manifestam-se, remotamente, através de efeitos mediados pela liberação de fatores humorais com efeitos biológicos diversos ou através de reações de hipersensibilidade mediadas pelo sistema imunológico. Marque a alternativa INCORRETA em relação às síndromes paraneoplásicas.**

- Síndrome carcinoide (rubor facial, hipotensão e diarreia) é causada pela liberação maciça de serotonina na circulação a partir de tumores carcinoide originados do intestino médio (origem embriológica), sugerindo metástases hepáticas já instaladas.
- Hipoglicemia severa pode estar associada a malignidades através da formação de IGF-II por tumores mesenquimais, anticorpos anti-insulina ou comprometimento extenso e maciço do fígado pelo tumor.
- Síndrome de Eaton-Lambert caracteriza-se por fraqueza muscular distal que melhora com contração mantida do membro acometido. Deve-se à formação de um anticorpo que bloqueia os canais de cálcio voltagem dependente no neurônio pré-sináptico na placa motora.
- Encefalite límbica corresponde a um quadro neurológico caracterizado por alterações cognitivas relacionadas a memória, ao afeto e a personalidade, mediada pelo surgimento de anticorpos com especificidade para componentes neuronais específicos, como o anti-HU. Está associada ao timoma.
- Heliótropo corresponde a uma lesão violácea encontrada nas pálpebras e fortemente relacionada à dermatopolimiosite.



**55. Paciente 58 anos, masculino, tabagista em atividade, 30 maços ano, com queixas de tosse matinal persistente há cerca de 06 anos, com secreção mucóide escassa, evoluindo com dispnéia progressiva aos esforços que, atualmente, surge somente ao apressar o passo e não subir ladeiras ou escadas. Negou exacerbações nos últimos 12 meses. Exame físico evidenciando aumento do tempo expiratório e sibilos esparsos. Radiografia de tórax normal. Submetido à espirometria que evidenciou relação VEF1/CVF de 63% e VEF1 de 55% (pós-broncodilatador) do previsto (ambas medidas foram realizadas após a inalação de 400 mcg de salbutamol). Em relação ao caso, assinale a alternativa CORRETA. O paciente apresenta DPOC grupo**

- C (poucos sintomas e alto risco de exacerbação). Está indicado o uso de beta-agonistas de ação prolongada e corticoides inalatórios.
- B (muitos sintomas e baixo risco de exacerbação). Está indicado o uso isolado de terapia broncodilatadora de manutenção, utilizando beta-agonistas de ação prolongada ou o tiotrópio.
- A (poucos sintomas e baixo risco de exacerbação). Deverá fazer uso de beta-agonista de curta ação de resgate.
- C (poucos sintomas e alto risco de exacerbação). Está indicado o uso de corticoides inalatórios de forma isolada.
- D (muitos sintomas e alto risco de exacerbação). Deverá fazer uso de beta-agonistas de ação prolongada e corticoides inalatórios.

**56. Paciente 53 anos, masculino, portador de hepatite crônica pelo HCV genótipo 1A, em uso de interferon peguilado e ribavirina há 03 meses, evolui há 03 semanas com surgimento de lesões purpúricas palpáveis em membros inferiores, artralgias, febre baixa, anorexia, mal-estar e decaimento progressivo do estado geral. Ao exame, observou-se surgimento recente de hipertensão arterial. Laboratório evidenciou CH50, C3 e C4 diminuídos; além de anemia normocítica, normocrômica; e elevação da creatinina de 0,9 mg/dL para 2,8 mg/dL em 03 semanas. Sumário de urina evidenciou hematúria dismórfica, cilindros hemáticos e leucocitários, além de proteinúria (++). Em relação ao quadro, assinale a alternativa CORRETA.**

- O quadro apresentado pelo paciente é tipicamente associado ao uso do interferon peguilado. Indica-se a suspensão do mesmo nesta situação.
- Espera-se que a pesquisa de crioglobulinas de natureza monoclonal seja positiva neste caso, caracterizando crioglobulinemia classe I associada ao HCV.
- O diagnóstico síndrome mais adequado é o de Síndrome Nefrítica. O paciente encontra-se em classe II conforme a classificação AKIN. A biópsia renal não está indicada.
- O diagnóstico síndrome mais adequado é o de Glomerulonefrite Rapidamente Progressiva. O paciente encontra-se em classe III conforme a classificação AKIN. A biópsia renal está indicada.
- O diagnóstico mais provável é o de Doença de Berger descompensada pela hepatite em atividade pelo HCV.

**57. Homem 58 anos, com diagnóstico de soropositividade para o HIV/1 há acerca de seis anos, após transfusão sanguínea, retorna em consulta de rotina para mostrar exames. Linfócitos T CD4 = 450/mm<sup>3</sup>, com carga viral indetectável. Totalmente assintomático. Sorologia negativa para VHB e VHC. Sorologia para Toxoplasma gondi evidenciou positividade para IgG em títulos moderados. Creatinina sérica de 1,9 mg/dL. Em relação ao caso descrito, assinale a melhor conduta.**

- Iniciar TARV isoladamente. Zidovudina + Lamivudina + Lopinavir/ritonavir é o esquema inicial adequado.
- Iniciar TARV (Terapia antirretroviral) e profilaxia secundária para neurotoxoplasmose.
- Iniciar TARV isoladamente com o esquema de dois análogos nucleosídeos associado ao efavirenz.
- Não iniciar nem TARV, nem profilaxia primária para neurotoxoplasmose.
- Iniciar TARV e profilaxia primária para neurotoxoplasmose.

**58. Homem, 58 anos, retorna ao ambulatório de cardiologia três semanas após internação por infarto agudo do miocárdio extenso de parede anterior. Traz ecocardiograma transtorácico bidimensional realizado há dois dias que evidencia área de acinesia em parede anterior de ventrículo esquerdo. A fração de ejeção estimada foi de 29%, (método de Simpson). O paciente referiu dispneia ao realizar esforços como andar dentro de casa e tomar banho. Negou dispneia em repouso, ortopneia, episódios de dispneia paroxística noturna, sintomas anginosos ou palpitações. PA = 148/80 mmHg; FC = 88 bpm; ausculta cardíaca = hipofonese de B1, sem sopros. Ritmo regular.**

**Em relação a este paciente, assinale a alternativa que expressa a conduta terapêutica mais adequada.**

- Captopril, carvedilol, espironolactona, AAS, clopidogrel, digoxina, furosemida e sinvastatina.
- Enalapril, metoprolol, espironolactona, warfarin, digoxina, furosemida e sinvastatina.
- Ramipril, bisoprolol, AAS, clopidogrel, digoxina, furosemida e sinvastatina.
- Candesartan, metoprolol, AAS, clopidogrel, digoxina, furosemida e sinvastatina.
- Enalapril, carvedilol, espironolactona, AAS, clopidogrel e sinvastatina.

**59. Sobre o SUS, analise as assertivas a seguir.**

- A saúde é entendida como o resultado de políticas econômicas e sociais, um direito de todos e um dever do Estado.
- As demandas do movimento sanitário foram transpostas para o SUS que se organizou pelos princípios da descentralização, do atendimento integral e da participação da comunidade.
- Associando-se à democracia, o princípio da descentralização ampliou os direitos sociais da cidadania e se estendeu também às competências e receitas tributárias, descentralizando-a, com opção preferencial pela municipalização.
- O Pacto pela Vida, o Pacto em Defesa do SUS e o Pacto de Gestão são os três componentes que constituem o Pacto pela Saúde, um movimento de mudança consolidado pelo SUS que possibilita a efetivação de acordos entre as três esferas de gestão para a reforma de aspectos institucionais vigentes.

**Marque a opção que apresenta as afirmativas CORRETAS.**

- I – II – III
- III – IV
- II – III
- I – II – III – IV
- II – IV.

**60. Sobre o Pacto pela Saúde, analise as seguintes assertivas.**

- As prioridades e os objetivos do Pacto em Defesa do SUS incluem elaborar e divulgar a carta dos direitos dos usuários do SUS, dentre outras coisas.
- O Pacto pela Vida substitui pactos fortuitos por acordos anuais obrigatórios, além de mudar o foco das mudanças orientadas a processos operacionais para mudanças voltadas para resultados sanitários.
- O Pacto de Gestão criou um ambiente adequado ao desenvolvimento de um federalismo mais cooperativo no SUS.
- Houve um pacto da responsabilidade no campo da gestão e da atenção à saúde, a partir de uma unidade de princípios que, em consonância com a diversidade operativa, respeita as diferenças locorregionais, agregando os pactos existentes anteriormente, reforçando a organização das regiões sanitárias pela instituição de mecanismos de cogestão e planejamento regional.



Marque a opção que apresenta as afirmativas CORRETAS.

- a) I – II
- b) II – III
- c) III – IV
- d) I – II – IV
- e) I – II – III – IV.