



# MUNICÍPIO DE CRAÍBAS - AL

## CONCURSO PÚBLICO

PROVA TIPO

1

Cargo (Nível Superior – NS):


Códigos: 6, 7 e 8

**6. MÉDICO CARDIOLOGISTA, 7. MÉDICO DERMATOLOGISTA E  
8. MÉDICO ORTOPEDISTA**

**Provas de Português,  
Raciocínio Lógico e Conhecimentos Específicos**

### CADERNO DE QUESTÕES

#### INSTRUÇÕES GERAIS

1. Este **Caderno de Questões** somente deverá ser aberto quando for autorizado pelo Fiscal.
2. Antes de iniciar a prova, confira se o tipo da prova do **Caderno de Questões** é o mesmo da etiqueta da banca e da **Folha de Respostas** de questões objetivas.
3. Ao ser autorizado o início da prova, verifique se a numeração das questões e a paginação estão corretas. Verifique também se contém **40 (quarenta)** questões objetivas com 5 (cinco) alternativas cada. Caso contrário, comunique imediatamente ao Fiscal.
4. O tempo disponível para esta prova é de **3 horas**. Faça-a com tranquilidade, mas **controle seu tempo**. Esse **tempo** inclui a marcação da **Folha de Respostas** de questões objetivas.
5. Você somente poderá sair em definitivo do Local de Prova depois de decorridas **2 horas** do início da aplicação.
6. Na **Folha de Respostas** de questões objetivas, confira seu nome, número do seu documento de identificação, tipo de prova e cargo escolhido.
7. Em hipótese alguma lhe será concedida outra **Folha de Respostas** de questões objetivas.
8. Preencha a **Folha de Respostas** de questões objetivas utilizando caneta esferográfica de tinta azul ou preta. Na **Folha de Respostas** de questões objetivas, preencha completamente o círculo correspondente à alternativa escolhida, conforme modelo:  

9. Será atribuído o valor ZERO à questão que contenha na **Folha de Respostas** de questões objetivas: dupla marcação, marcação rasurada, emendada ou com "X", não preenchida totalmente ou que não tenha sido transcrita.
10. A correção da prova objetiva será efetuada de forma eletrônica, considerando-se apenas o conteúdo da **Folha de Respostas** de questões objetivas.
11. Caso a Comissão julgue uma questão como sendo nula, os pontos serão atribuídos a todos os candidatos.
12. Não será permitida qualquer espécie de consulta.
13. Ao terminar a prova, **devolva** ao **Fiscal** de Sala este **Caderno de Questões**, juntamente com a **Folha de Respostas** de questões objetivas, e **assine a Lista de Presença**.
14. Na sala que apresentar apenas 1 (um) Fiscal, os 3 (três) últimos candidatos somente poderão ausentar-se da sala juntos, após a **assinatura** da **Ata de Encerramento** de provas.
15. **Assine** neste Caderno de Questões e **coloque** o número do seu documento de identificação (RG, CNH etc.).

Boa Prova!

N. do doc. de identificação (RG, CNH etc.):

Assinatura do(a) candidato(a):

2015  
MUNICÍPIO  
DE CRAÍBAS



## PORTUGUÊS

### QUESTÃO 01



Disponível em: <<http://www.fotolog.com/publicadosbrasil/12600000000047047/>>. Acesso em: 22 set. 2015.

O enunciado “socorro!”, de acordo com a análise sintática, é um(a)

- A) oração.
- B) frase verbal.
- C) frase nominal.
- D) período simples.
- E) período composto.

### QUESTÃO 02

#### Chega-se mais Facilmente a Marte...

[...]

Neste meio século não parece que os governos tenham feito pelos direitos humanos tudo aquilo a que moralmente estavam obrigados. As injustiças multiplicam-se, as desigualdades agravam-se, a ignorância cresce, a miséria alastra. A mesma esquizofrênica humanidade capaz de enviar instrumentos \_\_\_\_ um planeta para estudar \_\_\_\_ composição das suas rochas, assiste indiferente \_\_\_\_ morte de milhões de pessoas pela fome. Chega-se mais facilmente a Marte do que ao nosso próprio semelhante.

[...]

Trecho do discurso de José Saramago ao receber o Prêmio Nobel de Literatura, 11 de dezembro de 1998.  
Disponível em: <<http://www.jomaldepoesia.jor.br/1saramago6.html>>. Acesso em: 22 set. 2015.

Considerando o emprego do acento grave, assinale a alternativa que preenche corretamente os espaços.

- A) a, a, à.
- B) a, à, a.
- C) a, à, à.
- D) à, a, a.
- E) à, à, à.

### QUESTÃO 03

Entre as duas orações do período “Como o tempo todo e não engordo.”, encontra-se a conjunção “e”, que, no contexto, assume o valor de

- A) condição.
- B) finalidade.
- C) adversidade.
- D) comparação.
- E) consequência.

### QUESTÃO 04

Quanto ao emprego da vírgula, dadas as afirmativas,

- I. Iracema, a virgem dos lábios de mel, tinha os cabelos mais negros que as asas da graúna (José de Alencar).
- II. Rua Sete de Setembro, 1550 Porto Alegre.
- III. À tarde, todos saíram para o trabalho.
- IV. Cada ano de vida é mais, ou melhor menos.

verifica-se que está(ão) pontuada(s) corretamente

- A) II, apenas.
- B) I e III, apenas.
- C) I e IV, apenas.
- D) II e IV, apenas.
- E) I, II, III e IV.

### QUESTÃO 05

Assinale a alternativa em que todas as palavras estão grafadas de acordo com a ortografia oficial.

- A) privilégio, beneficente, obseção, receoso.
- B) privilégio, beneficente, obsessão, receoso.
- C) privilégio, beneficente, obsessão, receioso.
- D) privilégio, beneficente, obsessão, receoso.
- E) privilégio, beneficente, obseção, receioso.

### QUESTÃO 06

Na grande claridade do dia, o sossego dos sons é de ouro também. Há suavidade no que acontece. Se me dissessem que havia guerra, eu diria que não havia guerra. Num dia assim, nada pode haver que pese sobre não haver senão suavidade.

PESSOA, Fernando. *Livro do desassossego*. São Paulo: Companhia das Letras, 2011, p. 308.

O fragmento “nada pode haver que pese sobre não haver senão suavidade” significa que

- A) as coisas devem pesar sobre a possibilidade de haver suavidade.
- B) tudo deve concorrer para a possibilidade de haver suavidade.
- C) nada pode ser obstáculo para a consecução da guerra.
- D) a suavidade pesa sobre as coisas que a proporcionam.
- E) nada deve proporcionar a suavidade.

QUESTÃO 07

Bay Bay Brasil

Oi, coração  
Não dá pra falar muito não  
Espera passar o avião  
Assim que o inverno passar  
Eu acho que vou te buscar  
Aqui tá fazendo calor  
Deu pane no ventilador  
Já tem fliperama em Macau  
Tomei a costeira em Belém do Pará  
Puseram uma usina no mar  
Talvez fique ruim pra pescar  
Meu amor  
[...]

No Tabaris  
o som é que nem os Bee Gees  
Dancei com uma dona infeliz  
que tem um tufão nos quadris  
Tem um japonês atrás de mim  
Eu vou dar um pulo em Manaus  
Aqui tá quarenta e dois graus  
O sol nunca mais vai se pôr  
Eu tenho saudades da nossa canção  
Saudades de roça e sertão  
Bom mesmo é ter um caminhão  
Meu amor

Baby bye, bye  
Abraços na mãe e no pai  
Eu acho que vou desligar  
As fichas já vão terminar  
Eu vou me mandar de trenó  
pra Rua do Sol, Maceió  
Peguei uma doença em Ilhéus  
Mas já estou quase bom  
Em março vou pro Ceará  
Com a bênção do meu Orixá  
Eu acho bauxita por lá  
Meu amor  
[...]

BUARQUE, Chico. Bay Bay Brasil.

Disponível em: <<http://www.vagalume.com.br/chico-buarque/bye-bye-brasil.html#xzz3nJz7BBEO>>.  
Acesso em: 15 set. 2015.

Considerando as caracterizações de gênero textual, depreende-se que o texto apresenta

- A) marcas que o caracterizam como pertencente ao gênero *piada*, tendo em vista o uso do humor em frases como “Tem um japonês atrás de mim”.
- B) recursos expressivos comuns ao universo da poesia, como hipérboles e metáforas, o que permite caracterizá-lo como pertencente ao gênero *bilhete*.
- C) um monólogo, tendo em vista a ausência da fala da pessoa a quem o interlocutor se dirige, o que permite classificá-lo como pertencente ao gênero *carta informal*.
- D) marcas de oralidade comuns à situação comunicativa do gênero *telefonema*, ainda que isso seja uma construção ficcional permitida pelo gênero *canção*.
- E) marcas de oralidade, como as que se observam nos três primeiros versos, o que permite classificá-lo como pertencente exclusivamente ao gênero *telefonema*.

QUESTÃO 08



Disponível em: <<http://blogdoenem.com.br/cultura-ideologia-e-industria-cultural-sociologia-enem/>>.  
Acesso em: 15 set. 2015.

A partir da leitura da tirinha de Mafalda, depreende-se como ideia central

- A) o fato de uma criança não ter maturidade suficiente para decidir o que é bom para si, não lhe restando mais opções do que ceder aos apelos midiáticos da propaganda.
- B) o fato de que um dos modos de conhecer os mecanismos de dominação midiática e ideológica é não fugir deles, o que é exemplificado nos dois últimos quadros da tirinha.
- C) o fato de que os apelos da mídia televisiva, embora não representem as necessidades reais das pessoas, têm o poder de mantê-las presas a uma cadeia de consumo irrefletido.
- D) o fato de que até as crianças podem posicionar-se criticamente diante dos apelos midiáticos e da propaganda, ainda que, exatamente por ser criança, não se conheça o suficiente.
- E) o fato de que os veículos midiáticos, embora muitas vezes criticados, podem ser benéficos para provocar em uma criança a especulação filosófica, o que se torna evidente no segundo quadro da tirinha.

QUESTÃO 09

[...]

Há um meio certo de começar uma crônica por uma trivialidade. É dizer: que calor! Que desenfreado calor! Diz-se isto, agitando as pontas do lenço, bufando como um touro, ou simplesmente sacudindo a sobrecasaca. Resvala-se do calor aos fenômenos atmosféricos, fazendo-se algumas conjecturas acerca do sol e da lua, outras sobre a febre amarela.

ASSIS, Machado de, *Crônicas escolhidas*. São Paulo: Ática, 1994, p. 13.

Assinale a alternativa que contém o argumento no qual o autor se baseia.

- A) A crônica deve começar por temáticas genéricas e triviais.
- B) A crônica também prescinde de temáticas genéricas e triviais.
- C) A crônica configura-se em questões formais e temas relevantes.
- D) As temáticas genéricas e triviais são também formas de começar uma crônica.
- E) A forma trivial de começar a crônica fundamenta-se no alheamento aos fenômenos atmosféricos.

QUESTÃO 10

CALVIN & HAROLDO



Bill Watterson



Disponível em: <<http://veredasdalngua.blogspot.com.br/2012/03/regencia-verbal-i.html>>. Acesso em: 24 set. 2015.

Quanto à regência verbal, assinale a alternativa em que o verbo "assistir" foi empregado com o mesmo sentido que no trecho "Podemos assistir ao vídeo?".

- A) Aquele político assiste na capital.
- B) Este direito não assiste ao funcionário.
- C) Nas lutas de boxe, assiste-se a um espetáculo brutal.
- D) Assiste aos alunos o direito de pedir revisão de notas.
- E) O enfermeiro assistiu o pai no hospital, que ficou debilitado por uma doença cardíaca.

QUESTÃO 11

[...]

A caatinga estendia-se, de um vermelho indeciso salpicado de manchas brancas que eram ossadas. O voo negro dos urubus fazia círculos altos em redor dos bichos moribundos.

– Anda, excomungado.

O pirralho não \_\_\_\_\_, e Fabiano desejou \_\_\_\_\_. Tinha o coração grosso, queria responsabilizar alguém pela sua desgraça. A seca \_\_\_\_\_ como um fato necessário – e a obstinação da criança \_\_\_\_\_. Certamente esse obstáculo miúdo não era o culpado, mas dificultava a marcha, e o vaqueiro precisava chegar, não sabia onde.

[...]

RAMOS, Graciliano. *Vidas secas*. São Paulo: Editora Record, 1982.

Assinale a alternativa que preenche os espaços de forma correta.

- A) se mexeu, matá-lo, aparecia-lhe, irritava-o.
- B) se mexeu, matá-lo, aparecia-lhe, lhe irritava.
- C) se mexeu, lhe matar, lhe aparecia, lhe irritava.
- D) mexeu-se, matar ele, lhe aparecia, lhe irritava.
- E) mexeu-se, matá-lo, lhe aparecia, irritava-o.

QUESTÃO 12

A imagem faz parte de uma campanha sobre violência contra mulheres.



Disponível em: <<http://osocio.org/message/verbal-abuse-can-be-just-as-horrific>>. Acesso em: 15 out. 2015.

Nos recursos expressivos de que a imagem se serviu, percebe-se a predominância da

- A) hipérbole, presente na expressão exagerada de dor no rosto da mulher.
- B) prosopopeia, presente na ideia de que um punho pode ter vida própria.
- C) metáfora, presente na ideia de que as palavras podem ferir tal como um soco.
- D) metonímia, presente no uso da parte (antebraço e punho) pelo todo (homem).
- E) antítese, presente no contraste entre a dor no rosto da mulher e a raiva no rosto do homem.

### QUESTÃO 13

Os homens que **voltaram** (vir) da guerra traziam feridas e pesadelos. **Encontraram** (ver) suas amadas indiferentes. **Passara** (haver) tanto tempo que algumas nem se lembravam deles, e muitas **tinham** (haver) estabelecido novos amores.

ANDRADE, Carlos Drummond de. *Contos Plausíveis*. São Paulo: José Olympio, 1985

Substituindo os verbos em destaque pelos verbos sugeridos entre parênteses e respeitando tempo, modo e pessoa, obtém-se

- A) vinha/veem/há/houveram.
- B) viram/viam/houvera/havieis.
- C) vinham/viam/havia/houveram.
- D) vieram/viram/houve/haveriam.
- E) vieram/viram/houvera/haviam.

### QUESTÃO 14

Qual é a função sintática do termo “se” em “Precisa-se de Empregadas Domésticas”?

- A) Conjunção condicional.
- B) Partícula apassivadora.
- C) Parte integrante do verbo.
- D) Partícula expletiva (de realce).
- E) Índice de indeterminação do sujeito.

### QUESTÃO 15

Amo-te com ternura, com saudade, com indignação e com ódio. Confesso-te honestamente o que sou. Se te não agradam sentimentos tão excessivos, mata-me. **Mas não me mates logo: mata-me devagar, deitando veneno no que me escreveres.** Provavelmente sabes fazê-lo. Não devias ser como és.

RAMOS, Graciliano. *Cartas*. 8. ed. Rio de Janeiro: Record, 2011, p. 117.

No trecho sublinhado,

- A) há uma forma de significação conotativa.
- B) há uma forma de significação denotativa.
- C) o significado do verbo “deitar” é comum e literal.
- D) a palavra “veneno” conserva seu significado original, não literário.
- E) ocorre o uso inadequado da conjunção “mas” como elemento de coesão.

## RACIOCÍNIO LÓGICO

### QUESTÃO 16

Quatro médicos e oito enfermeiros trabalham num Posto de Saúde. Quantas equipes diferentes com dois médicos e quatro enfermeiros podem ser montadas para os plantões?

- A) 76
- B) 280
- C) 420
- D) 1 692
- E) 20 160

### QUESTÃO 17

Dadas as premissas,

- I. Todos os membros da família Rodrigues são comerciantes.
- II. Nem todos os membros da família Rodrigues são bons vendedores.

é correto inferir que

- A) alguns comerciantes sabem vender bem.
- B) nem todos os comerciantes são bons vendedores.
- C) a maioria dos Rodrigues não são bons vendedores.
- D) há comerciantes que não são da família Rodrigues.
- E) alguns membros da família Rodrigues sabem vender bem.

### QUESTÃO 18

Considerando que os símbolos  $\forall$ ,  $\exists$ ,  $\sim$ ,  $\rightarrow$  e  $\vee$  representam a quantificação universal, quantificação existencial, negação, implicação e disjunção, respectivamente, do conjunto de premissas  $\{\forall x(\sim P(x)\vee Q(x)\vee R(x)), \forall xP(x)\}$ , infere-se que

- A)  $\exists x(R(x)\rightarrow Q(x))$ .
- B)  $\exists x(Q(x)\rightarrow R(x))$ .
- C)  $\exists x(\sim Q(x)\rightarrow R(x))$ .
- D)  $\exists x(\sim Q(x)\rightarrow \sim R(x))$ .
- E)  $\exists x(\sim R(x)\rightarrow \sim Q(x))$ .

### QUESTÃO 19

Ana é atleta ou Bruno é barbeiro. Bruno não é barbeiro ou Carla não é cantora. Daniela é dentista ou Carla é cantora. Nessas condições, é correto inferir que

- A) se Bruno é barbeiro, Daniele é dentista.
- B) se Daniela é dentista, Carla é cantora.
- C) se Carla não é cantora, Ana é atleta.
- D) se Bruno é barbeiro, Ana é atleta.
- E) se Ana é atleta, Bruno é barbeiro.

### QUESTÃO 20

O próximo número da sequência 1, 2, 2, 3, 6, 7, 42 é

- A) 294.
- B) 49.
- C) 47.
- D) 43.
- E) 24.

### QUESTÃO 21

Sabendo-se que os símbolos  $\sim$ ,  $\rightarrow$  e  $\vee$  representam negação, implicação e disjunção, respectivamente, do conjunto de premissas  $\{\sim T, P \rightarrow Q, R \rightarrow Q, S \rightarrow Q, P \vee R \vee S \vee T\}$ , infere-se

- A) P.
- B) Q.
- C) R.
- D) S.
- E) T.

### QUESTÃO 22

Se o terreno não for adubado adequadamente, o plantio não será um sucesso. Se o plantio não for um sucesso, a fazenda terá prejuízo nas vendas. O produtor não poderá comprar um trator novo se a fazenda tiver prejuízo. Assim, é correto inferir que

- A) a fazenda terá prejuízo nas vendas.
- B) o terreno foi adubado adequadamente.
- C) se o plantio for um sucesso, a fazenda não terá prejuízo nas vendas.
- D) se o plantio não for um sucesso, o terreno não foi adubado adequadamente.
- E) se o produtor comprar um trator novo, é porque o terreno foi adubado adequadamente.

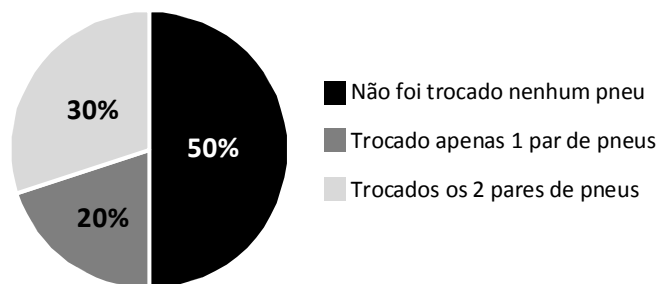
### QUESTÃO 23

Em uma determinada cidade, metade da população já teve sarampo, dois quintos já tiveram catapora e um quarto já teve caxumba. Escolhendo aleatoriamente quatro indivíduos dessa população, qual é a probabilidade de um deles já ter contraído as três doenças?

- A) 0,05
- B) 0,20
- C) 0,25
- D) 0,40
- E) 0,50

### QUESTÃO 24

O gráfico apresenta a forma como se deu a substituição de 32 pneus dos automóveis de uma empresa.




Quantos veículos tem essa empresa?

- A) 8
- B) 10
- C) 16
- D) 20
- E) 32

### QUESTÃO 25

Para evitar a monotonia no ambiente de trabalho, um grupo de funcionários decidiu que, de tempos em tempos, iriam alterar a disposição do mobiliário na sala em que trabalham. A sala é dividida em 8 espaços que são ocupados por: três armários distintos, três mesas pessoais, um vaso de plantas e um geléguia. Entretanto, todos concordaram que em pelo menos um dos lados da porta sempre deve existir uma mesa e que o bebedouro sempre deve estar próximo à janela. A figura mostra o *layout* da sala, com os 8 espaços numerados para a distribuição pretendida.



De quantas formas possíveis os funcionários podem alterar a disposição do mobiliário da sala?

- A) 720
- B) 1 440
- C) 2 880
- D) 4 320
- E) 8 640

## CONHECIMENTOS ESPECÍFICOS

### QUESTÃO 26

Em relação a osteoporose, assinale a alternativa correta.

- A) A ultrassonografia quantitativa de calcâneo é uma alternativa à densitometria óssea bem recomendada no monitoramento do tratamento da osteoporose.
- B) Tratamento farmacológico está indicado em situações de fratura de vértebra desde que o T-Score esteja entre -1 e -2,5.
- C) Está indicado o uso da vitamina D isolada a todas as mulheres após a menopausa para a diminuição da remodelação óssea.
- D) O uso crônico de benzodiazepínicos é um importante fator de risco para fraturas em pacientes com osteoporose no Brasil.
- E) A densitometria óssea está indicada para o rastreamento de todas as mulheres acima de 50 anos ou menopausadas.

### QUESTÃO 27

A doença vascular hipertensiva é a causa primária de uma série de outras complicações e afeta milhares de brasileiros anualmente. Para fornecer uma estrutura compreensiva da doença, torna-se necessário entender os mecanismos envolvidos na regulação da pressão normal e elevada. Sobre o sistema renina-angiotensina-aldosterona (SRAA), é correto afirmar:

- A) a angiotensina II estimula diretamente a secreção de renina, favorecendo uma maior ativação do sistema renina-angiotensina.
- B) a manutenção da pressão arterial é dada pela ação vasoconstrictora da angiotensina II e retentora de sódio pela aldosterona.
- C) tumores secretores de plasmina como as neoplasias epiteliais tubulares renais proximais são causadores de hipertensão arterial.
- D) a angiotensina II é o fator primário que regula a síntese e a secreção de angiotensina I nas células justaglomerulares renais.
- E) a secreção de renina diminui com o bloqueio farmacológico da enzima conversora de angiotensina a nível de célula renal.

### QUESTÃO 28

Em relação à abordagem dos principais fatores de risco modificáveis da doença cerebrovascular, assinale a alternativa correta.

- A) Não se recomenda o rastreamento da população em busca de estenose carotídea assintomática.
- B) Em pacientes diabéticos está indicada a associação de fibratos às estatinas para redução do risco de AVC.
- C) Em paciente diabético, mesmo na ausência de outra doença cardiovascular estabelecida, deve-se iniciar o AAS para prevenção primária de AVC.
- D) Terapia de Reposição Hormonal com acetato de medroxiprogesterona está indicada para prevenção primária do AVC em mulheres na pós-menopausa.
- E) Endarterectomia carotídea profilática está indicada em pessoas com estenose assintomática de carótida de, no mínimo, 40% no diagnóstico por ecodoppler.

### QUESTÃO 29

Em relação ao diagnóstico e ao manejo do pé diabético e suas complicações, dadas as afirmativas,

- I. Para estimular a circulação periférica comprometida, deve-se estimular o uso de compressas com bolsas de água quente regularmente.
- II. Opioides são uma alternativa segura em relação aos antidepressivos tricíclicos no tratamento da dor neuropática diabética.
- III. Na radiografia simples, são evidências precoces de osteomielite: o edema de partes moles e elevação subperiosteal.
- IV. São evidências do Pé de Charcot: o edema e a baixa temperatura relativa (cerca de 2 °C a menos do que o pé contralateral).

verifica-se que está(ão) correta(s)

- A) I, apenas.
- B) II, apenas.
- C) III, apenas.
- D) I, II e IV, apenas.
- E) I, II, III e IV.

### QUESTÃO 30

As manifestações das disfunções do nó sinoatrial (SA) incluem a bradicardia sinusal, a parada sinusal, o bloqueio de saída do nó, a taquicardia e a incompetência sinotrópica. Diante disso, muitas vezes é difícil distinguir o ritmo fisiológico do normal. Com relação aos distúrbios do nó sinoatrial, é correto afirmar:

- A) a incompetência cronotrópica é um distúrbio cuja consequência é a aceleração exorbitante da frequência cardíaca.
- B) o distúrbio bloqueio parcial do nó SA aparece ao eletrocardiograma como uma ausência constante das ondas P.
- C) são comuns as pausas sinusais em até 10 segundos em atletas bem condicionados e menores que 3s em idosos.
- D) a bradicardia sinusal é um ritmo determinado pelo nó SA com frequência menor que sessenta batimentos por minuto.
- E) a pausa e a parada sinusais são resultantes da incapacidade do nó SA em transmitir ondas P para os ventrículos.

### QUESTÃO 31

Quanto à conduta frente à Hanseníase, assinale a alternativa correta.

- A) O uso da poliquimioterapia (PQT/OMS) está contraindicada na lactação.
- B) O uso da poliquimioterapia (PQT/OMS) está contraindicada na gravidez.
- C) A administração da vacina BCG aos contatos sadios deve ser precedida pelo teste tuberculínico (PPD).
- D) Contatos intradomiciliares de hanseníase com menos de 01 ano de idade, já vacinados com BCG, não necessitam da aplicação de outra dose da vacina.
- E) A vacina BCG deverá ser aplicada apenas nos contatos intradomiciliares (sem presença de sinais e sintomas de hanseníase no momento da avaliação) dos casos multibacilares.

### QUESTÃO 32

A doença inflamatória pancreática pode ser classificada como aguda ou crônica e seu aspecto patológico varia desde uma pancreatite intersticial até uma pancreatite necrosante. Com relação ao processo patológico pancreatite, dadas as afirmativas abaixo,

- I. Os cálculos biliares são uma importante causa de desencadeamento pancreatite aguda.
- II. A hipertrigliceridemia também pode ser considerada uma causa de pancreatite aguda.
- III. O diagnóstico da pancreatite aguda é estabelecido pela elevação dos níveis amilase e lipase.
- IV. A dor aguda intensa no abdômen ou nas costas deve sugerir a possibilidade de pancreatite aguda.

verifica-se que está(ão) correta(s)

- A) I, apenas.
- B) I e II, apenas.
- C) III e IV, apenas.
- D) II, III e IV, apenas.
- E) I, II, III e IV.

### QUESTÃO 33

“Tromboflebite das veias superficiais da mama, também associada a traumatismo, que causa dor aguda na região e presença de cordão fibroso no local”. Essa é a definição de uma afecção benigna da mama denominada

- A) galactocele.
- B) mastite Aguda.
- C) eczema Aureolar.
- D) doença da Paget.
- E) doença de Mondor.

### QUESTÃO 34

Os sais de cálcio, ácido úrico, a cistina e a estruvita são os componentes mais comuns da maioria dos casos de nefrolitíase no ocidente. Os cálculos de oxalato de cálcio e fosfato de cálcio perfazem 85 a 95% do total, podendo inclusive estarem mesclados no mesmo caso. Com relação à patogênese, às complicações e ao tratamento da urolitíase, dadas as afirmativas abaixo,

- I. A terapia clínica poderá acelerar a progressão do cálculo ureterais através da utilização de bloqueadores beta1-adrenérgicos.
- II. A infecção do trato urinário constitui uma consequência direta da presença do cálculo urinário, devendo ser considerada grave.
- III. Um cálculo pode atravessar o ureter sem sintomas, mas em geral produz dor que tem início no flanco podendo irradiar para baixo.

verifica-se que está(ão) correta(s)

- A) I, apenas.
- B) II, apenas.
- C) III, apenas.
- D) I e II, apenas.
- E) I, II e III.



### QUESTÃO 35

A urticária pode ocorrer como uma manifestação cutânea sem caco e afeta as camadas superficiais da derme e evidencia-se por vergões bem demarcados com bordas serpiginosas e eritematosa com centro pálido, as quais coalescem para formar placas gigantes. A respeito da urticária e suas manifestações, bem como o seu tratamento, assinale a alternativa correta.

- A) A urticária colinérgica caracteriza-se por um vergão linear na área estimulada suavemente por objeto pontiagudo.
- B) As vias respiratórias superiores e trato digestório também podem ser afetados por processo patológico semelhante.
- C) A anafilaxia relacionada ao esforço surge anos depois da exposição ocupacional e pode ser considerada idiopática.
- D) Na urticária de pressão, os vergões são pequenos (1 a 2mm) e circundados por ampla área de eritema, associados a febre.
- E) Os glicocorticoides de uso tópico são muito eficazes e as preparações sistêmicas são indicados nas urticárias alérgicas.

### QUESTÃO 36

A cada ano, um grande número de indivíduos com cirrose hepática alcoólica desenvolve ou desenvolverá varizes no decorrer de suas vidas. Estima-se que um terço dessas pessoas acabarão tendo algum sangramento. Com relação ao tratamento e a prevenção do sangramento nas varizes, em especial a de esôfago, assinale a alternativa correta.

- A) A profilaxia primária torna necessário o rastreamento de rotina por endoscopia dos pacientes cirróticos.
- B) O tratamento com alfa-bloqueadores é a opção primária para a prevenção de novos sangramentos após hemorragias.
- C) A abordagem primária em um paciente que acabou de sofrer um sangramento de varizes é prevenir novas hemorragias.
- D) Mensurações repetidas do gradiente de pressão portal são desnecessárias após o início do tratamento farmacológico.
- E) Nas varizes com maior risco de sangramento, a profilaxia primária pode ser conseguida com o uso de anti-histamínicos.

### QUESTÃO 37

A apresentação da pneumonia adquirida na comunidade pode ser indolente ou fulminante e sua gravidade pode variar de uma forma menos agressiva aos casos fatais. Os sinais e sintomas dependem da intensidade da doença e da progressão da infecção. A respeito do diagnóstico e/ou tratamento de pneumonia adquirida na comunidade, assinale a alternativa correta.

- A) A resistência do *Staphylococcus aureus* a meticilina se deve à presença do produto do gene *bcl-abi*.
- B) O exame radiográfico do tórax é desnecessário durante a investigação inicial dos casos de pneumonia.
- C) O exame físico exhibe uma elevada sensibilidade e especificidade no diagnóstico de pneumonia.
- D) O antibiótico de escolha para um paciente ambulatorial inclui inicialmente: um betalactâmico mais azitromicina.
- E) O diagnóstico diferencial da pneumonia inclui outros processos patológicos infecciosos e não infecciosos.

### QUESTÃO 38

A experiência clínica inclui não apenas a dimensão cognitiva e a integração de indícios verbais ou informações, mas também habilidades complexas para o entendimento da situação problema, ou melhor dizendo, da pessoa com alguma doença a ser diagnosticada. Com relação à tomada de decisões e à interação médico-paciente-equipe multiprofissional, assinale a alternativa correta.

- A) comunicar-se de maneira eficaz com o paciente e respeitar o trabalho em equipe estão inclusos no conceito de experiência clínica.
- B) o raciocínio clínico ocorre naturalmente na cabeça dos médicos, e, por essa razão, é de fácil mensuração com gráficos.
- C) o médico iniciante reconhece rapidamente um padrão de diagnóstico de seu paciente devido ao reconhecimento de padrões.
- D) a tomada de decisões clínicas envolve a interação de processos cognitivos simples para tornar complexo o atendimento.
- E) a demanda induzida pelo médico descreve a capacidade que os médicos têm de superarem as expectativas de atendimentos.

### QUESTÃO 39

Criança de 01 ano, sexo feminino, em antibioticoterapia para tratamento de uma infecção urinária diagnosticada por colega médico no pronto-atendimento há 03 dias, dá entrada na unidade básica de saúde trazida pela mãe, a qual traz um hemograma, realizado por conta própria para que o médico avalie. O hemograma revela Hematócrito: 23%; Hemoglobina: 9,0 g/dL; VCM 71fL; Leucócitos: 7.100/mm<sup>3</sup> com segmentados de 62%; plaquetas: 171.000/mm<sup>3</sup>. Considerando o que foi exposto, qual a hipótese diagnóstica mais provável?

- A) Anemia fisiológica do lactente.
- B) Anemia da Inflamação aguda.
- C) Anemia ferropriva.
- D) Beta-talassemia.
- E) Alfa-talassemia.

### QUESTÃO 40

As doenças de notificação compulsória são de comunicação obrigatória às autoridades de saúde, realizada pelos médicos, outros profissionais de saúde ou responsáveis pelos estabelecimentos de saúde, diante da suspeita ou confirmação do caso da doença, e são classificadas como notificação imediata e notificação semanal. É de notificação compulsória semanal, caso

- A) ebola.
- B) de dengue.
- C) de febre tifoide.
- D) de febre amarela.
- E) febre Chikungunya.